

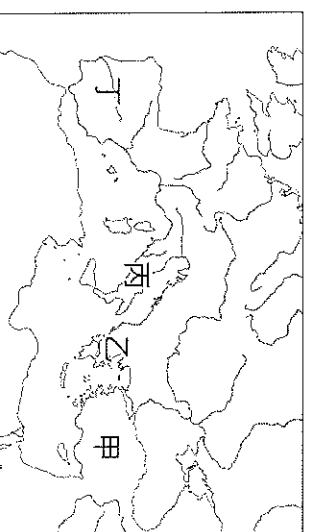
基隆市立武崙國中 112 學年度第一學期 第二次段考 九年級社會科試卷—歷史科

電腦讀卡，請使用 2B 鉛筆，並依據題號在答案卡上作答，答案卡無法判斷身分者，扣總分 10 分

範圍：第五冊 CH3~CH4 本試卷共 40 題 共 4 面 每題 2.5 分 班級：_____ 座號：_____ 姓名：_____

本單選題

1. 西羅馬帝國滅亡後的一千年間，西歐在各方面的发展均與羅馬帝國時期有所不同了，以下哪一選項是西歐中世紀的特色之一呢？ (A)各國採行政教合一 (B)人文主義盛行 (C)基督教信仰蓬勃發展 (D)阿拉伯文是當地通用文字
2. 基輔羅斯是中世紀東歐及北歐地帶的一個大型聯邦，歷史學家普遍認為基輔羅斯應是今日烏克蘭、俄羅斯及白俄羅斯的前身，於9世紀建國，13世紀被蒙古所滅。11世紀仿君士坦丁堡來建設首都基輔城，並修建城牆「金門」，也是基輔城的正門。請問，根據上文所述，此一政權的存續期間有可能出現以下哪一發展？
(A)受拜占庭帝國影響，信仰東正教 (B)拉丁語是基輔羅斯的通用語言 (C)馬丁路德曾在此張貼「九十五條論綱」
(D)基輔羅斯的君主曾因婚姻問題與羅馬公教決裂
3. 「齋戒月」是這個宗教最神聖的一個月分，「齋戒月」當月教徒們從日出到日落期間禁食，日落後才會逛街、吃東西。請問：有關於上述宗教的敘述，何者錯誤？ (A)清真寺屬於伊斯蘭教建築 (B)民眾依據《聖經》來奉行「齋戒月」的相關規定 (C)行齋戒的教徒們除禁食外，一生也遵照誦經、禮拜、布施、朝聖的教規 (D)過齋戒月的伊斯坦堡居民信奉真主阿拉
4. 十六世紀以來，耶穌會傳教士來到中國，利用西方知識作為傳教手段，開拓中國人的視野，也帶動了東西間的文化交流。請問：上述教會的傳教士自歐洲來華的主要背景為何？ (A)受文藝復興影響帶來最新的藝文資訊 (B)奉耶穌的命令，向外宣揚佛教思想 (C)為了收回聖城，前來爭取協助 (D)面對新教的挑戰，積極推廣羅馬公教
5. 西元1984年，美國漫畫《忍者龜》出版，主角是四隻基因變異的青少年烏龜，他們居住在紐約曼哈頓的地下水道，並與黑道、惡霸、變異生物及外星人侵略者戰鬥。忍者龜的名字分別是：李奧納多、拉菲爾、多納太羅、米開朗基羅。請問：漫畫家應該是參考哪一個時代的著名人物來命名？ (A)希臘化 (B)文藝復興 (C)宗教改革 (D)古埃及
6. 莎士比亞是文藝復興時期的劇作家，留下許多精彩的作品，包括《羅密歐與茱麗葉》、《哈姆雷特》等，這些作品皆使用英文，而非傳統的拉丁文。請問，這與當時的何種風潮有關？
(A)透視技法 (B)復古風潮 (C)方言文學 (D)宗教改革
7. 自外族人侵羅馬帝國以來，各地陷入失序及混亂的局面，但 卻適時的扮演救濟貧困與扶助傷患的角色，成為一股穩定社會秩序的重要力量，對中古歐洲的社會與文化影響深遠。請問，上述的 指的應該是以下何者？ (A)圖書館 (B)佛寺 (C)清真寺 (D)教會
8. 武崙旅行團最近正在規劃畢業旅行，想看的景點有：羅馬帝國的公共建築+伊斯蘭教的清真寺+奧運的起始地。請問導遊要安排以下何處才能滿足大家的要求呢？ (A)甲 (B)乙 (C)丙 (D)丁
9. 以下兩份資料是某位帝王在位期間用以鞏固統治的重要政策
資料一：對外擴張---向西歐的日耳曼各國君主發動戰爭，並收復了部分領土
資料二：對內集權---重申皇帝是世俗的統治者與教會領袖，多次干預教會事務
根據兩份資料的內容判斷，這位帝王應該是哪個政權的統治者？
(A)鄂圖曼土耳其帝國 (B)拜占庭帝國 (C)阿拉伯帝國 (D)羅馬帝國
10. 耶穌受難後，被門徒稱為「基督」，後來在信徒努力下，基督教逐漸形成。請問：「基督」的原意為何？
(A)統治者 (B)救世主 (C)唯一的神 (D)至高的權力



背面尚有試題

11. 「這個地區是當時東西貿易的重要轉運站，富裕的社會菁英時常聘請藝術家描繪豪華生活與宴會場景，這也使當地藝術風格偏向明朗華麗、色彩豐富。受此影響，《聖經》故事雖仍是當地藝術家創作的大宗，但與早期強調神聖性的作品相比，藝術家開啟了新的風格——透過光影明暗的描繪、人物神韻的刻畫，在宗教題材中展現人性的溫和之美。」請問，上文所描述的地區應該是以下何者？

(A) 6世紀的君士坦丁堡 (B) 8世紀的巴格達 (C) 12世紀的耶路撒冷 (D) 15世紀的威尼斯

12. 八世紀時期的某一位國君，每次出征前都會虔誠地向唯一真神禱告，以得神保佑，他的帝國領土不斷擴張，勢力由西亞、小亞細亞發展到北非，又渡過直布羅陀海峽佔領了伊比利半島。請問，下列哪一選項與以上敘述相關？

(A) 此一帝國應該是指拜占庭帝國 (B) 敘述裡提到的唯一君主應是指耶穌 (C) 這個帝國所信仰的是基督教 (D) 帝國以巴格達為商業往來的中心

13. 西方歷史上一些民族武功強盛、四處征伐，致力於版圖的擴張。下列為曾橫跨歐、亞、非三洲的帝國，請依時間先後順序排列。(甲)亞歷山大帝國 (乙)波斯帝國 (丙)阿拉伯帝國 (丁)羅馬帝國 (戊)鄂圖曼土耳其帝國

(A) 甲乙丁戊丙 (B) 乙甲丁丙戊 (C) 丙乙丁甲戊 (D) 丁甲乙戊丙

14. 銀行是當代社會重要的金融機構，銀行的英語「Bank」一詞是來自★的語言「Banca」，★是歐洲商業最早復興的地區，也成立了世界第一家銀行。此地區商業繁榮、人們累積了大量的財富，也支持藝術發展，可說是文藝復興運動的重要推手，請問★是何地？ (A) 葡萄牙 (B) 西班牙 (C) 法國 (D) 義大利

15. 「11世紀中，君士坦丁堡主教公開譴責『所有法蘭克主教、教士、人民以及羅馬教宗』，批評他們竄改聖經、使用錯誤的祈禱儀式。隔年，羅馬教宗則抨擊君士坦丁堡主教盜用『全基督徒的領袖』之稱號，指責對方並無權力關閉轄區內的天主教教會。」請問，上述紛爭與當時哪一事項有關呢？

(A) 馬丁路德發表〈九十五條論綱〉 (B) 羅馬帝國分為東、西二部 (C) 基督教世界一分为二 (D) 鄂圖曼土耳其攻陷東羅馬帝國首都

16. 「帕西人」的祖先不僅曾創立著名的宗教，還曾建立橫跨歐、亞、非三洲的帝國。但8世紀前後，故鄉被異教徒征服，「帕西人」不願改變信仰，因而逃離家鄉，最終抵達印度。數千年來他們仍延續傳統宗教中對火焰、光明的崇拜，並以此凝聚族人的向心力。根據上文判斷，「帕西人」的祖先向外遷徙的原因與下列何者最為相關？

(A) 羅馬帝國的迫害 (B) 阿拉伯帝國持續擴張 (C) 查士丁尼採取政教合一的治國方針 (D) 亞歷山大東征

17. **承上題**，根據上文推測，「帕西人」的祖先曾建立的帝國應該是以下何者？

(A) 拜占庭帝國 (B) 鄂圖曼土耳其帝國 (C) 波斯帝國 (D) 西羅馬帝國

18. 宗教為人類心靈的寄託、情感的慰藉，各種宗教的教義、儀式或有不同，但勸人為善的目的卻普世不變。請問：下列哪些宗教屬於——神信仰？ (甲)佛教 (乙)伊斯蘭教 (丙)道教 (丁)基督教 (戊)猶太教

(A) 甲乙丙 (B) 乙丙丁 (C) 乙丁戊 (D) 丙丁戊

19. 子婷申請到了西班牙南部的格瑞納達大學展開為期一年的交換學生計畫，出發前子婷對西班牙的印象是個天主教國家，但在她所求學的城市中著名的建築卻是屬於伊斯蘭的建築樣式。請問：是什麼歷史事實造就了格瑞納達有如此特別的風格？ (A) 格瑞納德是歐洲最靠近北非的城市之一，北非的阿拉伯商人將此城作為其對歐洲的貿易據點

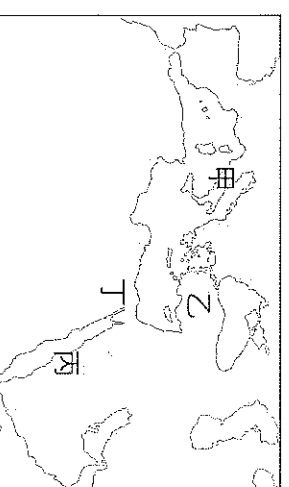
(B) 阿拉伯人曾經占領過西班牙且統治過西班牙數百年 (C) 羅馬人為了掌控地中海往大西洋的海運通道，曾經占有此地 (D) 鄂圖曼土耳其為了征服阿拉伯帝國先行奪取西班牙以開闢西部戰線

20. 「西元七世紀，伊斯蘭勢力在此地崛起，之後不斷的向外擴張，使得曾受波斯與羅馬文化影響的地區，在習俗、哲學、法律、政治體系上，開始與伊斯蘭文化相互揉合。」上文中的「此地」，最有可能是附圖中甲、乙、丙、丁何地？

(A) 甲 (B) 乙 (C) 丙 (D) 丁

21. 佩脫拉克曾說：「我是個凡人，我只追求凡人的幸福。」這句話充分表現出文藝復興時期的何種內涵？

(A) 神權思想 (B) 人文主義 (C) 政教合一 (D) 政教分離



題組

(一)請閱讀以下文章，回答第22~24題

鬱金香原產於中亞地區，■人對這種美麗的花朵甚為著迷，在15世紀攻陷君士坦丁堡之後，開始在帝國內改良及栽培鬱金香，它也由此傳入歐洲，獲得許多富人的喜愛。17世紀中葉，「某國」漸漸從西班牙獨立，並透過巴達維亞的商貿活動獲得鉅額利益，使其成為歐洲最繁榮的地區。而當地投機份子趁機哄抬鬱金香價格，許多人為它一擲千金，甚至曾有人以一座宅邸交換球根的紀錄，後來連工匠、農人也投入鬱金香市場，期望趁機賺取大筆財富，此情況被稱為「鬱金香狂熱」。當這股熱潮迅速退去，鬱金香暴跌造成許多人破產，成為史上著名的經濟泡沫化事件。事後當地人們也對此進行反省，如當地宗教教派再三強調其核心信仰：人們應重視簡約、節儉的美德，透過勤奮工作榮耀上帝才是正途。

22. 請問，文章一開始提到的■人應該是指以下何者？
(A)阿拉伯人 (B)羅馬人 (C)鄂圖曼土耳其人 (D)佛羅倫斯人

23. 請問，文章中的「某國」應該是指以下哪一國家？

(A)義大利 (B)英國 (C)葡萄牙 (D)荷蘭

24. 請問，文末提到的宗教教派會有下列哪一項主張呢？

(A)皇帝即為當地基督徒的領袖 (B)上帝早已決定好誰能夠得救 (C)鼓勵信徒購買贖罪券已獲得赦免 (D)教會是詮釋《聖經》的唯一權威

(二)請閱讀以下文章，回答第25~26題

此前發布的一些意在敦促大家崇敬諸神的敕令，已使許多基督徒陷於苦難之中了，其中許多人還喪失性命……。
我們今後將允許他們自由地表達想法，只要他們不 forget 對已公布的法律和政府抱著適當的尊敬，他們便可以毫無畏懼、不受任何干擾地集會。

25. 以上是一則羅馬皇帝的詔令，從詔令的內容來看，最有可能是哪一位皇帝所頒布的呢？

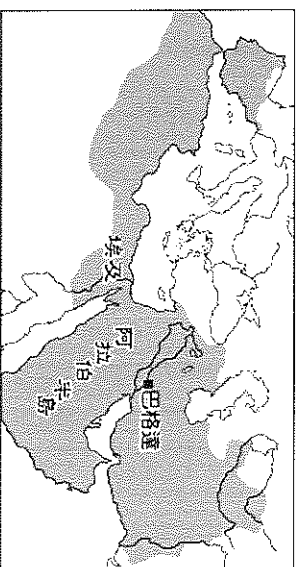
(A)屋大維 (B)狄奧多西 (C)君士坦丁 (D)查士丁尼

26. **承上題**，這位羅馬皇帝應該是在幾世紀時頒布此一詔令呢？

(A)1世紀 (B)4世紀 (C)8世紀 (D)11世紀

(三)請閱讀以下文章，回答第27~28題

請依照右圖，回答下列問題：



27. 關於圖中該帝國的文化成就，何者正確？

(A)透過《天方夜譚》，我們可窺知其商業與文化的輝煌 (B)重視實用，興建公共澡堂、競技場等建物
(C)開啟歐洲文藝復興，奠定歐洲現代的基石 (D)從美洲運回大量白銀，開啟海洋貿易

28. 有關於帝國往後的發展，下列何者敘述正確？

(A)與歐洲列強衝突，許多領土遭到強占 (B)與中國發生戰爭，於怛羅斯之役遭到挫敗
(C)塞爾柱土耳其人、鄂圖曼土耳其人先後取代該政權 (D)日耳曼人取代該政權，建立許多王國

背面尚有試題

(四)請閱讀以下文章，回答第29~31題

他的出生地不明，有可能在巴黎或是其他地區，可以確定的是，他成長於佛羅倫斯。他的父親是一位商人，活躍於佛羅倫斯，他本人也曾短暫的做過生意，也是在此時，他的日子開始揮霍起來，言行舉止像極了當地的貴族。然而，1340年巴爾迪銀行的倒閉，給他帶來了嚴重的打擊，商業利潤急速萎縮最終收攤，在生活困頓的情況下，他開始了文學創作。他才華洋溢且多產，《火花》、《似真似幻的愛情》等多部創作傳頌至今，然而，最經典的莫過於《十日談》，這本書講述黑死病流行期間，七女三男為躲避瘟疫而相遇於一間教堂的故事，這部作品經典的地方在於它反映出了當代人們的生活觀與道德觀。

29. 引文中的「他」有多部創作流傳至今，與「他」同一時期，文學家人才輩出，學者們感嘆那是一個黃金歲月。請問：當時的文學創作有何經典之處？

- (A)大篇幅歌頌上帝與神職人員 (B)強調語句的押韻與對仗
(C)以方言進行文學創作 (D)以華麗深奧的字詞寫作使得僅有部分人得以讀懂

30. 「他」的創作完成後不久，便以極快的速度傳遞開來，而後流行起來。請問，有關當時的條件與時代背景，有助於作品傳遞開來的因素，下列何者有誤？

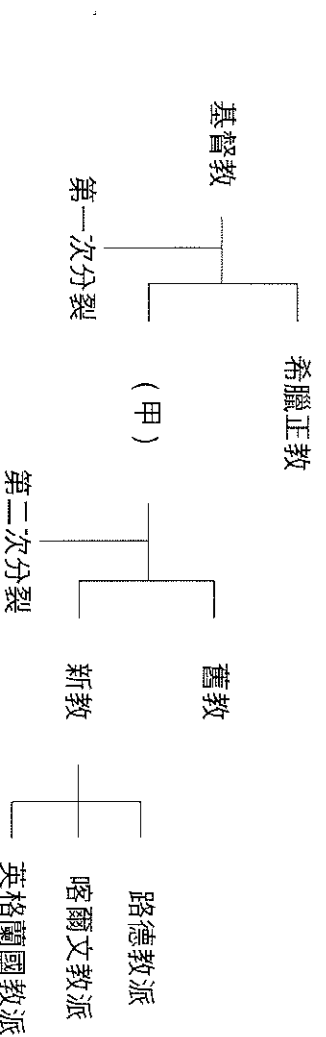
- (A)造紙術、印刷術普及 (B)城市居民富有後開始追求文藝生活
(C)文藝復興使得大眾文學流行 (D)透過十字軍東征，將作品傳至其他地區

31. 請問，文章中所提的「他」，應該是以下何者？

- (A)佩脫拉克 (B)薄伽丘 (C)莎士比亞 (D)達文西

(五)請閱讀以下文章，回答第32~35題

下圖是基督教教派演變示意圖，請依照所學回答問題



32. 圖中的「甲」教派的領袖應為下列何人？

- (A)國君 (B)祭司 (C)僧侶 (D)教宗

33. 圖中的「新教」派別，有何共同點？

- (A)凡事聽從教會的指示 (B)將〈聖經〉視為信仰的依歸 (C)主張以國君為宗教領袖 (D)以捐獻多寡來決定救贖

34. 造成基督教教會第一次分裂的主要原因為何？

- (A)教義解釋出現分歧 (B)文藝復興蓬勃發展 (C)海外傳教相互競爭 (D)教會斂財引起爭議

35. 下列造成基督教第二次分裂的原因，哪一項敘述較為恰當？

- (A)政教分離逐漸被政教合一取代，引發反彈 (B)宗教戰爭的出現，導致新教與舊教的決裂
(C)教會內部腐敗，買賣贖罪券使教士素質低落 (D)君主勢力衰微，教會互爭國家的龐大財富

試題尚未結束，請繼續加油

(六)請閱讀以下文章，回答第 36~40 題

此城是以色列的第一大城，建於內陸臺地之上，距離主要港口教遠，且為保護宗教聖地而限制重工業發展，經濟發展不如第二大城：特拉維夫。

對猶太人、基督徒與穆斯林來說，此城非常重要，也曾引發過許多紛爭。三千年前，猶太人在此設都、建聖殿。羅馬帝國初期，曾在此劃平猶太聖殿，另建羅馬神廟。7世紀以來，此城遭穆斯林攻下，初期採宗教寬容；11世紀開始下令摧毀所有基督教堂，新起的穆斯林政權成為基督徒的攻擊目標，雙方戰役不斷。

目前，以巴衝突也多與此地的爭奪有關，但即使如此，此城依舊是信徒們心目中的聖城。

36. 這篇文章中所提及的城市，應是下列何者？

- (A)麥加 (B)巴格達 (C)君士坦丁堡 (D)耶路撒冷

37. 文章當中提及的對基督徒採取宗教寬容與 11 世紀新起的穆斯林政權，各別是下列何者？

- (A)塞爾柱土耳其、阿拉伯帝國 (B)阿拉伯帝國、鄂圖曼土耳其
(C)塞爾柱土耳其、鄂圖曼土耳其 (D)阿拉伯帝國、塞爾柱土耳其

38. 文章當中提及「11世紀開始下令摧毀所有基督教堂，新起的穆斯林政權成為基督徒的攻擊目標，雙方戰役不斷。」請問，我們將此事件統稱為以下何者？

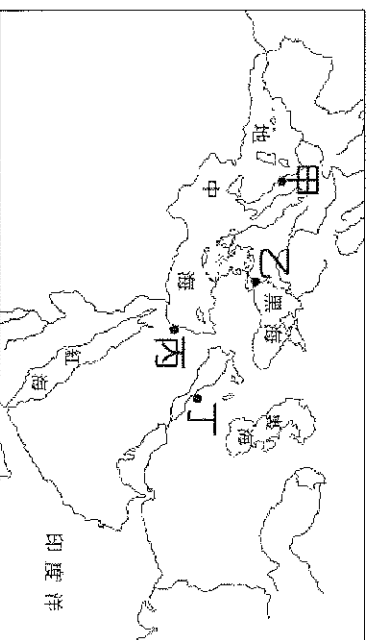
- (A)宗教改革 (B)波希戰爭 (C)十字軍東征 (D)基督教分裂

39. 若今日政府實施雙底線所標示的政策，將損害人民的哪一項基本權利呢？

- (A)自由權 (B)平等權 (C)受益權 (D)參政權

40. 請問，文章當中的此城應是位於右圖中的何處？

- (A)甲 (B)乙 (C)丙 (D)丁



試題結束，請再三檢查