

基隆市立武崙國民中學 112 學年度第一學期九年級地理科第二次定期評量試題卷

本試卷均為單一選擇題。共 50 題，每題 2 分，總計 100 分。請用 2B 鉛筆將正確答案畫在答案卡上，

考試結束後務必交回答案卡給監考老師。試題卷上也請寫上答案並妥善保管，日後上課需要檢討。

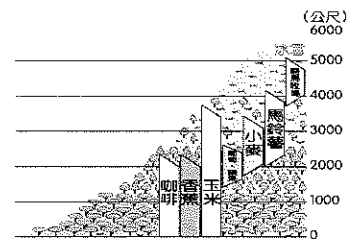
班級： _____ 姓名： _____ 座號： _____

- 1.() 依文化差異，將美洲分為「盎格魯美洲」和「拉丁美洲」兩部分，其分界線是哪兩個國家的國界？ (A)巴拿馬和哥倫比亞 (B)巴拿馬和哥斯大黎加 (C)美國和加拿大 (D)美國和墨西哥。
- 2.() 各國產業都有各自的長處與缺點，下列何者可能是美國農業會面臨的問題？ (A)科技落後 (B)面積不足 (C)生產過剩 (D)外商壟斷。
- 3.() 下列有關美洲的敘述，何者正確？ (A)南美洲全境位於南半球 (B)中南美洲又稱為拉丁美洲 (C)中南美洲目前以英語為主要語言 (D)北美洲包括美國、加拿大與墨西哥
- 4.() 西印度群島位於中美洲，自然景觀相當優美，因此成為美國人的度假勝地。西印度群島主要分布在哪個海域？ (A)加勒比海 (B)地中海 (C)北海 (D)紅海
- 5.() 臺灣的電子產品主要出口至美國，但為避免造成過度的貿易出超及支付高額的關稅，因此在生產成本的考慮下，前往下列何處設廠較為適合？ (A)墨西哥 (B)加拿大 (C)美國 (D)巴西。
- 6.() 美國一戶農家的農場面積平均約為 169 公頃，大約是臺灣 5、600 所一般國中的大小，因此為了提升生產效率，美國農家幾乎都會採取下列何種策略？ (A)集約化 (B)機械化 (C)商業化 (D)精緻化。
- 7.() 中南美洲過去受到歐洲殖民，後來雖成功獨立，但經濟型態多受其他國家控制，經濟本質未有重大改變。關於中南美洲國家的經濟情況，下列敘述何者正確？ (A)多數國家依賴出口能源礦產 (B)發展高科技工業並出口晶片 (C)原料優勢帶來工業化程度高 (D)經濟依賴出口原料賺取外匯。
- 8.() 明山計畫到中南美洲旅遊，希望覓得一位嚮導，引領他進入中南美洲的文化世界。這位嚮導最需具備何種語言能力，較能符合他的需求？ (A)俄羅斯語 (B)西班牙語 (C)日語 (D)德語。

- 9.() 某企業集團為了積極擴展美洲市場，而在南美洲面積最大的國家設置工廠，利用該國廣大的土地面積及廉價勞工，生產產品以行銷美洲市場，增加競爭力。該企業投資設廠的地點，最可能為下列哪個國家？ (A)智利 (B)秘魯 (C)巴西 (D)阿根廷
- 10.() 河川的流量多寡和當地的降水情況關係甚大。世界流量最大的亞馬孫河位於哪一種氣候區內？ (A)熱帶莽原氣候 (B)熱帶季風氣候 (C)熱帶雨林氣候 (D)溫帶海洋性氣候
- 11.() 美洲面積廣大，位置橫跨南、北半球，各區擁有不同的發展特色。請問哪兩條分界線將美洲分成北、中、南三區？ (A)甲、乙 (B)甲、丙 (C)乙、丙 (D)乙、丁
- 12.() 財經新聞：□條約於 2020 年正式生效並取代北美自由貿易協定，此條約對加拿大和墨西哥兩國無疑是「城下之盟」屬於典型的「美國優先」，加墨兩國的貿易自主權深受影響。請問□條約為下列何者？ (A)EU (B)APEC (C)NAFTA (D)USMCA



- 13.() 附圖為安地斯山區的植被及農、牧業活動分布圖，請問當地農、牧業活動的分布主要受下列哪一項因素影響較大？ (A)土壤養分的組成差異 (B)殖民者強行拓墾導致 (C)氣溫隨高度垂直變化 (D)不同族群的飲食習慣
- 14.() 巴西因其哪項優勢吸引如德國賓士、福斯等車廠紛紛前往投資設廠，生產汽車行銷世界各地？ (A)礦產豐富 (B)全球免稅 (C)專業技術 (D)市場廣大。



- 15.() 附圖為南美洲地形圖，若搭乘直昇機沿 X 到 Y 飛行，請問沿途依序會經過哪些地形區？甲、巴西高原
乙、亞馬孫盆地
丙、拉不拉他平原
丁、巴塔哥尼亞高原

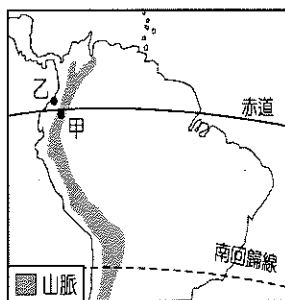


- 16.() 中美洲主要由三大地理區所組成，包含散布在◇上西印度群島、北側的墨西哥□及南側以○地形為主的中美地峽。請問上文中◇、□、○分別為何？

- (A) 加勒比海、高原、山地
(B) 加勒比海、山地、丘陵
(C) 墨西哥灣、山地、盆地
(D) 墨西哥灣、平原、高原
- 17.() 巴西嘉年華會為中南美洲合成文化的代表人文景觀之一。原為□殖民母國天主教大齋期前的慶祝活動，後來加入○奴隸帶有宗教性的舞蹈及音樂，隨者時間與當地人文的糅合與淬鍊，演變成今日熱情洋溢、節奏明快的風貌。請問□與○最可能分別為下列何者？
- (A) 英國、非洲黑人 (B) 西班牙、因紐特人
(C) 西班牙、印地安人 (D) 葡萄牙、非洲黑人。

- 18.() 南美洲主要都市如著名的里約、布宜諾斯艾利斯等皆位於東部沿海。這些地區並無任何重要物產，但卻成為人口聚集、經濟發達的都市。請問這些都市興起的主因為下列何者？ (A) 平原廣闊、農業發達 (B) 谷灣遍布、漁業發達 (C) 農礦輸出、港埠都市 (D) 勞工眾多、加工出口。

- 19.() 附圖中位於山區的甲地較沿海乙地人口密集、經濟繁榮，其主要的原因為下列何者？ (A) 氣候條件宜人 (B) 早期躲避戰亂 (C) 傳統宗教聖地 (D) 礦產資源豐富。



- 20.() 位於中美洲的巴哈馬群島海洋生態豐富，是知名的度假勝地，該群島的成因與臺灣哪個離島相似？(A) 釣魚台列嶼 (B) 金門列嶼 (C) 琉球嶼 (D) 綠島。

- 21.() 中南美洲幅員廣闊，受緯度、地形、洋流影響氣候種類多元，請問此區域缺乏溫帶大陸性氣候的原因為下列何者？ (A) 溫帶面積狹小 (B) 地勢落差極大 (C) 行星風系季移 (D) 橫跨南北半球

- 22.() 中南美洲各國礦產資源豐富，請問關於國家與其盛產的礦產資源配對何者『錯誤』？



- (A) 甲—銀 (B) 乙—鐵
(C) 丁—煤 (D) 己—銅
- 23.() 熱愛歷史文物與探險的志新前王中南美洲探索印地安人遺留下來古文明，請問下列何者與他這次的目的地關係『最小』？ (A) 馬雅文明 (B) 印加文明 (C) 巴比倫文明 (D) 阿茲提克文明。

- 24.() 加拿大的經濟重鎮多分布在國土東南側，請問其主要是利用哪一條河川的內河航運來發展經濟活動？ (A) 密西西比河 (B) 聖羅倫斯河 (C) 科羅拉多河 (D) 拉布拉他河。

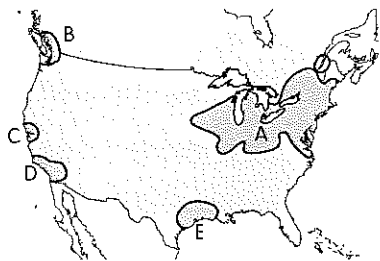
- 25.() 外來移民形塑了美國的多元文化，也奠定了美國強盛的基礎，請問下列關於美國族群組成的敘述何者正確？ (A) 歐洲白人為最早在此定居的人類 (B) 非裔和拉丁美洲裔已為多數族群 (C) 各族群文化均獲得公平一致展現 (D) 印第安及因紐特人文化逐漸消失

- 26.() 美國為全球主要能源消耗國，其二氧化碳排放量居世界第二，導致全球暖化、極端氣候等環境代價。請問美國消耗大量能源的原因和下列何者關係最密切？ (A) 經濟發達大量消費 (B) 高耗能機械化耕作 (C) 面積大運輸距離長 (D) 人口眾多用電量大。

- 27.() 美國紐約經濟繁榮，是世界上最多億萬富翁的聚集地。請問形成此現象是因為當地為哪一項產業活動的中心？ (A) 金融業 (B) 航太業 (C) 石化業 (D) 科技業

- 28.() 北美五大湖為世界上面積最大的淡水水域，除為美、加兩國的邊界外更擁有豐沛的資源與經濟效益。請問五大湖屬於哪一種類型的湖泊？(A) 火口湖 (B) 斷層湖 (C) 冰蝕湖 (D) 堰塞湖

29.() 美國為世界重要工業大國，請問附圖中 A、C、E 三區的工業發類型依序為何？

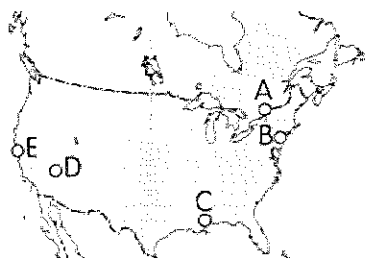


- (A) 航太工業、電影工業、汽車工業
- (B) 傳統重工業、科技產業、石化工業
- (C) 資訊工業、傳統重工業、航太工業
- (D) 加工製造業、石化工業、電影工業

30.() 美國透過海外分公司及委託代工的工廠將經濟影響力擴及全球，也藉此將美式文化的生活方式推廣至世界各地。請問下列何者『不是』常見的美式文化？

- (A) 好萊塢電影
- (B) 世界盃足球賽
- (C) 麥當勞速食
- (D) 迪士尼動畫片。

31.() 若在美國開露營車旅遊，從附圖中的城市 E 出發，途經城市 D，最後抵達城市 C，請問會依序經過哪些氣候類型？

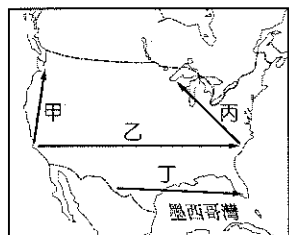


- (A) 溫帶海洋性 → 高地 → 溫帶草原
→ 溫帶沙漠 → 夏雨型暖溫帶
- (B) 夏雨型暖溫帶 → 溫帶草原 → 高地
→ 溫帶沙漠 → 溫帶地中海型
- (C) 溫帶地中海型 → 高地 → 夏雨型暖溫帶
→ 溫帶沙漠 → 溫帶草原
- (D) 溫帶地中海型 → 高地 → 溫帶沙漠
→ 溫帶草原 → 夏雨型暖溫帶

32.() COSTCO、Walmart 等美式大賣場在世界各地展店、成立銷售中心，請問此類賣場具有哪些特色？

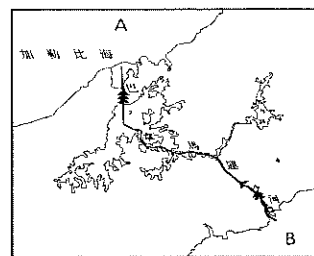
- (A) 深入社區、具人情味
- (B) 商品種類多、單價高
- (C) 科技管理、無人商店
- (D) 面積大、設置停車場

33.() 美國自 2022 年聖誕節開始的冬季風暴持續延燒到隔年 3 月，災情嚴重導致 25 州進入風雪警戒，各大機場陸續取消航班，經濟嚴重受創。請問附圖中哪條航線最有可能因暴風雪而停飛？



- (A) 甲
- (B) 乙
- (C) 丙
- (D) 丁

34.() 附圖為巴拿馬運河的示意圖，請問第 34~35 題：



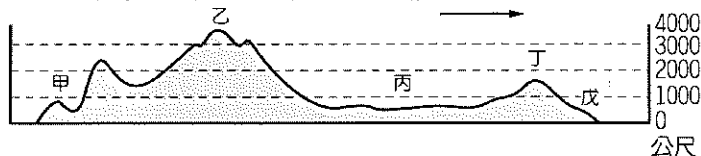
34.() 若根據圖中資料加以判斷，則 A、B 兩海洋分別為何？

- (A) 大西洋、太平洋
- (B) 大西洋、印度洋
- (C) 太平洋、大西洋
- (D) 太平洋、印度洋。

35.() 巴拿馬運河通行費為該國重要的外匯來源。請問下列有關此運河的敘述何者『有誤』？

- (A) 為克服地形限制採階梯式設計
- (B) 建造完成後，成為紐約至里約的必經航線
- (C) 溝通兩大洋，降低國際的交通運輸時間與成本
- (D) 熱帶地區的風土病為法國人放棄興建的原因之一

36.() 附圖為北美地形剖面圖，請問 36~39 題：



36.() 剖面圖中的丁區蘊藏豐富礦產資源，為北美經濟提供良好發展的背景，請問此地礦產豐富的主要原因為何？

- (A) 屬古老陸塊
- (B) 板塊擠壓帶
- (C) 沈積作用旺
- (D) 探勘技術佳

37.() 剖面圖中的丙區南側，氣候暖溼，土壤性質有利於涵養水分，適合稻作栽培。請問在夏、秋之際最容易遇到下列何種氣候災害導致稻米在栽種上遭遇損失？

- (A) 颶風
- (B) 龍捲風
- (C) 乾旱
- (D) 暴風雪

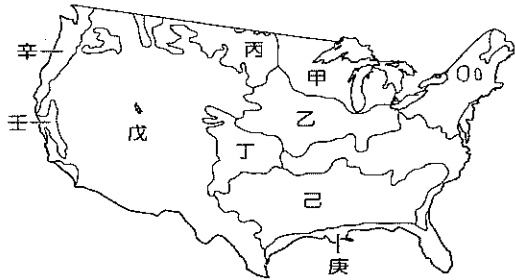
38.() 承上題，丙區南北兩側景觀大不相同，南側平坦且土壤肥沃農業發達，而北側卻相對崎嶇，請問南、北兩側地形形成的主要的作用力分別為何？

- (A) 聖羅倫斯河堆積、大量斷層陷落
- (B) 地質古老久經侵蝕、溶蝕作用強
- (C) 科羅拉多河侵蝕、板塊碰撞擠壓
- (D) 密西西比河堆積、大陸冰河侵蝕

39.() 惡劣天災下的英雄事蹟與感人的親情愛情是美國好萊塢電影票房賣座的要素，劇組若是想針對地震和龍捲風這兩種天災進行取材，則分別前往哪兩處最合適？

- (A) 甲、丁
- (B) 乙、丙
- (C) 丙、乙
- (D) 甲、戊

附圖為美國農牧業分布圖，請回答第 40~42 題：



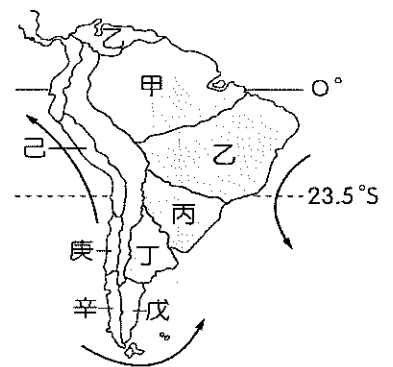
- 40.() 甲區為美國酪農業集中分布的區域，請問酪農業圍繞五大湖區分布的主因著重於下列哪項區位條件？
 (A)政策 (B)原料 (C)交通 (D)市場
- 41.() 美國畜牧業發達，但因疾病及萊克多巴胺檢疫問題，台灣在開放美國牛肉和豬隻進口時，都曾引起民眾的疑慮。若進口商業者欲到當地最主要的畜牧區進行實地考察，則應該前往附圖中何處？
 (A)甲 (B)丁 (C)戊 (D)己
- 42.() 美國加州適宜的氣候搭配肥沃、排水良好的土壤，十分適合葡萄生長，也因此擁有許多知名釀造葡萄酒的酒莊。請問若想前往酒莊品酒，前往附圖哪一區域比較適合？(A)己 (B)庚 (C)辛 (D)壬

《百年孤寂》為哥倫比亞作家馬奎斯『魔幻寫實主義』的代表作，在世界上享有盛名，也讓馬奎斯獲得 1982 年諾貝爾文學獎，瑞典皇家學院頒獎的理由是：「像其他重要的拉丁美洲作家一樣，馬奎斯永遠為弱小貧窮者請命，而反抗內部的壓迫與外來的剝削」。閱讀《百年孤寂》可以讓你看到整個拉丁美洲百年滄桑的縮影。請回答第 43~47 題：

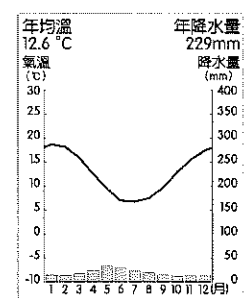
- 43.() 本書以波恩地亞家族為核心串起在『馬康多』這個村莊百年的興榮繁盛與破滅衰亡，故事中提到當地『某種農作物』吸引外來者的投資目光，使得當地大規模的農場快速出現。請問外地人在這墾殖並栽種的經濟作物最可能為下列何者？(A)茶 (B)小麥 (C)水稻 (D)香蕉
- 44.() 承上題，在拉丁美洲此種投入大量資金與勞動力的大規模農場是屬於下列哪一種農業類型？(A)綠洲農業 (B)熱帶栽培業 (C)商業性農業 (D)自給性農業
- 45.() 波恩地亞家族與村民們擁有宗教信仰，而馬康多也有宗教建築。請問位在拉丁美洲的他們最可能信仰下列哪一種宗教？(A)佛教 (B)天主教 (C)東正教 (D)伊斯蘭教

- 46.() 此書用波恩地亞家族隱喻了拉丁美洲的悲劇性命運，外來的剝削讓這裡的人群深陷貧窮、破滅的輪迴。請問這裡的『外來剝削』最可能指的是下列何者？
 (A)獨裁專制的政治體制 (B)外來人口的大量移入 (C)傳染疾病的不斷蔓延 (D)殖民地式的經濟發展
- 47.() 目前拉丁美洲依舊深陷在歷史的包袱中，在經濟方面充滿問題與挑戰，請問下列何者『不是』此地經濟方面的難題？(A)農礦產品距離消費市場遙遠 (B)過度依賴歐美的資金及技術 (C)易受國際市場價格波動影響 (D)高度仰賴單一農礦產品出口

附圖為南美洲氣候分布圖，請回答第 48~50 題：



- 48.() 存在於秘魯沙漠的納斯卡線，拜氣候乾燥之賜而得以在將近 500 年後展現在世人眼前，請問其在附圖中出現的區域及導致當地乾燥的原因為何？
 (A)丙；副熱帶高壓籠罩與量流
 (B)丁；背信風與位居內陸
 (C)戊；緯度高、寒流與背西風
 (D)己；涼流與副熱帶高壓籠罩
- 49.() 附圖為阿根廷里瓦達維亞鎮的氣候圖，請問造成此地氣候乾燥的主要原因為下列哪些？
 甲.副熱帶高氣壓籠罩
 乙.沿海有寒流經過
 丙.位於盛行風背風側
 丁.深處內陸。正確的是哪兩項？
 (A)甲丙 (B)甲丁 (C)乙丙 (D)乙丁
- 50.() 承上題，請問此地最可能位於南美洲哪一個地形區且會出現在附圖中的哪個區域？(A)丁、拉布拉他平原 (B)戊、巴塔哥尼亞高原 (C)庚、安第斯山脈 (D)辛、巴塔哥尼亞高原



【第 4 頁，共 4 頁，試題結束】