

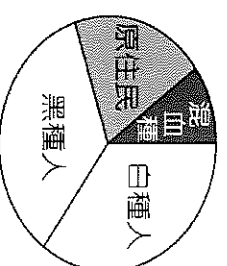
基隆市立武崙國中 112 學年度第一學期 第三次段考 九年級社會科試卷——歷史科

電腦讀卡，請使用 2B 鉛筆，並依據題號在答案卡上作答，答案卡無法判斷身分者，扣總分 10 分

範圍：第五冊 CH5-CH6 本試卷共 40 題 共 6 面 每題 2.5 分 班級：_____ 座號：_____ 姓名：_____

★單選題

1. 智利詩人聶魯達參觀某城市遺址後寫下了著名詩句：「我看見石砌的古老建築物鑲嵌在青翠的安地斯山脈之間，激流自風雨侵蝕了幾百年的城堡奔騰下泄。」文中，這座石砌建築物落成於 1420 年代，它經過完整的規畫，內有城牆、宮殿、神廟等重要建築物，體現當時人們高超的工藝技術。根據上文判斷，該城市與以下哪一帝國有關呢？
 (A)大英帝國 (B)阿茲提克帝國 (C)印加帝國 (D)西班牙帝國
2. 一本建築雜誌裡提到：「泰姬瑪哈陵是一座全部用白色大理石建成的宮殿式陵園，是一件集結伊斯蘭和印度建築藝術於一體的古代經典作品。在世人眼中，泰姬瑪哈陵就是印度的代名詞，正如萬里長城一樣，濃縮著一個偉大民族和文明古國數千年的燦爛文化。」請問：此座陵墓最可能是下列何者統治時期建造的？
 (A)波斯帝國 (B)阿拉伯帝國 (C)蒙古兀兒帝國 (D)阿茲提克帝國
3. 秉澄閱讀一篇名為〈少女手中的項鍊〉的文章，內容寫道：「少女手中的項鍊串起了散落在印度洋與太平洋上的島嶼，由左而右分別是蘇門答臘、婆羅洲、爪哇、蘇拉威西、香料群島，它們自 16 世紀便陸續被少女長期管理，帶來巨大的財富，如同閃耀的珠寶。」請問，文章中所提到的「少女」在歷史上的商貿活動，以下何者正確？
 (A)曾治理台灣，熱蘭遮城為其行政中心 (B)曾在基隆今和平島一帶建城
 (C)以澳門作為其亞洲貿易據點 (D)曾在印度生產棉花與鴉片，並引發鴉片戰爭



4. [右圖]顯示 1945 年某地的人口組成比例，請問：這種人口結構最可能發生在下列哪個地區？
 (A)中南美洲 (B)非洲 (C)巴爾幹半島 (D)印度半島
5. 教宗為天主教會的最高領導者，許多教宗也深刻影響了歐洲的歷史，下表有四位教宗的事蹟介紹：

代號	稱號	事蹟
甲	烏爾班八世	曾與伽利略維持良好友誼，但在兩人決裂後，以伽利略對天體運行的解釋進行違反《聖經》為由，將其監禁
乙	尼古拉五世	派遣使者前往各地收集古希臘文獻，使西歐開始大量接觸古代經典，為新興的人文主義提供大量研究資料
丙	利奧九世	派出使節與君士坦丁堡教會的領導人談判，不過最終導致東西教會正式決裂
丁	亞歷山大六世	在哥倫布抵達「新大陸」的隔年，負責協調西班牙與葡萄牙的海外領土爭議，最終劃定「教宗子午線」

請根據表中所敘述的事蹟判斷這四位教宗在歷史上出現的先後順序：

- (A)甲丙乙丁 (C)乙丙甲丁 (C)丙乙丁甲 (D)丁甲丙乙
6. [承上題]，哪一位教宗應是生活在 17 世紀呢？
 (A)烏爾班八世 (B)尼古拉五世 (C)利奧九世 (D)亞歷山大六世
7. 嘉元在討論科學方法時說道：「人從感官獲得的信息不一定完全正確，外在觀察得來的經驗不一定是可靠的，應該採用更加科學的演繹法，通過論證推理，得出一個可靠的結論。」嘉元對於事物認知的想法可能是受下列何人的影響？ (A)培根 (B)哥白尼 (C)笛卡兒 (D)伽利略

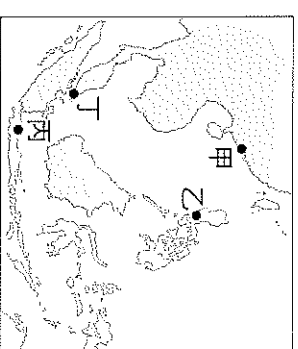
背面尚有試題

8. 民初新文化運動期間，有人反對中國傳統思想與制度，並主張全盤西化。在此種風氣下，市面上出現《馬克思的世界革命》一書，內容對資本主義有諸多分析與批判。請問：這本書的產生與下列何事關係最為密切？

(A)科學革命後產生理性的態度 (B)工業革命後產生勞工問題 (C)新航路發現後產生黑奴問題 (D)宗教改革後產生宗教戰爭

9. 「該國自 16 世紀中葉之後，每年都會派遣大帆船，將大量的白銀由墨西哥殖民地運往亞洲的據點。返程時，船上載滿了亞洲的絲綢、瓷器、香料等貨物，日後再轉銷至歐洲本土，並為該國帶來極大的利益。」請問，文中提到該國的「亞洲據點」，應位於圖中的何處呢？

(A)甲 (B)乙 (C)丙 (D)丁



10. 自歐洲探險船隊陸續抵達美洲後，中南美洲印第安原住民的人口數量，在短時間內以極快的速度減少，其可能的的主要原因為何？ (A)美洲原住民多移民到歐洲生活 (B)無法抵抗歐洲人帶來的傳染病 (C)人數較侵略者少導致戰敗被殺 (D)被大量販賣到亞洲礦場當苦工

11. 學者認為他是科學革命時代最受推崇的科學家，17 世紀他的著作《自然哲學的數學原理》一書發表以後，便一直支配了人類的宇宙觀，直到 20 世紀初才由相對論對其作進一步的修正。對他來說，世界就好像一個鐘錶，當鐘錶師傅完成裝配之後，將鐘錶上發條，接著鐘錶會自行運作，師傅不會再過問。所以他的宇宙觀，亦名「機械宇宙觀」，或者「鐘錶宇宙觀」，大家最熟悉的萬有引力定律就是他所提出的。請問：此位科學家是？

(A)笛卡兒 (B)牛頓 (C)培根 (D)哥白尼

12. 十四世紀可以算是歷史的一個重要轉折點：歐洲由中世紀邁入近代。尤其十四至十七世紀歐洲在宗教、學術等方面均有變革，具有承先啟後的歷史意義。請問：下列哪些現象包含「承先」的意義？

(甲)對理性的重視 (乙)人文精神的覺醒 (丙)以神為中心的思想 (丁)以牙還牙的報復去學概念

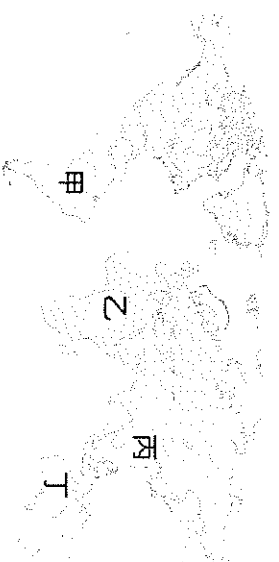
(A)甲乙 (B)甲丁 (C)乙丙 (D)丙丁

13. 美國在 1792 年為了慶祝哥倫布發現美洲新大陸而訂 10 月 12 日為「哥倫布日」。1990 年代美國部分州政府開始改稱「原住民日」或「原住民抵抗日」。下列何者符合此節日名稱改變的意義？

(A)慶祝哥倫布的發現為歐洲人開啟一個新時代 (B)凸顯美洲古文明被摧毀、人民遭奴役的悲慘 (C)頌揚歐洲文明拯救了美洲原住民低落的文化 (D)美洲原有文化及各種作物因此流傳世界各地

14. 以下為一份 16 世紀古代旅行家的手札內容：「市場的人潮川流不息，好不熱鬧，攤販上有各式各樣的商品，除了可以買到當地的玉米、馬鈴薯、巧克力、金銀飾品以外，歐洲商人也帶來了牛、羊、馬等牲口，甚至在一旁的棚架下販賣奴隸。」請問，這份手札所記載的市場是位於地圖中的何處？

(A)甲 (B)乙 (C)丙 (D)丁



15. **承上題**，手札中提到的「奴隸」，應是自地圖中何處所引進的呢？

(A)甲 (B)乙 (C)丙 (D)丁

16. **資料一**：1807 年羅伯特·富爾頓利用蒸汽機製造世界上第一艘輪船，而這種船還帶有帆。**資料二**：蘇格蘭化學家羅伯特·安格斯·史密斯於 1852 年首先闡述在曼徹斯特酸雨與大氣污染之間的關係，並在 1872 年創造「酸雨」這個名詞。**資料三**：卡爾·馬克思於 1848 年發表《共產黨宣言》並組織「國際工人協會」發起抗爭。

請問，根據以上三份資料，皆與以下何者的發展有緊密的關聯？

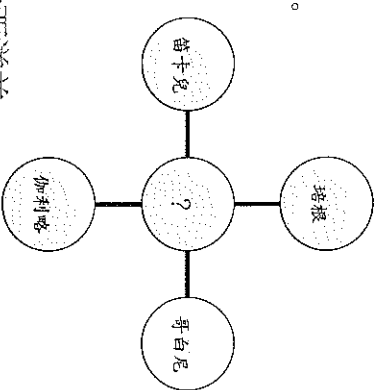
(A)科學家輩出的天才世紀 (B)工業革命的進程 (C)啟蒙運動的政治理論 (D)新航路的啟程

試題尚未結束，請繼續加油

17. 十八世紀時，一位法國學者聯合許多學者共同進行某項工作。雖然這些學者哲學觀點和宗教思想不盡相同，但都崇尚理性思維。他們在各自的領域發揮專長，進行知識學術的整合，使人們更便於檢索知識的相關內容。上述這些學者共同進行的工作為何？ (A)合力編寫百科全書 (B)研究如何翻譯聖經內容 (C)改革基督教教會腐敗弊端 (D)探究古希臘、羅馬典籍精神

18. 秉恩複習歷史時，自己繪製了簡單圖表以快速記憶西方某一重要歷史事件，如右圖所示。請問：下列何者是秉恩的筆記中最有可能抄寫的事項？

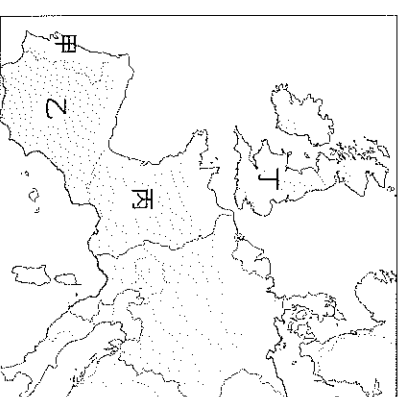
- (A) 理性思維改變傳統宇宙觀，促使天文物理學知識創新 (B) 教會專制與腐敗遭受批判，《聖經》不如以往重要 (C) 新航路被發現與開啟，世界經濟網絡就此成形 (D) 古典文化重新被重視，人們開始強調人性尊嚴。



19. 達伽馬是葡萄牙著名的航海家，西元 1498 年他率領船隊沿著西非非洲海岸，而後深入南大西洋並繞過好望角，最後抵達印度，成為第一位從歐洲遠航到印度的人，對日後葡萄牙的殖民擴張具有關鍵的影響。達伽馬展開探險之旅的主要目的為何？ (A) 直接取得亞洲的香料、絲綢等商品 (B) 探索不為人知的古文明

與少數族群 (C) 受到鄭和影響，希望前往中國參觀 (D) 尋找新農耕地，解決人口眾多問題


20. 「澳洲的原生物種，有不少是在 18 世紀後滅絕或是數量銳減，例如袋狼被殖民時代視為襲擊羊隻的元兇，因而遭到大量獵殺；又如無尾熊，因為『殖民者』的捕殺與大肆砍伐森林，數量從上千萬遽減至如今的數萬隻」文中所提到的『殖民者』最主要是來自圖中的哪個國家呢？ (A) 甲 (B) 乙 (C) 丙 (D) 丁




21. 英國皇家學會的歷史可追溯自西元 1660 年，為世界上最古老的科學研究機構之一。學會對推動科技的發展不遺餘力，牛頓、達爾文、愛因斯坦等都曾是皇家學會的會員，獲選為該會會員，被視為崇高的榮譽。請問：英國皇家學會應成立於哪一個時期？ (A) 文藝復興 (B) 宗教改革 (C) 大航海時代 (D) 科學革命

22. 近代工業革命之所以能夠產生，其中一個原因是技術的創新。在 18 世紀的工業革命中，有關英國工業技術創新的背景何者正確？ (A) 氣候適宜，故適合發展風力、水力 (B) 深受社會主義啟發而開始技術革新 (C) 具備廣大殖民地、充分原料等優勢 (D) 工人階級興起使商人改善生產技術

23. 請問，由圖(一)到圖(二)的宇宙觀變化時間開始於何時？ (A) 14 世紀 (B) 16 世紀 (C) 18 世紀 (D) 20 世紀



(圖一) ↑



(圖二) ↑

24. 「這個國家因地理位置偏遠、資源匱乏，過去被視為歐洲的邊陲，長期不受重視。但他們的統治者很有遠見，贊助航海家出航尋找前往亞洲的貿易航道，並成功抵達非洲好望角，之後率先發現通往印度的航道，讓該國的勢力直達亞洲，為日後殖民鋪平道路。」請問，根據上文所述，這個國是應該是以下何者？

- (A) 14 世紀的義大利 (B) 15 世紀的葡萄牙 (C) 16 世紀的西班牙 (D) 17 世紀的英國

背面尚有試題

25. 于家和同學們為了歷史段考進行筆記讀書會，他們將某組織的重要事件整理為以下表格，但其中一項卻因為茶水打翻而有所污漬。請問，根據內容判斷，表中污漬之處，最有可能為下列何者？

重要事件
先後在印度沿海的孟買、加爾各答等建立商館
走私大量鴉片至中國，最終使中國官員以強硬手段來解決商務問題

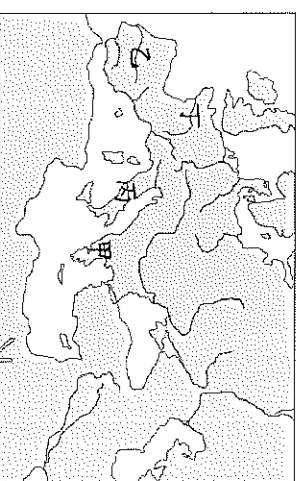
(A) 在巴達維亞設立亞洲貿易據點，經營轉口貿易 (B) 以澳門作為貿易據點，並擴大在亞洲的傳教版圖
(C) 與台灣鄭氏政權簽訂合約，並在台設立商館 (D) 阿姆斯特丹是其在歐洲的貿易本部

26. 承上題，此一組織應該是為以下何者？

(A) 荷蘭東印度公司 (B) 英國東印度公司 (C) 蒙古兒帝國 (D) 英國皇家科學院

27. 十八世紀的啟蒙運動涵蓋了各個知識領域，如自然科學、政治學、經濟學、文學等。請問：這個運動最早興起於左圖中的哪個地區，然後開始向外傳播？

(A) 甲 (B) 乙 (C) 丙 (D) 丁。



題組

(一)請閱讀以下文章，回答第28-31題

西元1948年12月，聯合國大會採認《世界人權宣言》，請求它的會員國公布該宣言，並在無政治的考量下，在各級學校及教育機構裡，傳播、張貼、研讀及解說其內容。以下節錄幾項條文內容，請閱讀後回答問題：

第一條
人人生而自由，在尊嚴及權利上一律平等。他們賦有理性和良心，並應以兄弟關係的精神相對待。

第三條
人人有權享受生命、自由與人身安全。

第十八條
人人有思想、良心與宗教自由的權利。

第十九條
人人有權享有主張和發表意見的自由。

第二十一條
(一)人人有直接或通過自由選擇的代表參與治理本國的權利。
(三)人民的意志是政府權力的基礎；這一意志應以定期和真正的選舉予以表現，而選舉應依據普遍和平等的投票權，並以不記名投票或相當的自由投票程序進行。

28. 宣言中第一條和第三條強調人類自由與權利，其精神與哪一位啟蒙思想家的思想最為接近？

(A) 盧梭 (B) 洛克 (C) 孟德斯鳩 (D) 伏爾泰。

29. 宣言中第十八條和第十九條強調宗教及言論等自由權，其精神與下列哪一位啟蒙思想家的思想最為接近？

(A) 盧梭 (B) 洛克 (C) 伏爾泰 (D) 孟德斯鳩。

30. 宣言中第二十一條提到：「人民的意志是政府權力的基礎」，其精神與下列哪一位啟蒙思想家的思想最為接近？

(A) 盧梭 (B) 洛克 (C) 伏爾泰 (D) 孟德斯鳩。

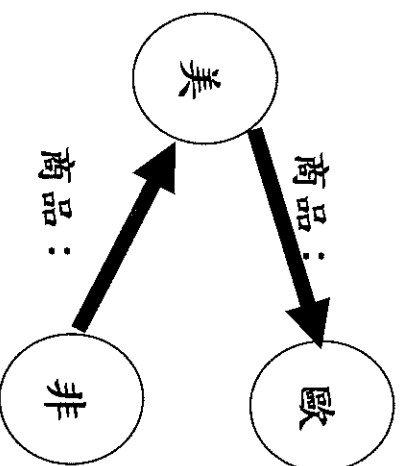
31. 綜上所述，《世界人權宣言》代表的精神與下列哪一個敘述最為相符？

(A) 啟迪人們對自我權利的認知與追求 (B) 重新思索宇宙萬物的運作法則 (C) 有助於王權的提升與近代國家的發展
(D) 激起民族意識與認同。

試題尚未結束，請繼續加油

(二)請閱讀以下文章，回答第32~34題

彥安在複習殖民貿易時，發現自己的筆記不小心漏掉了商品的項目，請回答下列問題協助他完成筆記。



32. 請問是以下哪一事件造就此圖的貿易路線？

(A)哥倫布抵達美洲 (B)狄亞士抵達非洲 (C)達伽馬抵達印度 (D)麥哲倫環繞世界

33. 從非洲到美洲的貿易路線上，是什麼被當成商品運到美洲？

(A)玉米 (B)華人 (C)黑人 (D)馬鈴薯。

34. 哪一項物品藉此貿易從美洲傳到歐洲，後來甚至成為世界重要的糧食作物？

(A)銀礦 (B)辣椒 (C)馬鈴薯 (D)菸草

(三)請閱讀以下文章，回答第35-37題

「土魷魚羹」是台南著名美食之一。然而，透過下文可以得知，原來它的起源非常國際化呢！

大航海時代的葡萄牙水手為了在遠航途中保存食物，會將鯖魚肉以油醋和香料醃漬入味，再裹粉酥炸，有時還會把炸過的魚加入濃湯。由於葡萄牙商人當時在東亞非常活躍，連帶使得其他國家的水手、海商也學習他們料理鯖魚(「Dorado」音近「土魷」)的手法。★人來台建立據點時，便將這種炸魚濃湯的吃法傳入台南，湯頭也加入當地盛產的■，逐漸發展出酸酸甜甜的「土魷魚羹」。

35. 根據上文判斷，「土魷魚羹」出現在台灣的時代背景，與下列何者最為相關？

(A)西方各國為購買香料等商品，建立前往亞洲的新航線

(B)工業化列強欲擴大亞洲市場，要求中日等國開港通商

(C)西方各國為獎勵資本家投資蓋廠，紛紛到亞洲地區設立據點

(D)清政府於甲午戰爭後，將台灣割讓給日本

36. 文章當中提到「★人來台建立據點時，便將這種炸魚濃湯的吃法傳入台南」，請問，根據上下文推測，★人應是指以下何者？

(A)西班牙人 (B)日本人 (C)葡萄牙人 (D)荷蘭人

37. 文章當中提到「湯頭也加入當地盛產的■，逐漸發展出酸酸甜甜的『土魷魚羹』」，請問，根據上下文推測，■應是指以下何者？

(A)稻米 (B)辣椒 (C)蔗糖 (D)肉桂

背面尚有試題

(四)請閱讀以下文章，回答第 38-40 題

位於埃及的蘇伊士運河縮短歐亞間的航運時間，成為現代海運主要航線之一。
2021 年 4 月，一艘輪船因故偏離航道，擱淺在運河中，造成運河航道癱瘓。請問：

38. 經過多日搶救，輪船仍然在運河上動彈不得，也造成運河道上的輪船停駛。有經濟學家提到，也許該考慮達伽馬開創的航道，使歐洲與亞洲的航海路線暢通無阻。請問：學者指的是上圖中哪條航線？

(A) A 航線 (B) B 航線 (C) C 航線 (D) D 航線

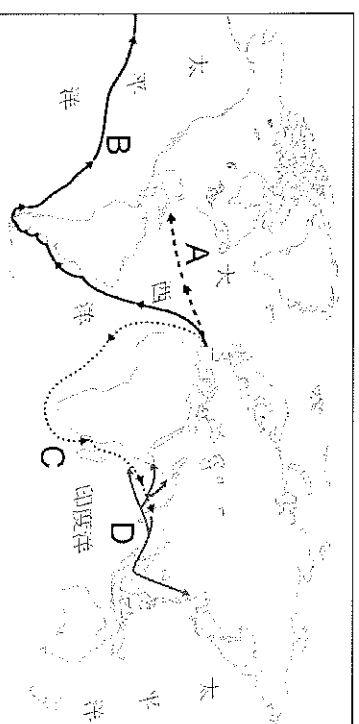
39. 該航線會經過那些洋面？

(A) 太平洋、大西洋 (B) 大西洋、印度洋

(C) 太平洋、阿拉伯海 (D) 印度洋、太平洋

40. 今日許多船隻選擇通過蘇伊士運河的航線，主要是因為達伽馬的航線與蘇伊士運河航線相較，有何缺點？

(A) 交通較為壅塞 (B) 氣候較為惡劣 (C) 海盜數量較多 (D) 路程距離較遠



試題結束，請再三檢查