

基隆市武崙國民中學 112 學年度第一學期九年級公民科第三次段考試題卷

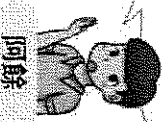
一、選擇：(每題 2.5 分。共 40 題，題目卷共四頁)

- () 現代社會，可以透過多種方式進行交易，換取自己所需要的物品或勞務。下列何者屬於「法定貨幣」？ (A) 美金 (B) 黃金 (C) 白銀 (D) 貝殼
- () 小龍發現看的報紙標題缺了一角，只能看出「無現金社會不遠！○○○○比例逐年增，擘經濟成市場主流」。○○○○最可能為下列何項內容以及判斷理由？(A) 紙鈔支付，因為增加現金使用 (B) 行動支付，因為增加現金使用 (C) 行動支付，因為減少現金使用 (D) 錢幣支付，因為減少現金使用
- () 小熙以信用卡刷卡方式購買一臺除濕機，除了有免利息分期，又能享受延後付款。下列對於「信用卡」的敘述何者正確？ (A) 屬於商品貨幣 (B) 具價值儲存功能 (C) 可衡量商品價值 (D) 具延期償債特性。
- () 無酬勞動雖沒有給予勞動者實質報酬，但仍是社會運作的重要一環，下列何者提供的是無酬勞動 (A) 假日兼差到搬家公司打工的小如 (B) 離職後在家擔任家庭主夫的文祥 (C) 畢業後擔任全職家庭看護的孟勳 (D) 就讀大學並擔任家庭教師的小涵
- () 我國西部許多沿海鄉鎮是養蚵的大本營，因此衍生了許多工作機會。有業者貼出徵人剝蚵的告示，寫著「徵有緣人，剝蚵人才，早班、中班、晚班和假日班，時薪 90 元」。下列哪位網友對此事件的評論較具保障市場勞動的觀念？(A) 小明：根據契約自由原則，時薪可自訂 (B) 湘湘：就是緣分的問題，不滿意可不去 (C) 小強：時薪的約定也是要遵守基本工資 (D) 小美：身為國二生，我可以應徵週末班
- () 某公司員工因在懷孕期間請產假，考績因此被評為丙等，影響加薪資格。她認為此一處分不合法，反遭人資表示「去勞動局申訴、提告啊！」。該市勞動局對此進行調查與審議後，認定該公司違法，依法開罰 2 萬元並限期改善。對此事件，下列敘述何者正確？(A) 請產假是雇主才有的權利 (B) 雇主可不受僱者的權益 (C) 政府應保障公平的市場勞動參與 (D) 員工薪資不會列入生產成本之一
- () 我國憲法保障工作權，雇主在僱用員工時，應避免就業歧視的狀況發生，下列何者屬於就業歧視？(A) 翻譯員要求語文檢定證明 (B) 餐廳店員要求未婚的女性 (C) 工程師要求特定科系學歷 (D) 超商保障身心障礙者就業
- () 關於貨幣貶值的現象，下列何者描述最為正確？ (A) 貨幣的數量變少 (B) 貨幣的材質價值變差 (C) 貨幣的顏色美觀度降低 (D) 貨幣所能購買的產品數量變少。
- () 勞動力包括就業者與失業者，公民老師請同學根據此內容舉例說明，下列四位同學哪一位的舉例需要修正？ (A) 小康：國二學生是失業者 (B) 小萱：準備國考的考生是非勞動力 (C) 阿修：辭職正在找工作的人是失業者 (D) 阿哲：正在上課的老師是就業者。
- () 老師在課堂中舉辦「多元消費我最神」辯論比賽，下列哪位同學的論點正確？
(A) (B) (C) (D)

儲值卡和信用卡不是交易媒介，但皆是法定貨幣。



儲值卡用於大額開銷，信用卡則用於小額付費。




儲值卡由民間發行，但政府以法令強制規定其價值。



信用卡由政府發行，並以法令強制規定其價值。



小娟：三倍券不找零囉！



請看清楚，這不是三倍券，不是 200 元紙鈔！

- () 右圖是陳老師到大賣場購物時所遇到的情況。下列相關敘述，何者正確？
(A) 三倍券可以購買商品，所以是商品貨幣 (B) 200 元紙鈔是由政府以法令賦予其價值 (C) 200 元紙鈔是臺灣銀行發行的法定貨幣 (D) 用紙鈔結帳是發揮貨幣的債務清償功能
- () 市場勞動是直接與經濟活動產生關連，能為整體社會創造出經濟產值，普遍受到社會的重視，也顯現出勞動參與的重要性。以下針對勞動參與重要性之描述，何者正確？(A) 無酬家務勞動的價值長期被民眾看重 (B) 家務勞動無助於市場勞動的穩定 (C) 市場勞動與家務勞動間並沒有關係 (D) 國際移工的移動主要來自於全球分工的緣故。

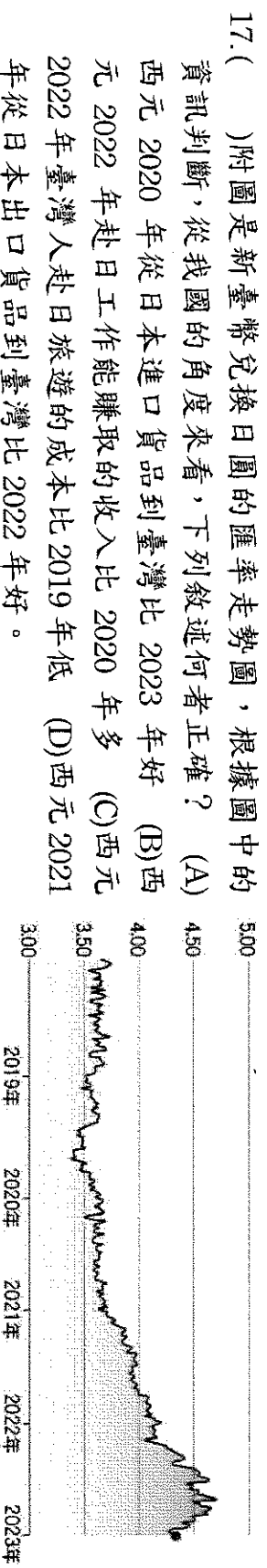
13. ()某新聞提到：「……需要將自己的銀行帳戶資訊，或信用卡資訊輸入手機或平板等行動載具中，因此要注意個人資訊安全……」根據新聞中內容，何者最有可能為其報導主題？ (A)未來不需再以貨幣償還消費款項 (B)使用行動支付方式要注意個資安全 (C)使用行動支付方式既方便又環保 (D)行動支付方式已成為全球趨勢。

14. ()為讓網路族更能了解自身的勞動權益，新北市勞工局特別邀請知名網紅合作出奇招，以 KUSO 影片及插圖宣導嚴肅的勞工政策服務，盼藉由網紅影響力，讓更多民眾了解勞資爭議的調解、義務律師諮詢等免費的便民服務。從上文之描述可知，新北市勞工局重視以下哪一個議題？ (A)勞動參與的權益 (B)拍 KUSO 影片方法 (C)如何變成網紅 (D)家務分工不均。

15. ()小祥在美國念大學，去年因為疫情嚴重，整學期都採線上上課，小祥於是回臺灣在家上課。今年疫情漸緩，小祥準備回美國完成下一學期的課程。他發現現在美元兌換新臺幣的匯率是 1:28，去年此時的匯率則為 1:30，這樣的匯率變動對他有何影響？ (A)因新臺幣貶值，所以去美國較貴 (B)因新臺幣升值，所以去美國較便宜 (C)因美元升值，所以去美國較便宜 (D)因美元貶值，所以去美國較貴。

16. ()附表是甲、乙兩國匯率變動的情形，以吸引乙國遊客為主的甲國觀光業者，看到此變化後感到很憂心。根據表中內容判斷，若甲國的物價水準維持不變，下列何者最可能是上述業者的憂慮？ (A)甲國觀光業者經營成本提高 (B)乙國人的平均薪資所得減少 (C)甲國觀光業者數量大幅增加 (D)乙國人到甲國旅遊意願下降

時間	1 甲幣可兌換的乙幣
去年	10
今年	20



18. ()右圖刊出記者到某國的採訪報導：
有關記者到的國家，哪一項敘述是正確的？ (A)物價上漲嚴重，人民購買力大幅下滑 (B)該國貨幣面額高，凸顯出貨幣的價值 (C)加油站內，採用商品貨幣的交易方式 (D)以 50 元作為交易媒介，有助於交易進行。

我在這裡發現，咖啡的價格令人咋舌，一杯的價格已與 5 年前在此買間套房所付的錢不相上下，在加油站中，我還看到駕駛熟練地交給工作人員一袋米、食用油、香菸或其他商品支付油錢，沒辦法，5 萬元的紙鈔只相當於美金 2.5 元，發行的 50 元紙鈔，都以「占空間」為由拒收！

19. ()我國製造業工廠常因各類機器設備及作業環境衍生的風險，加上常將工程委託給其他外包廠商，使作業人員、環境變複雜，容易造成對作業現場危害及風險認知的警覺性較低，致使發生災害。因此勞動部舉辦了講座，宣導雇主應確實做好指揮、監督及協調之工作，也充實勞工在工作場所對危害能進行辨識與評估。根據前文所述，此講座最主要應在落實下列何項目的？ (A)尊重勞資雙方的工作契約內容 (B)提升勞資雙方的職業安全意識 (C)強化職場中的性別平等措施 (D)透過公共意見影響政府決策。

20. ()無酬勞動是指勞動的付出無法獲得實質報酬，下列何項工作屬無酬勞動？ (A)在工廠工作的外籍移工 (B)外派去美國公司的小華 (C)長照中心當志工的小瀚 (D)被公司聘請的清潔人員。

21. ()交通部觀光局邀請日本知名藝人為臺灣拍攝觀光宣傳影片，以吸引日本人來臺旅遊，但在宣傳活動的某段期間，因匯率劇烈波動，反而導致當時日本人來臺旅遊人次呈現負成長。上述觀光局作法所希望影響的消費行為因素，與該段期間匯率變化的情況，最可能為下列何項組合？ (A)預期心理、新臺幣相對日幣升值 (B)預期心理、新臺幣相對日幣貶值 (C)個人偏好、新臺幣相對日幣升值 (D)個人偏好、新臺幣相對日幣貶值。

22. ()2013 年，巴西幣貶值，幣值創四年來低點，連帶影響該國的進出口貿易。若其他條件不變的情況下，此幣值波動對巴西咖啡產業造成的影響，下列何者正確？ (A)巴西為出口國，此種波動有利咖啡出口 (B)巴西為出口國，此種波動不利咖啡出口 (C)巴西為進口國，此種波動有利咖啡進口 (D)巴西為進口國，此種波動不利咖啡進口。

23. ()右表為美元兌換新臺幣的匯率變動，琳達在1月時將3,000美元兌換成新臺幣後，來臺灣旅遊後花掉一半，於3月回美國欲將剩餘新臺幣換回美元，四捨五入後應可換回多少美元？ (A)1,607元 (B)1,888元 (C)1,987元 (D)2,021元。

月分	美元	新臺幣
1月	1	30
2月	1	29
3月	1	28
4月	1	31

24. ()基於契約自由原則，勞工與雇主應為平等的關係，但是在職場上卻經常出現勞資不對等的情形，下列何者最有可能是造成此種現象的原因？ (A)雇主掌握工作時數及薪資發放權力 (B)我國並未制定法規保障勞工權益 (C)勞工提供雇主在生產行為的協助 (D)勞工不具有提訴訟的權利。

25. ()小麗將日常生活中看見的違規情形，與其可能違反的相關法律，整理如下表。根據表中內容判斷，小麗所列出的配對項目何者最適當？ (A)甲 (B)乙 (C)丙 (D)丁

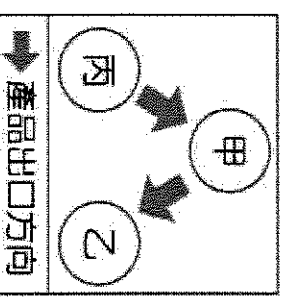
項目	違規情形	適用法律
甲	網咖誠徵大夜班店員2名，年齡不拘	《民法》
乙	雇主安排16歲工讀生從事工地搬運工作	《性別工作平等法》
丙	公司因訂單暴增、業務繁忙，要求員工不得請假	《勞動基準法》
丁	學校籃球社男生可優先加入，女生加入須經過老師體檢	《性騷擾防治法》

26. ()許多人在農曆年前兌換新鈔準備包紅包，增添喜氣，因此○○會在春節前委託其他金融行庫，協助辦理發放新鈔的業務。○○應為下列何者？ (A)中央銀行 (B)土地銀行 (C)臺灣銀行 (D)金融監督管理委員會。

27. ()市場勞動普遍受到各個國家重視，對整體社會而言，哪些是失業人口少的優點？ (甲)人力資源被充分利用 (乙)提升國家生產力 (丙)減少社會問題 (丁)國家產業升級 (A)甲乙丙 (B)乙丙丁 (C)甲丙丁 (D)甲乙丁。

28. ()政府立法保障勞動權益，讓勞動者都有機會透過工作賺取收入並獲得合理保障，才能享有勞動尊嚴，保障人民生活。請問：下列何者不屬於勞動尊嚴的保障？ (A)勞工要求獲得合理報酬 (B)雇主要求工作環境安全 (C)失業者去申請職業培訓 (D)雇主要求勞工超時加班。

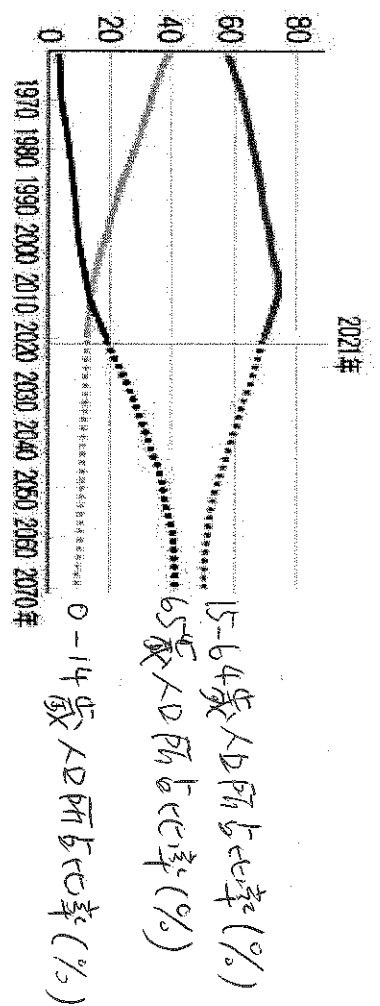
29. ()右圖呈現甲、乙、丙三國的貿易情況。若甲國受匯率變動的影響，使得某段時間的進、出口商品數量皆大幅增加，則根據圖中內容判斷，該段時間甲國貨幣的匯率變化，最可能為下列何者？ (A)相對乙、丙兩國貨幣皆貶值 (B)相對乙、丙兩國貨幣皆升值 (C)相對乙國貨幣貶值，但相對丙國貨幣升值 (D)相對乙國貨幣升值，但相對丙國貨幣貶值



30. ()近年我國基本工資逐漸提高，2024年並已將最低時薪調漲為113元，國民對於市場勞動的價值看法，相較於以往有所提升。根據上述內容判斷，下列推論何者最適切？ (A)勞動部屬於司法院所屬機關 (B)月薪調漲能提升整體經濟價值 (C)民眾在家務分工上獲取其薪資 (D)從報導內容中可見市場勞動的價值常被忽略。

31. ()甲國女性的就業率，長期以來皆大幅低於全國平均值，因此該國政府調查女性勞動人口中未就業者的原因，右表是調查結果中的部分統計資料。關於此資料的解讀，下列何者最適當？ (A)勞雇間的權力與資源不對等 (B)家庭職能因社會變遷而弱化 (C)家庭平權的觀念仍有待加強 (D)老年人口比例呈現上升趨勢。

原因	需照顧未滿12歲子女		需照顧65歲以上家屬		負責打理事務	健康狀況不佳	其他
	30-34	35-39	40-44	45-49			
年齡(歲)	65.37	55.35	35.36	7.05	11.43	2.98	19.33
	0.89	2.60	5.16	8.10	21.39	4.26	16.40
					39.70	7.15	12.63
					58.04	5.50	21.31



32. () 人口推估資料是根據長期人口變動的趨勢，可以做為政府擬定相關政策的參考依據，附圖為我國三階段年齡人口結構圖的資料所示，其中西元 2021 年以後的數據皆為推估值。依據人口變化趨勢將對我國造成什麼影響？ (A) 市場經濟萎縮 (B) 房價居高不下 (C) 缺工問題嚴重 (D) 年齡歧視加劇。

二、題組：

- 小華準備到日本旅行，行前要去銀行兌換外幣，換太少擔心不夠用，換太多又擔心弄丟，現在有一種非常便利的支付方式解決這些問題，帶著手機，嘩一聲就可以直接結帳，金額一目瞭然，就算不懂當地語言也能順利完成，省去不少麻煩。
 出發當天，小華看到機場銀行的牌告日幣匯率是 0.221，他心想：「我的日幣竟然換貴了，早知道就不要太早換」，他決定在日本要以刷卡的方式，多買一些喜歡的日本商品回臺灣……。請依序回答下列問題：
 - 第一段提到的便利支付方式應為下列何者？ (A) 現金支付 (B) 行動支付 (C) 金融卡支付 (D) 提款卡支付。
 - 上文畫線內容的敘述，可以推論出小華買到的台幣的日幣匯率可能是下列何者？ (A) 0.192 (B) 0.205 (C) 0.221 (D) 0.232。
 - 小華到日本購買商品回臺灣，可以用來說明貨幣的哪一項功能？ (A) 交易媒介 (B) 價值衡量 (C) 價值儲存 (D) 債務清償。
 - 台股曾進行勞動現況調查，約有 2 萬名 16 歲的少年有第一份工作，令人吃驚的是，15 歲約有 11% 已進入工地營造業工作，比例高於 16~18 歲的年齡層，顯示少年因經濟需求在找工作時，可能因求職管道與技能不足等複合因素，造成年齡越小越容易落入高風險職場，甚至有惡質的人力派遣仲介，還從中抽傭 30%~60%，也沒有勞健保的保障，此已導致他們成為勞動職場上最危險的一個族群。請回答下列問題：
 - 台少盟的勞動現況調查，主要是鎖定在哪一類的勞動參與上？ (A) 家務勞動 (B) 義務勞動 (C) 市場勞動 (D) 無酬勞動。
 - 從調查報告中發現，15 歲的少年投入勞動，最主要是受哪一項誘因影響？ (A) 獲取收入支付生活開銷 (B) 充實自我內在心靈價值 (C) 想降低國家的失業人口 (D) 探尋職涯的理想與抱負。
 - 針對此份調查結果，政府應加強哪一方面的做法來因應？ (A) 快速核發失業給付維持生活開銷 (B) 健全童工的求職資訊與職業訓練 (C) 有效化解雇傭關係間的勞資爭議 (D) 要求勞方須投入維護安全的环境。
 - 2011 年歐債危機時，瑞郎（即瑞士貨幣）成了歐洲人的避險工具，當時瑞士政府為了穩定匯率，瑞士央行買進大量的歐元和美金等外幣，也因為如此，瑞士成為全球第 5 大的外匯存底國；此外，瑞士央行為防止瑞郎走勢太強，宣布實施匯率底線，限制在 1.20 歐元，使瑞郎匯率和歐元綁一起。2015 年，瑞士央行突然宣布，瑞郎不再與外幣匯率掛勾，瑞士出口業者認為此舉恐怕會重創瑞士出口業。但是，專家對此表示：「為了振興歐洲經濟，歐洲央行將祭出量化寬鬆（即多發行歐元），屆時，瑞士若仍維持與歐元的匯率底線，所要付出的成本將更高，因此脫鈎是必要的決定。」請問：
 - 根據上文中畫雙線部分所述，瑞士央行此舉可直接達到哪一種目的？ (A) 有利該國出口業者 (B) 有利該國進口業者 (C) 有利降低該國物價水準 (D) 有利提高該國薪資。
 - 歐洲央行祭出量化寬鬆後，瑞士若仍維持與歐元的匯率底線，根據上文中專家的說法，為何瑞士所要付出的成本會更高？ (A) 會重創瑞士出口業 (B) 會造成歐元升值，相對瑞郎會貶值 (C) 會造成歐元貶值，相對瑞郎升值 (D) 會造成歐元貶值，連帶使瑞郎貶值。