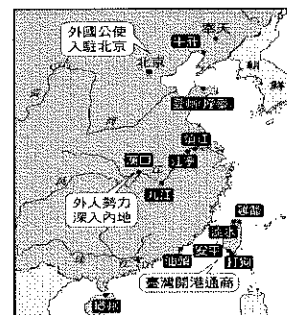
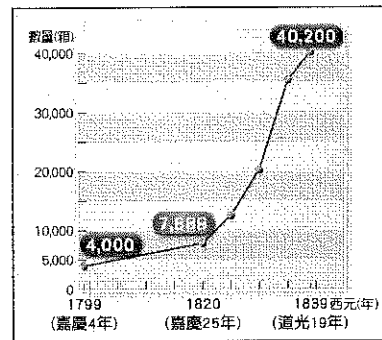


基隆市立武崙國民中學 112 學年度第一學期 八年級歷史科 考試卷

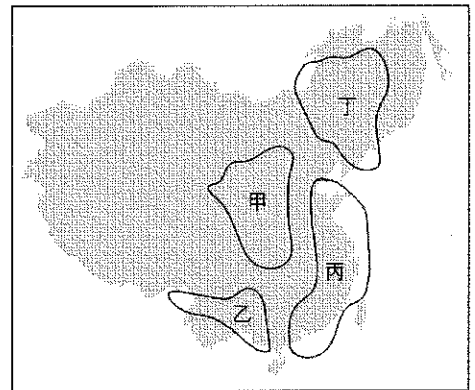
8 年 班 座號： 姓名：

一、選擇 (每題 2 分，共 84 分)


- () 附圖是清末中國進口鴉片的成長曲線圖。請問：清末鴉片進口量之所以快速攀升，與哪一個國家想藉由出售鴉片，以減少對華貿易入超有關？ (A)美國 (B)英國 (C)法國 (D)俄國。
入超(貿易逆差)：進口>出口
- () 明代中期以後，由於新航路的發現，歐洲人東來，清帝國為了管理及防範外國商人，有許多通商限制，下列哪一項並非當時的通商限制？ (A)通商口岸限於廣州一地 (B)外商只能透過公行進行交易 (C)外商不准直接與官方往來 (D)外商若有貿易糾紛，可以透過總理各國事務衙門處理。
- () 雲平在網路讀到一段文字：「隨著午夜鐘聲響起，香港在歷經一百五十多年的殖民統治後，終於在西元 1997 年 6 月 30 日回歸中國。」請問：香港最早割讓給外國與下列哪一個史實的關係最為密切？ (A)鴉片戰爭 (B)英法聯軍 (C)甲午戰爭 (D)八國聯軍。
- () 冠霆在研究清朝某一場戰爭時，在報告中放入了如右圖的形勢圖，從圖中內容判斷，冠霆應是在研究哪一場戰役？
 (A)甲午戰爭 (B)鴉片戰爭
 (C)英法聯軍 (D)清法戰爭。
- () 戊戌變法僅僅推動一百多天便宣告失敗，參與新政的人士不是被逮捕，便是被迫逃往海外。請問：導致新政失敗的最大原因為何？ (A)強調軍事武器的革新不符合實際需求 (B)地方督撫敷衍塞責 (C)外國勢力的干預 (D)慈禧太后發動戊戌政變。
- () 下列為中國歷史上依干支紀年命名的史事；將這些史事按發生的先後順序排列，下列何者正確？ (甲)戊戌變法 (乙)甲午戰爭 (丙)《辛丑和約》 (丁)庚子拳亂(義和團事件)
 (A)甲乙丙丁 (B)乙甲丁丙 (C)丙乙甲丁 (D)丁乙丙甲。
- () 義和團後來受到排外情緒的影響，開始仇殺洋人，當義和團開始從事排外活動時，是以何為號召？ (A)反清復明 (B)扶清滅洋 (C)驅逐韃虜 (D)創建民國。
- () 戊戌變法隨著光緒皇帝被軟禁，康有為、梁啟超逃往國外後，除了京師大學堂之外，新政的內容幾乎停頓。請問：京師大學堂是今天哪一所大學的前身？
 (A)北京大學 (B)交通大學 (C)台灣大學 (D)清華大學。
- () 日治時期，統治者認為纏足、辮髮、吸食鴉片等為臺灣人的三大陋習，於是要求臺人放足斷髮。而在中國，這樣的風氣也在相近的時間點出現。請問：中國放足斷髮情形的開端，應與何者最為相關？
 (A)海禁政策 (B)開港通商 (C)黑船事件 (D)明治維新。
- () 自強運動與戊戌變法皆以失敗作收，導致這兩個運動失敗的主因為何？
 (A)只注重軍事國防 (B)守舊派的反對 (C)外國勢力的反對 (D)在上位者沒有實權
- () 上海外灘目前仍留有哥德式、羅馬式、巴洛克式 等風格各異的西式洋房古蹟，象徵著清末以來上海的特殊地位。上海清末以來成為外國人居住、經商之地，這是由於清末政府與外國有何種協議？ (A)租界 (B)協定關稅 (C)領事裁判權 (D)片面最惠國待遇



12. () 老師在上課的時候提到：「這份條約是近代中國簽訂的第一份不平等條約，清廷在西力的入侵下快速衰敗。然而，就另一個角度來說，這份條約打開了五個通商口岸，這五個城市成為清廷吸收西方文明的重要窗口……。」上述條約指的是下列何者？
 (A)《南京條約》 (B)《北京條約》 (C)《馬關條約》 (D)《辛丑和約》。
13. () 「秋風秋雨愁煞人」，相傳是中國女性參政先聲秋瑾的遺言，生在清末的秋瑾，致力突破傳統對於女性的限制，改變女性在家庭與社會的地位。依她的生平事蹟，她最可能主張下列何者？(A)在家從父、出嫁從夫、夫死從子 (B)上學堂，接受新式教育的薰陶 (C)二至三歲時，便開始裹小腳 (D)家貧女子只有當童養媳的宿命。
14. () 一則資料中提到：「上海自風行報紙後，以各報出版皆在清晨，故破曉後，賣報者群集於報館之門，爭先恐後，擁擠特甚，甚有門尚未啟，而賣報人已在外守候者，足證各報銷暢之廣。」下列何者即當時較具代表性的報刊？
 (A)美麗島雜誌 (B)萬國公報 (C)臺灣青年 (D)自由中國
15. () 清末百姓抱怨：「為什麼外國人在中國犯法，卻不必在中國衙門受審？」這段對話是清廷簽訂不平等條約後，喪失哪一種權利的情況？
 (A)領事裁判權 (B)協定關稅 (C)通商口岸設廠 (D)租界。
16. () 清末的上海是具代表性的新興城市，下列哪些事物是清末在上海會出現的新式設備？
 (甲)自來水 (乙)電燈 (丙)電腦 (丁)電話 (戊)電車
 (A)甲乙丙丁 (B)乙丙丁戊 (C)乙丙丁戊 (D)甲乙丁戊。
17. () 一份報紙斗大的標題寫道：「洋人的世界末日……在民眾日漸升高的仇洋情緒中，各地都有燒教堂、殺洋人，並到處毀壞鐵路及電線桿等洋物的現象，北京城籠罩在恐怖的殺戮氣氛中……。」報紙描述的應該是哪一個事件？
 (A)英法聯軍 (B)八國聯軍 (C)甲午戰爭 (D)義和團事件。
18. () 光緒 21 年，康有為與其他舉人共一千餘人聯合上書光緒皇帝，要求「拒和、遷都、再戰、變法」。請問：這是當時的知識分子對下列哪個條約的憤怒所致？ (A)《南京條約》 (B)《北京條約》 (C)《馬關條約》 (D)《辛丑和約》。
19. () 當時廣州有十三家最具盛名的行商集團，稱為「十三行」。他們早期的貿易對象，有荷蘭、英國等歐洲國家。十三行受到政府嚴格限制，例如：外商與中國官府交涉，必須由十三行作中介，外商不得在廣東過冬，外國婦人不得來廣州等。請問：這種情形最可能發生在何時？ (A)唐代 (B)宋代 (C)明代 (D)清代。
20. () 道光年間爆發的鴉片戰爭，致使建立近兩百年的大清王朝，遭遇到過去未曾面對的嚴重主權挑戰，並成為清朝衰弱的序曲。請問：清朝在鴉片戰爭後，主權的喪失最先由附圖中哪一個地區開始？ (A)甲 (B)乙 (C)丙 (D)丁。



24. () 清末人士張謇曾在日俄戰爭後激動地說：「日本的勝利和俄國的失敗，是□□□□的勝利和專制主義的失敗。」□□□□所指的是下列何者？ (A)共產主義 (B)立憲主義 (C)社會主義 (D)三民主義。
25. () 子芸談論清末立憲運動失敗的原因時說道：「清朝政府根本是在敷衍、缺乏改革的誠意，與其寄望清朝政府改革，不如支持革命運動來得有成效。」請問：子芸為什麼說清朝政府缺乏改革誠意？ (A)改革準備時間過短，未有妥善規畫 (B)推動者理想太崇高，無法實現 (C)「皇族內閣」的出現 (D)保守反對勢力過大。
26. () 中國自唐宋時期海上貿易以來，皆開放港口進行貿易。明清以後因為「海禁政策」的推動，讓中國在海外貿易的政策與唐宋時期不同。隨著歐洲新航路的發現，歐洲對亞洲的貿易需求度提高，卻碰上中國政府對通商口岸的限縮。請問：中國的哪一個港口，從唐宋以來便開放，至清乾隆年間成為中國僅剩的對外通商口岸？ (A)廣州 (B)寧波 (C)上海 (D)泉州。
27. () 《漫畫中國史》中出現如附圖的漫畫，畫中描繪某場會議的進行。請從圖中內容判斷，這場會議的召開與哪場戰爭有關？ (A)英法聯軍 (B)八國聯軍 (C)甲午戰爭 (D)日俄戰爭。
28. () 《接續上題》，這場戰爭的爆發和那裡有關？ (A)朝鮮 (B)台灣 (C)琉球 (D)東北。
29. () 「……數十年之後，中原幾無可以禦敵之兵，且無可充餉之銀。」以上諫言是分析鴉片流通後的可怕後果，此諫言使皇帝下令銷煙，卻也引發了鴉片戰爭。請問：當時提出此諫言的應該是何人？ (A)林則徐 (B)康有為 (C)曾國藩 (D)李鴻章。
30. () 自強運動前，因中國一向不承認其他國家與中國平等的關係，故清朝並沒有正式的外交機構。咸豐 10 年，清朝設立了什麼機構來統籌外交事務？ (A)公行 (B)洋行 (C)市舶司 (D)總理各國事務衙門。
31. () 睿言報名參加一場學術研討會，相關主題如右表所示，由表中內容判斷，此次研討會的主題最可能為下列何者？ (A)英法聯軍的過程與影響 (B)甲午戰爭的過程與影響 (C)西化思想與自強運動 (D)鴉片戰爭對中國的影響。
32. () 承穎對一事情發表評論說道：「政策的推動太多太急，加上人事未有良好的配合，朝中新舊派系衝突激烈，當政者又未握有實權，以上種種都導致此活動無法成功，但仍舊喚起了清末知識分子對國家危亡的使命感。」請問：承穎評論的應該是何事？ (A)自強運動 (B)百日維新 (C)庚子後新政 (D)立憲運動。
33. () 清末曾推行「自強運動」與「戊戌變法」應付時勢的巨變。關於這兩者的比較，下列哪項敘述不符合史實？ (A)前者因英法聯軍而起，後者因《馬關條約》而起 (B)前者是咸豐皇帝時期；後者是光緒皇帝主導 (C)前者重要大臣為李鴻章，後者則是康有為 (D)兩者都是偏重器物層面的改革。
34. () 17 世紀前期，日本限制西方傳教、通商，長期封閉鎖國，直至何時才開港通商？ (A)17 世紀後期 (B)18 世紀 (C)19 世紀 (D)20 世紀
35. () 上海益明書局出版的《求婚尺牘》收錄了百餘篇求婚情書，也有「求婚廣告」、「徵婚啟事」，以下有一則徵婚啟事：
請問：這種婚姻觀念乃是受到何因素影響？ (A)清廷下令「一夫一妻制」 (B)開港通商後新思想傳入 (C)傳統儒家思想的影響 (D)耶穌會傳教士來華宣導。



時間	主題
9:10 ~ 10:00	光緒 20 年 朝鮮內部動亂
10:10 ~ 11:00	弱肉強食的 占領風潮
11:10 ~ 12:00	中國民生工業 的發展

- 一，女子須不纏足；
- 二，須識字；
- 三，男子不娶妾；
- 四，男死後，女可再嫁；
- 五，夫婦不相合，可離婚。

36. () 附表是西元 1840~1913 年間，外國在中國設廠的數量和資本額情況。其中某一時期的數字呈現大幅度的成長，這應與下列哪一件史實的關係最密切？
 (A)英法聯軍戰敗北京失守 (B)甲午戰後簽訂馬關條約 (C)列強在華畫分勢力範圍 (D)維新變法引進外國資本。

時期 (西元)	設立工廠 家數	設立時的資本額 (千元)
1840~1870	7	2,802
1870~1894	16	4,829
1894~1913	136	103,153

37. () 以下是清末兩位官員針對某一場戰爭結束後的一段對話。
 甲：這場戰爭竟然戰場在我們的土地，造成我國人民無辜傷亡！
 乙：總歸一句話是我們太弱，我大清如果想改變國勢，只有實施立憲，此外別無他法了！
 請問：官員所談的是哪一場戰爭？ (A)英法戰爭 (B)八國聯軍 (C)日俄戰爭 (D)第一次世界大戰
38. () 有兩位知識分子，正在討論最近清政府所公布的詔令：智駒：我辛苦寒窗苦讀十年，為了科考一舉成名，光耀門楣，如今一切成了泡影。澤安：政府廢除科舉考試，等於是斷了我們的出路，我們以後該何去何從呢？請問：根據這兩位知識分子的談話內容可知，當時政府在推動哪項改革？ (A)自強運動 (B)戊戌變法 (C)立憲運動 (D)庚子後新政
39. () 歷史老師上課時說道：「中國簽訂了這個條約內容以後，若將來有其他國家與中國簽訂不平等條約，英國都能因此援例同享了。喪失權利給一個國家便等於喪失給所有簽訂此條款的國家，對中國的危害不小呢！」請問：這是指外國取得什麼權利？
 (A)片面最惠國待遇 (B)協定關稅 (C)領事裁判權 (D)租界使用權
40. () 小美翻閱清代某租界發行的報刊，發現以下的文字：「去叫『谷』(go)，是叫『也司』(yes)，勿叫『諾』(no)，如此如此(so and so)，請儂坐叫『雪堂雪堂』(sit down)，烘洋山芋叫『撲鐵禿』(potato)，爹叫『發茶』(father)，娘叫『賣茶』(mother)」請問：這種怪里怪氣的英文，應該是源自於中國哪個城市的產物？
 (A)北京 (B)上海 (C)台中 (D)哈爾濱。
41. () 自強運動時期，推動最早公費留學教育，是到哪一國家？
 (A)美國 (B)英國 (C)德國 (D)日本。
42. () 慈禧太后是影響滿清歷史最後 50 年的重要人物，她為挽回與拉攏人心所推動的改革？
 (A) 戊戌變法 (B)自強運動 (C) 庚子後新政 (D) 立憲運動

二、題組(每題 2 分，共 16 分)

★自歐洲發現新航路以來，中國開始面臨外患的威脅，但中國還是自認是世界的中心，將來華交涉的國家視為蠻夷之邦，因此，對於通商貿易並不重視，引發中外對於外交與貿易上的觀念歧異。請回答下列問題：

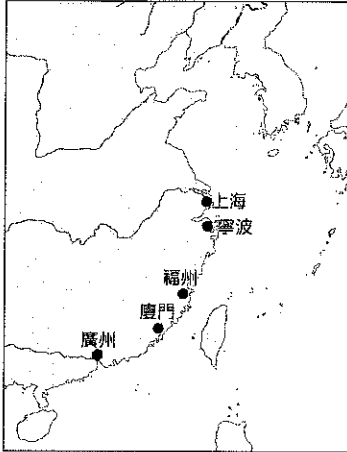
43. () 中國並不重視對外的通商，因此常將通商視為是可有可無的事情，當時中國是進行何種貿易？ (A)平等貿易 (B)互利貿易 (C)關稅貿易 (D)朝貢貿易。
44. () 為了改善與中國的通商關係，英國曾經在哪一皇帝壽誕時派遣馬加爾尼使節團來華祝壽？
 (A)康熙 (B)雍正 (C)乾隆 (D)嘉慶。
45. () 承上題，這個使節團最後無功而返，其任務失敗的原因為下列何者？
 (A)朝貢禮品 (B)通商口岸 (C)傳教範圍 (D)跪拜禮儀

《下一頁還有試題，請繼續作答》

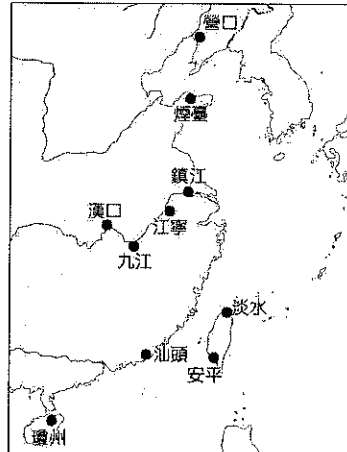
★康熙年間將台灣納入清朝版圖，台灣成為清朝海外的一個省份，自此和滿清政權息息相關。
19世紀後期，歐美列強對清末一連串的戰爭，也影響孤懸海外的台灣歷史發展。請問：

46. () 台灣開港通商，這是哪場戰爭的影響？
(A)鴉片戰爭 (B)英法聯軍 (C)甲午戰爭 (D)八國聯軍。
47. () 台灣設省，劉銘傳成為第一任巡撫，這是哪場戰爭的影響？
(A)清法戰爭 (B)英法聯軍 (C)甲午戰爭 (D)日俄戰爭。
48. () 台灣成立《台灣民主國》，推舉唐景崧為總統，這是哪場戰爭的影響？
(A)清法戰爭 (B)英法聯軍 (C)甲午戰爭 (D)八國聯軍。

★附圖是清末以來的對外開放港口的變化狀況，請依序回答下列各題：



(圖一)



(圖二)

49. () 由(圖一)演變至(圖二)時，和哪一場戰役有關？
(A)鴉片戰爭 (B)英法聯軍 (C)甲午戰爭 (D)八國聯軍。
50. () 由(圖一)演變至(圖二)時，下列哪項論述最符合當時的政治發展？
(A)列強勢力深入中國內陸 (B)中國與列強開始合作 (C)列強開始敦促中國變法
(D)列強強迫租借台灣。

《試題作答完畢，請再詳細檢查》