

# 基隆市立武崙國民中學112學年度第一學期八年級地理科第三次定期評量

## 注意事項：

1. 本份試卷共兩大題。第一大題為單選題，共90分；第二大題為非選擇題，共10分。總分100分。
2. 答案卡限用2B鉛筆畫記，若畫記錯誤，請擦拭乾淨。分數以電腦讀卡分數為準。
3. 答案卡及答案卷上的資料欄請確實填寫，若資料欄未填寫或未畫記或畫記錯誤導致電腦無法正確判讀，扣總分10分。

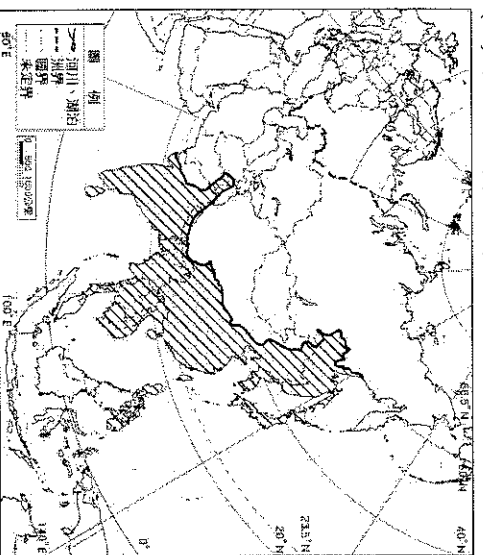
班級：八年\_\_\_\_班/座號：\_\_\_\_/姓名：\_\_\_\_\_

## ◆第一大題：單選題，每題2分

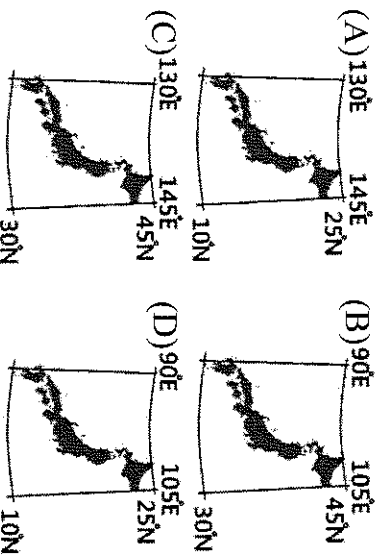
- ( ) 1. 依據2004年的資料，南韓的平均國民所得為14,162美元，與北韓的平均國民所得914美元有很大的差距。小賴想用不同因素來解釋南、北韓的經濟發展差異，如附表所示，其中哪一個因素無法解釋上述差異？(A)氣候條件 (B)礦產資源 (C)經濟制度 (D)貿易總值。

因素	南韓	北韓
氣候條件	生長季長	生長季短
礦產資源	少	多
經濟制度	偏市場經濟	偏計畫經濟
貿易總值	高	低

- ( ) 2. 附圖中斜線區塊為某種氣候的主要分布區，關於該氣候分布地區的地理特色，下列敘述何者正確？(A)主要分布於西亞、東北亞、東南亞 (B)以小麥、玉米為主食 (C)冬夏季風向相反 (D)中國全境皆屬於該氣候分布區。



- ( ) 3. 日本整體的冬季平均溫度約在0度上下，時差部分則是比臺灣快了1小時。由此可知日本的經緯度應為下列何者？

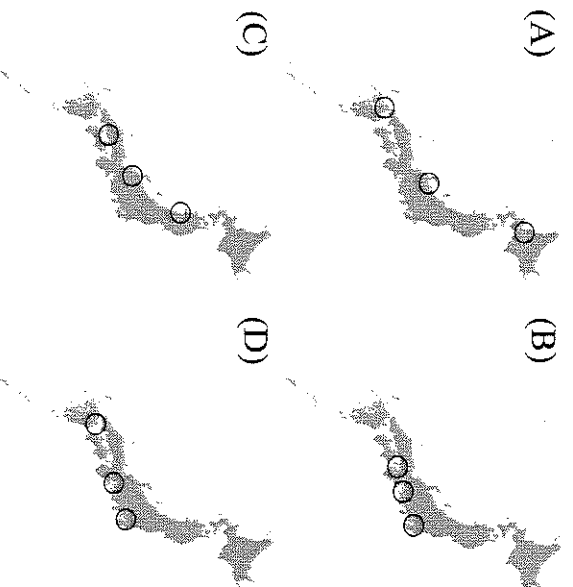


- ( ) 4. 導遊向遊客介紹某國：「它位於朝鮮半島，其娛樂產業蓬勃發展，電影、電視劇、偶像團體在各國熱賣，吸引許多外國觀光客來影劇拍攝場景朝聖。」導遊敘述的國家為下列何者？(A)北韓 (B)日本 (C)中國 (D)南韓。

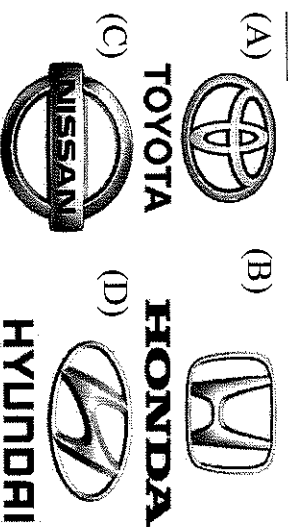
- ( ) 5. 日本工業區多分布於沿海地區，這受到下列哪些因素的影響最大？(甲)缺乏原料(乙)技術進步(丙)出口為主(丁)勞力不足  
(A)甲乙 (B)甲丙 (C)甲丁 (D)丙丁。

- ( ) 6. 西元2018年，北韓領導人金正恩與南韓前總統文在寅站在分隔南、北韓的非軍事區上，相互握手，並發表聯合聲明、簽署和平條約，終結韓戰以來的朝鮮半島敵對狀態。上述這歷史性的一刻最可能是在下列哪一個地點發生？  
(A)首爾 (B)平壤 (C)板門店 (D)釜山。

- ( ) 7. 受板塊擠壓與河流走向影響，日本主要平原的分布與下列哪一張圖最為接近？



- ( ) 8. 日本是世界三大汽車生產國之一，多次稱霸汽車集團全球銷售排行榜。日本的汽車產業是帶動其他製造業的關鍵產業，請問：下列何者不是日系汽車品牌？



- ( ) 9. 隨著薪資高漲及人口老化，日本為降低生產成本，將部分產業移至下列哪些工資較低廉的國家？(A)中國、東南亞 (B)南韓、東南亞 (C)中國、南韓 (D)中國、印度。

- ( ) 10. 富士山被日本人視為聖山，山形高大，為完整壯觀的火山地形。請問：該國多火山的主要原因為何？(A)位板塊接觸帶 (B)緯度低氣溫高 (C)沿海暖流經過 (D)島嶼面積狹長。

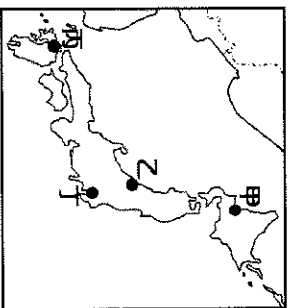
- ( ) 11. 「該地區四面環海，沿岸的黑潮與親潮洋流相會形成溼潤氣候；山脈眾多，河川短小流急，利於水力發電；自古漁業發達，港灣眾多利於出海捕魚。」請問：上述指的是下列哪一個國家的地理特徵？(A)南韓 (B)北韓 (C)臺灣 (D)日本。
- ( ) 12. 日本每年夏天常會遇到來自太平洋地區的何種天災，造成民眾生命財產的巨大損失？(A)焚風 (B)龍捲風 (C)颱風 (D)海嘯。
- ( ) 13. 北韓糧食不足，因此饑荒問題較為嚴重。請問：該國農業發展的不利條件中不包括下列何者？(A)地勢較高 (B)生長季短 (C)氣候寒冷 (D)水患頻繁。

- ( ) 14. 小堯看了紀錄片《灣生回家》，「灣生」是指日治時期在臺灣出生的日本人，他們在日本戰敗投降後引揚返日。請問：這些灣生若從花蓮港搭船北返日本，船隻在下列哪一股洋流引領下很快就可抵達目的地？(A)黑潮 (B)祕魯涼流 (C)親潮 (D)中國沿岸流。

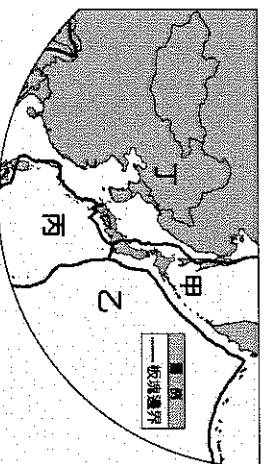
- ( ) 15. 位在朝鮮半島北部的北韓，糧食作物一年僅一穫，而位在南部的南韓，一年可達兩穫。請問這樣的差異和當地哪一項條件有密切關係？(A)緯度高低差異 (B)海陸位置差異 (C)政治制度不同 (D)季風風向不同。

- ( ) 16. 傳統的韓屋為因應冬季寒冷，在地板下多設有取暖設施「溫突」，請問：在中國哪一個地形區也可能出現類似的建築設計？(A)黃土高原 (B)珠江三角洲 (C)四川盆地 (D)長江中下游平原。

- ( ) 17. 新潟市位於本州島，受冬季季風帶來海洋水氣的影響，嚴寒與暴雪讓此地積雪量甚多，因而有「雪國」之稱。請問：新潟市最有可能位於附圖何處？(A)甲 (B)乙 (C)丙 (D)丁。



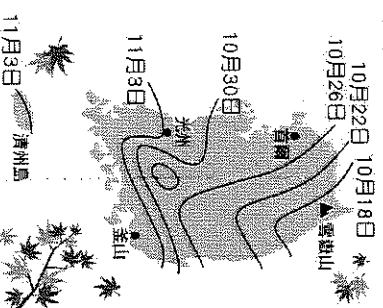
- ( ) 18. 位於日本九州的阿蘇山纜車，因當地的火山活動頻繁，造成纜車停止營運，最後在2019年拆除。造成上述火山活動的菲律賓板塊應位於圖中何處？(A)甲 (B)乙 (C)丙 (D)丁。



- ( ) 19. 日本傳統的民間習俗在每年夏季男孩節時，都會掛上斗大的鯉魚旗，此時鯉魚旗多飄向下列哪一個方向？(A)東北方 (B)東南方 (C)西北方 (D)西南方。

- ( ) 20. 日本皇族在春天賞櫻的「花見」傳統流傳至民間，每逢春季各地總是紛紛舉辦櫻花祭。若根據日本氣象廳所發布的賞櫻前線日期判斷，四大島中哪一個地區的櫻花季舉辦時間較早？(A)北海道 (B)本州 (C)九州 (D)四國。

- ( ) 21. 新聞報導：「南韓○○預測已經出爐！從圖中可以看到，今年南韓第一波○○將落在10月18日，由雪嶽山開始，從這之後將以每日往南20至25公里的速度，遍及至南韓各地。」根據上述報導內容，○○應為下列何者？(A)初雪 (B)初楓 (C)初櫻 (D)初稻。



- ( ) 22. 朝鮮半島上的南、北韓，有許多相似、相異之處。請問：下列敘述何者正確？(A)南、北韓傳統住家會設置溫突 (B)北韓主食是小麥、南韓是稻米 (C)北韓多吃泡菜、南韓多吃生魚片 (D)北韓在內陸地區、南韓三面環海。

- ( ) 23. 東北亞包含南、北韓和日本三國，這三國在地理環境方面的共同點為下列何者？(A)皆為群島國 (B)皆屬溫帶季風氣候 (C)皆與中國接壤 (D)皆位於環太平洋火山地震帶。

- ( ) 24. 傳統上日本人吃米飯壽司，而中國華北的居民吃饅頭麵條。兩地緯度相近，主要的糧食作物卻不相同，這種差異與下列哪一要素關係最密切？(A)氣溫 (B)降水量 (C)地形 (D)人口。

- ( ) 25. 日本經濟發達，為世界重要的工業國家。請問：下列有關該國的敘述，哪些正確？(甲)豐富的礦產資源(乙)便利的交通航運(丙)繁盛的貿易活動(丁)廣闊的平原地形 (A)甲乙 (B)甲丁 (C)乙丙 (D)丙丁。

- ( ) 26. 根據日本的統計資料，日本勞工的平均月薪約為5,000美金，超過臺灣的1,250美金。請問：日本企業目前多採取何種經營方式以維持市場上的競爭力？(A)跨國企業結構 (B)引進優質勞工 (C)降低環保標準 (D)加入歐盟市場。


- ( ) 27. 北韓實施共產主義，較不重視民生工業，加上發展核武受到歐美國家經濟制裁，許多日常生活用品須從哪一個國家進口？(A)日本 (B)南韓 (C)中國 (D)越南。

- ( ) 28. 附圖是日本的蛋包飯及日文發音，由圖可見日本文化具有何種特色？(A)單一性 (B)多元性 (C)傳統性 (D)專業性。

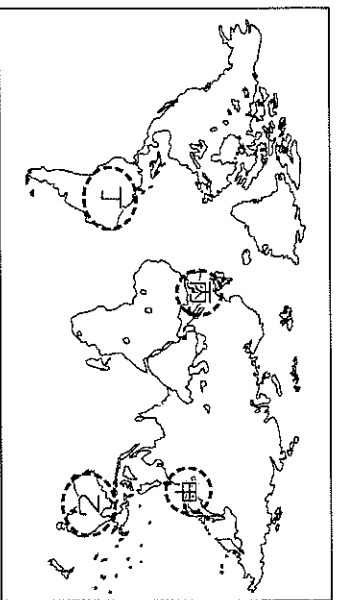


- ( ) 29. 請問下列何者不是日本、南韓皆具有的經濟發展特色？(A)原料多需仰賴進口 (B)產品多以外銷世界為主 (C)出口汽車、高科技產品等高單價物品為主 (D)兩國人口眾多，現在以「世界市場」聞名。
- ( ) 30. SK集團於1953年正式接管解京織物，逐漸成為南韓紡織業的領導企業，開始向國際市場出口纖維產品。1973年SK集團配合南韓政府的經濟開發計畫，成立石油公司。1988年SK集團推出手機業務服務，以分散其在能源、化工領域大規模投資的產業風險。請從上述SK集團的發展歷程，選出相對應的經濟發展階段為何？  
 (A)高科技工業、重工業、輕工業  
 (B)輕工業、重工業、高科技工業  
 (C)重工業、高科技工業、輕工業  
 (D)輕工業、高科技工業、重工業。

- ( ) 31. 日本為亞洲主要的經濟強國，國際貿易為該國的經濟命脈。附圖為某年日本對鄰近國家和世界主要地區的貿易額，請根據該圖判斷，該年度日本和哪一個國家的貿易總額最高？  
 (A)美國 (B)印尼 (C)中國 (D)南韓。



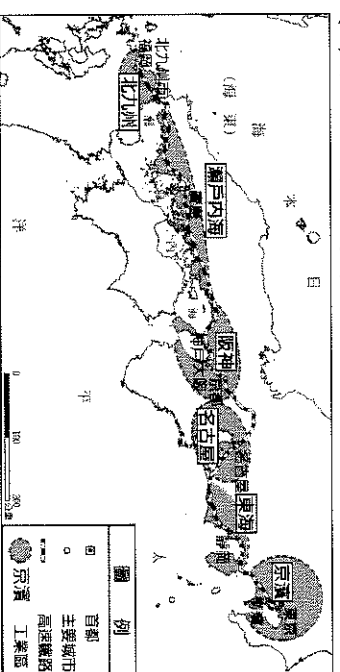
- ( ) 32. 受到新冠肺炎疫情影響，原定於2020年舉辦的東京奧運延至2021年，對日本國外遊客人次每年高達3千萬人次以上的觀光業造成重創。請問：日本遊客來源以附圖哪一地區為主？  
 (A)甲 (B)乙 (C)丙 (D)丁。



- ( ) 33. 2021年8月據傳南韓政府可能特赦因前總統朴槿惠的行賄案與詐欺案入獄服刑的三星集團會長李在鎔，出乎意料，民調顯示反對特赦者

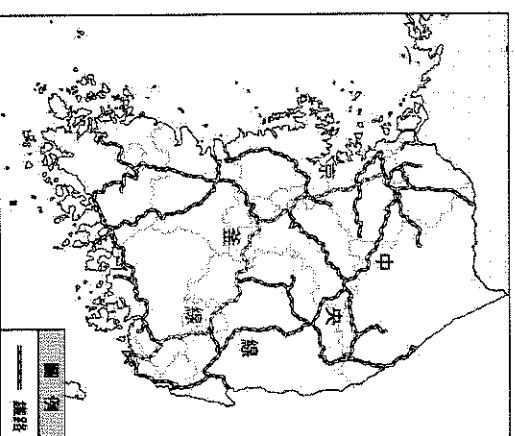
只占27%。出現此種民意與南韓哪一種背景有關？(A)北韓核武威脅局勢緊張 (B)國家經濟由大財閥支撐 (C)南韓為獨裁共產國家 (D)民眾信奉儒家寬以待人。

- ( ) 34. 日本工業區分布的特點有所謂的「三灣一海」。「三灣」是分別位在東京、名古屋、大阪的港灣；「一海」則為瀨戶內海。附圖是日本主要工業區分布圖，根據附圖判斷，日本工業區主要分布在哪兩個島上？(A)北海道、本州 (B)本州、四國 (C)四國、九州 (D)九州、本州。



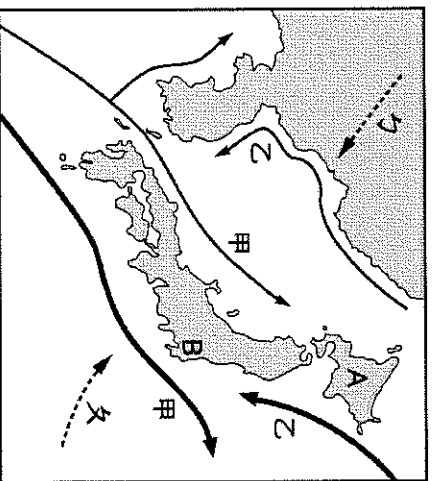
- ( ) 35. 承上題，圖中的工業區多集中在沿海地區，可能與哪項因素有關？(A)能源和原料多依賴國內生產 (B)沿岸地區礦產多，為工業重鎮 (C)依靠廉價勞力的優勢從事國際代工 (D)國內市場不足，需依靠輸出賺取外匯。

※京釜線與中央線是南韓兩條重要的縱貫鐵路，其中京釜線建設較早，是連結朝鮮半島政治中心與重要港口的路線，而中央線則是日本殖民朝鮮時期建設，希望在戰爭時作為京釜線的替代縱貫路線。附圖是南韓鐵路分布圖，請觀察附圖，回答以下問題：



- ( ) 36. 圖中南韓鐵路在西北部分布較密集，該處鄰近南韓的哪座重要都市？當地鐵路較密集的原因為何？(A)首爾；礦產豐富，需要鐵路運送 (B)首爾；人口集中且為政治經濟中心 (C)釜山；便於運送原物料到殖民母國 (D)釜山；鄰近中國，利於將商品出口
- ( ) 37. 日本殖民朝鮮時期，建設多條鐵路運輸物資，以增進殖民母國的利益。請問：當時同為日本殖民地的臺灣，也興建了下列哪項交通設施？  
 (A)臺北捷運 (B)高速鐵路 (C)中山高速公路 (D)縱貫鐵路。

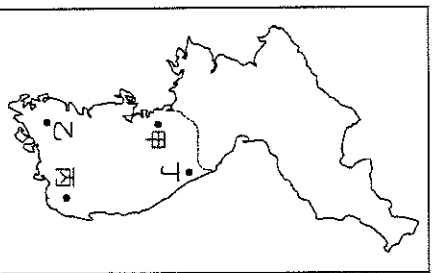
※附圖為東北亞的季風、洋流分布圖。請問：



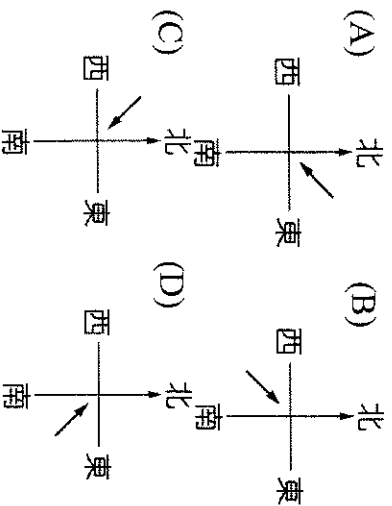
- ( ) 38. 日本近海漁獲量可觀，此一地理事實和哪二項因素關係最密切？(A)甲、乙 (B)乙、丙  
(C)甲、丙 (D)甲、丁。
- ( ) 39. 「A」是日本最佳賞雪、滑雪的地點，當地冬季凝結降雪的水氣大多源自於哪個海域？  
(A)黃海 (B)南海 (C)太平洋 (D)日本海。
- ( ) 40. 「甲」流經日本，對當地氣候的影響最主要為下列何者？(A)溫暖乾燥 (B)溫暖潮溼  
(C)寒冷乾燥 (D)寒冷潮溼。

※近年來全球氣候經常出現異常，在亞洲地區也不例外，包括中國、日本、南韓等都遭受到歷年少見的暴風雪侵襲！根據南韓氣象廳報導，南韓連日降下大雪，目前積雪量超過一米。造成一百多所中、小學臨時停課，山區的交通狀況欠佳，許多山間村莊的村民已陷入危急的孤立狀態。請問：

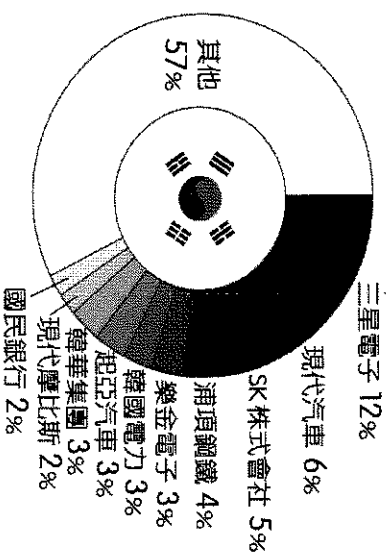
- ( ) 41. 上文中提及的暴雪分布地區主要位於山區，若利用地理資訊系統繪出相關分布圖，主要位於附圖中何處？(A)甲 (B)乙 (C)丙 (D)丁。



- ( ) 42. 救難隊前往當地進行救援時，遭遇強風夾帶大雪，請問其主要風向為何？

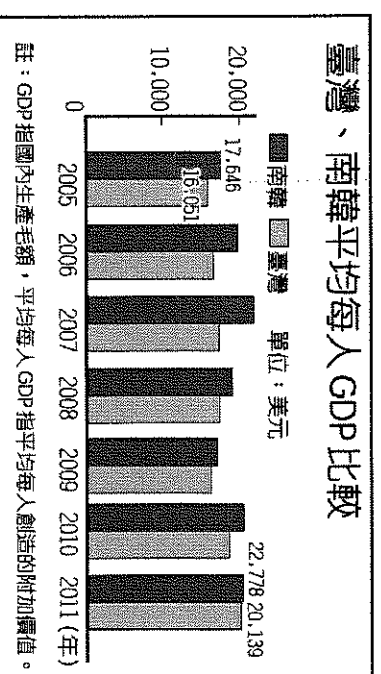


※第二次世界大戰後，西方國家的產業外移，亞洲國家開始現代化的工業發展。繼日本之後，1970年代被稱為亞洲四小龍之一的南韓經濟發展相當快速，到了21世紀已成為世界重要的貿易國家。附圖為2020年南韓前十大企業營收占南韓GDP的比例圖，請問：



- ( ) 43. 1960年代南韓和臺灣同列為亞洲四小龍之一，發展初期多以何種類型的產業活動為主？  
(A)加工出口業 (B)汽車產業 (C)資訊工業  
(D)鋼鐵工業。

- ( ) 44. 附圖為臺灣和南韓的經濟指標比較圖，可以發現兩者差異不大。請問：目前臺灣和南韓在哪一項重點產業的競爭最為激烈？(A)鋼鐵工業  
(B)汽車產業 (C)電子產業 (D)紡織工業。



- ( ) 45. 南韓的企業規模受到政策影響，依附圖判斷，南韓的經濟政策特色，其隱憂可能為下列何者？(A)生產規模小故成本高 (B)缺乏國際競爭力 (C)未來勞動力逐漸短缺 (D)經濟集中少數企業。

基隆市立武崙國民中學 112 學年度第一學期八年級地理科第三次定期評量答案卷

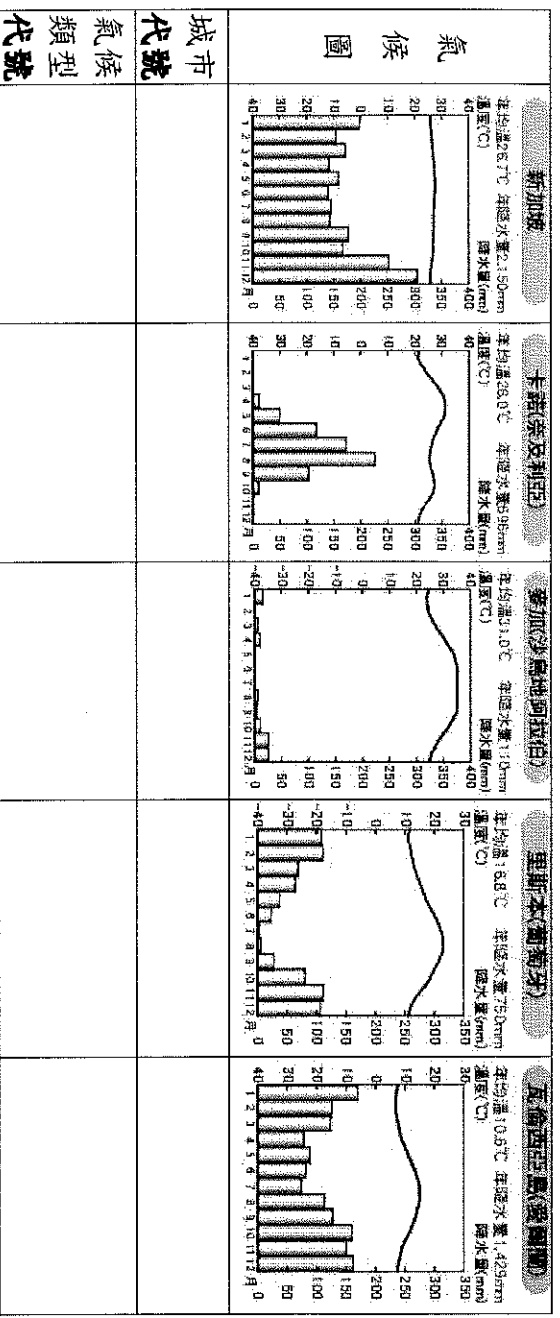
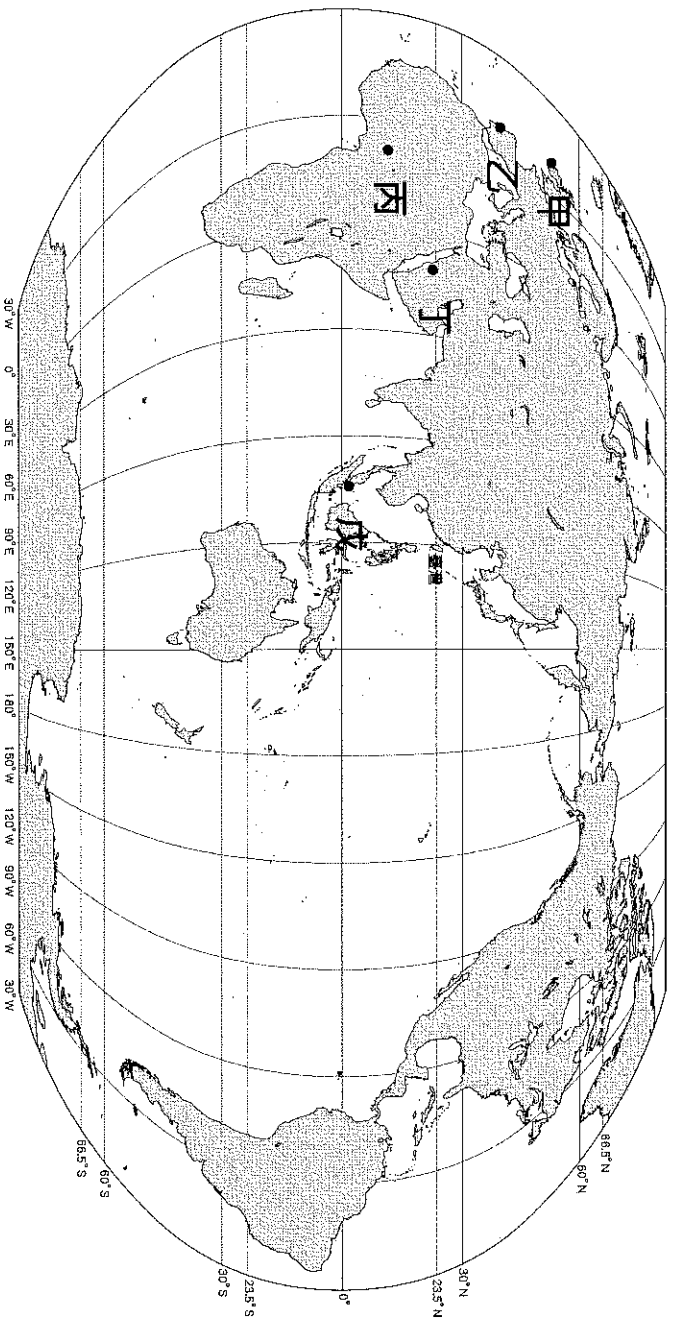
八年 \_\_\_\_\_ 班座號： \_\_\_\_\_

姓名： \_\_\_\_\_

單選題得分	非選擇題得分	總分

◆第二大題：非選擇題，每格 1 分（請以黑色或藍色原子筆書寫，違者不予計分）

※影響氣候的因素有緯度、地形、洋流、距海遠近及風向，請依下列氣候圖配對其所屬城市（甲～戊）及其對應的氣候類型（A～K）。



城市代號	氣候類型	氣候代號	
A	熱帶雨林氣候	B	熱帶莽原氣候
E	溫帶海洋性氣候	F	溫帶大陸性氣候
I	溫帶沙漠氣候	J	極地氣候
		K	副極地氣候
		C	熱帶沙漠氣候
		D	熱帶季風氣候
		H	溫帶季風氣候

氣候類型選項：