

基隆市立武崙國民中學 112 學年度七年級第一學期第三次段考歷史科試題

選擇題：一題 2 分，共 100 分

請將該題的正確答案在答案卡上塗黑、塗滿

1. 佳華整理家中舊書時，發現書架上有本舊書《佳里鎮有應公採訪錄》。請問：這本書紀錄的內容主要是下列何者？

- (A) 偷渡來臺的漢人 (B) 未出嫁而死亡的女性 (C) 反擊法國的清兵 (D) 無主的孤魂。

2. 阿德利用暑假到臺南府城觀光，發現許多米郊、糖郊之類的木區。請問：區別米郊、糖郊的標準為何？

- (A) 貿易的商品 (B) 貿易的地點 (C) 貿易商的祖籍 (D) 貿易的港口。

3. 李耀祖於乾隆年間舉家從泉州來到臺南居住。請問：下列何者為他們所祭拜的原鄉神明？

- (A) 唐山祖 (B) 三山國王 (C) 開漳聖王 (D) 清水祖師。

4. 清帝國早期，臺灣與中國大陸之間有密切的貿易關係，臺灣海峽兩岸的對渡情況日益興盛。請問：當時與臺灣對渡的港口多位於中國哪一省？

- (A) 山東省 (B) 福建省 (C) 江蘇省 (D) 廣東省。

5. 「由鳳山知縣曹謹以官方力量開鑿，引高屏溪河水灌溉農田，是當時南部地區最重要的水利設施。」請問：這是哪一個水利設施？

- (A) 瑠公圳 (B) 曹公圳 (C) 八堡圳 (D) 貓霧揀圳。

6. 清廷將臺灣納入版圖之後，對臺灣並無前瞻性的規畫，只是擔心臺灣再次成為反清復明的基地，遂訂定各種禁令加以限制，其中以「渡臺禁令」影響尤為深遠。請問：下列何者「不是」其對臺灣社會的影響？

- (A) 「有唐山公、無唐山媽」之社會現象 (B) 客家人數量多於閩南人
(C) 分類械鬥與民變頻繁發生 (D) 大量漢人以偷渡的方式來台開墾。

7. 臺灣開港通商後，西方傳教士紛紛來臺推廣基督教，為了深入人群，他們往往藉由哪種方式來推廣傳教事業？

- (A) 經濟援助低收入戶 (B) 傳播科學新知 (C) 醫療及教育 (D) 提供休閒娛樂。

8. 「六死三留一回頭」這句話意謂著移民來臺的艱險，十人之中有六個死亡，三個能到達，一個回頭。請問：清帝國早期，從中國大陸冒險渡海來臺的移民以哪兩個省籍人士最多？

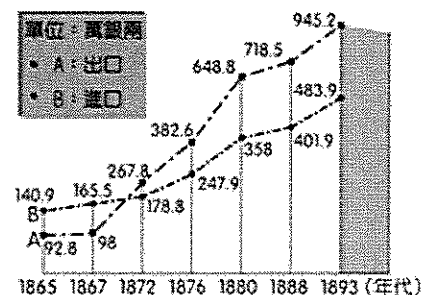
- (A) 廣東、海南 (B) 福建、浙江 (C) 福建、廣東 (D) 廣東、浙江。

9. 小鈺在書上所看到的一段話如下：「無田宅、無妻子、不士不農、不工不賈、嫖賭摸竊、械鬥樹旗，靡所不為。單身遊食四方，隨處結黨，且衫褲不全，赤腳終生。」請問：這是描述清帝國早期下列何者的生活寫照？

- (A) 羅漢腳 (B) 讀書人 (C) 傳教士 (D) 原住民。

10. 右圖是某時期臺灣貿易進出口值統計圖表，當時臺灣的茶、糖、樟腦成為貿易輸出的主要物品，且臺灣是國際經濟體系中的一環。請問：造成附圖中這段時期臺灣貿易轉為出超的主要原因為何？

- (A) 臺灣建省後，經濟發展蒸蒸日上 (B) 劉銘傳整頓財政
(C) 臺灣正式開港通商 (D) 臺灣產物被迫全部運往中國。



11. 有一首詩：「勸君切莫過臺灣，臺灣恰似鬼門關，千個人去無人轉，知生知死都是難。」這是清末詩人所做的長詩《渡臺悲歌》，詩中說明了要渡過黑水溝的艱難，也點明當時移民者離鄉背井的無奈。請問：上文中的黑水溝是指下列何者？

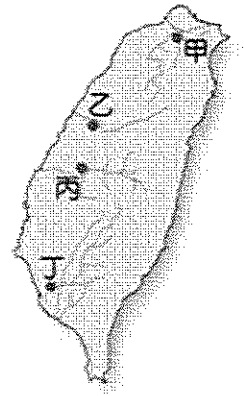
- (A) 臺灣海峽 (B) 南海 (C) 巴士海峽 (D) 太平洋。

12. 臺灣開港後，經由淡水出口的主要商品為何？

- (A) 茶、蔗糖 (B) 茶、稻米 (C) 稻米、樟腦 (D) 茶、樟腦。

13. 清帝國統治時期，臺灣民變與械鬥迭起，社會動盪不安。當時械鬥頻傳，其主要原因最可能為下列何者？

- (A) 外國商人壟斷經濟大權，郊商難以競爭而爆發衝突
(B) 來臺移民爭奪土地水源及利益，因而聚眾結黨鬥毆
(C) 統治階層濫徵雜稅，官吏因稅收分配不均相互爭鬥
(D) 原住民土地遭到洋人侵占，生活窘困被迫武力抗爭。



14. 為了灌溉農田，郭錫瑠在某地區運用木柵來運送水源，此一山坡地的灌溉系統，比起中國流行的方法還要高明，充分展現了移民的智慧。請問：郭錫瑠可能會在右圖中何處使用此種灌溉技術？

(柵，音同檢)

- (A) 甲 (B) 乙 (C) 丙 (D) 丁。

15. 有許多醫院、學校的命名往往是為了紀念某些有貢獻、值得紀念的人士，由此可知，下列哪一所醫院的名稱是為了紀念在臺傳播醫學有功的傳教士？

- (A) 馬雅各醫院 (B) 新樓醫院 (C) 馬偕醫院 (D) 榮民總醫院。

16. 英國對臺灣的貿易，原先透過郊商購買米、糖等產品，後來則進行直接貿易。這種轉變與下列哪一事件有關？

- (A) 鄭成功打敗荷蘭人 (B) 甲午戰爭後，日本積極發展臺灣貿易
(C) 臺灣納入清帝國版圖 (D) 英法聯軍之役後，臺灣開港通商。

17. 某一地方志記載：「此人在富戶的支援下，聚眾二百餘人，進入番地。1798 年在烏石港築成頭城，作為拓墾的基地，其後閩、粵移民陸續加入，逐漸拓墾，終將宜蘭平原全境開拓。」文中的「此人」是何者？ (A) 朱一貴 (B) 張達京 (C) 吳沙 (D) 施世榜。

18. 清帝國晚期，臺灣北部港口的貿易額逐漸超越南部港口，經濟中心也移往北部。請問：這種情形主要是因為哪一種物產的生產及輸出均在北部？ (A) 稻米 (B) 蔗糖 (C) 茶 (D) 紡織品。

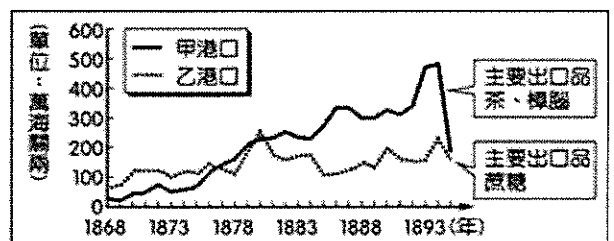
19. 右圖為臺灣某時期兩大港口的海關出口值統計圖。

由圖中內容判斷，乙港口最可能為下列何者？

- (A) 打狗 (B) 淡水 (C) 安平 (D) 鹿港。

20. 臺灣有句俗諺說：「一府二鹿三艋舺。」請問：這句話反映出下列哪些意義？

- (甲) 土地拓墾的順序 (乙) 商業發展的過程
(丙) 水利設施的多寡 (丁) 貿易港口的發展 (A) 甲乙丁 (B) 甲乙丙 (C) 甲丙丁 (D) 乙丙丁。



21. 清帝國時期，在臺灣常可見到民間或官方大規模修築水圳、埤塘、水庫的痕跡，其主要目的為何？

- (A) 吸引漢人移民臺灣 (B) 取得農業灌溉用水 (C) 使交通運輸更便利 (D) 促進漢番交流往來。

- 22.清帝國初期，臺灣為移墾社會，隨著經濟的發展，科舉也逐漸受到重視。請問：於道光3年出現的第一位臺灣進士為何人？ (A)沈光文 (B)林爽文 (C)吳沙 (D)鄭用錫。
- 23.劉阿祥渡海來臺後，與同姓友人共同加入某個祭祀公會，祭祀的對象是三國時期的劉備。請問：劉阿祥所加入的組織應該是下列何者？(A)唐山祖 (B)開臺祖 (C)互助會 (D)寺廟管委會。
- 24.關於清帝國時期的「郊」與「洋行」之敘述，下列何者正確？
(A)郊產生於臺灣開港通商之前 (B)郊是由外國使節和臺灣商人共同組成
(C)洋行不能跟臺灣商人直接貿易 (D)洋行在臺灣開港後漸漸沒落。
- 25.自荷蘭人據臺後至清帝國統治後期，臺灣持續出口的商品為何？
(A)鹿皮 (B)樟腦 (C)蔗糖 (D)茶葉。
- 26.阿嬌是一位清帝國晚期住在淡水的年輕女性，從你所學歷史知識來看，她的生活應該「不會」出現下列哪一遭遇？
(A)遇到來淡水經商的外國人 (B)服用西方傳教士開的西藥
(C)看到大批的糖由淡水港進口到臺灣 (D)因幫忙家計成為採茶女工。
- 27.巴力克是個生長在18世紀後期的凱達格蘭族人，(甲)小時候跟著父執輩一起在平原上打獵游耕，(乙)壯年時，他被官府要求改用漢姓，(丙)中年時，因為不堪官府奴役，遂反抗政府遭到斬首。(丁)他的子孫都閱讀用族語文字記載的巴力克故事。配合臺灣歷史的發展來看上述巴力克的遭遇，其中哪一項與「史實不符」而需要修改？ (A)甲 (B)乙 (C)丙 (D)丁。
- 28.1831年編的某地方志記載：「街衢縱橫，皆有大街，長三里許，泉廈郊商居多。舟車輻湊，百貨充盈。」到了20世紀初，這座位於臺灣中部的城市已告衰落，盛況不再。這是指下列哪一個城市？ (A)八里坌 (B)鹿耳門 (C)鹿港 (D)艋舺。
- 29.小明來到了臺南某間醫院就診，此醫院前身是西方傳教士在臺南所建立的臺灣第一間西醫醫館。請問：此醫院應該是下列何者？ (A)新光醫院 (B)新樓醫院 (C)門諾醫院 (D)馬偕醫院。
- 30.清帝國統治前期，臺灣經常發生分類械鬥的原因有哪些？(甲)祖籍不同；(乙)語言差異；(丙)生存空間的競爭；(丁)官逼民反 (A)乙丙丁 (B)甲乙丁 (C)甲乙丙 (D)甲丙丁。
- 31.清代漢人移民來臺，往往是同鄉群居，各地信奉的神祇因移民者的祖籍不同而有差異，不過也有一些神明是大家所共同信奉的，下列何者可為代表？
(A)媽祖 (B)清水祖師 (C)開漳聖王 (D)三山國王。
- 32.清帝國時期，臺灣社會逐漸由祭祀「唐山祖」轉為祭祀「開臺祖」。請問：此一轉變的意義為何？
(A)不同祖籍的移民，供奉不同的神明 (B)不同祖籍的移民，供奉不同的神明
(C)祖籍意識超越地方信仰 (D)開臺祖的重要性大於唐山祖。
- 33.1691年(清康熙30年)，來自中國福建泉州府晉江縣的漢人，在臺灣會有怎樣的遭遇？
(A)到淡水會看到許多金髮碧眼的外國人 (B)和幾位同鄉合作向地方官府申請墾照
(C)經政府許可後，進入花蓮地區進行拓墾 (D)他跟著吳沙前往蛤仔難地區開墾。
- 34.阿秀周末時和家人出遊，發現在某個菜市場裡的小廟「水仙宮」，竟然曾是清帝國時期當地糖郊的總部。一旁的神農老街、接官亭等史蹟，都見證了這座城市是臺灣在清帝國初期唯一合法港口所在。請問：阿秀出遊的地點位於下列哪一縣市？
(A)高雄市 (B)臺南市 (C)新北市 (D)彰化縣。

35. 附圖描述臺灣史上某一時期的社會現象，圖中的「具體例證」，最適合填入下列何者？

- (A) 地主與官府的對抗 (B) 郊商與洋商的對抗
(C) 士紳與傳教士的衝突 (D) 漳州人與泉州人的衝突。

• 清帝國統治時期
• 地域觀念或祖籍意識的對抗
• 不同群體間為了爭奪土地、水源或利益，而發生的武力衝突。
• 具體例證：_____？

36. 清帝國早期，清廷所頒布的「渡臺禁令」對當時的臺灣社會造成重大的影響。請問：下列有關渡臺禁令的敘述何者正確？

- (A) 男女人口比例失衡，造成男子只好娶荷蘭籍新娘 (B) 原住民造成臺灣社會不穩定
(C) 減少來台人數，社會治安穩定 (D) 禁令執行時緊時鬆，民間偷渡始終不斷。

37. 右表是臺灣三個不同時期對外貿易的主要進出口貨物，依所處時代先後順序排列應是下列何者？

- (A) 甲乙丙 (B) 乙甲丙
(C) 丙乙甲 (D) 丙甲乙。

時代	出口商品	進口商品
甲	稻米、蔗糖	蔗材、紡織品 (衣物)
乙	糖、樟腦、茶	紡織品、鴉片
丙	蔗糖、鹿皮	軍用物資、布料

38. 李大德在社區祭祀的時候看著祠堂上的先祖牌位，上面寫的名字是李阿明，李大德的父親告訴他，這位李阿明先生是他們這族兩百年前來臺灣前的共同祖先，所以這位李阿明先生是李大德的什麼祭祀對象？

- (A) 唐山祖 (B) 開臺祖 (C) 媽祖 (D) 有應公。

39. 清帝國早期，移墾臺灣的漢人與中國間的貿易往來興盛，其輸入的貨品主要以下列何者為主？

- (A) 稻米、蔗糖 (B) 紡織品、藥材 (C) 火藥等武器 (D) 鹿皮與盔甲。

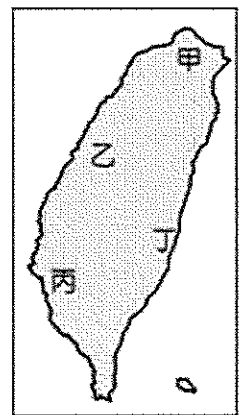
40. 洪賦與清銘是清帝國時期的臺灣商人，分別屬於「泉郊」和「廈郊」。請問：這種區分的方式，是以何者為標準？

- (A) 居住的區域 (B) 貿易商品 (C) 貿易的地區 (D) 漢番的區分。

41. 此港口在荷治時期與鄭氏時期已經是臺灣與島外的運輸貿易中心。1683

年，清帝國時期，此處成為臺灣對外的唯一「正口」，所有來往中國、日本、南洋的船隻均須取道於此，當時臺灣盛產蔗糖，商船運載出入，也多經此地輸往日本、菲律賓等地。此重要港口位於右圖中何處？

- (A) 甲 (B) 乙 (C) 丙 (D) 丁。



42. 清帝國統治時期的臺灣社會族群複雜，一旦發生糾紛，常以祖籍、姓氏等名義聚眾互相敵對，其中規模較大的武力衝突就有數十次之多。造成上述社會衝突的原因很多，下列何者是主要因素之一？

- (A) 對抗外來宗教 (B) 爭奪經濟利益 (C) 要求臺灣建省 (D) 抵制鐵路建設。

43. 「面對漢人拓墾者的蠶食鯨吞，一些噶瑪蘭人在 1840 年（道光 20 年）左右前來到後山的奇萊平原，重新建立家園。」下列選項中何者符合題文所述的噶瑪蘭人移動方向？

- (A) 宜蘭→基隆 (B) 宜蘭→花蓮 (C) 南投→花蓮 (D) 臺南→南投。

44. 「林來生於雍正晚年至彰化二水一帶拓墾，死後留下公產 5 甲地，由他的兒子們輪流耕種，每一年由輪到耕種公田的人負責當年的祭祀費用。每年清明節前後，林家後代都會擇日掃墳，祭祀林來生。」請問：關於文中所述的林氏宗族，其祭祀組織模式應為下列何者？

- (A) 鄉土神 (B) 唐山祖 (C) 有應公 (D) 開臺祖。

45. 小如與同學聊天時發現同一個字或詞會有不同的讀法，例如「筷子」在福佬（閩南）話可念成「ㄉㄨㄢ」或「ㄉㄨㄢ」等，客家話的其中一種則念成「ㄘㄨㄢ」。上述多種讀音並存的現象，與下列何者的發展最有關係？
- (A) 清代後期設立廣方言館 (B) 民國初年推行新文化運動
(C) 清代渡海來臺人口眾多 (D) 政府設立文化建設委員會。
46. 清帝國時期，臺灣與中國大陸之間的貿易情形，下列何者敘述正確？
- (A) 清帝國初期臺灣與中國大陸的貿易，最初以鹿耳門為唯一合法港口
(B) 隨著和中國大陸貿易發展，至清帝國晚期出現「一府二鹿三艋舺」的都市體系
(C) 臺灣商人在開港通商後欲加入茶葉貿易，應該參加茶郊
(D) 臺灣和中國大陸的經濟分工，臺灣出售紡織品等日用品，從中國大陸購入稻米、蔗糖。
47. 某地方志記載：「此地製茶工坊林立，茶葉產期時，茶行必須僱用許多女工，多則五、六十人，少則二、三十人，甚至有漳、泉婦女來此短期工作，每日工資四、五錢不等。」這本地方志最可能為下列何者？
- (A) 《諸羅縣志》 (B) 《臺北府志》 (C) 《臺東州志》 (D) 《彰化縣志》。
48. 右圖是清代臺灣開港後某一現象的分布示意圖，請依據圖中的資訊判斷，此圖的標題應是下列何者？
- (A) 閩粵移民來臺分布圖 (B) 開墾先後示意圖
(C) 臺灣產業分布圖 (D) 人口金字塔圖。
49. 清帝國時期臺北的大稻埕洋樓、洋行林立，此種景象於何時開始出現在臺灣？
- (A) 牡丹社事件後 (B) 英法聯軍之役後 (C) 清法戰爭後 (D) 甲午戰爭後。
50. 1860年代以後，臺灣政治經濟重心逐漸由南部轉移至北部，其主要原因為何？
- (A) 北部出口茶與樟腦，帶動城鎮興起 (B) 南部未開放對外的通商口岸，導致發展落後
(C) 南部米糖生產減少，經濟蕭條 (D) 北部由於臺灣建省，而成為政治中心。

