

基隆市立武崙國民中學112學年度第一學期第二次段考八年級歷史科試卷

年 班 座號： 姓名：

第一大題、選擇題(每題2分，共80分)

- ( )班上同學正在討論中國科技的發展。詩涵說：「早在漢代我們已經把火藥運用到戰爭中。」紀晴說：「火藥在怛羅斯之役後就西傳了！」子芸說：「中國活字版印刷術是蔡倫發明的！」馨云說：「指南針的技術運用於航海，經阿拉伯人傳入歐洲！」。請問哪一同學的說法是正確的？(A)詩涵 (B)紀晴 (C)子芸 (D)馨云。
- ( )小馬遊歷中國宋元之際，發現此時國內外經濟活動非常繁榮。請問：哪一項述敘是錯誤？(A)坊市合一，晚上還可以逛夜市 (B)廣州和泉州設市舶司，商船林立 (C)各地廣設驛站，國際貿易交流頻繁 (D)出外經商，可以攜帶白銀交易。
- ( )史學家黃仁宇認為：「從物質生活講，十二世紀的中國宋代，無疑的已領先世界。」這主要是針對宋代哪一項特色而提出的看法？(A)科技發達與商業興盛 (B)兼容並蓄的多元文化 (C)統一幣制並通行全國 (D)廣設驛站，使物資交流。
- ( )小花在複習兩宋時期的歷史後，做出一張表格(如附表)。請問：表中何者錯誤？

	北 宋	南 宋
(甲)建國者	宋太祖	宋高宗
(乙)建都	臨安	汴京
(丙)外患	遼、西夏、金	金、蒙古
(丁)亡國	金	蒙古

- (A)甲 (B)乙 (C)丙 (D)丁。  
( )以下是中國某朝代首都的簡介：「這是一座依計畫興建的城市，城中可見基督教教堂、伊斯蘭教清真寺及佛教寺廟。朝廷聘用色目人擔任財政官員，並推行全國性紙幣政策，加上各地物資的集中，讓這座城市成為金融經濟中心。」上述城市最可能是指下列何者？(A)臨安 (B)長安 (C)汴京 (D)大都。
- ( )岳飛的《滿江紅》一詞中有：「……靖康恥，猶未雪。臣子恨，何時滅……」，文中「靖康恥」是指何事？(A)北宋二帝遭女真所俘 (B)遼取得燕雲十六州之地 (C)宋真宗輸送歲幣給遼 (D)李自成攻陷北京。
- ( )老師講述中國歷史時說到：「這個民族是中國歷代邊疆民族中，漢化程度較淺的民族之一。他們入主中國後，為了保持統治地位，各級長官甚少任用漢族人士，對漢人、南人採取高度控制的態度及手段，結果引起漢人、南人的不滿與反抗。」老師介紹的是下列哪一民族？(A)鮮卑族 (B)契丹族 (C)女真族 (D)蒙古族。
- ( )中國東北的女真族，在12世紀時為東亞的霸主，後來為他族所滅，至17世紀再度崛起，入主中原。請問：這一個民族曾先後建立哪兩個政權？(A)遼、清 (B)金、清 (C)金、元 (D)遼、金。
- ( )明清的科舉以四書、五經的內容為題，而其中四書以某位大儒的著作「四書集注」為定本。請問：這位大儒是誰？(A)孔子 (B)孟子 (C)玄奘 (D)朱熹
- ( )宋代時，面對北方的強敵，有大臣對皇帝說：「北方的軍事重地燕雲十六州早被占據，無險可守，皇上應該親征奪回這塊土地啊！」此時宋代北方的強敵為哪一國？(A)遼國 (B)西夏 (C)金國 (D)蒙古
- ( )明朝末年，有一位歐洲傳教士隨著新航路的開通後來到中國，進而到中國進行傳教，而為了要順利傳教工作，他允許中國教徒祭拜祖先和孔子，也將西方科學知識與技術，如幾何學、西洋曆法等介紹到中國，對於中西文化交流層面影響甚深。這一位傳教士應是何者？(A)馬偕 (B)利瑪竇 (C)徐光啟 (D)馬雅各。
- ( )18世紀中期以後，當時中國與西方世界中斷往來，下列何者是造成當時雙方中斷往來的主要原因？(A)流寇為亂劇烈 (B)康熙實施海禁 (C)雍正下令禁教 (D)鄭氏反清復明
- ( )所謂「偏安政權」是指政權失去中原地區而偏處於部分領地，歷史上的東晉，就屬於偏安政權。請問：下列哪個朝代也屬於偏安政權之一？(A)西漢 (B)唐朝 (C)北宋 (D)南宋。
- ( )儒學居中國傳統思想的正統地位，從先秦以來不斷被後代儒學者發揚光大，或是加入其他哲學理論。例如：融入道家或是佛教的宇宙觀，用以探討人與宇宙，補足儒家哲學原本不足的部分，被稱「新儒學」。請問：「新儒學」是哪一朝的文化主流？(A)兩漢 (B)魏晉 (C)隋唐 (D)宋元。

15. ( ) 「明帝國與其說亡於清兵，不如說亡於□□，饑民與逃兵的結合，使帝國從內部受到侵蝕，亡於外族不過遲早的事。」請問：□□應填入何者？(A)蒙古 (B)倭寇 (C)女真 (D)流寇。
16. ( ) 某影視公司的古裝劇劇組為了拍攝宋代泉州港的鏡頭需要布置攝影場地。請問：作為該劇組的歷史顧問，你應該提議呈現下列哪些情境才符合歷史事實？  
甲、此處設有市船司管理商務；乙、交易媒介可使用銅錢或紙幣；丙、攤商販賣著玉米番薯等作物；丁、商人上岸後可至夜市遊憩

17. ( ) 「聯金滅遼」、「聯蒙滅金」是影響宋朝歷史進程的重要事件，宋朝為對抗北方民族的侵擾與武力威脅，需要採取結盟、聯合等策略，借助他國的力量維護邊疆的安寧。請問：關於「聯金滅遼」和「聯蒙滅金」所造成的結果，下列何者正確？(A)兩次行動皆使宋朝重振天下共主的威名 (B)聯金滅遼後，女真族成為宋朝的主要外患 (C)聯蒙滅金後，蒙古轉而攻宋，史稱靖康之禍 (D)兩次行動使得宋朝順利收復燕雲十六州。

18. ( ) 中國的皇帝在很早之前就知道往西域的陸路交通很重要，因為這讓他們的影響力可以擴及北疆，甚至及於中亞地區。然而某時期的皇帝對此卻心有餘而力不足，北方強大的異族阻礙了往西域的陸路，他們只能憑藉著進步的造船技術往海上發展，最終透過活絡的海上貿易而對西方世界產生一樣的影響效果。請問：上述文字所描述應為哪一個時代？(A)漢朝 (B)唐朝 (C)宋朝 (D)元朝。

19. ( ) 歐洲許多博物館裡，收藏了不少中國景德鎮的瓷器。它們有青花瓷、彩瓷；上面有中國式的圖像，也有西洋景觀。請判斷這些瓷器的西傳與下列哪一事件是同時期發生的？

20. ( ) 同學們在討論歷史上某一制度，根據下列同學們討論的內容判斷，這個制度應該為何？  
(A)佛教東傳 (B)馬可波羅東來 (C)耶穌會傳教士東來 (D)阿拉伯人由海路前往廣州

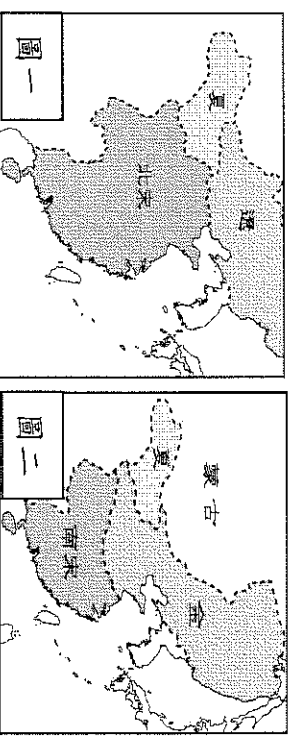
大雄：「明代與清初時，當時民間的海外貿易幾乎停頓，只剩下藩屬鄰邦對中國的進貢。」  
小夫：「外國必須接受中國的冊封，才能藉進貢的名義與中國進行貿易。」

- (A)市船司制度 (B)朝貢貿易 (C)鎖國政策 (D)海禁政策。

21. ( ) 明清時期的商人集團，以哪兩個地區的商人最為有名？

- (A)陝西、徽州 (B)山西、杭州 (C)山西、徽州 (D)江西、廣州。

22. ( ) 歷史課時，老師在黑板展示右列兩圖。由圖(一)演變到圖(二)，顯示老師上課的主題最可能是下列何者？



- (A)杯酒釋兵權 (B)陳橋兵變 (C)澶淵之盟  
(D)靖康之禍

23. ( ) 右列是歷史老師上課的內容。依你的歷史知識判斷，老師講述的是哪位帝王的事蹟？

- (A)明太祖 (B)明成祖 (C)明惠帝  
(D)明思宗

(一)興修長城 (二)北伐蒙古 (三)遷都北京 (四)國勢達到鼎盛

24. ( ) 馬可波羅所著的《馬可波羅行記》記載：「所有通至各省之要道上，每隔二十五邁耳(mile)，或三十邁耳，必有一驛。無人居之地，全無道路可通，此類驛站，亦必設立。……合全國驛站計之，備馬有三十萬匹，專門欽使之用。」由文中可知，馬可波羅來到中國是在何時？

- (A)唐朝 (B)宋朝 (C)元朝 (D)明朝

25. ( ) 阿翰世居汴京，當蒙古人統一中國後，阿翰在元朝的統治下，與蒙古人發生衝突，阿翰到官府想請官員幫他主持公道，但他發現法律上對蒙古人有許多保障。請問：這是因為阿翰屬於元朝統治下的哪一個階級？ (A)蒙古人 (B)色目人 (C)漢人 (D)南人。

26. ( ) 臻臻在《漫話中國歷史》一書裡，發現中國某一政權正面臨嚴峻的考驗，內有人民造反，外部則有蒙古、女真、倭寇的侵擾，處於內憂外患不斷的情況下。這很有可能是哪個朝代的問題？

- (A)唐代 (B)宋代 (C)明代 (D)清代

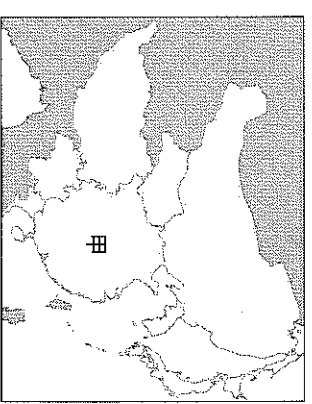
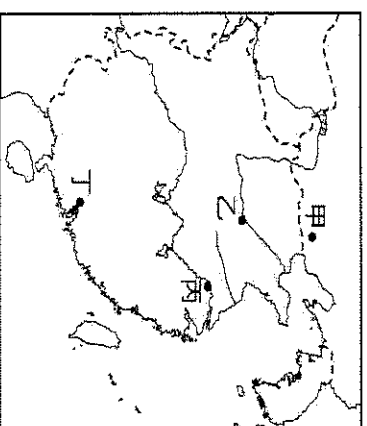
27. ( ) 一份歷史文告寫道：「自宋朝覆亡，北方外族入主中原，百年不到，天下大亂。我本是平民，被眾人推舉，率軍攻占金陵(今南京)，再北上驅逐胡虜。色目(指西域的人)等雖為異族，但若衷心歸順，仍是中華子民。」以上敘述與下列哪一史事關係最密切？

- (A)朱元璋起兵反元 (B)鄭成功反清復明 (C)趙匡胤黃袍加身 (D)鐵木真發動西征

28. ( ) 南宋中葉，北方的蒙古族興起，哪一位傑出的首領統一蒙古諸部，建蒙古國，各部首領尊稱他為成吉思汗？ (A)忽必烈 (B)鐵木真 (C)努爾哈赤 (D)完顏阿骨打。

29. ( ) 明末清初由於引進新的糧食作物，如玉米、馬鈴薯等，紓緩中國因人口壓力所引起的糧食問題。上述作物是由何處傳入中國的？ (A)歐洲 (B)亞洲 (C)美洲 (D)非洲

30. ( ) 蒙古族興起後，成吉思汗及繼位者向外擴張，發動三次西征。金、西夏、南宋皆為蒙古所滅，請按照這三個國家被滅的順序加以排列？  
 (A) 金→西夏→南宋 (B) 南宋→金→西夏 (C) 西夏→南宋→金 (D) 西夏→金→南宋
31. ( ) 中國歷代帝王中，若以「北魏孝文帝」、「元世祖忽必烈」、「清聖祖康熙」三人為對象進行比較，下列哪一段比較結果是正確的？ (A) 他們都是外族在中國所建之政權的統治者 (B) 他們都因為尊崇中國文化而全面徹底漢化 (C) 他們都實施種族隔離政策以確保統治地位 (D) 他們都曾遷移首都，以利掌控擴大的疆域。
32. ( ) 火藥在中國原本是煉丹的副產物，至唐朝後逐漸用於典禮煙火與軍事用途，至宋元時期已經成為戰爭利器。火藥傳入西方後，使城堡失去防禦功能，加速中古歐洲封建制度的瓦解。火藥傳入西方與下列哪個事件有關？ (A) 蒙古西征 (B) 市舶司的設立 (C) 蒙古征服宋國 (D) 怛羅斯之役
33. ( ) 大清建國之後，陸續消滅反對勢力，不斷開拓疆域。請問：下列哪些地區是在清代時納入版圖的？  
 (甲) 臺灣 (乙) 朝鮮 (丙) 日本 (丁) 新疆 (戊) 西藏  
 (A) 甲乙丙 (B) 甲丁戊 (C) 乙丙戊 (D) 丙丁戊
34. ( ) 約瑟夫是位熱愛中國文化的外國人士，喜歡到中國各地旅行。若他想要追尋《清明上河圖》中的風貌，拜訪右圖中的哪個城市可以達到目的？(A) 甲 (B) 乙 (C) 丙 (D) 丁
35. ( ) 牛牛星期天參加了一場演講，演講內容以玄奘、張騫、利瑪竇等人的事蹟為主，請由此判斷，這次的演講主題最可能是下列哪一項？  
 (A) 中國學術的時代精神 (B) 外來宗教的中國化 (C) 科技發展與文明變遷 (D) 中西交通與文化交流
36. ( ) 歷史老師要進行與元代歷史有關的隨堂測驗，許多同學忙著複習，下列關於同學們複習的內容，何者有誤？(A) 魯夫：元帝國實施種族差別政策(B) 香吉士：元帝國的建立者是成吉思汗 (C) 騙人布：元帝國首都在大都(今北京) (D) 喬巴：元帝國是第一個統治整個中國的草原民族
37. ( ) 附圖為東亞「甲」王朝與周邊國家的形勢圖。在此王朝之前，周邊民族往往向中國稱臣朝貢，但此王朝卻與鄰國建立平等的國際關係，因為「甲」王朝武力積弱不振，而周邊民族武力卻日益強大。附圖中的「甲」應該是下列何者？  
 (A) 唐朝 (B) 宋朝 (C) 元朝 (D) 明朝
38. ( ) 接上題，此王朝卻與鄰國建立平等的國際關係，主要源自雙方發生了哪事件而導致此改變？ (A) 澶淵之盟 (B) 聯金滅遼 (C) 靖康之禍 (D) 蒙古西征
39. ( ) 明朝航海家鄭和，曾經多次航行，某地圖王獻上長頸鹿以為貢品，由於從未見過這種生活在熱帶的動物，因此當時的中國人將其稱為「麒麟鹿」。請問：他的遠航創下中外歷史的新紀錄，從當時鄭和首航起點江蘇省出發，追尋鄭和當時遠航的路線。請問：他們的行程不可能經過下列何處？  
 (A) 馬來西亞 (B) 東非 (C) 朝鮮 (D) 阿拉伯。
40. ( ) 「這個時代，東亞地區充滿了變動；歐洲諸國先後來到東亞，建立商貿與傳教據點，造成不少衝擊；日本幕府為了鞏固統治，實施鎖國；至於中國，來自東北的民族建立新王朝，並對反抗勢力施行海禁政策。」上文畫線處最可能是指下列何者？  
 (A) 臺灣民主國成立 (B) 朱一貴結黨起兵 (C) 郭懷一號召漢人抗爭 (D) 鄭成功家族反清復明



## 第二大題：題組(每題2分，共20分)

7世紀時，中國為東亞、北亞的霸主，四方來朝；到了11世紀，北方草原民族崛起，侵略中國。中國首先與甲國簽訂盟約，互稱兄弟；12世紀，由於中國武力不振，被東北新興的乙國所滅，皇室南遷後，與乙國簽訂的盟約中對乙國稱臣，國際地位一落千丈。請問：

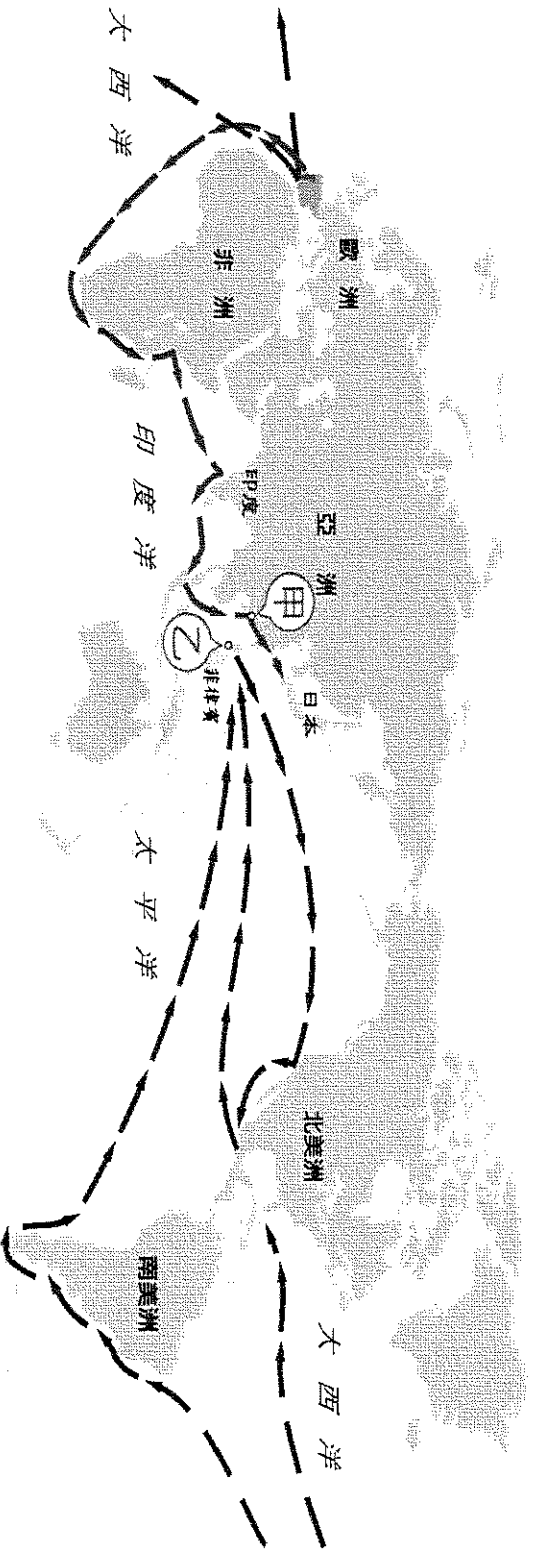
41. ( ) 中國與甲國簽訂盟約的結果為何？ (A) 雙方維持百餘年和平 (B) 中國的國際地位提升 (C) 甲國須支付中國歲幣 (D) 甲國奪回燕雲十六州
42. ( ) 文中，中國被東北的乙國所滅，此事為下列何者？  
 (A) 怛羅斯之役 (B) 澶淵之盟 (C) 靖康之禍 (D) 蒙古西征
43. ( ) 根據上文，乙國為下列何者？ (A) 宋 (B) 遼 (C) 金 (D) 元

【資料甲】：  
有一首敘述民歌〈木蘭辭〉講述木蘭代父從軍的故事。出發前，她採買了她的行頭：「東市買駿馬，西市買鞍韉，南市買轡頭，北市買長鞭」，在各個集市購買從軍的商品，各集市有固定的開放與營業時間。

【資料乙】：  
義大利商人馬可波羅到了泉州有此描述：「大可汗從這個城市收穫極大的稅額，所有從印度來的船，要付第10%的稅額」，而其他如胡椒、沉香木、檀香木等商品，則要收取40%的運費。」此外，泉州還建有中國第一座清真寺。

【資料丙】：  
南宋偏安一隅，有文人懷念北宋的京城：「每個巷弄皆有茶坊、酒店，還有雜耍人賣藝的場所。商人通常會在店鋪購買飲食，不自己烹飪。夜市到了半夜三更(晚上十一點到凌晨一點)才打烊，到了五更(凌晨三點到五點)又開張」

44. ( ) 資料乙中，馬可波羅描述泉州商稅的收取，請問：此地收稅的單位源自唐代的何種機構？  
(A)驛站 (B)商幫 (C)市舶司 (D)馳道
45. ( ) 上題中的機構，類似今天的哪一單位？(A)海關 (B)稅捐處 (C)海巡署 (D)派出所
46. ( ) 依據資料甲乙丙，對這些城市的敘述，三者的時間順序依序為何？  
(A)甲→乙→丙 (B)甲→丙→乙 (C)乙→丙→甲 (D)丙→乙→甲



【16世紀西班牙商人尼古拉斯深信「誰擁有海洋，誰就擁有全世界」，於是籌措資金，準備前往亞洲採購絲織品、瓷器等商品，再將這些商品賣往歐洲賺取下一趟航行的經費。請參考上圖作答：

47. ( ) 尼古拉斯希望先在本國擁有的港口中補給、打聽情報，他應該選擇下列哪個港口停靠？請選擇正確的搭配。  
(A)甲：澳門 (B)甲：香港 (C)乙：巴達維亞 (D)乙：馬尼拉
48. ( ) 在大航海時代，尼古拉斯等歐洲商人攜帶不同的商品來往於美洲與亞洲之間。請問：下列商品中，哪些是歐洲商人從美洲帶來的？  
甲、玉米；乙、白銀；丙、茶葉；丁、番薯；戊、馬鈴薯  
(A)甲乙丙丁 (B)甲乙丁戊 (C)甲乙丙戊 (D)乙丙丁戊

■清初，政府對於不同民族的統治手段各異。對於漢人，清廷厲行文字檢查，例如：有文人作詩：「明月有情還顧我，清風無意不留人」，後來便遭處死。但另一方面，清初也舉行科舉、號召文人編撰史書、字典。對於蒙古、西藏，清廷一方面和親，一方面冊封達賴喇嘛為藏傳佛教的領袖。藉由這些統治政策的實施，清初政權尚稱穩固。史說清代盛世130多年，清代三位皇帝在位期間並未發生極嚴重的天災或戰爭，人口不斷成長，政事大致安定，人民豐居樂業。

49. ( ) 文中敘述清初文人作詩卻遭處決，這是清廷採取何種統治手段？(A)強迫薙髮 (B)限制結社 (C)禁止科考 (D)文字獄。
50. ( ) 史說清代盛世130多年，指的是清代三位皇帝在位期間。請問：上述的三位皇帝不包括下列何者？  
(A)順治 (B)康熙 (C)雍正 (D)乾隆。

《試題結束，請再詳細檢查》