

基隆市立武崙國民中學112學年度第一學期八年級地理科第二次定期評量

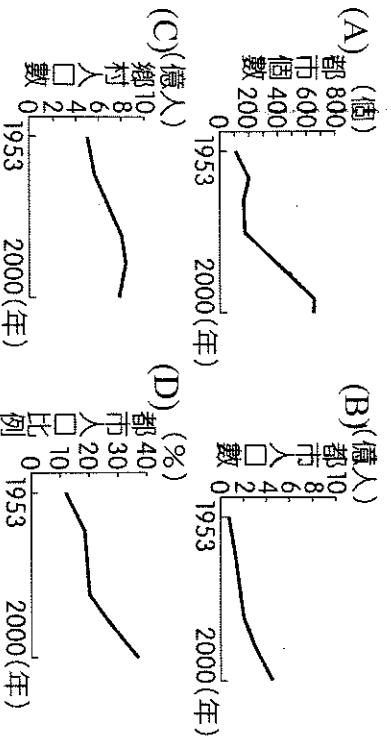
注意事項：

1. 本份試卷共兩大題。第一大題為單選題，共88分；第二大題為非選擇題，共12分。總分100分。
2. 答案卡限用2B鉛筆畫記，若畫記錯誤，請擦拭乾淨。分數以電腦讀卡分數為準。
3. 答案卡上的資料欄請確實填寫，若資料欄未畫記或畫記錯誤導致電腦無法正確判讀，扣總分10分。

班級：八年 班/座號： 姓名：

◆第一大題：單選題，每題2分

- ( ) 1. 小坡想說明中國「都市化程度」的變化趨勢，他選用下列哪一張統計圖最恰當？



- ( ) 2. 中國某一跨海大橋於2018年完工，其連結了中國兩個特別行政區及一個經濟特區，可縮短往來三地的距離，並強化三地經濟社會的交流。上述跨海大橋應位於下列哪條河川的出海口？(A)珠江 (B)長江 (C)海河 (D)黃河。

- ( ) 3. 「北京市政府頒布禁令，規定在中國北方燃煤供暖期間(2017年11月15日至隔年3月15日)，除了國家重點工程外，停止各類道路、水利等土石工程及房屋拆遷施工。」上述報導中的禁令最可能是為了下列何者？(A)防止土石流的發生 (B)減少水資源使用量 (C)減緩地層下陷速度 (D)避免空氣汙染加劇。

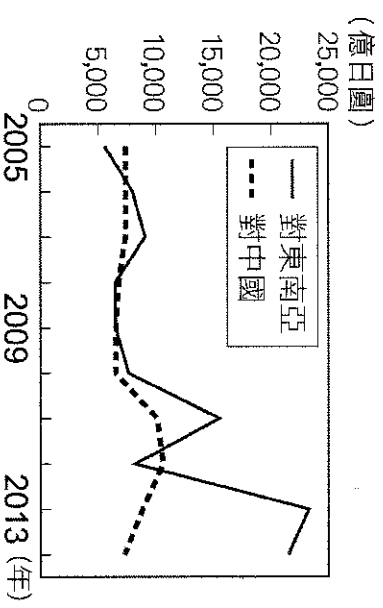
- ( ) 4. 都市發展與交通息息相關，大都市常位在各種交通方式交會的樞紐上，將其歸納成如附表的四種類型。請問上海市應屬於附表哪一種類型 (A)甲 (B)乙 (C)丙 (D)丁。

類型	交通方式
甲	鐵路—公路樞紐
乙	海運—鐵路—公路樞紐
丙	河運—鐵路—公路樞紐
丁	河運—海運—鐵路—公路樞紐

- ( ) 5. 附表為中國2006至2015年外商投資總額最多和最少的四個行政區。根據表中呈現外商投資的空間差異，下列哪一項策略最能夠改善表中呈現的問題？(A)促進東北老舊工業區轉型 (B)與東協簽署自由貿易協定 (C)取消一胎化的計畫生育政策 (D)推動與中亞國家的邊境貿易。

投資總額前四名	比例(%)	投資總額後四名	比例(%)
江蘇省	18.89	西藏自治區	0.03
廣東省	15.64	青海省	0.11
上海市	13.43	寧夏回族自治區	0.14
浙江省	6.92	新疆維吾爾自治區	0.19

- ( ) 6. 附圖為日本近年來對於中國和東協國家的投資金額統計，對兩者投資金額差距擴大與下列何者關係最為密切？(A)東南亞天災日益頻繁 (B)東協的生產成本較低 (C)中國實施全面開放二胎 (D)東協反日意識漸趨高漲。



- ( ) 7. 附表為中國全國與上海的常住人口年齡結構，顯示上海的常住人口年齡結構變化趨勢與全國不一致。此現象與上海的何項特徵關係最密切？(A)房價價格較高 (B)就業機會較多 (C)老人福利較佳 (D)沙塵暴較嚴重。

年齡(歲)	全國		上海	
	2000年	2010年	2000年	2010年
0-14	22.9%	16.6%	12.2%	8.6%
15-64	70.1%	74.5%	76.3%	81.3%
65以上	7.0%	8.9%	11.5%	10.1%

- ( ) 8. 自2010年起，中國廣東省正式告別「暫住證」時代，近3,000萬的流動人口終於獲頒居住證，享受與當地常住居民同等待遇，未來甚至可以申請成為常住戶口。請問：廣東省能吸引眾多流動人口移入，主要是受到下列何項政策影響？(A)一帶一路 (B)西部開發 (C)經濟特區 (D)東北振興。


- ( ) 9. 近年來，中國許多內陸的民工不願再到沿海地區工作，反而留在家鄉就業，使沿海地區爆發嚴重的「缺工潮」。下列何者最可能是造成上述缺工潮的原因？(A)沿海地區薪資所得降低 (B)內陸地區就業機會增加 (C)沿海地區的工廠外移 (D)內陸地區的物價高漲。

- ( ) 10. 「法國今年的聖誕節是個非常『中國化』的節日，堆放在聖誕樹下的禮品都是中國生產的，而樹上懸掛的彩球、燈泡等裝飾品，甚至整棵聖誕樹也都來自中國。」上述現象與中國的何項特色最為相關？(A)國內消費市場廣大 (B)勞工多且工資低廉 (C)農礦資源豐富 (D)邊境貿易活絡。

- ( ) 11. 工廠設置的地點需考量最低生產成本，獲取最大利潤。考慮的因素大致包括：原料、勞工、交通、市場、動力、資金、技術與政策等。請問：上述工業區位中，中國因人口眾多而具備的優勢為何？(A)勞工、交通 (B)原料、動力 (C)勞工、市場 (D)技術、資金。
- ( ) 12. 中國鼓勵本國企業對外投資，大量併購半導體產業，是為了補足該產業目前欠缺的哪一項資源？(A)土地 (B)資金 (C)技術 (D)人才。
- ( ) 13. 老師在課堂上講述中國的經濟發展時，列出不同時期的生產重點品項，如附圖。根據圖中資訊推論，中國生產產品有下列哪項變化趨勢？(A)勞工充足且薪資持續低廉 (B)由勞力密集轉向技術密集 (C)以軍火工業為發展重點 (D)消費市場需求量攀升。

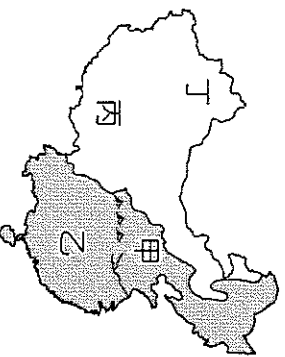


- ( ) 14. 附圖為中國糧食作物栽種面積比例變化圖，由圖判斷，此種轉變主要受到何種因素影響？(A)農村人口外移 (B)機械化耕作 (C)農業技術進步 (D)市場需求改變。

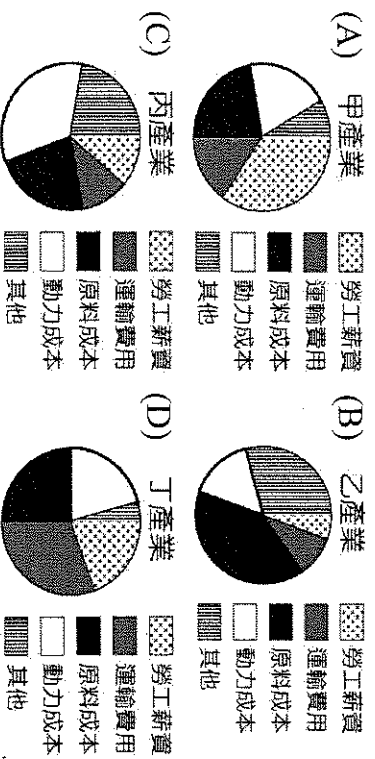


農作物總面積14.6千萬公頃      農作物總面積16.6千萬公頃

- ( ) 15. 附圖為中國境內傳統的農業分區，請問：目前哪一區的缺水情況最為嚴重？(A)甲 (B)乙 (C)丙 (D)丁。

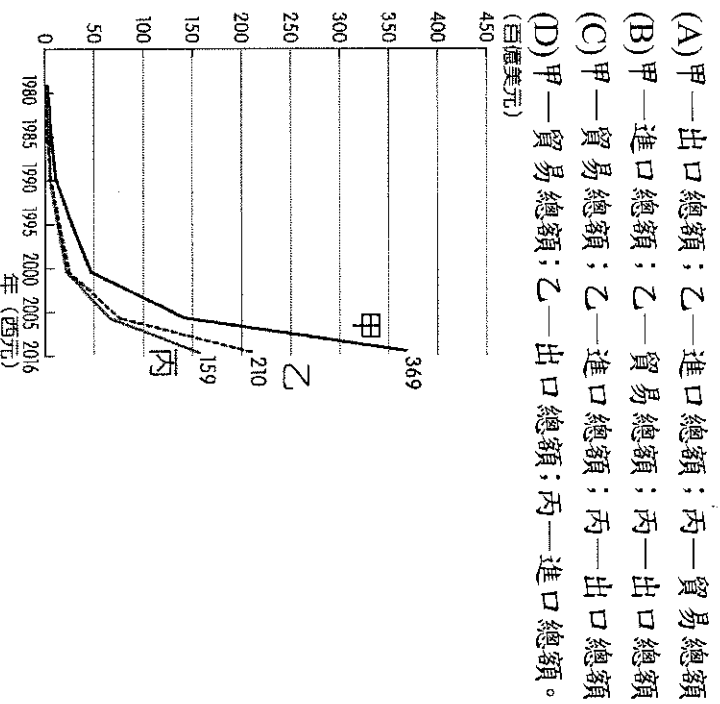


- ( ) 16. 中國自一九八〇年代實施經濟改革開放，並在東南沿海設立五個以出口為導向的經濟特區，吸引大量外資前來設廠，最早前往這些經濟特區設廠的廠家，其生產成本的分析最符合下列哪一張圖所呈現的內容？

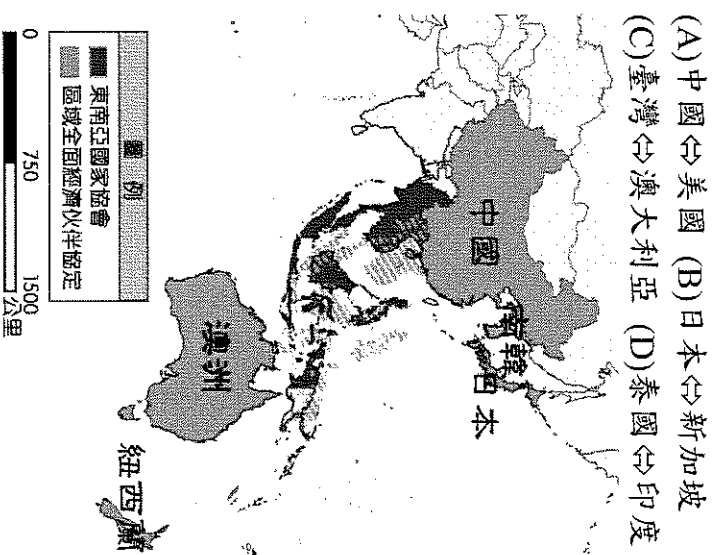


- ( ) 17. 中國有一經濟區屬於傳統重工業重心，但隨著礦產枯竭、設備老舊，產業發展趨緩，急需轉型。請問：中國政府針對此區提出何項政策？(A)東北振興 (B)東部率先發展 (C)中部崛起 (D)西部開發。

- ( ) 18. 中國經濟發展的過程中，對外貿易順差成為重要外匯來源。請問：關於附圖的貿易曲線圖，下列何者敘述正確？



- ( ) 19. 附圖為RCEP簽署國家分布圖，請問：下列哪兩個國家受惠於該協定，享有關稅減免及降低進出口限制等優惠？

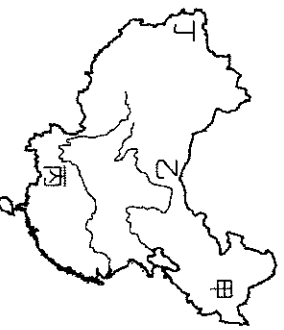


- (A) 中國 ⇨ 美國 (B) 日本 ⇨ 新加坡  
(C) 臺灣 ⇨ 澳大利亞 (D) 泰國 ⇨ 印度。
- ( ) 20. 承上題，請問：下列何者並非加入自由貿易組織可能帶來的效益？(A)改善各國經濟發展 (B)促進各國人員流通 (C)保護國內弱勢產業 (D)進口貨物售價降低。

- ( ) 21. 前中共國務院總理朱鎔基一句「農民真苦、農村真窮、農業真危險」，點出中國農業的困境。請問：中國農業的問題不包括下列何者？(A)人均可耕地面積小 (B)水資源分配不均 (C)耕地環境惡化快速 (D)糧食作物需求提升。

- ( ) 22. 2018年非洲豬瘟疫情在中國爆發並迅速傳播，「豬」成為熱門話題。有學者指出一般非洲豬瘟的傳播每年僅約100公里，中國卻不到半年即從東北瀋陽傳播到幾千公里外的廣東和福建，一發不可收拾造成嚴重影響。請問：中國的非洲豬瘟爆發快速，與下列何者有密切關係？(A)環境汙染嚴重 (B)高密度養殖方式 (C)過度使用飼料添加劑 (D)水資源缺乏。

- ( ) 23. 中國近年來經濟發展快速，因此設立喀什經濟特區，其地理位置有「五口通八國，一路連歐亞」的優越條件，有利於發展邊境貿易。請問：該經濟特區位於附圖中何處？(A)甲 (B)乙 (C)丙 (D)丁。



- ( ) 24. 亞洲基礎設施投資銀行(簡稱亞投行)，是一個向亞洲各國提供援助以支持基礎設施建設的開發機構，目的在促進亞洲的建設和經濟，並且加強中國及其他國家的合作。以中國為主要出資者的亞投行，代表中國嘗試以什麼優勢與亞洲其他國家進行關聯？(A)資金 (B)勞力 (C)原料 (D)市場。

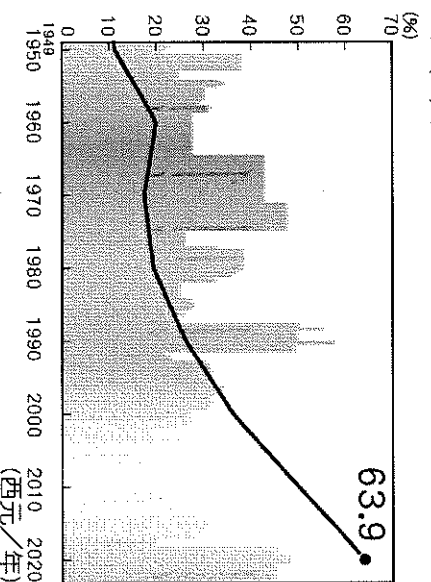
- ( ) 25. 承上題，亞投行成立目的，與下列哪一項中國近代經濟政策或構想最為接近？(A)經濟特區 (B)一帶一路 (C)改革開放 (D)十大建設。
- ( ) 26. 長期以來，中國經濟「東強西弱」，東部沿海省份的經濟生產總值遙遙領先，西部相對落後。請問：下列何者不是東部經濟帶沿海省份發展的優勢條件？(A)勞力充足 (B)交通便利 (C)政策優惠 (D)礦產豐富。

- ( ) 27. 「中國北方較南方利於重工業發展；南方昔日則以輕工業為主。」請問：上述現象的產生，是因北方有哪一項優勢條件？(A)人口較多 (B)電力充分供應 (C)糧食供應充足(D)煤、鐵、石油等礦產豐富。

- ( ) 28. 上海迪士尼樂園是繼香港後中國境內第二座迪士尼樂園，設計理念圍繞著「原汁原味的迪士尼，但是具有獨一無二的中國味」。請問：迪士尼樂園在中國就設立了兩座，主要是看上中國哪項優勢？(A)電力充足 (B)工資低廉 (C)具獨特文化 (D)市場潛力大。

- ( ) 29. 中國網路消費社會成形，創造蓬勃的商業交易，下列哪些是屬於建構網路消費社會的重要基礎設施？(甲)充足的原料 (乙)豐富的能源 (丙)便利的交通 (丁)高效率的物流 (戊)發達的電子金融系統 (A)甲乙丙 (B)甲丁戊 (C)乙丙丁 (D)丙丁戊。

- ( ) 30. 附圖是中國於西元1950~2020年某一指標的變化趨勢。該指標最可能是下列何者？(A)都市人口比例 (B)壯年人口比例 (C)男性人口比例 (D)農業人口比例。



- ( ) 31. 近年來，中國的經濟快速發展，傳統自給性農業面臨轉型，朝向下列何種方向發展？

(甲)商品化 (乙)粗放化 (丙)專業化 (丁)機械化  
(A)甲乙丙 (B)甲乙丁 (C)甲丙丁 (D)甲乙丙丁。

- ( ) 32. 2010年浙江吉利控股集團併購瑞典的富豪(Volvo)汽車，將生產線移至中國並持續經營及銷售該品牌汽車，並未更改名稱。上述併購行為對該企業有哪些效益？(A)甲乙 (B)甲丙 (C)乙丙 (D)丙丁。

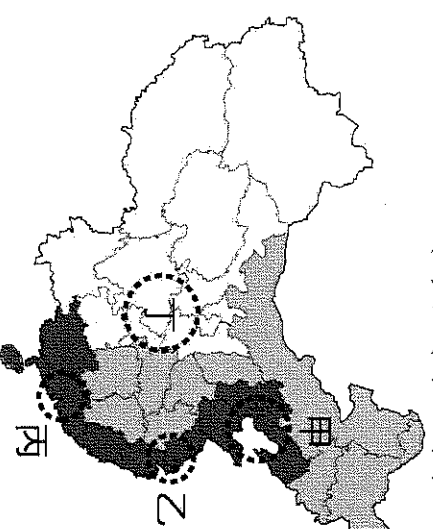
甲：取得礦產資源 乙：打進歐洲市場  
丙：獲取產業技術 丁：解決貿易逆差

- ( ) 33. 中國沿海、沿江港口、鐵路樞紐、高速公路沿線地區，有比較多的工業發展，主要的原因為何？(A)靠近原料產地 (B)勞動力充沛 (C)方便工人上下班 (D)原料輸入和產品輸出便利。

- ( ) 34. 聯合國《2021年世界投資報告》顯示：「2020年，美國是全球最大的外國直接投資接受地，其次是中國、香港和新加坡。在對外投資貢獻方面，中國居首位，其次是盧森堡和日本。」根據上文，下列敘述何者正確？

(甲)中國為全球主要資金流出及流入國  
(乙)中國為接受外國直接投資金額最多的國家  
(丙)中國對外國的投資金額為全球最多  
(A)甲乙 (B)乙丙 (C)甲丙 (D)甲乙丙。

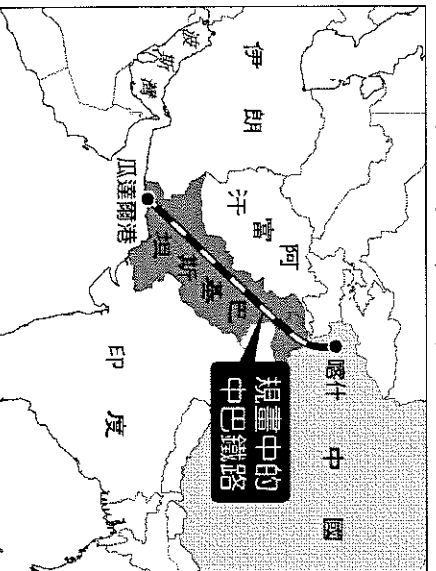
- ( ) 35. 「京唐城際鐵路」於西元2016年開工，是服務於北京、天津、河北地區的一條城際高速鐵路，完工後，將可提升附圖哪一經濟圈的城市交通便捷度？(A)甲 (B)乙 (C)丙 (D)丁。



※中國自一九八〇年代改革開放以來，設立廈門、汕頭、深圳、珠海、海南五個經濟特區。請問：

- ( ) 36. 上文中提到的五個經濟特區，大多位於下列哪兩個地形區內？(甲)雲貴高原 (乙)東南丘陵 (丙)長江三角洲 (丁)珠江三角洲 (A)甲乙 (B)甲丁 (C)乙丁 (D)丙丁。
- ( ) 37. 這五個經濟區設立之初具有下列哪些優勢，吸引外資設廠？(甲)廉價勞力 (乙)優惠政策 (丙)便利交通 (丁)豐富能源 (戊)充足鐵礦 (A)甲乙丙 (B)甲丁戊 (C)乙丙丁 (D)丙丁戊。
- ( ) 38. 澳門自葡萄牙回歸中國後，在中國的地位日趨重要。請問：下列哪個經濟特區因毗鄰澳門，成為中國最早實行對外開放政策的四個經濟特區之一？(A)深圳 (B)珠海 (C)廈門 (D)汕頭。

※西元2016年11月13日，巴基斯坦中資港口瓜達爾港正式開航。瓜達爾港是一個深水港，從西元2002年3月開工興建，到西元2016年11月完工。該港口建成後，可串聯中國在伊朗投資的石油碼頭，讓石油能通過恰巴哈爾港用管道運輸到瓜達爾港。待中巴石油管道完工，從伊朗及西亞的石油，就可以通過這個港口直接運輸到中國境內，避開了危險四伏的麻六甲海峽。港口完工後，中巴經濟走廊也正式啟動。該經濟走廊包括公路、鐵路、油氣和光纜通道在內。根據專家預測，附圖中的「中巴鐵路」將在西元2030年開工，並於西元2040年建成通車。請問：



- ( ) 39. 文中提及的中巴鐵路，其位在中國的起點位於哪一個行政區內？(A)新疆 (B)廣西 (C)寧夏 (D)內蒙古。
- ( ) 40. 文中提及的中巴鐵路，其沿線所經過的氣候區多與中國喀什一帶相似。依此判斷，其氣候特徵應為下列何者？(A)全年有雨 (B)全年少雨 (C)夏乾冬雨 (D)夏雨冬乾。
- ( ) 41. 依據附圖判斷，瓜達爾港瀕臨下列哪一片海域？(A)太平洋 (B)大西洋 (C)印度洋 (D)北極海。

※附圖是2004、2020年外國對中國投資行業比例圖，請回答下列問題。



- ( ) 42. 2004年外國最主要投資哪一個行業？  
(A)製造業 (B)房地產業 (C)租賃和商務服務業 (D)批發和零售業。
- ( ) 43. 相較於2004年，2020年外國投資下列哪種產業增加比例最高？(A)製造業 (B)房地產業 (C)租賃和商務服務業 (D)批發和零售業。
- ( ) 44. 什麼原因讓中國擁有龐大的消費潛力？  
(A)面積廣大 (B)習慣現金交易 (C)人民所得增加 (D)一胎化政策。

基隆市立武崙國民中學 112 學年度第一學期八年級地理科第二次定期評量答案卷

八年 \_\_\_\_\_ 班 座號： \_\_\_\_\_

姓名： \_\_\_\_\_

單選題得分	非選擇題得分	總分

◆第二大題：非選擇題，每格 1 分 (請以黑色或藍色原子筆書寫，違者不予計分)

※中國各大都市各有不同的發展歷程與特色，以下是四個城市的描述，請配合下方地圖，完成以下表格：

都市名稱	位置	特色
北京	甲	A
廣州		
深圳		
上海		

特色：

- (A) 中國的政治中心，也以豐富、悠久的歷史文化聞名。
- (B) 珠江流域的門戶，中國南方水陸交通樞紐。
- (C) 中國海岸線中點和長江的出海口，交通位置優越且腹地廣大，中國重要的金融中心。
- (D) 臨近香港，設立經濟特區後，吸引大量新創企業與人才。

※附圖為世界簡圖，請配合下方地圖，完成以下表格：

特色	代號	名稱
A	①	北極海
B		
C		
D		

特色：

- (A) 又稱北冰洋，位於北極圈內，大致以北極點為中心，約占世界大洋面積的 3.6%。
- (B) 面積最大的海洋，比地球上所有陸地面積的總和還要大，位於亞洲與美洲之間。
- (C) 該洲橫跨了東半球和西半球，包澳洲和紐西蘭和太平洋上的許多小島。
- (D) 該洲是面積最大的洲，人口約 45 億人，佔世界總人口 60% 以上。