

選擇題：一題 2 分，共 100 分


請將該題的正確答案在答案卡上塗黑、塗滿

- 日軍犯臺促使清廷重視臺灣，當時是誰強調：「臺地向稱饒沃，久為他族所垂涎，……臺灣海外孤懸，七省以為門戶。」，故在牡丹社事件時，被派為欽差大臣，來臺積極建設？
(A)劉銘傳 (B)沈葆楨 (C)施琅 (D)沈有容。
- 小美到便利商店購買飲料時，發現瓶上的標示如右圖，此洋行最初是在清帝國時期由英國商人所設立，現在則為臺灣的進出口貿易公司。請問：此洋行最可能是下列哪個歷史事件發生後始設立於臺灣？
(A)甲午戰爭 (B)清法戰爭 (C)牡丹社事件 (D)英法聯軍之役。
- 清帝國領有臺灣初期，臺灣的最高行政單位是下列何者？
(A)臺灣府 (B)臺灣縣 (C)臺南府 (D)臺北府。
- 今日高雄可見到鳳山縣舊城的遺跡。請問：這古蹟是自何時留存至今？
(A)鄭氏時期 (B)清康熙年間 (C)清乾隆年間 (D)清嘉慶年間。
- 保存古蹟的意義，在於它們能引領後人回到歷史現場，去感受當時的重大變遷或現象。基隆的「海門天險」與臺南的「億載金城」均為國定古蹟，這兩處古蹟的出現，反映當時有何迫切的需要？
(A)招撫原住民 (B)開墾山地、丘陵 (C)防止列強入侵 (D)掃蕩叛亂勢力。
- 嘉慶年間，海盜侵擾蛤仔難，平定後，清廷在此地設立哪一行政區加強治理？
(A)彰化廳 (B)宜蘭縣 (C)淡水廳 (D)噶瑪蘭廳。
- 二二八和平紀念公園內陳列有臺灣最早火車頭，此文物可用來說明哪一項史實？
(A)臺灣鐵路最早通車的路段是臺北到新竹 (B)臺北市是全臺灣最早發展的地區 (C)臺灣省鐵路建設功臣是劉銘傳 (D)臺灣第一條鐵路在日治時期通車。
- 荷蘭統治臺灣時期，荷蘭人以許多優惠條件招募漢人來臺灣，其目的是下列何者？
(A)利用漢人，與原住民貿易 (B)開墾土地，提高農業生產力 (C)充任傭兵，從事對外擴張 (D)開挖煤礦、砍伐林產資源。
- 臺灣最早的郵政總局可追溯到哪一時期？
(A)清帝國時期 (B)鄭氏時期 (C)國際競爭時期 (D)日治時期。
- 下表是荷蘭統治臺灣時期，對原住民傳教成果的統計。由表中內容，我們「不能」從中讀出下列哪一項訊息？

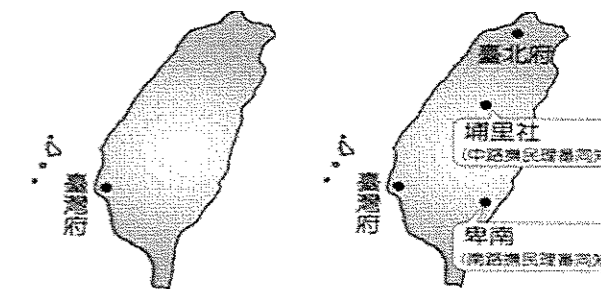
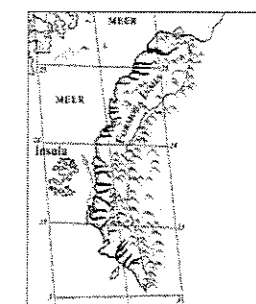
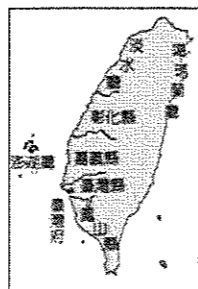
社名	人口數 (人)	受洗者 (人)
新港社	1,047	1,047
蕭壠社	2,600	282
目加溜灣社	1,000	261
麻豆社	3,000	215
大目降社	1,000	209

- (A)新港社原住民的宗教信仰改變最大 (B)各原住民社群皆有人接受新的宗教
(C)荷蘭人使用武力脅迫人民改變信仰 (D)麻豆社受洗者的人數比例最少。

- 明馥參觀臺南古蹟，發現有某些洋行建築遺跡。請問：臺灣開始這些洋行設立的背景為何？
(A)英法聯軍之役，中國戰敗，臺灣開港通商，外國商人於通商口岸設立洋行
(B)荷蘭人據臺時期所設立的聯合東印度公司附屬貿易機構
(C)西班牙人占臺時期所設立的中日國際貿易轉運站
(D)鄭氏治臺時期為了加強與英國的國際貿易而設立。
- 小馨在書上看到一張 1879 年繪製的《臺灣前後山全圖》，她觀察到此圖與之前的臺灣地圖相比較，恆春半島各社已有明顯標示，因此判斷圖是因應某事件後的新軍事建置所繪製。請問：上述的「某事件」應為下列何者？
(A)牡丹社事件 (B)甲午戰爭 (C)清法戰爭 (D)英法聯軍之役。
- 筱平假日與家人到基隆出遊，忽然見到路旁有刻著法文的墓碑（如右圖），此法軍公墓的存在與哪項歷史事件有關？
(A)開港通商 (B)牡丹社事件 (C)清法戰爭 (D)甲午戰爭。
- 清帝國統治臺灣時期，社會有「三年一小反，五年一大亂」之說法，其中發生在乾隆年間，為天地會黨起義，事件幾乎擴及全臺，清朝派出福康安率領大軍，歷時 14 個月才平定，之後還以「嘉勉義行」的名義把諸羅縣改為嘉義縣。請問：上文所述應為下列哪一事件？
(A)郭懷一事件 (B)朱一貴事件 (C)林爽文事件 (D)戴潮春事件。
- 阿臻在圖書館查詢資料時，發現一幅描繪 17 世紀臺灣原住民使用火槍狩獵的圖（如右圖）。請問：圖中原住民使用的槍枝主要來源最可能為何？
(A)自行發明與製造 (B)與荷、西當局合作以取得
(C)與海商貿易取得 (D)西方傳教士贈送。
- 有關荷蘭人與西班牙人殖民統治臺灣的情形，下列何者敘述正確？(甲)前者占領臺灣北部，後者占領臺灣南部；(乙)兩者均致力於傳教工作；(丙)兩者均致力於土地的拓墾，使農產量大增；(丁)後者終被前者逐出臺灣 (A)甲乙 (B)乙丁 (C)甲丁 (D)丙丁。
- 《臺灣府志》〈土番風俗〉提到：「自紅彝以來，習其字能書者，謂之『教冊』，凡出入之數，皆經其手，用鵝管削尖，濡墨橫書，自左而右，非直行也。」文中所提到的「教冊」，其背後的歷史意義為何？
(A)西班牙人以羅馬文字教授臺灣的原住民書寫自己的語言
(B)荷、西兩國與臺灣原住民溝通使用的共同文字
(C)荷蘭人以羅馬拼音教導原住民寫出自己的語言
(D)臺灣原住民為了與荷蘭人溝通而自己發明的文字。
- 16 世紀中葉的臺灣，有一群人被認為是凱達格蘭族支系的原住民，他們除了語言能力好，並擅長漁獵、操舟和外人接觸頻繁。請問：上文中提到的原住民，應該是下列何者？
(A)泰雅族 (B)賽夏族 (C)噶瑪蘭族 (D)馬賽人。
- 明清以來，臺灣開發的方向是由南而北，再由西而東，可由下列何者得到證明？
(A)行政區的增加 (B)鐵路的建設 (C)番界的遷移 (D)礦產的開發。
- 清末，中國政局紛亂，對外戰爭頻傳，戰火時常波及臺灣。請問：在清末，臺灣曾遭受哪些國家的武力攻擊？ (A)西班牙、法國 (B)荷蘭、法國 (C)英國、英國 (D)日本、法國。



- 30.清帝國時期臺灣有「三年一小反，五年一大亂」的說法，下列何者最可能是當時臺灣民變頻傳的原因？
 (A)清初採取積極治臺政策，行政區劃與人員分配不均 (B)清帝國對臺稅收過重，人民反抗
 (C)原住民為求自保，組成各種會黨 (D)無業無家室的漢人移民過多，成為社會動亂的原因。
- 31.近代臺灣建設主要是受外國侵略的刺激而起，其中臺灣建省是受哪一國侵略的影響？
 (A)英國 (B)日本 (C)越南 (D)法國。
- 32.清帝國早期，清廷對臺灣原住民的管理態度為何？
 (A)希望漢人與原住民和諧相處，故長期採取以漢人文化「教化」原住民的策略
 (B)政府畫的「番界」以中央山脈為分界線，以西為「番人」之地，以東為漢人的生活區。
 (C)派遣高山族的勇士守住重要隘口，以免平埔族與漢人間發生衝突
 (D)以立碑與劃界的方式，防止漢人侵墾原住民地區
- 33.右圖為臺灣行政區劃圖，其中彰化縣的設置與下列何事的發生關係最密切？
 (A)日軍侵臺 (B)清法戰爭 (C)英法聯軍之役 (D)朱一貴事件。
- 34.承上題，諸羅縣改名為嘉義縣，則與下列哪個歷史事件有關？
 (A)朱一貴事件 (B)林爽文事件 (C)戴潮春事件 (D)清法戰爭。
- 35.清帝國時期，臺灣的經貿型態在某次對外戰爭後，由原本以中國大陸為主的國內貿易，轉變為以世界各國為對象的國際貿易。請問：這裡所謂的「某次對外戰爭」為下列何者？
 (A)牡丹社事件 (B)英法聯軍之役 (C)清法戰爭 (D)甲午戰爭。
- 36.劉銘傳治臺時，曾經大力推行新政，積極建設臺灣。請問：當時住在臺北的居民，「不可能」經歷以下哪個選項的生活經驗？
 (A)打電報給福州的親友聯絡要事 (B)乘坐火車到臺南飽覽沿途風光
 (C)寄信給臺南親人詢問生活近況 (D)在台北的西式學堂學習西方新知。
- 37.荷蘭人來臺後，在村落中興建教堂，要求族人星期日上教堂、做禮拜，傳教士還為教徒洗禮、證婚。同時，在新港（今臺南市新市區）、麻豆（今臺南市麻豆區）等地建立學校，以稻穀、布匹等物獎勵村民入學。不僅兒童要上學，成年男女也要利用黎明或傍晚上課；不願意的人，會被施以罰款。請問：荷蘭人施行這些措施的目的為何？
 (A)為使原住民信仰基督教 (B)為培育原住民擔任重要官職
 (C)為了進一步破壞原住民文化 (D)為了教育、同化漢人。
- 38.新聞報導：2016年7月28日「還原正義連線」成員破壞鄭成功銅像基座，訴求政府須將《原住民族轉型正義條例草案》列入優先審查，並向原住民道歉。帶領此次行動的成員認為，鄭成功雖然被譽為民族英雄，但實際上並未善待原住民。請問：新聞中的成員主張鄭成功須向原住民道歉，是基於下列何種理由？
 (A)實施軍屯制度，增加糧食產量 (B)來臺漢人增加並積極拓墾土地
 (C)對原住民族進行強烈的軍事鎮壓 (D)給予和政權合作的原住民武器與藥材援助。
- 39.約翰陶德被譽為臺灣的烏龍茶之父，他創辦寶順洋行，引進烏龍茶種到臺灣種植，以「福爾摩沙烏龍茶」為品牌，行銷美國，大受好評，帶起臺灣茶業的風潮。請問：約翰陶德最早可能在何時來到臺灣？
 (A)英法聯軍之役後 (B)牡丹社事件後 (C)清法戰爭後 (D)中日甲午戰爭後。



- 21.某位清代官員認為：「臺地自去年倭人啟釁，外假復仇，內圖占地，狡謀已露，逆釁方張，不得已而有撫番開路之舉。」請問：這段文字可能是何人主張開山撫番的觀點？
 (A)沈有容 (B)施琅 (C)沈葆楨 (D)劉銘傳。
- 22.下列哪一個旅遊景點在清帝國早期為鳳山縣管轄的範圍？
 (A)南投九族文化村 (B)高雄西子灣風景區
 (C)嘉義阿里山國家風景區 (D)臺南曾文水庫。
- 23.荷蘭統治臺灣期間，新港社原住民一直是荷蘭人的盟友。請問：就地緣關係來看，新港社原住民應該主要分布在下列哪個城市？
 (A)臺南市 (B)臺中市 (C)臺北市 (D)花蓮市。
- 24.某位清廷官員治臺期間，將開山撫番分北、中、南三路展開，同時修築通往後山（東部）的道路，今日的蘇花公路、八通關古道與南迴公路的開闢即是此人奠定基礎的。請問：此位官員是指下列何人？
 (A)施琅 (B)沈葆楨 (C)福康安 (D)劉銘傳。
- 25.右圖是清康熙年間由西洋傳教士繪製的臺灣地圖。此圖只繪製臺灣西半部，反映出當時清廷治臺的何種政策？
 (A)開港通商，設定西半部為對外貿易據點
 (B)禁絕漢人渡臺，防止臺灣成為反清基地
 (C)施行劃界封山，禁止漢人入侵原住民區
 (D)加強建設西半部，使該地成為海防重鎮。
- 26.清同治末年，中日簽訂的專約中記載：「茲以臺灣生番曾將日本國屬民等妄為加害，日本國本意唯番是問，遂遣兵往彼，向該生番等詰責。」請問：此事對臺灣「沒有」產生什麼影響？
 (A)清帝國開始積極建設臺灣 (B)臺灣因此成為日本屬地
 (C)安平等地開始建設砲臺 (D)來臺官員取消了限制移民的政策。
- 27.基隆的「獅球嶺隧道」是三級古蹟，為全臺的第一個隧道，隧道出口上有當時的臺灣巡撫所題的「曠宇天開」四字。請問：這題字應是出自何人之手？
 (A)劉銘傳 (B)施琅 (C)沈葆楨 (D)鄭成功。
- 28.圖(一)及圖(二)為清帝國時期，臺灣的行政區劃圖。請問：由圖(一)演變為圖(二)是因為發生了下列哪一個歷史事件？
 (A)英法聯軍之役 (B)牡丹社事件
 (C)清法戰爭 (D)甲午戰爭。
- 29.十九世紀後期，一位美國學者到臺南考察，當地西拉雅族頭目帶著二十餘份文件讓他瀏覽，這些文件以羅馬字母、漢字拼寫，標注清代雍正、乾隆及嘉慶的年號和日期，又蓋有印章。他認為這是極有價值的史料，因此便以槍枝換取了這些文件。這些文件的內容最可能包含下列何者？
 (A)鄭經征討大肚王事件始末 (B)洋行與原住民間的貿易資料
 (C)原住民與漢人土地交易契約 (D)臺灣總督府林野調查紀錄。

50. 志明、春嬌二人在討論清末某一事件之對話如下，請根據他們的論述，回答問題：

志明：日本國這次的行動，清廷居然承認是保民義舉的行為。

春嬌：對於此次事件遇害難民的家屬，清廷事後都有給予撫卹銀兩，而且針對這次日本出兵的相關費用，清廷也都給予補償。

根據志明所說的「清廷承認日本此舉是『保民義舉』的行為」，所謂的「保民」是指哪一地方的人民？

- (A)越南 (B)臺灣 (C)琉球 (D)澎湖。

40.右圖是臺灣在清帝國某時期的行政區劃圖。請問這是在哪場戰爭哪個官員來台後發生的事？

- (A)牡丹社事件日軍犯臺、施琅 (B)清法戰爭、沈葆楨
(C)清法戰爭、劉銘傳 (D)英法聯軍之役、劉銘傳。

41.林志遠是福州人，他搭船抵淡水，進臺北府城，接獲公司電報，告以公司要務，急須返閩。請問：此情形在何時才可能發生？

- (A)英法聯軍發生後 (B)牡丹社事件發生以後
(C)清法戰爭前 (D)臺灣建省後。

42.右圖的四張卡片分別代表清朝曾對臺灣採取的統治措施。請問：這些措施何者代表清朝從此改變消極治臺的原則，轉而積極建設臺灣？

- (A)甲 (B)乙 (C)丙 (D)丁。

43.承上題，請根據時間發生的順序，排列這四張卡片。

- (A)甲丙丁乙 (B)乙丁甲丙 (C)丙乙丁甲 (D)丁丙乙甲。

44.劉銘傳在臺灣推動近代化的自強新政，是受下列哪一件史事的刺激？

- (A)清法戰爭，法軍攻占基隆 (B)英法聯軍之役後開港通商
(C)牡丹社事件，日軍侵犯臺灣 (D)光緒初年，日本吞併琉球。

45. 由沈葆楨、劉銘傳等人來臺建設的重點項目，反映出當時清廷治臺最主要的目的為何？

- (A)墾殖移民增多，加強行政管理 (B)增強海防建設，鞏固東南海疆
(C)提倡新式工業，增加賦稅收入 (D)推動儒學教育，落實文化建設。

46.右圖哪個勢力遭到鄭氏政權軍事鎮壓後，勢力逐漸衰微？

- (A)甲 (B)乙 (C)丙 (D)丁。

47.清帝國末年，朝廷為了越南問題與某一國家爆發激烈戰鬥，戰火延燒至基隆、淡水、澎湖等地，此場戰爭對臺灣的主要影響「不」包含下列何者？

- (A)改建為省，提升臺灣行政層級 (B)興建億載金城，強化臺灣防衛
(C)增設台東直隸州，拓墾臺灣東部 (D)開始各項建設，成為自強運動的模範省。

48. 阿治是個生活在康熙晚年努力賺錢打拼養活妻小的福建人。(甲)他想到臺灣打拚卻無法攜帶妻兒，忍痛將妻兒託給鄰人照顧後，隻身前往臺灣，(乙)遇上無良中間人差點溺死在臺灣海峽。好不容易自行脫困游上岸卻捲入(丙)朱一貴事件，被官府逮捕入獄，還好發現是誤會一場而被釋放，(丁)阿治最後與同鄉一起開墾今天臺北盆地。以上是某一歷史小說內容，其中阿治的哪一遭遇「不符合」史實？ (A)甲 (B)乙 (C)丙 (D)丁。

49.臺灣某時期的官方記載：「臺灣南部地區的許多居民已經歸順入侵的敵人。這些居民現在已經不屑於我們努力推動的基督信仰，並且因不用再上學而感到高興。」文中所提「入侵的敵人」最可能是指下列何者？

- (A)鄭成功陣營 (B)清帝國軍隊 (C)西班牙政府 (D)荷蘭聯合東印度公司。

