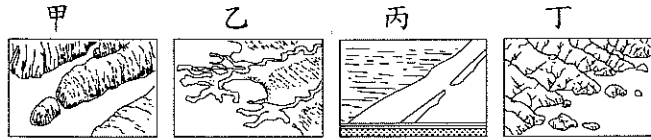


本試卷均為單一選擇題。共 50 題，每題 2 分，總計 100 分。請用 2B 鉛筆將正確答案畫在答案卡上，

考試結束後務必交回答案卡給監考老師。試題卷上也請寫上答案並妥善保管，日後上課需要檢討。

班級：_____ 姓名：_____ 座號：_____

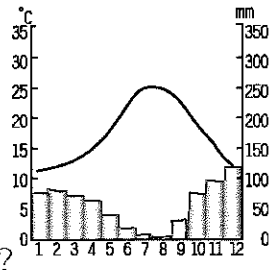
- 14.() 歐洲大陸的沿海除有島嶼遍佈的『谷灣』地景也擁有雄偉壯闊的『峽灣』風光，請問兩者的示意圖分別為何？



- (A)甲、乙 (B)乙、丁
(C)丙、丁 (D)丁、甲

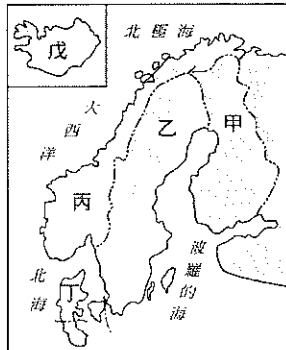
- 15.() 阿爾卑斯山為歐洲大陸的主要山脈，其高聳挺拔的壯闊美景，每年吸引來自世界各國的遊客前往朝聖。請問關於此座山脈的描述下列何者正確？
(A)地質古老礦產資源較豐富
(B)南北向縱走阻擋海洋水氣
(C)冰河谷地為重要交通孔道
(D)為歐洲與亞洲的主要界山。

- 16.() 附圖為歐洲某都市的氣候圖，觀察此圖可以發現該地乾濕季相對分明，請問此地的夏季和冬季分別是受到哪個因素的影響而導致季節降水不均？



- (A)副熱帶高壓、西風 (B)太平洋高壓、信風
(C)距海遙遠、赤道低壓 (D)熱力對流、背東南信風

- 17.() 允熙和配偶前往希臘度蜜月，兩人在當地體驗美食、參觀歷史古蹟及欣賞藝文表演，請問下列哪項行程不該出現在他們的希臘蜜月之旅？
(A)前往衛城在大理石建成的帕德嫩神廟前甜蜜合影
(B)搭乘豪華郵輪航行在谷灣曲折島嶼眾多的愛琴海
(C)參訪雄偉的聖家堂並到酒吧欣賞佛朗明哥舞表演
(D)在聖托里尼島的白牆藍屋頂下大啖美食佐以紅酒



- 18.() 北歐各國擁有豐富的自然資源與美景。請問下列稱號依序為哪些國家所擁有？(1)千湖國 (2)峽灣國 (3)歐洲牧場 (4)冰火王國
(A)甲、乙、丙、丁
(B)甲、丙、丁、戊
(C)乙、丙、戊、甲
(D)丙、丁、乙、戊

- 19.() 若將歐洲平原地區的各项氣候數據『由西向東』呈現，下列哪組排列順序較為正確？

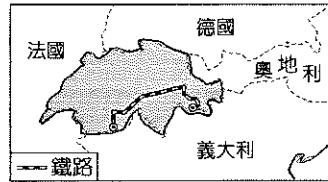
- 年雨量愈□、年均溫愈□、年溫差愈□
(A)多、高、小 (B)多、低、小
(C)少、高、大 (D)少、低、大

- 20.() 大西洋暴風雨持續影響歐洲地區，導致海上石油的開採量大為減少，請問這將直接導致下列哪一產油區石油產量銳減？
(A)阿拉斯加北坡原油 (B)北海布蘭特原油
(C)波斯灣杜拜原油 (D)西德克薩斯原油。

- 21.() 高鈣、高纖、抗氧化等具備健康概念的『地中海飲食』在現代人養生的思維下蔚為風尚，請問標榜提供地中海飲食的餐館會推出哪些食物組成的套餐來吸引想要養生的消費族群？
(A)甜玉米、辣椒、馬鈴薯、咖啡
(B)胡椒、茴香、肉豆蔻、椰子汁
(C)椰棗、小麥、棕櫚油、駱駝奶
(D)番茄、蔬菜、橄欖油、葡萄酒

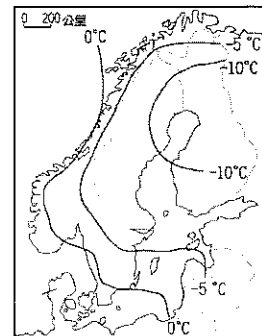
- 22.() 臺灣電子大廠鴻海在 2000 年前往捷克投資生產，成為歐洲市場的蘋果電腦生產基地。請問鴻海公司前往捷克設廠的主要原因為何？
(A)位置適中交通方便
(B)人民素質高有創意 (C)勞資便宜關稅優惠 (D)水電廉價政府友台。

- 23.() 附圖為歐洲某條鐵路的路線圖，請問該鐵路全線的海拔高度變化最可能為下列何者？



- (A) (B) (C) (D)

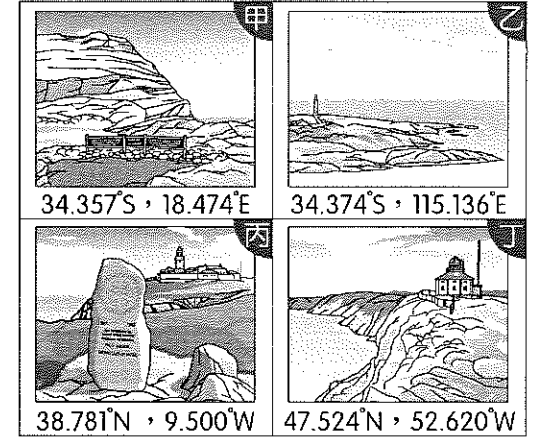
- 24.() 右圖為北歐一月均溫分布圖，請問其溫度分布受到下列哪些因素影響？
(甲)西風 (乙)緯度 (丙)暖流 (丁)地形



- (A)甲、乙
(B)甲、丁
(C)乙、丙
(D)丙、丁

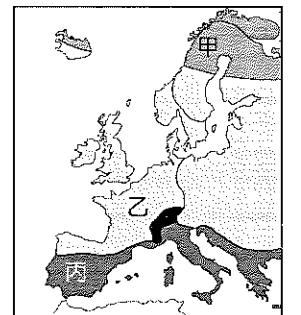
- 1.() 歐洲阿爾卑斯山以南的三大半島，在地形上最大的特色為何？ (A)板塊擠壓，地形崎嶇不平 (B)平原為主 (C)為一高原古陸塊 (D)冰河地形發達
- 2.() 歐洲的經濟發達，醫療衛生水準相當進步，人民平均壽命長。上述情況會造成當地何種社會現象？
(A)人口老化現象 (B)人口素質不佳
(C)人口分布平均 (D)人口呈負成長
- 3.() 近年來，俄羅斯的經濟快速發展，下列何者為其經濟成長的主因？
(A)積極加入歐盟
(B)恢復計畫式經濟
(C)大量出口能源，賺取外匯
(D)利用便宜的勞力，進行加工出口業
- 4.() 南歐的農業活動受自然環境的限制，耕種方式以灌溉農業為主。這現象和下列何者關係最為密切？
(A)面積廣大 (B)夏乾冬雨
(C)山多田少 (D)海岸線長。
- 5.() 北歐的社會福利財源來自於人民的納稅錢，政府因而提高稅率以支應龐大的福利基金。必須提高稅率的原因，是受到何項因素的影響？
(A)自然資源耗盡 (B)高齡化社會
(C)捲入他國戰爭 (D)政府貪汙嚴重
- 6.() 英國早期以煤礦發展工業，成為經濟強國，進入 20 世紀後，由於何種能源的開採，得以維持工業優勢？ (A)太陽能 (B)天然氣 (C)水力 (D)石油。
- 7.() 阿爾卑斯山是歐洲最高大的山脈，號稱『歐洲屋脊』，此山間有許多谷地，為南北向的『天然孔道』。這些『天然孔道』是指什麼？ (A)冰蝕作用形成的 U 型谷 (B)河蝕作用的峽谷 (C)溶蝕作用的岩溝 (D)斷層作用的裂谷。
- 8.() 下列為一則報導：『歐盟為重振受重挫的觀光業，大力呼籲以疫苗護照為標準開放邊境。然而世界衛生組織以接種不代表不會傳染他人為由反對開放邊境』。報導中的開放邊境，指的最可能與下列哪一歐盟合作內容有關？
(A)申根區 (B)外交同盟
(C)歐元區 (D)文化遺產。

- 9.() 俄羅斯居民以斯拉夫民族為主，多信奉哪一種宗教？ (A)猶太教 (B)東正教 (C)天主教 (D)伊斯蘭教。
- 10.() 「歐洲文明的發源地，港灣眾多，因此航海貿易相當發達。」上述指的國家應為下列何者？ (A)英國 (B)美國 (C)希臘 (D)西班牙。
- 11.() 附圖為全球四個著名岬角的位置資訊，其中何者位於歐亞大陸西部海岸？



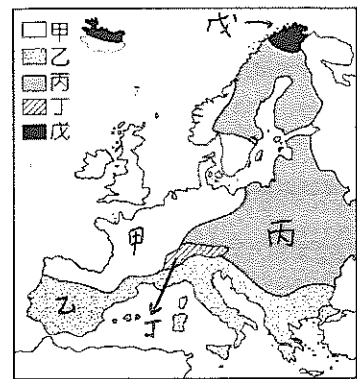
- (A)甲 (B)乙 (C)丙 (D)丁。

- 12.() 歐洲人對飲酒相當講究，不同酒品各有特殊的飲用方式。其中『葡萄酒帶』以溫帶地中海型氣候區為主；『啤酒帶』則以溫帶氣候的大麥、啤酒花適種區有關；高酒精濃度『伏特加帶』多與氣候寒冷居民喜好、用以暖身為主。根據上文敘述，請問葡萄酒帶、啤酒帶、伏特加帶在上圖中的位置順序何者正確？
(A)甲、乙、丙 (B)甲、丙、乙
(C)丙、甲、乙 (D)丙、乙、甲。




- 13.() 歐洲的土地利用受冰河作用的影響，如冰河堆積的平原從事牧業，沿海峽灣則從事海上活動。請問歐洲冰河作用的成因和下列哪兩者的關係最大？
(A)平坦開闊、侵蝕旺盛
(B)地處高緯、地勢高聳
(C)海岸線長、地勢高聳
(D)面積廣大、緯度較高。

*附圖為歐洲氣候分布圖，請參考附圖回答第37~38題：

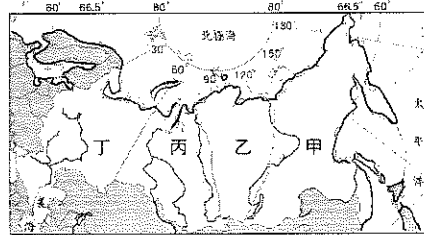


- 37.() 請問哪一個地區氣候呈現垂直變化的趨勢，並影響當地傳統的農牧業活動？(A) 甲 (B) 乙 (C) 丙 (D) 丁

- 38.() 下圖為 ㄅ、ㄆ、ㄇ 三國的季節性降水特色，請問這三國分別依序為在歐洲氣候分布圖的哪一區？
(A) 甲、乙、丙 (B) 甲、丙、乙
(C) 乙、丁、戊 (D) 丙、戊、乙

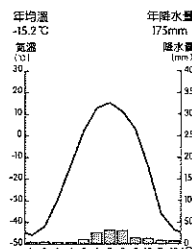


*附圖為俄羅斯地形分區示意圖，請回答第39~47題：



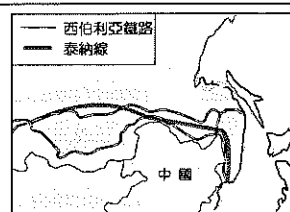
- 39.() 請問附圖的甲、乙、丙、丁分別為哪種地形？
(A) 山地、平原、高原、平原
(B) 山地、高原、平原、平原
(C) 平原、平原、高原、山地
(D) 平原、山地、高原、平原
- 40.() 新聞快報：「俄羅斯境內出現規模達 6.8 的淺層地震，雖有劇烈的搖晃但所幸至今未傳出嚴重的傷亡事件。」請問上述新聞最可能的發生在附圖何處？
(A) 甲 (B) 乙 (C) 丙 (D) 丁
- 41.() 俄羅斯境內人口分布極度不均，請問附圖中哪一個地區的人口相對密集？
(A) 甲 (B) 乙 (C) 丙 (D) 丁
- 42.() 下列哪些為俄羅斯交通及戰略位置重要的原因？甲.地跨歐亞兩洲 乙.長程飛彈技術先進 丙.鄰近北極海域 丁.礦產資源豐富 (A) 甲、乙 (B) 甲、丙 (C) 乙、丙 (D) 丙、丁
- 43.() 俄羅斯河川眾多，請問關於該國水系及內河航運的敘述下列何者『有誤』？
(A) 氣候寒冷冰封期長 (B) 多向北流入北極海 (C) 河網密佈航運價值高 (D) 窩瓦河因運河興建價值提升。

- 44.() 西伯利亞豐富的礦產為帶動俄羅斯經濟發展的重要動力。若要將此地的煤、鐵礦運送至俄羅斯各地進行加工生產，則以何種交通工具最為適合？(A) 公路 (B) 河運 (C) 管線 (D) 鐵路。
- 45.() 附圖是維科揚斯克的氣候區圖，請問下列哪項敘述『並非』此地的環境特色？(A) 年溫差極大 (B) 永凍土層厚難農耕 (C) 氣候乾冷冬季漫長 (D) 屬溫帶大陸性氣候
- 46.() 關於俄羅斯在歐俄平原和東南沿海地區雨量較多的原因，下表敘述何者正確？



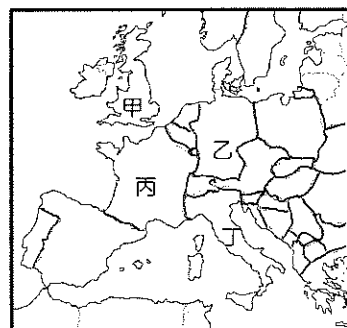
	歐俄平原	東南沿海
(A)	冬季西風吹拂	夏季西南季風吹拂
(B)	夏季西風吹拂	夏季東南季風吹拂
(C)	極圈氣旋帶籠罩	黑潮調節
(D)	北大西洋暖流調節	親潮調節

- 47.() 附圖為中國與俄羅斯共同合作的「泰納線」管線工程，目的是運送某種資源，以提供中國的工業發展。請問此種資源為下列何者？(A) 石油 (B) 鐵礦 (C) 稀土 (D) 電力

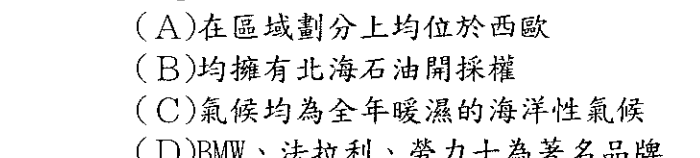


*請參考附圖回答第48~50題：

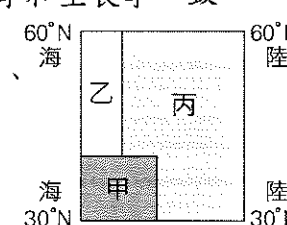
- 48.() 該國以時尚產業與觀光旅遊業著名。此外，其航空、高鐵及捷運系統也行銷到全球。請問此國最可能位於圖中何處？(A) 甲 (B) 乙 (C) 丙 (D) 丁
- 49.() 該國擁有品質極佳的煤礦，加上雄厚的科技實力與實事求是的民族精神，讓其產品以創新和高品質著稱，十分受全球消費者喜愛。請問此國最可能位於圖中何處？(A) 甲 (B) 乙 (C) 丙 (D) 丁
- 50.() 某女星熱愛收集 Gucci 皮件、開法拉利跑車、收藏許多威尼斯嘉年華舞會的面具並積極爭取前往米蘭參與時尚週的盛宴。請問此位女星偏愛哪一國家的商品？(A) 甲 (B) 乙 (C) 丙 (D) 丁



- 25.() 小宥計劃利用留學的兩年走訪歐洲四大半島，請問他若從土耳其出發『逆時針』前行，依序到訪的半島排列下列何者正確？(A) 伊比利→義大利→巴爾幹→斯堪地那維亞 (B) 斯堪地那維亞→伊比利→義大利→巴爾幹 (C) 巴爾幹→義大利→伊比利→斯堪地那維亞 (D) 義大利→巴爾幹→斯堪地那維亞→伊比利
- 26.() 附圖為歐洲國家的 GDP 占歐洲整體比例圖，關於圖中『前三名國家』的敘述，下列何者正確？
(A) 在區域劃分上均位於西歐
(B) 均擁有北海石油開採權
(C) 氣候均為全年暖濕的海洋性氣候
(D) BMW、法拉利、勞力士為著名品牌



- 27.() 西班牙因其優越的自然環境在沿海平原種植大量蔬菜、水果外銷給西、北歐國家食用，而贏得「歐洲菜籃子」的美名。請問西班牙擁有的優越條件為下列何者？(A) 土壤含豐富礦物質 (B) 平原寬闊交通便利 (C) 緯度低生長季較長 (D) 雨季和生長季一致
- 28.() 附圖為歐洲溫帶氣候分布簡圖，請問甲、乙、丙三區的氣候類型排列下列何者正確？(A) 地中海型、大陸性、海洋性 (B) 地中海型、海洋性、大陸性 (C) 海洋性、地中海型、沙漠 (D) 高地、地中海型、過渡性

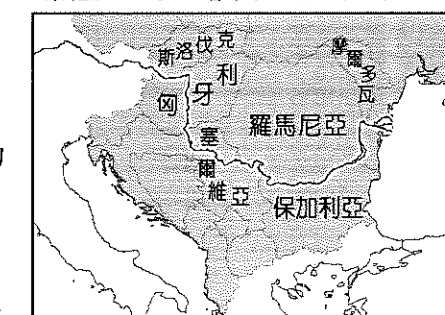


- *為增加國際競爭力，歐洲各國展開一系列的跨國合作並成立歐洲聯盟來與世界其他區域抗衡，請問該組織的功能不包括下列何者？
(A) 會員國為共同市場彼此免關稅
(B) 與會國彼此工業產品規格統一
(C) 為實現自由通行簽署申根公約
(D) 維持區域內和平組織軍事同盟
- 30.() 右圖為歐盟地圖上常見的符號，請問其意義與下列何者最相關？
(A) 代表加入成為會員
(B) 目前屬於候選國 (C) 簽署申根公約 (D) 使用歐元為貨幣



- 31.() 東歐的經濟轉型使得部分國家得以加入歐盟，請問這些東歐國家在歐盟主要扮演哪一種角色？(A) 代工與零組件生產 (B) 資金與技術提供 (C) 精密儀器設備設計 (D) 農業礦物資源輸出
- 32.() 承上題，東歐在歐盟會員國中經濟相對弱勢是因為其在經濟轉型前主要實行哪一種經濟制度？(A) 民主主義自然經濟 (B) 共產主義計劃經濟 (C) 資本主義市場經濟 (D) 社會主義自由經濟
- 33.() 『歐元』為歐洲貨聯盟會員國的唯一法定貨幣。為確保歐元區的穩定發展必須針對申請加入的國家進行審核，請問下列何者最可能是審核的內容？
(A) 人口素質優劣程度
(B) 國內財政經濟狀況
(C) 礦產資源儲量豐缺
(D) 民主政治是否落實
- 34.() 英國的汽車相關產業勞工高達 82 萬人，對英國經濟貢獻良多。然而英國在 2016 年公投決定退出歐盟後，於 2017 年正式啟動脫歐程序。目前有跨國企業正觀察是否取消英國的汽車生產基地，此舉是因為英國退出歐盟後將會失去下列何項優勢？
(A) 與歐盟成員國的貿易不再免關稅
(B) 無法使用歐元為貨幣的匯差損失
(C) 歐盟總部將由英國倫敦移往他處
(D) 英國工業產品規格會與歐陸不同。

*歐洲大平原內河航運十分暢通發達，關於便捷的水上運輸請回答第35~36題：



- 35.() 附圖為歐洲哪條重要河川的示意圖？(A) 波河 (B) 萊茵河 (C) 多瑙河 (D) 窩瓦河
- 36.() 關於多瑙河和萊茵河的比較下列敘述何者正確？

	多瑙河	萊茵河
(A) 流入海洋	北海	黑海
(B) 航運價值	較高	較低
(C) 流域雨量	少	多
(D) 流經國家數	少	多