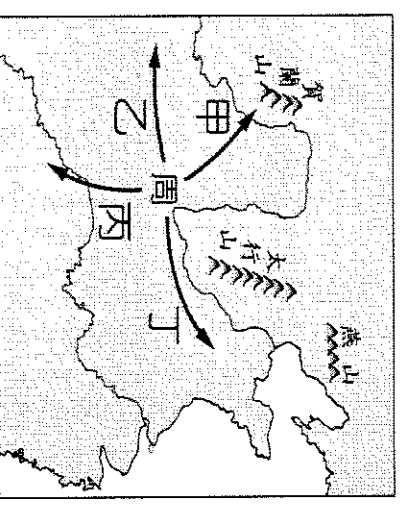


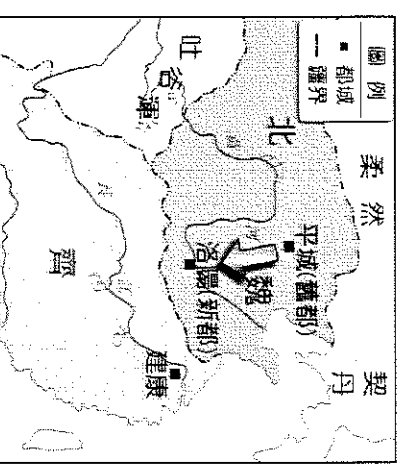
一、單題(每題2分，共60分)

- () 周代的歷史分成「西周」和「東周」，是以哪一件史事來區分？ (A) 嬴政稱帝 (B) 商鞅變法 (C) 王室東遷 (D) 推翻商朝。
- () 小牛參加學校的日語社，老師說日文字母是模仿中國文字而成。請問：日文的創制與下列哪一背景有關？ (A) 張騫出使西域 (B) 日本展開大化革新 (C) 漢武帝設立太學 (D) 秦始皇統一中國。
- () 漢朝的絲綢之路東起長安，西至大秦。請問：漢朝所稱的「大秦」是指當時哪個國家？ (A) 波斯帝國 (B) 阿拉伯帝國 (C) 大食帝國 (D) 羅馬帝國。
- () 秦朝在統一各國後，為加強統治各地，並讓民眾的交易往來更為便捷，而統一了下列哪些制度？ (甲) 度量衡 (乙) 文字 (丙) 貨幣 (丁) 車軌 (A) 甲乙丙丁 (B) 甲丙丁 (C) 乙丙丁 (D) 甲乙丙。
- () 歷史學者曾指出：「西周的封建，乃是一種侵略性的武裝移民與軍事占領。」上述朝代的封建擴張，主要是向附圖中哪一方向？ (A) 甲 (B) 乙 (C) 丙 (D) 丁。
- () 宋代的《開寶本草》提到，胡桃是張騫由西域帶來。清代的《植物名實圖考》提到，胡麻是大宛之物種，隨張騫傳入中國。這兩項物產傳入中國是在哪一個朝代？ (A) 東周 (B) 秦代 (C) 漢 (D) 唐。



甲 上品無寒門，下品無世族
 乙 身分世襲，遵從宗法體制
 丙 朝為田舍郎，暮登天子堂
 丁 經學傳世代，累世任公卿

- () 「東突厥騷擾西域地區已久，聽聞他擊敗東突厥，西域國家感謝不已，決定致上『天可汗』的稱號，所以他不只是中國的皇帝，也是西北、中亞地區各民族的領袖。」請問：文中所說的「他」應該是中國的哪一位皇帝？ (A) 秦始皇 (B) 漢武帝 (C) 唐太宗 (D) 北魏孝文帝。
- () 按照右表諺語及各代任官制度特性，正確的排列順序為何？ (A) 甲乙丙丁 (B) 乙丁甲丙 (C) 丙甲丁乙 (D) 丁丙乙甲。
- () 儒家文化對亞洲地區影響非常深遠，如公車、捷運車廂內「博愛座」之設計，就可以視為一種儒家文化的表現。又如我們所熟知的成語「兄友弟恭」，也足以展示儒家精神。下列選項當中，哪個朝代曾將儒家大力推廣，並將儒家倫理道德的教化融入法律之中？ (A) 商朝 (B) 周朝 (C) 秦朝 (D) 漢朝。
- () 「東亞文化圈」有時也被稱為「漢字文化圈、中國文化圈」，關於東亞文化圈的相關敘述，下列何者正確？ (A) 大食、吐蕃屬於受到東亞文化圈深刻影響的國家 (B) 東亞文化圈主要成形的時間點為隋唐時期 (C) 日本受到深刻的影響，曾被當時的中國稱為君子國 (D) 朝鮮推動大化革新運動，主要目的是用來抵抗東亞文化圈造成的強勢影響。
- () 小丸子上臺報告有關「絲路」的敘述，下列何者有誤？ (A) 其路線為：長安→敦煌→西域→中亞→西亞→大秦 (B) 中國輸往西方的物品主要是瓷器 (C) 西域的繪畫、雕刻和建築藝術經由此路線傳入中國 (D) 佛教經由此路傳入中國。
- () 老師為了今日授課的主題，在黑板上畫了一幅形勢圖，由附圖中的資訊判斷，老師講述的內容最可能是下列何者？ (A) 東周群雄並起的局勢 (B) 秦末群眾的揭竿起義 (C) 北魏的漢化政策 (D) 經濟中心的南移。
- () 「君王集軍政大權於一身，其下有輔助推動政務的宰相，以及漸趨系統化和專業化的文武官員，地方上的郡縣長官也由君王直接任命。這些大小官員大部分不再是憑藉血緣世襲的封建貴族，而是平民出身的才學之士。」上文最能說明中國歷史上何種情況的發展？ (A) 封建的建立 (B) 禮樂的推行 (C) 中央集權的形成 (D) 世族社會的出現。
- () 唐玄宗年間的怛羅斯之役，將中國造紙術輾轉傳入西方，有助於西方文化的發展，這是下列哪一民族影響？ (A) 日本人 (B) 朝鮮人 (C) 印度人 (D) 大食人。



15. ()冠霖是個商人，他回憶年輕的時候做生意需要準備各國錢幣，文字也不盡相同，但到了中年時，國家統一鑄造半兩錢，文字也統一成小篆。上述改變的原因為何？ (A)實施封建制度 (B)推行察舉制度 (C)變成大一統帝國 (D)興建大型工程。

16. ()高度中央集權的國家除了仰賴賦稅制度維持帝國運作外，還依靠環環相扣的官僚集團協助帝國運作。請問：右表中關於各朝代官員選拔的制度，何者正確？ (A)甲 (B)乙 (C)丙 (D)丁。

17. ()萬里長城是中國著名的歷史建築，也是今日重要的世界文化遺產。古代興修此建築的主要目的為何？

項目	朝代	制度
甲	西周	貴族世襲
乙	漢代	科舉制度
丙	魏晉南北朝	平民任官
丁	隋唐	經學取士

(A)避免黃河改道造成氾濫 (B)防止塞外草原民族入侵 (C)阻擋蒙古沙漠持續擴大 (D)建立往東北

移民的據點

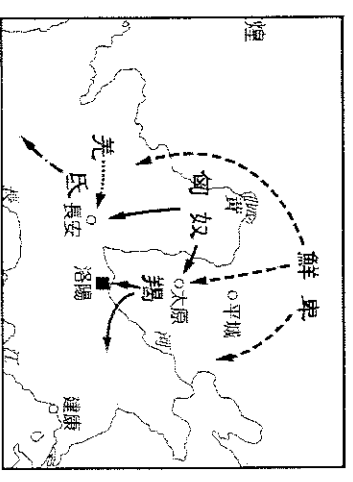
18. ()阿寶到陝西西安旅遊，抵達名勝大雁塔時發現一座巨大的僧侶雕像，這個僧侶在唐初曾千里迢迢前往印度帶回許多佛教經典與文物，這些文物都保存在大雁塔中。請問：這個僧侶雕像應該是何人？

(A)張騫 (B)玄奘 (C)商鞅 (D)嬴政。

19. ()唐彩是中國唐代的藝術精華，有些唐三彩女俑身著窄袖的胡服，與寬袖的漢服，其藝術造型反映了當時唐朝社會何種風貌與時代特徵？ (A)男女平等的開放社會 (B)上品無寒門，下品無世族 (C)女子需遵從三從四德 (D)中外文化兼容並蓄。

20. ()東周時代，各國先後實施變法改革，當時改革如此頻繁的主要背景為何？ (A)社會嚴重貧富不均，人民要求經濟均衡發展 (B)地方政府為求建設，要求中央政府推行變革 (C)各國爭戰不休，兼併激烈，君主變法力求富國強兵 (D)游牧民族威脅各國，君王改革維護邊防安全。

21. ()右圖為某一時期胡人遷徙圖：中國對境外民族遷徙至邊境和內地者，通稱為「胡」，圖中胡人內徙對日後有何影響？ (A)引發犬戎之禍，周王室東遷 (B)中原人士相繼南遷，造成人口南移 (C)開始修築長城，阻隔胡漢衝突 (D)徵調南方人到北方平亂，造成南方人口流失。



22. ()佛教在中國擁有廣大的信眾，在魏晉南北朝時流行於民間，成為重要信仰的原因，何者錯誤？ (A)和中國本土道教思想融合 (B)因戰亂而成為民眾的精神寄託 (C)帝王的提倡 (D)佛經大量的翻譯。

23. ()縱觀中國歷代政治經濟發展，都以北方的黃河流域為重心，但隨著胡人政權逐漸入侵，中國的經濟發展也隨著政權南移而促成南方的開發。請問：促成南方開發的重要關鍵時代為下列何者？ (A)商周時期 (B)秦漢時期 (C)魏晉南北朝時期 (D)隋唐時期

24. ()旅行社規畫了一趟古典歷史之旅，帶領遊客探訪中國舊時貿易路線，行程路線如附圖所示。請問：導遊講解相關歷史時，有可能會提到下列何事？

(A)政府實行封建，分封諸侯 (B)秦代統一貨幣，有利集權 (C)漢代經營西域，東西互動熱絡 (D)唐朝國力強盛，征服外族。

25. ()阿呆將老師黑板上寫的表格抄下來(如附表)，但他忘了抄標題。請問：從表格內容來看，此表格的標題應為何？

長城以北	長城以南
仰賴畜牧逐水草而居	以農業為生大多定居
部落聯盟	中央集權

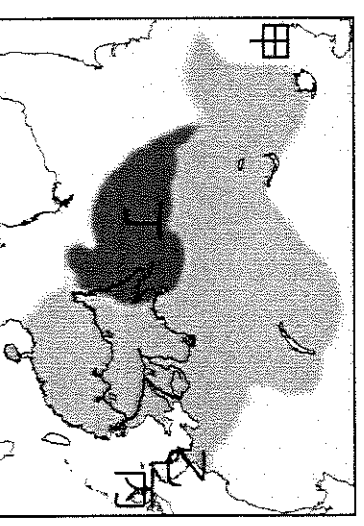
(A)秦與六國 (B)東漢與西漢 (C)西晉與東晉 (D)草原民族與農業民族。

26. ()東周相對於西周，是一個劇烈動盪的時代，政治、經濟、社會、文化各方面都有所變動。請問：關於東周時代的變化，下列配對何者正確？

(A)政治：郡縣制度崩解 (B)社會：貴族沒落，平民崛起 (C)政治：王室強化對諸侯的統治 (D)社會：知識被貴族壟斷

27. ()唐太宗因為外族求取和親，將文成公主嫁往右圖中哪一個國家？

(A)甲 (B)乙 (C)丙 (D)丁。



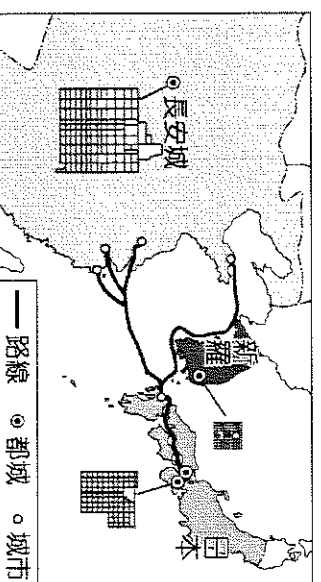
28. ()阿達出生在漢代，想要當官出人頭地，請問右列圖中哪一句是當時社會流行的俗語？
 (A)甲 (B)乙 (C)丙 (D)丁

甲、十年寒窗無人問，一舉成名天下知。
 乙、遺子黃金滿屋，不如教子一經。
 丙、上品無寒門，下品無世族。
 丁、周遊列國，布衣卿相。

29. ()阿夢在《中國成語典》中看到一則成語的典故如右圖，了解到此人改革成功之根本。請問：「此人」是誰？
 (A)張騫 (B)商鞅 (C)嬴政 (D)李斯。

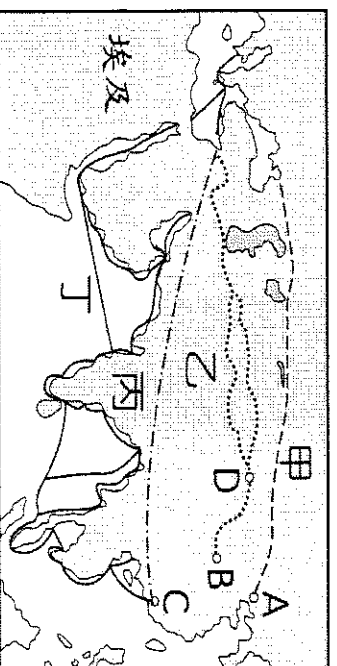
此人建議秦孝公「徙木立信」的故事，證明「誠信是立國之基」的道理。凡從政者必須牢記這一真理，切實做到取信於民。

30. ()右圖呈現某時期東亞部分國家的都城規畫，以及交流路線示意圖。根據內容判斷，圖中的路線最可能是哪一時期？
 (A)秦朝 (B)漢朝 (C)魏晉南北朝 (D)唐朝。



二、題組(每題 2 分，共 40 分)

◎中共國家主席習近平於 2014 年提出「一帶一路」政策，全名稱為「絲綢之路經濟帶和 21 世紀海上絲綢之路」；其中陸路「絲綢之路」在中國歷史上，早於漢代已經開通。請問：



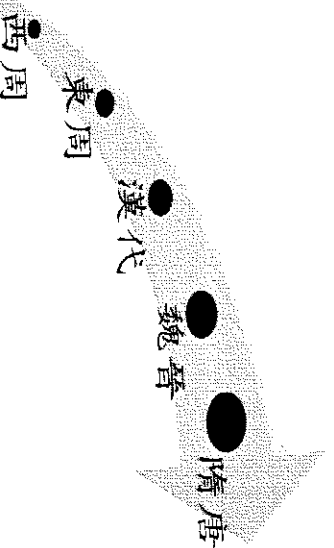
31. ()圖中哪一條路線是張騫出使西域後所開通的「絲路」？ (A)甲 (B)乙 (C)丙 (D)丁。
 32. ()當時開通原因為何？ (A)聯絡西域各國，抵制匈奴 (B)企圖與大秦貿易，籌措攻打匈奴的經費 (C)國力不敵匈奴，而開通和親路線 (D)為修長城，而開通運送材料的通道
 33. ()這條路線的起點位在圖中的何處？ (A)A (B)B (C)C (D)D。

◎元稹是唐代著名詩人，他與另一位詩人白居易同科及第(考取科舉)，兩人結為終生詩友，世稱「元白」。依據學者的考證，元稹的祖先原本出自北魏皇室，後來因為朝廷推動漢化的關係，才改為漢姓「元」。請問：

34. ()元稹的家族最初應該屬於哪個民族？ (A)鮮卑 (B)匈奴 (C)羯 (D)吐蕃。
 35. ()元稹家族的姓氏最初應該為何？ (A)獨孤 (B)劉 (C)拓跋 (D)長孫。
 36. ()元稹的祖先更改姓氏，應該是遵守何人的命令？ (A)秦始皇 (B)漢武帝 (C)唐太宗 (D)北魏孝文帝。

◎歷史老師在課堂上，利用附圖來說明中國的歷史。請參看附圖回答問題：

37. ()「此時只有貴族可以接受教育，百姓根本無從獲得知識，也因此政府的權力被少數人牢牢抓於手中，百姓沒有參與的權利。」請問：這是下列哪一個朝代的敘述？
 (A)西周 (B)東周 (C)漢代 (D)唐代。
 38. ()「佛教鼎盛形成中國化的宗教。」請問：這是下列哪一個朝代的描述？ 東周 (B)漢代 (C)魏晉 (D)唐代。



39. () 「首都長安城布局對稱，城內有官府、里坊民居，外城郭有東市、西市，坊市分離，有固定的營業時間
請問：這是下列哪一個朝代的描述？

(A)東周 (B)漢代 (C)魏晉 (D)唐代。

40. () 「地方政府定期向中央政府推薦當官人選，推薦的名單為孝子與廉吏，雖然這些人的官
職較低，但是人數眾多，是一股不容忽視的力量。」請問：這是下列哪一個朝代的描述？

(A)東周 (B)漢代 (C)魏晉 (D)唐代。

◎穿越小说中描述某城市：「○○是當時的首都，人們以欣賞牡丹為樂，酒肆裡有胡姬作陪，飲的是葡萄酒，吃的是胡餅，聽的是琵琶與箏篋，看的是胡旋舞，往來客人有大食人、中國人、日本人、西域胡人等等好不熱鬧。街上的婦女有做胡裝打扮的，也有身穿中國服飾的，也有那想引人注目的小姑娘畫上胡妝，整個臉抹的紅豔豔的。」
請問：

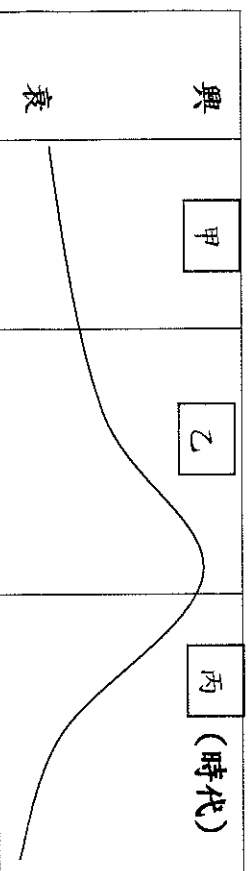
41. () 文中的狀況最可能發生在何時？ (A)秦朝 (B)漢朝 (C)隋朝 (D)唐朝。

42. () 文中的○○是下列何者？ (A)咸陽 (B)平城 (C)長安 (D)洛陽。

43. () 當時社會對胡人文化採取包容態度很大原因為何？ (A)當時大食是全世界最強大的國家 (B)認為胡人文化較為優異 (C)統治階層具胡人血統 (D)胡人為重要貿易夥伴。

◎下圖為阿寶在書上看到的曲線圖，作者藉此表示世族勢力的發展過程。 請問：

(趨勢)



44. () 下列何者最能說明，**甲**朝代時世族地位逐漸提升的情形？ (A)經學傳家、累世當官 (B)察舉孝子、廉吏 (C)上品無寒門，下品無世族 (D)封建制度，權力世襲

45. () **乙**時代中，世族地位達到高峰，這應與下列哪一制度有關？ (A)郡縣制度 (B)察舉選才辦法 (C)九品官人之法 (D)科舉制度

46. () 對於圖中**丙**時代的敘述，下列何者最為正確？ (A)秦始皇統一文字與貨幣，導致世族因此失勢 (B)因統治者設立太學，進一步使世族地位提升 (C)科舉制度實施後，平民有機會透過考試任官 (D)封建制度的瓦解，導致貴族失去權力與土地

47. () 圖表中，世族政治的鼎盛與沒落依序各導因於下列何者？ (A)九品官人之法、科舉制度 (B)推舉孝廉措施、九品官人之法 (C)推舉孝廉措施、科舉制度 (D)科舉制度、九品官人之法。

◎西元前 720 年「周鄭」交質，指的是周王室和鄭國以王子狐、公子忽互相交換到對方國家當作人質，這件事也被當作周天子權威崩壞到無法遮掩的開端。 請問：

48. () 文中的狀態最有可能發生在何時？ (A)周人推翻商朝之後 (B)周王室始分封宗室時 (C)周王室東遷之後 (D)秦國任用商鞅變法之後。

49. () 這件事也象徵著下列何種制度的崩壞？ (A)科舉制度 (B)封建制度 (C)郡縣制度 (D)察舉制度

50. () 這件事之後，下列哪種狀況不會出現？ (A)知識不再被貴族壟斷 (B)布衣可致卿相 (C)各國國君追求富國強兵 (D)貴族勢力漸長。

《試題作答結束》