

基隆市立武崙國民中學112學年度第一學期八年級地理科第一次定期評量

注意事項：

1. 本份試卷為單選題，每題2分，共50題，總分100分。
2. 答案卡限用2B鉛筆畫記，若畫記錯誤，請擦拭乾淨。分數以電腦讀卡分數為準。
3. 答案卡上的資料欄請確實填寫，若資料欄畫記錯誤導致電腦無法正確判讀，扣總分10分。

年級：八年 班座號： 姓名：

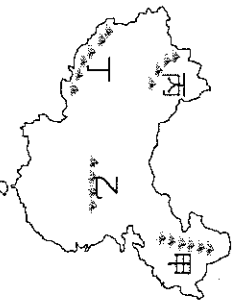
- () 1. 中國的地形複雜多樣，哪兩種所占的面積較大？(A)平原、盆地 (B)丘陵、山地 (C)盆地、丘陵 (D)山地、高原。

- () 2. 「一江春水向東流」、「暖溼的海洋氣流可以深入內陸，提供充沛的雨水」。以上描述與中國哪項地理特徵關係最密切？(A)領土位居中緯度 (B)幅員遼闊的疆域 (C)錯綜複雜的地形 (D)西高東低的地勢。

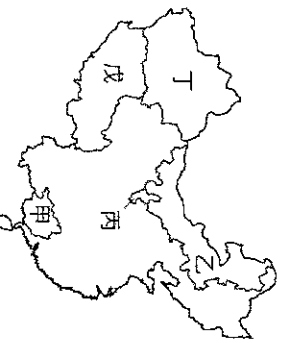
- () 3. 承上題，請問：上述「暖溼的海洋氣流可以深入內陸，提供充沛的雨水」主要是來自哪個海域 (A)印度洋 (B)太平洋 (C)北極海 (D)大西洋。

- () 4. 「這個地區過去曾被英國殖民，後成為世界著名港口，現今中國收回統治，設置特別行政區管理。」請問：以上所述地區應為下列何者？(A)上海 (B)天津 (C)香港 (D)澳門。

- () 5. 珠穆朗瑪峰為喜馬拉雅山的主峰，是世界第一高峰。全世界登山好手想要挑戰世界第一高峰，必須前往附圖中的哪一座山脈？(A)甲 (B)乙 (C)丙 (D)丁。



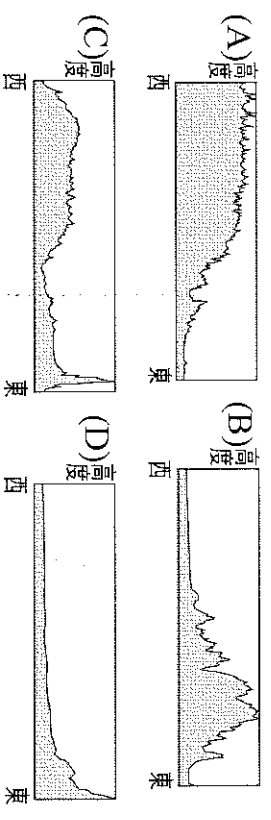
- () 6. 附圖是中國行政區簡圖，圖上標示甲～戊的地區，其行政區劃屬於下列何者？(A)省 (B)自治區 (C)直轄市 (D)特別行政區。



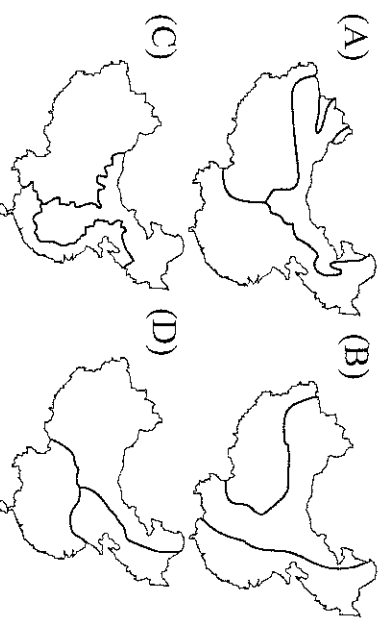
- () 7. 承上題，若前往圖中丁處，應可見到下列哪一種文化景觀？(A)善於農耕的壯族 (B)能歌善舞的維吾爾族 (C)逐水草而居的蒙古族 (D)宗教信仰虔誠的藏族。

- () 8. 北回歸線穿越的行政區有：(甲)廣東省(乙)雲南省(丙)廣西壯族自治區，由西向東排列，下列何者正確？(A)甲乙丙 (B)丙甲乙 (C)乙丙甲 (D)乙甲丙。

- () 9. 附圖為中國簡圖。根據中國地形特徵判斷，圖中線段位置的地形變化最接近下列何者？

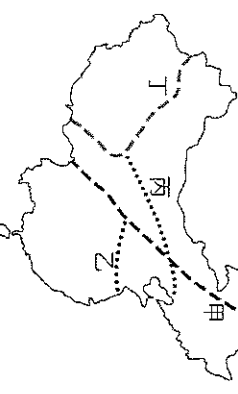


- () 10. 中國的氣候依據氣溫、年降水量和高度的差異，大致可分為三大氣候類型。下列哪張圖最符合三大氣候類型的分布？



- () 11. 中國某盆地內因有面積廣大的塔克拉瑪干沙漠，氣候環境惡劣，昔日有「死亡之海」之稱；近年因石油開採，而變成「希望之海」。上文所述是指哪個盆地？(A)四川盆地 (B)柴達木盆地 (C)塔里木盆地 (D)柴達木盆地。

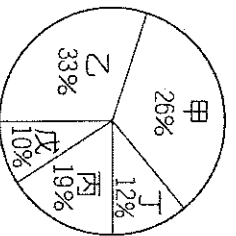
- () 12. 附圖甲～丁是中國的重要地理界線。由於氣溫、降水量的差異，中國的農業有「南稻北麥」、「南蔗北甜」的特色。請問：「南、北」的界線大致與圖中哪一條界線相符？(A)甲 (B)乙 (C)丙 (D)丁。



- () 13. 承上題，請問此界線為下列何者？(A)黑河—騰衝 (B)秦嶺—淮河 (C)北回歸線 (D)國際換日線。

- () 14. 中國地形複雜，大致畫分為高、中、低三個階梯。下列哪個地形區，與其他三個地形區在不同的階梯？(A)內蒙古高原 (B)塔里木盆地 (C)黃土高原 (D)青藏高原。

- () 15. 附圖為中國五大地形面積比例圖，請問：中國中階梯的地形主要為附圖哪兩種地形所構成？(A)甲乙 (B)甲丙 (C)丙丁 (D)丁戊。

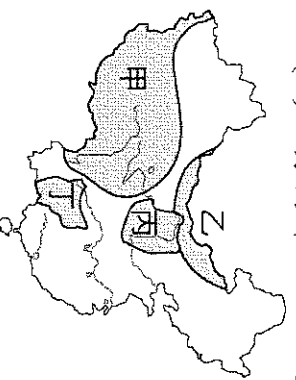


- () 16. 下列哪一種地圖最適合用來表示中國人口分布的疏密狀況？(A)圓餅圖 (B)柱狀圖 (C)曲線圖 (D)點圖。
- () 17. 近20年來，中國嬰幼兒的男女性別比嚴重失衡，形成此現象的主要原因為何？(甲)一胎化政策(乙)重男輕女觀念(丙)工商業發達(丁)人口外移 (A)甲乙 (B)乙丙 (C)丙丁 (D)甲丁。
- () 18. 附表是中國人口在三個不同時期各年齡組的資料。根據資料判斷，中國人口結構可能產生下列哪些轉變？(甲)出生率逐漸下降(乙)社會增加率逐漸上升(丙)人力資源逐漸充足(丁)成年人負擔漸增 (A)甲乙 (B)甲丙 (C)乙丙 (D)乙丁。

	0~14歲	15~64歲	65歲以上
1964	40.7	55.7	3.6
1982	33.6	61.5	4.9
2010	17.0	74.0	9.0

單位：%

- () 19. 附圖為中國地形分布簡圖，圖中甲、乙、丙、丁四大高原，各有不同的特色。有關乙的描述，下列何者正確？(A)平坦遼闊，一望無際 (B)雨水溶蝕，多石灰岩 (C)河川侵蝕，地表崎嶇 (D)地勢高聳，雪山連綿。

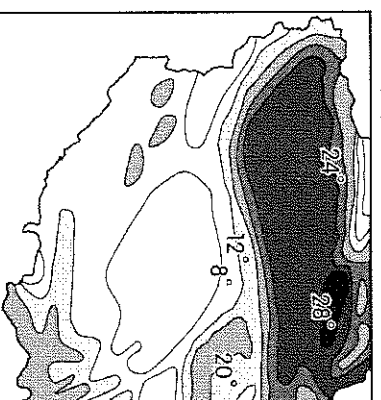


- () 20. 附圖為中國疆域。請問：圖中甲地冬、夏季風向分別為何？
 (A)冬：↑，夏：↓ (B)冬：↘，夏：↗
 (C)冬：↓，夏：↑ (D)冬：↖，夏：↗。



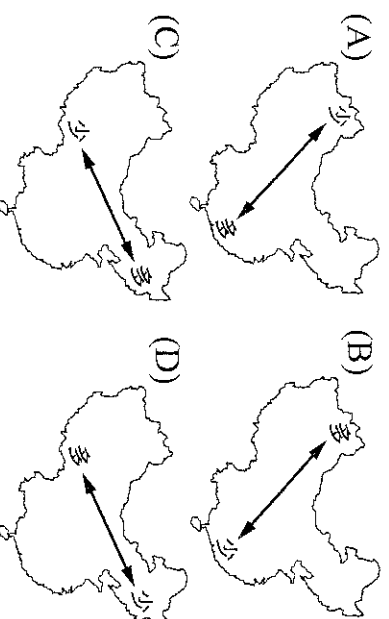
- () 21. 中國東半部的民族多以農耕活動為主，西半部則以畜牧活動為主。請問：這和下列哪一種因素的關係最大？(A)氣溫高低 (B)降水量多寡 (C)面積大小 (D)勞力豐缺。

- () 22. 中國內陸地區的七月月均溫分布如附圖所示。請問：影響圖中氣溫分布的主要因素為何？(A)緯度 (B)地形 (C)風向 (D)植被。



- () 23. 影響中國氣候的因素有：(甲)緯度(乙)季風(丙)地形(丁)距海遠近。請問：中國年降水量的分布受到哪些因素的影響較大？(A)甲乙丙 (B)甲乙丁 (C)甲丙丁 (D)乙丙丁。

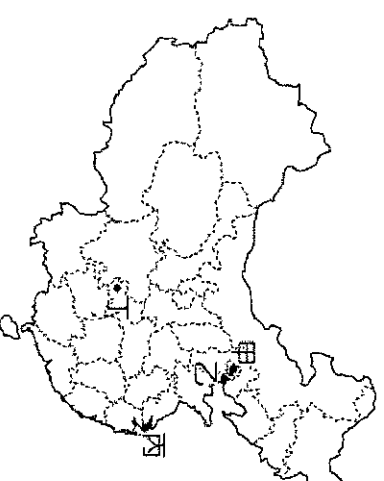
- () 24. 承上題，下列哪一示意圖，最符合中國年降水量的分布？



- () 25. 中國自古以農立國，如何供應龐大人口所需要的糧食即為重要課題。依農業活動分布的條件判斷，其農、牧業活動的分界線最接近附圖中哪一條線？(A)甲 (B)乙 (C)丙 (D)丁。



- () 26. 附圖為中國四個直轄市的分布位置圖。圖中哪個城市現為中華人民共和國的首都，也曾是奧運的主辦城市？(A)甲 (B)乙 (C)丙 (D)丁。




- () 27. 藏族服裝的特點是「寬大、長袖、寬腰、右襟」，是一種無需量體裁衣的直線服裝。其特點主要是為適應當地何種氣候特徵？(A)日溫差大 (B)年溫差小 (C)降水稀少 (D)空氣稀薄。

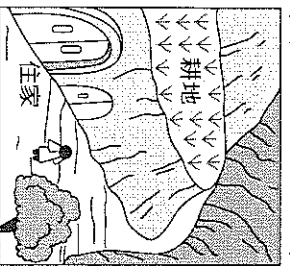
- () 28. 下列為四張中國重要山脈與地形區的相對位置圖，其中，何者北方的方位標示應指向圖中右側？



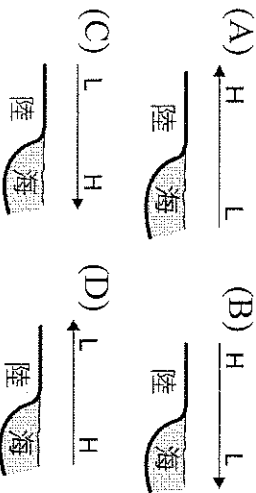
- () 29. 我們常在報章雜誌中看到如附圖的綠洲樣貌。受到氣候因素影響，綠洲通常為人口聚集的精華區。請問：中國的綠洲主要分布在哪一氣候區中？(A)乾燥氣候 (B)高地氣候 (C)熱帶季風 (D)溫帶季風。



- () 30. 附圖為窯洞示意圖，此種特殊的民居型式最可能出現在下列哪一個地區？(A)雲貴高原 (B)內蒙古高原 (C)青藏高原 (D)黃土高原。



- () 31. 下列為氣壓與風向示意圖，H、L各代表高低氣壓，箭頭代表風向。請問：何者為正確的「冬季」氣壓風向圖？

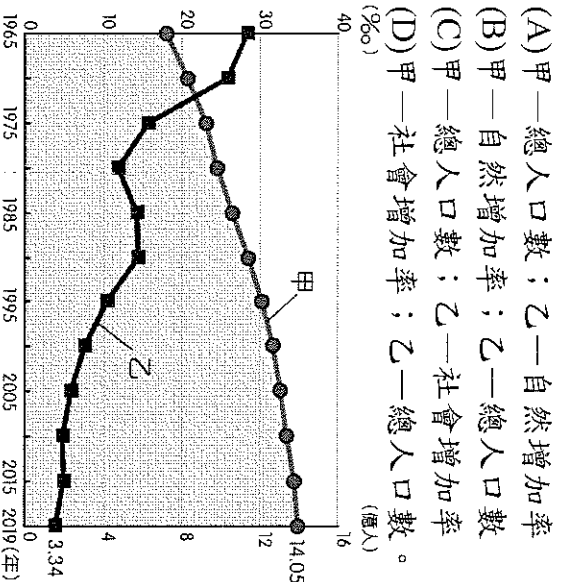


- () 32. 中國境內主要的水氣來源多為季風所帶來。請問：下列哪一種山脈走向正好阻擋了溫帶季風氣候區的夏季季風，因此水氣不易深入內陸？

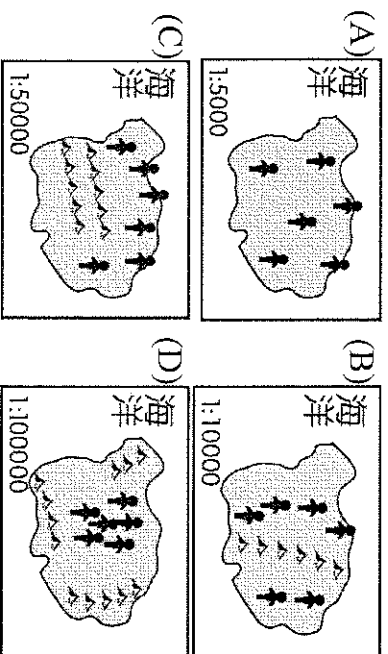


- () 33. 中國境內的秦嶺、淮河為重要的氣候分界線，其大致為年降水量750毫米及最冷月均溫0°C的北界，因此形成哪兩種氣候區的分界線？(A)季風氣候、乾燥氣候 (B)溫帶季風、副熱帶季風 (C)乾燥氣候、高地氣候 (D)熱帶季風、副熱帶季風。

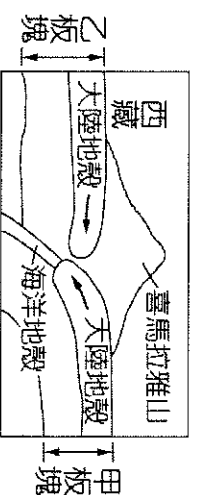
- () 34. 人口的成長受到自然環境及人為條件的因素影響甚大，中國在1979年針對人口問題實施相關政策，其變化如附圖所示。請問：圖中的甲、乙線段分別為下列何者？




- () 35. 人口多寡反映該地環境負載力的高低，由附圖判斷，何者環境負載力最高？



- () 36. 附圖為世界最高峰——喜馬拉雅山的成因示意圖，請問：甲板塊應該為下列何者？(A)歐亞板塊 (B)太平洋板塊 (C)印澳板塊 (D)菲律賓海板塊。



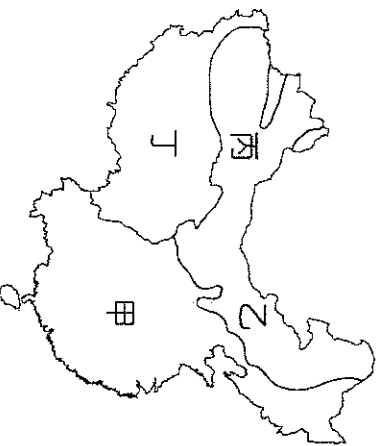
- () 37. 承上題，請問：若要加上方向標，則以下列何者最適合？



- () 38. 附表是中國某都市全年的氣候統計資料。請問：該都市最可能屬於何種氣候類型？(A)溫帶季風氣候 (B)溫帶草原氣候 (C)副熱帶季風氣候 (D)高地氣候。

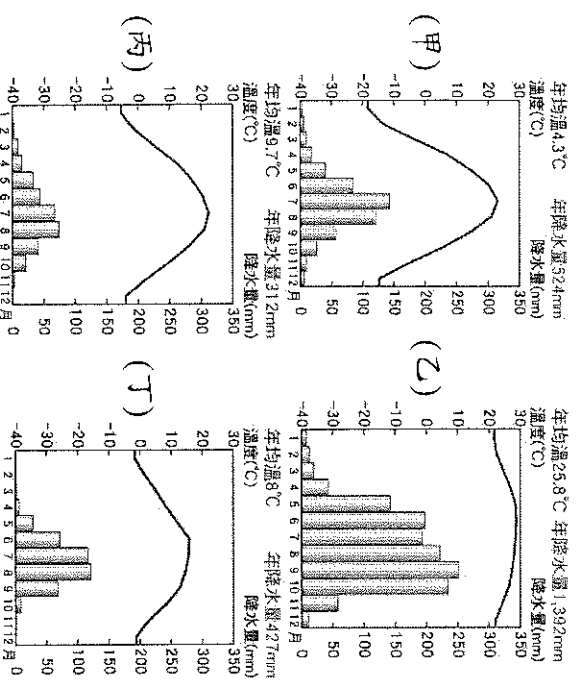
月份	一	二	三	四	五	六
氣溫(°C)	-18	-13	-3	7	14	20
降水量(mm)	3	5	9	18	40	84
月分	七	八	九	十	十一	十二
氣溫(°C)	23	21	14	5	-5	-14
降水量(mm)	142	121	58	25	10	6
年均溫	4.25°C		年雨量		521 mm	

※中國氣候多樣，對各地居民的生活方式影響甚鉅。附圖為中國的氣候類型分區，請問：



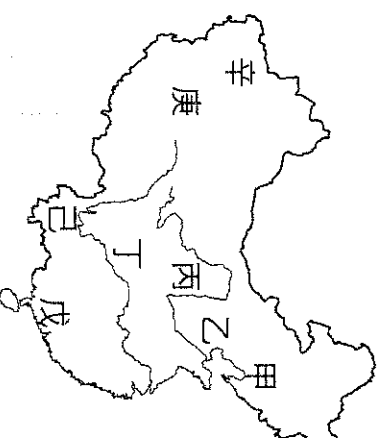
- () 39. 請問：甲、乙兩地的分界線最接近下列何者？
 (A) 年降水量500mm (B) 年降水量250mm
 (C) 海拔高度3,000公尺 (D) 1月月均溫0°C。
- () 40. 附圖中哪一個地區因氣候溼潤，農業發達，適合種植小麥、稻米等糧食作物？(A) 甲 (B) 乙 (C) 丙 (D) 丁。
- () 41. 「居民以肉、乳為主食，為適應嚴寒的高地氣候，飼養犛牛，以其為主要的獸獸。」上文描述的是附圖中哪一個地區的生活方式？
 (A) 甲 (B) 乙 (C) 丙 (D) 丁。

※細心的小禎在整理氣候圖時，不小心把中國三亞、拉薩、蘭州和哈爾濱的氣候圖弄亂了。附圖甲～丁為此四地的氣候圖。請問：



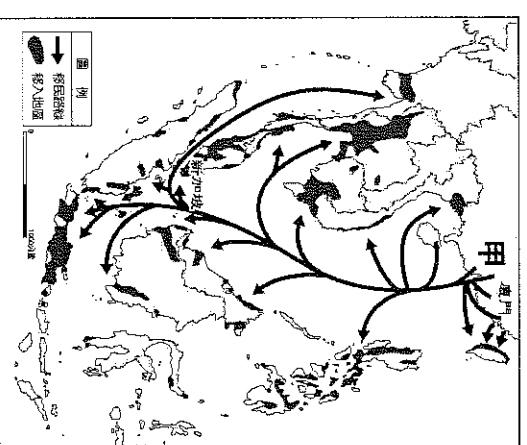
- () 42. 甲～丁四地何處的年溫差最大？
 (A) 甲 (B) 乙 (C) 丙 (D) 丁。
- () 43. 甲～丁四地何處的緯度位置可能最高？
 (A) 甲 (B) 乙 (C) 丙 (D) 丁。
- () 44. 乙地的氣候類型最可能為下列何者？
 (A) 高地氣候 (B) 乾燥氣候 (C) 熱帶季風氣候 (D) 副熱帶季風氣候。
- () 45. 「該地平均海拔3,658公尺，水氣含量少，日照強烈，年日照時間3,000小時以上，有『日光城』的美譽」。上文中的地點最可能位於甲～丁何處？ (A) 甲 (B) 乙 (C) 丙 (D) 丁。

※中國國土面積廣大，地表經由風、河川和冰河等不同的作用而形塑出各類地形，孕育出多樣的生態景觀，與居民生活亦有密切的關聯。請從附圖中找出與題目描述相對應位置，並回答下列問題：



- () 46. 「地勢高聳，有『世界屋脊』之稱，寒冷荒涼，多冰河與湖泊景觀。」請問：文中所述的地形區位於附圖中何處？ (A) 丙 (B) 乙 (C) 庚 (D) 辛。
- () 47. 「四周多高山，地形封閉，但氣候溫暖多雨，物產豐饒，人口相當稠密，自古便有『天府之國』的美稱。」請問：文中所述的地形區，位於圖中何處？ (A) 甲 (B) 乙 (C) 丁 (D) 戊。

※附圖為華人遷移圖，中國人口眾多且資源分布不均，快速增加的人口可能造成糧食不足，促使人們離開家鄉尋找耕地或工作機會，而向國外遷移，請問：



- () 48. 在明清時期的華人主要是順應哪一個季節的季風，移民到東南亞？ (A) 春季 (B) 夏季 (C) 秋季 (D) 冬季。
- () 49. 附圖中的甲地是近代中國人口大量移出的地區，造成甲地人口大量外移的推力為何？
 (A) 山多平原少，糧食不足 (B) 地勢低窪，水患頻仍 (C) 氣候乾燥不利農業發展 (D) 清末西方列強屢次進犯。
- () 50. 下列哪一項臺灣文化景觀的出現與甲地最相關？ (A) 臺南安南的鹿耳門天后宮 (B) 屏東萬巒的萬金天主堂 (C) 臺東蘭嶼的半穴居建築 (D) 桃園大園的大園清真寺。