

12. 上歷史課的時候，討論臺灣的卑南文化，學生各自表達自己的看法。

甲生說：「卑南文化是舊石器時代的文化類型。」

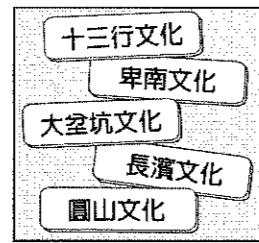
乙生說：「卑南文化挖掘出不少的磨製石器。」

丙生說：「從卑南遺址中可以發現當時人類有食用貝類的現象。」

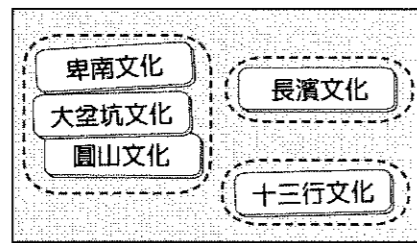
丁生說：「卑南文化是臺灣最早的史前遺址。」以上哪一位學生的說法是正確的？

(A)甲生 (B)乙生 (C)丙生 (D)丁生。

13. 大明將圖一中的五張卡片分為圖二中的三類，其分類的依據最可能是下列何者？



圖一



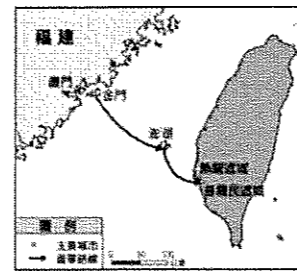
圖二

(A)居住區域的位置 (B)農業發展的程度 (C)製作器物的技術 (D)使用貨幣的類型

14. 右圖為臺灣史上某一場戰役的路線圖，將領搭船從金門出兵，算準季風風向讓臺灣本島上的殖民政權無法向其他地方傳達訊息。大軍上岸後立即包圍殖民政權的統治中心，使其因孤軍無援，城內糧食飲水用盡而投降。這場戰役的勝利也開啟臺灣史上第一個漢人政權治臺的局面。

請問：帶領軍隊打贏這場勝利的將領為何人？

(A)鄭成功 (B)沈有容 (C)鄭經 (D)施琅。



15. 上歷史課的時候，師生共同討論臺灣圓山文化，學生各自表達自己的看法。甲生說：「圓山文化是新石器時代的文化類型。」乙生說：「圓山文化以採集魚獵為主要維生方式。」丙生說：「從圓山遺址中可以發現當時人類有食用貝類的現象。」丁生說：「圓山文化是臺灣最早的史前遺址。」以上哪一位學生正確？ (A)甲生 (B)乙生 (C)丙生 (D)丁生。

16. 以下古今地名之對照，何者「有誤」？

(A)「熱蘭遮城」對應「安平古堡」 (B)「普羅民遮城」對應「赤崁樓」

(C)「大員」對應「臺南」 (D)「巴達維亞」對應「馬尼拉」。

17. 在臺灣史前文化中，從長濱文化、大坌坑文化等史前遺址的名稱，可知史前遺址多半以何種方式來命名？

(A)出土文物的種類 (B)遺址發現的所在地 (C)遺址的發現者 (D)出土文物的數量。

選擇題：一題 2 分，共 100 分

請將該題的正確答案在答案卡上塗黑、塗滿

1. 有一本歷史書籍記載：「鄭成功來臺灣經營，帶來很多士兵及眷屬，為解決糧食問題而實施『寓兵於農』的屯田制度，今天可以從臺灣南部地區的地名，看出屯田的影子。」請問下列哪一個地名與屯田有關？

(A)高雄市左營區 (B)臺南市白河區 (C)高雄市美濃區 (D)屏東縣車城鄉。

2. 根據地質學家的推測，下列何種遺跡可作為臺北盆地在史前時代曾為湖泊的證明？

(A)八里地區出現生鏽的鐵器碎片 (B)圓山地區出現的貝殼堆積

(C)大坌坑遺址發現的陶器碎片 (D)九份山區挖出的煤礦。

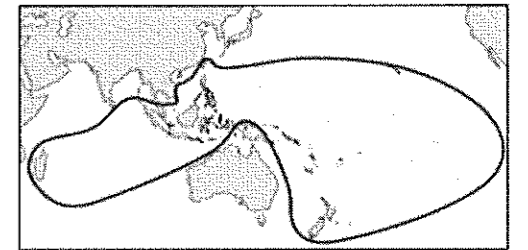
3. 右圖為筱安在臺灣歷史書籍中看到的圖片，有關此圖的標題應為下列何者？

(A)17 世紀荷蘭在東亞的貿易據點分布圖

(B)17 世紀葡萄牙在東亞的貿易據點分布圖

(C)南島語族分布範圍圖

(D)鄭氏政權的疆域範圍圖。




4. 鐵器的使用，是人類歷史文化進展的重要里程碑，而在臺灣的考古發掘中，哪一個文化遺址曾發現一座煉鐵作坊，顯示臺灣鐵器文化的開始？

(A)卑南文化 (B)圓山文化 (C)大坌坑文化 (D)十三行文化。

5. 附圖是某歷史學者整理的出土文物史料。請依「時間先後」排列出這三種遺址所形成的順序？

(A)甲乙丙 (B)乙丙甲 (C)丙甲乙 (D)乙甲丙。



6. 西元 1661 年，鄭成功率軍進攻臺灣，將歐洲人逐出臺灣，建立臺灣歷史上第一個漢人政權。文中所提及的歐洲人是哪一國人？ (A)日本人 (B)英國人 (C)葡萄牙人 (D)荷蘭人。

7. 小潔利用暑假參加「臺灣史蹟研習營」，解說員在介紹一處遺址時說：「這個文化聚落主要位於河、湖邊，居民以捕魚、狩獵及種植穀物為生，許多生產工具和武器是用陶器製作的。」這處遺址「不可能」屬於下列哪一文化？

(A)長濱文化 (B)卑南文化 (C)大坌坑文化 (D)大馬璘文化。

8. 臺灣的原住民，依其主要生活區域的不同，可分為平埔族群和高山各族。其中有關平埔族群的敘述，下列哪一項正確？

(A)其漢化的時間較高山各族稍晚 (B)移入臺灣的時間在漢人之後

(C)大約可分為泰雅、布農等十六族 (D)早期生活在平原、丘陵地區。

9. 1620 年代，臺灣今日雲林至嘉義一帶，成為哪些海商的根據地？

(A)顏思齊、沈有容 (B)顏思齊、鄭成功 (C)顏思齊、鄭芝龍 (D)鄭芝龍、沈有容。

10. 約四百年前，清廷將高山各族稱為「生番」；到了日治時期改稱為「高砂族」；而到了中華民國時期的稱呼為下列何者？ (A)平埔族 (B)山地同胞 (C)熟番 (D)高砂族。

11. 清帝國時期依原住民是否歸順朝廷，而將原住民區分為哪兩種？

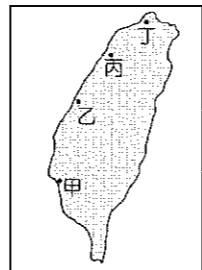
(A)生番、熟番 (B)高砂族、平埔族 (C)山地同胞、平埔族 (D)高山族、平埔族。

18. 右表呈現史前人類生活情形的變化，若要以「舊石器時代→新石器時代」的方式，表示舊石器時代至新石器時代的文化變遷，表中甲、乙、丙、丁何者最為適切？
(A)甲 (B)乙 (C)丙 (D)丁。

甲	種植根莖類作物→種植稻米
乙	打製石器→磨製石器
丙	燒製陶器→冶煉鐵器
丁	不知用火→用火煮食

19. 在史前文化演進過程中，哪一種生活型態出現後，因為可養活更多的人口，促使人類社會活動出現更豐富的發展？ (A)農耕 (B)游牧 (C)漁獵 (D)採集。
20. 致臺利用暑假環島，從他的照片中看到有座紀念明朝將軍諭退荷蘭人所興建的石碑。請問：這張照片應該是在何處拍攝的？ (A)澎湖 (B)淡水 (C)基隆 (D)臺南。
21. 阿裕要寫一篇臺灣史報告，他主要以《熱蘭遮城日記》、聯合東印度公司檔案等史料作為參考依據。依此判斷，他寫的是臺灣哪一時期的歷史？

- (A)日本統治時期 (B)清帝國早期 (C)清氏治臺時期 (D)荷蘭統治時期。
22. 右圖是國際競爭時期的臺灣地圖。請問：在此時期，西班牙控制的區域是圖中的何地？




- (A)甲 (B)乙 (C)丙 (D)丁。
23. 有位學者認為，十七世紀興盛的航海活動，是全球經濟網路形成的第一步。在這波浪潮中，臺灣扮演了什麼樣的角色？
(A)東亞國際貿易的中繼站 (B)中國與外國通商的出口港
(C)漢人移民南洋的轉運點 (D)日本與荷蘭交易的根據地。

24. 鄭氏政權時期積極推動拓墾事業，逐漸提升了臺灣的糧食產量。但拓墾地區大多集中於今日的何處？ (A)宜蘭基隆一帶 (B)臺南高雄一帶 (C)基隆淡水一帶 (D)雲林嘉義一帶。
25. 課堂上同學們正在討論臺灣的史前文化遺址，其中甲遺址發現的陶器，腹部有粗繩紋、石器有磨製的石斧、石鏃和以芋薯為主的農作；乙遺址的特色是已知用火、使用打製的石器，過著採集、狩獵的生活；丙遺址則發現了紅褐色的陶器和煉鐵作坊。若將三個遺址按照「時間先後」排列，下列哪一選項是正確？
(A)甲乙丙 (B)乙丙甲 (C)乙甲丙 (D)丙甲乙。

26. 有關 17 世紀臺灣對外貿易的敘述，何者正確？
(A)輸出蔗糖、鹿皮到日本 (B)輸出絲綢、瓷器到中國
(C)鄭氏政權藉由貿易來換取對抗荷蘭的軍用物資 (D)致力擴張對英國的走私貿易。
27. 土地拓墾與土地改革建設是各政權財經建設的重點。請問：鄭氏政權時期，土地拓墾的最主要目的為何？
(A)準備大量移民 (B)解決糧食匱乏問題 (C)用土地交換效忠 (D)以稻米做為輸出商品。
28. 在十三行文化遺址中，出土了瑪瑙珠、玻璃製品，以及其他質料的珠子，還發現金飾、鍍金青銅碗、銀管飾物、銅刀柄、銅碗、銅鈴、銅幣等來自於南洋或中國的外來物品。由上述內容我們可以做出何種正確的推論？
(A)十三行遺址屬於新石器時代的文化 (B)十三行文化具有國家的規模
(C)該文化與其他地區貿易往來密切 (D)此時期已進入歷史時代。

29. 右圖是 17 世紀某家貿易公司的旗幟，此家貿易公司在政府的支持下，壟斷東方貿易，並與臺灣歷史息息相關。請問：此旗應該會在臺灣何地出現？
(A)臺灣北部 (B)臺灣中部 (C)臺灣東部 (D)臺灣南部
30. 下表是依某一概念所整理出的表格，若依相同概念填入第四組內容，下列何者最適宜？



關係	
1	葡萄牙與澳門
2	西班牙與菲律賓
3	英國與印度
4	?

- (A)西班牙—葡萄牙 (B)荷蘭—印尼 (C)荷蘭—日本 (D)英國—臺灣
31. 臺灣地區的原住民，可分為平埔族群和高山各族。其中關於高山各族的敘述，下列何者正確？
(A)漢化的時間較平埔族早 (B)多分布於臺灣山區與東部地區
(C)又稱為「熟番」 (D)可分西拉雅、泰雅等九族。
32. 西班牙占領臺灣北部後發展對外貿易，但因日本實行鎖國政策，使得對日貿易發展受挫，加上菲律賓南部發生動亂，所以大量減少駐臺守軍，於 1642 年被下列何者所驅離？
(A)英國人 (B)鄭成功 (C)日本人 (D)荷蘭人。
33. 17 世紀，鄭成功、鄭經父子先後來到臺灣，建立政權。當時他們除實施墾殖外，並「沒有」採行下列何種方法維持財政？
(A)實施軍屯穩定糧食來源 (B)與英日發展國際貿易
(C)與原住民交換貨物 (D)以走私方式突破清帝國的海禁政策。
34. 位於臺中市清水區的牛罵頭遺址文化園區正式開放參觀，園區裡展示著出土的文物與復原的樣貌，例如：細繩紋紅陶、磨製的石刀與石斧。依據展示的物品可推測，牛罵頭文化最可能屬於下列哪一時期？ (A)舊石器時代 (B)新石器時代 (C)青銅器時代 (D)鐵器時代。
35. 關於荷蘭統治時期和鄭氏政權時期的比較，何者「錯誤」？
(A)前者統治時間較後者短暫 (B)前者將臺灣視為貿易據點，後者視為「反清復明」的基地
(C)前者來臺時間比後者早 (D)兩者皆重視海外貿易，與中國、日本、英國等國進行貿易。
36. 17 世紀時，日本實施鎖國政策，只准許哪兩國可到長崎進行貿易？(甲)荷蘭；(乙)葡萄牙；(丙)西班牙；(丁)中國
(A)甲乙 (B)甲丙 (C)甲丁 (D)乙丁。
37. 學漢與全家人在暑假期間到臺東知本泡溫泉。請問：他們可以順道參觀臺東縣哪些重要的史前遺址？
(A)長濱文化、卑南文化 (B)長濱文化、圓山文化
(C)十三行文化、長濱文化 (D)長濱文化、圓山文化。
38. 右圖是臺灣史前文化中出土的物品，若依照文化的演變來看，圖中三項文物出現的時間順序為何？

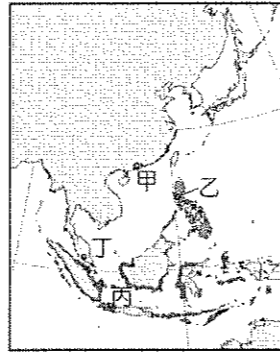


- (A)甲乙丙 (B)乙丙甲
(C)乙甲丙 (D)甲丙乙。

39. 下列關於「海商」的敘述，何者正確？

- (A)為日本人組成的海盜，肆意搶奪臺灣沿海城市 (B)因應明代海禁政策，進行走私而興起
(C)明政府派兵進駐臺灣，海商遂轉移到澎湖 (D)17世紀初主要以金門、馬祖為根據地。

40. 右圖是17世紀歐洲人在東亞的重要貿易據點分布圖。請問：圖中甲地應是哪一國家的據點？



- (A)西班牙 (B)日本 (C)荷蘭 (D)葡萄牙。

41. 十七世紀時，有封信函中提到：「今年有兩艘船前往我們統治的雞籠，除了補給外，也負責購買中國商品運回我國的根據地馬尼拉，但船隻卻遲遲未回；且原先每年從中國與澳門前來馬尼拉貿易的船隻也還沒進港。我擔心若進口貨物不足，我們會蒙受許多的損失。」根據上文判斷，此封信函最可能是下列何者之間的通信？

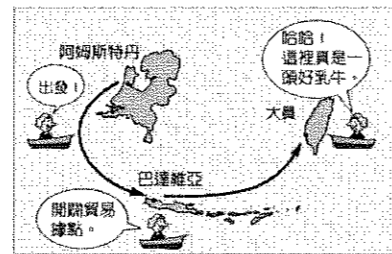
- (A)葡萄牙使節給明朝皇帝 (B)荷蘭的臺灣長官給巴達維亞總督
(C)菲律賓總督給西班牙國王 (D)鄭經給英國東印度公司。

42. 明朝所實施的海禁政策，使得東南沿海貿易幾乎停頓，進而迫使沿海居民成為海商，在臺灣海峽一帶從事走私貿易。在明末的海商中，何人曾在福建招募漢人進入雲林、嘉義一帶開墾，奠定漢人在臺拓墾事業的基礎？ (A)鄭經 (B)沈有容 (C)顏思齊 (D)鄭成功。

43. 17世紀時，西班牙占據臺灣北部的目的為何？

- (A)作為向菲律賓發展的據點 (B)作為與中國貿易的據點
(C)作為與荷蘭貿易的轉口站 (D)作為與日本貿易的據點。

44. 荷蘭東印度公司總督曾說：「臺灣真是一頭好乳牛。」這句話表示臺灣為他們公司帶來相當大的利益。這是因為荷蘭人積極經營下列哪些臺灣的特產？



甲、香料；乙、稻米；丙、鹿皮；丁、蔗糖。

- (A)乙丙丁 (B)甲乙丙 (C)甲丙丁 (D)甲乙丁。

45. 下列有關鄭氏政權在臺時期的貿易情形，下列何者正確？

- (A)重視與荷蘭的貿易，其目的在於購買軍用物資
(B)鄭氏政權與英國簽訂通商條約，擴大貿易範圍
(C)輸往日本的貨物主要是軍用物資，輸入臺灣的主要是蔗糖、鹿皮
(D)清帝國的海禁政策成功斷絕了臺灣與中國的貿易發展。

46. 臺灣有一首歌謠，歌詞內容為：「阿里山的姑娘，美如水啊。阿里山的少年，壯如山。」請問：阿里山上的原住民族群應是下列哪一族？(A)邵族 (B)排灣族 (C)噶瑪蘭族 (D)鄒族。

47. 明代曾在中國東南沿海實行海禁政策，其主要目的為何？

- (A)禁止葡萄牙人與中國的貿易往來 (B)防止荷蘭人進攻臺灣
(C)防範中國沿海人民跟盤據臺灣的鄭氏政權往來 (D)防範日本海盜騷擾。

48. 亨利王子是國王若昂一世的第三子，他不是王儲，卻在他的國家中有其影響力，建立了全世界首間航海學校、天文臺、圖書館、港口及船廠，也是在他的大力推廣與建立基礎上，他的國家率先找到前進東方的新航路，而且占領中國的澳門作為貿易的據點。根據上述，亨利王子是哪一國家的人？ (A)葡萄牙 (B)西班牙 (C)荷蘭 (D)英國。

49. 小文在圖書館中找到某張條約內容，以下是甲、乙兩方簽訂投降和約的內容摘要，請根據這些條約回答問題：

- 一、乙方應將熱蘭遮城堡以及一切物資和金錢等屬於某公司之財產，全部移交給甲方。
二、乙方自臺灣至巴達維亞城途中所需之糧食、日用品、自衛用槍彈火藥等得報備後裝船載走。
三、甲方需於八至十日內遣返或釋放俘虜。未受甲方拘禁之乙方人民，於未離臺前得安全通行。

從乙方撤走的條件中可知，乙方在亞洲的根據地位於今日的哪一國家？

- (A)泰國 (B)印尼 (C)菲律賓 (D)新加坡

50. 2015年臺灣大學與智利共組的研究團隊分析世界各地構樹基因，發現西太平洋各地的構樹起源於臺灣，加上臺灣與太平洋上的各個原住民族都將構樹的樹皮視為重要資源，常在祭典上使用樹皮布。上述研究結果認為構樹隨著民族遷徙而傳播，而推論其文化出自臺灣的源起假說。請問：上文提及的研究中，利用太平洋構樹可證實哪一族群的遷移？

- (A)漢藏語族 (B)印歐語族 (C)南島語族 (D)南亞語族。