

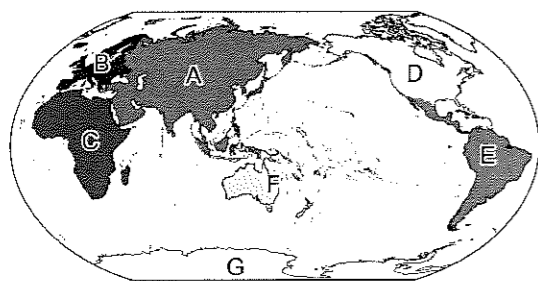
基隆市立武崙國中 112 學年度第一學期 第一次段考 七年級社會試卷—地理科


電腦讀卡，請使用 2B 鉛筆，並依據題號在答案卡上作答，答案卡無法判斷身分者，扣總分 10 分

範圍：第一、二章 配分：1-10 每題 3 分，11-45 每題 2 分，總分 100 分。 班級：_____ 座號：_____ 姓名：_____

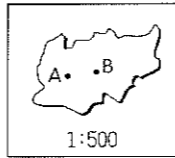
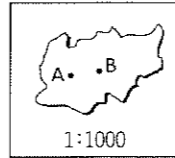
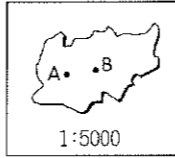
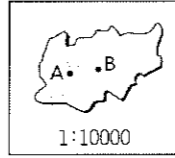
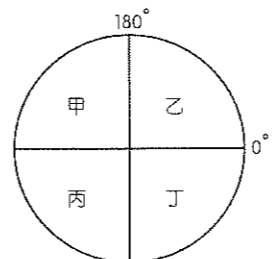
一、單選題

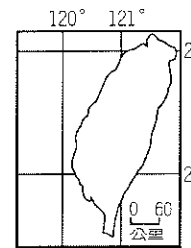
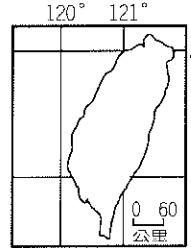
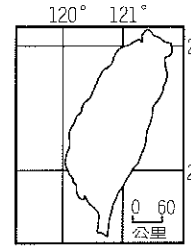
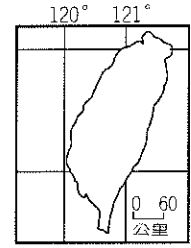
- () 1. 地圖上的方位有時候是以英文來標示。請問：哪一個英文字母是表示北方？
 (A)「N」 (B)「E」 (C)「W」 (D)「S」。
- () 2. 世界各地的陸塊主要分為七大洲，其中最大的陸塊以烏拉爾山跟高加索山為界分別成哪兩洲？ (A)A, C (B)D, E (C)A, B (D)E, G。



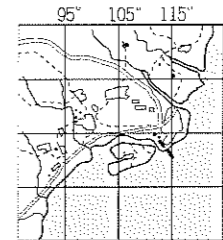
- () 3. 一般而言，寒帶氣候區位於極圈以內。請問：極圈是指北緯、南緯幾度？ (A)55.5° (B)66.5° (C)77.5° (D)88.5°。
- () 4. 附圖中的方向標空格應填入哪一個方位？
 (A)東北 (B)西北 (C)西南 (D)東南。
- 北 ← 
- () 5. 將地表畫分為東半球、西半球和北半球、南半球的依據，是下列哪些經緯線？
 (A)本初經線、赤道 (B)本初經線、北回歸線 (C)北回歸線、南回歸線 (D)南回歸線、赤道。
- () 6. 小王子在沙漠中迷路，此時他面對初升的太陽，雙手向左右平伸，則右手所指的是哪一方？ (A)西方 (B)北方 (C)東方 (D)南方。
- () 7. 地球的氣候帶若從低緯至高緯，依序為何？
 (A)熱帶→溫帶→寒帶 (B)溫帶→寒帶→熱帶 (C)溫帶→熱帶→寒帶 (D)熱帶→寒帶→溫帶。
- () 8. 地圖是日常生活經常使用的重要工具，能夠根據聯合國《海洋法公約》規定，各國擁有在其經濟海域內資源的使用權。臺灣因四面環海，島嶼眾多，擁有廣大的經濟海域，但因與鄰近國家的經濟海域重疊，經常有漁業上的糾紛。上文所述的鄰近國家『不包含』下列何者？ (A)中國 (B)日本 (C)南韓 (D)菲律賓。

- () 9. 讓我們知道重要的地理資訊。請問：若我們想在地圖上尋找郵局和學校，應該要先參考何項地圖要素？ (A)圖名 (B)圖例 (C)方向標 (D)比例尺。
- () 10. 2016年的「巴西里約奧運」，熱鬧的閉幕式時台灣媒體也在巴西進行實況轉播，巴西當地的中央時區為西經45°。請問：巴西與臺灣兩地的時間相差幾個小時？ (A)3小時 (B)5小時 (C)7小時 (D)11小時。
- () 11. 以下是地理教室的座位表，關於表中各位同學的座位，敘述正確的是下列何者？
 (甲)亮亮坐在(02, B)，品碩坐在璽宣的東北方 (乙)詩芸坐在(03, A)，睿鴻坐在子苓的北方 (丙)品碩坐在(A, 02)，佳品坐在舒涵的西南方 (丁)璽宣坐在(01, B)，亮亮坐在翌晨的西南方
 (A)甲丁 (B)乙丙 (C)甲乙 (D)丙丁。
- | | | | |
|---|----|----|----|
| A | 睿鴻 | 品碩 | 翌晨 |
| B | 璽宣 | 亮亮 | 佳品 |
| C | 子苓 | 舒涵 | 詩芸 |
| | 01 | 02 | 03 |
- () 12. 北極海為一個被周圍廣大陸地所包圍住的海域，近年來因交通改善，故航運價值逐漸重要。下列哪一個地區離北極海的航運路線最遠，因此受到的影響較小？
 (A)亞洲 (B)非洲 (C)北美洲 (D)歐洲。
- () 13. 臺灣本島的經度位置約為東經120°~122°之間。若以經緯度位置判斷，下列哪一個離島的經度位置小於東經120°？ (A)釣魚臺列嶼 (B)綠島 (C)澎湖群島 (D)蘭嶼。
- () 14. 地球上三大洋、七大洲，請問下列敘述，何者最為正確？ (A)面積最為廣大的是亞洲 (B)歐洲與非洲間隔著紅海 (C)七大洲全位於北半球 (D)三大洋中以大西洋面積最大。
- () 15. 臺灣本島的絕對位置約介於22°N~25°N, 120°E~122°E之間。某中國旅遊團至臺灣某地遊覽時，車上的定位系統測得該地的經緯度坐標為(24.16°N, 121.62°E)，該旅遊團最可能是在下列何處遊覽？ (A)嘉義阿里山 (B)花蓮太魯閣 (C)臺東三仙臺 (D)高雄西子灣。

- () 16. 地球是我們生存的家，因此應該對它有更深入的了解。請問：下列對於地球的敘述，何者『錯誤』？ (A)人口大多集中在北半球 (B)陸半球的水域面積還是比陸地多 (C)南半球的陸地面積遠大於北半球 (D)陸地面積僅占地球表面積的29%。
- () 17. 下列地圖中，A、B兩地實際距離何者最長？
 (A)  (B) 
 (C)  (D) 
- () 18. 冒險家準備從俄羅斯往北極進行探勘，發現這一帶的氣候十分嚴寒。請問：造成此一現象的最主要原因為何？ (A)夏季晝短夜長 (B)緯度高，太陽是斜射狀態 (C)緯度低，陽光直射此區域 (D)緯度低，太陽輻射弱。
- () 19. 臺灣在發展的過程中，因交通位置位居樞紐，因此扮演著重要的角色。航海貿易過程中，下列哪兩地之間的船隻往來須通過臺灣周邊的海域，使得臺灣成為貿易商往來的中繼站？
 (A)新加坡↔日本 (B)印尼↔馬來西亞 (C)日本↔南韓 (D)菲律賓↔越南。
- () 20. 下列哪一種地圖最適合使用小比例尺來繪製？ (A)基隆市街道圖 (B)新竹市國民中學分布圖 (C)馬祖列嶼圖 (D)亞洲地圖。
- () 21. 美國太空總署發現有一顆隕石墜落在東半球、南半球，則該地點在附圖中的位置應該為何？ (A)甲 (B)乙 (C)丙 (D)丁。
- 
- () 22. 地表上海洋的面積是陸地面積的兩倍多，下列哪個陸塊的四周完全被三大洋包圍，成為最孤立的陸地？ (A)南極洲 (B)亞洲 (C)歐洲 (D)南美洲。

- () 23. 下列為四張經緯度位置不同的臺灣地圖。請問：臺灣島正確的位置是下列何者？
 (A)  (B) 
 (C)  (D) 

- () 24. 臺灣的奧林匹亞選手到國外參加野外實察競賽，透過GIS電子地圖呈現他們所在的位置，如附圖所示。根據圖中資料判斷，他們現在正位於地球上的何處？
 (A)東半球、北半球 (B)東半球、南半球 (C)西半球、北半球 (D)西半球、南半球。



- () 25. 所謂的「特有種」是指只出現在特定小範圍區域的生物，如櫻花鉤吻鮭。臺灣的生物中，特有種的比例相當高。請問：臺灣的生物特有種比例偏高的原因為何？ (A)近一萬年來的氣候變化劇烈 (B)曾與大陸相連，後來又被海隔離 (C)山地高聳，地勢起伏過大 (D)曾歷經長期的乾旱，導致生物變異。

- () 26. 下列關於經緯線的比較表格，何者『錯誤』？

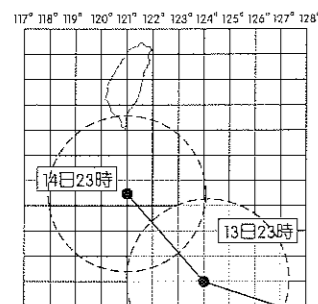
項目	經線	緯線
(A)定義	連結南、北極點的弧線	與地軸垂直的平面，切畫出的圓圈線
(B)方向	東西向	南北向
(C)長度	等長	赤道最長、往兩極縮短
(D)度數	東西半球各0~180度	南北半球各有0~90度

- () 27. 環遊世界是許多人小時候的夢想，真正長大後卻只有少數人得以實現願望。附圖為某探險家的環遊世界航程地圖，若以圖中路線分布判斷，此次環球之行『缺少』了下列哪一洲？ (A)亞洲 (B)大洋洲 (C)非洲 (D)北美洲。

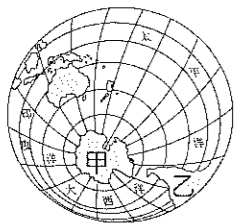


- () 28. 鹹蛋超人住在 (60°W, 25°S)，有一天他要拜訪住在地球另一端的麵包超人，並決定「遁地」前去，於是他從家中鑽入地底，始終保持直線前進並穿越地心到達地球另一端。請問：麵包超人住在哪一個半球？ (A)西半球、北半球 (B)東半球、南半球 (C)東半球、北半球 (D)西半球、南半球。

- () 29. 附圖為某颱風行進路徑預測圖。請問：當時時間為13日23時，颱風的中心位置大致位於臺灣的哪一方位？ (A)正南方 (B)偏東南方 (C)正北方 (D)偏西北方。



- () 30. 姑姑對萱萱說：「今天是夏至，陽光直射北回歸線，住在臺灣的我們會感受到晝最長而夜最短。」請問：「今天」應該是在幾月下旬？ (A)3月 (B)6月 (C)9月 (D)12月。
- () 31. (甲)臺南市 (乙)雲林縣 (丙)彰化縣 (丁)嘉義縣。若將上述各縣市『由北到南』排列出來，其正確順序為何？ (A)甲乙丙丁 (B)乙丙甲丁 (C)乙丁丙甲 (D)丙乙丁甲。
- () 32. 附圖為南半球的示意圖，若依圖中經緯度判斷，乙地位於甲地的哪一方向？ (A)東方 (B)西方 (C)南方 (D)北方。



- () 33. 臺灣有許多珍貴的特有生物，這和冰河時期的自然環境變遷關係密切。請問：當時許多亞洲大陸的生物經過何處遷移來臺，因此該地區被稱為生物遷移的橋樑？ (A)巴士海峽 (B)中央山脈 (C)太平洋 (D)臺灣海峽。

- () 34. 附圖為台江國家公園的標誌，主要保護來臺過冬的候鳥——黑面琵鷺。該物種會在臺灣出現，說明臺灣具有何種自然特性，導致物種豐富多元？ (A)位於寒帶氣候 (B)孤立的島嶼環境 (C)緯度跨度極大 (D)溫帶與熱帶交界。

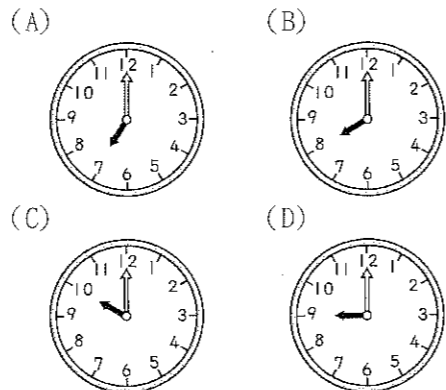


- () 35. 承上題，生物學家進行黑面琵鷺候鳥遷徙的觀察，利用GPS了解其飛行路徑，其遷移飛行的路徑所經過的島嶼可能依序為何？ (A)千島群島→日本群島→琉球群島→臺灣 (B)千島群島→琉球群島→日本群島→臺灣 (C)菲律賓群島→臺灣→琉球群島→日本群島 (D)臺灣→琉球群島→日本群島→千島群島。

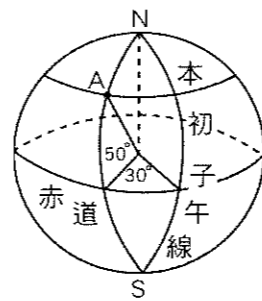
- () 36. 飄飄要尋找他家族數代所流傳下來的寶藏。從地圖上發現，那個藏寶地點距離武崙國中約為10公分。若此圖的比例尺為1:50,000，則實際距離約為多少公里？ (A)0.5公里 (B)5公里 (C)50公里 (D)500公里。

- () 37. 臺灣目前總共有六個直轄市，請問：下列何者『不包含』在內？ (A)臺北市 (B)新北市 (C)臺南市 (D)臺東市。

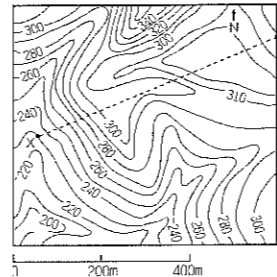
- () 38. 日本近年來是臺灣人相當喜愛的旅遊景點，為促進雙方的交流與觀光，日本東京車站和臺鐵新竹車站締結為姐妹站。請問：若雙方簽約時間為臺灣時間上午9點，同時間在東京車站 (135°E, 35°N) 門上的大鐘時間應為何？



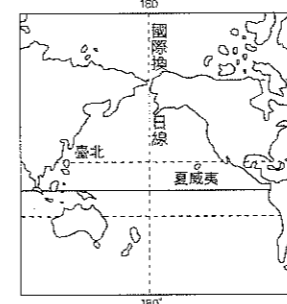
- () 39. 附圖為一地球儀。根據經緯線所示，A點的位置為何？ (A)東經30度，南緯50度 (B)東經50度，北緯30度 (C)西經30度，北緯50度 (D)東經30度，北緯50度。



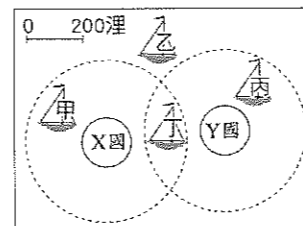
- () 40. 臺灣高鐵在興建的過程中，需克服臺灣地形崎嶇、多山丘分布的特性，因此開鑿了許多隧道。由工程師所繪製的地形圖顯示，欲開挖一直線隧道以聯絡X、Y兩點。請根據附圖中的比例尺加以判斷，這兩點間的直線距離約為多少公尺？ (A)200 (B)400 (C)600 (D)800。



- () 41. 附圖中的國際換日線貫穿太平洋。假設今天臺北是10月17日下午三點，而此線右側的夏威夷應是下列哪一個日期？ (A)10月15日 (B)10月16日 (C)10月17日 (D)10月18日。



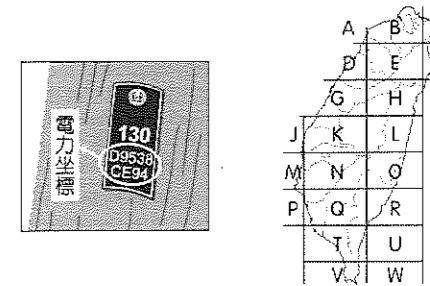
- () 42. 我國籍近海漁船上，船長與漁工的對話如下：漁工阿兔：「船長，我們可以下網捕魚了嗎？」，船長阿狐：「稍等一下，怎麼會有兩國的海巡船向我們接近！」根據上述內容判斷，阿狐的船隻最可能位於附圖中哪一個位置？ (A)甲 (B)乙 (C)丙 (D)丁。



- () 43. 領空飛越權指允許他國班機不著陸的情況下，飛越本國領空的權限。若雙方協議後，外籍班機須繳交過境航路服務費。臺灣國土小，飛行通過時間約50分鐘，因而採取按次收費，外籍班機通過一次收一萬元。事實上，西元2018年臺灣收取的過境航路服務費共22.3億，創下歷史新高。由於臺灣飛日、韓和菲律賓、越南、馬來西亞、新加坡等國平均不到4小時，良好的位置條件大大增加了外籍班機飛行通過的次數。請問：上文中指的「良好的位置條件」為何？ (A)臺灣位於120°E的時區範圍內 (B)臺灣地處熱帶和副熱帶氣候的交界 (C)臺灣位處寒、暖流交會的地點 (D)臺灣處於聯繫東北亞和東南亞的樞紐位置。

二、題組題

*臺灣的電線桿或配電箱，大多標有由英文字母和數字組成的雙排編號，共9碼或11碼，此編號為「電力坐標」，如圖(一)所示。坐標中的英文字母和數字乃根據固定的規則編碼，例如第一個英文字母代表分區坐標區塊，對照圖(二)即可大略知道位於臺灣何處。電力坐標經過簡單的換算，可以轉換成臺灣常用的坐標系統。因此，民眾只要向救難單位報出電力坐標，救難人員就可依此坐標精準確認地點。



▲圖(一)

▲圖(二)

- () 44. 位置的表示法可分為絕對位置和相對位置。上文介紹電線桿上的編號與下列何者的表示法相同？ (A)綠島位在墾丁國家公園的東北方 (B)彰化車站距離員林車站15公里 (C)武崙國中位於基隆市安樂區武崙街205號 (D)臺北市政府大樓位在101大樓北方300公尺處。
- () 45. 圖(一)電線桿上的編號對照圖(二)判斷，其位在下列何處的可能性最高？ (A)苗栗縣 (B)桃園市 (C)嘉義縣 (D)雲林縣。

試題結束，請再次檢查是否依序畫卡，注意座號是否有畫記，大家段考加油呀！