


# 基隆市立武崙國民中學 111 學年度第二學期 8 年級第三次段考試卷

## 歷史科

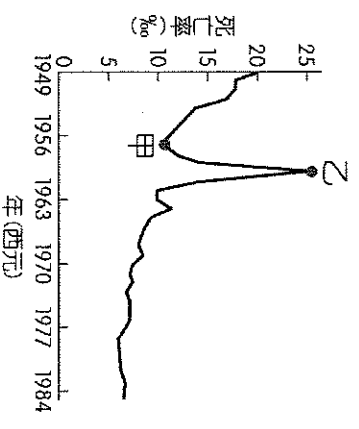
年 班 座號： 姓名：

### 一、單題 (每題 2 分，共 80 分)

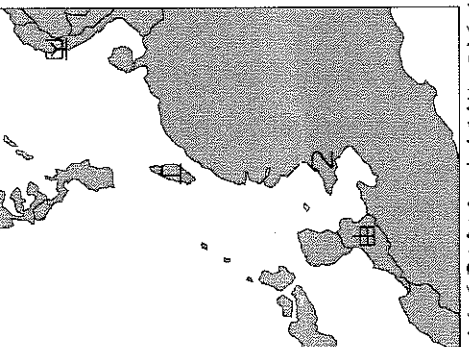
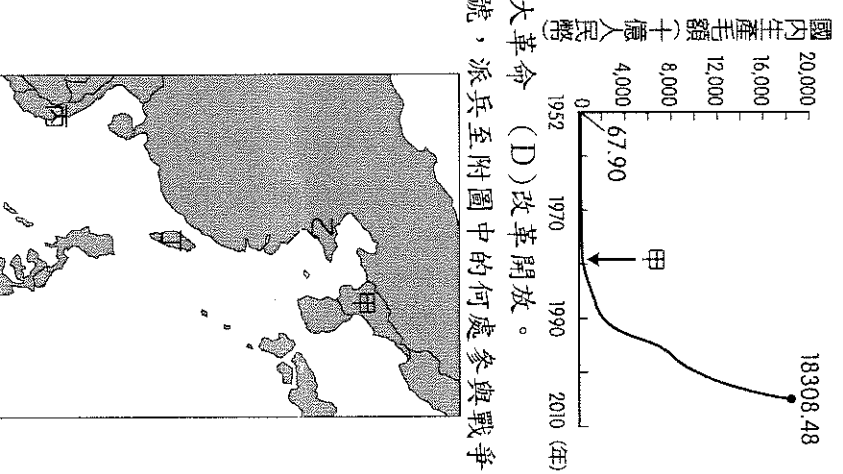
- ( ) 有個國際組織，在美國的主導下成立，目的是為了避免亞洲共產勢力的擴張。但隨著冷戰結束，該組織的會員國意見未能一致，最後在 1977 年面臨解散的命運。請問：該國際組織為何？ (A) 亞太經濟合作會議 (B) 世界貿易組織 (C) 東南亞公約組織 (D) 東南亞國家協會。
- ( ) 2019 年 6 月，香港爆發大規模反送中運動，臺灣當時除了金錢援助以外，也幫助募集許多防毒面具等物資支援香港。當時臺灣的社群網站還流傳一張圖，如附圖，深怕此類事件再度重演。請問：臺灣人民在香港反送中事件時，也害怕何種歷史事件重演？



- ( ) 沒收地主土地 (B) 大躍進 (C) 六四天安門事件 (D) 文化大革命。
- ( ) 電影《活著》裡有一幕是主角的女兒出嫁，男方帶來的聘禮全部都是《毛語錄》，儀式結束後眾人開始齊聲唱歌，歌詞裡提到天大地大不如黨的恩情大，爹親娘親不如毛主席親。請問：女兒出嫁的時間大概是下列何時？ (A) 中共建國初期 (B) 大躍進 (C) 改革開放 (D) 文化大革命。
- ( ) 中共史上有一位人物「使中共能取得韓戰的不敗而能與美國對峙的局面，也順利完成了第一個 5 年計畫的目標。第一個 5 年計畫的成功，使他充滿樂觀主義，認為共黨憑藉群眾運動來使中國走入先進國家之列，進而推動大躍進，違背經濟發展模式，終導致中國的大災難……。」請問：上文所描述的人物應是指下列何人？ (A) 陳獨秀 (B) 蔡元培 (C) 張學良 (D) 毛澤東。
- ( ) 附圖的歷史人物所提出的「貓論」，是在說明：無論計畫經濟還是市場經濟，都只是一種資源配置手段，與政治制度無關。只要能夠發展生產力的，都可以在實踐中使用。這個理論進而促成中國的改革開放。請問：此歷史人物是誰？ (A) 毛澤東 (B) 鄧小平 (C) 蔣中正 (D) 陳獨秀。
- ( ) 哆啦 A 夢打算搭乘時光機回到 1970 年的中國，為了要隱身在當時的人群中而不被發現，哆啦 A 夢決定進行變裝。請問：哆啦 A 夢身上應該如何裝扮比較安全？ (A) 攜帶步槍，準備隨時加入國共內戰 (B) 裝滿廢鐵，提供給土法煉鋼使用 (C) 攜帶《毛語錄》，混進學生群中 (D) 口袋裝滿中央銀行印製的法幣，以利消費。
- ( ) 「有一天大雨驟冷，忽然有不知何處闖來造反的紅衛兵，把我們的人都揪出來召到大席棚裡，押上臺去示眾，還給我們都戴上報紙做成的尖頂高帽。在群眾憤怒叫罵聲中，我方知我們這一大群示眾的都是『牛鬼蛇神』。……我一直猜測我自己是個什麼東西。散會後……我早已脫下自己的高帽子看了一眼，我原來是個『資本階級學者』。」請問：依上文敘述，這指的是哪一歷史事件？ (A) 聯俄容共 (B) 改革開放 (C) 大躍進運動 (D) 文化大革命。
- ( ) 中國於 1970 年代末推動的改革開放政策，帶動經濟快速成長，但是卻加深區域發展失衡現象。下列關於中國的新聞報導，何者最能反映中國區域發展不均的現象？ (A) 今年出現的多起沙塵暴，已直接威脅北京、上海及南京等大都市 (B) 推動海上絲路計畫，發展從中國沿海港口經印度洋至歐洲的航線 (C) 農曆春節將湧現數億人次返鄉人潮，堪稱地表最大規模的人口移動 (D) 南方近年降雨減少，旱象環生，南水北調將威脅南方用水的供應量。
- ( ) 附圖是參考某段期間中國人口死亡率估算值而繪製的曲線圖，圖中甲、乙二點之間死亡率的變化，最可能與下列何者有關？ (A) 人民響應抗美援朝而造成傷亡慘重 (B) 大躍進運動期間，政策失當所導致的嚴重饑荒 (C) 文化大革命時，紅衛兵鬥爭造成眾多人口死亡 (D) 六四天安門事件爆發，政府鎮壓大量抗議群眾。
- ( ) 第二次世界大戰後美國面對共產勢力的擴張作出很多努力來阻止，下列何者不屬於美國的努力？ (A) 打造出一條亞太圍堵體系 (B) 出兵援助南韓 (C) 金錢援助臺灣、日本等國家 (D) 直接攻打蘇聯領土，企圖一舉打垮蘇聯政府。
- ( ) 中共的建國與建國初期，均受到□□的大力協助與影響。但到了 1960 年代雙方因爭辯政策方向，慢慢漸行漸遠。請問：□□是下列何者？ (A) 德國 (B) 英國 (C) 美國 (D) 蘇聯。
- ( ) 下列是中共建國五十年間發生的一些重要大事： (甲) 大躍進 (乙) 土地改革 (丙) 文化大革命 (丁) 改革開放。若依事件先後順序排列，下列何者正確？ (A) 甲乙丙丁 (B) 乙甲丙丁 (C) 乙丙甲丁 (D) 甲丙乙丁。
- ( ) 附圖為中共推動某一政策時的宣傳畫。請問：在該政策推動的時期，其手段不包括下列何者？ (A) 破四舊立四新 (B) 人民公社 (C) 土法煉鋼 (D) 十五年內提升國力。
- ( ) 《亞洲週刊》曾形容某場戰爭：「這是一場沒有勝利者的戰爭，某國被迫派出 150 萬志願軍，自己出錢、出力、出命。……俄國則躲在幕後，既未出力且又食言而肥，拒派空軍助戰。」請問：這場戰爭與某國應該是？ (A) 韓戰，美國 (B) 越戰，美國 (C) 韓戰，中國 (D) 越戰，蘇聯。
- ( ) 為完整圍堵共產勢力，美國另與未加入東南亞公約組織的東亞國家分別簽訂條約。其中，和臺灣簽訂下列何者，藉以穩定臺海局勢？ (A) 《臺灣關係法》 (B) 《中美共同防禦條約》 (C) 《美中安全協定》 (D) 《西太平洋防禦公約》。



16. ( ) 美、蘇領導的反共國家與共黨國家互相對抗，形成冷戰的局面是在哪一次戰爭之後？ (A) 第一次世界大戰 (B) 第二次世界大戰 (C) 韓戰 (D) 越戰。
17. ( ) 美國在某場戰爭之後，開始積極對外簽訂軍事合作協定：1951年簽《美澳紐公約》及《美日安全協定》、1954年簽《東南亞防禦公約》及《中美共同防禦條約》，形成西太平洋防禦陣線，成為圍堵政策的一環。請問：美國的這些舉動是因何事的刺激所致？  
(A) 韓戰 (B) 越戰 (C) 中國加入聯合國 (D) 日本無條件投降。
18. ( ) 「蝴蝶效應」指的是在一個動力系統中，初始條件下微小的變化能引起整個系統長期而巨大的連鎖反應。綜觀中國現代史上的政治發展，的確有政治人物為了維護個人利益推動政治運動，卻引發全國乃至於全世界的風潮。請問：前文所述的政治運動，最可能與下面哪個選項有關？ (A) 以空間換取時間 (B) 停止內戰，一致抗日 (C) 吃飯不花錢，努力搞生產 (D) 爹親娘親不如毛主席親。
19. ( ) 1950年韓戰爆發，美國政府提供臺灣軍事及經濟援助，對當時物資匱乏、資金短缺的臺灣而言，無疑是一場及時雨。美國當時援助臺灣的根本原因最可能是下列何者？ (A) 支援對抗日本的盟國 (B) 圍堵共產勢力的擴張 (C) 轉移油價居高不下的焦點 (D) 防範軍國主義的蔓延。
20. ( ) 中共建國初期，曾沒收一切財產，以集體的方式、戰鬥的精神從事生產，還設有大家一起吃大鍋飯的公共食堂，由於不論工作努力與否都有飯吃，反而造成勞動成果不佳的窘境。請問：以上所敘述的情形是指下列哪一措施？ (A) 人民公社 (B) 改革開放 (C) 文化大革命 (D) 十年建設。
21. ( ) 附圖呈現中國1952年至2005年國內生產毛額的數據資料。圖中曲線從甲處後有明顯變動的情況，最可能與下列何者有關？


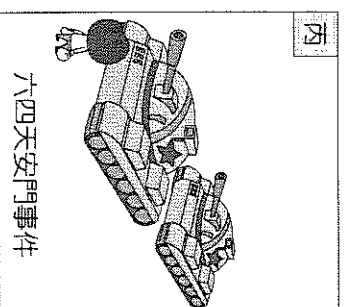
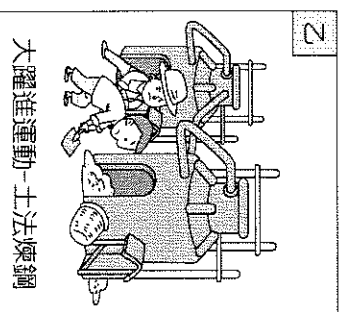
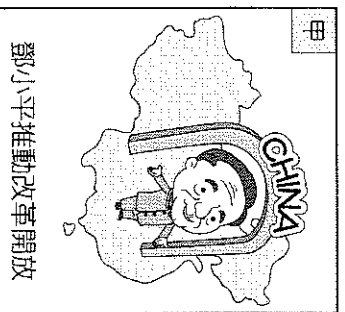


22. ( ) 西元1950年中國喊出「抗美援朝」的口號，派兵至附圖中的何處參與戰爭？  
(A) 韓戰爆發 (B) 全力煉鋼 (C) 文化大革命 (D) 改革開放。

23. ( ) 阿文正在整理課本所說的國際組織的特點，如附表，表中哪一項寫錯了？  
(A) 甲 (B) 乙 (C) 丙 (D) 丁。

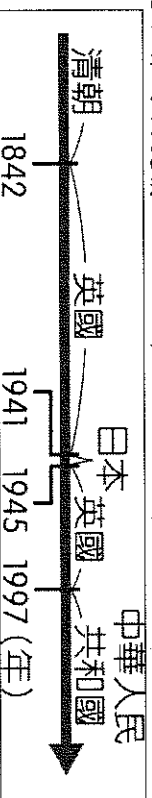
	東南亞公約組織	東南亞國家協會
甲：會旗		
乙：目的	圍堵共產勢力的擴張	東南亞國家的區域統合
丙：開始時間	冷戰期間	冷戰期間
丁：結束時間	~迄今	1977年解散

24. ( ) 下列四幅漫畫是中華人民共和國建立後所發生的四個事件。依發生時間先後順序排列為何？  
(A) 甲 (B) 乙 (C) 丙 (D) 丁。

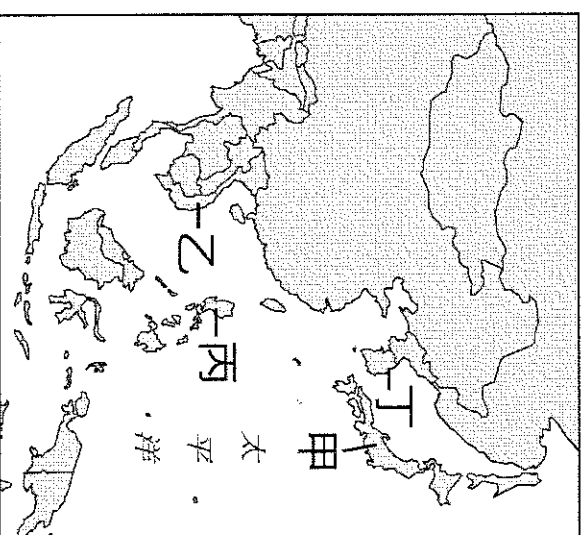


- (A) 甲乙丙丁 (B) 乙丁甲丙 (C) 丙甲丁乙 (D) 丁甲丙乙。

25. ( ) 附圖呈現的是某地不同時期統治者的演變情況，此地最可能是下列何者？



26. ( ) 關於「冷戰」一詞，其實並無非常精確的學術定義，若就普遍的認知，下列哪個「冷戰」的說法，最符合實際狀況？ (A) 指的是美國與蘇聯兩大國的劇烈軍事戰鬥 (B) 因為敵對國家所處緯度都比較高，氣候較為寒冷 (C) 兩集團間展開大規模的實際作戰行動，致使死傷人數眾多 (D) 兩大集團處於互相對峙且互相抑制的狀態，避免爆發全面衝突。
27. ( ) 西元 1919 年的五四運動與西元 1989 年的六四天安門事件，是兩場在中國近代史發展過程中爆發的學生革命運動，且剛好都是發生在北京天安門廣場前。請問：這兩場運動訴求的內容分別為何？ (A) 五四運動：民主自由／六四天安門事件：全盤西化 (B) 五四運動：經濟發展／六四天安門事件：德先生、賽先生 (C) 五四運動：領土主權／六四天安門事件：民主自由 (D) 五四運動：經濟發展／六四天安門事件：全盤西化。
28. ( ) 曾經參與韓戰的美國老將回憶這場戰爭說道：「眼看收復平壤已經是屈指可待，我軍卻又遭遇更難纏的對手，□的號召力極大，派遣出的軍隊成為我軍收復朝鮮半島的極大阻力……。」請問：上述缺空處應該填入下列何者？ (A) 蔣中正 (B) 毛澤東 (C) 邱吉爾 (D) 羅斯福。
29. ( ) 課堂上，老師與同學討論某時期中國的社會情形時說道：「這個時期的中國剛走出一場大飢荒，眼看著亟需重建，卻又爆發另外一場血腥的政治鬥爭，影響範圍遍及全國，甚至海外各地。」請問：對這段時期，下列幾位同學的敘述何者錯誤？(A) 高舉「超英趕美」的口號 (B) 起因於毛澤東為鞏固權力 (C) 全力打擊中國的傳統文化 (D) 海外推廣共黨革命的經驗。
30. ( ) 中國從文化大革命結束後，一直維持改革開放的路線，但依舊面臨許多挑戰。請問：現今中國的挑戰不包括下列何者？ (A) 人權不彰 (B) 性別比例失衡 (C) 領土爭議 (D) 經濟實力不佳。
31. ( ) 文化大革命不但在中國境內造成深遠的影響，對世界也造成一定程度的衝擊。請問：下列何者不是文化大革命的影響之一？ (A) 擴大援助亞、非、拉丁美洲的共產武裝勢力 (B) 中國本身向資本主義靠攏 (C) 助長歐美地區的學生運動 (D) 美國黑人權運動人士討論、學習《毛語錄》。
32. ( ) 大明在一場演講中聽到以下這段話：「年輕人被送入位於熱帶的絞肉機，卻沒有任何人被允許有獲勝的意願，在這種不求勝利致使戰爭慘遭敗績的刺激下，美國人民在心理上產生了許多複雜的變化，他們對這麼一個不明不白的戰爭，竟要付出如此龐大的代價而內心無法平衡。」請問：該場演講的題目最可能為何？ (A) 共產政權的崩潰 (B) 區域統合的開端 (C) 冷戰時代的區域衝突 (D) 全球化的時代。
33. ( ) 接續上題，大明提到的戰爭，應該是指那一戰爭？(A) 以阿戰爭 (B) 第二次世界大戰 (C) 韓戰 (D) 越戰。
34. ( ) 中國的「順口溜」常以諷刺的語氣，來反映民間對政治、社會的不滿與無奈。請問：「十億人民九億商，還有一億等開張。」此句順口溜反映的時代現象為何？ (A) 中共號召人民，展開「二萬五千里長征」 (B) 中共改革開放後，人民「向錢看」的社會現象 (C) 中共實施土地改革，強調耕者有其田 (D) 中國共產黨成立後，實施「鄉村包圍城市」的政策。
35. ( ) 東南亞自古即受到中國大陸勢力的影響，近年來除了面對中國大陸經濟上的競爭外，還加上了主權領土上的紛爭，日益強大的中國大陸在南沙群島上的島礁上填海造陸，並進行實質的駐軍管理，強化了中國大陸在南海的控制力量。請問：文中的事件，最容易與下列哪個國家引起紛爭？ (A) 緬甸、柬埔寨 (B) 越南、菲律賓 (C) 印尼、新加坡 (D) 東帝汶、馬來西亞。
36. ( ) 1990 年代，許多區域性的國際組織紛紛出現，例如：歐盟等，而東南亞國家協會也開放越南等共產國家加入。請問：造成此現象的關鍵因素應為？(A) 蘇聯瓦解冷戰結束，國際間不再二元對立(B) 金融危機，借助貿易合作以自保(C) 彼此結盟，全球性戰爭一觸即發(D) 民族自決，殖民地紛紛尋求獨立。
37. ( ) 2006 年 8 月底，東南亞國家協會經濟部長會議在吉隆坡舉行。日本經濟產業相「二階俊博」於 8 月 23 日提議：「組織一個囊括全世界半數人口的東協+6 的自由貿易區。」如果成真，這個貿易區將有 31 億人，國民生產毛額有 10 兆美元，成為全世界最龐大的貿易區。請問：根據你對東南亞周邊歷史地理的理解，這個號稱「東協+6」的組織，最不可能包括哪個國家？ (A) 印度 (B) 澳洲 (C) 紐西蘭 (D) 北韓。
38. ( ) 1955 年到 1975 年，美軍為了取得優勢不惜噴灑含有劇毒的落葉劑(橙劑)，使當地森林、山區變成一片光禿禿，讓共產黨游擊部隊無所遁形，但是此地至今仍有超過 300 萬人受到落葉劑後遺症折磨。文中描述的地區位於圖中何處？ (A) 甲 (B) 乙 (C) 丙 (D) 丁。
39. ( ) 西元 1971 年美國派遣乒乓球隊訪問中華人民共和國，為兩國關係破冰的關鍵。當時兩國進行體育交流的背景為何？ (A) 中美兩國都有意緩和和政治緊張，改善關係 (B) 美國希望與中國交換大貓熊做為展示之用 (C) 美國人民希望向中國進行更多的商業投資 (D) 中華人民共和國希望美國放寬移民人數限制。
40. ( ) 有一段時間，中國國內充滿以下口號：「與火箭爭速度，和日月比高低。」「一天等於 20 年，共產主義在眼前。」「一鏟能鏟千層嶺，一擔能挑兩座山，一炮能翻萬丈崖，一鑽能通九道灣，兩隻巨手提江河，霎時掛在高山尖。」根據這些內容，當時的中國應該正在進行什麼事情？ (A) 抗日戰爭 (B) 國共內戰 (C) 大躍進 (D) 文化大革命。



## 二、題組 (每格2分, 共20分)

■請閱讀資料，回答下列問題：

資料一：西元1949年中共建政，蘇聯率先承認中華人民共和國並建交，西元一九五〇年代初期，中蘇關係日漸增溫，蘇聯大量援助中國。

資料二：西元1971年，美國先派出季辛吉秘密訪中，發表《上海公報》，承認「一個中國」。次年，美國總統尼克森公開訪中，終止對中國的經濟制裁。

資料三：西元1989年，美國總統布希公開指責「六四天安門事件」中國踐踏人權，中美關係降至冰點。

41. ( ) 根據資料一與資料二，我們該怎麼解釋一九七〇年代的中美蘇三國局勢？

(A) 中國與蘇聯交惡，美國選擇支持蘇聯 (B) 美國與蘇聯交惡，中國選擇支持蘇聯 (C) 中國與美國交惡，蘇聯選擇支持美國 (D) 中國與蘇聯交惡，美國選擇支持中國。

42. ( ) 由資料二演變至資料三，該如何解釋當時的國際局勢？ (A) 國際共產政權解體使中國有政治改革壓力 (B) 一國兩制在中國實施情形不太理想 (C) 蘇聯解體使得美國面臨政治改革壓力 (D) 一國兩制的內容在臺灣引來人民反感。

■有句順口溜：「五〇年代人幫人，六〇年代人整人，七〇年代人哄人，八〇年代個人顧個人；九〇年代見人就害人。」充分描述中共政權統治下中國社會的發展，請回答下列問題：

43. ( ) 「五〇年代人幫人」和下列哪項政策有關？ (A) 土地改革 (B) 經濟特區 (C) 人民公社 (D) 文化大革命。

44. ( ) 「八〇年代個人顧個人」、「九〇年代見人就害人」是因為中共實施了什麼政策，造成人們以經濟掛帥的態度？ (A) 文化大革命 (B) 改革開放 (C) 土地改革 (D) 大躍進。

■請根據下列資料回答問題：

資料一：「前年賣糧用籬挑，去年賣糧用船搖，今年汽車裝不了，明年火車還嫌小！」

資料二：「提倡實事求是，不虛報，不要把別人的豬報成自己的，不要把三百斤麥子報成四百斤。」

資料三：據統計，1960年，糧食實產2,870億斤，比1957年減少26%以上；……整體上退回到了1951年的水平。

45. ( ) 1950年代末期，中共內部經濟因為哪一項改革導致糧食生產量下降？

(A) 土地改革 (B) 改革開放 (C) 大躍進 (D) 文化大革命。

46. ( ) 當時中國農業發展的困境，除了各地浮報糧產之外，還推行哪一措施，企圖以集體管理方式進行生產，但卻造成生產意願低落？ (A) 土地改革 (B) 三七五減租 (C) 耕者有其田 (D) 人民公社。

47. ( ) 當時配合的口號應該是下列何者？ (A) 一致抗日 (B) 破四舊、立四新 (C) 還我青島 (D) 十五年內超過英國

■請閱讀下文，回答問題：

中共推動「改革開放」以後，經濟成長快速，中國大陸人民的生活水準也逐漸提升，但因官員貪汙腐化、物價上漲，社會瀰漫著一股對現實生活的不滿。西方的民主思潮也隨著該政策而在中國廣泛傳播，許多民間知識分子開始提出民主、人權的觀念。

1989年4月，因一位聲望高，又同情民主人士的前總書記過世，北京的學生以悼念為由，聚集於天安門廣場。批評中共的施政與社會問題，要求中共進行民主改革，解決官員貪汙腐化的問題。學生的舉動獲得民眾的同情與支持，情勢一發不可收拾，除了北京、上海、天津、武漢等大城市，也都出現群眾抗議的運動。起初，中共高層試圖與天安門廣場的學生代表溝通，但學生卻提出要讓鄧小平下臺的主張，雙方難以達成共識。

5月20日，中共宣布戒嚴。6月4日，鄧小平下令軍隊進入天安門廣場，以武力鎮壓群眾運動。這場鎮壓，經過各國媒體報導震驚了全世界，中國的民主運動受到嚴重的挫折。

(改寫自：BBC新聞中文版，六四30週年特輯系列報導)

48. ( ) 中共選擇以武力鎮壓北京的運動，而非其他大城市，原因多與北京的特殊地位有關係。請問：所謂特殊地位不包含下列何者？(A)經濟特區 (B)經濟中心 (C)政治中心 (D)歷史古都

49. ( ) 「改革開放」政策吸引了大量外國資金、技術挹注到特定區域。請問：在上述政策實施後，下列哪個都市一躍成為現今中國四座最繁華的都市之一？

(A) 天津 (B) 重慶 (C) 香港 (D) 深圳

50. ( ) 6月4日，以學生發起的這場運動，經過各國媒體報導震驚了全世界，台灣地區也紛紛聲援支持北京的改革。而台灣的學生也受到此浪潮的影響，在隔年3月也發起了哪一場民主改革的活動？

(A) 太陽花運動 (B) 野百合運動 (C) 反送中運動 (D) 雨傘革命

〈試題結束，請詳細檢查〉