

基隆市立武崙國民中學 111 學年度第二學期八年級地理科第三次定期評量試題卷

本試卷均為單一選擇題。共 50 題，每題 2 分，總計 100 分。請用 2B 鉛筆將正確答案畫在答案卡上，

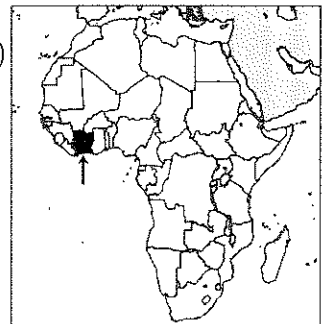
考試結束後務必交回答案卡給監考老師。試題卷上也請寫上答案並妥善保管，日後上課需要檢討。

班級：_____ 姓名：_____ 座號：_____

- 1.() 非洲東部雖地處低緯，卻因哪一因素而終年涼爽？ (A)鄰近海洋 (B)洋流經過 (C)西風吹拂 (D)地勢較高。
- 2.() 西非和東非熱帶栽培業發達的原因，可能與哪些因素有關？
甲.曾淪為歐洲殖民地
乙.熱帶地區面積廣大
丙.土地平坦，土壤肥沃
丁.港灣眾多，海運發達
(A)甲乙 (B)乙丙
(C)甲丁 (D)丙丁
- 3.() 非洲總人口數約占全球 14.5%，有 11 億人之多，GDP 占全球約 2%。請問：依據上述，下列推論何者正確？ (A)非洲經濟水準較差 (B)非洲礦產資源豐沛 (C)非洲產業已經飽和 (D)非洲人口是各洲最多。
- 4.() 南非共和國的經濟作物有柑橘、葡萄等，不同於其他非洲地區的國家。請問：造成此作物差異的因素可能為何？
(A)殖民經濟 (B)海拔不同
(C)緯度差異 (D)族群差異。
- 5.() 漠南非洲境內社會動盪不安，甚至造成戰亂不斷，對該地區的整體發展影響甚大。請問：造成這種現象的主因為何？
(A)人口數量太多 (B)族群多元複雜
(C)宗教信仰差異 (D)交通地位重要
- 6.() 剛果河水力蘊藏量豐富，流域面積大，是位在哪一氣候區所造成的？
(A)熱帶莽原氣候 (B)熱帶雨林氣候
(C)高地氣候 (D)溫帶地中海型氣候
- 7.() 關於南非的敘述，何者正確？
(A)境內人種以歐洲裔白人為主
(B)教堂建築是當地的傳統文化
(C)週日可見到黑人上教堂做禮拜
(D)當地的種族衝突源自於相同族群被國界分隔。
- 8.() 漠南非洲過去對外的海上交通十分不便，也導致其開發普遍落後。請問這種情況和該地區海岸線哪種特色關係最大？
(A)地塊古老，沿岸淺灘沙洲遍佈
(B)氣候暖溼，港口珊瑚礁岩眾多
(C)海流急促洶湧，偏離主要航線
(D)海岸陡峭平直，缺少天然港灣。

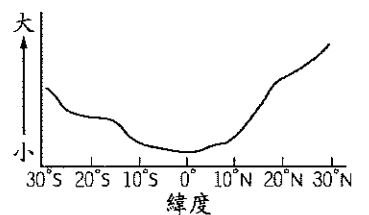
- 9.() 跨國企業若要投資漠南非洲以求獲利成長，可能得審慎思考許多問題，若沒克服這些既有的問題，可能會得不償失。請問：跨國企業投資非洲時，會面臨哪些可能的問題？甲.公共衛生 乙.礦產能源 丙.人口數量 丁.基礎建設
(A)甲乙 (B)甲丁
(C)乙丁 (D)乙丙。

- 10.() 位於西非的象牙海岸(見右圖)是非洲窮國之一，國內產業以種植可可為主，當地民眾收入低微，形成許多社會問題。下列何者可能不是該國面臨的問題？

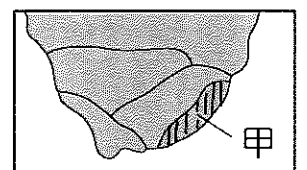


- (A)公共衛生不足導致人均壽命較短
 - (B)可可的種植利潤被跨國企業掠奪
 - (C)為大量種植經濟作物而破壞雨林
 - (D)全球暖化降水增加導致沙漠萎縮。
- 11.() 非洲蘊藏豐富的地下資源，除了分布廣泛的鐵礦外，銅、鈷、金、鑽石、石油等也相當豐富。請問：非洲礦產豐富的主要原因為何？
(A)為活火山地帶 (B)地勢起伏較大
(C)地質屬古陸塊 (D)為斷層陷落區

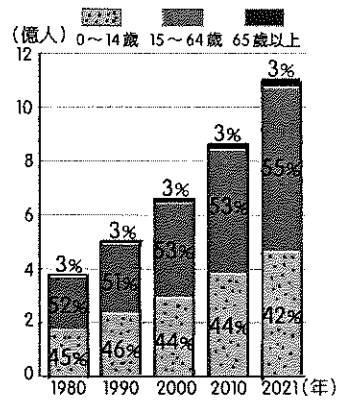
- 12.() 附圖為非洲某氣候要素隨緯度變化的統計圖表，請問圖中縱軸可能為下列哪項數據？
(A)年溫差 (B)最冷月均溫
(C)年降水量 (D)年蒸發散量。



- 13.() 附圖為漠南非洲最南端的地圖，甲處的傳統部落因夏季降水較多而以農業生活為主，請問當地主要的降水來源最可能為下列何者？ (A)盛行西風 (B)東南信風 (C)東北季風 (D)熱帶低壓。



- 14.() 漠南非洲的人口結構變化如附圖所示，圖中反應出當地何種人口特性？

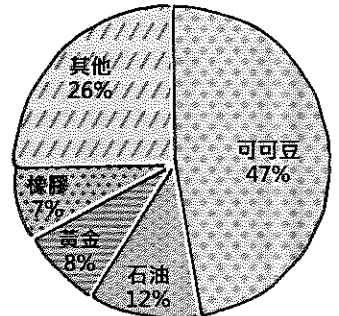


- 15.() 非洲大陸地形單調，若藉由無人機在空中由北向南進行偵測，則依序會錄製到哪三個盆地的景象？ (A)撒哈拉→剛果→喀拉哈里 (B)撒哈拉→喀拉哈里→剛果 (C)剛果→撒哈拉→喀拉哈里 (D)喀拉哈里→撒哈拉→剛果盆地
- 16.() 承上題，漠南非洲地形單調平坦最主要的成因為下列何者？ (A)面積廣大 (B)斷層陷落 (C)火山活動 (D)地塊古老。
- 17.() 漠南非洲某基金會在喀麥隆推動「棕櫚擊退貧窮」的活動，希望藉由廣植熱帶栽培業作物的方法，創造經濟利益改善貧窮，但成效不彰。請問：當地廣泛種植熱帶栽培業作物最容易產生下列哪一項問題？ (A)孳生病媒蚊蟲 (B)引發族群衝突 (C)農場勞工失業 (D)糧食仰賴進口
- 18.() 筱晴翻閱介紹漠南非洲傳統部落的雜誌，書中圖文並茂的介紹了當地的多元族群、服飾、信仰和傳統經濟生活，請問下列哪一種經濟活動，不會被這本書介紹？ (A)游耕焚林 (B)集約稻作 (C)游牧遷徙 (D)採集狩獵。
- 19.() 漠南非洲的天然資源豐富，但其工業發展卻較緩慢落後，請問主要影響的因素有下列哪些？
甲.政局不穩甚至內戰頻傳
乙.水電及交通建設不完善
丙.位處斷層資源不易開採
丁.長期發展殖民地式經濟
戊.傳染病多勞工難以發揮
(A)甲乙丙 (B)甲乙丁 (C)乙丙丁 (D)丙丁戊
- 20.() 基督教為漠南非洲的主要宗教信仰，請問基督教在漠南非洲的傳播主要與下列何者關係密切？ (A)殖民掠奪 (B)經商貿易 (C)發動聖戰 (D)族群通婚。

- 21.() 海明威著有短篇小說《吉力馬札羅的雪》，文中描述的雪景使觀光客慕名而來到非洲旅遊，位處赤道的吉力馬札羅會下雪與下列何項地理因素關係密切？ (A)地勢高聳 (B)涼流經過 (C)高壓籠罩 (D)盛行風吹拂。

- 22.() 漠南非洲部分國家是由多個族群共同組成，族群間的不斷衝突導致社會動盪不安，嚴重影響民生和經濟發展。請問造成此種現象的主要原因為何？ (A)天災頻傳族群遷徙搶資源 (B)列強不當劃分殖民地範圍 (C)宗教信仰不同觀念落差大 (D)地形崎嶇使得族群數量多。

- 23.() 附圖為漠南非洲某國家主要出口品項比例圖。請問：此圖可以判斷出下列哪些訊息？
甲.對外貿易形成順差
乙.經濟結構屬於殖民地式經濟
丙.大量種植經濟作物以滿足國內需求
丁.產品單一易受市場價格波動影響
(A)甲乙 (B)甲丙 (C)乙丙 (D)乙丁。



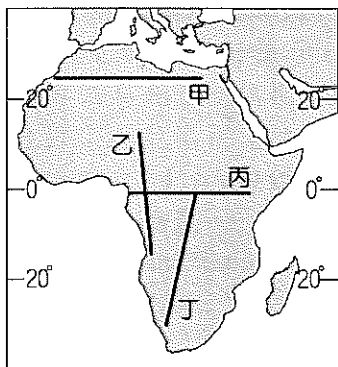
- 24.() 21世紀後，大量資金與技術投入漠南非洲，使當地呈現跳躍式發展，請問當地居民目前多以何種方式進行遠端訊息溝通？ (A)市內電話 (B)手機 (C)傳真 (D)電報。

- 25.() 早期漠南非洲經濟發展較為落後及貧困，1990年代以後，本區經濟逐漸起飛，請問下列哪些為此地吸引外國投資設廠的優勢？
甲.豐富的自然資源 乙.穩定的政治環境
丙.充足廉價的勞力 丁.便捷的交通建設
(A)甲乙 (B)甲丙 (C)乙丙 (D)丙丁。

- 26.() 漠南非洲國家數量眾多，請問影響圖中各國疆域畫分的主要因素為下列何者？ (A)傳統部落領域 (B)游耕焚林區域 (C)列強勢力劃分 (D)河川山脈阻隔。



27.() 雅萍對地表植被的變化相當有興趣，附圖是旅行社為她安排的四條旅遊路線，請問哪一條路線最能滿足她觀賞到最多種類型的天然植物景觀？



(A)甲 (B)乙 (C)丙 (D)丁。

28.() 漠南非洲各國的經濟活動仍舊受到早期外來勢力的影響，請問下列哪項是當地主要依賴的產業活動？

(A)農礦外銷 (B)商品服務
(C)機械加工 (D)觀光旅遊。

29.() 非洲礦產資源豐富，許多國家因盛產石油而成為 OPEC 的會員國，請問下列哪個國家並未在此組織內？

(A)南非 (B)安哥拉 (C)奈及利亞
(D)阿爾及利亞。

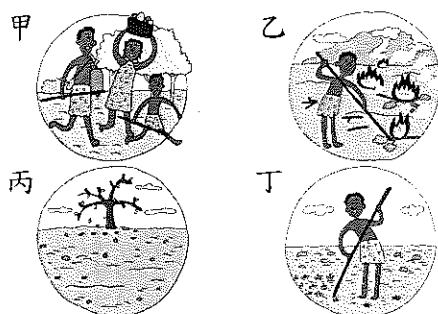
30.() 經濟學家稱非洲的發展彷彿是「坐在黃金堆上的乞丐」，空有豐富的礦產資源卻無法充分開採利用，因此經濟狀況普遍不佳。請問此現象與下列何者關係密切？

(A)強國干涉開發 (B)基礎建設不足
(C)勞力資源短缺 (D)礦區氣候惡劣

31.() 「地球上的冥湖」納特龍湖位於東非坦尚尼亞，受鄰近大裂谷周圍火山運動產生的火山灰影響，湖水變質成高強鹼性，因此又稱為泡鹼湖。請問造成東非地區火山運動頻繁的作用力與下列何者相同？

(A)北投的溫泉觀光興盛
(B)大甲溪上游水力充沛
(C)尼羅河下游堆積旺盛
(D)撒哈拉沙漠連綿沙丘。

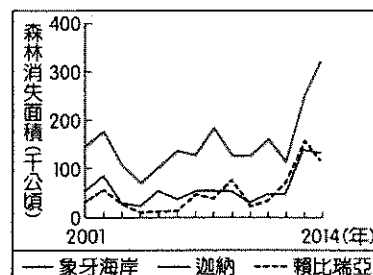
32.() 漠南非洲至今仍有少數部落維持游耕此種傳統的生活方式，請問游耕的耕作流程應為下列何者？



(A)甲乙丙丁 (B)乙丁丙甲
(C)丙丁甲乙 (D)丁甲丙乙。

33.() 瘧疾、愛滋病、肺結核為漠南非洲並列的三大傳染病，每年死亡的人數相當多，甚至每秒都有人因傳染病死亡。請問下列何者是造成當地傳染病散播快速的主要原因？(A)宗教儀式 (B)人口眾多 (C)醫療落後 (D)交通發達。

34.() 森林的消失受各種不同的自然及人為因素影響，大規模種植作物為重要的因素之一。附圖為某國際組織運用衛星影像資料，推算非洲三個國家自 2001 至 2014 年森林消失面積的統計資料。圖中森林面積的變化最可能反映何種作物的大量種植？(A)可可 (B)稻米 (C)棉花 (D)葡萄



35.() 附圖為小成在研究 2017 年非洲貿易現況時所發現的某些現象。非洲各國採取下列何項措施，最可能有助於改善非洲這些現象？

⚡ 肯亞是世界主要的花卉生產國，但奈及利亞的花卉有八成來自荷蘭；奈及利亞生產大量棕櫚油，但肯亞的棕櫚油主要進口自馬來西亞。
⚡ 以洲內貿易的比例而言，非洲僅有 15%，亞洲是 58%，歐洲高達 67%。
⚡ 目前非洲大部分國家的貿易對象主要為歐盟國家、中國及美國。

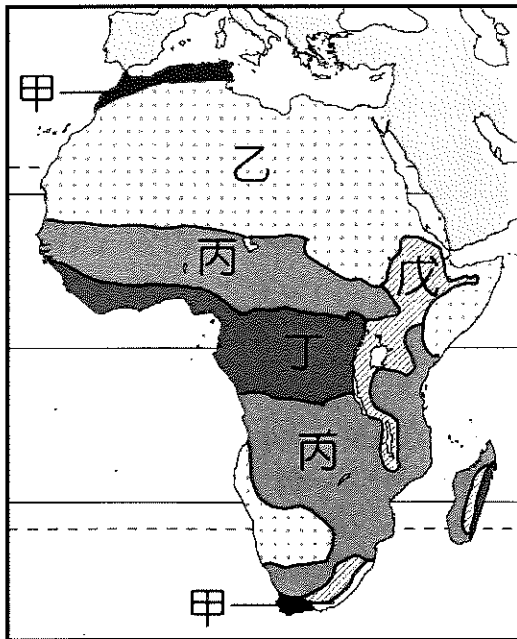
(A)限定與非洲其他國家的進口配額，保護本國產業 (B)簽署非洲自由貿易協定，降低非洲國家間的關稅 (C)強化邊境的管制措施，防止鄰國非法貿易的進行 (D)改善與其他洲的交通運輸，降低貨物的運輸成本。

☞ 近年知名串流音樂平臺 spotify 為搶進非洲市場與行動支付品牌 M-Pesa 合作，以解決非洲多數人沒有信用卡與銀行帳戶的付款問題，截至 2020 年漠南非洲已有 5.48 億行動支付帳戶，這在發展中國家是極為罕見的。請回答第 36~37 題：

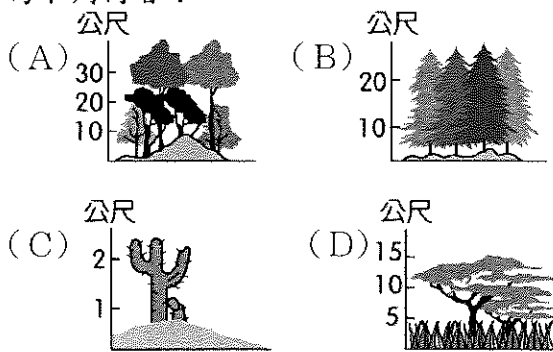
36.() 請問漠南非洲市場具備何項優勢以吸引串流音樂平臺的搶進？(A)悠久的音樂律動文化 (B)豐富的原物材料資源 (C)各國政府大力的支持 (D)龐大的潛在消費人口。

37.() 請問上文中行動支付的出現與非洲何項發展背景有關？(A)區域與城鄉發展落差巨大 (B)基礎電信與金融建設不足 (C)基礎國民教育未徹底落實 (D)官商勾結嚴重政局不穩定。

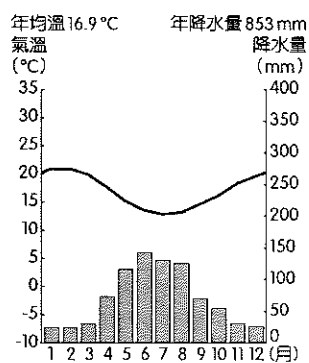
附圖為『非洲氣候分布圖』，請參考此圖請回答第 38~44 題：



38. () 坦尚尼亞的塞倫蓋提國家公園，每年有上百萬頭的牛羚、斑馬進行地表上大規模動物尋找水草的遷徙活動，請問此地屬於『非洲氣候分布圖』中的何種氣候？
 (A) 甲 (B) 乙 (C) 丙 (D) 戊
39. () 承上題，此國家公園最常見的植被種類為下列何者？



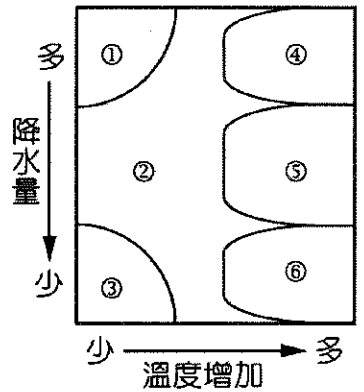
40. () 張老闆在非洲擁有一片廣大的農場，附圖為該農場所在地的氣候圖，根據圖中的氣候資料判斷，請問下列哪種景觀最可能出現在張老闆農場？



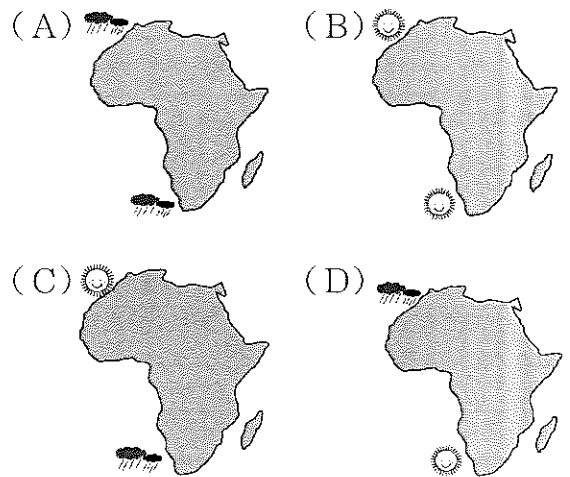
- (A) 品紅酒欣賞結實累累的葡萄園
 (B) 艷陽穿透過林蔭滿滿的可可樹
 (C) 隨著工人一顆顆採集咖啡果漿
 (D) 雪白棉花田中點綴辛勤的工人

41. () 某人自『非洲氣候分布圖』中的甲區往南走到丁區，途中他經過地區的氣候特徵有何變化？
 (A) 終年有雨→夏雨為主
 →冬雨為主→終年少雨
 (B) 夏雨為主→終年少雨
 →冬雨為主→終年有雨
 (C) 冬雨為主→終年少雨
 →終年有雨→夏雨為主
 (D) 冬雨為主→終年少雨
 →夏雨為主→終年有雨

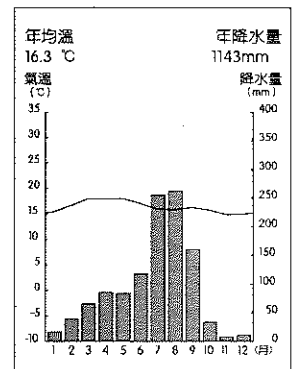
42. () 請問『非洲氣候分布圖』中的丁區，其氣候特徵會落在附圖中的哪一個區域？



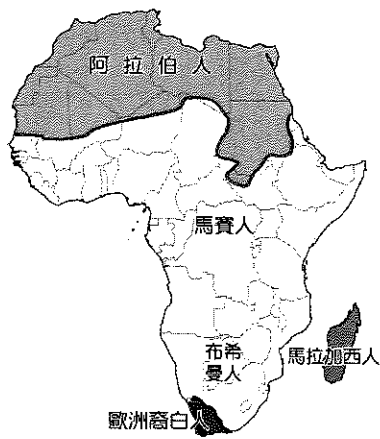
- (A) ①
 (B) ③
 (C) ④
 (D) ⑥
43. () 若想利用臺灣的暑假前往『非洲氣候分布圖』中的甲區旅遊，請問非洲南北兩側的甲區其大致的氣候特色下列何者最為正確？



44. () 右側的氣候圖最可能屬於『非洲氣候分布圖』中哪一個地區？
 (A) 甲 (B) 乙
 (C) 丙 (D) 戊



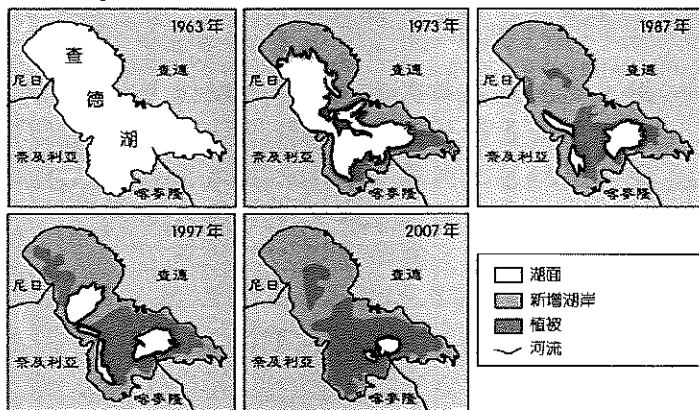
☞附圖為非洲族群分布示意圖，請依附圖回答第 45~46 題：



45. () 非洲南北在族群與文化上有很大差異請問是受到下列何者的影響？
- (A) 殖民者母國的差異
(B) 熱帶雨林難以穿越
(C) 撒哈拉沙漠的阻隔
(D) 原始部落缺乏聯繫。

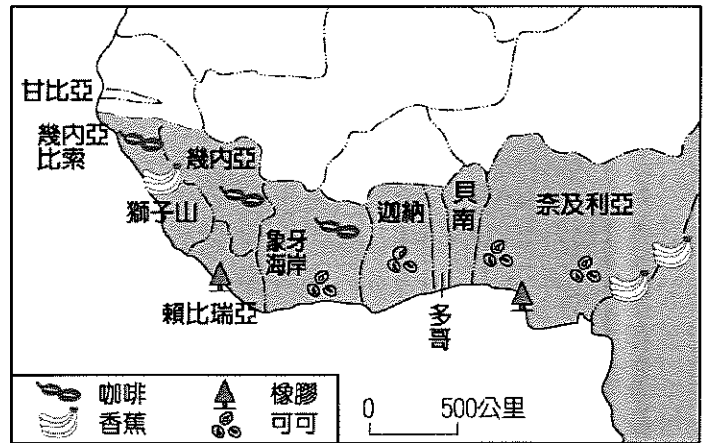
46. () 附圖中哪一個族群的祖先來自太平洋的南島語族，語言文化和非洲大陸差異很大？ (A) 阿拉伯人 (B) 布希曼人 (C) 馬賽人 (D) 馬拉加西人。

☞附圖所示為非洲撒哈拉沙漠南端的查德湖近年來的湖泊面積變化情形。請依附圖回答第 47~48 題：



47. () 查德湖面積變化受周圍環境因素的影響甚大，請問造成附圖中變化的主要原因不包括下列何者？
- (A) 降水量變率大 (B) 耕地大量開發
(C) 政府興建大壩 (D) 民生用水增加
48. () 漠南非洲近年來出現的各種生態危機，最主要是受到哪一項因素的影響？
- (A) 強國控制發展 (B) 工業污染嚴重
(C) 醫療衛教缺乏 (D) 人口增長快速

☞附圖為西非主要農業分布圖。請依附圖回答第 49~50 題：



49. () 觀察附圖的農產品分布，請問下列關於該地區的農業經濟發展特徵何者正確？
- 甲. 主要發展熱帶栽培業
乙. 採機械化企業化經營
丙. 大面積種植經濟作物
丁. 農產品多加工後內銷
- (A) 甲丙 (B) 甲丁
(C) 乙丙 (D) 乙丁
50. () 西部非洲各國長期發展此種類型的農業，在其經濟發展的過程中容易造成了下列哪些現象？
- 甲. 引進大量國外勞力導致民族多元化
乙. 大量開闢耕地使雨林覆蓋面積下降
丙. 形成產品單一且依賴性的殖民經濟
丁. 跨國企業掌握資源導致貧富差距大
戊. 大量海外銷售的順差大幅提升 GDP
- (A) 甲乙丙 (B) 甲丁戊
(C) 乙丙丁 (D) 丙丁戊。