


基隆市立武崙國民中學 111 學年度第二學期第 3 次段考 7 年級歷史科考試卷

7 年 班 座號： 姓名：

一、單題 (每題 2 分，共 72 分)

- () 在 1971 年，蔣中正總統曾發表一段演說，內容提及「莊敬自強，處變不驚」來安定人心，勉勵國人。請問：當時中華民國政府正遭遇哪一重大的歷史事件？(A) 美國決定與我國斷交 (B) 爆發全球經濟不景氣 (C) 中共持續的砲轟金門 (D) 我國宣布退出聯合國。
- () 附圖為臺灣某一時期的經濟建設，圖中的院長是領導此建設的關鍵人物。請問：這位院長應該是下列何人？



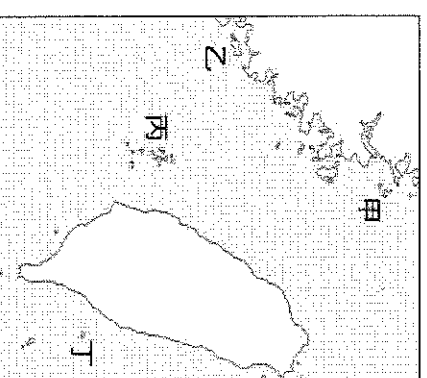
- (A) 蔣中正 (B) 蔣經國 (C) 李登輝 (D) 陳水扁。
- () 這場戰爭改變了美國的東亞戰略，讓撤退到臺灣不久的國民黨政權獲得喘息的機會，戰後美國正式將臺灣納入東亞反共防衛體系的一環，使臺海局勢漸趨穩定。請問：這場戰爭為何？(A) 國共內戰 (B) 八年抗戰 (C) 越戰 (D) 韓戰。
- () 承穎的爺爺小時候曾穿過印有「中美合作」的麵粉袋內褲，他說當時出現這種穿著，是因為美國提供臺灣經濟援助的關係。根據上文，當時美國為何援助臺灣？(A) 越戰爆發需要台灣軍力增援 (B) 美國為防止共產勢力的擴張 (C) 美國將臺灣納入北大西洋防衛體系的一環 (D) 美國要幫助中華民國進入聯合國。
- () 晴喧在蒐集有關臺灣農業發展的資料時，得到有關臺灣自耕地與佃耕地比例變化的統計資料，如附表所示。根據表中內容顯示，導致此一變化的主要原因為何？

西元	1948 年	1953 年	1956 年
土地			
自耕地	56%	83%	85%
佃耕地	44%	17%	15%

- (A) 日本統治結束，土地歸還人民 (B) 二二八事件後的土地賠償 (C) 政府遷臺後的土地改革 (D) 經濟快速成長後，帶動農業發展。
- () 有一篇新聞報導寫道：「1987 年後，許多早年從中國大陸來臺的老兵，終於能夠再度踏上屬於他們的故鄉。但是，童年時的故鄉早已面目全非，親人甚至早已不在，這些老人家們不禁老淚縱橫、泣不成聲。」此一場景應是發生在何事之後？(A) 韓戰爆發 (B) 宣布解嚴 (C) 我國退出聯合國 (D) 終止動員戡亂。
- () 睿言是在中國福建經商的臺商，在金門與廈門兩地，他看到如附圖兩則不同的宣傳標語。請問：設立這些標語的時代背景為何？



- (A) 我國宣布和對岸進行小三通後 (B) 政府撤退台灣之後兩岸形成武力對抗 (C) 中共與美國建交後採和平統戰策略 (D) 我國政府開放民眾赴中國大陸探親。
- () 仙女老師回憶：「在我中學的時候，我國的外交遇到重大挫折，被迫退出聯合國，甚至之後日本、美國等友邦也陸續與我國斷交。」請問：後來政府的因應，是在 1980 年代晚期推動哪一外交政策，強調我國可以透過經濟實力、政治民主化來突破中共的外交封鎖？(A) 金援外交 (B) 鞏固外交 (C) 彈性外交 (D) 務實外交。
- () 偉忠到前線戰地觀光，參觀了當地著名的鋼刀廠，看到老闆示範切割廢棄炮彈的彈殼、鍛造鋼刀等過程，還一邊解說當地有很多廢棄炮彈可做鋼刀，是因為 1958 年時發生一場戰役，遭受 47 萬 4 千 9 百餘發的炮彈轟炸。根據上文，這地點在右圖中何處？(A) 甲 (B) 乙 (C) 丙 (D) 丁。

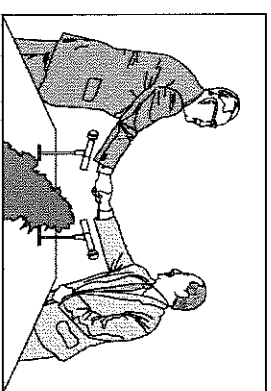


10. () 承接上題，此處之所以會被轟炸，是因為政府遷臺初期，兩岸關係處於下列何種情況？ (A) 政治對峙 (B) 武力對抗 (C) 經貿交流 (D) 談判協商。
11. () 臺灣的經濟型態歷經了諸多階段如下：(甲)發展高科技產業，促使經濟轉型；(乙)設置加工出口區、輸出輕工業產品；(丙)追求自由化與國際化，加入國際組織；(丁)扶植國內生產民生輕工業的必需品(限制外國相關產品的進口)；(戊)提出「十大建設」計畫，發展重化工業。以上如按實施時間先後次序，該如何排列？ (A) 甲乙丙丁戊 (B) 丁乙戊甲丙 (C) 乙丙甲丁戊 (D) 戊甲丙乙丁。
12. () 當中華人民共和國與美國建交後，提出希望能夠透過「和平」的方式達到兩岸的統一，想藉由民間的交流達到互信、理解的基礎。不過，當時臺灣的執政者卻提出消極的應對方式。請問：下列何者並非當時臺灣執政者所提出的回應？ (A) 不互動 (B) 不接觸 (C) 不談判 (D) 不妥協。
13. () 泰宏兄弟的母親是中國籍配偶，他們經常利用馬祖北竿——黃歧航線回到中國過新年。請問：該航線最有可能在下列哪個時期開設？ (A) 武力對抗時期 (B) 政治對峙時期 (C) 兩岸交流時期 (D) 一國兩制時期
14. () 韓戰爆發後，美國與臺灣簽訂下列哪一條約，以加強中美間的合作關係？ (A) 《中美共同防禦條約》 (B) 《中美日安保條約》 (C) 《臺灣關係法》 (D) 《對華白皮書》。
15. () 近年來，臺灣大量引進國際移民(如北捷自泰國引進人力，補充勞工人數的缺口)，並投資東南亞國家更多。這是為要配合政府所要推動的何項政策？ (A) 東向 (B) 西向 (C) 南向 (D) 北向。
16. () 近年來，臺灣處處可見東南亞風味的商店與外籍人士，由此可知其顯示的意義為何？ (A) 臺灣出生率高，人口增加快速 (B) 臺灣男女性別比例嚴重失衡 (C) 臺灣本土意識沒落 (D) 臺灣社會是多元文化的融合
17. () 2014年臺灣發生「太陽花學運」、香港發生「雨傘革命」，當時常在新聞中出現的「一國兩制」，是由中華人民共和國提出，用來針對哪些地方的政治策略？
(A) 臺灣、香港、澳門 (B) 臺灣、西藏、香港 (C) 臺灣、香港、新加坡 (D) 新加坡、臺灣、南韓。
18. () 附表為我國歷年邦交國數目的變化情形。下列哪一件事與表中數字的變化有密切關係？

民國	邦交國數目
1970年	66
1971年	55
1972年	39
1978年	21
1988年	22
1996年	31
1999年	28
2017年	20

(A) 國共內戰政府失利，政府播遷臺灣 (B) 中共揚言解放臺灣，衝擊我國外交 (C) 我國退出聯合國，邦交國紛紛斷交 (D) 美國停止援助臺灣，影響我國外交。

19. () 2023年，宏都拉斯正式與我國斷交，目前我國的邦交國有幾國？
(A) 12國 (B) 13國 (C) 14國 (D) 15國。
20. () 附圖為自兩岸分治以來，第一次舉行正式會談的相關圖片。請問：這場會談是在下列何地舉行？
(A) 新加坡 (B) 香港 (C) 臺北 (D) 北京。
21. () 有關1970年代以後興起的「鄉土文學」運動，下列何者敘述錯誤？



(A) 興起的背景是因為臺灣在內政與外交方面面臨嚴厲挑戰 (B) 內容關注農民、勞工等小人物的遭遇 (C) 受到經濟起飛後城鄉差距的影響 (D) 以復興中華文化加強國家認同感。

22. () 臺灣在某一時節，為了要配合政府的國語運動與反共政策，臺灣歌謠一度受到壓制，愛國歌曲大為盛行。請問：上述的「某一時期」是指下列何者？ (A) 民國40年代 (B) 民國50年代 (C) 民國60年代 (D) 民國70年代。

23. () 1976年臺灣曾躍升為世界最大的鞋類輸出國。但1970年代初，以國際貿易為主的臺灣卻在經濟發展過程中，遭遇何種危機？ (A) 台灣薪資成本提高，只能到東南亞投資設廠 (B) 加入世界貿易組織，影響本土的農業發展 (C) 亞洲金融風暴，臺灣面臨嚴重的通貨膨脹 (D) 國際油價居高不下，造成全球經濟不景氣

24. () 「2018年10月在屏東，收藏家金冠宏展示了自己上百件的收藏品。其中包括可口可樂瓶蓋招牌，中美合作特遣隊徽章，書籍雜誌，以及垂吊在半空中的麵粉袋。觀賞者回憶起小時候居住在眷村，特

別期待用奶粉沖泡的牛奶，和豆漿相比，別有一番風味。」

由上文判斷，下列何者不是同一時期會出現的物品？(A)印有消滅共匪的火柴盒 (B)懇請總統早日反攻大陸的報紙 (C)印有美國援助的火車頭 (D)宣傳一國兩制的空飄文宣。

25. () 下列重大事件，若按時間先後順序排列，正確為何？(甲)台美斷交；(乙)退出聯合國；(丙)開放大陸探親；(丁)試辦小三通 (A)甲乙丙丁 (B)乙甲丙丁 (C)丁丙乙甲 (D)丙丁甲乙。
26. () 在美國與中華民國斷絕邦交之後，美國通過哪一文件以保持和臺灣之間的經貿及文化關係？(A)《中美共同防禦條約》 (B)《解嚴令》 (C)《臺灣關係法》 (D)《六三法》。
27. () 政府自遷臺以來，在臺灣締造的「經濟奇蹟」舉世稱讚，這其實是政府「以農業培養工業」的政策有效而達成的。臺灣農村經濟的繁榮，是得力於下列哪一項措施？(A)地方自治的實施 (B)中央民意代表的增補選 (C)十大建設的推行 (D)土地改革的實施。
28. () 民國 60 年「海內外全體同胞們：第二十六屆□□大會違反憲章規定，通過阿爾巴尼亞等附匪國家之提案，牽引毛共匪幫竊取中華民國在□□及安全理事會中的席位；我們本『漢賊不兩立』之立場及維護憲章之尊嚴，已在該案交付表決之前，宣布退出所參與締造的□□□□……。」以上是《中華民國退出□□告全國同胞書》的部分內容。請問：這封書信中的□□應是下列何者？(A)聯合國 (B)歐洲聯盟 (C)世界貿易組織 (D)亞太經濟合作會議。
29. () 臺北市政府的公共電視有國語、臺語、客語及原住民語之播報服務，臺北捷運以及鐵路局也有這類語音廣播，有別於過去以國語為準的現象，這是哪種意識形態的表現？(A)深刻思考本土文化，體認多元族群的價值 (B)原住民的政治意識提高，無法忽略 (C)選舉因素考量，政治因素居多 (D)排斥外省籍人士，去除中國化
30. () 欲雅的爸爸到中國大陸做生意，卻因故被中國公安扣留。欲雅在臺灣的家人可以向下列哪一民間機構請求協助？(A)海峽兩岸關係協會 (B)海峽交流基金會 (C)大陸委員會 (D)國務院臺灣事務辦公室。
31. () 「這場戰役」規模不大，僅能算是師級戰役，目標也只是福建沿海的兩座小島，但其影響非常深遠，蔣經國認為：「這場戰役是國民黨的轉折點。」同年 12 月底，中華民國政府遷臺，海峽兩岸形成分裂分治的局面。請問：「這場戰役」為何？(A)古寧頭戰役 (B)八二三炮戰 (C)八年抗戰 (D)韓戰。
32. () 文化的發展與政府的政策息息相關，國民政府遷臺後迄今，臺灣文化的發展歷經了幾個不同的階段，請根據政府政策的轉變，將下列各時期的文化主流做一個排列。甲、以美國為主的西方文化；乙、本土文化；丙、中華文化；丁、鄉土文學 (A)甲乙丙丁 (B)甲丙乙丁 (C)丙甲丁乙 (D)丙丁甲乙。
33. () 兩岸關係從軍事對抗、政治對峙進入現今的兩岸交流，以下對於雙方關係的演變，何者錯誤？(A)政治對峙時期，中共提出「三通」，三通是指通商、通航、通郵 (B)中華民國對中華人民共和國提出「一國兩制」 (C)大三通是指開放兩岸全面直航 (D)兩國官方互設陸委會、國台辦處理交流狀況。
34. () 小桃子是生活在民國五十年的少女，當時她的生活中會遭遇到下列哪項經歷？(A)在三七五減租時，家裡的經濟獲得改善 (B)到新竹科學園區上班 (C)在高雄的加工出口區工作 (D)從臺北開車上中山高速公路到彰化探親
35. () 「民國 60 年代，我國少棒代表隊在世界少棒大賽中連連奪冠，即使比賽時間在深夜時分，全台各地民眾也會聚集在電視機前面，熬夜為中華小將們熱情加油。在那個外交備受打壓的環境下，我國少棒代表隊揚名海外、強棒出擊，為台灣的國際能見度揮出一支支的安打。」請問上文中，此時期觀看棒球的民眾，可能還會在電視上看到哪件相關新聞？(A)黨外報禁相繼解除 (B)總統明令動員戡亂 (C)前往大陸探親旅遊 (D)黨外運動挑戰戒嚴。
36. () 臺灣歌謠《媽媽請你也保重》：「若想起故鄉，目屎(眼淚)就流落來，免掛意，請妳放心，我的阿母。雖然是孤單一個，雖然是孤單一個，我也來到他鄉的這個省都，不過我是真勇健的，媽媽請妳也保重。」依上文所述，歌詞描述農村青年來到大城市工作的時代背景為何？(A)臺灣青年被日軍徵調到南洋作戰 (B)國共內戰，政府準備遷臺 (C)二二八事件後的清鄉運動 (D)臺灣農業社會轉型工業社會。

二、題組 (每格 2 分，共 28 分)

■亞太經濟合作會議 (APEC) 是由包括我國在內的太平洋周邊國家所組成，每年年底都會召開高峰會議，交換當年主要經濟問題的意見，但由於未簽署貿易協定，故難以有效促進會員國之間的貿易交流。

相較之下，世界貿易組織 (WTO) 成立的主要目的是為了減少國際間的貿易障礙，各會員國主要透過共識決的方式，決定各項國際貿易規範的內容，但當無法取得共識時，則採多數決方式做成決議，這可以避免大國主導經濟議題的缺點。

37. () 我國加入 APEC 與 WTO 是為了朝向何種目標邁進？甲、工業化 乙、自由化 丙、國際化 丁、高科技化 (A) 乙丙 (B) 丙丁 (C) 甲乙 (D) 甲丁。
38. () WTO 兼採多數決方式做決議，這可以避免大國主導經濟議題。其主要精神為何？(A) 小國可箝制大國 (B) 小國須依附大國 (C) 大國可說服小國放棄定見 (D) 各國皆能充分表達意見。

■ 以下是三個不同時代的臺灣人對於中國大陸的經歷與感想，請依此回答下列問題：

甲、瑋涵	現在兩岸的交流愈來愈方便了，上個月我和家人一起從金門利用「小三通」至廈門觀光，再搭高速鐵路至福州看博覽會，最後從馬祖回到臺灣。
乙、聿晴	中國大陸？我父親最大的願望就是能回中國大陸老家看一看，終於在離別數十年後，再度踏上回家的路。
丙、詩涵	我家在金門，一周前炮彈像下雨一樣從天而降，整整打了 44 天，房子都被打爛了，幸好家人都平安。聽指揮部說，後來共匪採取「單打雙不打」策略。

39. () 聿晴父親最大的願望在何時可實現？(A) 1961 年 (B) 1971 年 (C) 1981 年 (D) 1987 年。
40. () 詩涵提到的炮彈攻擊，後來共匪採取「單打雙不打」策略，一直到何時才停止這樣的炮轟，改採和平統戰？
(A) 中共和美國建交 (B) 台灣退出聯合國 (C) 開放兩岸交流後 (D) 辜汪會談後。
41. () 請問：上表甲、乙、丙三位家人的經歷，發生的先後順序？
(A) 甲乙丙 (B) 乙甲丙 (C) 丙甲乙 (D) 丙乙甲。

■ 下列為戰後臺灣所推動的各項經濟建設計畫，請填入與其相配合的且限制代號：

(甲) 出口導向 (乙) 進口替代 (丙) 產業升級 (丁) 十大建設

42. () 上列經濟建設實施的順序？(A) 甲乙丙丁 (B) 乙甲丁丙 (C) 丙乙甲丁 (D) 乙丁甲丙。
43. () 積極扶植國內生產民生必需品的輕工業，且限制外國相關產品的進口？
(A) 甲 (B) 乙 (C) 丙 (D) 丁
44. () 臺灣逐漸從農業轉變為以工業為主的經濟型態？(A) 甲 (B) 乙 (C) 丙 (D) 丁。
45. () 成立新竹科學園區，轉型向資訊高科技發展？(A) 甲 (B) 乙 (C) 丙 (D) 丁。

■ 請閱讀短文，回答下列問題：

喜歡看電影的小明，有一天看了一部《海峽兩岸》，讓他十分感動。電影的簡介如下：孫志浩加入國民政府軍隊後，在西元 1949 年隨著軍隊撤退到臺灣，在家鄉留下妻子梅姐及女兒桂花。十餘年後志浩在臺灣又娶了妻子淑瑛，生了一個兒子臺生。志浩很想念在中國大陸的妻兒，但一直無法前往中國大陸，直到今年才能夠返回故鄉探望梅姐及女兒。

46. () 電影中志浩到了臺灣後，最不可能遇到下列哪個歷史事件的發生？(A) 二二八事件 (B) 中華民國退出聯合國 (C) 政府宣布廢除《動員戡亂時期臨時條款》 (D) 美國與中華人民共和國建交。
47. () 志浩一直無法前往中國大陸探望妻子及女兒，與政府哪項政策較有關係？(A) 一國兩制 (B) 南向政策 (C) 三不政策 (D) 大三通。
48. () 電影簡介中說志浩今年能夠回去故鄉探望梅姐及女兒，電影中的「今年」最有可能是指民國幾年？
(A) 民國 38 年 (B) 民國 60 年 (C) 民國 68 年 (D) 民國 77 年。

■ 民國 60 年代，經濟蒸蒸日上，外交地位卻節節敗退。在一場大學演唱會上，李雙澤重從一片吉他、英文歌聲中，衝上台高喊：「我們為什麼不唱自己的歌呢？」一語驚醒了眾人。校園開始哼唱〈鄉間小路〉〈雨中即景〉這一首首樸素清新的「民歌」。

49. () 請問「民歌」階段，當時台灣的內部狀況何者錯誤？(A) 鄉土文學流行 (B) 黨外運動蓬勃發展 (C) 十大建設陸續開辦 (D) 解除戒嚴政黨輪替。
50. () 請問「民歌」階段，有哪個流行文化是錯誤的？(A) 黃春明的兒子的大玩偶 (B) 王拓的金水燭 (C) 李建復的龍的傳人 (D) 小虎隊的青蘋果樂園。

※ 作答完畢後，請再仔細的檢查一次，並要記得確認畫卡是否正確。

※ 班級姓名座號，請填寫完整正確。