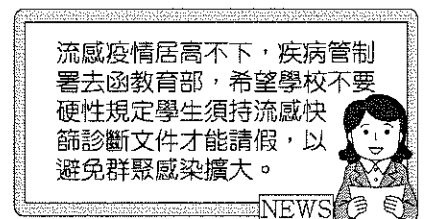
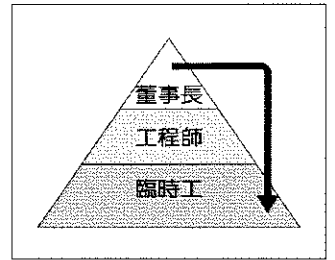


【基隆市立武崙國中 111 學年度下學期七年級公民科第三次段考】

一、單題 (每題 2 分, 共 84 分)

- ( ) 臺中市政府為解決市民托育幼兒的問題, 推動多項服務措施, 如提供「育兒支持—平價托育服務」, 並設置「社區巡迴托育行動列車」, 將托育服務的專業資源送至各社區。請問: 上述措施應屬於哪一項社會福利措施? (A)福利服務 (B)社會救助 (C)居住正義與社區營造 (D)社會保險。
- ( ) 老師於黑板上畫出附圖, 請同學判斷屬於下列何種現象?  
(A)社會流動 (B)社會團體 (C)社會正義 (D)社會規範。
- ( ) 近年來, 中央健康保險局積極向民眾宣導「小病在小診所就診, 大病到大醫院就醫」的觀念, 並配合轉診措施的推展, 以落實醫療分級制度。請問: 上述做法最主要是希望達到下列何種目的?  
(A)降低部分負擔 (B)強化社區保健 (C)善用醫療資源 (D)實施醫藥分業。
- ( ) 某研究分析, 臺灣家庭所得最高的 5% 家庭的小孩, 他們就讀臺灣大學機率是所得最低 5% 家庭的 6 倍, 顯示出資源較多的學校, 學生經濟背景也較佳。請問: 上述內容與下列哪一社會不公平現象相關? (A)利益分配 (B)責任負擔 (C)貢獻程度 (D)需求滿足。
- ( ) 根據附圖中的新聞報導判斷, 政府單位的作為屬於社會福利措施中的哪一項目?(A)福利服務 (B)社會救助 (C)居住正義與社區營造 (D)健康與醫療照護。
- ( ) 以下為四個朋友在網路上聊天, 依聊天內容判斷, 何人的做法較為適當?(A)小慈 (B)小怡 (C)小茗 (D)小芷。



聊天室

- 小慈: 我每個月都有繳健保費, 所以沒病也要去看醫生。  
 小怡: 上回氣爆, 我去災區附近拿了很多免費的物資。  
 小茗: 我找到工作後, 就沒領政府的補助, 把錢留給有需要的人。  
 小芷: 我借用表弟的低收入戶資格, 申請社會住宅, 省了好多錢。

- ( ) 知名服裝 NET 關心弱勢孩童與家庭, 捐贈價值新臺幣 50 萬元 NET 提貨券給 250 名孩子自由選購喜歡的衣服。一名擔任粗工單親爸爸表示, 因家中經濟吃緊所以女兒總穿不合身的二手褲裝, 他心懷感謝。請問: 下列何人行為其概念與上述相同? (A)小青捐款給宗教蓋廟 (B)阿神捐款贊助網紅主播 (C)阿滴繳納所得稅給政府 (D)滴妹捐贈物資給孤兒院。
- ( ) 下列新聞報導的內容符合何種公民素養的精神?  
 根據財政部統計處公布資料, 2018 年公益彩券銷售盈餘為 267 億元, 用於挹注社會福利支出, 同時創造了 4 萬多個工作機會, 扶植弱勢族群就業。  
 (A)追求公平正義 (B)尊重公共意見 (C)遵守公共秩序 (D)維護公眾利益。
- ( ) 在人類發展的歷史上, 人們受到宗教的慈善觀念的影響, 許多宗教團體與富人以提供物資的方式, 協助貧病殘疾的弱勢者。這是哪一思維的最早樣貌? (A)多元文化 (B)社會流動 (C)社會安全 (D)公民德性。
- ( ) 某公司在技術、維修等專業技能及體力負荷較大之部門皆以男性為主, 女性大多參與人事、行政部門工作。請問: 該公司反映出哪一社會不公平現象? (A)利益分配 (B)責任負擔 (C)貢獻程度 (D)需求滿足。
- ( ) 萱禮在巷口公欄看到以下一則公告, 此活動應是有關哪一項社會福利措施的介紹?

公告

「建構兒童社區公共托育計畫」座談會

時間: 110 年 10 月 15 日

活動主旨: 兒童日間托育服務介紹及推動規畫

辦理單位: 里辦公室

指導單位: 社會局、區公所


活動對象: 邀請本里里民

- (A)就業安全 (B)社會救助 (C)福利服務 (D)社會保險。

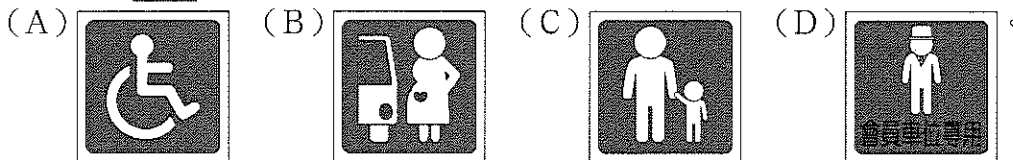
12. ( ) 我國政府提供多項社會福利措施以因應社會需求，附圖對話內容應屬於社會福利措施中的哪一項目？



- (A) 社會津貼 (B) 社會保險 (C) 福利服務 (D) 健康與醫療照護。
13. ( ) 由附圖內容判斷，此圖蘊含下列何種精神？



- (A) 社會流動 (B) 公平正義 (C) 性別平等 (D) 文化傳承。
14. ( ) 政府為照顧弱勢族群，要求大賣場依法在公共停車場域畫設特殊用途停車格，以下哪一張停車格標示不是以照顧弱勢為目的？

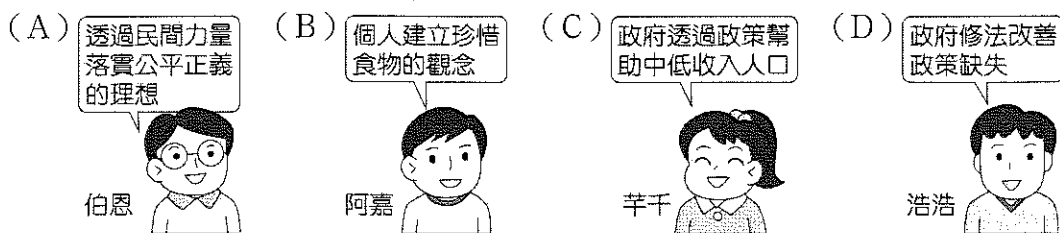


15. ( ) 下列何者不是政府推動社會安全制度時，所應該關注的重點？ (A) 弱勢群體的生活需要 (B) 失業勞工的就業輔導 (C) 受災戶的急難救助 (D) 大老闆的薪資所得。
16. ( ) 「社會安全」制度的建立是希望人民能夠普遍擁有基本生活的保障，此可由下列哪一項政府施行的措施加以理解？ (A) 文化部推動文化體驗教育，希望擴展學校藝文教育的內容 (B) 國防部編列軍事預算穩定成長，強化戰力以維護國家安全 (C) 行政院成立專案小組協助震災區居民，辦理災後救助工作 (D) 地方政府爭取主辦國際賽事，期能進行體育人才互動交流。
17. ( ) 公民課時分組討論追求公平正義的社會所應有的做法，附表中哪一組的回答最為正確？

組別	回答內容
第一組	參與淨灘活動，回饋社會
第二組	民眾捐款給慈善單位，盡一分心力
第三組	政府制定有助於財團的法律
第四組	向身心障礙者借人頭戶開樂透彩券行

- (A) 第一組 (B) 第二組 (C) 第三組 (D) 第四組。
18. ( ) 下列何人的社會地位產生方式與其他不同？ (A) 小瑛取得碩士學位 (B) 阿義擔任立委 (C) 阿國為噶瑪蘭族 (D) 小瑜考上公務員。
19. ( ) 電影《關鍵少數》改編自真人真事，描述1960年代黑人女性在NASA（美國太空總署）工作，並以傑出的工作能力促成人類首次繞行地球壯舉。影片中有一場景為主角之一凱薩琳，每次都得跑800公尺才能到達允許黑人使用的廁所。因為路程遙遠，以至於上司以為她經常打混。請問：根據上述劇情，凱薩琳是因哪一社會地位而遭遇到不公平待遇？ (A) 性別 (B) 種族 (C) 家世背景 (D) 教育程度。
20. ( ) 政府興建租金相對便宜的社會住宅，由中、低收入戶優先承租，照顧有住屋需求的弱勢民眾。這項政策對於下列哪一方面不公平現象有何改善？ (A) 需求滿足 (B) 利益分配 (C) 責任負擔 (D) 貢獻程度。

21. ( ) 下列何者屬於「就業安全」的措施？ (A)開設職業訓練課程 (B)提供災害救助 (C)幼兒托育服務 (D)為受虐婦女提供緊急庇護。
22. ( ) 根據統計，臺灣每年浪費約 68 萬噸食物，卻有近 70 萬的中低收入人口三餐無法溫飽，因此有許多慈善團體，透過將剩餘食物發送給弱勢群體，讓食物再分配、再分享及再利用。請問：上述團體的行為符合下列哪一概念？



23. ( ) 根據附圖中的對話判斷，政府的做法屬於哪一項社會福利措施？



- (A)福利服務 (B)社會津貼 (C)居住正義與社區營造 (D)健康與醫療照護。

24. ( ) 由於經濟不景氣及物價飆漲對弱勢民眾影響甚鉅，為妥善照顧經濟弱勢、遭受急難或災害者，提供短期日常生活所需食物及物資援助，以建置完善的社會安全網，避免食物浪費，因此市政府推動食物銀行法的相關條例。根據上述內容，請問市政府的該項政策主要是落實何項理念？ (A)營造健康環境 (B)促進經濟發展 (C)提升地方產業 (D)維護公平正義。
25. ( ) 下列何者的做法是我們所要追求的「公平正義」？ (A)大仁捐贈健身器材給國軍 (B)小馬阻止少女坐博愛座 (C)勤勞基金會發放清寒獎助學金 (D)阿聖謾罵插隊人士。
26. ( ) 曉芳跟爸爸觀看總統大選的電視政見發表會時，聽到候選人發表關於社會福利的政見，爸爸想知道曉芳在學校的學習成果，便問她說：「妳能不能舉出一個社會福利措施的例子呢？」曉芳應回答下列何者較為適當？(A)提供終身學習機會 (B)推動老人照護制度 (C)擴大志工參與管道 (D)促進跨國人口流動。
27. ( ) 社會若漠視弱勢群體的基本需求，別人的苦難也有可能成為自己的苦難。請問：身為國中生可以怎麼做最適當？ (A)對弱勢群體漠不關心 (B)參與制定相關法律、政策 (C)在網路上當酸民發言 (D)擔任志工關懷弱勢者。
28. ( ) 某一電視節目談論的主題是「政府辦理社會福利措施的經費」，下列哪一位民眾的發言內容最正確？ (A)李小姐：由於人民繳納的稅款充足，不需擔心經費問題 (B)陳先生：我國經濟發展良好，因此國庫豐沛 (C)王小姐：社會福利資源有限，政府應嚴格控管支出 (D)胡先生：若面臨經費不足，公益團體應接手辦理社會福利措施。
29. ( ) 附圖中兩人所談論的政府作為，屬於哪一項社會福利措施 (A)社會救助 (B)福利服務 (C)居住正義與社區營造 (D)健康與醫療照護。
30. ( ) 政府多次修訂《老人福利法》，希望透過國家立法的方式，增進與維護老人的權益，讓老人安養的問題不再被視為家務事。請問：上述政府的做法，旨在達成下列哪一種目的？(A)促進老人福利制度化 (B)強制獨居老人的安置 (C)降低老人福利的支出 (D)免除親屬的撫養責任。
31. ( ) 全國 368 個鄉鎮區中，有 3 個「無醫鄉」。無醫鄉是指缺乏醫院或診所的鄉鎮，居民需到別的城市尋求治療。請問：這反映社會中哪一不公平的現象？ (A)利益分配 (B)責任負擔 (C)貢獻程度 (D)需求滿足。



32. ( ) 小瑛參加全民金頭腦知識王闖關比賽，其中一道題目是問「社會流動的定義」，小瑛該如何回答？ (A)社會中政治的變動 (B)社會中社會地位的移動 (C)社會中資源的轉動 (D)社會中人口的流動。
33. ( ) 電影產業長年存在性別失衡、種族問題，已成立超過100年的美國電影製作公司華納兄弟，於2018年宣布將為婦女、有色種族、身心障礙者，以及代表性不足的群體，提供更多幕前幕後的保障名額，確保有多元化的演員、工作人員參與，促進娛樂產業的多元共融。請問：上述華納兄弟公司的作為與下列何項敘述無關？ (A)改善社會不公平現象 (B)提供改善社會地位的機會與途徑 (C)鞏固既有的社會地位 (D)打造友善的就業環境。
34. ( ) 班上一群同學正為了公民課「探討保障人性尊嚴的政策」上臺報告進行討論，下面哪一位同學所提之政策最可能已偏離主題？ (A)推動優質長期老人日間照護 (B)家長請領2至4歲育兒津貼 (C)補助減輕盲友導盲犬飼育費 (D)提高營養午餐價格至每餐一百元。
35. ( ) 下列社會地位產生的方式何者與其他三個不同？ (A)種族 (B)職業聲望 (C)家世背景 (D)性別。
36. ( ) 新聞報導，新北市一名男子透過電話向某間販售早午餐的店家求職，該店聽聞求職者為男性，立即表示「我們不僱用男生」。男子向新北市勞工局申訴，查證後確認該店違反《性別工作平等法》，進而開罰15萬元。請問：店家遭到開罰的主要原因為何？ (A)給移工不公平待遇 (B)阻礙社會流動 (C)對於求職者性別歧視 (D)排擠弱勢族群。
37. ( ) 附圖對話中所提到的社會福利措施，應為下列何者？ (A)就業安全 (B)福利服務 (C)社會保險 (D)社會救助。
38. ( ) 從附圖兩位父親的煩惱中可以看出社會中哪一方面的不公平？ (A)貢獻程度 (B)責任負擔 (C)需求滿足 (D)利益分配。
39. ( ) 各縣市政府成立就業服務站，提供有就業服務需求的民眾就業諮詢與職業訓練等，最主要的目的為下列何者？ (A)實施社會保險 (B)促進充分就業 (C)振興經濟發展 (D)提供緊急救助。
40. ( ) 百洋出生在「醫師世家」，爺爺、爸爸、叔叔等家庭成員皆是醫師，他在醫學院畢業後也順利考取執照，成為一位正式的醫師。請問有關百洋的敘述何者正確？ (A)題幹可看出百洋家社會流動的歷程 (B)百洋透過教育改善其社會地位 (C)百洋的家庭背景，比一般人更容易能從事醫師此職業 (D)百洋的社會地位是與生俱來的。
41. ( ) 《史記》紀載，漢孝文帝勤政愛民，在位時施行德政，發放糧食、生活必需品等救助弱勢人民，安定民心，其執政主要成就便在於穩定漢初社會秩序，發展經濟，開創文景之治。由上述可知，為達到此一目的，何種政策的重要性？ (A)國防外交 (B)教育文化 (C)社會安全 (D)國民經濟。
42. ( ) 附圖為一對夫妻的對話。請問：兩人的對話內容應與哪一項社會福利措施有關？



- (A)健康與醫療照護 (B)居住正義 (C)社會保險 (D)社會津貼。

## 二、題組（每格 2 分，共 16 分）

(一)小夫的家境小康，從小父母親安排他學習各項才藝，請家教為他加強學業成績，如願考上了頂尖的大學，畢業後在家人的資助下創立了自己的公司。大雄的家境不太好，爸媽為了生活兼兩份工作。他放學後需要幫忙照顧弟妹，沒多餘的時間複習課業，高中靠著半工半讀才勉強畢業。工作後，微薄薪水的一部分須償還就學貸款。請問：

43.( ) 根據上文內容判斷，下列何者解讀正確？ (A)貧富差距日漸趨緩 (B)貧窮問題不會世代循環 (C)教育可以促進社會流動 (D)低所得家庭資源缺乏。

44.( ) 對於上文中的兩位主角，下列何者抱持的態度較正確？ (A)小夫家境富裕，不用努力也會成功 (B)大雄家境不好，再怎麼努力也不會成功 (C)小夫的成功完全是靠個人的努力 (D)大雄努力改變現況，未來社會地位仍有機會向上流動。

(二)近年積極推動新型馬桶技術的比爾蓋茲，在北京一場新世紀廁所博覽會，手拿一罐人類的排泄物進行演講，藉此呼籲世界重視全球開發中國家廁所不足帶來的問題。根據世界衛生組織調查數據顯示，全球有 23 億人因公共衛生設施不夠完善，排泄物沒有經過汙水處理系統，導致每年有成千上萬人，因為排泄物裡的病原體感染導致死亡。為改善此問題，比爾蓋茲預計於 10 年內推出新一代馬桶，無需用到水，也不需要下水道，更可將人類排泄物轉化為肥料、能源或循環水資源，藉此打造乾淨廁所、消滅有害病菌，扭轉世界偏遠地區的衛生習慣，甚至可能改變已開發國家的衛生設施。

45.( ) 比爾蓋茲投身「廁所革命」所象徵的意義應為下列何者？ (A)加速經濟發展 (B)追求公平正義 (C)縮小貧富差距 (D)賺取個人財富。

46.( ) 比爾蓋茲投身協助解決公共問題的做法，下列何者敘述最為恰當？ (A)獨善其身 (B)漠視弱勢 (C)社會共好 (D)自掃門前雪。

(三)2006 年諾貝爾和平獎得主尤努斯是一位經濟學家，他在 1976 年創辦了專門借貸小額資金給窮人的銀行。尤努斯認為現行的金融制度完全排除窮人，沒有銀行對窮人放款，認為窮人沒有錢，當然沒辦法還錢。其實窮人雖然沒有東西可以抵押，但窮人銀行把他們當作「人」，基於對人的尊重，相信他們會還錢，發揮了顯著的約束力，還款率高達 99%，證明了「借錢給窮人，並非不可能的生意」。此模式後來也複製到其他國家，幫助窮困的人得以自身力量擺脫貧窮。請問：

47.( ) 尤努斯獲得諾貝爾和平獎的主要原因應為下列何者？ (A)縮小貧富差距 (B)消弭性別歧視 (C)相信人性本善 (D)達成均富社會。

48.( ) 窮人銀行的設立最有助於減緩下列哪一方面的不公平現象？ (A)需求滿足 (B)責任負擔 (C)貢獻程度 (D)利益分配。

(四)

民國 73 年臺灣發生多起礦坑災變，尤以東北角接連發生的三次災變最為嚴重，經調查後，礦坑內工作環境危險性高，救援設備不足，且礦工們並未有機會接受充足的職前訓練和獲取自救知識，以致造成近 300 人的死傷。由於當時政府缺乏完善的應變措施，社會各方捐助的大筆善款無法適時發放給受災戶，許多罹難者的家庭頓失所依，經濟來源中斷，傷者尚需負擔龐大的醫藥費，生活陷入困境。

49.( ) 上文內容顯示政府若當時已強化下列何者，應能改善受災戶當下面臨的困境？ (A)社會安全制度 (B)經濟開發程度 (C)國民教育水準 (D)傳播媒體普及。

50.( ) 根據上文判斷，下列何項敘述較為正確？ (A)採礦業為國內生產業龍頭 (B)礦工的工作權益未獲保障 (C)社會互助的觀念極為淡薄 (D)風險愈高的工作收入愈高。