

基隆市立武崙國中 111 學年度第二學期 第二次段考 九年級社會科試卷—歷史科

電腦讀卡，請使用 2B 鉛筆，並依據題號在答案卡上作答，答案卡無法判斷身分者，扣總分 10 分

範圍：第一~六冊 本試卷共 40 題 共 4 面 班級：_____ 座號：_____ 姓名：_____


★單選題 (每題 2.5 分)

1. 某書的簡介如下：「書中描寫一場革命結束了長達三百多年的沙皇專制統治，成立臨時政府，但在八個月之後，布爾什維克革命又推翻了曇花一現的臨時政府。」此書最可能是下列何者？ (A)1789 年法國大革命 (B)1871 年德意志的統一 (C)1917 年變動的俄羅斯 (D)1949 年共產中國的誕生
2. 「赫魯雪夫要求美國飛機不要繼續在古巴上空飛行。他還展望未來，說道：『我們願意就禁止原子武器、熱核武器、普遍裁軍以及與緩和國際緊張局勢的有關其他問題，交換意見。』」請問：上文中所描述的應是哪一時期的事情？ (A)第一次世界大戰時期 (B)第二次世界大戰時期 (C)冷戰時期 (D)蘇聯解體後
3. 奧匈帝國皇儲斐迪南夫婦被刺，原本只是兩國之間的衝突，後來卻演變為世界大戰，爆發大規模戰爭的主因為何？ (A)國際聯盟的失敗 (B)國家主權間的爭奪 (C)民族自決的浪潮 (D)國際間的結盟對立
4. 以下是某部歷史劇的情節：「這年元旦，臺灣民眾黨創辦人來到臺北市拜訪張家大少爺，兩人談話內容著重在如何反抗殖民政府，更說到最近總督府打算放寬鴉片管制政策。張家大少爺心生妙計，建議利用郵局下班前五分鐘去拍電報，向這個組織告發此事，讓他們派員來調查。」若劇情符合史實，則上述的「這個組織」，最可能是下列何者？ (A)聯合國 (B)國際聯盟 (C)歐洲聯盟 (D)北大西洋公約組織
5. 中世紀的西歐，各個王國各自為政，交通與資訊又極度不發達。在此種狀況下，某組織擔負起維持社會秩序的責任，他們也保存古籍，也參與人民生活裡重要的時刻，凡舉出生、結婚、死亡等。請問：上述組織應是下列何者？ (A)佛教廟宇 (B)基督教會 (C)聖索菲亞大教堂 (D)商人貿易組織
6. 有一間公司被認為是世界上第一間跨國公司也是股份公司，這間公司靠著東方的香料、絲綢、瓷器等貿易獲利驚人。在這間公司的全盛期，擁有超過 150 艘商船、40 艘戰艦、20,000 名員工、與 10,000 名傭兵的軍隊，他們駐守在印尼巴達維亞、東印度群島、香料群島上。請問：這間公司的高階主管大多為哪一國人？ (A)英國 (B)荷蘭 (C)西班牙 (D)葡萄牙
7. 2021 年 2 月緬甸政變，主因為緬甸軍方認為 2021 年 2 月的選舉存在舞弊與不公，因此發動政變，軟禁民主鬥士翁山蘇姬與總統溫敏。軍方也切斷網路，阻絕人民取得資訊的可能，某些外國企業選擇暫時歇業，保護自身廠房。緬甸人民示威遊行遭到鎮壓，統計到 3 月底為止，已有三百餘人喪生。請問：緬甸軍方的措施，違反啟蒙運動時期的哪一思潮？ (A)天賦人權 (B)宗教自由 (C)三權分立 (D)人文主義
8. 西元前 3000 年左右，不同的民族先後遷入兩河流域，建立政權。有些民族使用閃族語言，有的則使用印歐語言。這些民族的語言雖然不同，但此地區的文化與貿易能夠持續成長，學者認為這種情況主要是由於下列哪一個共通的重要基礎？ (A)使用鐵器 (B)宗教統一 (C)軍事技術 (D)楔形文字
9. 梁啟超曾為文譏諷民初的當權者言行不一、舉止不定：「從辛亥八月到現在，還不足四年，……忽而召集國會，忽而解散國會，忽而內閣制，忽而總統制……。」請問：文中提到「忽而解散國會」的人物是誰？ (A)孫中山 (B)溥儀 (C)宋教仁 (D)袁世凱
10. 阿禮正在閱讀作家名人傳，看到介紹魯迅的主題，書中寫著魯迅小說主題多是反封建、反禮教、反傳統，反迷信，反映人性的陰暗面，善於諷刺，善於創造典型人物，描寫人物的面貌言語、心理和行動，且嘗試用白話文創作。請問：魯迅作品得到社會迴響，可能是受到下列哪一運動的影響？ (A)百日維新 (B)新文化運動 (C)自強運動 (D)立憲運動
11. 中共史上有一位人物「使中共能取得韓戰的不敗而能與美國對峙的局面，也順利完成了第一個 5 年計畫的目標。第一個 5 年計畫的成功，使他充滿樂觀主義，認為共黨憑藉群眾運動來使中國走入先進國家之列，進而推動大躍進，違背經濟發展模式，終導致中國的大災難……。」請問：上文所描述的人物應是指下列何人？ (A)習近平 (B)袁世凱 (C)鄧小平 (D)毛澤東

背面尚有試題

12. 有一個時代的資料記載：「閩南地區有少數豪商巨紳透過外商而吸食菸草甚至鴉片，……此區從事航海、漁業等相當盛行，因此造就不少富裕的豪商，……但也有不少佃農承租土地耕作，終年難得溫飽，因此經常在山坡地、小丘陵區播種番薯以糊口。」從以上所描述情形，應是哪一個朝代的寫照？ (A)唐 (B)宋 (C)元 (D)明
13. 中國為了維繫高度中央集權、體系龐大的政府，需要大量優秀的官員，從隋代以後，中國為了打破世家藩籬，開創新的取才制度，該制度讓社會階級有機會流動，並形成「萬般皆下品，唯有讀書高」的社會風氣。請問：該制度為下列何者？ (A)世襲制度 (B)封建制度 (C)九品官人之法 (D)科舉制度
14. 13 世紀義大利某教堂的神父告訴信徒，虔誠向上帝禱告並懺悔，便可躲過帶著火炮(火藥)，來自東方的「黃禍」。下列哪一項是神父所指的「黃禍」？ (A)恒羅斯之役 (B)張騫出使西域 (C)蒙古西征 (D)鄭和出使西洋
15. 隨著傳教士與商人不斷前往東方貿易的過程中，對東方國家造成一定程度上的衝擊，像是日本為了杜絕葡萄牙人在國內的影響力，最後選擇鎖國，但日本的鎖國並不是全方位禁止，而是有限度的容許部分國家依然可以前往日本貿易。請問：部分國家指的是下列何者？ (A)印度 (B)英國 (C)荷蘭 (D)西班牙
16. 中國近代某一文章提到：「政府假借預備立憲的美名卻實行中央集權，假借推行新政卻搜刮民間錢財，對外則割讓土地，並出賣探礦權與鐵路經營權。人民反對政策，可能會被處死；如果人民自己出錢出力興修鐵路，又會被官方沒收。政府應該要保護人民，結果人民反而受到政府的傷害，如此不顧人民生命、財產的政府，誰還能忍受呢！」上文的主要訴求最可能是下列何者？ (A)因對外戰爭受到挫敗，提倡學習西方的軍事及工業技術 (B)推動制度層面的改革，以解決自強運動改革不彰的問題 (C)對改革結果感到失望，體認到革命也是救國的途徑之一 (D)主張全面改革思想文化，提倡西方科學精神與白話文學
17. 15 世紀初，中國曾經有一位官員，率領龐大中國艦隊出使「西洋」，最遠曾抵達非洲東岸，使中國的聲名遠播。請問，以上敘述的官員是為何人？ (A)朱元璋 (B)織木真 (C)岳飛 (D)鄭和
18. 根據調查，1930~1950 年之間，台灣男性取名數量的前三名都以「雄」為結尾，現今男性名字中亦可見「雄」、「彥」、「男」、「夫」等日式風格的用字。請問：這種取名的用字風格，最可能始於下列哪個年代？ (A)臺灣民主國時期 (B)戒嚴時期 (C)皇民化運動時期 (D)解嚴之後
19. 正字小時候家裡很貧窮，幸好當年有「阿逗仔」對台灣的援助，才得以溫飽。兒時的他常常穿著上有「中美合作」字樣的麵粉袋內褲，打著赤膊跑去迎接「阿逗仔」的軍隊，快樂地檢著他們給的罐頭食品。請問：此與哪一歷史事件有關？ (A)韓戰爆發 (B)越戰爆發 (C)台灣光復 (D)中日戰爭結束
20. 二十世紀初期，霍亂、瘧疾等傳染病在臺灣相當普遍，對當時政府而言，防治傳染病是刻不容緩的議題。下列何者最不可能是在當時官方及民間採行的措施？ (A)政府實施全民健康保險 (B)公學校加強衛生教育課程 (C)保甲要求居民定期清潔環境 (D)警察協辦衛生及防疫宣導演講
21. 1960 到 1980 年代，臺灣曾是國際知名的「製傘王國」。興盛時，全球每 4 把傘就有 3 把出自臺灣，一年最高可替國家賺進新臺幣 120 億元。直到今天，臺商仍掌握了全球 30% 的雨傘產量。請問，臺灣「製傘王國」的美名，是因為當時政府推動哪種經濟政策而促成的？ (A)出口導向 (B)發展高科技產業 (C)進口替代 (D)十大建設
22. 一九三〇年代，為了促進臺灣的觀光產業發展，總督府製作了許多出版品，展示臺灣的風景人文並提供旅遊指南，希望能夠吸引日本遊客到臺灣來遊玩。請問：在這些旅遊指南中，最有可能推薦遊客利用哪一種交通工具遊歷台灣西部地區？ (A)郵輪 (B)牛車 (C)火車 (D)汽車
23. 有一篇新聞報導寫道：「1987 年後，許多早年從中國大陸來臺的老兵，終於能夠再度踏上屬於他們的故鄉。但是，童年時的故鄉早已面目全非，親人甚至早已不在，這些老人家們不禁老淚縱橫、泣不成聲。」此一場景應是發生在何事之後？ (A)韓戰爆發 (B)我國退出聯合國 (C)宣布解嚴 (D)終止動員戡亂
24. [附圖]為 1940 年代的一則舊剪報，當時此事件造成臺灣民情激憤，演變成後來一連串事情的導火線。請問：剪報中所報導的事件為何？ (A)二二八事件 (B)國共內戰 (C)日本戰敗投降 (D)實施白色恐怖
25. 小馨在書上看到一張 1879 年繪製的《臺灣前後山空圖》，她觀察到此圖與之前的臺灣地圖相比較，恆春半島各社已有明顯標示，因此判斷圖是因應某事件後的新軍事建置所繪製。請問：上述的「某事件」應為下列何者？ (A)英法聯軍 (B)牡丹社事件 (C)清法戰爭 (D)甲午戰爭

下一張尚有試題，請繼續加油



26. 亨利王子是國王若昂一世的第三子，他不是王儲，卻在他的國家中有其影響力，建立了全世界首間航海學校、天文臺、圖書館、港口及船廠，也是在他的大力推廣與建立基礎上，他的國家率先找到前進東方的新航路，而且占領中國的澳門作為貿易的據點。根據上述，亨利王子是哪一國家的人？ (A)西班牙 (B)葡萄牙 (C)印度 (D)日本

27. 約翰陶德被譽為臺灣的烏龍茶之父，他創辦寶順洋行，引進烏龍茶種到臺灣種植，以「福爾摩沙烏龍茶」為品牌，行銷美國，大受好評，帶起臺灣茶業的風潮。請問：約翰陶德最早可能在何時來到臺灣？

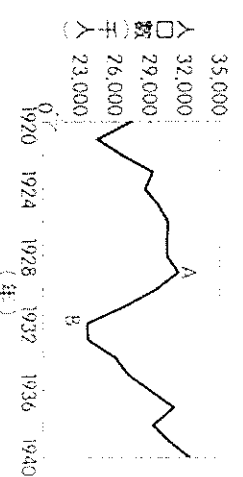
(A)牡丹社事件後 (B)甲午戰爭後 (C)英法聯軍後 (D)清法戰爭後

28. 十九世紀後期，一位美國學者到臺南考察，當地西拉雅族頭目帶著二十餘份文件讓他瀏覽，這些文件以羅馬字母、漢字拼寫，標注清朝 雍正、乾隆及嘉慶的年號和日期，又蓋有印章。他認為這是極有價值的史料，因此便以槍枝換取了這些文件。這些文件的內容最可能包含下列何者？ (A)噶吧哖事件始末 (B)安平洋行貿易資料 (C)臺灣總督府林野調查紀錄 (D)原住民與漢人土地交易契約

29. 「這個時代，東亞地區充滿了變動：歐洲諸國先後來到東亞，建立商貿與傳教據點，造成不少衝擊；日本幕府為了鞏固統治，實施鎖國；至於中國，來自東北的民族建立新王朝，並對反抗勢力施行海禁政策。」上文雙底線處最可能是指下列何者？ (A)臺灣民主國成立 (B)林爽文結黨起兵 (C)郭懷一號召漢人抗爭 (D)鄭成功家族率眾起事

30. 有位外交官參加 1919 年的一場國際和會，原本期望大會能對戰費、領土等議題做出公正明智的處置，但最後的決議卻令他失望。他表示：「許多代表運用詭辯來掩飾他們的報復行為，強索巨額賠款，又屈從於強權，不能公正處理領土問題。」請問：這位外交官批評的是下列何者？ (A)德法戰爭之後，德國對法國的處理 (B)《凡爾賽條約》中，協約國對德意志的處置 (C)維也納會議中，戰勝國對拿破崙的安排 (D)法國大革命後，反法聯盟對付法國的策略

31. **附圖**是 1920 年至 1940 年美國「非農業就業人口數」的統計圖，其中由 A 至 B 的變化，主要與下列何者有關？



(非農業就業人口數：從事農業以外的就業人口數，主要指製造業與服務業。)

(A)黑人奴隸獲得解放，投入工業生產 (B)政府施行福利政策，保障勞工生活

(C)國家投入大戰，青年至海外作戰 (D)銀行與工廠倒閉，社會經濟衰退

32. 蘇聯前總統艾巴契夫是 1990 年諾貝爾和平獎的得主。請問：他得獎的理由最可能下列何者？ (A)組織「第三世界」，形成與美蘇抗衡的勢力 (B)實行各項新政並興建大型工程，改善經濟大恐慌 (C)積極推行計畫經濟，全力發展國防，實施獨裁統治 (D)力圖推動政治民主及經濟改革，減少蘇聯對東歐的控制

33. 有一場演講，內包含了方言文學、德意志帝國的建立與義大利的統一運動。請問：這場演講的主題最可能是下列何者？ (A)歐洲軍備武器的進步 (B)歐洲科學革命的誕生 (C)歐洲宗教改革的開端 (D)歐洲民族意識的發展

34. 新聞報導：「近來印度性侵害案頻傳，屢屢躍上國際新聞版面，當地學者認為，重男輕女與種姓制度是這股亂象的元凶，在錯誤觀念尚未被導正前，即使提高刑責也無法改變現狀。」有關新聞中提及的「種姓制度」，具有下列哪一特色？ (A)創造出平等和諧的社會 (B)與婆羅門教有密切關係 (C)分為貴族、庶人、奴隸三階級 (D)平民可以藉由才能與努力成為貴族

35. 小安在圖書館發現一張紙條，內容如下：「這時期的知識分子相信自己正處於古典文明再生的時代，他們的生活重心不再只有上帝，他們逐漸關注世俗生活，強調『人』的價值與尊嚴，並透過各種作品展現。」請問：這張紙條的內容應是從下列哪本書中抄下的？ (A)文藝復興的巨匠 (B)宗教革命的領袖 (C)伊斯蘭藝術的革新 (D)羅馬公教的改革

36. 歷史老師正在解釋中國古代的某一項制度：「這個制度的特色，在於外國須臣服中國，受中國的冊封，並由中國賜予印璽，確認中國為宗主國的地位。外國使者之後方可向中國進貢，並進行官方監督下的貿易。」請問，老師所提到的，是中國古代哪一項制度？ (A)封建制度 (B)郡縣制度 (C)朝貢制度 (D)市舶司制度

37. 13 世紀時，有著阿拉伯血統的巴夏爾，來到元代的中國生活了一段時間，留下一些生活紀錄。下列何者應是他的紀錄中會有的記述？ (A)陸路貿易多險阻，我只能由海路來中國進行貿易 (B)到了中國，我可以使用當地的寶鈔進行買賣 (C)在中國沒有清真寺可以讓我去做禮拜 (D)做生意需要各地奔波，還好有市舶司，讓我有可以落腳休息的地方

背面尚有試題

3

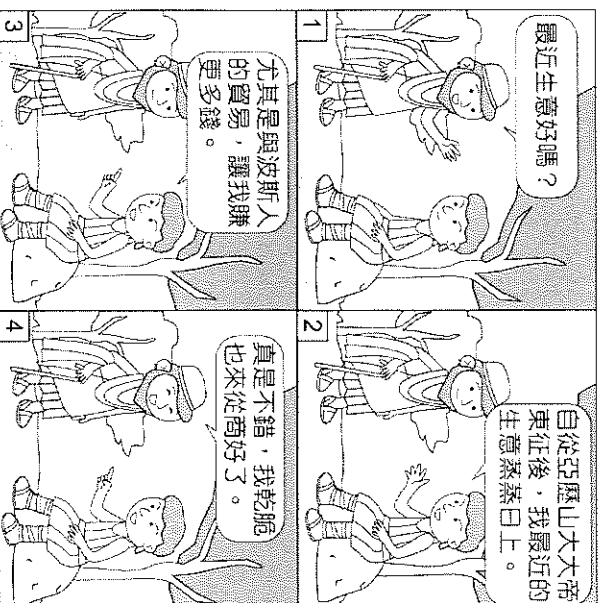
共有四面，請耐心作答



38. 2018 年是鄭成功登陸臺南 356 周年的紀念日，臺南市文化局推出限定在臺南市幾個古蹟處才能買到的紀念商品，引發搶購熱潮。限定販售地點中的安平古堡、赤崁樓在鄭成功登臺時就已存在，並被他做為府邸及行政機關。其建築為下列哪一個外來政權所興建？ (A)日本人 (B)葡萄牙人 (C)荷蘭人 (D)西班牙人

39. **附圖**是 1939 年英國首相張伯倫在某次會議結束以後，於機場所拍攝的照片，張伯倫自豪地向群眾展示與希特勒的和平協定。請問：該協定的獲取乃基於下列何者的犧牲？ (A)法國 (B)捷克 (C)波蘭 (D)奧地利

40. **附圖**為西元前 300 年左右的希臘雅典，一位商人正跟朋友談起自己的事業。請問：圖中這位雅典商人應該是生活在下列哪一時期？
(A)希臘時代 (B)希臘化時代 (C)羅馬時代 (D)古西亞時代



【試題結束，請再三檢查】

【預祝會考各科皆順心】