

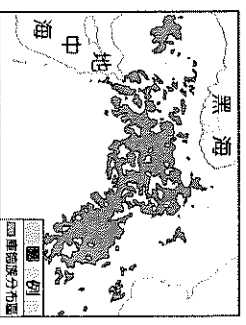
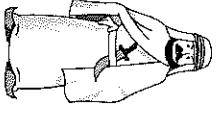
基隆市立武崙國民中學 111 學年度第二學期八年級地理科第二次定期評量試題卷

本試卷均為單一選擇題。共 50 題，每題 2 分，總計 100 分。請用 2B 鉛筆將正確答案畫在答案卡上，

考試結束後務必交回答案卡給監考老師。試題卷上也請寫上答案並妥善保管，日後上課需要檢討。

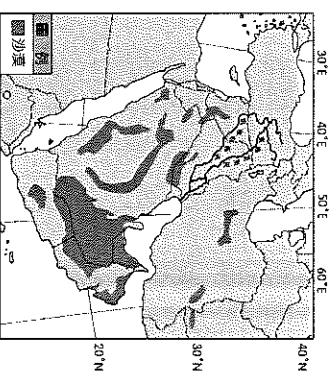
班級：_____ 姓名：_____ 座號：_____

1. () 西亞與北非的人口結構近年來發生改變，移入的大量人口多從事下列哪項產業活動？ (A) 牧業 (B) 農業 (C) 商業 (D) 礦業。
2. () 阿拉伯人古時候從伊朗引進沙漠地區的取水灌溉系統，藉由一連串的水井建立相連的渠道，再由渠道把地下水取上來，種植椰樹。請問：此一水利系統為下列何者？ (A) 坎井 (B) 地下水井 (C) 滴灌技術 (D) 埤塘灌溉。
3. () 土耳其熱氣球旅遊行程是近年來新興的旅遊項目之一，搭乘熱氣球上空後可以俯瞰漂亮的地貌與海岸線，深受眾多年輕人喜愛。請問：在土耳其搭乘熱氣球時，看到的地貌應該屬於下列何者？ (A) 伊朗高原 (B) 撒哈拉沙漠 (C) 阿拉伯高原 (D) 安納托利亞高原
4. () 穆斯林每年過年之前都得先經歷一個月的「修行」，這個時期不能在白天進食，要更加虔誠，以期能更接近真主阿拉，直到回曆新年到來才能恢復正常；因此每到新年，都可以看見穆斯林朋友呼朋引伴出門聚餐等活動。請問：上述的「修行」，指的是伊斯蘭五功中的哪一功？ (A) 念 (B) 齋 (C) 課 (D) 禮。
5. () 下列哪一地區過去是西班牙殖民地，但摩洛哥卻認為該地區為其領土，反對公投並發生多次衝突？ (A) 敘利亞 (B) 西撒哈拉 (C) 南蘇丹 (D) 喀什米爾。
6. () 許多生活在不同國家、不同民族的人因信仰伊斯蘭教，但必須使用 (甲) 文念誦其 (乙) 經典，形成共同的文化世界。請問：文中的甲、乙分別是何者？ (A) 梵文、佛經 (B) 希伯來文、古蘭經 (C) 阿拉伯文、古蘭經 (D) 希伯來文、舊約聖經。
7. () 阿爾及利亞的阿爾及爾城雖位於北非，但當地降水比起其他西亞、北非區域還多，因此可以發展灌溉農業，種植葡萄、柑橘等作物。請問：下列敘述何者正確？ (A) 夏季降水較冬季多 (B) 水氣受到西風帶影響 (C) 降水與生長季得以配合 (D) 降水來自冬季高氣壓下沉。
8. () 西亞的杜拜正積極發展觀光業活動，著名的帆船飯店吸引了全球消費者的目光。請問：該地區發展觀光業最主要的目的為何？ (A) 發展多元經濟 (B) 發揚伊斯蘭教 (C) 增加就業機會 (D) 拓展國際外交
9. () 綠洲農業是西亞—北非地區的傳統農業，運用有限的水源，種植多樣作物以滿足生活之需。關於綠洲農業的敘述，下列何者不正確？ (A) 適合大規模機械化 (B) 作物多以耐旱為主 (C) 土地利用層狀分布 (D) 土地利用相當集約。
10. () 巴勒斯坦被稱為西亞的火藥庫，其原因之一為 1948 年以色列建國之後，因而形成了哪兩個教派之間的衝突？ (A) 猶太教、基督教 (B) 基督教、伊斯蘭教 (C) 猶太教、天主教 (D) 猶太教、伊斯蘭教。
11. () 阿拉伯人常穿著覆蓋全身的白色長袍，有研究指出長袍的形狀可形成煙囪效應，以供空氣在衣物與人體間流通，有效降低周圍的空氣溫度，請問此原理與西亞、北非常見的哪種建築特色相同？ (A) 泥牆厚實 (B) 窗戶窄小 (C) 屋頂平坦 (D) 風塔高聳。
12. () 總人口數約 2,000 多萬人的庫德族為西亞的遊牧民族，附圖為其分布圖。雖然在西亞地區的第四大民族但卻和周邊鄰國的關係相當緊張，甚至出現零星的戰事，請問形成紛爭的主要因素為下列何者？為非 (A) 劃定國界時未考慮族群分布 (B) 庫德族分布區石油蘊藏豐富 (C) 不同宗教強奪聖地長期衝突 (D) 庫德族獨立會損害鄰國水權。
13. () 關於西亞與北非的環境特色，下列何者與當地從事游牧活動的關係最大？ (A) 下沉氣流旺盛 (B) 古老地質條件 (C) 奉行宗教教義 (D) 地形崎嶇不平

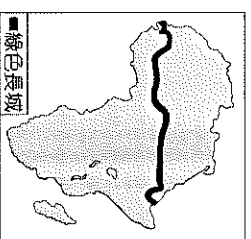


14. () 2022 年 6 月阿富汗東部發生 6 級以上地震，造成千人以上的死亡與至少 1500 人受傷，塔利班政權呼籲國際救助。請問該地區經常發生地震和下列何者關係最大？ (A) 氣候乾燥，岩層保水度差 (B) 興建水庫，大量蓄水誘發 (C) 古老地塊，地表長期侵蝕 (D) 板塊接觸，地殼能量釋放。
15. () 盛產石油的杜拜自 1970 年代起即開始運用資金發展金融及觀光產業，請問其進行多元化的建設與發展的主要原因為何？ (A) 避免對單一礦產資源過度依賴 (B) 勞工薪資上漲而促使產業升級 (C) 與其他產油國因資源衝突對立 (D) 引進多元文化為進行宗教改革。
16. () 非洲西北部的突尼西亞，於沿海谷地種植了數千萬株的橄欖樹，有橄欖之邦的美稱。下列何者與橄欖成為該國重要經濟作物的關係最密切？ (A) 雨季與生長季無法配合，適合種植耐旱作物 (B) 氣候終年高溫又潮濕，適合發展熱帶栽培業 (C) 受英國殖民母國需求影響，栽種高單價作物 (D) 工資成本過高，大規模機械化種植單一作物。
17. () 2011 年敘利亞受到「阿拉伯之春」民主運動鼓舞，境內出現反政府示威活動，原本是政府與革命人士之間的衝突，然而後來卻演變成教派對立與外國勢力介入，造成一連串蔓延全國的武裝衝突使國家陷於戰火之中。請問文中的教派衝突指的是下列何者？
 (A) 基督教派與伊斯蘭教派
 (B) 基督教裡的新教派與舊教派
 (C) 伊斯蘭教裡的遜尼派與什葉派
 (D) 基督教裡的天主教派與東正教派
18. () 1990 年伊拉克出兵入侵並併吞科威特，引發嚴重國際譴責與制裁，請問伊拉克入侵科威特的原因最可能為下列何者？
 (A) 進行宗教聖戰 (B) 河川水權糾紛 (C) 爭奪石油資源 (D) 維護領土主權
19. () 承上題，聯合國與國際主要國家與伊拉克進行協商失敗後，以美國為首由 30 多個國家組成的多國部隊對伊拉克進行了大規模的軍事行動以解放科威特，請問關於此次戰爭的敘述下列何者為非？
 (A) 此戰役為波斯灣戰爭 (B) 有『沙漠風暴行動』之稱 (C) 地面戰考驗熱帶叢林游擊實力 (D) 伊拉克與科威特均為伊斯蘭信仰的阿拉伯人

20. () 2022 年 9 月伊朗一位女性因沒戴好頭巾遭宗教警察逮捕，並在拘留期間離奇身亡，引發反獨裁挺女權抗爭在伊朗各地蔓延開來，面對示威浪潮軍警開槍強力鎮壓並逮捕抗議民眾。伊朗政府的保守風被批評是對伊斯蘭世界朝現代化改革的重創，下列關於近年伊斯蘭世界現代化的改革措施何者錯誤？
 (A) 放寬女性在運動賽事的服裝限制 (B) 餐廳不再禁止男女分坐不同隔間 (C) 開放穆斯林食用豬肉製品與酒類 (D) 阿拉伯聯合大公國女性有投票權
21. () 請問造成附圖中沙漠(深色區)形成的主要因素為下列何者？
 (A) 高壓籠罩 (B) 位居內陸 (C) 涼流經過 (D) 背盛行風。




22. () 西亞地區大小紛爭、戰亂不斷，導致當地居民生活苦不堪言。歷年來雖有多次和平談判，然而最終都無法落實。請問下列哪些是造成該地區紛爭的主要原因？
 甲. 宗教族群衝突 乙. 爭奪煤礦利益
 丙. 領土主權爭議 丁. 商業貿易糾紛
 戊. 爭搶稀少水源 (A) 甲乙丙 (B) 甲乙丁 (C) 甲丙戊 (D) 丙丁戊
23. () 20 世紀初，西亞與北非發現大量石油，除了產油國因石油開採財富躍升外，請問下列哪些現象為發現石油對西亞與北非產生的影響？甲. 石油買賣促使改信奉基督教 乙. 非產油國因輸油管經過而受惠 丙. 資源爭奪導致更多衝突與戰事 丁. 經濟結構由工商業轉為農業
 (A) 甲乙 (B) 甲丙 (C) 乙丙 (D) 丙丁
24. () 附圖為非洲綠色長城計畫的位置，其規劃種植一道寬 15 公里，長約 7,700 公里的樹牆。請問該計畫的主要目的最可能為何者？
 (A) 明確劃分穆斯林與基督徒生活圈 (B) 避免野生動物誤入乾燥區的防線 (C) 減少不同族群接觸避免產生紛爭 (D) 防止乾燥沙漠範圍持續向南擴張。



88 豐富的石油蘊藏為西亞與北非帶來財富也引發衝突與紛爭。請回答第 25~27 題：

25. () 1960 年，世界各大產油國宣布成立一組織用以控制石油的產量與價格，以此來維護產油國的利益，請問此組織是指下列何者？ (A) UN (B) WTO (C) APEC (D) OPEC。

26. () 承上題，請問該組織的旗幟為下列何者？ (A) (B) (C) (D)



(C)



(D) WORLD TRADE ORGANIZATION

27. () 石油帶來的財富大幅提升產油國在國際的政治與經濟地位。請問上述組織成立後，對當地所帶來的影響何者最為正確？ (A) 工商業快速發展，年輕人脫離宗教束縛 (B) 無石油生產的國家缺乏收入，貧富差距懸殊 (C) 因採採石油與國家建設成為人口移入區 (D) 石油價格受國際情勢影響，經濟動盪不安
- 88 西亞與北非大多數居民信奉伊斯蘭教，伊斯蘭教的信徒人數目前已超過 19 億人，為世界第二大宗教。請回答第 28~34 題：

28. () 伊斯蘭教的大規模擴張與其教義簡單、易施行有關。下列關於此宗教的敘述何者錯誤？ (A) 信徒稱為『穆斯林』 (B) 『古蘭經』為重要經典 (C) 其與基督教和猶太教均發源自西亞 (D) 由穆罕默德創立並奉其為唯一真神

29. () 下列哪些是伊斯蘭教徒實踐信仰並落實在日常生活中的行為？甲.定期到清真寺禮拜真主聖像 乙.每日朝聖地方向禮拜 5 次 丙.成年信徒需繳天課進行奉獻 丁.齋戒月期間日落後即不再進食 (A) 甲乙 (B) 甲丙 (C) 乙丙 (D) 丙丁


30. () 阿里來自沙烏地阿拉伯，是個虔誠的伊斯蘭信徒，當他工作的遠洋貨輪航行到高雄港區停泊時，他每日所朝拜的方向最接近下列何者？ (A) 東方 (B) 西方 (C) 南方 (D) 北方。

31. () 請問全世界的伊斯蘭教徒每天禮拜及一生中在情況許可之下需要前往朝覲的聖地位於下列哪個都市？ (A) 麥加 (B) 麥地那 (C) 梵蒂岡 (D) 耶路撒冷

32. () 阿里在高雄停留的時間，需要尋找有右側認證標誌的餐廳用餐。請問我國政府在推行食品清真認證時，除了規定商家屠宰過程須符合清真教法外，還須符合下列哪些標準？ (A) 食品不得含有豬肉及酒類 (B) 販售者須為伊斯蘭教信徒 (C) 收益需部分奉獻宗教機構 (D) 需由當地清真寺核發許可

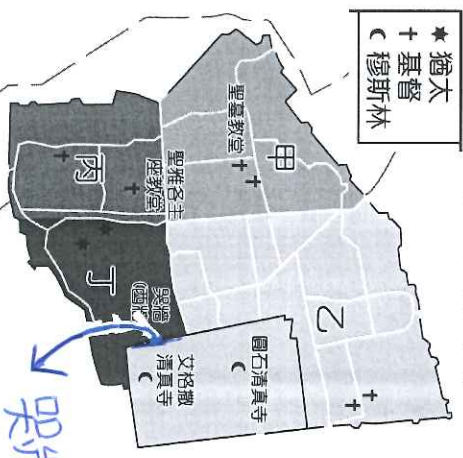


33. () 附圖阿里祖國的國徽，國徽上的植物生長在沙漠地區，果實產量多，營養價值高，也是齋戒月期間最重要的開齋食品。請問此植物應是何種作物？ (A) 香蕉 (B) 椰棗 (C) 油棕 (D) 椰子。



34. () 承上題，請問依照附圖這種植物的生長環境及分布地區判斷，其屬於何種農業類型？ (A) 粗放農業 (B) 綠洲農業 (C) 熱帶栽培業 (D) 地中海型農業。

- 88 附圖為西亞和北非地區某都市舊城區的示意圖。請回答第 35~37 題：



35. () 觀察圖中資訊可以發現，此舊城區同時為三大宗教的聖地，為重要的宗教信仰中心。請問其最可能為下列哪一個都市？ (A) 麥加 (B) 麥地那 (C) 耶路撒冷 (D) 伊斯坦堡

36. () 此舊城區對於阿拉伯人和猶太人都具有重要宗教和精神意義，因此每年均有許多人前往朝聖膜拜，請問阿拉伯人和猶太人分別朝聖的區域下列何者正確？ (A) 乙、甲 (B) 乙、丁 (C) 丁、乙 (D) 丁、丙

37. () 來自台灣的基督徒們若想利用農曆新年假期前往舊城區見證耶穌殉難前所走的『苦路 14 站』，則當地的天候狀況最可能為下列何者？ (A) 炎熱暴雨 (B) 寒冷乾燥 (C) 晴空萬里 (D) 陰雨綿綿。【第 3 頁，共 4 頁】

基隆市立武崙國民中學 111 學年度第二學期八年級地理科第二次定期評量試題卷

本試卷均為單一選擇題。共 50 題，每題 2 分，總計 100 分。請用 2B 鉛筆將正確答案畫在答案卡上，

考試結束後務必交回答案卡給監考老師。試題卷上也請寫上答案並妥善保管，日後上課需要檢討。

班級：_____ 姓名：_____ 座號：_____

1. () 西亞與北非的人口結構近年來發生改變，移入的大量人口多從事下列哪項產業活動？ (A) 牧業 (B) 農業 (C) 商業 (D) 礦業。
2. () 阿拉伯人古時候從伊朗引進沙漠地區的取水灌溉系統，藉由一連串的水井建立相連的渠道，再由渠道把地下水取上來，種植椰樹。請問：此一水利系統為下列何者？ (A) 坎井 (B) 地下水井 (C) 滴灌技術 (D) 埤塘灌溉。
3. () 土耳其熱氣球旅遊行程是近年來新興的旅遊項目之一，搭乘熱氣球上空後可以俯瞰漂亮的地貌與海岸線，深受眾多年輕人喜愛。請問：在土耳其搭乘熱氣球時，看到的地貌應該屬於下列何者？ (A) 伊朗高原 (B) 撒哈拉沙漠 (C) 阿拉伯高原 (D) 安納托力亞高原
4. () 穆斯林每年過年前都得先經歷一個月的「修行」，這個時期不能在白天進食，要更加虔誠，以期能更接近真主阿拉，直到回曆新年到來才能恢復正常；因此每到新年，都可以看見穆斯林朋友呼朋引伴出門聚餐等活動。請問：上述的「修行」，指的是伊斯蘭五功中的哪一功？ (A) 念 (B) 齋 (C) 課 (D) 禮。
5. () 下列哪一地區過去是西班牙殖民地，但摩洛哥卻認為該地區為其領土，反對公投並發生多次衝突？ (A) 敘利亞 (B) 西撒哈拉 (C) 南蘇丹 (D) 喀什米爾。
6. () 許多生活在不同國家、不同民族的人因信仰伊斯蘭教，但必須使用 (甲) 文念誦其 (乙) 經典，形成共同的文化世界。請問：文中的甲、乙分別是何者？ (A) 梵文、佛經 (B) 希伯來文、古蘭經 (C) 阿拉伯文、古蘭經 (D) 希伯來文、舊約聖經。
7. () 阿爾及利亞的阿爾及爾城雖位於北非，但當地降水比起其他西亞、北非區域還多，因此可以發展灌溉農業，種植葡萄、柑橘等作物。請問：下列敘述何者正確？ (A) 夏季降水較冬季多 (B) 水氣受到西風帶影響 (C) 降水與生長季得以配合 (D) 降水來自冬季高氣壓下沉。
8. () 西亞的杜拜正積極發展觀光業活動，著名的帆船飯店吸引了全球消費者的目光。請問：該地區發展觀光業最主要的目的為何？ (A) 發展多元經濟 (B) 發揚伊斯蘭教 (C) 增加就業機會 (D) 拓展國際外交
9. () 綠洲農業是西亞—北非地區的傳統農業，運用有限的水源，種植多樣作物以滿足生活之需。關於綠洲農業的敘述，下列何者不正確？ (A) 適合大規模機械化 (B) 作物多以耐旱為主 (C) 土地利用層狀分布 (D) 土地利用相當集約。
10. () 巴勒斯坦被稱為西亞的火藥庫，其原因之一為 1948 年以色列建國之後，因而形成了哪兩個教派之間的衝突？ (A) 猶太教、基督教 (B) 基督教、伊斯蘭教 (C) 猶太教、天主教 (D) 猶太教、伊斯蘭教。
11. () 阿拉伯人常穿著覆蓋全身的白色長袍，有研究指出長袍的形狀可形成煙囪效應，以供空氣在衣物與人體間流通，有效降低周圍的空氣溫度，請問此原理與西亞、北非常見的哪種建築特色相同？ (A) 泥牆厚實 (B) 窗戶窄小 (C) 屋頂平坦 (D) 風塔高聳。
12. () 總人口數約 2,000 多萬人的庫德族為西亞的遊牧民族，附圖為其分布圖。雖然在西亞地區的第四大民族但卻和周邊鄰國的關係相當緊張，甚至出現零星的戰事，請問形成紛爭的主要因素為下列何者為非？ (A) 劃定國界時未考慮族群分布 (B) 庫德族分布區石油蘊藏豐富 (C) 不同宗教強奪聖地長期衝突 (D) 庫德族獨立會損害鄰國水權。
13. () 關於西亞與北非的環境特色，下列何者與當地從事游牧活動的關係最大？ (A) 下沉氣流旺盛 (B) 古老地質條件 (C) 奉行宗教教義 (D) 地形崎嶇不平

