

基隆市立武崙國民中學 111 學年度第二學期第一次段考九年級地理科試題卷

1. 單選題，每題 2 分，共 50 題，總分 100 分。
2. 答案卡請使用 2B 鉛筆畫記，若畫記錯誤，請擦拭乾淨。分數以電腦讀卡分數為準。
3. 答案卡上的資料欄請確實填寫，若資料欄畫記錯誤導致電腦無法正確判讀，扣總分 10 分。

班級：_____年_____班 座號：_____ 姓名：_____

一、選擇題

- () 1. 臺灣的地名多數源自居民的生活環境及其生活經驗。請問：下列哪一個地名的由來和當地為了防禦盜匪最為相關？(A)竹崎 (B)鹽埕 (C)芎林 (D)竹圍。
- () 2. 「即使人在臺灣，也能前往異國餐廳，享受道地的馬來西亞椰漿飯和泰國酸辣海鮮湯等眾多異國料理。」請問：上述內容較適合用哪一個概念說明？(A)農業企業化 (B)飲食全球化 (C)區域專業化 (D)作物集約化。

- () 3. 臺灣有許多含義相似的漢語地名，但因不同族群而使用不同字詞。下列哪一組地名可作為上述的舉例？(A)埃下、埃腳 (B)新營、前鎮 (C)羅東、麻豆 (D)三貂角、富貴角。


- () 4. 「臺東某一鄉鎮原名為新開園，後因境內有座由天然湧泉所形成的大坡池，因而更名。」請問：上文描述臺東哪一個鄉鎮的更名由來？(A)大湖 (B)大溪 (C)池上 (D)富里。

- () 5. (甲)作物種植 (乙)礦物開採 (丙)牲口飼養 (丁)水產加工。廣義的農業包含上述哪些生產活動？(A)甲乙 (B)甲丙 (C)乙丁 (D)甲丁。

- () 6. 原住民族在臺灣生活的歷史悠久，許多族名或社名往往成為地名的由來。請問：下列哪些地名符合上述方式而得名？(甲)花蓮 (乙)苗栗 (丙)雲林 (丁)基隆 (A)甲乙 (B)甲丙 (C)乙丁 (D)丙丁。

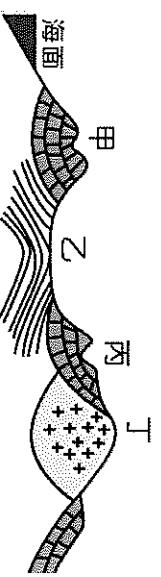
- () 7. 「鴨賞」為宜蘭三寶之一，其由來是因當地雨日多，低窪地區常生水患，而鴨子嗜水、繁殖力強，因而成為最合適的家禽。早期製作鴨賞先以鹽醃漬一週，再拿到戶外風晾後以炭火燻烤而成。請問：鴨賞製作的鹽醃程序主要目的為何？(A)增添美味 (B)避免發霉腐敗 (C)增加鴨肉水分 (D)為外觀上色。

- () 8. 亮亮驅車前往臺北某知名賣場採買生活物資，沿途指引標誌如附圖，但下了內湖交流道之後，她發現該地並無湖泊。請問：「內湖」的命名由來為何？(A)借用原鄉地名 (B)外語翻譯而得 (C)因基隆河流經積水成湖 (D)境內多山丘，形成小盆地地形。



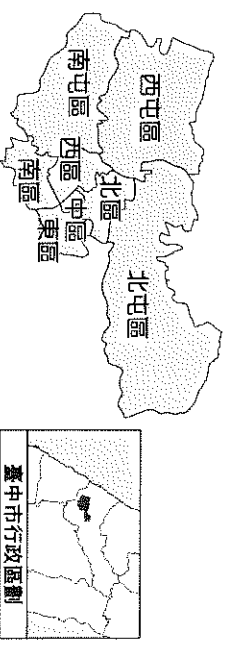
- () 9. 臺灣歷經荷、西、日等不同民族統治，故有許多不同年代、不同族群以各國語言留下的「外來語」地名。下列地名配對何者正確？(A)玉井—日語 (B)富貴角—西班牙語 (C)烏來—日語 (D)三貂角—荷蘭語。

- () 10. 桃園的中壢位於新竹與艋舺(今萬華)中段，以前是旅客、商人往來的必經中途站，再加上此地地形多丘陵地形，客家語稱此種地形為「壠」，故名「中壢」。根據上述，中壢最可能位於附圖中何處？(A)甲 (B)乙 (C)丙 (D)丁。



- () 11. 「臺灣素有『蘭花王國』的美稱，每年的產出約可造就 100 億新臺幣的外銷訂單。『臺灣國際蘭展』至今已邁入第 15 年，每年都在臺南市後壁區的臺灣蘭花生物科技園區盛大展出，主題千變萬化、推陳出新，愈來愈有看頭！」由上述報導判斷，下列何者『不是』臺灣農業未來發展的方向？(A)發展精緻農業 (B)農改技術提升 (C)積極降低生產成本 (D)農產品商品化。

- () 12. 附圖為縣市合併前的舊臺中市行政區圖。請問：此地區行政區名的命名依據為何？(A)地形 (B)方位 (C)人口 (D)開發先後。



- () 13. 臺灣有些縣市的行政區命名，是源於方位來稱呼。請問：下列何者『不是』以方位命名的縣市？(A)臺東縣 (B)臺北市 (C)屏東縣 (D)南投縣。

- () 14. 清朝康熙年間，郁永河的《裨海紀遊》將今日的高雄稱為打狗仔港，直至西元 1920 年才改為「高雄」一名。請問：此一更名主要是受到下列哪一項因素的影響？(A)政府賦予道德教化 (B)日治時期日語發音 (C)倚靠自然地形起伏 (D)源於清朝皇帝賜名。

- () 15. 臺灣山區設立行政區的時間比平地晚，因此有些位於山區的行政區名稱，就被政府賦予政治意識或道德教化的含意。請問：以下地名中何者『並非』有此含意？(A)臺中市和平區 (B)桃園市復興區 (C)臺南市麻豆區 (D)南投縣信義鄉。

() 16. 西元 2021 年 5 月，臺灣陷入新冠肺炎(Covid-19)疫情風暴，當時正值芒果盛產期，疫情下餐飲通路少，加上外銷大減，使得芒果的市場價格比往年大幅下降。上述顯示芒果銷售受到下列何項因素影響？ (A)自然環境條件 (B)人力投入多寡 (C)品種改良技術 (D)市場供需關係。

() 17. 世界衛生組織(WHO)持續以「食品安全，人人有責」為口號，訂 6 月 3 日為「世界食品安全日」，強調需要每一位參與食品供應鏈的人盡心盡力，才能確保食用食品的安全。請問：下列哪一新聞事件與食安議題無關？ (A)臺南端午食品抽驗出爐，1 件蝦米漂白劑超標 (B)臺南好抽入選文旦，全數通過 381 項農藥檢驗 (C)受新型冠狀病毒(Covid-19)疫情影響，今年農產品外銷訂單銳減 (D)自民國 111 年 7 月 1 日起，實施飲料添加二氧化碳將列為食品添加物管理。

() 18. 下列選項是四位同學針對所居住的縣市之名稱由來所做的說明。請根據說明判斷，哪一個同學的說法最為正確？ (A)甲：基隆源於雞籠，與當地的平埔族的養雞維生有關 (B)乙：花蓮源於洄瀾，是指急流和臺灣海峽的海水互相激盪形成的景觀 (C)丙：嘉義舊名半線，是因為協助平定朱一貴事件而被賜名嘉義 (D)丁：苗栗舊名猫裏，是當地平埔族的社名，後來被遷移至此的漢人移民苗粟。

() 19. 臺灣在古書中曾被稱為「大員」。關於「大員」的說明，下列哪些正確？ (甲)後人習慣「大員」地名用法，因而沒有出現其他的寫法 (乙)有一說是源於當地西拉雅族臺窩灣社的社名 (丙)大員是指今日臺南市安平區一帶 (丁)當時此處為岬灣海岸地形 (A)甲乙 (B)乙丙 (C)甲丁 (D)丙丁。

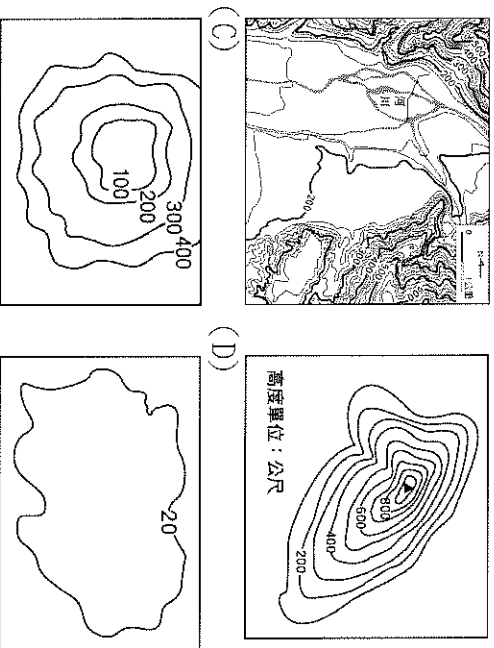
() 20. 隨著國內社會經濟條件的轉變，農業發展也開始進行轉型及升級。下列何種轉型方向『不適合』現在的臺灣農民？ (A)農民透過產銷班與合作社組成團體，降低生產成本，並擴大生產規模 (B)與企業簽訂契約合作，穩定生產利潤 (C)發展個人品牌，提高附加價值 (D)分種多種作物，降低環境風險。

() 21. 為了讓顧客更加安心食用，某速食業店鋪會隨時更新產地情報，將資訊寫上小黑板(如附圖)，以保障消費者飲食安全。請問：附圖中的標題最可能為下列何者？ (A)生產履歷 (B)食物里程 (C)安全採收期 (D)全球化生產。



() 22. 臺灣在西元 2002 年加入 WTO 之後，不少外國產品及原料陸續輸入臺灣，也讓臺灣的農牧業面臨劇烈的競爭；但也有些國內生產的農牧產品仍保有競爭優勢。請問：上述所指「仍保有競爭優勢」的農牧產品，最可能為下列何者？ (A)鮮乳製品 (B)小麥 (C)牛肉 (D)玉米。

() 23. 臺灣各地常可見到二重埔、三重埔等地名，其命名來源主要以河階地形為主。請問：下列等高線地形圖中，何者最有可能出現二重埔的地名？ (A) (B)



() 24. 西元 2014 年某大型食品企業爆發食安危機，連帶影響該企業相關的鮮乳品牌。事件過後，乳品業者重新洗牌，除了過去依靠大企業契約合作經營的模式，也陸續出現自有品牌小農鮮乳、國際鮮乳進口，產品種類漸趨多元，消費者的選擇更為多樣化。請問：在臺灣與大企業契約合作經營的模式有什麼優點，過去讓農民趨之若鶩？ (A)增加外銷的管道 (B)避免價格波動的衝擊 (C)包裝較為精緻 (D)提供較優質的場地。

() 25. 現今在臺灣可以見到種類豐富的食物及食品，也可見到來自世界各地的食物。這種現象的產生跟下列哪些條件的配合有關？ (甲)家庭所得提高 (乙)交通運輸發達 (丙)基因技術發展 (丁)全球貿易普及 (A)甲乙丙 (B)甲乙丁 (C)甲丙丁 (D)乙丙丁。

() 26. 新聞報導：「全臺正值缺蛋之際，如今更雪上加霜，爆出芬普尼毒蛋事件。衛福部食品藥物管理署 13 日接獲農委會通報，彰化縣某牧場驗出芬普尼蛋，抽驗的 3 件檢驗出芬普尼含量分別是 0.03、0.04 及 0.06DPM，而法規殘留標準為 0.01DPM。芬普尼是一種廣效殺蟲劑，可用於水稻、環境清潔及寵物除蟲，但食用動物不得使用。」前述新聞中提及的食品安全事件，是在下列哪個階段出現問題？ (A)農業生產階段 (B)食品加工階段 (C)食品運輸階段 (D)食品銷售階段。

() 27. 臺灣政府鼓勵各地農業從事人員參加小農市集，直接與消費者面對面接觸。請問：消費者在小農市集購買農產品，有以下哪些好處？ (甲)減少中盤商轉運的成本 (乙)增加食物里程 (丙)帶動地方飲食文化產業的發展 (丁)減少食品安全的疑慮 (A)甲乙丙 (B)甲丙丁 (C)甲乙丁 (D)乙丙丁。

- () 28. 附圖是康軒國中的某個月營養午餐菜單，菜單上內容標示強調使用「非基因改造食材」，主要是因為基因改造食材目前存在何種隱憂？
 (A) 農作物維持原始本味 (B) 仍需噴灑農藥抗蟲害 (C) 對人體健康影響未定 (D) 農作物產量因此減少。

康軒國中 營養午餐菜單				
星期一	星期二	星期三	星期四	星期五
胚米飯 紅絲青蔥炒蛋 味噌高麗菜 塔香白頁 小白菜 南瓜濃湯	燕麥飯 咖哩嫩肉 鮮蔬蝦捲 海帶三絲 油菜 冬瓜排骨湯	香Q白飯 紅燒嫩肉 番茄炒蛋 銀牙肉絲 青江菜 日式味噌湯	炒飯 卡啦雞翅 青花炒魷魚 大粗白菜羹 空心菜 海苔蛋花湯	紫米飯 鳳梨咕咕肉 肉燥福州丸 針菇清瓜 有機小松菜 芋頭米粉湯

★均採用非基因改造食材★

- () 29. 許多在地生產者會直接將地名當成品牌，標示於商品包裝上為產品行銷，如大湖草莓、玉井芒果等。在國外，也可以找到許多類似的例子。請問：下列各地名與商品的配對，何者正確？ (A) 印度阿薩姆——香檳 (B) 義大利拿坡里——咖啡 (C) 葉門摩卡——紅茶 (D) 日本青森——蘋果。
- () 30. 隨著科技進步，臺灣早期生活與現代生活的環境差異很大。請問：下列哪些是臺灣傳統農業時期常見的日常飲食？ (甲) 牛肉 (乙) 醃製類食物 (丙) 蘋果 (丁) 番薯 (戊) 麵食 (A) 甲乙 (B) 甲丙 (C) 丁戊 (D) 乙丁。

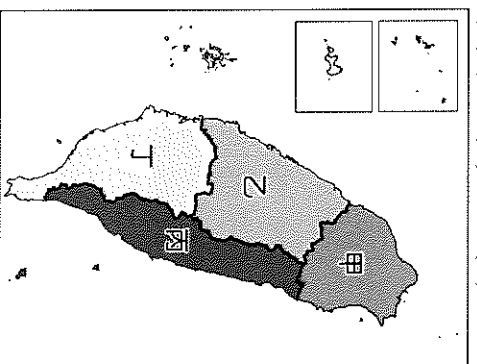
- () 31. (甲)高雄「左營」(乙)桃園「復興」(丙)臺南「玉井」(丁)宜蘭「羅東」。上列四個地名中，若依照該地名出現的年代排列，由早到晚正確的順序應是下列何者？ (A) 甲乙丙丁 (B) 乙丙丁甲 (C) 丙甲丁乙 (D) 丁甲丙乙。

- () 32. 下列是四位學生對於「食物里程」相關概念的描述：
 甲生：食物里程指的是從產地到消費地的運送時間。
 乙生：食物里程愈長，對於環境所帶來的衝擊愈大。
 丙生：對於臺灣的居民而言，日本稻米的食物里程大於臺灣生產的稻米。
 丁生：隨著交通革新，食物里程愈長，並不會使廢棄物的碳排放量增加。
 請問：哪幾位學生的觀念最為正確？
 (A) 甲乙 (B) 甲丙 (C) 甲丁 (D) 乙丙。
- () 33. 下列對於「即食食品」的敘述，何者『錯誤』？
 (A) 配合現代社會忙碌的生活步調而產生
 (B) 可以在便利商店買到「即食食品」
 (C) 「即食食品」多為國外進口，食物里程較長
 (D) 三角飯糰、泡麵屬於「即食食品」。

- () 34. 阿諾查詢包含某些與地形之名稱的地名後，發現其空間分布主要集中在臺灣北部濱海的鄉鎮市區。請問：她查詢的最可能是下列哪一組地形關鍵字？ (A) 山、坡、崙 (B) 洲、汕、湖 (C) 角、鼻、澳 (D) 崎、埔、坑。
- () 35. 「地形景觀」常是一地的命名方式，若以地名來判斷，下列哪一個地區所在地的海拔高度最高？ (A) 崙仔(雲林縣) (B) 中壢(桃園市) (C) 竹崎(嘉義縣) (D) 大湖(苗栗縣)。

- () 36. 飄飄去逛百貨公司時，發現各種舶來食品放滿架子，就像是個食品博覽會。在她最愛的巧克力區域中，她發現了來自各國品牌，包含英國的 Dairy milk、比利時的 Galler、美國的 See's Candies 等。但媽媽說：「這些商品種類在他小時候很少見。」請問：造成這樣的情景應該與下列哪一項因素有關？ (A) 家庭人口數量增加 (B) 運輸及貿易業普及 (C) 產品生產技術提升 (D) 產地位置接近臺灣。
- () 37. 臺南市六甲區地名之由來，主要是鄭成功參軍駐軍在此開墾荒地，最初依據開墾面積取名為二甲、六甲、七甲等村。六甲位居中心，故取名為「六甲」。請問：下列哪一個地名的命名之因，與上述例子相近？ (A) 前鎮 (B) 羅東 (C) 新屋 (D) 玉井。

- () 38. 蔬果、花卉等園藝作物，由於保鮮期短，為防止腐爛的情況發生，因此集散中心與交通條件關係密切。由此推論，臺灣本島蔬果、花卉等農產品的產銷中心位於附圖中哪一個區域？
 (A) 甲 (B) 乙 (C) 丙 (D) 丁。



- () 39. 一個地區的產業活動是人類互動的結果，臺灣也有為數不少的地名與當地產業有關。請問：以下產業地名「察仔廝、鹽埕、樟樹林、磺潭」最可能依序分布於附圖中哪一個地點？ (A) 甲乙丁丙 (B) 丙丁乙甲 (C) 丁丙甲乙 (D) 丙甲丁乙。



- () 40. 胡黎跟邦妮在逛全臺各地的夜市時，常常看到招牌上寫著「宜蘭三星蔥」的店家，於是他們上網查詢發現宜蘭縣栽種蔥的面積約 350 公頃，而三星蔥就高達 250 公頃。依據前文的敘述，三星蔥的種植較符合下列哪一項農業經營特徵？
 (A) 作物多樣化 (B) 產品國際化 (C) 區域專業化 (D) 農業自給化。

() 41. 臺灣以農立國，由於地形和氣候雙重影響，農作物多元且產量豐富。但是近 30 年來，臺灣的農業經營產生瓶頸，因此農業從業者比例下降，下列何者是臺灣農業最可能面臨的問題？ (A)耕地持續擴大 (B)灌溉水源增加 (C)耕作愈趨粗放 (D)勞動力老化。

() 42. 下列關於臺灣地名特色的描述，哪些正確？
 (甲)可以方便指認地區 (乙)常描述族群與環境之間互動的故事 (丙)地名一旦被命名，就算政權更迭也不會更動 (丁)地名所表示的空間範圍有時會因環境變化而變動 (A)甲乙丙 (B)甲丙丁 (C)乙丙丁 (D)甲乙丁。

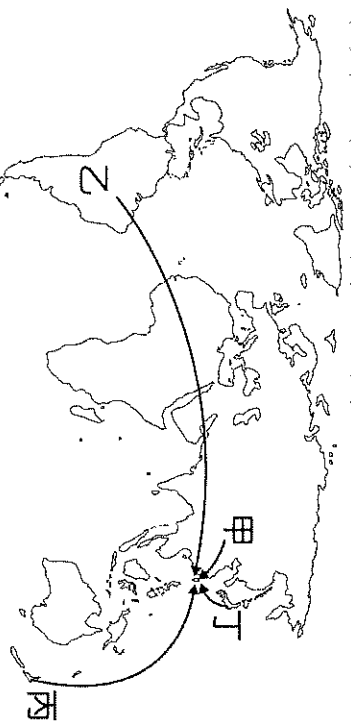
() 43. 臺灣自西元 2002 年加入世界貿易組織(WTO)後，面臨全球化的自由競爭，農業政策也隨之調整。下列哪些調整是因應加入 WTO 所帶來的衝擊之可行作法？ (甲)鼓勵糧食作物的栽植 (乙)推動農業企業化經營 (丙)加強農產品的產銷體系 (丁)提高外來農產品的關稅
 (A)甲乙 (B)甲丁 (C)乙丙 (D)丙丁。

() 44. 現代農業發展與食品製造過程中，為了降低成本或提高售價，可能會使用一些不當的生產方法，造成食物含有對人體健康有害的物質，引起食安問題；或是因為食物里程變長，增加食安的風險。請問：我們可以透過哪些方式降低食安的風險？ (甲)購買有機農產品 (乙)增加產地產地消比例 (丙)注重生產履歷 (丁)降低關稅 (戊)發展基因改造農業以改變生物特性 (A)甲乙丙 (B)乙丙丁 (C)甲乙戊 (D)丙丁戊。

() 45. 澎湖馬公、馬祖列嶼，甚至是香港的天后、澳門(Macau)，這些地區都有共同的民間信仰，有時信仰也可以推測過去當地的主要產業活動。請問：上述地名之共同信仰，呈現出當地過去主要的產業可能為何？ (A)畜牧業 (B)漁撈業 (C)稻作農業 (D)工業。

() 46. (甲)利用稻穀或食物殘渣製作肥料施肥 (乙)在農作物的安全採收期前施用農藥 (丙)水產或禽畜養殖時使用過量抗生素 (丁)加入工業用鹽和其他藥劑浸泡水產。請問：上述食物產銷的過程中，哪些可能較易導致食品安全事件？
 (A)甲乙 (B)乙丙 (C)丙丁 (D)甲丁。

() 47. 臺灣依規定雖不可種植基因改造作物，但只要通過基因改造食品的檢驗，仍可進口。附圖為臺灣從其他國家進口的示意圖，請問哪一條路線最有可能是臺灣進口基因食品的主要來源？
 (A)甲 (B)乙 (C)丙 (D)丁。

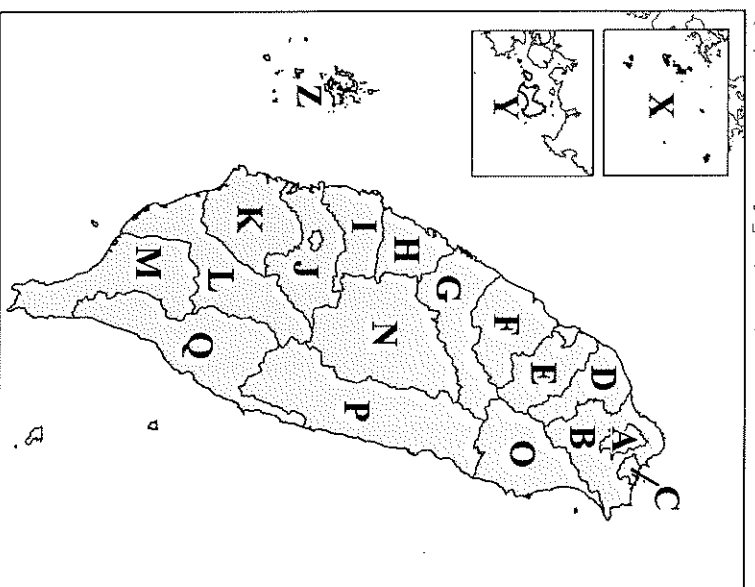


() 48. 附表為民國 108 年臺灣肉類與乳品類的供給量表，請根據表格資訊判斷，下列敘述何者正確？
 (A)臺灣消耗量最大的肉類主要是以進口為主
 (B)臺灣酪農業主要提供奶粉與其他乳製品
 (C)國外進口量最大的肉類是牛肉
 (D)臺灣市面上的鮮奶大多來自國內自產。

類別	國內生產量 (千公噸)	國外進口量 (千公噸)
肉類	1592.1	549.3
豬肉	849.6	130.1
牛肉	7.2	158.0
羊肉	1.9	20.9
家禽肉	733.4	238.7
其他	—	1.6
乳品類	444.8	234.8
鮮奶	444.8	59.8
奶粉	—	74.8
其他	—	100.3

() 49. 嘉義縣的吳鳳鄉改名為阿里山鄉的原因為何？
 (A)維護閩南族群意識崛起 (B)地名被政府賦予道德意識開化的意義 (C)地名改以當地自然環境特徵為主 (D)維護原住民族文化意識崛起。

() 50. 臺灣各縣市命名依據與該縣市的自然環境、族群文化、歷史事件有關。附圖為臺灣行政區地圖，下列選項的行政區命名依據說明，何者正確？
 (A)「C、E、O」源於自然環境
 (B)「H、N、X」源於皇帝賜名
 (C)「P、Y、Z」源於原住民語
 (D)「G、K、Q」源於方位。



試題結束，請再次檢查!