

基隆市立武崙國民中學 111 學年度第二學期八年級地理科第一次定期評量試題卷

本試卷均為單一選擇題。共 50 題，每題 2 分，總計 100 分。請用 2B 鉛筆將正確答案畫在答案卡上，

考試結束後務必交回答案卡給監考老師。試題卷上也請寫上答案並妥善保管，日後上課需要檢討。

班級：_____ 姓名：_____ 座號：_____

1. () 中南半島上國家的國土形狀受到山脈與河谷平行排列的影響，大致呈現南北走向。請問：這樣的一山一河流的平行排列方式，可能跟中國哪個地方的地形有關？(A)青藏高原 (B)山東丘陵 (C)橫斷山脈 (D)喜馬拉雅山脈。
2. () 孟加拉是印度東邊的鄰國，也有許多南亞共有的環境問題。請問：下列南亞國家所面臨的環境問題中，孟加拉較不需要擔心何項？(A)土壤鹽鹼化 (B)空氣汙染嚴重 (C)貧民窟問題 (D)污水與滄水問題。
3. () 2004 年的南亞大海嘯及隨後的印尼大地震，都讓我們了解到南洋群島各國在自然環境上有何特色？(A)多颱風侵襲 (B)氣候溼熱多雨 (C)地處板塊交界帶 (D)珊瑚礁遍布，易受海水入侵。
4. () 近年來，許多臺商直接到東南亞國家投資設廠，進行裝配加工，工業成品再銷往美、日等國。請問：臺商主要是利用東南亞當地具有的哪一優勢條件？(A)豐富原料 (B)低廉勞工 (C)市場廣大 (D)動力充足。
5. () 印度的空氣汙染相當嚴重，首都新德里曾經出現空氣品質指數 (AQI) 達到 999 的破表紀錄。下列關於印度空氣汙染的敘述，何者不正確？(A)農民燒田整地也會帶來空氣汙染 (B)汽車與工業廢氣使空氣汙染增加 (C)6-10 月的空氣品質較其他月份較好 (D)冬季時季風會帶來中國產生的空汙區域的發展，帶來勞動力優勢也帶來許多生存壓力。請問：下列何者並非屬於人口數量帶來的生存壓力？(A)職業世襲 (B)醫療資源不足 (C)交通擁擠 (D)住宅品質低落。
7. () 印度近年來發展高科技工業，其中以軟體產業發展成果較佳，臺灣也有不少企業到印度開設分公司，企圖跨區整合產業人才。請問：這些高科技公司主要位於哪個都市？(A)加爾各答 (B)孟買 (C)邦加羅爾 (D)德里。

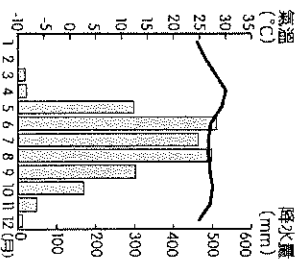
8. () 2020 年全球新型冠狀病毒肆虐，印度也深受其害，感染人數約占全球 1/5。請問：下列因素中，何者與印度感染人數大幅增加較無關係？(A)宗教易衝突 (B)總人口眾多 (C)貧民窟問題 (D)人口密度高。

9. () 不少泰式餐廳會提供銀亮、輕盈且雕花細緻的金屬餐具，用來盛裝那酸辣香濃的餐點好像更顯得美味。這是因為東南亞地區盛產某種礦物，所以鄰近國家都有類似的金屬製品與加工技術。請問：上述提到東南亞盛產的金屬礦物可能為下列何者？(A)鈣 (B)錫 (C)鋁 (D)銅。

10. () 印尼流行種植一種「黃金作物」，因為栽種容易，加工價值高，是世界上最主要的經濟作物之一，你我吃的餅乾巧克力、牙膏、潤髮乳甚至機械保養品裡面都有它的身影。在印尼、馬來西亞的熱帶雨林地區，不斷增加種植面積。請問：上述的「黃金作物」可能指的是下列何者？(A)小麥 (B)橡膠 (C)茶葉 (D)油棕

11. () 「新加坡這個島國只有兩個半的台北市大小，但因具有某項優越的條件，加上政府的政策，成功地讓他的煉油產業快速發展，現已成為世界第三大煉油中心。」文中所述的優越條件應是指下列何者？(A)人口多且勞力充足低廉 (B)地理位置佳且海運便利 (C)石油儲量豐沛且易取得 (D)與鄰國政商關係密切

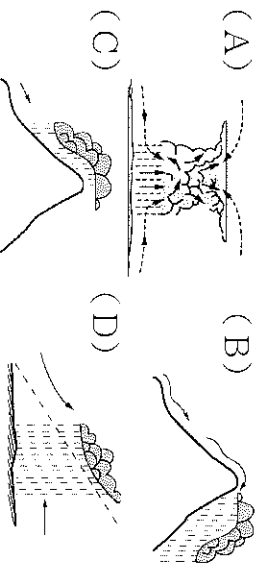
12. () 東南亞地區以其明媚的陽光及溫暖的氣候吸引許多觀光客前往旅遊。附圖為緬甸仰光的氣溫與降水量圖，請問當地冬季少雨的主要原因為何？(A)盛行風來自陸上 (B)熱帶高氣壓籠罩 (C)氣溫下降缺對流 (D)北方高山擋水氣。



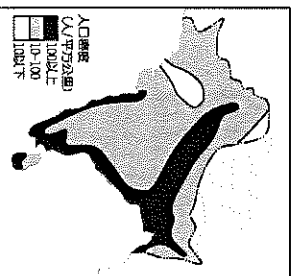
13.() 東南亞和南亞各國的宗教信仰相當分歧，下列哪一個國家境內的主要信仰不是伊斯蘭教？ (A) 孟加拉 (B) 馬來西亞 (C) 巴基斯坦 (D) 斯里蘭卡。

14.() 若搭乘飛機由低緯向高緯穿越印度半島，請問依序可以看到的地形區為下列何者？ (甲) 印度大平原 (乙) 德干高原 (丙) 喜馬拉雅山 (A) 甲→乙→丙 (B) 乙→丙→甲 (C) 乙→甲→丙 (D) 丙→甲→乙。

15.() 南洋群島有一句氣候諺語：「夜間是熱帶的冬天」。請問：該地主要的降水類型為何？



16.() 右圖是南亞人口分布圖，請問影響此地人口分布的主要因素最可能為下列何者？ (A) 種性制度 (B) 政府政策 (C) 雨量多寡 (D) 宗教差異



17.() 印度和其鄰國巴基斯坦糾紛不斷，成為當地發展的不確定因素，其中兩者因為爭奪哪一條河川的水源而發生爭執？ (A) 恆河 (B) 湄公河 (C) 印度河 (D) 雅魯藏布江。

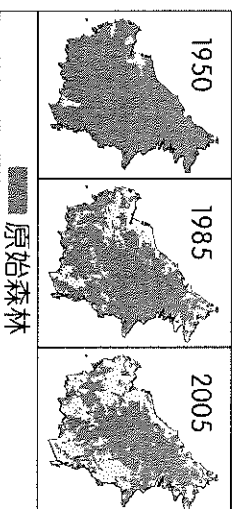
18.() 承上題，除了水源爭奪，這兩個國家還因為下列哪一個地區的領土主權紛爭而產生戰事？ (A) 塔爾沙漠 (B) 喀什米爾 (C) 乞拉朋吉 (D) 加爾各答。

19.() 主張眾生平等、脫離生死輪迴的佛教文化發源自亞洲大陸並擴散到世界各地。請問目前盛行佛教的地區中，不包括下列何處？ (A) 印度 (B) 緬甸 (C) 泰國 (D) 越南。

20.() 印度半島冬季相對於其他同緯度地區較為溫暖。請問這和下列哪一個因素的關係最大？

- (A) 沿海地區暖流經過調節氣溫
- (B) 北側高大山脈阻擋寒冷氣團
- (C) 冬季海上季風吹拂氣候暖溼
- (D) 地形低窪封閉輻射冷卻較少。

21.() 婆羅洲島分屬印尼、汶萊與馬來西亞三國，附圖為其原始森林不同時期面積的變化。請問圖中原始森林的變化趨勢與下列該島何種變化趨勢最為相似？



(A) 油田開採的面積 (B) 都市聚落的範圍 (C) 熱帶作物的種植面積 (D) 野生動物的棲地範圍。

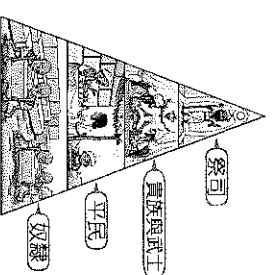
22.() 若想使用高空偵查氣球觀察東南亞地帶型態，由中國貴州出發向南飛越赤道，請問沿途回傳的影像依序為下列何者？ (A) 大陸→半島→群島 (B) 大陸→群島→半島 (C) 半島→群島→大陸 (D) 群島→半島→大陸

23.() 馬爾地夫近年來出現許多環境難民，有些人甚至被迫放棄家園到其他國家謀生，請問當地面臨哪種環境問題？

(A) 霾害嚴重，空氣污染重 (B) 全球暖化，海平面上升 (C) 工業廢水，污染農耕地 (D) 病毒感染，缺醫療量能。

24.() 由約 7000 個島嶼組成的菲律賓擁有豐富的自然資源和生物多樣性，其文化特色及人文景觀深受地理位置、經商貿易與歷史洪流影響，呈現多元豐富的面貌，請問菲律賓當地目前主要的宗教信仰為下列何者？ (A) 天主教 (B) 基督教 (C) 印度教 (D) 伊斯蘭教。

25.() 附圖是印度的種姓制度，請問關於此制度地敘述有哪些是正確的？甲. 為傳統佛教信仰所衍生的制度 乙. 社會階級、身份與職業均世襲 丙. 制度已廢除且不存在 當今社會 丁. 嚴重阻礙社會進步與人才流動 (A) 甲乙 (B) 甲丙 (C) 乙丁 (D) 丙丁




26.() 當土地使用超過環境負載力時，就會出現環境問題來對使用者提出警訊。請問哪一種氣候區的土地過度開發利用時，最可能出現土壤鹽鹼化的現象？

- (A) 寒帶氣候 (B) 溼潤氣候
- (C) 高地氣候 (D) 乾燥氣候

27. () 根據聯合國統計，印度約有 40% 的人口生活於貧窮之中，都市內交通擁擠、住宅品質低落，甚至出現規模龐大的貧民窟，衛生條件差疾病容易擴散，死亡率也高。請問導致此一現象的根本原因為下列何者？(A) 天災頻仍 (B) 工業汙染 (C) 種姓制度 (D) 人口過多。

86 附圖為日本近年來對於東協國家和中國的投資金額統計圖，請回答第 28~29 題：

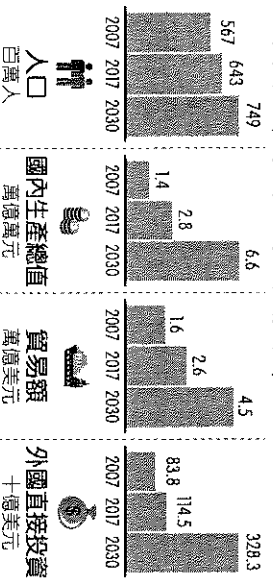


28. () 日本對兩者投資金額差距擴大與下列何者關係最為密切？(A) 東南亞近年天災頻繁 (B) 東協反日態度漸高漲 (C) 東協的生產成本較低 (D) 中國貿易市場漸萎縮

29. () 承上題，造成此現象與東協各國具備哪些發展條件關係最大？甲. 資金雄厚 乙. 文化接近 丙. 資源豐富 丁. 人口眾多 (A) 甲乙 (B) 甲丙 (C) 乙丙 (D) 丙丁。

88 東南亞國協為 10 個位於該地區國家所共同組成的經濟體，目前該組織已有近 7 億的人口，會員國合計的國內生產總值逼近 3 萬億美元，位列全球第六大經濟體。請回答第 30~31 題：

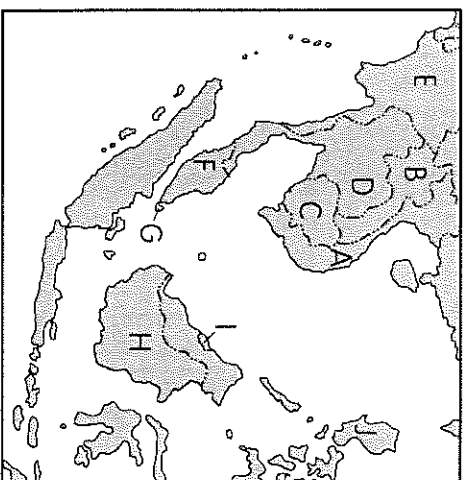
30. () 東南亞國協的發展深受全球經濟影響，請問附圖中的『外國直接投資』金額變化與下列何項因素的關係最大？



- (A) 高科技及半導體產業技術進步 (B) 廣大的市場與充足廉價的勞力 (C) 自由市場免關稅產生的競爭力 (D) 自然資源及礦產的大規模開採。

31. () 隨著經濟的發展，該區域組織的主要產業亦面臨升級轉型的挑戰。若以當地的特性判斷，其未來發展的趨勢轉以下列何者前景較佳？(A) 電子商務與服務 (B) 植棉與紡織加工 (C) 油礦開採與提煉 (D) 咖啡種植與烘焙。

86 東南亞為世界著名旅遊勝地，獨特的文化、明媚的風光加上平易近人的物價，吸引每年前往該地區的遊客高達數百萬人。請回答第 32~35 題：



32. () 東南亞人民對於宗教信仰大多相當虔誠，其中被稱為「微笑國度」的□國更是虔誠的佛教國家，當地的麥當勞叔叔甚至出現如上圖的姿勢來歡迎消費者。請問敘述中的□國是指哪一個國家？(A) 泰國 (B) 菲律賓 (C) 馬來西亞 (D) 印度尼西亞。

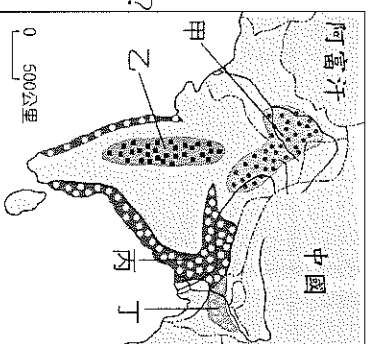
33. () ○國因地緣關係受中國文化影響最深，而在近代西方殖民的過程中，則讓當地有了法國的風情，因此該國可以說是呈現了東西文化交融的成果。請問敘述中的○國是指哪一個國家？(A) 越南 (B) 緬甸 (C) 柬埔寨 (D) 菲律賓。
34. () 近年來以石油和天然氣賺取大量外匯，指的是附圖中哪三個國家？(A) A、G、H (B) D、H、J (C) F、G、I (D) F、H、I。

35. () 附圖中 A、D、E 等國的精華區皆位於何處？(A) 山間的盆地 (B) 河口三角洲 (C) 山麓沖積扇 (D) 涼爽的山區。

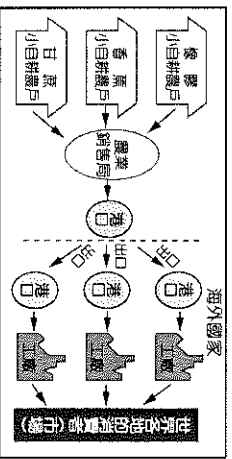
88 右圖為南亞農作物分布圖，請依作物適合生長的環境回答第 36~37 題：

36. () 棉花適合生長的環境為「土壤肥沃、夏雨秋乾」，請問圖中那個地區為棉花的主要產區？(A) 甲 (B) 乙 (C) 丙 (D) 丁

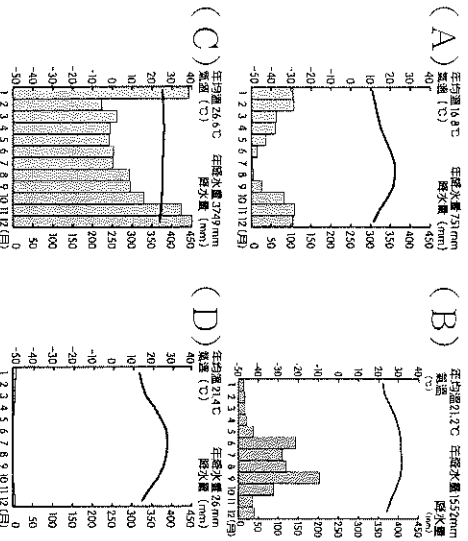
37. () 茶樹適合生長在潮濕多雨且排水良好的丘陵地。若依此條件，圖中的哪一地區最可能是著名地茶葉產區？(A) 甲 (B) 乙 (C) 丙 (D) 丁。



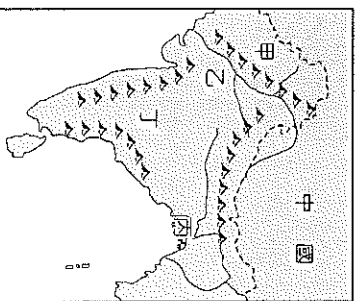
86 東南亞受昔日殖民歷史的影響，曾大範圍發展熱帶栽培業，請回答第 38～40 題：



38. () 附圖為東南亞進行熱帶栽培業生產的主要流程，請依圖中資料判斷，下列何者為該產業經營的特色？(A)需投入大量資金 (B)高度機械化生產 (C)大規模企業經營 (D)產品以外銷為主
39. () 熱帶栽培業的哪一項生產特徵，使得該產業需要面對的市場風險性較大？
(A)大範圍機械化 (B)生產單一作物 (C)殖民經濟背景 (D)商業性的導向
40. () 東南亞地區適合發展熱帶栽培業與其氣候適宜有很大關係，請問下列哪一種氣候類型最適合該產業活動的發展？

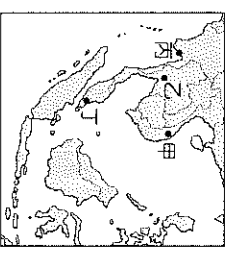


- 88 2016 年印度熱浪在首都新德里創下 45°C 高溫，造成千餘人死亡，部分地區甚至高達 50°C，路上的斑馬線因而「融化」，印度氣象局預估需等到雨季來臨時，風向出現明顯的變化，才能有效降溫解除熱浪。請回答第 41～43 題：
41. () 印度熱浪的高溫讓民眾苦不堪言，依當地氣候類型推估，通常要等到幾月高溫現象才開始逐漸舒緩？(A)2 月 (B)4 月 (C)6 月 (D)11 月。
42. () 印度氣象局預測需等到風向出現改變，才能有效降溫，這時出現的風向最可能為何？(A)東南風 (B)東北風 (C)西南風 (D)西北風。
43. () 印度半島在雨季來臨後，附圖中何處由於地勢低窪需提防洪水為患？
(A)甲 (B)乙 (C)丙 (D)丁

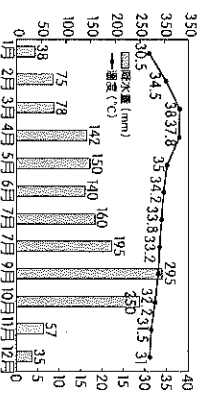


86 泰國曼谷的熱門景點在 2015 年 8 月發生恐怖攻擊，有 16 人喪生超過百人受傷。泰國警方隨後逮捕嫌疑犯，其為境內宗教極端主義恐怖組織的成員，發動襲擊是為了報復泰國政府將境內維吾爾族偷渡者遣送回中國。請回答第 44～46 題：

44. () 文中這起恐怖攻擊發生後，泰國社會輿論將矛頭指向宗教因素，並擔憂會因此激化當地哪兩個宗教信仰徒間的衝突？
(A)佛教、天主教 (B)佛教、印度教 (C)佛教、伊斯蘭教 (D)印度教、伊斯蘭教



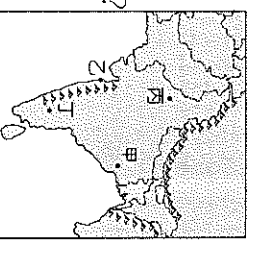
45. () 曼谷的外國觀光客相當多，為東南亞最受歡迎的度假勝地之一，請問其位於圖中何處？
(A)甲 (B)乙 (C)丙 (D)丁。



46. () 根據泰國氣候與降水量圖判斷，曼谷恐怖攻擊發生時正值雨季，請問造成當時降水的主要影響因素為何？(A)西南季風 (B)赤道低壓 (C)鋒面滯留 (D)熱帶氣旋。

88 近年來汽車市場的消費版圖出現劇烈變化，在中國躍升為全球最大汽車市場後，各汽車公司期待印度將會是下一個金礦。請回答第 47～50 題：

47. () 請問中國、印度汽車市場潛力大，被稱為中國龍、印度虎，其主要因素為何者？
(A)平均所得高 (B)進口零關稅 (C)汽油價格低 (D)人口數量多。



48. () 臺灣汽車業者前往印度高科技產業重心參觀，請問該城市應位於附圖中哪一地區？
(A)甲 (B)乙 (C)丙 (D)丁
49. () 印度科技產業發達，請問其成為全球主要軟體生產國的優勢為下列哪些？甲.教育著重數理能力 乙.社會平等開放 丙.與歐美時差互補 丁.大量廉價勞力 戊.英語為官方語言 己.高等教育普及 (A)甲乙丙丁 (B)甲丙丁戊 (C)乙丙丁己 (D)丙丁戊己

50. () 若利用海運由印度進口汽車到臺灣高雄港，需經過的海域不包括下列何者？
(A)南海 (B)太平洋 (C)印度洋 (D)麻六甲海峽。