

基隆市立武崙國民中學 111 學年度第二學期 七年級 歷史科 第一次段考 考試卷

\_\_\_\_\_年 \_\_\_\_\_班 座號：\_\_\_\_\_ 姓名：\_\_\_\_\_

一、單題 (每題 2 分，共 80 分)

- ( ) 附圖是某一文件的部分內容，此文件最可能是下列何者？  
(A) 清廷將領給日本的戰帖 (B) 日本給牡丹社原住民的公告  
(C) 日本給臺灣民主國的勸降書 (D) 臺灣民主國給日本總督的抗議
- ( ) 電視劇《閱讀時光 2》〈先生媽〉，有一段劇情是：「為響應政府政策，新發積極申請『國語家庭』資格，搬進日式住宅、改日本名……。然而，全盤日式化的生活方式讓先生媽非常不習慣，當全家換上和服拍照紀念時，只有先生媽不願配合，更氣得用剪刀把和服剪碎說『留著這樣的東西，要是死後你們給我穿上，我怎麼去見祖宗！』」請問：當時政府在推動什麼政策？  
(A) 殖民地特殊統治 (B) 皇民化運動 (C) 無方針策略 (D) 內地延長主義。
- ( ) 接續上題，日本推動此政策的目的是為何？ (A) 改變臺灣人的生活習慣 (B) 改變臺灣人的宗教信仰 (C) 強化臺灣人對日本的愛國心 (D) 使臺灣人也享有日本國民的權利和義務。
- ( ) 阿珍在圖書館看到一本描寫日治時期的書，內容敘述如下：「總督府規定每月的一、八、十五日，全校都要按時參拜當地神社，學童每日到校後要向天皇肖像行禮，每天朝會升日本國旗後必須遙拜日本皇宮，並遙拜神宮，不准學童講自己的母語，一律要用『國』(日)語交談。社會上也獎勵『國語』，還鼓勵改用日本姓名。」這段文字所敘述的情形是臺灣社會何時的情景？ (A) 1874 年日軍侵臺後 (B) 1894 年甲午戰爭後 (C) 1918 年第一次世界大戰後 (D) 1937 年中日戰爭爆發後。
- ( ) 阿晴說自從新政府來了以後，原本隨意行進的牛車行人全部都要靠左側通行，不能隨地吐痰亂丟垃圾。作風颯(颯)風來襲)的時候，「大人」還會領導組織救援隊，但是「大人」也監控著社會言論與思想。請問：阿晴的新政府指的是下列何者？ (A) 清政府 (B) 中華民國政府 (C) 臺灣總督府 (D) 中共政府。
- ( ) 從以下資料判斷，日本政府所制訂的法律為下列何者？  
第一條：臺灣總督在其管轄區域內，得制訂具有法律的效力之命令。  
……  
第五條：現行法律或將來應頒布之法律，如其全部或一部分有施行於臺灣之必要者，以敕令定之。

(A)《六三法》 (B)《大清律例》 (C)《中華民國憲法》 (D)《保甲條例》。

- ( ) 臺灣總督府為了獲取臺灣山林資源，但又受限於原住民不服管教，所以最後制定下列哪一項政策，試圖使原住民歸順臣服？ (A) 警察制度 (B) 五年理蕃計畫 (C) 皇民化運動 (D) 日臺合一政策
- ( ) 日本接收臺灣展開殖民統治初期，臺灣人民的抗日行動始終沒有間斷，其抗日型態的演變為何？ (A) 始終以武裝抗爭方式進行 (B) 從武裝抗日轉為政治、社會抗爭 (C) 從政治、社會運動抗爭，轉為假借宗教信仰進行抗爭 (D) 從政治、文化的抗爭轉為武裝抗日。
- ( ) 接續上題，抗日型態的演變，下列哪一事件是關鍵之役？ (A) 霧社事件 (B) 郭懷一事件 (C) 牡丹社事件 (D) 西來庵事件
- ( ) 霧社事件是臺灣武裝抗日史上非常著名的事件，其影響深遠。有關霧社事件的敘述，下列何者正確？ (A) 發起者為西拉雅族 (B) 因日本掠奪森林、樟腦資源而引發 (C) 在國際組織的介入下和平解決 (D) 事件後引發更大規模的武裝抗日行動。
- ( ) 田健治郎來臺灣上任臺灣總督時，曾說：「我姓田，百家姓裡面也有，所以我和臺灣人都是一家人，對於臺灣人的處境我非常了解、非常同情。」這位首任文官總督的說法，是由於當時日本在臺灣推動哪一項政策？ (A) 內地延長主義 (B) 武裝殖民 (C) 皇民化運動 (D) 無方針統治時期。
- ( ) 日本治臺時期，總督府得以瓦解可能存在的反抗勢力，且能確實掌握臺灣的戶口，奠定堅實的統治基礎，與下列何者「最」有關係？ (A) 六三法 (B) 日本軍隊 (C) 皇民化運動 (D) 警察與保甲制度
- ( ) 阿平是 1885 年出生於臺南府城的漢人，於 1944 年去世。請問：阿平 20 歲後，最可能參與下列哪一個在臺灣的組織？ (A) 林爽文會黨 (B) 保甲壯丁團 (C) 廈郊會館的商人 (D) 臺灣民主國的抗日義軍。
- ( ) 馬小謙是 1943 年生活在臺灣的青年，他可能會經歷下列哪一種的生活情況？ (A) 家門口懸掛國語家庭認證的牌子 (B) 加入臺灣民主國發起活動 (C) 被徵召為抗日國民革命軍 (D) 遵守內地「中國」的法制。
- ( ) 歷史老師要同學們以羅福星、余清芳、莫那魯道等人為對象寫一份報告。請問：老師要同學探討的是下列哪一個主題？ (A) 非武裝抗日的英雄 (B) 殖民統治下的悲歌 (C) 臺灣民主國的抗日 (D) 地方官紳的改革運動。

大清帝已割讓臺灣及澎湖群島，  
並派欽差大臣與本總督完成授受之  
節。故本總督乃是鎮臺北，安撫民  
眾，舉行統治。念得知悉臺灣南  
，外無援兵，孤軍抗，……您若  
能鑒察大清聖旨，應即停止  
抵抗，讓民眾免於戰火之苦。

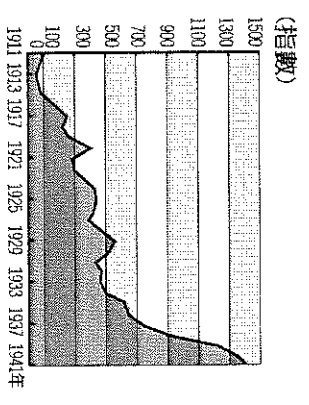
16. ( ) 民族自決思潮對於日本治臺政策有很大的影響。下列關於此一思潮的敘述，何者正確？ (A) 指各民族有權決定自身民族的事務 (B) 日本治臺改採武力鎮壓的方式 (C) 由美國總統羅斯福首先提倡 (D) 第二次世界大戰後開始風行全球。
17. ( ) 臺灣總督府在統治初期對高山原住民採防堵、安撫方針，後來政策轉趨強硬，積極推動「理蕃政策」，最主要的目的是下列何者？ (A) 教化原住民 (B) 獲得山林資源 (C) 獲得國際認同 (D) 增加皇民人數。

18. ( ) 臺灣第五任總督佐久間左馬太認為原住民政策應該以獲取利益為最高原則，故制定為期兩次的五年理蕃政策。請問：下列何者不是理蕃計畫推行的手段？ (A) 沒收槍械 (B) 鎮壓、驅離傳統領域 (C) 利用新式教育教化原住民 (D) 教導原住民種植蓬萊米。

19. ( ) 日治時期最大規模的抗日事件，根據右表中的說法，甲乙丙丁畫線處，有幾項是正確的？ (A) 四項 (B) 三項 (C) 二項 (D) 一項。

20. ( ) 日治時期，臺灣總督府之所以能夠建立堅實的統治基礎，與有效利用保甲組織有關。下列關於臺灣保甲組織的敘述，何者錯誤？ (A) 由日本國內引進 (B) 以輔佐警察為主 (C) 保甲內若有人犯法，同保甲的民眾也要連帶受到處罰 (D) 設有壯丁團組織。

21. ( ) 阿寶在做段考複習時，看到課本上有一張「臺灣輕工業生產指數圖」(如附圖)。請問：圖中在1930年代以後，生產指數大幅上升的原因為何？ (A) 日月潭發電所的完工 (B) 基隆到高雄鐵路完工通車 (C) 蓬萊米新稻種的培植成功 (D) 日本政府推行皇民化運動。

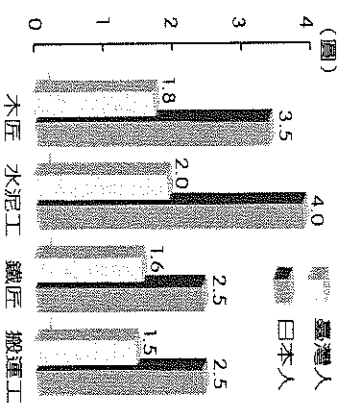


22. ( ) 他是臺灣總督府的技師，他倡議以「半水成填充式」的工程法建造烏山頭水庫的壩，設計及建造工作，他倡議以「半水成填充式」的工程法建造烏山頭水庫的壩，並提倡「三年輪作制」以改良嘉南平原，都順利成功，贏得當時人們的肯定與讚賞。請問：上文中的「他」是指何人？ (A) 後藤新平 (B) 磯永吉 (C) 八田與一 (D) 兒玉源太郎。

23. ( ) 老師請同學討論，「1935年時臺灣地區電力總產能是1931年的3倍，產量也增加一倍。」以下是要四位同學的看法，請問：何者的看法最符合史實？ (A) 陳同學：總督府為了發展農業與運輸而需要電力 (B) 張同學：當時的總督府為了要發展鐵路電氣化，所以需要大量用電 (C) 王同學：總督府為了推廣閱讀，普遍裝設電燈，用電量因此大增 (D) 李同學：總督府判斷現有設施不足以應付工業成長，故新建電廠因應。

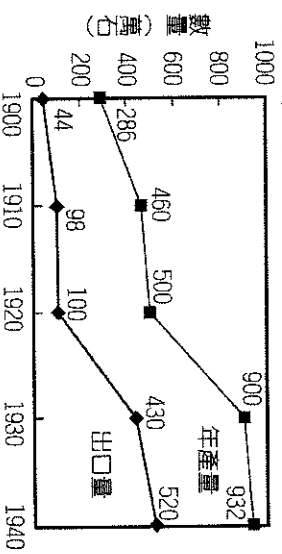
24. ( ) 總督府確立「農業臺灣、工業日本」的基本經濟政策，將臺灣當作熱帶經濟作物和糧食的生產地，積極展開在臺的綠色革命，制訂與農業有關的各項法規，設立農業研究機構，促進農業發展。以下對此時的發展何者錯誤？ (A) 發展農業以配合日本國內需求 (B) 磯永吉博士研發出蓬萊米 (C) 主要作物以種植茶葉為主 (D) 後來因日本戰事擴大而改變對台經濟策略。

25. ( ) 附圖是1927年上半年臺北市，臺、日人每天工資比較表，從表中的數據看來，可知下列何事？



- (A) 工業日本，農業臺灣 (B) 工業臺灣，農業南洋 (C) 臺灣人在就業上多以勞工階級為主 (D) 臺灣人在就業上受到不平等待遇。

26. ( ) 附圖為臺灣稻米年產量及出口數量圖。圖中稻米的年產量與出口量的大增，可能與下列哪一項政策有關？



- (A) 公地放領，農地重畫 (B) 南進政策，工農並重 (C) 農業臺灣，工業日本 (D) 農地農有，農耕農享。

27. ( ) 臺灣有許多地名與甘蔗製糖的舊式製糖廠「糖廍」有關，如「廍仔」、「廍後仔」……等。由臺灣甘蔗分布的地理環境來推論，下列哪一地區會出現最多這類的地名？ (A) 臺北盆地 (B) 桃園臺地 (C) 宜蘭平原 (D) 嘉南平原。

28. ( ) 臺灣蔗糖一直以來是重要輸出產品，日本統治臺灣後，更使臺灣成為世界的糖業王國之一。請問：下列何者不是總督府所提倡的？ (A) 成立製糖會社 (B) 日本資金投入 (C) 利用牛隻與石磨壓榨甘蔗 (D) 設立新式糖廠。

西元1915年(甲)羅福星，利用(乙)宗教信仰，在(丙)西來庵(今高雄市)策畫抗日活動，攻打(丁)噍吧嘓，故又稱為「噍吧嘓事件」，是日治時期最大規模的抗日事件。



## 二、題組 (每格 2 分, 共 20 分)

◎「1895 年是決定臺灣命運的一年。4 月分的臺灣，春天降臨，然而卻充滿了惶恐與不安，因為對岸的祖國，在戰敗後，已將臺灣拋棄。面對新來的主人及臺灣未卜的將來，臺灣巡撫在府衙中一籌莫展。」丘逢甲率領臺北士紳一百多人，以鼓號樂隊為前導，浩浩蕩蕩地恭送「臺灣民主國」的總統印章與國旗到巡撫衙門。臺灣巡撫接了總統官印、升上了國旗，眾人忍不住哭泣起來，「臺灣民主國」的成立典禮，就在悲慘的氣氛中結束

41. ( ) 丘逢甲等之所以有此舉動，是由於清帝國在哪一戰役中戰敗而割讓臺灣之故？ (A) 英法聯軍之役 (B) 清法戰爭 (C) 八國聯軍 (D) 甲午戰爭。
42. ( ) 丘逢甲等打算將「臺灣民主國」的總統印章獻給何人？ (A) 沈葆楨 (B) 劉銘傳 (C) 唐景崧 (D) 余光芳
43. ( ) 文中所指的「國旗」是下列哪一種樣式？ (A) 五色旗 (B) 藍地黃虎旗 (C) 五星旗 (D) 青天白日滿地紅旗。

◎附圖是日本治臺分期大事記。圖中可看出從 1895 年日本接收臺灣以後，日本對臺灣的統治方針因為臺灣抗日方式或國際間環境的影響，可以分為三個階段，從殖民地特殊統治時期到內地延長主義時期，再到皇民化運動時期。請問：

西元	大事
1895 年	臺灣割日 臺灣民主國成立
1896 年	日本發布六三三法
1914 年	第一次世界大戰爆發
1915 年	西來虐事件
1918 年	第一次世界大戰結束
1919 年	第一次世界大戰結束
1930 年	霧社事件
1937 年	淞滬事變 (乙)
1945 年	日本戰敗投降

44. ( ) 附圖中的「甲、乙」為影響日本統治臺灣方針改變的重要因素。請問：「甲、乙」分別為何者？(A) 民族自決風潮，中日戰爭 (B) 甲午戰爭，民族自決風潮 (C) 日俄戰爭，民族自決風潮 (D) 甲午戰爭，中日戰爭。
45. ( ) 內地延長主義時期，「內地」是哪何處？ (A) 中國大陸 (B) 台灣 (C) 後藤南洋 (D) 日本。
46. ( ) 「臺灣總督一方面以武力鎮壓各地的武裝抗日行動，一方面尊重臺灣人民的風俗習慣與社會組織，以拉攏臺灣人民，消除反抗。」以上敘述屬於哪一階段的日本治臺政策？ (A) 明治維新時期 (B) 殖民地特殊統治時期 (C) 皇民化運動時期 (D) 內地延長主義時期。
47. ( ) 請依照順序排列：從殖民地特殊統治時期到內地延長主義時期，再到皇民化運動時期，總督的性質？ (A) 武官→文官 (B) 武官→武官 (C) 文官→武官 (D) 武官→武官→文官

◎請閱讀下面文章，回答題目：

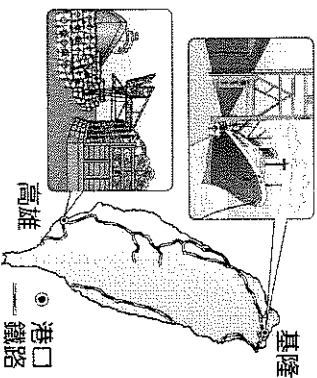
臺灣是日本第一個殖民地，前三任臺灣總督皆採取高壓治理方式，始終無法肅清臺灣的抗日勢力，加上衛生欠佳、疫病肆虐等問題，日本國會甚至出現「出售臺灣」的提議。兒玉源太郎(1898~1906 年在任)自告奮勇願意治理臺灣，因此被任命為臺灣總督；但兒玉源太郎還兼任其他重要官職，便命令☆(1898~1906 年在任)以民政局長的身分處理臺灣政務，☆成為「實質上」的臺灣總督。對於如何治理被視為燙手山芋的臺灣，醫生出身的☆認為必須像治病一般採取「生物學原則」——先了解臺灣人的習性，再訂出一套管理辦法。☆依據此原則對臺灣展開調查、訂定治臺政策，不久便使臺灣由日本的「負債」逆轉為「資產」。後人對☆褒貶不一，有人認為他對臺灣步入現代化功不可沒，他任內推動交通建設、衛生醫療、產業等現代化建設，奠定日後臺灣發展基礎、也提高人民的生活水準。也有人稱他是個高壓獨裁者，例如：他發布的「匪徒刑罰令」是以極為嚴厲的手段鎮壓武裝抗日；他實施■漸禁與專賣，則為了充實總督府財源。推動的現代化建設，批評者認為是以日本的利益為目的，而不是以臺灣人民的福祉為考量。

48. ( ) 文章中☆，是指何人？ (A) 工藤新一 (B) 工藤新平 (C) 後藤新一 (D) 後藤新平。
49. ( ) 文章中■，是指哪一項專賣？ (A) 鴉片 (B) 樟腦 (C) 食鹽 (D) 蔗糖。
50. ( ) 請問：總督府採取了哪些措施，直接造成財政收入提高，減少日本的經濟負擔？ (甲)、廣設郵電通訊 (乙)、成立專賣局 (丙)、土地與林野調查鴉片 (丁)、進行人口普查 (A) 甲乙丙 (B) 甲丁 (C) 乙丙 (D) 乙丁。

《作答結束，請在細心檢查》




29. ( ) 附圖描繪臺灣某時期官方的交通建設，根據內容判斷，該時期最可能是下列何者？



- (A) 荷蘭統治時期 (B) 鄭氏統治時期 (C) 清帝國統治時期 (D) 日本統治時期。
30. ( ) 日本統治臺灣初期，採取「農業臺灣，工業日本」的政策，但是到1930年代起，轉變為「農業南洋，工業臺灣」的發展策略。造成這種轉變的主要原因是什麼？ (A) 六三法的擴大實施 (B) 臺灣農業升級的衝擊 (C) 南洋的勞工工資低廉 (D) 配合日本的南進政策。
31. ( ) 日治時期，臺灣的許多基礎建設與總督府的調查活動息息相關，其中為了配合林野調查與開發山林資源而興築下列何者？ (A) 縱貫鐵路 (B) 嘉南大圳 (C) 日月潭發電所 (D) 阿里山森林鐵道。
32. ( ) 臺灣的紡織、食品等工業有顯著的成長，主要導因於日治時期哪一政策的影响？ (A) 工業臺灣，農業日本 (B) 工業日本，農業臺灣 (C) 皇民化運動 (D) 南進政策。
33. ( ) 日本殖民統治時期，為了利用臺灣的資源，日人在臺的基礎建設有哪些？(甲)林野調查；(乙)整建港口；(丙)發行貨幣；(丁)完成環島鐵路；(戊)普遍設立郵政 (A) 甲乙丙丁 (B) 乙丙丁戊 (C) 甲乙丙戊 (D) 甲丙丁戊。
34. ( )

資料一：臺灣鄉間的諺語：第一憨，種甘蔗予會社磅（稱重量）。  
 資料二：1905年6月臺灣總督府規定：為制止各製糖工廠間的原料爭奪，避免擾亂蔗價，各蔗作區畫定一定範圍的區域。此區域內的甘蔗未經許可，不得運出區域之外，或供作砂糖以外成品的製作原料。

- 根據以上資料，下列敘述何者適當？ (A) 保障臺灣蔗農，使蔗農有固定買主與穩定的銷路 (B) 保障新式糖廠，使其降低收購甘蔗原料的價格 (C) 政府照顧臺人生活，引進製糖業，糖從此成為重要輸出物資 (D) 使臺灣舊糖廠在政府補助下轉型為新式糖廠，奠定工業的基礎。
35. ( ) 小美參觀「臺灣日治時期的照片特展」。請問：下列哪一張照片不應該出現在這次特展中？  
 (A) 從臺北郵政局發出的電報內容 (B) 一批批的稻米和蔗糖在碼頭邊等著上船裝運 (C) 日月潭發電工程完工，有助臺灣工業發展 (D) 舉行基隆到臺北段的鐵路通車典禮。
36. ( ) 臺灣經歷日本的統治，奠定日後發展的基礎。請問：下列何項不是日本在臺灣的重要建設？ (A) 統一發行貨幣 (B) 修築公路 (C) 興建南迴鐵路 (D) 調查人口與土地
37. ( ) 日本以南洋為侵略目標，是因為要獲得下列哪些資源？ (A) 石油、橡膠 (B) 茶葉、樟腦 (C) 軍火、鹿皮 (D) 稻米、甘蔗。
38. ( ) 每到過年，不少人都會到銀行換新鈔，討吉利和發紅包。請問：臺灣第一個現代化的金融機構是下列哪間銀行？ (A) 玉山銀行 (B) 中央銀行 (C) 第一銀行 (D) 臺灣銀行。
39. ( ) 下圖是1924年，日本國內及其統治的朝鮮、臺灣，每名警察的管轄人數。從圖中可以判斷出哪一現象？  
 (A) 台灣實施嚴格的警察專制 (B) 臺灣的警察比例較其他兩地低  
 (C) 日本國內警察的權力非常大 (D) 朝鮮抗日的狀況比台灣低。



40. ( ) 附表為日治時期臺灣各行業生產值比率表。請問：臺灣農業生產值比率下降的原因何在？

年度 \ 項目	農業	礦業	漁林業	工業
1915~1919	55.0	2.8	3.4	38.8
1920~1924	50.3	2.9	5.6	41.2
1925~1929	52.5	3.0	5.7	38.8
1930~1934	48.7	3.0	5.0	43.3
1935~1939	48.0	4.4	4.6	43.0
1940~1942	41.5	4.5	6.6	47.4

(單位：%)

(A) 進行工業化

(B) 日本政府忽視農業發展

(C) 地力枯竭，限制農業發展

(D) 農民反抗運動頻繁，不利農業發展。

★請翻到下一頁，繼續作答