

基隆市立武崙國民中學 111 學年度第二學期第一次段考七年級地理科試題卷

注意事項：

1. 本份試卷為單選題，共 45 題，1~5 題，每題 3 分；6~40 題，每題 2 分；41~45 題，每題 3 分。總分 100 分。
2. 答案卡限用 2B 鉛筆畫記，若畫記錯誤，請擦拭乾淨。分數以電腦讀卡分數為準。
3. 答案卡上的資料欄請確實填寫，若資料欄畫記錯誤導致電腦無法正確判讀，打總分 10 分。

班級：七年_____ 班座號：_____ 姓名：_____

- () 1. 下表是四個地區的人口資料，請問：哪兩個地區是人口移入區？(A)甲乙 (B)甲丙 (C)乙丙 (D)乙丁。

地區	出生率(‰)	死亡率(‰)	人口成長率(‰)
甲	3	19	15
乙	12	12	5
丙	16	9	7
丁	48	23	24

- () 2. 附表是部分國家 2010 年的人口資料。觀察表中最下方一系列的數據，甲國明顯大於其他國家，推論其原因，下列何者最合理？(A)人口總數較為龐大 (B)移入率大於移出率 (C)施行獎勵生育政策 (D)醫療條件較為優越。

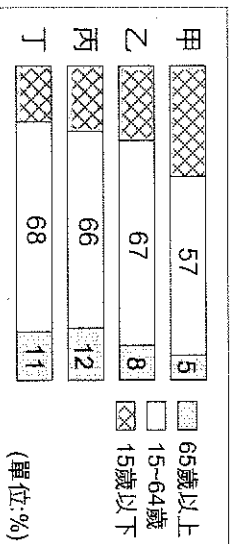
項目	甲	乙	丙	丁
出生率(‰)	12.2	13.8	17.3	29.4
死亡率(‰)	6.9	8.4	6.0	4.9
人口成長增加率(‰)	5	8	11	24
增加人口數(千人)	6,650	2,474	985	712

- () 3. 影響臺灣人口集中於西半部的因素，不包括下列哪一項？(A)地形 (B)氣候 (C)經濟開發 (D)開發歷史。

- () 4. 某地區的戶政事務所今年度的人口調查相關資料如附表所示，其中某項資料因為辦事人員的疏忽而忘記填寫。請問：空格中所應填寫的數字為何？(A)200 人 (B)220 人 (C)2200 人 (D)400 人。

項目	數據
年中人口	100,000 人
出生人口	?
死亡人口	200 人
自然增加率	2‰

- () 5. 附圖為甲、乙、丙、丁四國人口年齡結構圖。下列相關敘述，何者錯誤？(A)人力資源最充沛的是丁國 (B)扶養負擔最重的是甲國 (C)乙國已進入高齡化社會 (D)四國的人口總數一樣多。



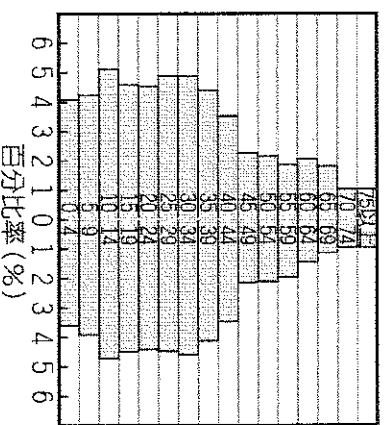
- () 根據世界衛生組織定義，65 歲以上老年人口占總人口比率達到 7% 時稱為「高齡化社會」，達到 14% 是「高齡社會」，若達 20% 則稱為「超高齡社會」。

- () 6. 炭治郎在地理課中學到某項人口數據的計算公式：(該年出生人數－該年死亡人數)／該年人口總數×1000‰。根據資料判斷，這是下列哪一種人口數據的計算公式？(A)出生率 (B)死亡率 (C)人口增加率 (D)自然增加率。

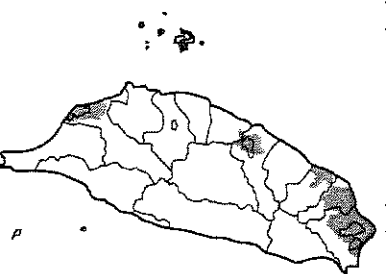
- () 7. 補豆子想要計算她所居住鄉鎮的人口密度，現在她已經蒐集到當地的人口數量。請問：她還欠缺哪項資料？(A)鄉鎮土地面積 (B)人口年齡結構 (C)人口性別比例 (D)人口自然增加率。

- () 8. 下列哪一種年齡層的分佈狀況，人力資源最為充裕有活力，社會經濟得以繁榮發展？
 (A)壯年人口 > 幼年人口 > 老年人口
 (B)老年人口 > 幼年人口 > 壯年人口
 (C)幼年人口 > 老年人口 > 壯年人口
 (D)壯年人口 = 老年人口 = 幼年人口。

- () 9. 附圖是臺灣地區某年的人口金字塔圖，由圖判斷，下列何項訊息最正確？(A)幼年人口性別比小於 100 (B)以壯年人口所占比例最高 (C)出生率高達 30‰ 以上 (D)該年自然增加率約為 10‰。



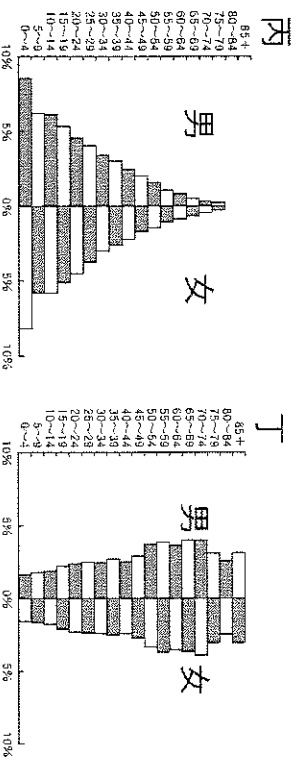
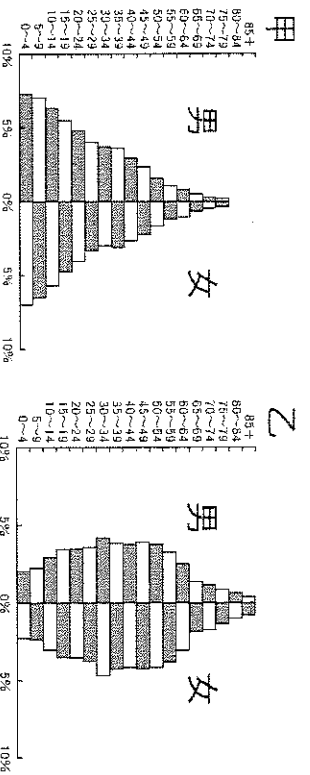
- () 10. 附圖灰色部分為某電信業者手機通訊服務範圍，該範圍的分佈與下列何者關係最密切？
 (A)人口密度 (B)地勢高低 (C)距海遠近 (D)縣市分界。



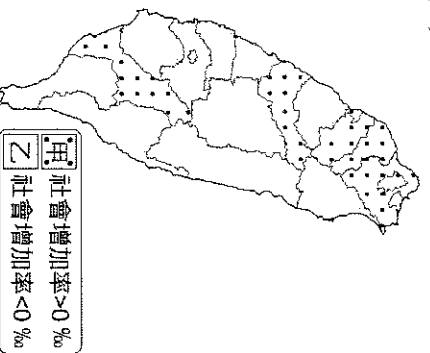
- () 11. 某汽車大廠評估在臺灣設廠是否具備充足的勞力資源。請問：他應該參考下列哪項資料最為合適？(A)人口密度 (B)人口分佈 (C)人口結構 (D)性別比例。

- () 12. 下列哪一個族群主要來自中國南方沿海的閩南及客家人？(A)日本人 (B)漢人 (C)原住民族 (D)新住民。

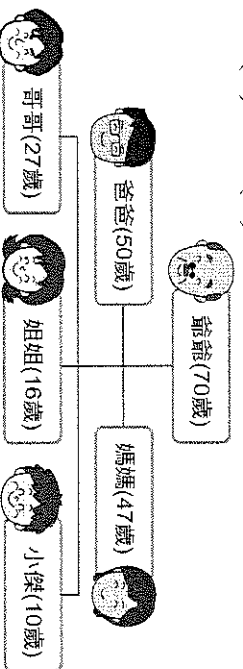
- () 13. 附圖為某國四個時期的人口金字塔圖，依照人口變化的趨勢判斷，請問其先後順序為何？
(A)甲乙丙丁 (B)丙甲乙丁 (C)甲丙丁乙 (D)乙甲丁丙。



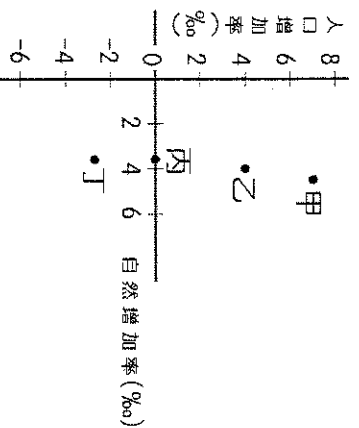
- () 14. 附圖為某年臺灣本島各縣市社會增加率類型的分布，依圖中資訊判斷，下列何者正確？
(A)新北市的人口密度最小 (B)南投縣生活環境佳，移入率高於移出率 (C)高雄市工作機會多，社會增加率為正值 (D)嘉義縣的人口老化嚴重，出生率較低迷。



- () 15. 附表為小傑家目前的人口組成狀況。小傑家有多少人屬於「壯年人口」？ (A)2人 (B)3人 (C)4人 (D)5人。

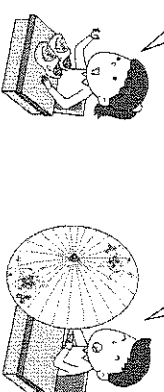


- () 16. 附圖為四個地區的人口增加率及自然增加率圖。圖中四個區域何者「拉力」相對較強？
(A)甲 (B)乙 (C)丙 (D)丁。



- () 17. 從一地的人口金字塔圖，可以大略推估下列哪些數據？(甲)死亡率(乙)全國人口總數(丙)扶養比(丁)壯年人口比例(戊)性別比


- (A)甲乙丙 (B)乙丙丁 (C)甲丙戊 (D)丙丁戊。
- () 18. 地理老師在課堂中，邀請同學展現來自不同地區文化的特色。請問：同學所展現的地區文化，若依來臺的時間先後判斷，下列何者可能最晚？ (A) 荷蘭木鞋工藝 (B) 客家油條製造



- (C) 越南草蓆提袋 (D) 日本祈福娃娃

- () 19. 伊之助今年參加多個「文化體驗營」，附圖是他所做的活動紀錄。請問：他依序參加了臺灣哪些族群的文化活動？

- (A)新住民、漢人、原住民、漢人
(B)原住民、漢人、原住民、新住民
(C)原住民、漢人、原住民、漢人
(D)新住民、新住民、新住民、漢人。



- () 20. 有關一國的人口特性中，下列哪一項指標較無法區分該國的發展進步或落後？ (A)人口年齡的分布 (B)平均壽命的長短 (C)人口自然增加率的變化 (D)人口密度的高低。

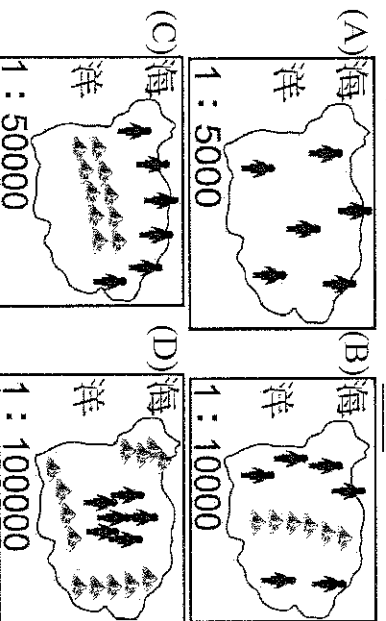
- () 21. 人口中位數年齡的定義為「全體人口年齡排序的中間值」，各國的數值不同，反映出該國的人口結構特色。如甲國家的中位數年齡為 47 歲，而乙國家的中位數年齡卻僅為 20 歲。請問：下列有關敘述中，何者最為正確？ (A)甲國家人口數較多 (B)乙國家性別比高於 100 (C)甲國家移入人口較高 (D)乙國家死亡率較高。

- () 22. 附圖表示人口遷移型態依時、空差異的歸類，圖中甲~丁分別應填上何者最為正確？
(A)甲：國際 (B)乙：暫時 (C)丙：國內 (D)丁：永久。

空間	甲遷移	乙遷移
時間	苗栗縣的居民到臺北市求學。	美國高中生來到臺灣做交換學生。
丙遷移	澎湖縣的居民因結婚移居臺中市。	臺灣居民取得加拿大國籍，全家移民到加拿大。
丁遷移		

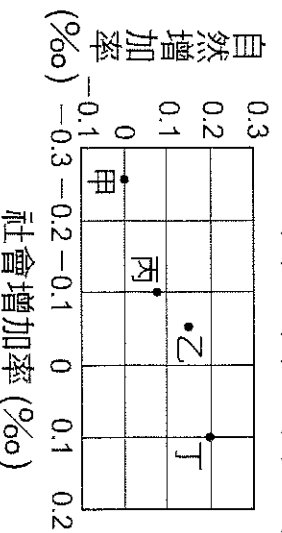
- () 23. 語言使用代表當地的日常生活，由於臺灣的地理位置影響，各族群在此交會，也形成獨特的用語。請問：常見的甜不辣、便當等用詞，主要融入哪一個族群的語言？(A)西班牙人 (B)荷蘭人 (C)葡萄牙人 (D)日本人。

- () 24. 附圖為某四個國家的人口分布情況。依附圖所示，哪個國家的人口密度最低？(▲代表 10,000 人)



- () 25. 蛙蛙國某年總人口有兩億人，該年幼年人口占總人口 25%、壯年人口占 68%、老年人口占 7%。請問：該年該國的人口扶養比應為多少？(A)10% (B)32% (C)36% (D)47%。

- () 26. 附圖中為甲、乙、丙、丁四個地區的人口自然增加率與社會增加率。圖中哪個地區的人口增加率最低？(A)甲 (B)乙 (C)丙 (D)丁。



- () 27. 為闡揚臺灣多元文化特色，中華郵政公司發行「臺灣教堂郵票」，其中座落於臺東太麻里的「金崙聖若瑟堂」，是間融合當地文化特色的天主教堂，不僅教堂大門上掛著代表項目的頭飾，四周的彩色玻璃也有該族群的風格畫作。請問：該座教堂主要融入了下列哪一個族群的文化特色？(A)新住民 (B)原住民族 (C)閩南人 (D)客家人。

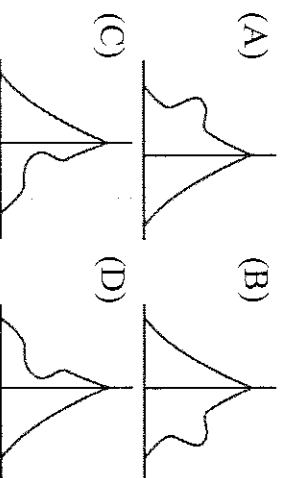
- () 28. 臺灣境內人口分布不均，其中以哪一種地形區的人口密度最低？(A)盆地 (B)丘陵 (C)台地 (D)山地。

- () 29. 人口統計資料，如出生、死亡、移入、移出等，皆以戶籍登記所在地為依據。2001 年至 2008 年 6 月期間，只有在金馬地區設籍六個月以上的人民，才可依小三通模式來往兩岸。金馬地區於 2001 年時，最可能因上述政策而明顯呈現下列哪一種人口數據變化？(A)人口密度下降 (B)社會增加率增加 (C)自然增加率增加 (D)新住民人數減少。

【小三通是海峽兩岸實施的小型三通模式，自 2001 年 1 月 2 日起開始實施，目標是於中華人民共和國福建省與中華民國金門縣、連江縣之間進行小規模的通商、通航和通郵。

- () 30. Matzka 來自於臺東的排灣族，其擅長的雷鬼音樂風格融合了原住民族的音樂，在第 22 屆的金曲典禮中獲獎，廣受聽眾喜愛。請問：這些原住民族的語系屬於下列哪一個語族，雖不同族別的語言卻有部分的相通性？(A)日耳曼語系 (B)南島語系 (C)拉丁語系 (D)斯拉夫語系。

- () 31. 臺灣在清朝統治初期受到「渡臺禁令」政策的影響，人口結構有失衡的現象。請問：當時臺灣的人口金字塔圖形，最接近下列哪一幅示意圖？



- () 32. 附表三個縣市為政府統計出臺灣老年人口最多的地區。請問：這些地區通常具備何種人口特色？(A)人口出生率高 (B)人口密度偏高 (C)環境汙染嚴重 (D)大量人口移出。

縣市	嘉義縣	雲林縣	南投縣
老年人口比率(%)	18.30	17.40	16.35

- () 33. 日本平價服飾店欲到臺灣開設分店以擴展市場，該公司蒐集了臺灣相關資料如附圖所示。請問：該公司第一家分店設在臺灣何處的商機最大？(A)東部 (B)北部 (C)西部 (D)南部。



- () 34. 東南亞飲食如泰國料理，喜歡加上酸辣調味，增加食慾。請問：這與下列何種因素相關？(A)地形崎嶇 (B)湖泊眾多 (C)氣候溼熱 (D)宗教信仰。

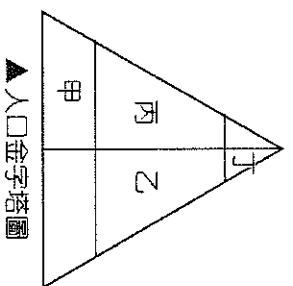
- () 35. 某國家的出生率在近幾年大幅降低，造成幼年人口比例過少，形成人口結構的變化。請問：該國社會在 20 年後最可能出現什麼問題？

- (A)醫療資源分布不均 (B)勞動人口負擔加重 (C)就業機會逐漸不足 (D)升學就業競爭加劇。
- () 36. 家豪路查臺北迪化街時，看到許多不同的建築形式，下列哪一建築是為因應臺灣夏季多雨而提供避雨功能的建築？(A)騎樓 (B)石板屋 (C)洋樓 (D)土樓。

【試題尚未結束，請翻面繼續作答！】

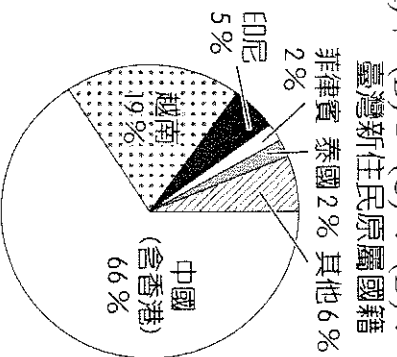
※我國近年來人口成長呈現停滯，部分縣市更因為區域發展的因素，出現衰退的現象，影響人口結構及組成。如南投縣目前人口已跌破50萬，但其中新住民人口卻占了1.1萬人，平均每百位居民便有2.2位是新住民，若再加上其家庭成員，人數更是可觀，也為當地的文化景觀注入新元素。請問：

- () 37. 早年多以「中國新娘」、「越南新娘」來稱呼這些遠渡重洋來臺結婚的女性外籍人士，後來改以「新住民」稱呼他們。請問：這些新住民主要影響附圖中的哪一個部分的人口組成？
 (A)甲 (B)乙 (C)丙 (D)丁。

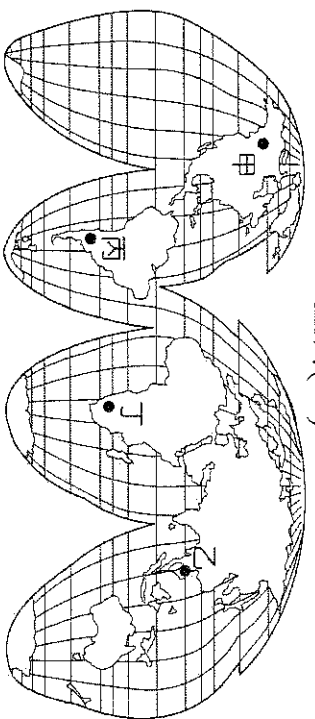


▲人口金字塔圖

- () 38. 根據移民署於2019年的統計報告顯示，目前全臺新住民人口有55萬人，已較整個南投縣的人口數多，其原屬國籍比例大致如圖(一)所示。請問：除了中國外，他們大多來自於圖(二)中何處？
 (A)甲 (B)乙 (C)丙 (D)丁。

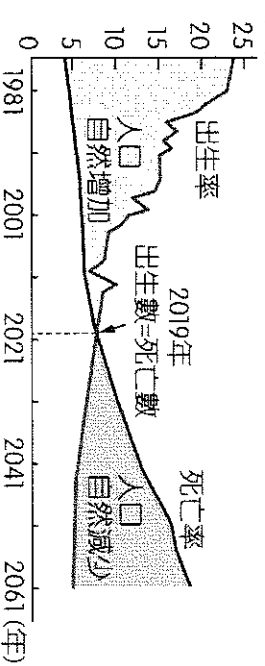


▲圖(一)



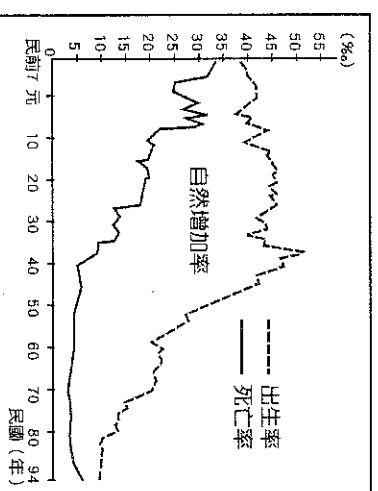
▲圖(二)

※臺灣的人口自然增加率變化如附圖所示，2020年臺灣的死亡人數將近18.1萬人，到2022年進入人口負成長。預計2027年人口紅利將消失，對於臺灣的整體競爭力將造成重大影響。請問：



- () 39. 請依附圖中的臺灣人口變化加以判斷，2021年全臺出生的新生兒人數最可能為下列何者？
 (A)19.3萬人 (B)17.8萬人 (C)25.9萬人 (D)8.2萬人。

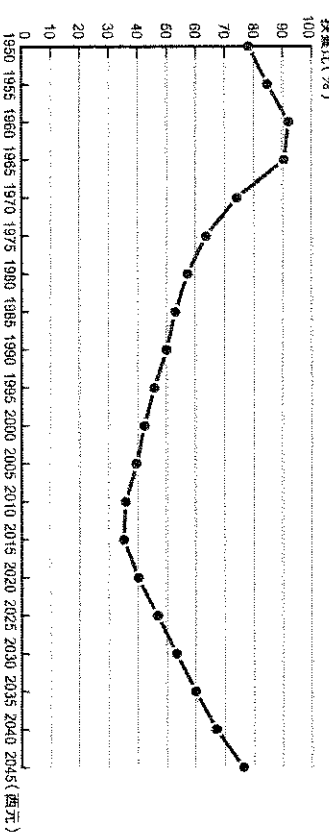
- () 40. 附圖中2019年出現死亡率等於出生率的現象，然而人口負成長卻延至三年後，於2022年才發生。請問：最可能的原因為下列何者？
 (A)金馬外島等地出生率高 (B)政府積極推動提高出生率政策 (C)引進大量東南亞外籍移工 (D)新住民的數量增加。



※附圖為臺灣出生率與死亡率變化圖。請問：

- () 41. 由圖判斷，民國10年以前，自然增加率低，人口成長緩慢的原因為何？
 (A)高出生率、高死亡率 (B)高出生率、低死亡率 (C)低出生率、高死亡率 (D)低出生率、低死亡率。
- () 42. 若不考慮社會增加，依此變化的趨勢進行推論，民國40~94年間，臺灣的人口總數變化情形為何？
 (A)先增後減 (B)先減後增 (C)逐年增加 (D)逐年減少。

※附圖是臺灣1950~2045年的扶養比趨勢統計圖，請依據附圖回答下列問題：



▲臺灣1950~2045年的扶養比趨勢統計圖

- () 43. 1950~1960年的扶養比呈上升趨勢，是因為什麼年段的人口快速增加？
 (A)幼年人口 (B)壯年人口 (C)老年人口
- () 44. 2015年後的扶養比又開始呈上升趨勢，是因為什麼年段的人口快速增加？
 (A)幼年人口 (B)壯年人口 (C)老年人口
- () 45. 人口紅利一旦地某一個時期內出生率下降，且老年人口未達高比例，形成勞動力資源相對豐富、扶養負擔相對較輕，有利於國家經濟發展的黃金時期。通常扶養比小於50%，即為人口紅利時期，請問：哪個年段為臺灣的人口紅利時期？
 (A)1950~1970年 (B)1970~1990年 (C)1990~2025年 (D)2025~2045年。

【試題到此結束，請再檢查一次！】