

基隆市立武崙國中 111 學年度第一學期 第三次段考 九年級社會科試卷——歷史科

電腦讀卡，請使用 2B 鉛筆，並依據題號在答案卡上作答，答案卡無法判斷身分者，扣總分 10 分

範圍：第五冊 4-2-6-2 本試卷共 40 題 共 6 面 每題 2.5 分 班級：_____ 座號：_____ 姓名：_____

單選題

1. 某位神學家曾說道：「我完全不同意某些人的觀點，他們反對將神聖的《聖經》翻譯成地方語言，排斥讓沒有學問的人也能閱讀。……我希望：哪怕是最軟弱的婦女，也應該讀《福音書》。」請問，這位神學家的理論應該與下列何者最為一致？ (A)羅耀拉 (B)利瑪竇 (C)喀爾文 (D)馬丁路德
2. 「大航海時代後，甲國和乙國在海外殖民地的爭奪上衝突不斷，最終在 1493、1494 年，雙方決定在羅馬教宗的見證下，以一條通過中南美洲領土的經緯線為界，將世界畫分兩部分，以西屬甲國，以東歸乙國。當時甲國認為到印度最近的路是往西走，而乙國則依法取得繞過非洲至亞洲的航路。」關於上述資料的判讀，下列敘述何者正確？ (A)甲國是西班牙，曾派麥哲倫繞過美洲至亞洲 (B)乙國是葡萄牙，曾派哥倫布繞過非洲南端至印度 (C)乙國曾以巴達維亞為擴展亞洲貿易的重要據點 (D)甲乙兩國均信奉路德教派

3. 1 月 26 日是澳洲的國慶日，為首批英國人移居澳洲的日子。近年來，澳洲的國慶日往往出現抗議的集會遊行，希望更改國慶日的日期。請問：此抗議聲浪的出現，主要是因為不認同下列何事？ (A)澳洲自英國獨立 (B)澳洲原住民起事 (C)澳洲開發金礦吸引投資 (D)將殖民起始日訂為國慶日

4. 17 世紀，印度君主寫給某一方國王的一封信中提到：「向□□王室致敬，我向所有我統治的區域和海港下令接受任何□□商人作為我的朋友，他們可以在任何它們願意的地方居住，享受無限制的自由。」根據上文，此封信有可能是出自以下哪一帝國君主之手呢？ (A)馬雅 (B)阿利安 (C)蒙兀兒 (D)馬其頓

5. 承上題，當時印度君主最有可能是回信給哪一國的國王呢？ (A)荷蘭 (B)英國 (C)西班牙 (D)葡萄牙

6. 20 世紀的英國理論物理學者史蒂芬·霍金說：「自然科學的誕生要歸功於伽利略。」請問：為何霍金給予伽利略這麼高的評價？ (A)促成歐洲成立科學研究機構 (B)提出天文學新觀點 (C)提出三大運動定律 (D)提倡歸納法

7. 「但是當我把所有的思想都視為虛假的時候，我又立刻發覺，這個產生這種思想的『我』也是絕對重要的，因此才注意到『我思故我在』的真理是如此的穩固，如此的確定。所以，我決定毫不猶豫地接受它，作為我所尋求哲學的第一原理。」請問，講述這段話的人最有可能是下列何者？ (A)笛卡兒 (B)培根 (C)牛頓 (D)伽利略

8. 右表為 1514 至 1800 年黑奴被販運到主要三大洲的統計數據。

請問，最有可能是下列哪一洲？ (A)美洲 (B)亞洲 (C)非洲 (D)歐洲

9. 有一間公司被認為是世界上第一間跨國公司也是股份公司，這間公司靠著東方的香料、絲綢、瓷器等貿易獲利驚人。在這間公司的全盛期，擁有超過 150 艘商船、40 艘戰艦、20,000

名員工、與 10,000 名傭兵的軍隊，他們駐守在印尼巴達維亞、東印度群島、香料群島上。請問：這間公司的高階主管大多為哪一國人？ (A)英國 (B)西班牙 (C)荷蘭 (D)葡萄牙

10. 2020 年 9 月，羅馬尼亞警方在東北布尼亞姆茨市郊一處房屋的地牢，搜出大約 200 本寫於 16~17 世紀的古籍，作者包括著名科學家牛頓及伽利略，估計價值 250 萬英鎊。學者們目前正在針對這批失而復得的古籍進行研究。請問：學者們研究的內容較不可能包括下列何者？ (A)月球表面的坑洞 (B)萬有引力定律 (C)太陽為宇宙中心 (D)天賦人權的政治理想

11. 2021 年 2 月緬甸政變，主因為緬甸軍方認為 2021 年 2 月的選舉存在舞弊與不公，因此發動政變，軟禁民主鬥士翁山蘇姬與總統溫敏。軍方也切斷網路，阻絕人民取得資訊的可能，某些外國企業選擇暫時歇業，保護自身廠房。緬甸人民示威遊行遭到鎮壓，統計到 3 月底為止，已有三百餘人喪生。請問：緬甸軍方的措施，違反啟蒙運動時期的哪一思潮？ (A)自由市場 (B)理性主義 (C)三權分立 (D)天賦人權

背面尚有試題

共有六面，請耐心作答

洲別 \ 時間	甲	乙	丙
1514~1600年	652	58,754	168
1601~1700年	4,160	645,460	847
1701~1800年	4,515	4,569,975	2,658

12. 中國於某朝代初期貨幣以紙幣為主，銅錢為輔。直到一事件發生之後，白銀大量輸入，加上紙鈔發行不當，大為貶值，所以白銀逐漸取代紙鈔，成為「銀銅雙本位制」。請問：此一事件指的是以下何者？ (A)鄭和下西洋 (B)歐洲海外擴張 (C)日本明治維新 (D)中國閉關自守

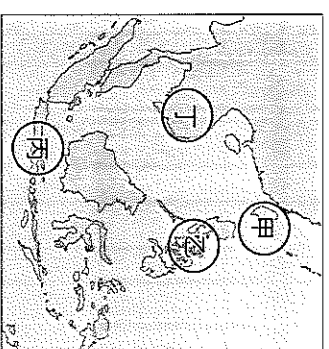
13. 承上題，此一中國朝代是為以下何者？ (A)唐 (B)宋 (C)元 (D)明

14. 某位水手回憶：「我千辛萬苦經過各種海上風雨來到世界另一邊，當地人把我帶到兩個外地商人面前。難以置信地，居然會遇到說卡斯提亞語(伊比利半島上所使用的文字)的人，他們問我為何而來，我說：『我是來尋找基督和香料的。』」針對上文所述，文中的「我」最有可能是下列何者？ (A)九世紀遠征伊比利半島的阿拉伯人 (B)十一世紀末征服西亞地區的塞爾柱土耳其人 (C)十五世紀時到達印度的葡萄牙人 (D)十七世紀末抵達澳洲的英格蘭人

15. 謙謙於上學的途中，頭上飛過的麻雀突然排泄糞便，正巧掉在他的頭上，謙謙不禁大喊：「都是萬有引力惹的禍！」請問：萬有引力定律是下列哪一位學者提出的呢？ (A)哥白尼 (B)伽利略 (C)牛頓 (D)培根

16. 貝爾納·迪亞斯曾追隨科爾特斯前去墨西哥征服印地安人建立的王朝，他在回憶錄中陳述說：「我們廢除了美洲原住民的盲目崇拜和其他令人憎惡的東西之後，上帝保佑了我們的努力，我們給當地男人、婦女和孩子們施洗禮，要不然他們的靈魂可能已下到地獄。」針對上文所述，下列何者最接近事實？ (A)貝爾納·迪亞斯與科爾特斯應是荷蘭人 (B)被征服的印地安人所建立的王朝有可能是印加帝國 (C)征服者將喀爾文教派傳播給當地人 (D)征服者是以白人文化的優越感在教化當地人

17. 「畢道文的家鄉自 17 世紀以來長期受荷蘭殖民，從醫科學校畢業後，他即前往荷蘭深造，並積極參與反荷蘭統治、支持家鄉獨立的政治運動。他也曾協助其他國家的人民對抗極權政治，包含西班牙內戰及第二次世界大戰期間中國的對日作戰。」畢道文的家鄉最可能位於右圖中甲、乙、丙、丁何處？ (A)甲 (B)乙 (C)丙 (D)丁



18. 16~17 世紀發現大量科學新知，被稱為「科學革命」。下列哪些因素促進了科學革命的發生？ 甲、神權至上的觀念；乙、人文主義思想的影響；丙、印刷術的傳入與運用；丁、科學研究方法的提倡；戊、科學研究機構的成立；己、第一次基督教分裂 (A)甲乙丙丁 (B)甲乙戊己 (C)乙丙丁戊 (D)乙丁戊己

19. 「哥白尼革命」展開後，歐洲人對於自然界有不一樣的見解，尤其是哪一領域的視野，藉由新工具的觀察，建立起科學的觀念？ (A)物理學 (B)天文學 (C)化學 (D)政治學

20. 美國憲法裡清楚的指出：所有立法權力皆由美國國會所有、行政權力則由美國總統所有、司法權力由一個美國最高法院和一些可以由國會隨時下令設立的次級法院所有。其通過將政府權力一分為三，以達至權力制衡，防止權力集中與濫權。請問：這是受到哪一位啟蒙時代學者的學說影響？ (A)洛克 (B)盧梭 (C)孟德斯鳩 (D)伏爾泰

21. 英國史學家湯恩比在其著作中寫道：「一場技術革命，西方人從它獲得了好運，獲得了比其他文明更為優先的發展。西方這一革命性的變革是以海洋代替草原作為世界交往的基本媒介，這使得西方得以把世界可居住和不可居住的所有地區都統一起來。」上文所說的「技術革命」最有可能指的是下列何事？ (A)科學革命 (B)海外探險 (C)啟蒙運動 (D)宗教改革

題組

(一)請閱讀以下文章，回答第22~23題

2018年8月，教宗方濟各訪問愛爾蘭，受到民眾熱烈歡迎，但是這次的造訪卻蒙上神職人員性侵醜聞的陰影，加上愛爾蘭在往年也曾發生過類似案件，使得教宗的訪問罕見地出現有群眾抗議。

教宗方濟各是39年來首位訪問愛爾蘭的教宗，所經之處照例是萬人空巷夾道歡迎，只是這次因為教會神職人員性侵兒童的醜聞陸續爆發，讓教宗此行罕見地出現抗議，因為愛爾蘭在2005年和2014年也發生過神職人員性侵案件。示威者在行人道上擺放數十雙兒童鞋子和玩具，拉起布條向教宗表達抗議，甚至出現教廷需要第二場宗教改革的呼聲。教宗方濟各在致詞中說道性侵行為是令人厭惡，他責怪教會、主教、牧師和相關人等，沒有適時加以處理，導致引發公憤，也讓天主教會蒙羞。同年10月，教宗方濟各免去2名涉嫌性侵兒童的智利主教職務，被視為對神職人員最嚴厲的懲處。

22. 文中提到，「甚至出現教廷需要第二場宗教改革的呼聲」，請問，歷史上第一次宗教改革是因為何種爭議而起？
(A)號召信徒攻打異教徒 (B)教會販售贖罪券斂財 (C)允許中國教徒祭祖祀孔 (D)對於教義有不同的見解

23. 文章當中的宗教信仰之所以在智利展開傳播，最主要與哪一國家的殖民關係密切？
(A)葡萄牙 (B)西班牙 (C)荷蘭 (D)義大利

(二)請閱讀以下文章，回答第24~25題

下表為1490~1825年某洲的人口消長情形

	白人	黑人+混血	原住民
1490年	0	0	50,000,000
1570年	138,000	260,000	9,700,000
1650年	725,000	815,000+644,000	9,105,000
1825年	4,349,00	4,188,000+6,252,000	8,211,300

24. 上表最有可能是哪一洲的人口消長情形？

(A)澳洲 (B)非洲 (C)中南美洲 (D)歐洲

25. 表中當地原住民人數逐漸減少的原因最有可能與下列何者有關

(A)受到天然災害的影響 (B)原住民有計畫的實施節育 (C)發生大規模洲際之間的戰爭 (D)外人帶來的病毒與疾病

(三)請閱讀以下文章，回答第26~27題

18世紀的歐洲，思想家們強調理性思考的重要性，他們認為人類的社會狀態也必然如自然界的現象，都可以用科學的方法加以解釋。他們將知識系統性的整理、彙集，以理性為基礎傳承人類的知識精華。

26. 上文中所描述的時代，在歷史上的名稱為何？

(A)文藝復興 (B)啟蒙運動 (C)科學革命 (D)宗教改革

27. 上文中提到的「系統性的整理、彙集」，促成何種新型態的著作風氣？

(A)政令宣導 (B)手做實驗 (C)百科全書 (D)寓言故事

(四)請閱讀以下文章，回答第28~30題

以下是法國於18世紀公布的人權與公民權宣言部分內容。請回答下列問題：

第一條：自由與平等是人與生俱來的權利，且始終不變。

第二條：一切政治結社的目的都在於維護人類不可剝奪的權利。這些權利是自由、財產、安全與反抗壓迫。

第三條：一切主權均根源於人民。任何團體、個人都不得行使人民未直接授予的權力。

第十一條：自由傳達思想和意見是人類最寶貴的權利之一；因此，各個公民都有言論、著述和出版的自由，但在法律所規定的情況下，應對濫用此項自由負擔責任。

28. 其中第一、二條的內容，主要受到下列哪位思想家學說的影響？

(A)洛克 (B)盧梭 (C)伏爾泰 (D)孟德斯鳩

29. 第三條的內容與哪位思想家的主張最相近？

(A)洛克 (B)盧梭 (C)伏爾泰 (D)孟德斯鳩


30. 第十一條的內容，最符合哪位思想家的論點？

(A)洛克 (B)盧梭 (C)伏爾泰 (D)孟德斯鳩

(五)請閱讀以下文章，回答第31~32題

1755年11月1日，葡萄牙里斯本大地震發生於當地時間在上午9點40分。此地震估計達到芮氏規模9，罹難人數達到了約10萬人（當時在里斯本人口約27萬）。大地震之後，伴隨而來的火災和巨大海嘯幾乎將整個里斯本摧毀，同時也令葡萄牙殖民帝國的國力嚴重下降，殖民帝國從此衰落。

里斯本當時約85%的建築物被毀，當中包括一些著名景點、教堂、圖書館和很多16世紀葡萄牙的特色建築物，如剛建成的鳳凰歌劇院、里斯本主教座堂和卡爾莫修道院等，而即使在地震中沒有即時倒塌的建築物最後也抵擋不過火災而被摧毀。另外火災也燒毀了很多珍貴的資料，包括著名航海家 的詳細航海記錄。現在卡爾莫修道院的遺址仍被保留在里斯本內，以讓世人認識這場歷史大災難。



↑卡爾莫修道院

31. 文章當中提到因為地震引起的火災所燒毀的航海家，最有可能是誰的航海紀錄呢？

(A)達伽馬 (B)哥倫布 (C)麥哲倫 (D)加利略

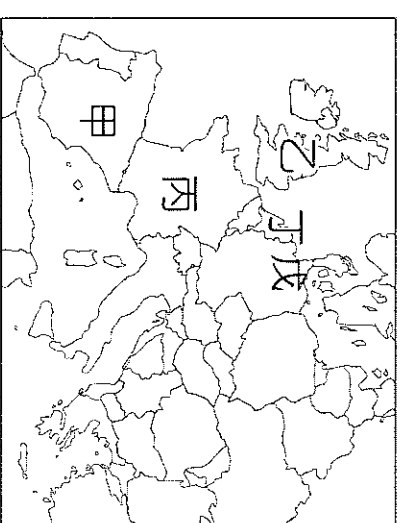
32. 上文中的海嘯最有可能對鄰近哪一海域的地區造成嚴重破壞？

(A)太平洋 (B)北海 (C)大西洋 (D)黑海

繼續挑戰下一張

(六)請閱讀以下文章，回答第 33-35 題

宗教改革主要指的是羅馬公教於 16-17 世紀的教派分裂及改革運動，這也是新教形成的開端。請依地圖回答下列問題：



33. 國王因婚姻問題與羅馬教會決裂，自行成立教派的是在圖中的何區？

(A)甲 (B)乙 (C)丙 (D)丁

34. 馬丁路德在何處掀起宗教改革的序幕？

(A)甲 (B)丙 (C)丁 (D)戊

35. 16 世紀中期，菲律賓國王出資組成船隊，前往印度與東亞地區貿易，並且與教廷合作，免費將傳教士送往貿易據點傳教，藉此制衡改革教派，由此可知此位國王應是來自以下哪一國？

(A)甲 (B)乙 (C)丁 (D)戊

(七)請閱讀以下文章，回答第 36-37 題

隨著全球反種族歧視聲浪激盪，愈來愈多地方開始檢討歷史，紐西蘭第 4 大城漢米頓加入行列，移除一座殖民時代軍事指揮官的雕像。這座銅像是用於紀念海軍上校漢米頓，他奉命到紐西蘭鎮壓捍衛土地的毛利原住民，於 1864 年陣亡。

漢米頓市政府呼應毛利原住民的要求，並回應反種族歧視抗議民眾的威脅，於 2020 年 6 月 12 日將設置於市鎮廣場的漢米頓銅像移除。漢米頓市議會表示，移除雕像一事，反映了全球反種族歧視浪潮的興起，「移除紀念物」成為反種族歧視的代表性活動，這些紀念物被視為文化不和諧及壓迫的象徵。

→紐西蘭移除爭議性殖民軍官雕像



36. 19 世紀時，派遣海軍上校漢米頓前往紐西蘭鎮壓毛利原住民的國家，應是下列何者？

(A)英國 (B)荷蘭 (C)葡萄牙 (D)西班牙。

37. 當漢米頓接獲命令之後，若他希望能距離紐西蘭最近的殖民地進行補給、修整，他應該選擇哪裡的港口？

(A)印度 (B)澳洲 (C)南美洲 (D)菲律賓

(八)請閱讀以下文章，回答第 38-40 題

2019 年，墨西哥人類學事務官員表示，考古學家在墨西哥東部熱門觀光城市坎昆附近的庫魯巴古城發現一座馬雅文明大型宮殿遺蹟，歷史超過千年，使用者很可能是馬雅菁英。墨西哥「國家人類學和歷史學協會」發布聲明說，這座宮殿原高 6 公尺、長 55 公尺、寬 15 公尺。從遺蹟來看，西元 600 至 1050 年間可能有 2 段時期長期有人居住。

馬雅文明在西元 250 至 900 年間達到鼎盛，統治範圍涵蓋今日墨西哥南部、瓜地馬拉、貝里斯與宏都拉斯等國大片地區。宮殿地點位於庫魯巴考古區的東部。這個考古區是墨西哥尤加丹州重要的前西班牙時期古蹟區。

考古學家巴瑞拉在國家人類學和歷史學協會分享的影片中說：「這個發現只是開端，我們才剛要開始挖掘這處遺址最龐大的建築結構之一。」除了這座宮殿，墨西哥專家還在庫魯巴中央廣場的「C 組」(Group C) 區域發現 4 個結構體，包括 1 座祭壇、2 棟住宅的殘跡和 1 個據信是火爐的圓形體。

背面尚有試題

38. 由文章所述，我們可推測這個歷史超過千年的宮殿，當時居住的馬雅菁英們，有可能過著何種生活？


(A)以方言取代拉丁文來創作 (B)團結民眾來對抗西班牙人 (C)以玉米、馬鈴薯為主食 (D)至非洲運回黑人為奴隸

39. 文章當中提到「這個考古區是墨西哥尤加丹州重要的前西班牙時期古蹟區。」這裡之所以與西班牙曾經有交集，應與哪一位航海家的航行路線有關呢？


(A)哥白尼 (B)哥倫布 (C)達伽馬 (D)麥哲倫

40. 以下哪一張照片可在馬雅文明看到呢？


(A)



(B)



(C)



(D)



試題結束，請再三檢查