

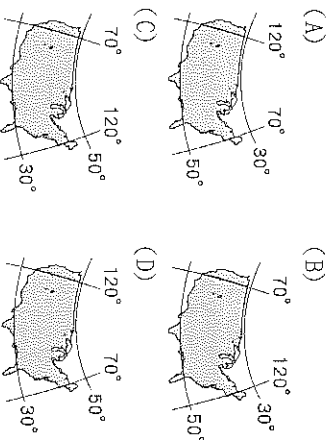
基隆市立武崙國民中學 111 學年度第一學期第三次段考九年級地理科試題卷

1. 單選題，每題 2 分，共 50 題，總分 100 分。
2. 答案卡請使用 2B 鉛筆畫記，若畫記錯誤，請擦拭乾淨。分數以電腦讀卡分數為準。
3. 答案卡上的資料欄請確實填寫，若資料欄畫記錯誤導致電腦無法正確判讀，扣總分 10 分。

班級： 9 年 班 座號： 姓名：

一、選擇題

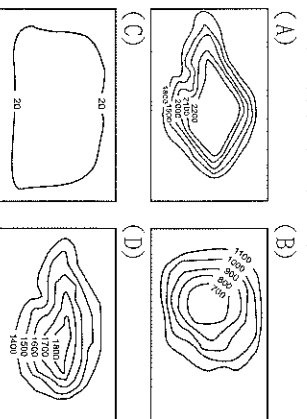
- () 1. 美國面積遼闊，關於其經緯度位置標示，下列何者正確？



- () 2. 下列何者『不屬於』中南美洲印第安人建立的古文明代表？(A)納瓦霍族的手工編織籃 (B)阿茲提克的彩陶器具 (C)馬丘比丘完美拼接的石牆 (D)馬雅的巨大金字塔

- () 3. 新聞報導：「多起龍捲風橫掃美國南部、中西部和東北部地區，光是○月 27 日就有 207 個龍捲風產生，總計造成 346 人罹難。」依龍捲風主要發生的季節判斷，最可能於下列哪一個月分時發生？(A)1 (B)4 (C)9 (D)11。

- () 4. 邦妮前往北美洲旅行，她的日記寫道：「看完哈得孫灣的景觀後，就前往著名的大都市芝加哥，最後順著密西西比河航行至墨西哥灣出海。」她的此趟旅行主要在某一種地形區活動？



- () 5. 位於阿根廷境內的巴塔哥尼亞高原為典型的溫帶沙漠氣候，影響該地區呈現此氣候特徵的因素為何？(甲)居西風的背風側 (乙)沿海有寒流流經 (丙)深居內陸距海遠 (丁)副熱帶高壓籠罩 (A)甲乙 (B)甲丙 (C)乙丙 (D)丙丁。

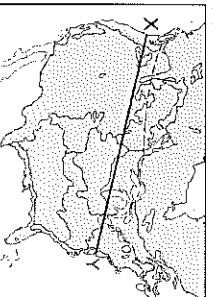
- () 6. 若以語言與文化特色區分，美洲可分為「通用英語的北美洲」與「通用拉丁語的中南美洲」，下列哪些國家位於北美洲？(甲)美國 (乙)巴西 (丙)墨西哥 (丁)加拿大 (A)甲乙 (B)甲丁 (C)乙丙 (D)丙丁。

- () 7. 中南美洲的經濟發展以農、礦業為主，在主要的農礦業和產國配對上何項『不正確』？(A)銀—智利 (B)甘蔗—古巴 (C)咖啡—巴西 (D)石油—委內瑞拉。

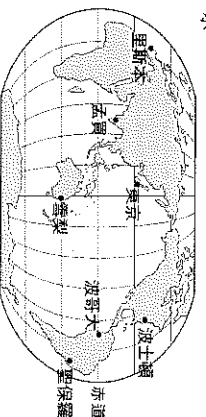
- () 8. 附圖為巴拿馬運河的位置圖。巴拿馬運河是世界唯一的聯洋運河，關於該運河的敘述，下列何者『錯誤』？(A)位於巴拿馬境內 (B)切穿墨西哥高原 (C)設置水閘控制水位 (D)連接太平洋與大西洋。



- () 9. 美國境內疆域廣闊，地形多變，造成氣候差異相當大。附圖中 X 至 Y 一線所經地區，沿途『不會』經過下列何種氣候類型？(A)溫帶大陸性氣候 (B)溫帶地中海型氣候 (C)高地氣候 (D)溫帶海洋性氣候。



- () 10. 胡黎計畫搭乘輪船環遊世界，她已經安排好要造訪的城市，如附圖所示。請問：若以兩地間的最短航距為考量，胡黎搭乘下列哪一個航班時，其航線會經過中美洲的巴拿馬運河？(A)孟買→里斯本 (B)東京→波哥大 (C)雪梨→孟買 (D)波士頓→東京。

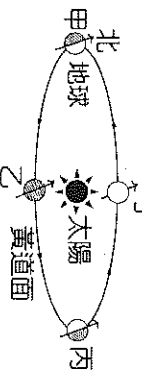


- () 11. 「飛地」是國家擁有一塊與本國分離開來的領土，該領土被其他國家包圍，北美洲西北側的阿拉斯加是世界最大的飛地，請問阿拉斯加隸屬於哪一個國家？(A)美國 (B)加拿大 (C)巴西 (D)丹麥。

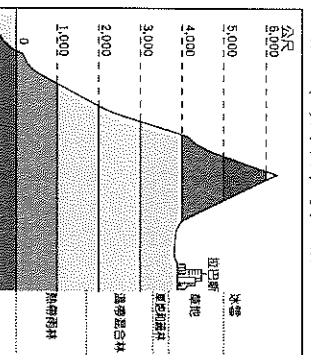
- () 12. 近年來，全球興起一股區域經濟結盟的風潮，其中由歐洲許多國家所組成歐洲聯盟中，東歐國家具有相對於歐洲其他地區擁有廉價勞動力的優勢，因此成為歐洲國家的重要基地。請問：在 USMCA 中哪一個國家的角色與上述東歐地區國家最類似？(A)美國 (B)巴西 (C)墨西哥 (D)加拿大。

- () 13. 全球最貴、價值 5 萬美元的訂製西裝是用羊駝毛製成，羊駝毛柔順輕盈有「軟黃金」之稱，而且防水與保暖的功能也較佳，但並非全身的毛料都適合製成衣服，「不夠軟」的部分甚至會直接拿去製成地毯，所以才會如此昂貴。請問：羊駝毛料是產自下列哪一個地區？(A)安地斯山脈 (B)亞馬孫盆地 (C)北美大平原 (D)西伯利亞山地。

- () 30. 巴拉圭為台灣在南美洲唯一的邦交國，也是台灣的對蹠點，剛好與台灣位於地球的两端。下圖為地球公轉示意圖。在甲的位置時，北極圈內是永晝；在丙的位置時，北極圈內是永晝。請問：當地球在「乙」的位置時，「巴拉圭」的季節為何？
(A)春 (B)夏 (C)秋 (D)冬。



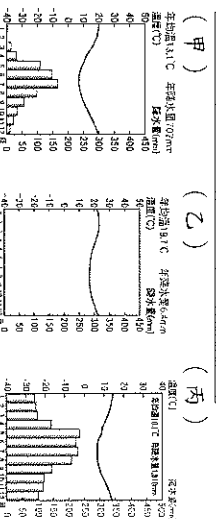
- () 31. 附圖為中南美洲某地區的植被分布情形。根據圖中資料判斷，該地最可能位於下列何處？
(A)安地斯山脈北段 (B)安地斯山脈南段 (C)洛磯山脈 (D)阿帕拉契山脈。



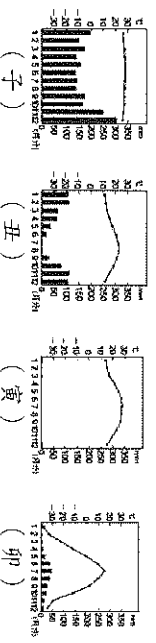

- () 32. 臺灣前總統馬英九在任職期間，共出訪當時友邦五次，資料如附表所示。除了最後一次以太平洋友邦為主外，其餘四次的出訪國家多集中在下列哪一個地理區？(A)安地斯山脈 (B)西印度群島 (C)巴西高原 (D)中美地峽。

日期(西元)	出訪國家
2008年8月	巴拿馬、巴拉圭、多明尼加
2009年5月	薩爾瓦多、瓜地馬拉、貝里斯
2009年7月	巴拿馬、尼加拉瓜
2010年1月	宏都拉斯、多明尼加
2010年3月	馬紹爾群島、吉里巴斯、吐瓦魯、諾魯、索羅門群島、帛琉

- () 33. 阿根廷「球王」梅西在西班牙足球甲級聯賽效力於巴塞隆納隊，無論是在語言和文化風俗、宗教信仰上都與本國幾乎無差異。請問：這是因為受到下列哪一個因素的影響？(A)美洲的原住民族裔印第安人 (B)西班牙人曾殖民統治南美洲 (C)大量非洲黑人被迫移往南美 (D)印加帝國曾在南美建立文明。
- () 34. 附圖為智利的景觀特色。企鵝表示該國具有較冷溼的氣候，灌木林是溫帶地中海型氣候的特徵，沙漠中的仙人掌則表示為沙漠氣候。請問：智利從高緯到低緯的氣候排列為何？(A)甲乙丙 (B)乙丙甲 (C)乙甲丙 (D)丙甲乙。

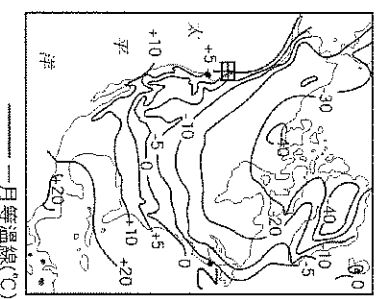


- () 35. 美國加州的氣候為地中海型氣候，當地陽光充足，使得加州成為美國最大的○○農產品產區，種類繁多，幾乎南歐的主要品種，此地均有種植。請問：下列○○農產品的生產與該地氣候條件配對何者正確？(A)甲、卵 (B)乙、子 (C)丙、丑 (D)丁、寅



- () 36. 「幾十年來，銀行家和基金經理們已經習慣於接受高稅率，持續在世界頂級金融之都的城市工作和生活。但是，今年州政府將調高富人稅率，成為美國所得稅率最高的地區，這也導致一些年收入超過100萬美元的華爾街金融界人士，計畫將整個投資公司遷出這個城市，理由是高稅率讓他們付不起員工工資。」請問：文中所指的城市是下列何者？
(A)洛杉磯 (B)費城 (C)芝加哥 (D)紐約。

- () 37. 附圖是北美洲一月的等溫線分布圖。從圖中可看出西岸「甲地」較同緯度的東岸「乙地」溫度高出許多，造成這種現象的主要原因為何？
(A)洋流性質不同 (B)地形分布不同 (C)人口多寡不同 (D)海岸類型不同。

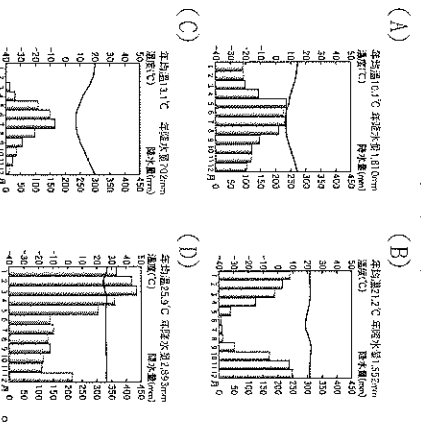


二、題組題

- (一) 金砖五國 (英語: BRICS), 是指五個主要的新興市場國家, 分別為巴西、俄羅斯、印度、中國、南非。其中巴西是拉丁美洲最大的國家, 人口2.15億多, 居世界第五, 並擁有全世界最大的熱帶雨林。


- () 38. 請問下列對於巴西的敘述, 何者『錯誤』？
(A)首都里約熱內盧是交通便利的港埠型都市
(B)曾被葡萄牙人殖民 (C)亞馬孫河為世界流域面積最大的河川 (D)鐵礦產量居世界首位。

- () 39. 巴西的亞馬孫雨林為世界最大的雨林, 下列哪個氣候圖, 比較接近熱帶雨林的氣候？



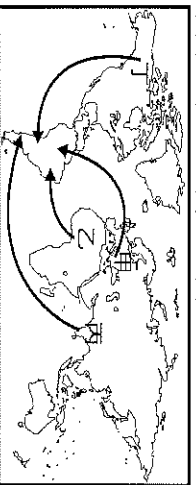
- () 40. 近數十年來，巴西極極開發境內的亞馬孫河流域，卻屢遭各國批評。下列何者最可能是各國反對亞馬孫河流域過度開發的主要原因之一？(A)擁有廣大的針葉林，是全球木材資源的主要供應地 (B)森林內蘊藏物種繁多，牽繫著地球的生態平衡 (C)下游地區有馬雅文明的遺址，是人類學研究的重要題材 (D)流域面積廣大，支流眾多，是南美國際貿易重要的航運路線。

(二) 美國被稱為民族拼盤，世界各地不同民族來到這片新大陸，開創屬於自己的天地，下圖為《美國族群研究》一書所提及的主要族群。請問：



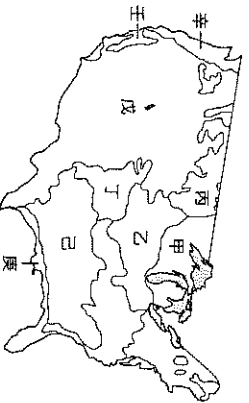
- () 41. 美國境內族群多元，上圖中甲圖的美國原住民為何？(A)印地安人 (B)拉丁人 (C)盎格魯撒克遜人 (D)麥士蒂索人。

- () 42. 歐洲殖民統治都為了彌補勞力的短缺，曾引進許多身體強健的勞工，因此在文化上呈現極為多元的特質。如中南美洲與美國南方都曾利用丙圖中的黑奴生產大量農產品出口歐洲。下圖中的哪一條路線是當時歐洲人引進勞工的主要路線？(A)甲 (B)乙 (C)丙 (D)丁



- () 43. 今日美國具備多元族群的文化特色，藉由其強大的經濟實力，將美式文化的生活方式推廣至世界各地。請問：常見的美式文化中『不包括』下列何者？(A)星巴克咖啡 (B)大聯盟職棒 (C)麥當勞速食餐廳 (D)寶來塲電影。

(三) 下圖為美國農牧業簡圖，請依據圖中資料回答下列問題：

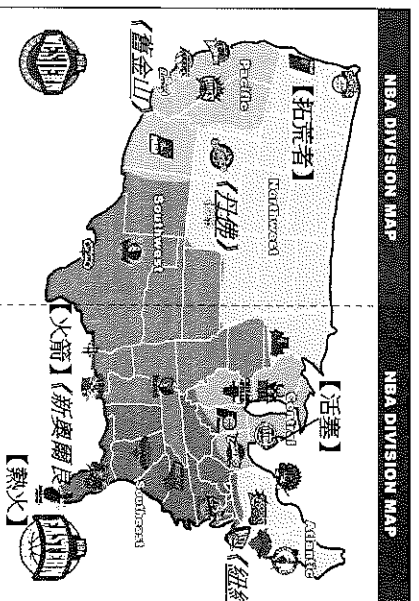


- () 44. 「受新冠肺炎疫情影響，不只旅遊觀光行業訂單銳減，連不易保存的食品業也受到影響，美國許多餐館、學校、加工廠必須關閉，間接導致酪農業者無法銷售牛乳，許多家庭農場甚至被迫將新鮮牛乳倒掉，令他們相當沮喪。」請問：上述現象最可能發生在附圖中哪一代號區？(A)甲 (B)乙 (C)丙 (D)戊。

- () 45. 附圖中「戊」為畜牧帶的分布範圍。請問：畜牧帶的分布範圍，大致和哪些氣候類型的範圍重疊？(A)高地氣候、乾燥氣候 (B)寒帶氣候、溫帶大陸性氣候 (C)溫帶大陸性氣候、夏雨型暖溫帶氣候 (D)高地氣候、溫帶地中海型氣候。

- () 46. 民眾愈來愈重視身上衣服的花原料產銷履歷，因為許多棉花產地發生強迫勞動、雇用童工等非法問題，令人感到不恥與沮喪。請問：如果追蹤美國棉花的原料生產地，最有可能出現在附圖中的哪一個地區？(A)乙 (B)丁 (C)己 (D)庚。

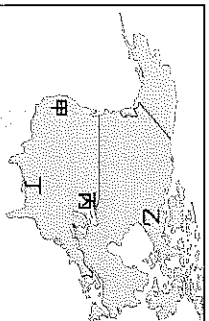
(四) 下圖為美國籃球協會(NBA)各球隊所在地的分布圖。每支球隊的特色及風格也反映出所在城市的不同意義。請依下圖回答下列問題：



- () 47. 火山活動雖帶來恐懼，但它所生成的產物「金礦」，卻讓人為之瘋狂！十九世紀美國的淘金熱吸引大量人口到現在的黃石國家公園附近淘金。請問：圖一中哪個都市最可能有金礦？(A)新奧爾良 (B)多倫多 (C)丹佛 (D)紐約。

- () 48. 「休士頓，我們有麻煩了。」(Houston, we have a problem.)是1970年美國太空人執行阿波羅13登月任務時，因飛行器故障所留下的經典名言。當時太空人緊急呼叫的地方，就位於休士頓的太空總署NASA。請問：哪支球隊代表這座城市？(A)活塞 (B)火箭 (C)熱火 (D)拓荒者。

- () 49. NBA知名球星 LeBron James 所屬的「湖人隊」，其隊名最早是指稱生活在明尼蘇達州五大湖區、成千上萬個湖泊附近的人們，後來球隊才搬遷至洛杉磯。請問：湖人隊是由附圖中何處搬遷至洛杉磯的？(A)甲 (B)乙 (C)丙 (D)丁。



- () 50. 亮亮到舊金山 (120°W) 自助旅行，雖然她沒有機會到紐約 (75°W) 麥迪遜廣場花園球場觀看1月2日晚七點半『紐約尼克隊和拓荒者隊』的比赛，但在舊金山的運動餐廳觀看球賽的現場直播也是另一享受。請問：準時開打的球賽，亮亮在舊金山要幾點開始鎖定呢？(A)下午四點半 (B)晚上五點半 (C)晚上七點半 (D)晚上八點半。

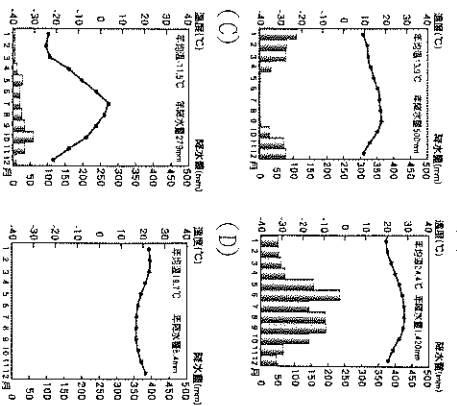
試題結束，請再次檢查！祝新年快樂，寒假愉快！

- () 14. 「在十六~十八世紀間，葡萄牙人由安哥拉、剛果等地引進了大量上著至殖民地巴西，以取代巴西人與原住民不願做的工作，而上著們也將他們的舞蹈帶入巴西。」請問：文中的上著應是指下列哪一個族群？ (A)印地安人 (B)非洲黑人 (C)亞洲黃種人 (D)拉丁裔的白人。

- () 15. 拉巴斯、庫斯科等南美洲城市的所在位置都在海拔2,000公尺以上的高地，自印加帝國時期起，這些地區即為重要的人口集中地。影響該區人口集中於地勢較高地區的主要原因為何？ (A)物種較豐富 (B)氣候較涼爽 (C)土壤較肥沃 (D)降水量較豐富。

- () 16. 北美大平原主要是由河川沖積形成的平原區，南側有北美洲最大的三角洲。請問：此三角洲是哪條河川沖積而成？ (A)拉不拉他河 (B)聖羅倫斯河 (C)密西西比河 (D)科羅拉多河。

- () 17. 下列為某四地的氣候圖，哪一張氣候圖所代表的氣候『最不可能』出現於北美洲？



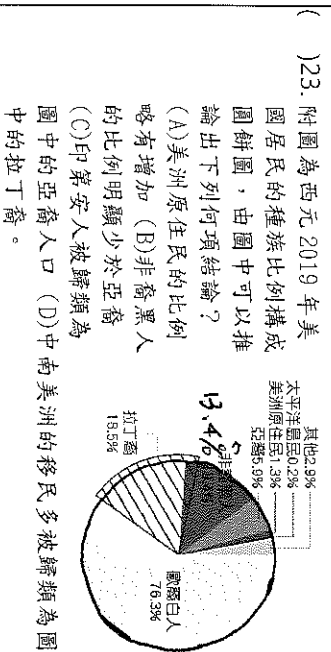
- () 18. 聖保羅、布宜諾斯艾利斯可見擁擠的人潮及貧民區，和世界其他大城市欣欣向榮的景象不同。造成此景象差異的原因為何？ (A)政府都市計畫不夠周全 (B)都市內湧入大批北美洲移民 (C)鄉村經濟蕭條，推力太強所致 (D)都市工商業發展所造成的。

- () 19. 《可可夜總會》Coco 電影的概念源於亡靈節，而亡靈節源自於中南美的阿茲提克以及當地的民族文化，與基督教慶典儀式融合成，亡靈節在每年的11月1日2日兩天舉行，如果想親自看到亡靈節的慶祝習俗活動，要到下列哪一個國家？ (A)美國 (B)巴西 (C)墨西哥 (D)委內瑞拉。

- () 20. 中美洲的地形從北到南為墨西哥高原、中美地峽、西印度群島，大致呈現『由完整到破碎』的地形景觀，與亞洲某地區相仿。請問該地區應該為何？ (A)西亞 (B)南亞 (C)東南亞 (D)東北亞。

- () 21. 美洲大陸跨越南、北半球，若與北美洲氣候類型比較，中南美洲『沒有』下列哪一種氣候類型的分布？ (A)溫帶草原氣候 (B)夏雨型暖溫帶氣候 (C)溫帶沙漠氣候 (D)溫帶大陸性氣候。

- () 22. 美國傳統的工業如鋼鐵、汽車兩種工業，多發源自五大湖區。請問：該地區有利於此兩種工業發展的主要條件為何？ (A)市場廣大 (B)原料豐富 (C)勞工眾多 (D)地形平坦。



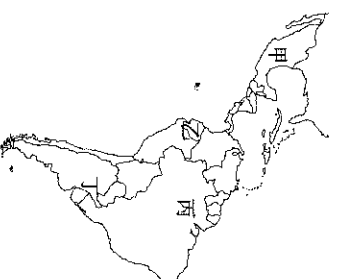
- () 24. 附圖為北美小麥帶農夫的對話，足以反映出北美農業發展的何項特徵？ (A)單位面積產量很高 (B)農業機械化程度高 (C)大規模種單一作物 (D)農作物多自給自足。



- () 25. 武崙旅行社設計了一趟中南美洲秘境探險之旅，旅程預計安排(甲)~(丁)四個景點，並『由北向南』暢遊。請問：這四個景點的冬觀順序應為何？ (甲)羅來馬山 (乙)的的喀喀湖 (丙)火地島國家公園 (丁)伊瓜蘇瀑布 (A)甲乙丙丁 (B)丙丁甲乙 (C)丁丙乙甲 (D)甲乙丁丙。

- () 26. 下列關於北美大平原氣候災害的敘述，何者『錯誤』？ (A)冬季時，北部易有暴風雪發生 (B)夏、秋之際，東南部常有颶風發生 (C)春、夏交替時，中南部常有龍捲風發生 (D)平原北部因夏季乾旱，易發生森林火災。

- () 27. 天竺鼠生長在安地斯山脈，由於肉質富含營養，且不需要花太多錢就能飼養，自千年前開始即為當地居民的主食。在夏、秋季節的時候，當地都會舉辦天竺鼠競賽，輸了比賽的天竺鼠就會被作為美味佳肴吃掉。請問：國際旅客若若想參與此一特殊盛會，應該前往附圖中何處？ (A)甲 (B)乙 (C)丙 (D)丁。



- () 28. 飄飄整理了美洲地形的上課筆記如下：「中美洲的北部為(甲)墨西哥高原，是(乙)安地斯山脈的延伸，火山、地震頻繁；南部為(丙)中美地峽，是連接北美洲與南美洲的重要橋梁；東方的(丁)加勒比海上，則散布著島嶼眾多的(戊)東印度群島，如(己)牙買加。」請問：有哪些內容是『錯誤』的？ (A)甲丙 (B)丙丁 (C)乙戊 (D)丁己。

- () 29. 美國與加拿大邊界的五大湖，是全球面積最大的淡水湖群，有「北美洲地中海」之稱。請問：五大湖形成的原因與下列哪一種海岸地形形成原因『相同』？ (A)台灣的岬灣海岸 (B)挪威的峡灣海岸 (C)希臘的谷灣式海岸 (D)琉球嶼的珊瑚礁海岸。

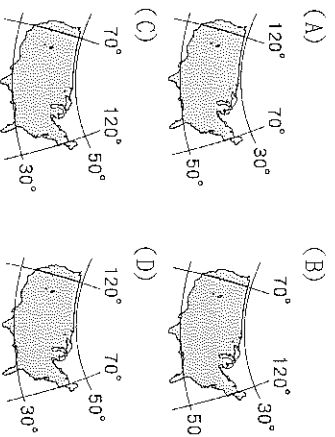
基隆市立武崙國民中學 111 學年度第一學期第三次段考九年級地理科試題卷

1. 單選題，每題 2 分，共 50 題，總分 100 分。
 2. 答案卡請使用 2B 鉛筆畫記，若畫記錯誤，請擦拭乾淨。分數以電腦讀卡分數為準。
 3. 答案卡上的資料欄請確實填寫，若資料欄畫記錯誤導致電腦無法正確判讀，扣總分 10 分。

班級： 9 年 班 座號： 姓名：

一、選擇題

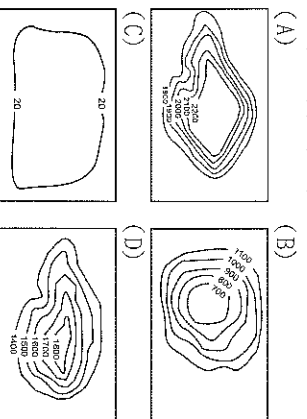
- () 1. 美國面積遼闊，關於其經緯度位置標示，下列何者正確？



- () 2. 下列何者『不屬於』中南美洲印第安人建立的古文明代表？(A)納瓦霍族的手工編織籃 (B)阿茲提克的彩陶器具 (C)馬丘比丘完美拼接的石牆 (D)馬雅的巨石金字塔

- () 3. 新聞報導：「多起龍捲風橫掃美國南部、中西部和東北部地區，光是○月 27 日就有 207 個龍捲風產生，總計造成 346 人罹難。」依龍捲風主要發生的季節判斷，最可能於下列哪一個月分時發生？(A)1 (B)4 (C)9 (D)11。

- () 4. 邦妮前往北美洲旅行，她的日記寫道：「看完哈得孫灣的景觀後，就前往著名的大都市芝加哥，最後順著密西西比河航行至墨西哥灣出海。」她的此趟旅行主要在某一種地形區活動？

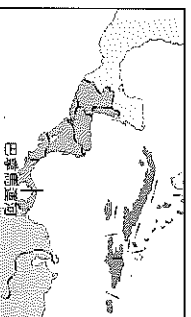


- () 5. 位於阿根廷境內的巴塔哥尼亞高原為典型的溫帶沙漠氣候，影響該地區呈現此氣候特徵的因素為何？(甲)居西風的背風側 (乙)沿海有寒流流經 (丙)深居內陸距海遠 (丁)副熱帶高壓籠罩 (A)甲乙 (B)甲丙 (C)乙丙 (D)丙丁。

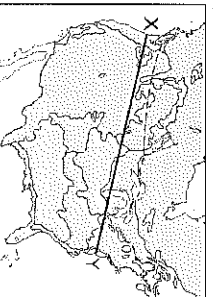
- () 6. 若以語言與文化特色區分，美洲可分為「通用英語的北美洲」與「通用拉丁語的中南美洲」，下列哪些國家位於北美洲？(甲)美國 (乙)巴西 (丙)墨西哥 (丁)加拿大 (A)甲乙 (B)甲丁 (C)乙丙 (D)丙丁。

- () 7. 中南美洲的經濟發展以農、礦業為主，在主要的農礦業和產國配對上何項『不正確』？(A)銀—智利 (B)甘蔗—古巴 (C)咖啡—巴西 (D)石油—委內瑞拉。

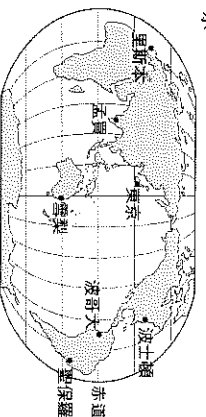
- () 8. 附圖為巴拿馬運河的位置圖。巴拿馬運河是世界唯一的聯洋運河，關於該運河的敘述，下列何者『錯誤』？(A)位於巴拿馬境內 (B)切穿墨西哥高原 (C)設置水閘控制水位 (D)連接太平洋與大西洋。



- () 9. 美國境內疆域廣闊，地形多變，造成氣候差異相當大。附圖中 X 至 Y 一線所經地區，沿途『不會』經過下列何種氣候類型？(A)溫帶大陸性氣候 (B)溫帶地中海型氣候 (C)高地氣候 (D)溫帶海洋性氣候。



- () 10. 胡黎計畫搭乘輪船環遊世界，她已經安排好要造訪的城市，如附圖所示。請問：若以兩地間的最短航距為考量，胡黎搭乘下列哪一個航班時，其航線會經過中美洲的巴拿馬運河？(A)孟買→里斯本 (B)東京→波哥大 (C)雪梨→孟買 (D)波士頓→東京。



- () 11. 「飛地」是國家擁有一塊與本國分離開來的領土，該領土被其他國家包圍，北美洲西北側的阿拉斯加是世界最大的飛地，請問阿拉斯加隸屬於哪一個國家？(A)美國 (B)加拿大 (C)巴西 (D)丹麥。

- () 12. 近年來，全球興起一股區域經濟結盟的風潮，其中由歐洲許多國家所組成歐洲聯盟中，東歐國家具有相對於歐洲其他地區擁有廉價勞力的優勢，因此成為歐洲國家的重要基地。請問：在 USMCA 中哪一個國家的角色與上述東歐地區國家最類似？(A)美國 (B)巴西 (C)墨西哥 (D)加拿大。

- () 13. 全球最貴、價值 5 萬美元的訂製西裝是用羊駝毛製成，羊駝毛柔順輕盈有「軟黃金」之稱，而且防水與保暖的功能也較佳，但並非全身的毛料都適合製成衣服，「不夠軟」的部分甚至會直接拿去製成地毯，所以才會如此昂貴。請問：羊駝毛料是產自下列哪一個地區？(A)安地斯山脈 (B)亞馬孫盆地 (C)北美大平原 (D)西伯利亞山地。