

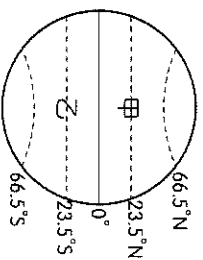
基隆市立武崙國民中學 111 學年度第一學期八年級地理科第三次定期評量試題卷

本試卷均為單一選擇題。共 50 題，每題 2 分，總計 100 分。請用 2B 鉛筆將正確答案畫在答案卡上，

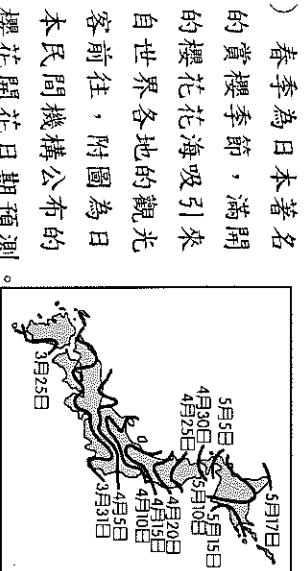
考試結束後務必交回答案卡給監考老師。試題卷上也請寫上答案並妥善保管，日後上課需要檢討。

班級：_____ 姓名：_____ 座號：_____

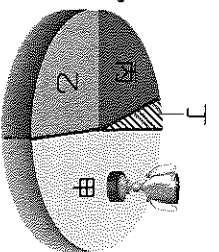
1. () 「該地區主要面積分布於東半球，南端的島嶼橫跨赤道，為全球人口最多、面積最廣大的地區，因此形成多樣化的區域特色。」請問：上文所述的是下列哪一洲？ (A)亞洲 (B)歐洲 (C)非洲 (D)北美洲



2. () 附圖為全球緯度帶分區圖。若由圖中的甲地到乙地，沿途依序會出現哪些氣候？ (A)莽原→沙漠→雨林→沙漠→莽原 (B)莽原→雨林→沙漠→雨林→莽原 (C)雨林→莽原→沙漠→雨林 (D)沙漠→莽原→雨林→莽原→沙漠



3. () 春季為日本著名的賞櫻季節，滿開的櫻花吸引來自世界各地的觀光客前往，附圖為日本民間機構公布的櫻花開花日期預測。請問：下列哪一個地方的櫻花開花時間最早？ (A)本州 (B)四國 (C)九州 (D)北海道

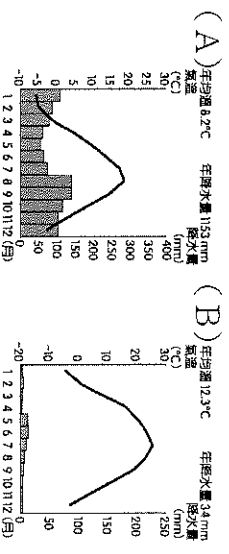


4. () 太平洋位於亞洲和美洲之間，周邊國家組成亞太經濟合作會議，加強彼此間的經貿往來。請問：該海域最可能為附圖中何者？ (A)甲 (B)乙 (C)丙 (D)丁
5. () 南韓在經歷過亞洲金融風暴後，重整相關的企業，帶動了整體經濟的成長。請問：目前南韓經濟發展的主要原動力來自於下列何者？ (A)海外投資 (B)外資企業 (C)中小企業 (D)大型財團
6. () 根據地形的作用力來判斷，下列哪一個地區發生地震的機率相對較低？ (A)安地斯山脈 (B)青藏高原 (C)北美大平原 (D)喜馬拉雅山脈

7. () 朝鮮半島在二戰後分裂為北韓和南韓兩個政體，大致以北緯 38 度為界，以北是「朝鮮民主主義人民共和國」，以南是「大韓民國」，兩者經濟發展差異大。炳浩整理了一個表格來解釋南、北韓的經濟發展差異，其中哪個說明有誤？

	南韓	北韓
(A)貿易總額	高	低
(B)氣候條件	生長季短	生長季長
(C)經濟制度	資本主義	共產主義
(D)礦產資源	缺乏	豐富

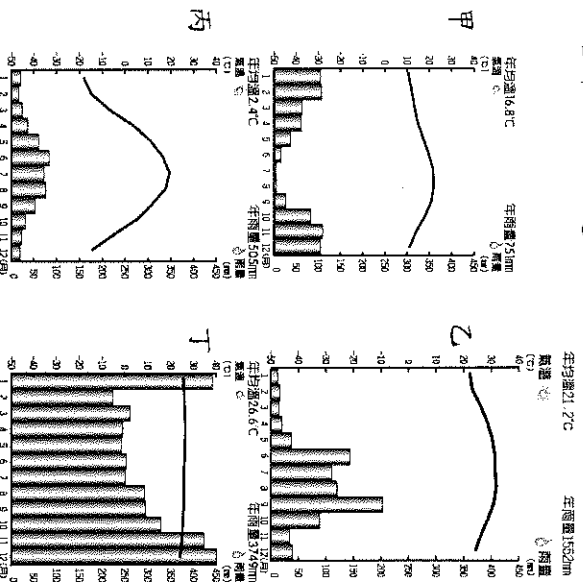
8. () 日本關西地區是相當受臺灣民眾喜愛的觀光區，除了京都、奈良等歷史悠久的景點之外，加上當地四季分明，各季節都有特殊的自然景觀吸引遊客前往。請問：當地氣候最接近下列何者？



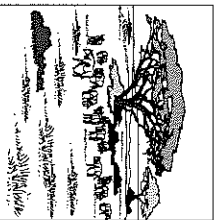
9. () 氣象學者觀察全球不同地區的氣候變化狀況，若依其緯度由高至低排列，海洋性氣候、莽原氣候、雨林氣候及地中海型氣候的分布應該為下列何者？ (A)海洋性、莽原、地中海型、雨林 (B)海洋性、雨林、莽原、地中海型 (C)海洋性、地中海型、莽原、雨林 (D)海洋性、莽原、雨林、地中海型





10. () 史懷哲到非洲行醫，來到了高溫多雨的赤道地區部落。請問：他在當地最可能見到下列哪一種植被？ (A)草原 (B)雨林 (C)針葉林 (D)混合林

88 附圖甲～丁為四個地區的氣候圖，請回答第 11～16 題：

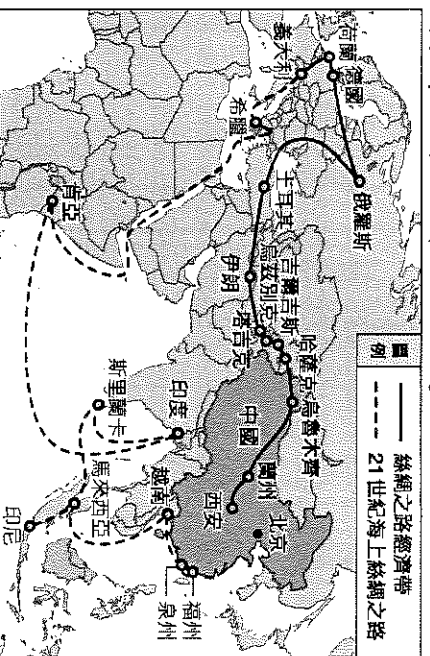


11. () 觀察上列氣候圖可以發現這四個地區在氣溫的表現上各有不同的特色，請問這些氣溫的差異主要與下列哪一項因素關係最密切？
 (A) 陸地面積大小 (B) 地勢高低起伏
 (C) 距離海洋遠近 (D) 太陽照射角度
12. () 地表植被、物種的類型與數量深受氣候條件影響，請問上述四個地區中哪一個擁有最高的生物多樣性？
 (A) 甲 (B) 乙 (C) 丙 (D) 丁
13. () 甲氣候類型的降水與下列何者關係最密切？(A) 夏季的西南季風
 (B) 夏季的赤道低壓
 (C) 冬季的西北風吹拂
 (D) 冬季的東北信風
14. () 丁地為四個地區中降水最為豐沛的地區，請問其擁有大量降水的原因為下列何者？(A) 赤道低壓終年籠罩
 (B) 全年季風通過海面
 (C) 冷暖空氣交會滯留
 (D) 溫帶氣旋長年盤據
15. () 甲～丁四種氣候類型中何者最可能出現右圖中稀疏林木、大量野生動物群居草原的地表景觀？
 (A) 甲 (B) 乙 (C) 丙 (D) 丁
16. () 承上題，此種氣候形成的原因為下列何者？(A) 全年赤道低壓籠罩
 (B) 大範圍海陸熱力性質差異
 (C) 夏季副熱帶高壓、冬季西風帶籠罩
 (D) 夏季赤道低壓、冬季副熱帶高壓籠罩

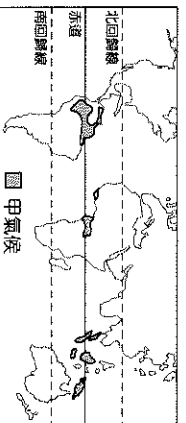


17. () 降水季節、多寡與溫差大小對一地居民的經濟生活影響巨大，請問下列何者屬於對『溫帶大陸性氣候』的敘述？
 (A) 終年有雨、全年高溫
 (B) 冬雨集中、夏熱冬涼
 (C) 夏雨冬乾、年溫差大
 (D) 全年乾燥、年溫差小
18. () 世界人口的分布主要集中在中緯度地區，此區可謂是經濟發展與文明進展的精華區。請問中緯度的氣候類型中，何者年溫差最小？(A) 溫帶季風氣候
 (B) 溫帶大陸性氣候 (C) 溫帶海洋性氣候 (D) 溫帶地中海型氣候
19. () 請問熱帶、溫帶、寒帶氣候的分界線依序為下列何者？(A) 回歸線、極圈
 (B) 赤道、回歸線 (C) 赤道、本初經線
 (D) 本初經線、國際換日線
20. () 北極海為一個被周圍廣大陸地所包圍住的海域，近年來暖化融水，故航運價值逐漸重要，也因豐富礦產資源的蘊藏成為各國角逐之地。請問下列哪一洲『不是』包圍北極海的陸塊？(A) 亞洲
 (B) 歐洲 (C) 大洋洲 (D) 北美洲
21. () 非洲的撒哈拉為全球面積最廣的沙漠，其與美國的國土面積相當，請問此沙漠形成的原因為下列哪些？(A) 赤道低壓、暖流 (B) 副熱帶高壓、涼流
 (C) 大陸高壓、距海遙遠
 (D) 背主要盛行風、寒流
22. () 下圖為理想大陸與洋流分布狀況，何者較吻合實際之全球洋流系統圖？
 → 表暖流 --- 表涼流或寒流
 (A)  (B) 
- (C)  (D) 
23. () 在全球氣候分區中，界定熱帶與副熱帶的指標為何？(A) 最冷月均溫 0°C
 (B) 最冷月均溫 18°C (C) 最暖月均溫 10°C (D) 年降水量 500 mm

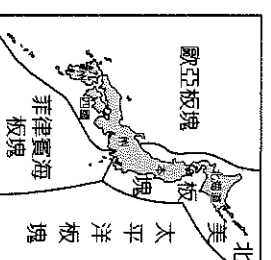
98 中國於 2013 年時提出「一帶一路」的跨國經濟帶構想，希望藉由歷史上的海上及陸上「絲綢之路」概念，增進中國與歐亞各國的經濟往來。請參考地圖回答第 25~26 題：



24. () 載運紡織品的貨輪依循 21 世紀海上絲綢之路從印度出發，中途停靠肯亞、希臘後抵達目的地義大利，請問沿途依序經過哪些海域？甲.紅海 乙.黑海 丙.地中海 丁.太平洋 戊.印度洋
 (A) 丁、乙、丙 (B) 丁、甲、丙
 (C) 戊、乙、甲 (D) 戊、甲、丙
25. () 歐洲班列上載滿大批商品從荷蘭途經德國前往俄羅斯，請問位在火車上的『錯誤』？(A)傑西：年降水量愈漸稀少 (B)阿曼：受西風的影響愈來愈顯著 (C)泰森：冬季氣溫逐漸下降，年溫差擴大 (D)波迪：沿途由海洋性過渡到大陸性氣候
26. () 洋流的屬性會影響其流經海岸的氣候，而不同的氣候條件又會造就不同的文化與經濟生活。請問下列哪一股洋流會使其流經的海岸出現氣流穩定導致沙漠的形成？(A)黑潮 (B)親潮 (C)本吉拉涼流 (D)北大西洋暖流
27. () 行星風系中風帶季移的現象主要與下列哪一項因素關係最密切？
 (A)科氏力 (B)地軸傾斜
 (C)地球公轉 (D)海陸性質差異
28. () 下列關於附圖中甲氣候的描述下列何者『錯誤』？(A)太陽直射終年高溫 (B)植被高大物種繁多 (C)草木榮枯隨季節變化 (D)低壓籠罩午後多對流雨



29. () 下列為日本群島四個主要陸塊，請問其島嶼的分布順序由北向南依序為何？
 甲.四國 乙.九州 丙.本州 丁.北海道
 (A) 甲.乙.丁 (B) 乙.丁.甲.丙
 (C) 丁.甲.乙.丙 (D) 丁.丙.甲.乙



30. () 附圖為日本四周板塊位置示意圖，請問這種地理位置對日本造成的影響有下列哪些？
 甲.山地多 平原少
 乙.降雨集中夏季
 丙.泡湯文化盛行 丁.地震活動頻繁
 戊.易有海嘯災難 己.飲食多醃製品
 (A) 甲乙丙丁 (B) 甲丙丁戊
 (C) 乙丙丁己 (D) 丙丁戊己
31. () 2020 年中國為原產自四川的泡菜申請國際標準認證，引發中國、韓國網民針對泡菜歸屬問題展開論戰。視泡菜為神聖食物的韓國在 2021 年正式發表一份文件，將韓國泡菜的標準中文譯名變更為『辛奇』用以與中日、日的泡菜區別。請問韓國人重視辛奇的這種飲食文化背後受什麼因素影響？
 (A)地形崎嶇，可耕地較缺乏
 (B)冬季嚴寒，不利蔬菜生長
 (C)鄰近中日，文化深受影響
 (D)早年戰亂，新鮮蔬菜匱乏
32. () 觀光業為日本極具國際競爭力的產業。請問下列何者『並非』日本觀光業吸引國際旅客一再回流的特色？
 (A)地方多特色、泡湯美食購物樂
 (B)良好的治安、便捷的交通網絡
 (C)整潔的環境、歷史文化景點多
 (D)便宜的物價、四季如夏的氣候
33. () 日韓傳統文化深受漢文化的影響，請問下列哪些實例可以體現到『漢文化』的影響與擴散？甲.首爾宗廟的祭孔大典 乙.韓國的流行娛樂及影視 丙.首爾景福宮的飛簷、斗拱 丁.日本飲食中的生魚料理 戊.日本的漢方醫學與藥品
 (A) 甲乙丙 (B) 甲丙戊
 (C) 甲丁戊 (D) 丙丁戊
34. () 下列關於朝鮮半島地形的敘述何者正確？(A)北側為蓋馬高原 (B)平原分布東側 (C)地勢南高北低 (D)最高峰位於大白山脈

35.()日本自 1990 年代泡沫經濟破滅後，開啟了失落的 30 年，停滯發展的經濟讓日本產業積極尋求轉型，請問下列何者『並非』其產業轉型的對策？

- (A)積極向海外擴展吸納國際資金
(B)國內發展強調低勞力與高科技術
(C)重視產品專利權與高附加價值
(D)強調獨創品質屏棄自動化設備

36.()1990 年代南韓開始重視文化產業，金融風暴後，總統金大中上任便提出『文化立國』的政策，連年提升發展文創業的相關預算，在政府的大力扶植下，『韓流』帶動文化輸出，並帶來了龐大的附加價值。請問下列何者屬於上文所述的軟實力？甲.流行音樂 乙.電子零件 丙.影劇作品 丁.偶像團體 戊.家電產品

- (A)甲乙丙 (B)乙丙戊
(C)甲丙丁 (D)丙丁戊

37.()日本宅文化聖地秋葉原的一日遊，除了可以沈浸在漫畫、動畫、電玩遊戲中，還能投宿動漫主題旅館、前往主題餐廳大啖萌趣美食，請問上述為日本哪一項極具競爭力的產業？

- (A)販售創意概念及商品的文化產業
(B)重視傳統延續及推廣的歷史產業
(C)強調技術研發及革新的科技產業
(D)體現感官刺激及享受的娛樂產業

38.()關於東北亞與中國北部氣候的比較，下列敘述何者正確？

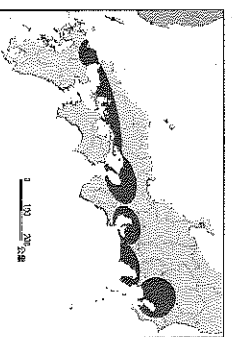
- (A)同緯度年溫差由西向東遞減
(B)同緯度降水量由西向東增加
(C)愈往東側受海洋的影響愈小
(D)受親潮影響沿海均冬不結冰

39.()近二十年來日本部分企業為維持產業競爭力，將工廠移往中國及東南亞設廠，請問此轉變主要和乙.缺乏原料 丙.通貨膨脹 丁.薪資高漲 戊.勞力不足

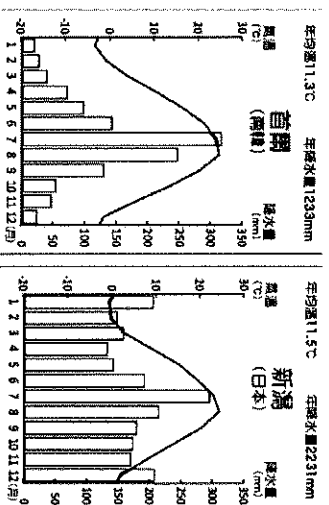
- (A)甲乙丁 (B)甲丁戊
(C)乙丙丁 (D)丙丁戊

40.()附圖為日本主要工業區的分佈位置，由圖可得知工業區多位於沿海一帶，請問此現象與下列何者的關係最薄弱？

- (A)礦產資源豐沛 (B)原料仰賴進口
(C)國際貿易發達 (D)海運交通便利



41.()南韓首爾和日本新潟均屬於溫帶季風氣候，然而比較兩者的氣候圖卻能發現在降水方面顯著的差異，請問新潟冬季較多的原因為下列何者？



- (A)首爾緯度較高水汽較少
(B)新潟地勢高能攔截水汽
(C)首爾位於季風的背風側
(D)新潟冬季季風越過海上

42.()日本自古即非常重視漁業活動，漁獲量曾為世界第一。請問該國漁業發達的有利條件包含下列哪些？甲.鄰近大西洋漁場 乙.海岸線曲折 丙.暖流、涼流交會 丁.優越捕撈的技術(A)甲乙 (B)甲丙 (C)乙丁 (D)丙丁

43.()日本人以米食為主，其稻米品質優良享譽國際，更以米為核心延伸出許多商品，如米餅、酒品、美容化妝產品…。請問下列何者『不是』日本的農業的特色？
(A)耕地狹小、集約耕作
(B)有機無毒、精緻栽培
(C)農產品質好、價位高
(D)高度機械、粗放耕種

44.()惠玉利用假期前往東京自由行，五天的行程除了逛街採購、品嚐美食並體驗了當地的文化生活。旅途中他品嚐了醬油拉麵、咖哩蛋包飯、炸豬排定食……，身穿和服體驗茶道，並發現日文中存在著許多外來語。請問以上敘述呈現出日本文化的哪一種特色？

- (A)多元性 (B)獨創性
(C)累積性 (D)普遍性

45.()智雅閒暇之餘總愛追韓劇，她從劇中發現無論現在社會多發達，韓國人還保有直接坐在家中地板的傳統，即使有沙發還是喜愛坐在地上的原因主要是現在韓國建築的地板都設有加熱過的水流經地下水管以供暖或是埋設電熱管的設備。請問傳統韓屋中這種地暖設備在朝鮮半島被稱之為何？(A)溫突 (B)斗拱 (C)鳥居 (D)汗蒸幕

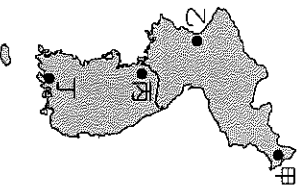
88說到凱旋門，大家第一個印象一定是法國巴黎。但位於北韓首都的凱旋門規模才是世界之冠。請回答第 46~50 題：

46.() 北韓的凱旋門在牆面上雕刻有中、韓兩國的界山，請問這座山脈應該為何？

- (A)長白山脈 (B)大白山脈
- (C)飛驒山脈 (D)大興安嶺

47.() 根據上文的敘述判斷，這座凱旋門應該位於附圖中的哪個都市？

- (A)甲 (B)乙
- (C)丙 (D)丁



48.() 北韓的工業發展類型與政府進行的政治、經濟制度有密切關連，請問下列何者為其工業發展重點？

- (A)輕工業與民生工業
- (B)化工業與醫療工業
- (C)重工業與國防工業
- (D)科技業與資訊工業

49.() 北韓經濟發展遲緩、人民所得偏低，許多日常用品需從中國進口，有些人因此因不堪生活困苦或是渴望自由而逃離北韓，成為難民或是非法入侵他國者。請問近年來北韓經濟發展落後的原因有哪些？

- 甲.歐美國家嚴苛經濟制裁
- 乙.缺乏煤、鐵等礦產資源
- 丙.實施共產主義計劃經濟
- 丁.人口老化且勞動力缺乏
- 戊.為防疫鎖國貿易量崩跌

- (A)甲乙丙 (B)甲丙戊
- (C)乙丙丁 (D)丙丁戊

50.() 承上題，不堪生活困境或嚮往自由而逃離北韓者，我們稱其為『脫北者』，其逃離路線通常為穿越□江進入中國，有些難民會繼續往蒙古國或是東南亞以尋求幫助前往南韓，有些脫北者則透過簡易木船漂流至△海逃往日本。無論哪條逃亡路線都是充滿艱辛困難和死亡威脅。請文中□和△分別代表下列何者？

- (A)黑龍江、渤海 (B)圖們江、黃海
- (C)漢江、東海 (D)鳴綠江、日本海