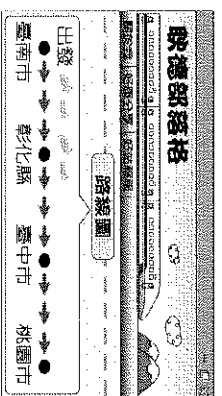



【基隆市立武崙國中 111 學年度上學期八年級公民科第三次段考】


一、單題 (每題 2 分, 共 76 分)



1. () 耿德搭乘高鐵參加各縣市的燈會活動，附圖是他在部落格上分享的路線圖。請問：從出發點開始，耿德到達的縣市層級依序為何？(A)市→縣→縣轄市→直轄市(B)直轄市→縣→直轄市→直轄市(C)直轄市→縣→直轄市→市(D)縣轄市→縣→直轄市→縣轄市
2. () 報載：1920 年美國通過《美國憲法》第十九號修正案，賦予婦女投票權。為慶祝該法案通過 100 周年，華盛頓特區的博物館透過展覽呈現婦女如何爭取投票權的故事。上述內容與下列哪一項選舉原則相關？(A)普通原則(B)平等原則(C)直接原則(D)無記名原則
3. () 立君班上有 28 人，決定為班遊地點舉行投票，採用公民投票的方式和門檻，有 27 人進行投票，同意的有效票 13 張，不同意的有效票為 6 票，幾位同學正在討論投票結果，下列哪一個人的說明最正確？(A) (B) (C) (D)



4. () 政治參與的方式很多，下列何者為政治參與的方式之一？(A)捐款給公益團體(B)投入政黨活動(C)參加淨灘活動 (D)加入社區巡邏隊。
5. () 如果中央與地方的權限發生爭議時，應該如何解決？(A)聲請大法官審查《憲法》(B)由總統出面調停(C)由立法院解決(D)由行政院出面協商
6. () 瑋銘家住址原本為「桃園縣中壢市」，在桃園縣升格改制後，他家的地址應改為下列何者？(A)桃園縣中壢區(B)桃園市中壢市(C)桃園市中壢區(D)桃園縣中壢市
7. () 今年暑假媽媽帶即將就讀國一的小帆從臺北坐火車環島旅行。下列是他們所到的景點，請問：他們所到之處何者屬於同一層級的地方政府？(甲)臺中市—科學博物館(乙)臺南市—赤崁樓(丙)嘉義市—交趾陶館(丁)高雄市—六合夜市(戊)宜蘭市—甲子蘭酒文物館(A)丙丁戊(B)甲乙丁(C)甲乙戊(D)甲丁戊
8. () 下列哪些屬於地方立法機關？(甲)臺北市政府(乙)臺南市議會(丙)大溪區公所(丁)集集鎮民代表會(戊)臺東市民代表會(A)甲乙丙(B)乙丙丁(C)乙丁戊(D)丙丁戊
9. () 地方政府需要中央的統籌規畫與資源挹注，而中央政府的各項政策和法律，需要地方政府協力推動。請問：中央政府與地方政府合作的目的為何？(A)限制地方經濟成長(B)相互制衡防止濫權(C)實現執政黨政治理想(D)促使政府有效運作
10. () 原桃園縣已於民國 103 年 12 月 25 日進行直轄市升格改制，改制後的桃園市與下列哪一個行政區層級相同？(A)新竹市(B)臺南市(C)臺東市(D)宜蘭市
11. () 小茜今年剛升上國中二年級，她平常對政治非常有興趣，而下列何者為小茜目前可以採取的政治參與方式？(A)參與投票(B)擔任政府官員(C)成為公職候選人(D)關心時事
12. () 附圖為易辰於考前做的公民科重點整理，請判斷此重點整理的標題應為下列何者？(A)中央政府的職權(B)地方政府的層級(C)地方政府的組成(D)中央政府與地方政府的合作
13. () 附圖中兩人交流的內容，應屬於地方政府的哪一項職權？(A)社會福利(B)教育文化(C)經濟發展(D)安全衛生
14. () 信柏將今天要介紹給同學的內容摘要放至以下的簡報中。請問：他所要介紹的主題應該是下列何者？



※參與決策公共政策 ※創制與複決的權利 ※展現直接民主

15. () 我國中央政府與地方政府的權限的畫分採「均權制度」，其中具有因地制宜性質的事務由地方負責

。依此規定，下列何種事項是屬於地方政府的職權？(A)招考公務人員(B)施打公費疫苗(C)增設地方法院(D)彈劾失職官員


- 16.()以下網路聊天室中，幾個朋友正在談論公民投票議題。請問：談話內容顯示下列何種意義？小慶：這次公投案，你去連署了嗎？小煌：當然要連署，要讓政府知道人民的感受。小萍：對啊，這些錯誤的政策一定要修正。

(A)應以公民投票方式，取代公職人員的定期選舉 (B)政府施行任何政策，都必須先經由公民投票同意 (C)人民透過公民投票，促使政府檢討施政 (D)政府藉由實施公民投票，落實均權制度。

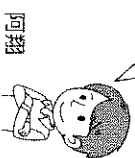
- 17.()我國中央與地方政府的分權方式是採「均權制度」。下列哪一位同學的舉例屬於地方政府的權限？(A)將國民教育改為12年。(B)對行政院長提出不信任案。(C)把徵兵制改為募兵制。(D)垃圾清理費採「隨袋徵收」。



將國民教育改為12年。



對行政院長提出不信任案。



把徵兵制改為募兵制。



垃圾清理費採「隨袋徵收」。

- 18.()我國地方政府所處理的事務繁多，下列何者屬於社會福利方面？(A)辦理老人安養(B)推動科技教育(C)道路修護(D)消防救災

- 19.()同學會後，毓民抄錄以下擔任公職的同學及其任職的機關。請問：其中有哪兩位任職於地方立法機關？(A)華穎、太昀(B)繼傑、華穎(C)毓民、能伊(D)能伊、華穎

◆毓民—山地原住民區民代表會 ◆繼傑—鎮公所
◆能伊—縣議會 ◆華穎—立法院 ◆太昀—直轄市政府


- 20.()附表是我國辦理總統大選時四位國民的相關資料。根據資料判斷，下列何人最可能在本次選舉中具有投票資格？(A)阿中(B)小冰(C)濃濃 (D)安安

姓名	年齡	備註
阿中	17歲	曾擔任校內自治市市長
小冰	24歲	受法院監護宣告
濃濃	46歲	受法院宣告褫奪公權
安安	19歲	曾有傷害罪前科

天氣：晴
2019/11/21
每個候選人都很優秀，看一次不見發表會好了，把日期記在下面就不會忘了，期待候選人們的表現！
2020年中華民國總統、副總統及民意代表會時程表

總統 (一)	2019年12月18日 (三)
副總統	2019年12月20日 (五)
總統 (二)	2019年12月25日 (三)
總統 (三)	2019年12月27日 (五)

- 21.()附圖為候選人當選後發表感言的情景，根據圖中對話，與下列何者密切相關？(A)候選人的素質(B)候選人的性別(C)候選人所屬政黨的理念(D)候選人所屬政黨的財力




- 22.()為促進臺北市與新北市整體發展，於互利合作之基礎上推動各項重大發展計畫及跨區建設，期透過雙方經驗交流與資源分享，共同攜手創造最大效益，並提供市民優質生活環境，成立「雙北合作交流平臺」。請問：「雙北合作交流平臺」的成立與下列何者敘述相關？(A)中央政府與地方政府合作的重要性(B)地方政府需要中央的統籌規畫與資源挹注(C)地方政府協力推動中央政府的政策和法律(D)公共事務龐雜，並非單一地方政府所能獨立應付
- 23.()育梅在以下的社群網站上留言，記錄前往某一國家的所見所聞。請問：根據她的敘述，可推斷出何事？(A)該國政黨政治運作成功(B)該國缺乏選舉制度(C)該國軍隊不受政府控制(D)該國人民投入政治參與行動

荷槍實彈的軍隊與手無寸鐵的人民對峙，但一波波從各地趕來響應的民眾像潮水般湧入，要求政府與總理為錯誤的決策負責……。

- 24.()下列何者屬於地方自治團體？(A)臺灣省(B)彰化縣中西里(C)屏東縣楓港村(D)嘉義縣阿里山鄉

- 25.()選舉在即，三個朋友聚在一起交換意見，由對話可知三人具有下列何項表現？(A)具備民主風度(B)嚴正拒絕賄選(C)遵守投票原則(D)展現民主素養



- 26.()附圖為兩位官員的對話，根據內容判斷，下列敘述何者正確？
 (A)中央挹注地方政府資源(B)中央政府主導此河川整治計畫
 (C)地方政府協力執行中央制定之法律(D)中央政府負責協調民間相關資源

- 27.()小江在考前與讀書會的成員討論單一選區兩票制的內涵，哪位同學的觀念正確？(A)小丸(B)小新(C)阿福(D)阿咪

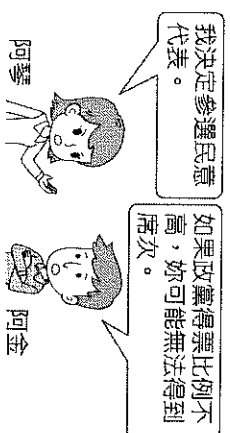
內涵	
姓名	
小丸	單一選區是每一選區只選出一名區域立委
小新	會拿到兩張選人的選票
阿福	當選者負責施政，管理國家事務
阿咪	不分區立委由各選區最高票者當選



臺中市市長

行政院院長

- 28.()根據附圖中兩人的對話，阿琴要參選的是哪一種公職人員選舉？(A)直轄市議員(B)鄉民代表(C)全國不分區立委(D)區域立委



阿琴

阿金

- 29.()根據附圖對話內容判斷，參選人應是投入下列何種公職人員的選舉？(A)立法委員(B)鄉長(C)縣議員(D)直轄市山地原住民區代表



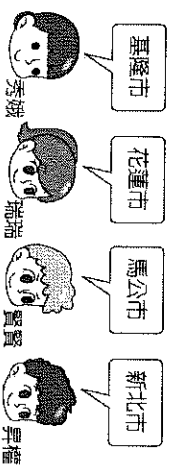
- 30.()我國中央與地方政府的分權方式採均權制度，凡事務有全國一致之性質者，屬於中央權限。請問：下列何者屬於中央政府之職權？(A)進行城市文化交流(B)修改所得稅的稅率(C)國民中學的鄉土教育課程上課內容(D)提供老人醫療服務



- 32.()附圖父子正在一同收看新聞，關於此「選舉」的敘述，下列何者正確？(A)為地方民意代表之選舉(B)屬於「事的投票」(C)為行政首長之選舉(D)選制為單一選區兩票制




- 33.()八年級的世理參加棒球夏令營，發現同學自我介紹時都來自臺灣不同的「市」。請問：下列哪兩位同學來自相同層級的市？(A)秀娥、瑞瑞(B)賢賢、昇權(C)秀娥、昇權(D)瑞瑞、賢賢



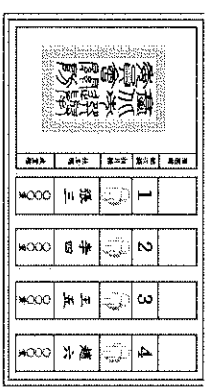
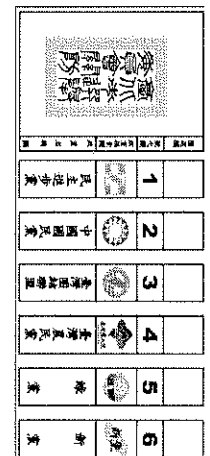
- 34.()複雜性地方事務常跨越不同區域，政策方案的執行涉及許多機關，在多頭馬車事權不一的情況下，易造成下列哪一種情形？(A)中央政府無力介入居中協調(B)執行權責分散導致成效下降(C)中央地方相互制衡防止濫權(D)地方政府各自為政增加效率

- 35.()附圖是阿德擔任公職的心情分享，根據圖中內容，下列何者敘述最正確？(A)阿德服務的區域位於直轄市(B)此原住民區公所屬行政院的派出機關(C)阿德任職於地方行政機關(D)阿德的工作是負責執行上級政府委辦的事項




- 36.()附圖是彥文閱讀有關地方民意機關職權的資料，但墨漬遮蔽了部分文字。下列何者最可能是遮蔽處的內容？(A)修改《憲法》中有關地方制度事項(B)執行上級政府委辦的事項(C)掌理地方公務人員銓敘與退休事宜(D)議決地方自治條例





37.()附圖中的選票應是出現在下列哪一項公職人員選舉?(A)總統、副總統(B)縣、市長 (C)立法委員(D)直轄市議員

38.()附圖為候選人當選後發表感言的情景，根據圖中對話，與下列何者密切相關?(A)候選人的素質(B)候選人的性別(C)候選人所屬政黨的理念(D)候選人所屬政黨的財力



二、題組 (每格 2 分，共 24 分)

(一)日本選舉國會議員採取小選區與比例代表制的方式，人民有兩張選票，一張票選人，以選出一位區域議員，另外一張則投給政黨，目的是依照政黨得票比例來分配 180 名的議員席次。請問：

39.()我國哪一類公職人員選舉採行類似上文說明的選舉制度?(A)總統、副總統(B)直轄市市長(C)立法委員(D)鄉民代表

40.()上文中提及按照比例分配席次，依據我國法律規定，使用該選舉制度的公職人員選舉，政黨得(二)票率必須超過多少比例才能參加席次分配?(A) 5%(B) 6%(C) 8%(D) 10%

2020 年 1 月 11 日，我國合併舉行第 14 任總統、副總統與第 9 屆立法委員選舉。選前關於投票年齡下修的議題再度引發熱烈討論，而此次立委當選人的平均年齡為 53 歲，也誕生了最年輕的立委當選人，國會年輕化成為此次選舉結果的特色之一。請問：

41.()上文中提及享有投票權的議題，應屬於哪一項選舉原則的規定?(A)直接原則(B)普通原則(C)無記名原則(D)平等原則。

42.()文中提最年輕立委當選人，他年齡起碼已滿幾歲?(A) 20 歲(B) 23 歲(C) 26 歲(D) 30 歲

(三)根據行政院人事行政總處修訂規定，颱風過境達停止辦公及上課標準為「未來四小時內暴風圈可能經過的地區，其平均風力達七級以上，或陣風超過十級以上。」局部地區因受地形、雨量、交通等特殊狀況的影響，導致辦公或上課困難者，各縣市政府得依法逕行決定，並通報宣布停止上班或上課。

43.()根據內容判斷，上述做法旨在發揮下列何種功能?(A)強化災難應變(B)因應社會變遷(C)增建公共設施(D)增加社會救助。

44.()上述因應各地情況差異，由各縣市政府決定並負責的做法，最符合下列何種精神?(A)主權在民 (B)地方自治(C)民族自決(D)權力分立。

如妍翻閱舊雜誌時看到以下文章：2019 年末，由中央客家委員會攜手 5 個縣市打造的「浪漫台三線藝術季」登場，透過當代藝術家、設計師的創作，為客家百年傳統注入新能量，共同打造一場以藝術為名的地方創生運動。藉由小鎮觀光及文化體驗，翻轉大眾對客家文化的印象，以達台三線在地的經濟發展與客家文藝復興的目標。請問：

45.()如妍閱讀完上文後可知，「浪漫台三線藝術季」是如何推動的?(A)中央統籌規畫，地方協力推動(B)中央獨立統籌與執行(C)多個縣市政府規畫推動(D)單一地方政府負責推動

46.()根據上文，下列何者最可能是「地方創生運動」下的產物?(A)臺北市的大安森林公園(B)嘉義市的市立游泳池(C)雲林縣的特色鐵花窗(D)宜蘭縣的縣立停車場

公民課是佑佑最喜歡的科目之一，他總是期待能將課堂所學的實際運用在生活中。他今年年滿 18 歲，終於有機會參與人生第一次投票。他在過程中展現良好的民主素養，把握手中珍貴的一票，投下了自己的決定。請問：

47.()佑佑所展現的民主素養最可能為下列何者?(A)審慎考量候選人素質(B)認真分析執政黨政績(C)理性討論各議題內容(D)積極參與造勢晚會

48.()戶籍應設在選舉區至少幾個月才能投票?(A) 3 個月(B) 4 個月(C) 5 個月(D) 6 個月

民國 109 年 1 月 11 日，我國舉行第 15 任總統、副總統選舉與第 10 屆立法委員選舉。此次選舉受到國內外關注，在法國念書的阿喬和被公司派駐中國的小瑀，都特地搭機返國參與投票。請問：

49.()不論是阿喬或小瑀，他們的選票均具有同等價值，這是選舉的何項原則?(A)普通原則(B)直接原則(C)無記名原則(D)平等原則

50.()阿喬由於不符合法律設籍期間規定，因此只具有上述兩項選舉之一的投票權。請問：他設戶籍於選舉區最可能只有幾個月?(A) 3 個月(B) 5 個月(C) 6 個月(D) 8 個月