

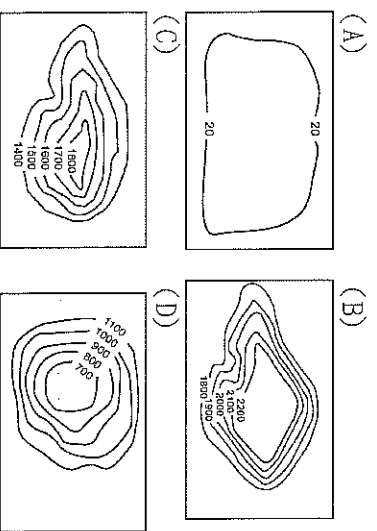
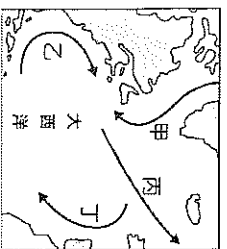
基隆市立武崙國民中學 111 學年度第一學期第二次段考九年級地理科試題卷

1. 單選題，每題 2 分，共 50 題，總分 100 分。  
 2. 答案卡請使用 2B 鉛筆畫記，若畫記錯誤，請擦拭乾淨。分數以電腦讀卡分數為準。  
 3. 答案卡上的資料欄請確實填寫，若資料欄畫記錯誤導致電腦無法正確判讀，扣總分 10 分。

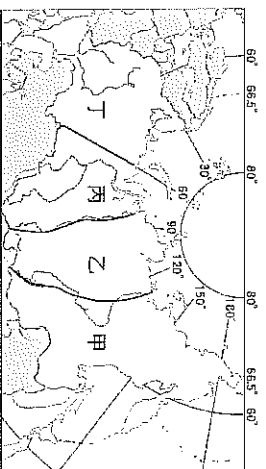
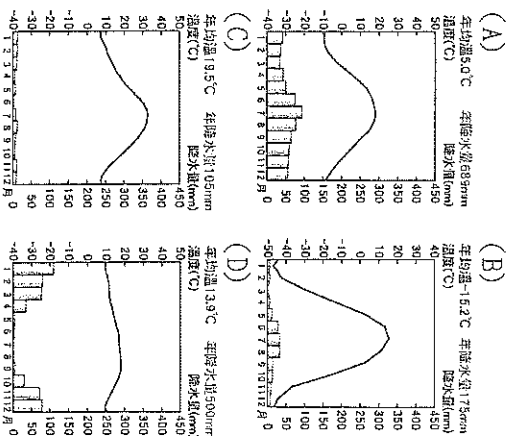
班級： 9 年 班 座號： 姓名：

一、選擇題

- ( ) 1. 歐洲南、北兩區分布著許多半島與島嶼，其中地中海地區的南歐三個半島，若由東到西排列，依序為何？(甲)巴爾幹半島 (乙)伊比利半島 (丙)義大利半島  
 (A)甲乙丙 (B)甲丙乙 (C)乙甲丙 (D)乙丙甲。
- ( ) 2. 下列哪一座山脈是歐洲與亞洲的界山之一？  
 (A)高加索山 (B)亞特拉斯山 (C)阿爾卑斯山 (D)斯堪地那維亞山。
- ( ) 3. 下列何者為歐洲自然環境的共同特徵？(A)氣候皆夏雨冬乾 (B)皆以高原為主體 (C)皆位於東半球 (D)境內無沙漠分布。
- ( ) 4. 俄羅斯的西伯利亞地區範圍廣大，若乘坐火車沿西伯利亞鐵路由西向東行，沿途經過的西伯利亞地形區依次為何？  
 (A)山地、平原、高原 (B)高原、山地、平原  
 (C)平原、山地、高原 (D)平原、高原、山地。
- ( ) 5. 莫曼斯克是俄羅斯西北部位於極圈之內的重要軍港，也是俄羅斯最重要的核潛艇基地，其位居高緯但港口終年不凍，主要是受到下圖中哪一條洋流的影響所致？(A)甲 (B)乙 (C)丙 (D)丁。

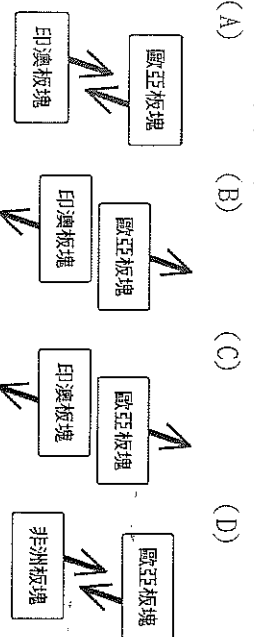


- ( ) 9. 受到新型冠狀病毒所引發的疫情影響，我國疫情指揮中心考量歐洲地區的人員流動自由且頻繁，邊境管制較低，其傳播疫情之風險不容忽視，因而將歐洲多數國家列為第三級警示，請民眾避免至當地進行非必要之旅遊。歐洲地區之所以人員流動頻繁、邊境管制較低，與下列哪一個條約的簽訂有關？  
 (A)巴黎協定 (B)歐盟條約 (C)申根公約 (D)維也納公約。
- ( ) 10. 以同緯度的東歐與西歐地區比較，東歐哪一項氣候資料的數據『較小』？(A)年降水量 (B)年溫差 (C)夏雨比例 (D)夏季最高溫。
- ( ) 11. 俄羅斯地處高緯，氣候上具有「冷」、「乾」的特性。下列為四地的氣候圖，何者最有可能位於俄羅斯北亞範圍的極圈之內？




- ( ) 12. 俄羅斯地跨歐、亞兩洲，是世界面積最大的國家，附圖中哪一代號區不屬於亞洲範圍？  
 (A)甲 (B)乙 (C)丙 (D)丁。
- ( ) 13. 因地球傾斜繞太陽公轉而有四季區分，極圈內因此也有永晝與永夜的現象，若此時 12 月前往下列哪一個國家有可能看到永夜的現象？  
 (A)瑞典 (B)波蘭 (C)瑞士 (D)法國。
- ( ) 14. 亮亮到德國旅行時，某日的行程是瀏覽河川風光，她坐在遊船上欣賞兩岸風景，聽著導遊的介紹：「這條河川發源於阿爾卑斯山，總長度約 1,000 多公里，流經瑞士、德國、法國與荷蘭等多個國家與多個重要工業區，是歐洲航運價值最高的河川，出海河口鹿特丹是歐洲最大港口。」請問：亮亮正在哪一條河川上遊河？(A)萊茵河 (B)多瑙河 (C)塞納河 (D)泰晤士河。

- ( ) 15. 南歐受板塊擠壓，多火山與地震，如龐貝城即因火山爆發，整座城市被火山灰掩埋，消失於歷史中。若將此區的板塊名稱及活動方向畫成示意圖，應最接近下列哪一張？



- ( ) 16. 若將歐洲的民族分為拉丁民族、日耳曼民族、斯拉夫民族，以及東方民族四類，則俄羅斯主要屬於哪一族的分布區？(A)拉丁民族 (B)斯拉夫民族 (C)東方民族 (D)日耳曼民族。

- ( ) 17. 下圖是法國兩個農夫的對話，兩人提到○○國家的因為緯度較低，蔬果較早熟，○○最有可能為下列哪一個國家？(A)丹麥 (B)英國 (C)波蘭 (D)西班牙。

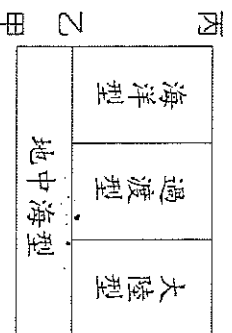


- ( ) 18. 承上題，受氣候影響，○○當地的傳統特色菜肴，最有可能使用下列哪一組本土種植的農產？  
(A)可可、鳳梨 (B)蔗糖、茶葉 (C)咖啡、椰子油 (D)橄欖、葡萄酒。

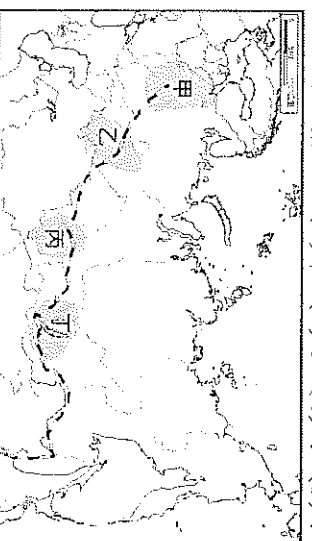
- ( ) 19. 附表關於英國工業轉型與升級的敘述，哪些正確？  
(A)甲乙丙 (B)甲乙丁 (C)乙丙戊 (D)丙丁戊。

(甲) 礦產資源	因此極海的石油帶來豐厚利潤，滿足國內工業需求。
(乙) 面臨的挑戰	礦產枯竭、設備老舊。
(丙) 轉型方向	積極推動高科技產業。
(丁) 工業產品	質地精良的汽車、機械、化工儀器產品博得聲譽，如寶馬(BMW)汽車。
(戊) 代表工業區	劍橋科學園區，有「歐洲矽沼」之譽。


- ( ) 20. 附圖中甲、乙、丙代表分隔這些氣候類型的緯度線。請問：甲、乙、丙依序應填上哪些數字才合理？  
(A) 10°、20°、40° (B) 20°、30°、50°  
(C) 30°、40°、60° (D) 40°、50°、70°



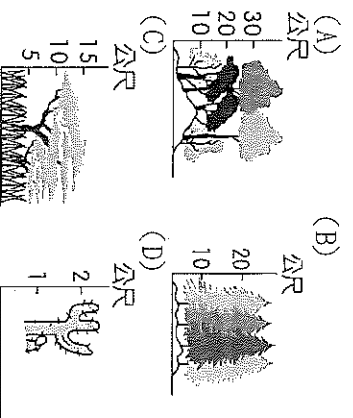
- ( ) 21. 附圖為俄羅斯的主要工業區分布圖。圖中哪一個工業區位於俄羅斯的精華區，是人口眾多、發展歷史悠久的工業區？(A)甲 (B)乙 (C)丙 (D)丁。



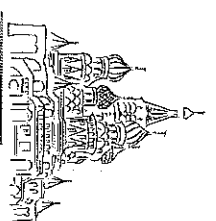
- ( ) 22. 目前，德國土耳其移民已經非常多元，包括第一代的移民、隨遷的配偶、申請政治庇護的難民、在土耳其移民家庭出生長大等，土耳其目前也是德國境內最大的移民群體，約有 300 萬人。請問，土耳其移民和移民在德國人數眾多，其主要原因為何？  
(A)德國經濟發展程度較佳，拉力強 (B)土耳其位在巴爾幹半島，毗鄰德國 (C)同屬歐盟成員，人員可自由流通 (D)兩國宗教信仰上都以伊斯蘭教為主。



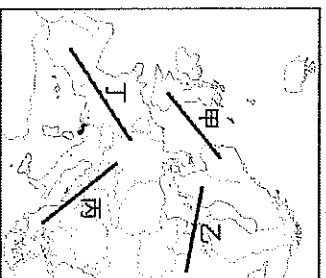
- ( ) 23. 俄羅斯娃娃是由多個相同圖案的空心木頭娃娃，一個套一個組合而成，是俄羅斯最具代表性的紀念品有各種造型，如附圖中的政治人物的娃娃。此木頭屬於下列哪一種植物林相？



- ( ) 24. 飄飄到俄羅斯首都莫斯科旅遊，該建築有著洋蔥式的穹頂，由九座塔樓構成，不僅是典型的    建築，也是珍貴的世界文化遺產。請問：上文中的    應填入何者較適合？  
(A)天主教 (B)東正教 (C)基督教 (D)伊斯蘭教。

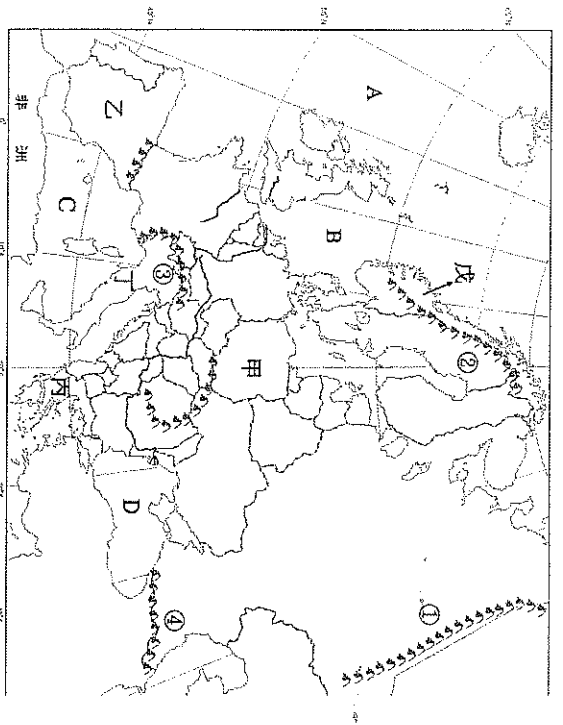


- ( ) 25. 歐盟基於人道主義，在希臘北部至德國東南部之間建立「人道救援走廊」，協助經由地中海入境的難民，並宣布要安置 12 萬難民至各會員國。請問：上述的人道救援走廊與附圖中哪一條線段最相符？  
(A)甲 (B)乙 (C)丙 (D)丁。

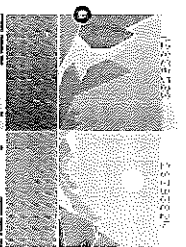


## 二、題組題

(一) 附圖為歐洲地形圖，請回答下列各題：




- ( ) 26. 世界上許多國家的護照都設計得十分精緻巧妙，2020 年底某國新版護照正式發行，不同於一般護照的框架，以境內的自然景觀如峽灣、極光、山脈為靈感，打造出被譽為「全世界最美的護照」。最特別的是，在日光照射下，護照內頁會出現海灣景色；而在紫外光下，將呈現夜景和令人嚮往的北極光。請問此設計發想最可能是以上圖中何處的海岸為背景？(A)乙 (B)丙 (C)丁 (D)戊。



- ( ) 27. 承上題，峽灣的前身是 U 型谷，形成峽灣表示當地海陸升降的情形應為何？(A)海面上升，陸地上升 (B)海面上升，陸地下降 (C)海面下降，陸地上升 (D)海面下降，陸地下降。

- ( ) 28. 右圖照片中為位於希臘的桑托里尼，該地漆著白牆的建築依山而建，希臘的藍與白讓人心生嚮往。請問該島位於歐洲地形圖中的何處？照片中應該是哪一個海洋？(A)B，北海 (B)丙，愛琴海 (C)D，黑海 (D)A，大西洋

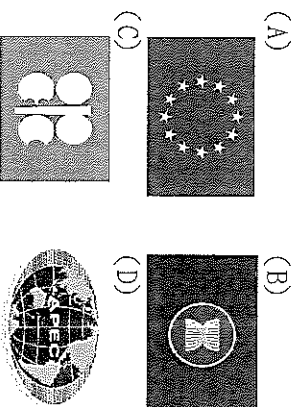


- ( ) 29. 2016 年全球最長的鐵路隧道——聖哥達基線隧道完工。這條長 57 公里雙孔隧道將用高速火車把北歐和南歐連接起來，歐洲每年有上百萬輛卡車運輸的貨物，將來都經這條鐵路運送。除了有利瑞士的對外交通，與其相鄰的德國及義大利也成為最大受益者。由上文可推測，請問聖哥達基線隧道穿越上圖的哪一座山脈？(A)① (B)② (C)③ (D)④。

- ( ) 30. 承上題，該山脈雖為南歐與西歐的天然分界，卻險而不阻，其主要的原因為何？(A)山脈主要南、北走向，不構成障礙 (B)冰河侵蝕成的 U 型谷，形成天然交通孔道 (C)地勢雖高但並不險峻，鐵路修築難度不高 (D)多條河川穿過山脈，交通線即經由河谷低地修築。

(二) 為了增進地區在國際上的競爭力，相鄰的國家常結盟為區域性的組織。歐洲在西元 1993 年正式成立一個區域經濟組織——歐盟 (EU)。請回答下列問題：

- ( ) 31. 下列何者為歐盟目前使用的盟旗？

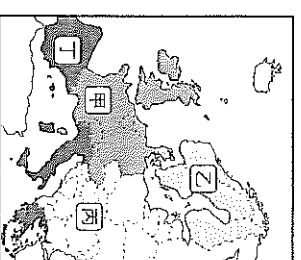


- ( ) 32. 歐盟至今共有 27 個會員國，影響擴及歐洲各部。請問：歐盟的總部設立於何處？(A)英國倫敦 (B)義大利羅馬 (C)法國巴黎 (D)比利時布魯塞爾。

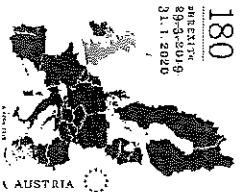
- ( ) 33. 歐盟致力於將歐洲各國統合為單一市場，發行共同貨幣，且貨幣可自由流通。請問：上述共同貨幣為下列何者？(A)英鎊 (B)克朗 (C)歐元 (D)澳幣

- ( ) 34. 歐盟是由歐洲國家經過一系列的談判與合作，逐步組成的區域性經濟組織。請問：歐洲國家組成歐盟的原因，下列敘述何者正確？(A)限制歐洲以外國家貨物進口 (B)促進歐洲的和平與穩定 (C)開放邊境加強軍事交流 (D)提高各國關稅以穩定稅收

- ( ) 35. 隨著歐盟的擴張，加入的會員國也愈來愈多，但區域發展不均的問題也愈趨明顯，成為歐盟發展的隱憂之一。請問：歐盟會員國中，經濟發展程度相對落後的國家，主要位於右圖中的哪一個區域？(A)甲 (B)乙 (C)丙 (D)丁。



- ( ) 36. 附圖為奧地利為了紀念某個重大事件而發行的郵票。由於協商不順利，使得該協議正式生效日一再拖延，直到 2020 年 1 月 31 日才達成。請問：該重大事件最可能為下列何者？(A)歐盟因應新冠肺炎疫情關閉邊境 (B)歐洲聯盟成立 (C)東歐國家加入歐盟 (D)英國脫歐。



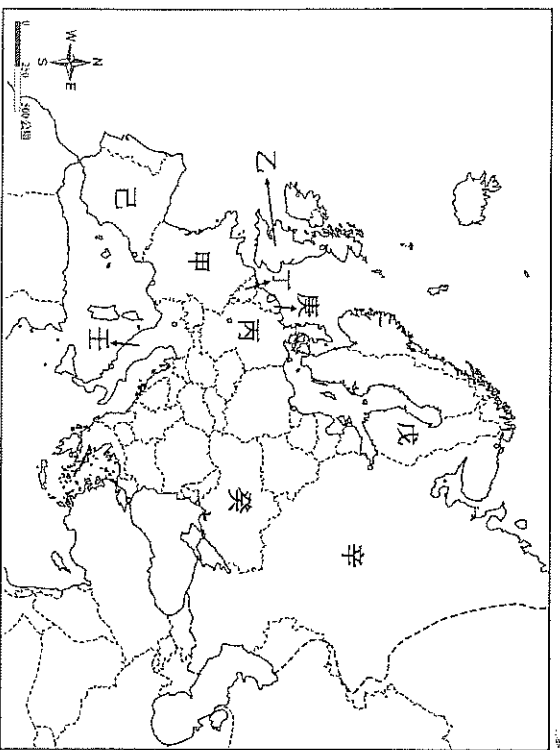
- (三) 日本電源動畫《小天使》，描述 19 世紀末「失去雙親的小女孩小蓮，被帶往其爺爺所居住的阿爾卑斯山，展開新生活。小蓮結交到許多好朋友，有牧羊少年小豆子、山羊等動物們，和山下村民過著平靜且無憂無慮的日子。但有一天，小蓮被姨母送往德國的有錢人家裡，由於這戶人家的女兒不良於行，需要一名畫畫兼玩伴，而到了德國法蘭克福的小蓮，和這家女兒小芬成了好朋友。只是，生活在大戶人家嚴厲的管教之下，小蓮煎熬成疾，最後還是回到了最喜歡的阿爾卑斯山和爺爺身邊。而小芬之後到山上拜訪小蓮，在小蓮、小豆子的陪伴下，不僅獲得許多成長，更成功克服了自己的疾病。」請問：

- ( ) 37. 文中的阿爾卑斯山是歐洲最高的山脈，若小蓮與好友在山區四處遊玩，他們應該『看不到』哪一種地形美景？(A)冰河 (B)峽灣 (C)U 型谷 (D)冰蝕湖。

- ( ) 38. 文中小蓮爺爺所居地區的村民多以牧羊維生，時至今日，該區域依然以酪農業為主，造成此種現象的原因為何？(A)日照充足、冬季少雨 (B)地處高緯、終年少雨 (C)夏季涼爽、土壤貧瘠 (D)深居內陸、運輸不便。

- ( ) 39. 小芬所在的德國，在19世紀中期已是歐洲主要工業區的分布地，經濟發達，主要是因為其具有下列哪兩項優越條件？(甲)煤礦豐富 (乙)鐵礦眾多 (丙)勞工廉價 (丁)水運網便利  
(A)甲乙 (B)甲丁 (C)乙丙 (D)丙丁。

(四) 胡黎與邦妮決定一起到歐洲旅遊，出發前收集歐洲各國的新聞與資料。附圖為歐洲國家地圖，請問：




- ( ) 40. 出發前，胡黎看到新聞報導：

「○○○在當地時間2月24

日清晨，向XXXX境內多個目標發動攻擊，此次入侵是第二次世界大戰以來歐洲最大規模的軍事衝突。」請問上述中的○○○與XXXX分別是哪兩個國家？  
(A)辛, 癸 (B)辛, 戊 (C)壬, 己 (D)癸, 丁。



- ( ) 41. 邦妮在Netflix觀看著名影集《艾蜜莉在巴黎》，艾蜜莉是隻身來到時尚之都巴黎闖天下的美國獨立新女性。艾蜜莉會在巴黎的愛馬仕、香奈兒、路易威登等國際精品購物，喝著左岸咖啡，欣賞鐵塔、羅浮宮。請問艾蜜莉是在圖中的哪個國家？(A)甲 (B)乙 (C)己 (D)壬。

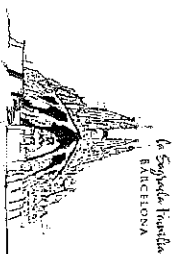


國家簡介中描述：「這個國家是歐洲工業產值最大的國家，發展各項工業。生產的工業產品素質精良、品質卓越。附圖是該國在臺灣銷售情形相當良好的汽車品牌...」請問：這資料最有可能是說明哪一個國家的特色？(A)甲 (B)丙 (C)庚 (D)辛。



- ( ) 42. 他們出發前收集的

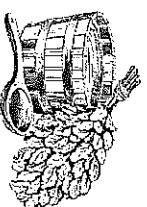
- ( ) 43. 胡黎查到巴國有著名的觀光聖地——巴塞隆納，其夏天向來以藍、白為主要代表顏色，其天空及海洋皆為一片湛藍色彩，十分美麗；遊客可以參觀動工百餘年現仍未完成的天才建築家高第的代表作聖家堂，該建築以其獨具匠心的設計聞名世界。請問：在下列哪一個時段前往聖家堂旅遊，最『不會』遇到下雨天？  
(A)1月 (B)3月 (C)7月 (D)11月




- ( ) 44. 旅行的第一站首先抵達北歐某國，看到許多人在著名的藍湖泡富含礦物質的地熱熱水(如附圖)，附近還建有冒煙的煙囪，聽說是地熱發電廠。請問：他們最可能在哪一個國家旅遊？  
(A)冰島 (B)英國 (C)波蘭 (D)西班牙。



- ( ) 45. 胡黎在旅遊日記中寫到：「北歐○國冬季嚴寒而漫長，當地流行以桑拿禦寒，「桑拿」是指在湖畔小木屋內享受高溫蒸氣，以樹枝輕輕拍打並按摩身體，然後跑出屋外躍入冰蝕湖中，利用湖水冷冽的特性收縮肌膚。真是個有趣的體驗！」請問：○國位於圖何處？  
(A)甲 (B)丙 (C)丁 (D)戊。



- ( ) 46. 邦妮買到一張歐洲某國的明信片當紀念品，該國有三分之一的國土低於海平面，土壤因鹽分較高較為貧瘠，故在沿海地區發展園藝農業種植鬱金香並飼養乳牛，且自古便善於運用風力來排水。這應該是圖中哪一個國家？(A)乙 (B)癸 (C)庚 (D)壬。



- (五) 台灣近日屢次調漲油價，歐洲天然氣價格亦創新高，且漲勢似乎仍未停歇，最終可能導致通膨壓力推升這也突顯零碳排放與綠能已成未來趨勢。

漲價最直接因素是歐洲重要天然氣來源——俄羅斯減少供應和中國能源需求大增，另外，氣象預測今年北半球冬季嚴寒，讓歐、美、亞買家罕見的在夏季開始搶購建立庫存。長期性因素是嚴格碳排放標準下，歐美大力推動能源從化石燃料轉向再生能源，令油商不敢再大幅投資石油與天然氣的開採，但再生能源未能大幅增加，當下使用天然氣是最佳選擇。

科學家已警告今年底北半球會出現「反聖嬰現象」(La Nina)而令冬季極度嚴寒。其實今年南半球冬季早已出現酷寒乾旱，已令巴西農業受重創，糖價與咖啡豆價格大漲至創數年新高都與此有關。現在北半球已經過了中秋，隆冬已來臨，令人擔心歐洲在今年冬季可能沒有足夠能源取暖。請問：

- ( ) 47. 文中提及歐洲愈來愈依賴哪一個國家提供的天然氣？  
(A)中國 (B)沙烏利阿拉伯 (C)俄羅斯 (D)伊朗。
- ( ) 48. 下列何者並非「歐洲天然氣價格創新高的主因」？  
(A)歐洲天然氣來源地減少供應 (B)預期「反聖嬰現象」(La Nina)造成冬季極度嚴寒，買家因而搶購 (C)嚴格碳排放標準下，歐美大力推動能源從石化燃料轉向再生能源，投資石油與天然氣開採的資金大幅增加 (D)中國能源需求大增。
- ( ) 49. 環保意識抬頭，綠能已成未來趨勢，請問：歐洲最「不可能」推動下列哪一種能源？  
(A)太陽能 (B)風力能 (C)地熱能 (D)化石燃料。
- ( ) 50. 風力發電的裝置量與發電量在歐洲地區愈來愈高，如今丹麥的風力發電能已占該國電量的47%，愛爾蘭、英國和德國的比例也逐年提高。請問：歐洲地區可利用下列哪一個盛行風向來發電？  
(A)西風 (B)東南信風 (C)東北季風 (D)東風。