

基隆市立武崙國民中學111學年度第一學期第二次段考八年級歷史科試卷

年 班 座號： 姓名：

☆本試卷包含兩大題：選擇題、非選擇題

一、選擇題(1-20每題2分，21-40每題2.5分，共90分)

- ()班上同學正在討論中國科技的發展。柏翔說：「早在漢代我們已經把火藥運用到戰爭中。」浩宇說：「火藥在怛羅斯之後就西傳了！」楊明說：「中國活字版印刷術是沈括發明的！」筱荷說：「指南針的技術運用於航海，經阿拉伯人傳入歐洲！」。請問哪一同學的法說是正確的？(A)柏翔 (B)浩宇 (C)楊明 (D)筱荷。
- ()小丸子遊歷中國宋元之際，發現此時國內外經濟活動非常繁榮。請問：哪一項述敘是正確？(A)坊市分離限制取消，可以逛夜市吃烤玉米 (B)廣州和泉州設市船司，商船林立 (C)各地廣設驛站，歐亞非三洲交流頻繁 (D)出外經商，可以遇到各地商幫的同鄉人。
- ()史學家黃仁宇認為：「從物質生活講，十二世紀的中國宋代，無疑的已領先世界。」這主要是針對宋代哪一項特色而提出的看法？(A)科技發達與商業興盛 (B)兼容並蓄的多元文化 (C)統一幣制並通行全國 (D)開鑿運河使物資交流。
- ()小花在複習兩宋時期的歷史後，做出一張表格(如附表)。請問：表中何者錯誤？

| | 北 宋 | 南 宋 |
|--------|--------|------|
| (甲)建國者 | 宋太祖 | 宋高宗 |
| (乙)建都 | 汴京 | 建康 |
| (丙)外患 | 遼、西夏、金 | 金、蒙古 |
| (丁)亡國 | 金 | 蒙古 |

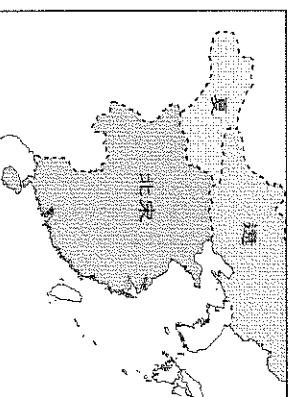
- ()以下是中國某朝代首都的簡介：「這是一座依計畫興建的城市，城中可見基督教教堂、伊斯蘭教清真寺及佛教寺廟。朝廷聘用色目人擔任財政官員，並推行全國性紙幣政策，加上各地物資的集中，讓這座城市成為金融經濟中心。」上述城市最可能是指下列何者？
(A)東漢洛陽 (B)唐代長安 (C)北宋汴京 (D)元代大都。
- ()岳飛的《滿江紅》一詞中有：「……靖康恥，猶未雪。臣子恨，何時滅……」，文中「靖康恥」是指何事？(A)北宋二帝遭女真所俘 (B)遼取得燕雲十六州之地 (C)宋真宗輸送歲幣給遼 (D)流寇攻陷北京。
- ()老師講述中國歷史時說到：「這個民族是中國歷代邊疆民族中，漢化程度較淺的民族之一。他們入主中國後，為了保持統治地位，各級長官甚少任用漢族人士，對漢人、南人採取高度控制的態度及手段，結果引起漢人、南人的不滿與反抗。」老師介紹的是下列哪一民族？(A)鮮卑族 (B)契丹族 (C)女真族 (D)蒙古族。
- ()17世紀時西方商人來東亞地區貿易，他們買走了南洋群島的香料和中國的生絲、瓷器，同時，一種貴重金屬則湧入中國，造成了中國貨幣經濟的重大變化。請問：該項金屬是下列何者？
(A)黃金 (B)白銀 (C)銅錢 (D)青銅。
- ()起源於中國東北的女真部族，曾在歷史上建立哪兩個國家，影響到中國歷史的發展。
(甲)西夏(乙)遼國(丙)金國(丁)滿清？ (A)甲乙 (B)乙丙 (C)丙丁 (D)乙丁。
- ()朱熹在廬山白鹿洞書院講學，制定學規。畢生精力用於著書立說、講學教徒。集宋代理學之大成，建立一套完整的體系。同時整理文獻、廣注典籍，後世視為理學正宗。他的哪一部著作成為後世科舉考試的定本？(A)《夢溪筆談》 (B)《資治通鑑》 (C)《四書集注》 (D)《論語》。
- ()明朝末年，有一位歐洲傳教士隨著新航路的開通後來到中國，進而到中國進行傳教，而為了要順利傳教工作，他允許中國教徒祭拜祖先和孔子，也將西方科學知識與技術，如幾何學、西洋曆法等介紹到中國，並且與中國方面的知識分子保持良好的關係，對於中西文化交流層面影響甚深。根據上述所提及的內容當中，這一位傳教士應是何者？(A)湯若望 (B)利瑪竇 (C)徐光啟 (D)馬偕。
- ()西元2022年，俄羅斯對烏克蘭發動戰爭，莫斯科是俄羅斯首都，基輔為烏克蘭首都，俄羅斯政府與烏克蘭政府對於彼此是否為同一民族並沒有共識。請問：俄羅斯與烏克蘭在十三世紀時，屬於哪個國家？(A)中國 (B)俄羅斯 (C)欽察汗國 (D)察合臺汗國。
- ()「此時，皇帝對周圍民族的影響力很大，中原政權逐漸擴張，並將勢力伸向遙遠的歐洲地區。國內各色人種流動，統治者也對不同族群盡量抱持尊重，不同的文化、技術和思想構築出一代盛世的樣貌。」上文應在描述中國哪一個朝代的政治體系？(A)西周諸侯封建組織 (B)秦朝中央集權社會 (C)唐朝的天可汗體系 (D)元朝構築的國際秩序。

14. () 「聯金滅遼」、「聯蒙滅金」是影響宋朝歷史進程的重要事件，宋朝為對抗北方民族的侵擾與武力威脅，需要採取結盟、聯合等策略，借助他國的力量維護邊疆的安寧。請問：關於「聯金滅遼」和「聯蒙滅金」所造成的結果，下列何者正確？(A)兩次行動皆使宋朝重振天下共主的威名 (B)聯金滅遼後，女真族成為宋朝的主要外患 (C)聯蒙滅金後，蒙古轉而攻宋，史稱靖康之禍 (D)兩次行動使得宋朝順利收復燕雲十六州。
15. () 中國的皇帝在很早之前就知道往西域的陸路交通很重要，因為這讓他們的影響力可以擴及北疆，甚至及於中亞地區。然而某時期的皇帝對此卻心有余而力不足，北方強大的異族阻礙了往西域的陸路，他們只能憑藉著進步的造船技術往海上發展，最終透過活絡的海上貿易而對西方世界產生一樣的影響效果。請問：上述文字所描述應為哪一個時代？(A)漢朝 (B)唐朝 (C)宋朝 (D)元朝。
16. () 歐洲許多博物館裡，收藏了不少中國景德鎮的瓷器。它們有青花瓷、彩瓷；上面有中國式的圖像，也有西洋景觀。請判斷這些瓷器的西傳與下列哪一事件是同時期發生的？
(A)佛教東傳 (B)馬可波羅東來 (C)耶穌會傳教士東來 (D)阿拉伯人由海路前往廣州
17. () 同學們在討論歷史上某一制度，根據下列同學們討論的內容判斷，這個制度應該為何？

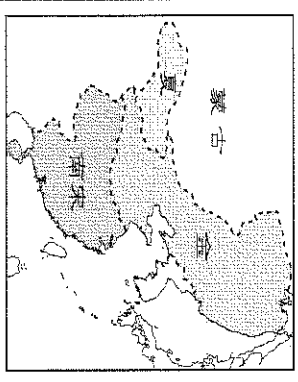
明明：「明代與清初時，當時民間的海外貿易幾乎停頓，只剩下藩屬鄰邦對中國的進貢。」
真真：「外國必須接受中國的冊封，才能藉進貢的名義與中國進行貿易。」

(A)市舶司制度 (B)朝貢貿易 (C)鎖國政策 (D)海禁政策。

18. () 中國歷史在朝代快滅亡時，往往老百姓受苦最多，最後官逼民反，老百姓就跟政府拼了。明朝末年的哪一場民亂事件，就導致了國家的覆亡？
(A)流寇之亂 (B)倭寇之亂 (C)黃巾之亂 (D)安史之亂
19. () 歷史課時，老師在黑板展示下列兩圖。由圖(一)演變到圖(二)，顯示老師上課的主題最可能是下列何者？
(A)杯酒釋兵權 (B)陳橋兵變 (C)澶淵之盟 (D)靖康之禍



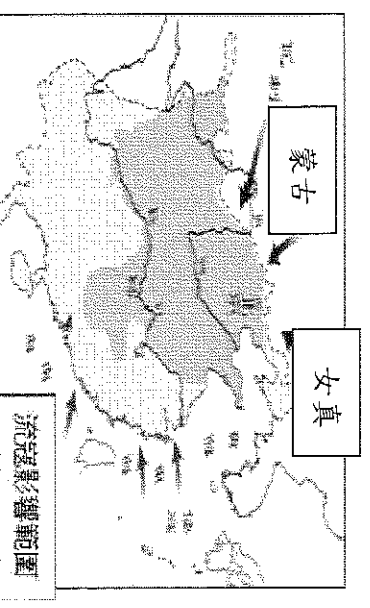
圖(一)



圖(二)

20. () 下列是歷史老師上課的內容。依你的歷史知識判斷，老師講述的是哪位帝王的事蹟？
(一)興修長城 (二)北伐蒙古 (三)遷都北京 (四)鄭和下西洋

21. () 馬可波羅所著的《馬可波羅行記》記載：「所有通至各省之要道上，每隔二十五邁耳(mille)，或三十邁耳，必有一驛。無人居之地，全無道路可通，此類驛站，亦必設立。……合全國驛站計之，備馬有三十萬匹，專門欽使之用。」由文中可知，驛站的設置目的，應是下列何者？(A)為東西方統治聯繫需求而設置 (B)為測量距離而設置的觀測所 (C)設置於國家邊境，確認國土範圍 (D)專為西征時的軍隊需求而設置。
22. () 阿明世居汴京，當蒙古人統一中國後，阿明在元朝的統治下，與蒙古人發生衝突，阿明到官府想請官員幫他主持公道，但他發現法律上對蒙古人有許多保障。請問：這是因為阿明屬於元朝統治下的哪一個階級？
(A)蒙古人 (B)色目人 (C)漢人 (D)南人。
23. () 亮亮在《漫話中國歷史》一書裡，發現右列附圖，表示中國某一政權正面臨嚴峻的考驗，處於內憂外患不斷的情況下。這很有可能是哪個朝代的問題？
(A)唐代 (B)宋代 (C)明代 (D)清代
24. () 一份歷史文告寫道：「自宋朝覆亡，北方外族入主中原，百年不到，天下大亂。我本是平民，被眾人推舉，率軍攻占金陵(今南京)，再北上驅逐胡虜色目(指西域的人)等雖為異族，但若衷心歸順，仍是中華子民。」以上敘述與下列哪一史事關係最密切？
(A)朱元璋起兵反元 (B)鄭成功反清復明 (C)趙匡胤黃袍加身 (D)鐵木真創建蒙古國



25. () 南宋中葉，北方的蒙古族興起，哪一位傑出的首領統一蒙古諸部，建蒙古國，各部首領尊稱他為成吉思汗？
(A)忽必烈 (B)鐵木真 (C)耶律阿保機 (D)完顏阿骨打。
26. () 蒙古族興起後，成吉思汗及繼位者向外擴張，發動三次西征。金、西夏、南宋皆為蒙古所滅，請按照這三個國家被滅的順序加以排列？

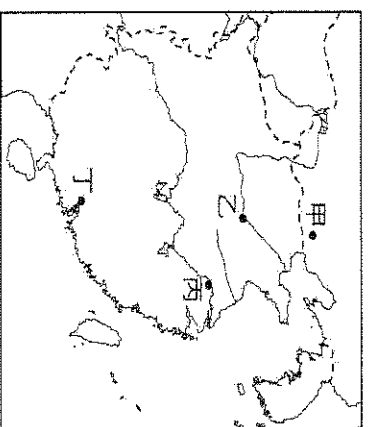
27. (A) 金→西夏→南宋 (B) 南宋→金→西夏 (C) 西夏→南宋→金 (D) 西夏→金→南宋
 () 中國歷代帝王中，若以「北魏孝文帝」、「元世祖忽必烈」、「清聖祖康熙」三人為對象進行比較，下列哪一段比較結果是正確的？ (A) 他們都是外族在中國所建之政權的統治者 (B) 他們都因為尊崇中國文化而全面徹底漢化 (C) 他們都實施種族隔離政策以確保統治地位 (D) 他們都曾遷移首都，以利掌控擴大的疆域。

28. () 明末清初由於引進新的糧食作物，如玉米、馬鈴薯等，紓緩中國因人口壓力所引起的糧食問題。上述作物是由何處傳入中國的？ (A) 歐洲 (B) 亞洲 (C) 美洲 (D) 非洲

29. () 火藥在中國原本是煉丹的副產物，至唐朝後逐漸用於典禮煙火與軍事用途，至宋元時期已經成為戰爭利器。火藥傳入西方後，使城堡失去防禦功能，加速中古歐洲封建制度的瓦解。火藥傳入西方與下列哪個事件有關？ (A) 蒙古西征 (B) 市船司的設立 (C) 蒙古征服宋國 (D) 怛羅斯之役

30. () 大清建國之後，陸續消滅反對勢力，不斷開拓疆域。請問：下列哪些地區是在清代時納入版圖的？ (甲) 臺灣 (乙) 朝鮮 (丙) 日本 (丁) 新疆 (戊) 西藏 (A) 甲乙丙 (B) 甲丁戊 (C) 乙丙戊 (D) 丙丁戊。

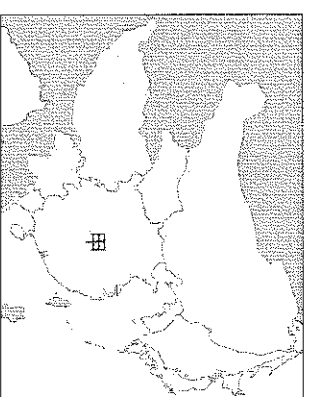
31. () 威廉是位熱愛中國文化的外國人士，喜歡到中國各地旅行。若他想追尋《清明上河圖》中的風貌，拜訪右圖中的哪個城市可以達到目的？(A) 甲 (B) 乙 (C) 丙 (D) 丁



32. () 家家星期天參加了一場演講，演講內容以玄奘、張騫、利瑪竇等人的事蹟為主，請由此判斷，這次的演講主題最可能是下列哪一項？

- (A) 中國文學的時代精神 (B) 外來宗教的中國化 (C) 科技發展與文明變遷 (D) 中西交通與文化交流

33. () 歷史老師要進習與元代歷史有關的隨堂測驗，許多同學忙著複習，下列關於同學們複習的內容，何者有誤？(A) 魯夫：元帝國是蒙古族建立 (B) 香吉士：元帝國的建立者是成吉思汗 (C) 騙人布：元帝國首都在大都 (今北京) (D) 喬巴：元帝國是第一個統治整個中國的草原民族



34. () 附圖為東亞「甲」王朝與周邊國家的形勢圖。在此王朝之前，周邊民族往往向中國稱臣朝貢，但此王朝卻與鄰國建立平等的國際關係，主因為「甲」王朝武力積弱不振，而周邊民族武力卻日益強大。附圖中的「甲」應該是下列何者？(A) 唐朝 (B) 宋朝 (C) 元朝 (D) 明朝

35. () 接上題，此王朝卻與鄰國建立平等的國際關係，主要源自雙方發生了哪事件而導致此改變？

- (A) 澶洲之盟 (B) 聯金滅遼 (C) 靖康之禍 (D) 蒙古西征

36. () 明朝航海家鄭和，曾經多次航行，某地圖王獻上長頸鹿以為貢品，由於從未見過這種生活在熱帶的動物，因此當時的中國人將其稱為「麒麟鹿」。請問：他的遠航創下中外歷史的新紀錄，從當時鄭和首航起點江蘇省出發，追尋鄭和當時遠航的路線。請問：他們的行程不可能經過下列何處？

- (A) 馬來西亞 (B) 東非 (C) 朝鮮 (D) 阿拉伯。

◎宋元時期，得益於遠洋航海技術的發展，沿海城市頗為繁榮，某城市被譽為「東方第一大港」，因興盛的貿易，宋代政府還在當地設立一個海關機構。到了元代，該城商業更為繁盛，來自海外的商人、僧侶、貴族絡繹不絕，阿拉伯商人尤多。事實上，阿拉伯人在當時傳布伊斯蘭文化，不但將其信仰帶入中國，在該城建立清真寺，其中有些人還受聘專門觀測天象，此外，有些從事醫療工作的阿拉伯人還被稱為「回回醫人」。

請依本文回答 37、38 題：

37. () 依據本文的內容判斷，某城市應為下列何者？ (A) 大都 (B) 汴京 (C) 泉州 (D) 上海。

38. () 根據上文，阿拉伯人對元帝國的影響主要在下列哪些方面？甲、宗教；乙、醫學；丙、天文；丁、農業 (A) 甲 (B) 甲乙 (C) 甲乙丙 (D) 甲乙丙丁。

39. () 「這個時代，東亞地區充滿了變動：歐洲諸國先後來到東亞，建立商貿傳教據點，造成不少衝擊；日本幕府為了鞏固統治，實施鎖國；至於中國，來自東北的民族建立新王朝，並對抗勢力施行海禁政策。」上文雙底線處最可能是指下列何者？

臺灣民主國成立 (B) 朱一貴結黨起兵 (C) 郭懷一號召漢人抗爭 (D) 鄭成功家族反清復明

40. () 17世紀時，日本也面臨西方文化的衝擊，其回應措施為下列何者？ (A) 實行門戶開放 (B) 展開革新運動 (C) 全面封閉口岸 (D) 限制傳教通商

二、非選擇題(10%)(請用黑色或藍色原子筆書寫)(每小題2分)

第一大題：

〈燕行錄〉

以下是歷史書籍《燕行錄》的簡介：

歷史學者習慣將朝鮮使者的見聞稱為《燕行錄》，燕是北京的古稱，可以簡單地將此理解為「前往北京的紀錄」。值得注意的是，這種稱呼只流行於清代。對於景仰明帝國的朝鮮人而言，朝見天朝上國的行旅，要稱為《朝天錄》。

那麼，一個生於16~18世紀時期的朝鮮人，他腦海中的「世界」是什麼樣子？

明清時期，「朝鮮使節團」連年以三百人的規模，浩浩蕩蕩地來到中國。這趟行程長達1,200公里，使節團沿著鴨綠江，需要40~60天，才能穿過山海關，來到北京。

朝鮮使節竭力蒐羅關於中國的書籍、文獻，裝箱封存，運回朝鮮。朝見天朝是莫大的文化工程，向朝鮮輸入中國新知。在他們眼中，明帝國並非積弱不振，反而是援救朝鮮免於日本攻占的強盛國家，中華文化以及中國製造的布疋、貨物與商品更是備受推崇，每逢朝鮮使節團出訪中國，都是一趟滿載而歸的商貿交流。

然而，隨著明清改朝換代，朝鮮的世界觀也產生了劇烈的改變！對於滿人入主中原，朝鮮人與明帝國的遺民們同仇敵愾。他們認為滿族建立的清帝國，是以「夷人」身分統治中國的野蠻國家，對此充滿鄙夷。所以，派遣至清帝國的朝鮮使節，稱呼也有所改變，從「朝天使」改為「燕行使」。

1. () 根據本文，朝鮮派往明帝國的使節，正式稱呼應該是？

- (A)朝天使 (B)朝明使 (C)朝鮮使 (D)燕行使。

2. () 我們可以怎麼解釋「燕行使」這個名詞？

- (A)代表朝鮮派往中國的所有使者
(B)只能代表北京派往朝鮮的使者
(C)反映朝鮮對清帝國地位的不認同
(D)清帝國取代明帝國後主動要求改稱。

3. 文中的哪一段話，最能體現明帝國的朝貢貿易體制？(請節錄)

答：【 】

第二大題：

(資料甲)：

有一首敘述民歌〈木蘭辭〉講述木蘭代父從軍的故事。出發前，她採買了她的行頭：「東市買駿馬，西市買鞍韉，南市買轡頭，北市買長鞭」，在各個集市購買從軍的商品，各集市有固定的開放與營業時間。

(資料乙)：

義大利商人馬可波羅到了泉州有此描述：「大可汗從這個城市收穫極大的稅額，所有從印度來的船，要付10%的稅額」，而其他如胡椒、沉香木、檀香木等商品，則要收取40%的運費。」此外，泉州還建有中國第一座清真寺。

(資料丙)：

南宋偏安一隅，有文人懷念北宋的京城：「每個巷弄皆有茶坊、酒店，還有雜耍人賣藝的場所。商人通常會在店鋪購買飲食，不自己烹飪。□□到了半夜三更(晚上十一點到凌晨一點)才打烊，到了五更(凌晨三點到五點)又開張」

1. 資料乙中，馬可波羅描述泉州商稅的收取，請問：此地收稅的單位源自唐代的何種機構？【 】

2. 依據資料甲乙丙，對這些城市的敘述，三者的時間順序依序為何？【 → → → 】

★此張試卷需交回，班級姓名座號未填寫或錯誤，依考場規則扣分★※試題已全部結束，再細心檢查一遍！