


本試卷均為單一選擇題。共 50 題，每題 2 分，總計 100 分。請用 2B 鉛筆將正確答案畫在答案卡上，考試結束後務必交回答案卡給監考官老師。試題卷上也請寫上答案並妥善保管，日後上課需要檢討。

1. ( ) 附圖為中國糧食作物栽種面積比例變化圖，由圖判斷，此種轉變主要受到何種因素影響？



農作物總面積 14.6 千萬公頃 農作物總面積 16.6 千萬公頃  
(A) 機械化高 (B) 市場需求改變

(C) 工業進步 (D) 農業技術進步

2. ( ) 「穹頂之下」是 2015 年 2 月中國媒體人柴靜女士，指出關於中國嚴重空氣汙染的調查片。請問：中國東北、華北平原地區的空氣汙染，可能和當地發展下列何種產業有關？

(A) 紡織工業 (B) 高科技產業  
(C) 鋼鐵工業 (D) 食品加工業

3. ( ) 根據中國國家統計局所發布的報告顯示，2018 年在珠江三角洲地區就業的農民有 4536 萬人，為當地重要的勞力來源。上述大量農民前往都市就業，其主要原因為下列何者？

(A) 農產品多元化 (B) 農村人口過多  
(C) 農民收入偏低 (D) 推廣機械耕作  
( ) 鋼鐵、石化等產



業活動由於所需的原料和動力眾多，再加上生產規模及產品重量等因素影響，世界各國重工業多分布於礦產豐富的地區。附圖中中國境內何處具備相關條件，因此成為重工業的發展重點？

(A) 甲 (B) 乙 (C) 丙 (D) 丁

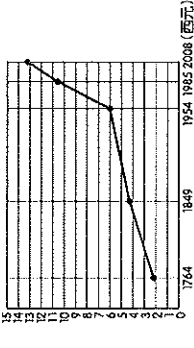
5. ( ) 中國近年來經濟快速發展，然而卻造成貧富差距相當嚴重，根據統計資料顯示，中國需要協助的貧困人口約有一億人，多分布於西部地區。目前中國西部地區經濟發展落後的主要原因為何？

(A) 土地面積狹小 (B) 勞力資源不足  
(C) 對外交通不便 (D) 礦產資源缺乏

班級： 姓名： 座號：

6. ( ) 附圖為中國

(億人)



人口數統計

圖，由圖中資

料判斷，這對

近年來中國

經濟活動的

發展會產生下列哪一影響？(A) 男女性

別比例不均，重工業勞力過剩，而商業

人力不足 (B) 人口數量龐大，日常用

品的市場需求高，商機潛力大 (C) 人

口眾多，使整體工資居高不下，加重企

業的生產成本 (D) 壯年人口扶養率高，

國民生活負擔沉重，消費市場萎縮

7. ( ) 隨著經濟的發展，中國的飲食習慣出現

改變，畜牧業的需求量與日俱增。然而

中國卻在 2017 年及 2019 年出現大規

模的禽流感及非洲豬瘟等問題，重創相

關產業的發展。上述相關疫情和下列何

種養殖方式的關係最大？

(A) 多樣化 (B) 環保化

(C) 都市化 (D) 集約化

8. ( ) 中國自 2000 年開始，鼓勵本國企業對外

國投資，最主要想取得國外何種自然資

源？(A) 水 (B) 木材

(C) 石油 (D) 大理石

9. ( ) 中國藉由推動一帶一路政策來解決國內

何種問題？

(A) 營運資金過剩 (B) 基礎設施不足

(C) 國內生產過剩 (D) 抑制非洲崛起

10. ( ) 世界前十大汽車銷售國的排名中，中國

已超過美國成為世界最大的汽車市場。

請問：中國由從世界工廠轉變為世界市

場的過程中，與下列何者關係最大？

(A) 所得提高 (B) 交通發展

(C) 技術進步 (D) 人口減少

11. ( ) 中國東南部沿海一帶，早期由於人口眾

多、糧產不足、生活壓力大而成為主要

人口移出區，如今卻轉變為人口移入區，

請問該地區目前吸引人口移入的條件主

要為下列何者？

(A) 政策強制遷入 (B) 農業技術提升


(C) 就業機會較多 (D) 移民海外跳板

18. 中國在 1980 年代經濟改革開放之後，以其優越的條件讓中國製造的商品遍居世界也因此贏得世界工廠的稱號，請回答第 12~19 題：

12. ( ) 請問中國能有今日的經濟成就主要是因為 1980 年代的哪項經濟改革政策？  
(A) 西部大開發 (B) 設立經濟特區  
(C) 一帶一路政策 (D) 東北振興政策
13. ( ) 承上題，此一政策的推動主要是以建立哪一種類型的工業為主體？  
(A) 加工出口業 (B) 高科技工業  
(C) 石化重工業 (D) 國防軍工業
14. ( ) 請問率先實施此一政策的五個都市主要位在下列哪個位置？  
(A) 東南沿海 (B) 首都周邊  
(C) 長江流域 (D) 西部內陸
15. ( ) 請問 1980 年代中國吸引大量外國企業來華設廠的有利條件有哪些？  
甲. 礦產豐富易得 乙. 大量廉價勞工  
丙. 優惠土地政策 丁. 市場自由開放  
(A) 甲乙 (B) 甲丁  
(C) 乙丙 (D) 丙丁
16. ( ) 隨著中國生產技術的不斷提升與精進，國外企業的投资項目也有所改變，觀察中國主要生產的產品可以發現其變化趨勢為下列何者？

- (A) 勞力密集產業  
(B) 勞力密集產業  
(C) 技術密集產業  
(D) 資金密集產業

17. ( ) 附圖為臺商對中國投資金額統計圖，顯示

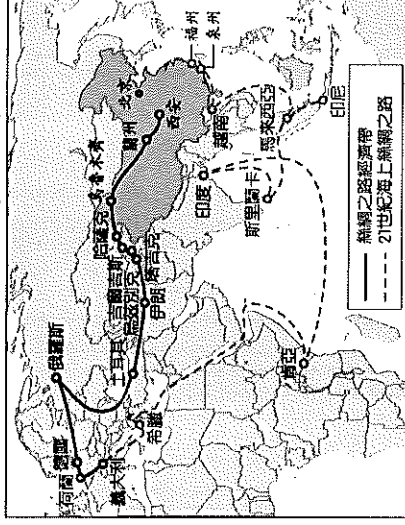


2010 年開始，臺商投資中國產業的金額逐年下降。2018 年後更有許多臺商撤出中國的投資資金選擇回流臺灣或將工廠轉移至其他國家。請問該現象主要受到哪些因素影響？甲. 重視勞工權益工資逐年上漲  
乙. 人口素質低落人才流失海外  
丙. 中美貿易戰出口品關稅壁壘  
丁. 歐美聯合貿易制裁出口不易

- (A) 甲乙 (B) 甲丙 (C) 乙丙 (D) 丙丁
18. ( ) 中國在改革開放後經濟快速發展，原有的產業活動面臨升級及轉型的瓶頸，下列哪種方式是中國採行快速獲取產業技術的方式？ (A) 合併收購國外企業  
(B) 擴大國內基礎建設  
(C) 推動高等教育改革  
(D) 大舉引進國際移民

19. ( ) 經濟改革開放政策也對傳統農、牧業活動帶來巨大的影響。下列有關中國近三十年來農、牧業活動的轉變，何者正確？  
(A) 酪農業轉以專業化科技化管理  
(B) 農牧業產品轉為以自給性為主  
(C) 仰賴大量勞力精耕細作為主流  
(D) 農牧業土地使用面積大為增加

20. 近年來中國為擴展自身經濟版圖與國際影響力，在 2013 年推出「一帶一路」的經濟政策，其規畫路線圖如附圖所示，請回答第 20~23 題：

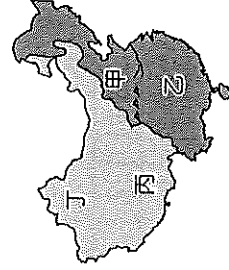


21. ( ) 一帶一路所規劃的路線分為陸路的「一帶」與海陸的「一路」，請問陸路橫跨哪兩大洲？海路會經過下列哪兩片海域？  
(A) 亞洲、歐洲，太平洋、印度洋  
(B) 亞洲、歐洲，太平洋、大西洋  
(C) 亞洲、非洲，大西洋、印度洋  
(D) 歐洲、非洲，印度洋、大西洋
22. ( ) 中國「一帶一路」的經濟計畫，其目的是希望能藉由串聯沿線參與的國家，提供資金、參與建設而取得自身的利益。請問參與與中國主要接受中國在哪一方面的投資？ (A) 科技產業 (B) 加工出口 (C) 金融商業 (D) 基礎建設
23. ( ) 承上題，中國透過一帶一路提供參與國資金與協助，其目的下列何者正確？  
甲. 取得穩定的能源供給 乙. 消化國內過剩的工業產能 丙. 擴大海外的貿易市場 丁. 達成經濟全球擴張的規劃 (A) 甲 (B) 甲乙 (C) 乙丙丁 (D) 甲乙丙丁
24. ( ) 一帶一路計畫的參與國普遍經濟發展程度低落，期望引入中國資金帶動國內經濟發展，但卻導致國內面臨許多變數與問題。下列哪一項『不是』參與國可能因此計畫而出現的問題？ (A) 對中國的龐大負債 (B) 國際移民取代本國勞工 (C) 政治、經濟被中國干預 (D) 與中國產生主權、利益糾紛

88 農業是高度仰賴自然環境的產業，水資源的分布與多寡更是嚴重影響農業的類型與發展。請回答第 24~27 題：

- 24.( ) 關於中國水資源的敘述下列何者『錯誤』？(A)夏多冬少、東南多西北少  
(B)受工業發展與人口數影響  
(C)工商業發展需求水量增加  
(D)北水南引政策來調配用水
- 25.( ) 中國每人平均可使用的水資源只有世界平均值的 1/3，為世界上嚴重缺水的國家之一，請問導致缺水的主因下列何者為『錯誤』？(A)人口總數量較龐大  
(B)水資源嚴重受污染  
(C)全國總降水量稀少  
(D)降雨時空分布不均

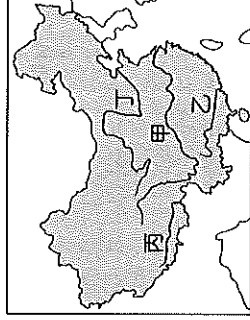
26.( ) 附圖為中國境內傳統



的農業分布區，受到自然環境與人文因素的影響，目前以前哪一個區域的缺水情況最為嚴重？

- (A)甲 (B)乙 (C)丙 (D)丁

27.( ) 中國政府為改善嚴重缺水區域所引發的環境、經濟問題，使用人為的力量將河川的水資源進行調動，請問圖中水資源調動的方向下列何者正確？(A)甲→乙  
(B)甲→丁 (C)丙→甲 (D)乙→甲

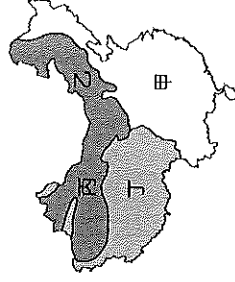


- 29.( ) 中國近年來面臨耕地面積及品質均下降的危機，嚴重影響糧食生產。請問下列何者『並非』導致上述現象的主因？  
(A)長期耕作土壤逐漸流失  
(B)農地受病毒微生物污染  
(C)休耕土壤肥沃度下降  
(D)農地轉做工商建設用地
- 30.( ) 農產品的種類及產量變化也與時代脈動有關，附表為中國四種不同農產品的年增長率變化狀況，根據資料判斷，則乙、丙所代表的農作物可能為何？

	甲	乙	丙	丁
1950~1969 年	-1.8	3.4	2.9	5.4
1970~1977 年	3.1	5.0	2.3	6.1
1978~1984 年	7.5	8.5	4.5	7.0
1985~1998 年	7.8	1.9	1.3	12.6
1999~2003 年	10	-6.6	-5.1	23


- (A)水稻、水果 (B)茶葉、棉花  
(C)水果、蔬菜 (D)水稻、小麥

31.( ) 隨著經濟所得提升，中國人民的健康意識日益普及，乳品的需求量也隨之快速增加，請問附圖中哪個地區也因此由放牧業轉型為大規模專業化經營的酪農業，來滿足乳製品愈來愈大量的需求？



(A)甲 (B)乙 (C)丙 (D)丁

- 32.( ) 中國隨著產業結構轉變，目前第一級產業從業人口數已大幅下降，為解決此項問題所採取的因應對策下列何者『錯誤』？  
(A)改採大規模機械化耕作  
(B)大量進口糧食以補足缺口  
(C)推動農業專業化及科技化  
(D)提升技術增加單位面積產量

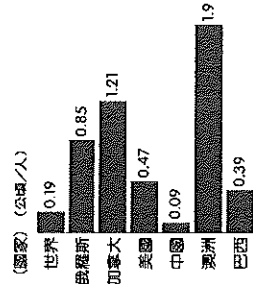


- 33.( ) 此都市位於大河出口，位置適中，交通便利、腹地廣大，工商業及國際貿易發達，為中國最大的都市，請問此圖屬於下列哪一個都市所有？(A)上海 (B)北京 (C)廣州 (D)重慶

【第 3 頁，共 5 頁】

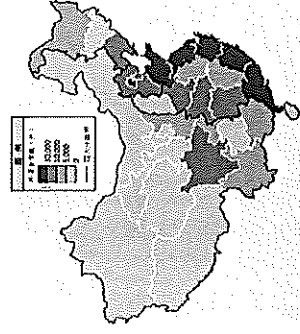
88 農業活動受到時代變遷的影響，過去以農立國的中國也不例外，經濟的高度發展讓農業產生了巨大的變化。請回答第 28~32 題：

- 28.( ) 附圖為世界前六大面積國家的人均可耕地面積比較圖。請問：中國人均可耕地面積的大小，主要是受到哪一因素影響而呈現低於世界平均的狀態？(A)人口數量 (B)土地面積 (C)生產技術 (D)降水多寡



34. ( ) 附圖為 2020

年外資企業在中國各地登記數量的分布圖，總額高達 63.5 萬戶。由圖中



可以觀察到外資企業多設在中國東部，請問東部吸引外資的原因有下列哪些？

甲. 對外交通便利 乙. 豐富礦產資源 丙. 傳統重工業中心 丁. 人口多勞力充足

(A) 甲乙 (B) 甲丁 (C) 乙丙 (D) 丙丁

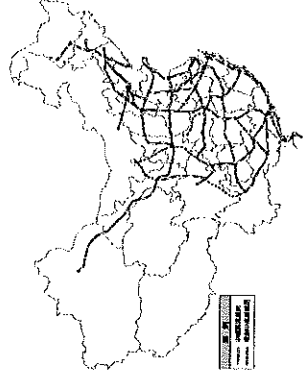
35. ( ) 中國政府為達成產業的全面發展及擴散，減少區域發展不均所衍伸的問題，除了針對個別區域擬定不同的發展策略，還加強下列哪項措施以均衡區域發展？

(A) 引進海外技術移民 (B) 限制城鄉戶籍移動 (C) 輔導農民轉職工業 (D) 興建交通運輸系統

36. ( ) 承上題，下列何者為中國政府針對中部地區的開發政策？

(A) 振興老舊重工業設備促進轉型 (B) 率先發展並帶動其他區域成長 (C) 以低工資及自然資源吸引外資 (D) 發展交通運輸出礦產資源到他區

37. ( ) 附圖為中



國高鐵分布圖，請問造成高速鐵路網在東部比西部密集的現象與下列哪一因素關係較低？

(A) 礦產豐富 (B) 人口密集 (C) 地形平坦 (D) 工商繁榮

38. ( ) 中國在經濟發展上的表現，以西部地區的發展最慢。然而西部的發展深具潛力，請問西部開發的優勢有下列哪些？

甲. 多元文化新創高科技人才聚集 乙. 煤、鐵、石油等礦產資源豐富 丙. 鄰國眾多有利於邊境貿易發展 丁. 透過鐵路可以溝通中亞及歐洲

(A) 甲乙丙 (B) 甲丙丁 (C) 甲乙丁 (D) 乙丙丁

39. ( ) 中國自改革

開放後，工業發展起飛快速，產值不斷攀升，為中國累積許多資本。附圖為中

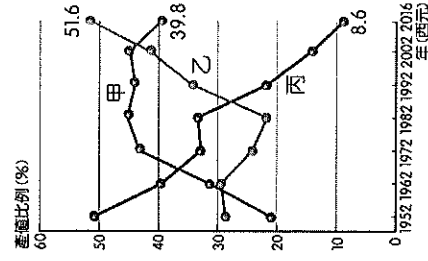


國東半部工業發展類型分布圖，請問導致中國工業類型如此分布的重要因素為下列何者？

(A) 礦產資源分布 (B) 交通建設類型 (C) 勞力資源多寡 (D) 政府計劃經濟

40. ( ) 中國經濟快速發展，成為國際上不容忽視的新興勢力，附圖為中國三級產業產值變化圖，請問甲、乙、丙依序代表哪一級產業活動？


(A) 一、二、三 (B) 二、三、一 (C) 二、一、三 (D) 三、二、一



41. ( ) 2020 年 GDP 排名第 1 名為美國，佔世界的 24.4%；中國位居第 2，佔世界的 17.9%；第 3 名為日本，佔世界的 5.4%。中國的 GDP 總額雖高，但每人平均 GDP 卻不如美、日，甚至遠低於世界各國。請問此現象和中國哪一個特色最為相關？

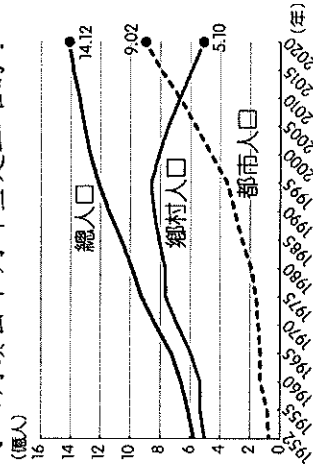
(A) 可耕良田短缺 (B) 科技落後嚴重 (C) 共產政治形態 (D) 總人口數龐大

42. ( ) 附圖為中國和



(A) 網際網路 (B) 遠洋貨櫃 (C) 高速鐵路 (D) 信貨貿易

- 43.( ) 中國為擴大其經濟版圖積極與各國簽署自由貿易協定，請問下列何者『並非』各國簽署自由貿易協定所享有的優惠？  
 (A)關稅減免 (B)降低進出口限制  
 (C)排除貿易障礙 (D)共享相同貨幣
- 44.( ) 承上題，為享有經貿往來的優惠並提升國家競爭力與經濟國際地位，中國於2020年簽署『區域全面經濟夥伴協定』(RCEP)與鄰近國家同組自由貿易區。請問下列哪個地區、國家目前並非此協定的成員國之一？  
 (A)日本 (B)南韓  
 (C)美國 (D)東南亞
- 45.( ) 近年來電子商務的崛起與蓬勃發展逐漸取代實體通路，電商龍頭亞馬遜、阿里巴巴等業者的實力與規模已超越傳統零售業者，2010年後哪種載具的普及更把電商推向另一高峰？  
 (A)商用衛星 (B)量子電腦  
 (C)智慧型手機 (D)電視機上盒
- 46.( ) 附圖為中國城鄉人口的變化圖，從圖中可以判讀出下列哪些是正確的？



- 甲.物價指數漸攀升  
 乙.都市化現象顯著  
 丙.少子化比例提高  
 丁.區域差異愈擴大  
 (A)甲乙 (B)甲丙  
 (C)乙丙 (D)乙丁

- 47.( ) 2014年北京舉辦亞太經濟合作會議，政府為了維持形象下令鄰近工廠暫時停工、停止廢氣排放並限制汽車進城，讓長年飽受空氣污染的北京透露出罕見的藍天，俗稱『APEC藍』，請問當地的空氣污染和鄰近區域普遍發展哪一項產業有關？  
 (A)食品加工業 (B)紡織工業  
 (C)高科技產業 (D)鋼鐵工業
- 48.( ) 中國過去因製造的產品遍佈全球而有「世界工廠」之稱，如今則轉變成「世界市場」，請問下列何者為此轉變的主要原因？(A)壯年人口增加勞動力充足  
 (B)人民所得增加消費力提升  
 (C)市場經濟改採自由化競爭  
 (D)農村釋放勞力進入加工業
- 49.( ) 中國自改革開放以來，以政策吸引外商進入投資，促進國內產業發展，培養並累積自身的經濟實力。隨著中國經濟的成長、國民所得提升與內需市場的擴大，外商投資的內容也隨之改變。請問關於外商投資項目的變化下列何者正確？  
 (A)第一級產業→第二級產業  
 (B)第二級產業→第一級產業  
 (C)第二級產業→第三級產業  
 (D)第三級產業→第二級產業
- 50.( ) 我們可以從一個都市裡人口的產業結構來推估該都市的都市機能。由此推論，中國東北的大型都市其機能多以下列何者為主？(甲)紡織 (乙)工礦  
 (丙)水運 (丁)陸運  
 (A)甲乙 (B)乙丙  
 (C)丙丁 (D)乙丁