

基隆市立武崙國民中學 111 學年度第一學期第 2 次段考 7 年級歷史科考試卷

7 年 班 座號： 姓名：

一、選擇，每題 2 分(共 72 分)

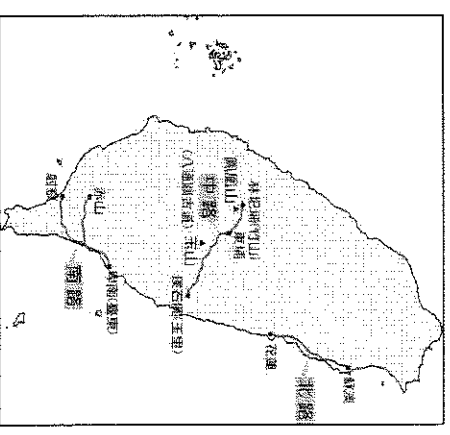
- () 荷蘭治臺時期，因為當時原住民沒有文字，所以荷人利用羅馬字母拼寫原住民語言。請問：此舉最重要的目的為何？ (A)為了貿易往來的需要 (B)為了方便傳布基督教 (C)為了發揚原住民文化 (D)為了讓原住民學習荷蘭文化。
- () 臺灣俗語說「有唐山公，無唐山媽」，說明了清代臺灣單身男子結婚不容易，這種社會現象的形成與下列何者關係最為密切？ (A)吏治不良 (B)族群複雜 (C)漢原衝突 (D)男女比例失衡
- () 統治者採取「為防臺而治臺」政策，使得駐臺的官兵經常輪調，甚至不許百姓興築城牆，種種的規定，都是為了防範變亂再起。上述情況最有可能是下列哪個時期的史事？ (A)荷蘭人占領臺灣時期 (B)鄭氏經營臺灣時期 (C)清帝國統治初期 (D)十九世紀中期臺灣開港通商後。
- () 西元 1664 年，鄭經派將領劉國軒前往半線(今彰化一帶)屯田，威脅到臺灣中部原住民的勢力範圍，雙方因此發生衝突。關於此衝突事件的名稱最有可能為下列何者？ (A)大肚王國戰役 (B)圍攻熱蘭遮城 (C)郭懷一事件 (D)麻豆社戰役。
- () 原住民在荷蘭人統治下，其生活可能會有什麼改變？ (A)從農耕為主轉變為游耕為主 (B)與漢人相處融洽，沒有紛爭 (C)部落長老被迫與荷蘭政權合作 (D)全部原住民都接受基督教信仰。
- () 歷史老師帶四位同學到楊梅市參觀清代所遺留下來的土牛溝，四位同學出發前，各自講述對土牛溝的了解。請問：下列哪位同學對土牛溝的描述有誤？ (A)樂樂：「政府為了分開原住民與漢人所設立的。」 (B)悠悠：「土牛溝又可稱為番界。」 (C)小亮：「番界隨著漢人的開墾，逐漸向山區退縮」 (D)大華：「是由荷蘭人所設立。」。
- () 根據西元 2020 年的新聞報導，在基隆和平島的考古遺址，除了挖掘出教堂的後殿牆基，也發現有歐洲人的墓葬和原住民小孩甕棺。關於這個考古遺址的敘述，以下何者正確？ (A)這個遺址位於大肚王的勢力範圍 (B)墓葬中的原住民小孩應來自新港社 (C)墓葬中的歐洲人可能為西班牙人 (D)此教堂最早由荷蘭人所設立。
- () 「鄭氏政權治理臺灣時提倡文教，推廣儒家教育和漢文化的典章制度。同時對原住民採取開明懷柔的統治政策，在部落設立學校，讓原住民子弟有幸獲得就學機會。」依上文所述，下列哪一個說明正確？ (A)這段文字以原住民的觀點敘述 (B)部落的學校可能會教導漢文與中國典籍 (C)這是臺灣原住民首次有機會接受教育 (D)在部落就學能直接獲得官職。
- () 安安要以郭懷一、朱一貴、林爽文等人為對象寫一篇報告，這份報告最可能在探討下列哪一主題？ (A)民間百姓的反抗事件 (B)科舉選才的機會不均 (C)商會組織的貿易衝突 (D)地方官紳的改革運動。
- () 西班牙人占據臺灣北部雞籠、淡水等地，主要的目的是傳教與貿易。請問：西班牙人傳播的是哪一種宗教？ (A)基督教 (B)天主教 (C)佛教 (D)伊斯蘭教。
- () 清康熙年間，臺灣民間曾流傳一首歌謠：「頭戴明朝帽，身穿清朝服；五月稱永和，六月還康熙。」這首歌謠是描述哪一反清事件？(A)朱一貴 (B)林爽文 (C)戴潮春 (D)郭懷一
- () 牡丹社事件爆發後，日軍方面因水土不服，清軍方面因實力薄弱不願與日本開戰，雙方最後簽定北京專約。下列有關北京專約的內容，何者正確？ (A)清廷只需懲辦兇手，不須賠償日本本國的損失 (B)承認日本出兵是保民義舉 (C)同意日本併吞澎湖 (D)將臺灣畫為中日兩國的保護國。
- () 從經濟發展的角度看臺灣史，從 17 世紀以來到 1895 年以前，臺灣歷經了荷治、鄭氏、清帝國三個時期，期間除了清初海禁，使臺灣與中國大陸的貿易受影響外，中國大陸一直是臺灣主要的貿易對象。但在哪一事件之後，臺灣的貿易對象，由中國大陸擴大到歐美國家？ (A)清法戰爭 (B)英法聯軍之役 (C)甲午戰爭 (D)牡丹社事件。
- () 清末，中國政局紛亂，對外戰爭頻傳，戰火時常波及臺灣。請問：在清末，臺灣曾遭受哪些國家的武力攻擊？ (A)德國、法國 (B)日本、荷蘭 (C)荷蘭、西班牙 (D)日本、法國。

15. () 小丸子參觀臺南市的赤崁樓古蹟，其中有一排因紀念平定清領前期最大的民變而建立的石碑。請問：這些石碑與哪一場亂事最有關聯？(A)郭懷一事件(B)朱一貴事件 (C)林爽文事件 (D)戴潮春事件。
16. () 漢人小玉於同治年間移民來臺，因為開港通商的關係，他在住所附近經常見到高鼻深目的西方人士。請問：小玉最有可能住在下列何地？(A)淡水 (B)鹿港 (C)艋舺 (D)噶瑪蘭。
17. () 十九世紀末，清朝由德國購入火車，聘請外國工程師設計在台灣建造鐵路；以台北為中心，興建北至基隆，南至○○的鐵路。○○應該填入？(A)安平 (B)打狗 (C)淡水 (D)新竹。
18. () 民國 87 年政府通過精省，恢復官派的省主席。追溯歷史發展，臺灣史上的首任官派巡撫為何人？(A)沈葆楨 (B)劉銘傳 (C)丁日昌 (D)唐景崧。
19. () 接續上題，臺灣設省，和哪一事件有關？(A)英法聯軍 (B)清法戰爭 (C)甲午戰爭 (D)牡丹社事件。
20. () 下列哪一個事件促使清政府意識到臺灣對中國海防的重要性，治臺政策由初期的「防台而治台」轉為積極建設台灣？(A)英法聯軍 (B)清法戰爭 (C)甲午戰爭 (D)牡丹社事件。
21. () 現在屏東海生館附近有一座「大日本琉球藩民五十四人墓」的墓碑遺跡。由碑文可知，此碑應與哪一事件有關？(A)牡丹社事件 (B)甲午戰爭 (C)英法聯軍 (D)清法戰爭。
22. () 臺灣移墾社會的特色之一，即是民變為數不少，故有「三年一小反、五年一大亂」的俗諺。請問：造成此種現象的原因不包括下列何者？(A)社會上：秘密結社盛行 (B)社會上：羅漢腳眾多 (C)政治上：吏治不良 (D)軍事上：外國勢力入侵
23. () 「臺灣府儒學，康熙 24 年設。25 年，題准歲科試各額，進童生 20 名曰附生。」一份歷史文獻如此記載，顯示在臺灣納入清朝版圖後不久，官方即設立儒學以提倡文教。請問：當時「臺灣府儒學」應設於今日何處？(A)臺南市 (B)臺北市 (C)臺中市 (D)高雄市。
24. () 丸尾的歷史報告中出現「億載金城」、「恆春古城」、「琉球藩民墓」等古蹟名稱，丸尾報告的主題可能為下列何者？(A)臺灣開港通商 (B)外力入侵臺灣 (C)臺灣設省過程 (D)漢原衝突的過程。
25. () 小丸子想研究清領後期臺灣所實施的建設措施，於是找到了一張臺灣建設示意圖，如右圖所示，由圖中的內容加以判斷，當時實施此種建設的目的為何？(A)達到開山撫番的效果 (B)促進西部交通的順暢 (C)強化臺灣的軍事防務 (D)增加在臺的財政收入。
26. () 接續上題，此建設是在何人在臺時期進行的？(A)沈葆楨 (B)丁日昌 (C)劉銘傳 (D)唐景崧。
27. () 法令(一)：廢除渡臺限制，大陸人民得攜帶家眷移居臺灣。
法令(二)：終止劃界封山的政策，允許漢人進入山區開墾。
法令(三)：取消禁止漢人與原住民通婚的規定。
請問：上述法令的出現時機為何？(A)清法戰爭發生後 (B)臺灣開港通商不久 (C)牡丹社事件後 (D)台灣設省之後。
28. () 小丸子到圖書館借了一本《臺灣的城門與炮臺》書籍，書中介紹了臺灣各地的城門與炮臺，吸引小丸子閱讀的興趣。請問：臺灣的第一座西式炮臺位於下列哪一個地方？(A)紅毛城 (B)二沙灣炮臺 (C)北門鎖鑰 (D)億載金城。
29. () 承上題，此座炮臺是何人所興築？(A)沈葆楨 (B)丁日昌 (C)劉銘傳 (D)唐景崧。
30. () 承上題，當時興建此一炮臺的主要因素是受到哪一外患的刺激？(A)英國 (B)日本 (C)美國 (D)法國。
31. () 請閱讀資料，回答問題：

資料一：1636 年，在新港舉行，折草宣示相互和平，由長官授與禮袍、權杖、親王旗。
資料二：1641 年，在新港舉行，告知前任長官殉職，確認服從新任長官。立約和平相處，爭執由長官仲裁。贈送禮袍、飾有白銀的權杖。

請問：這應該是描述哪一個外來勢力與原住民的關係？

- (A)鄭氏政權 (B)西班牙人 (C)荷蘭東印度公司 (D)日本倭寇。
32. () 如果要製作「臺南古蹟巡禮」，下列古蹟的介紹，應如何依時間排列才符合史實的演變？
(甲)臺南孔廟 (乙)英商德記洋行 (丙)熱蘭遮城 (丁)億載金城
(A)甲乙丙丁 (B)乙丙甲丁 (C)丙丁甲乙 (D)丙甲乙丁。



33. () 這是荷蘭人占領臺灣後，在島上的一次大規模軍事行動，藉此餘威，掃蕩南部及周圍各社，令他們帶著檳榔和椰子樹苗前來簽署歸服條約，荷蘭人的勢力範圍因此得以擴展到臺灣南部的大部分地區，這個具有「殺雞儆猴」意味的事件為何？
- (A)麻豆社之役(B)擊敗鄭成功(C)新港社事件(D)郭懷一事件。
34. () 清帝國統治臺灣大約兩百多年，在這段期間治臺政策經歷幾次轉變，清帝國因戰敗，被迫開放臺灣港口通商，當時開放的港口包含哪些？
- (甲)雞籠 (乙)安平 (丙)打狗 (丁)淡水 (戊)鹿港
(A)甲乙丙丁戊 (B)乙丙丁戊 (C)甲丙丁戊 (D)甲乙丙丁。
35. () 17世紀初，有一群居住在臺灣北部的原住民，他們通曉漢語等外語，會使用貨幣，扮演漢人與其他原住民貨物交易的中間人。請問：上文中提到的原住民，應該是下列何者？(A)西拉雅族 (B)噶瑪蘭族 (C)馬賽人 (D)新港社。
36. () 1652年臺灣南部發生一起事件，大量漢人被殺，嚴重打擊臺灣農業發展，造成統治當局改變統治策略如下。請問：
1. 將人頭稅交給包商承收，避免士兵繼續徵收引起民怨。
 2. 嚴格禁止漢人持有武器。
 3. 將赤崁的竹城改建成磚石堡壘，並命名為普羅民遮城。
- 該起事件是下列何者？(A)麻豆社之役 (B)郭懷一事件 (C)大肚王國反叛 (D)新港社叛變。

二、題組，每題2分(共28分)

◎文化部為打破過去個案式的文化資產保存，提出「再造歷史現場計畫」，希望重新連結及再現土地與人民的歷史記憶，落實文化保存於民眾生活。某縣市首長欲配合此計畫，著手整理其行政區裡的中法墓園、獅球嶺隧道、二沙灣炮臺等古蹟。請問：

37. () 上述縣市首長配合文化部的「再造歷史現場計畫」，整理中法墓園、獅球嶺隧道、二沙灣炮臺等古蹟。由此判斷該首長所轄的縣市應為下列何者？(A)臺北市 (B)基隆市 (C)新北市 (D)宜蘭縣。
38. () 若小伶參與此縣市古蹟導覽員的培訓課程，她最可能會向遊客介紹下列哪個題字？(A)全臺首學 (B)保民義舉 (C)曠宇天開 (D)億載金城。
39. () 若小伶想要充實自己對於這些景點的相關歷史，他可以去借閱下列哪本書籍？(A)《林爽文評傳》(B)《鄭氏諸葛——陳永華》(C)《劉銘傳與臺灣建省》(D)《朱一貴的鴨母王傳奇》。

◎以下為清朝後期四名官員聯合上奏的部分內容：

由於去年倭人假借報仇之名，企圖占領臺地，朝廷不得已而有開山撫番的措施。……眾人皆以為開山是為了撫番，卻不知今日撫番的主要目的，在於防止來自海上的侵犯。且臺灣位處要地，天氣暖和，物產豐富。近來有洋人往來番地，遊歷傳教、描繪山川地形，朝廷若不將後山一帶收歸治理，必遭外敵侵入，恐演變成無法收拾的局面從文件中擷取絕佳的引文或利用此空間來強調重點，藉此吸引讀者的注意力。

40. () 上文提及「去年倭人企圖占領臺地」，其發生原因與下列何者有關？(A)霧社事件 (B)林爽文事件 (C)牡丹社事件 (D)郭懷一事件。
41. () 上述奏議的主旨，最可能是下列何者？(A)上奏倭人已占領臺灣後山，建議朝廷應當出兵以收復失土 (B)強調開山撫番重要性，認為加強治理臺灣才能防外力入侵 (C)說明倭人與洋人聯手侵臺，假借傳教之名，已經攻陷番地 (D)觀察洋人在臺活動情形，建議朝廷應全面開港與外國通商。

◎1787年(乾隆五十一年)，漳州人林爽文率眾反抗官府，全台除台灣府城、諸羅縣城與鹿港之外，幾乎全部被攻陷。事件爆發之後，清廷派大軍來台。由於新竹地區的泉州人與林爽文的漳州集團處於對立狀態，清廷便聯合新竹地區的泉州人與客家人，共同對抗林爽文集團。事後，乾隆皇帝曾頒「褒忠救旨褒揚新竹地區的義民」。

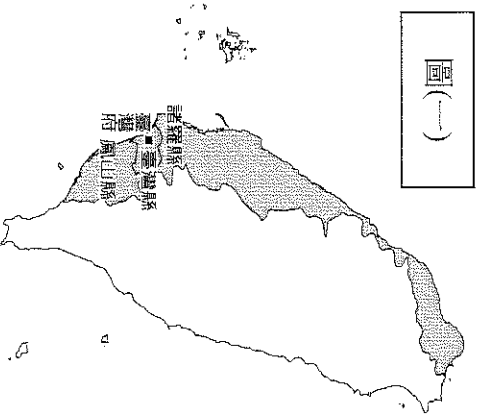
事件平定後，事件相關的犯人被押解到北京城。其中有一位叫做金娘的女子，格外引人注目。金娘是鳳山縣上淡水社(今屏東縣萬丹鄉、內埔鄉一帶)的西拉雅族原住民。她在林爽文事件發生之後，加

入相關的勢力團體擔任軍師。他的工作室畫符咒，請神明，保佑眾人刀槍不入，被稱為「仙姑」。後來，陣營中的漳州人領袖倒戈降清，金娘被俘虜，交給清軍，送往北京處死。參考資料：小的台灣史

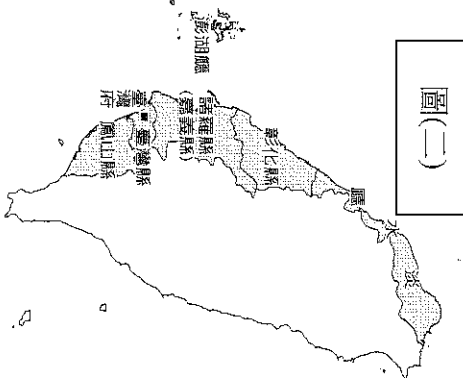
42. () 此事件後，為了嘉許這些平定林爽文事件的人，那些地區因而被改名？ (A) 笨港→北港 (B) 諸羅→嘉義 (C) 打狗→高雄 (D) 噶瑪蘭→宜蘭。
43. () 林爽文事件中，台灣各地都有義民協助清軍，最有可能的原因是何者 (A) 羅漢腳藉故鬧事 (B) 清廷以重金利誘 (C) 原住民報復漢人 (D) 械鬥留下的仇恨。

◎清廷攻下臺灣後，不少官員認為臺灣是未開發的彈丸荒地，對中國不但沒有價值，派員駐守還勞民傷財，只有○○提出建言，強調臺灣物產豐富，且戰略地位重要，若放棄臺灣將嚴重影響中國東南沿海的安全。大臣們經歷了八個月的爭論之後，康熙皇帝終於採納○○的建議，將臺灣納入版圖，不過實際上的控制範圍並未及於整個臺灣。請依照下列的臺灣行政區劃圖回答問題：

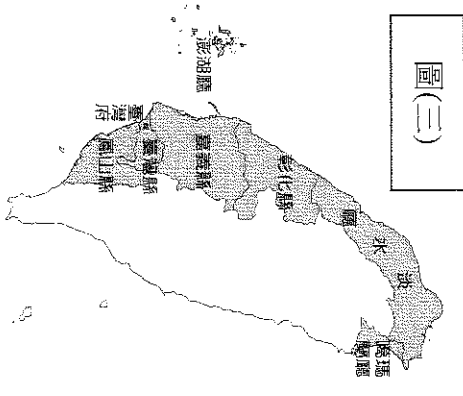
圖(一)



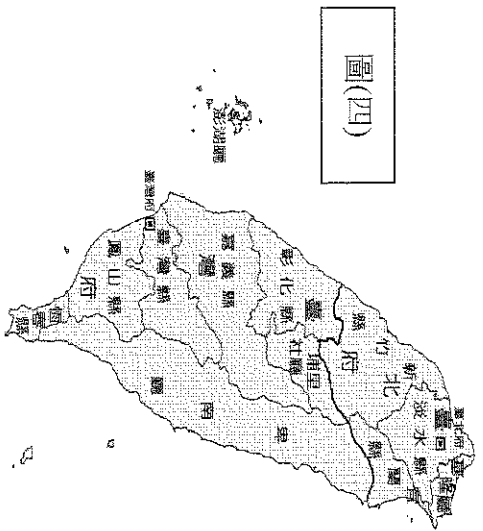
圖(二)



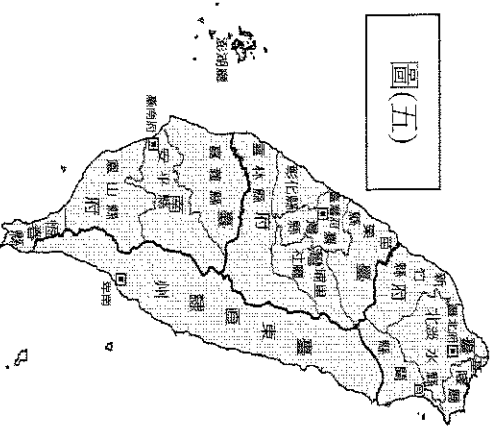
圖(三)



圖(四)



圖(五)



44. () 文中「有○○提出建言」，是指何者？ (A) 郭懷一 (B) 施琅 (C) 鄭克爽 (D) 吳沙
45. () 清朝統治初期，台灣沒有設省，是隸屬於哪一省的管轄？ (A) 福建省 (B) 浙江省 (C) 廣東省 (D) 廣西省
46. () 台灣正式設省，是在哪一個時期？ (A) 圖二 (B) 圖三 (C) 圖四 (D) 圖五
47. () 由圖(一)演變到圖(二)，是因為何人叛亂的緣故？ (A) 郭懷一 (B) 朱一貴 (C) 林爽文 (D) 吳沙
48. () 圖(三)增設噶瑪蘭廳，和何事關聯性最大？ (A) 海盜入侵 (B) 日本入侵 (C) 民變造反 (D) 械鬥頻繁
49. () 圖(四)演變成(圖五)，和哪一事件有關？ (A) 英法聯軍 (B) 牡丹社事件 (C) 甲午戰爭 (D) 清法戰爭。
50. () 清帝國時期臺灣行政區劃的轉變，舉凡廳、縣的增加，多與下列何項因素有關？ (A) 國防與社會治安問題 (B) 經濟活動的轉變 (C) 原住民土地買賣的問題 (D) 械鬥與反清事件的日漸減少。

☆試題結束，請再詳細檢查，畫卡是否填寫班級姓名座號，錯誤將依考場規則扣 10 分☆