

基隆市立武崙國民中學 111 學年度第一學期第二次段考七年級地理科試題卷

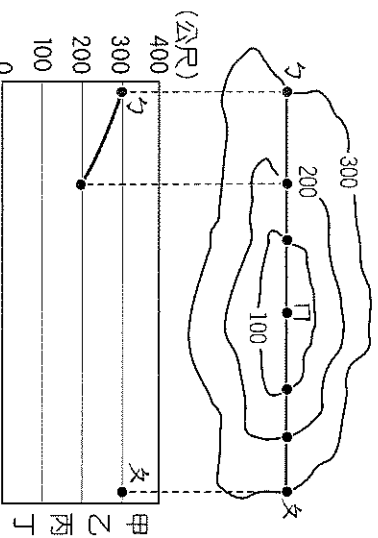
注意事項：

1. 本份試卷共兩大題。第一大題為單選題，每題 2 分，共 47 題，合計 94 分；第二大題為非選擇題，合計 6 分。總分 100 分。
2. 答案卡限用 2B 鉛筆畫記，若畫記錯誤，請擦拭乾淨。分數以電腦讀卡分數為準。
3. 答案卡上的資料欄請確實填寫，若資料欄畫記錯誤導致電腦無法正確判讀，扣總分 10 分。

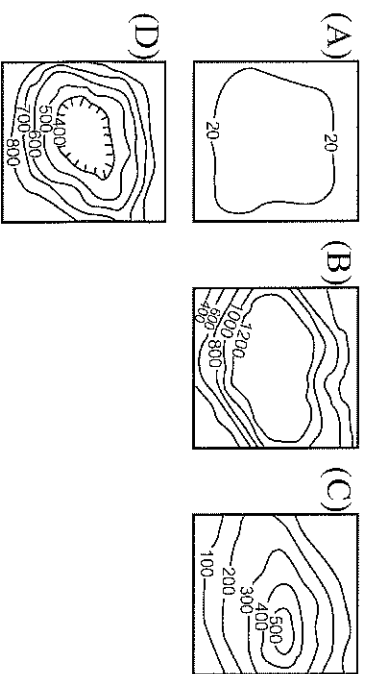
班級：七年_____ 班座號：_____ 姓名：_____

第一大題

- () 1. 附圖為武崙國中的地理科作業，將地形等高線圖轉換成剖面圖。請問：剖面圖中的「門點」應該繪製在何處？(A) 甲 (B) 乙 (C) 丙 (D) 丁。



- () 2. 下列四者何者並非臺灣常見地形？



- () 3. 附圖為臺灣近年來自然環境的相關報導，請問：根據其成因判斷，下列哪一組形塑地形的力量相同？(A) 甲 丙 (B) 乙 丁 (C) 乙 丙 (D) 丙 丁。

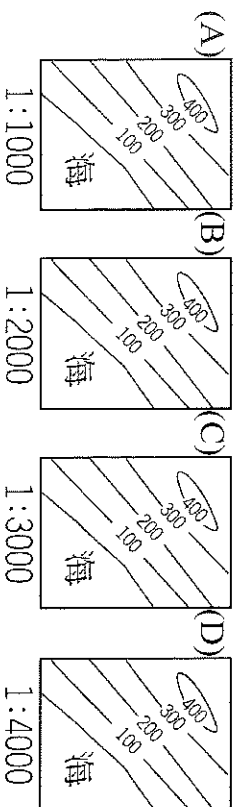
甲. 南投山區出現土石流

乙. 立霧溪河谷深切開闊

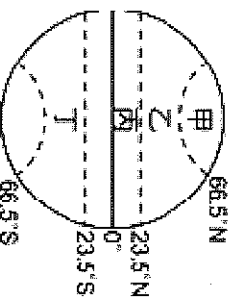
丙. 地牛翻身嘉義地震多

丁. 鵝鑾鼻強風吹走砂石

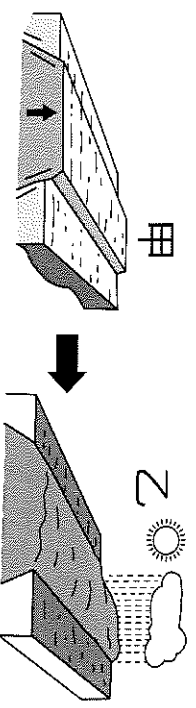
- () 4. 下列是四張等高線地形圖，請問：哪一處陸地的坡度最陡峭？



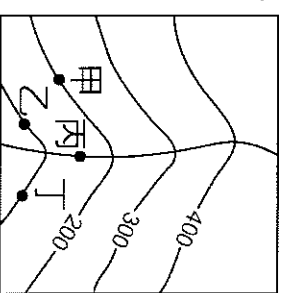
- () 5. 「適合珊瑚繁殖的潔淨淺海，需海水溫暖、鹽度適中、無河川注入的潔淨淺海。」根據上文判斷，珊瑚礁島大多分布在附圖中哪個區域？(A) 甲 (B) 乙 (C) 丙 (D) 丁。



- () 6. 地形作用力，包括外營力與內營力兩種。根據附圖中的形貌判斷，影響甲、乙地形的主要營力為何？(A) 甲、乙皆為外營力 (B) 甲、乙皆為內營力 (C) 甲是內營力、乙是外營力 (D) 甲是外營力、乙是內營力。



- () 7. 附圖為等高線和某條河川交會而成的簡圖。請依圖中的內容判斷，何處的地勢最高？(A) 甲 (B) 乙 (C) 丙 (D) 丁。



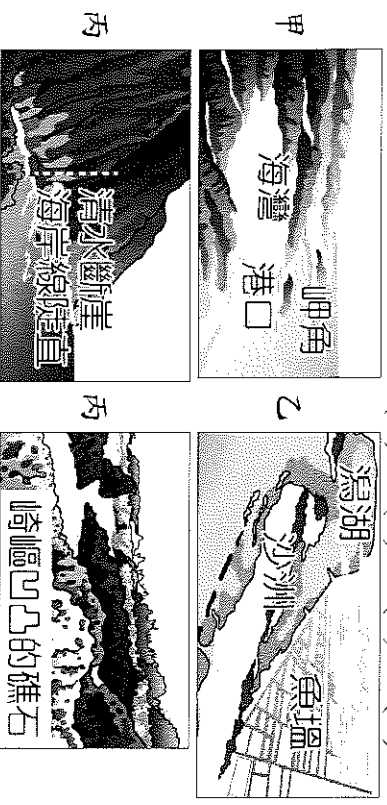
- () 8. 湖口舊稱「大窩口」，「窩」字的意思接近「四周較高，中間較低」的地形，因此我們可以推測湖口地區是屬於哪種地形？(A) 平原 (B) 盆地 (C) 台地 (D) 山地。

- () 9. 小佑突發奇想，想要沿著北回歸線，由東往西將臺灣橫切著走。請問：他不會經過哪一座山脈？(A) 雪山山脈 (B) 玉山山脈 (C) 海岸山脈 (D) 阿里山山脈。

- () 10. 海岸主要可畫分為「岩岸」與「沙岸」兩種類型，請問其分類的主要依據為下列何者？

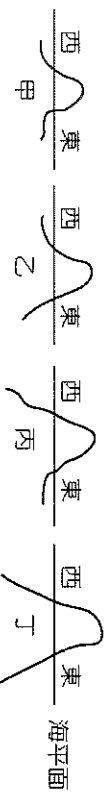
- (A) 沿岸土地利用 (B) 海洋水溫高低 (C) 海岸構造物質 (D) 海岸曲直形態。

- () 11. 下列哪一張照片主要是藉由外營力的「侵蝕作用」形成的地形？(A) 甲 (B) 乙 (C) 丙 (D) 丁。



- () 12. 承上題，某國家要推動自由經貿園區，希望規畫港口供大型貨輪進行轉口貿易使用，成為區域經貿中心。若以港口條件來判斷，何者較為適合？(A) 甲 (B) 乙 (C) 丙 (D) 丁。

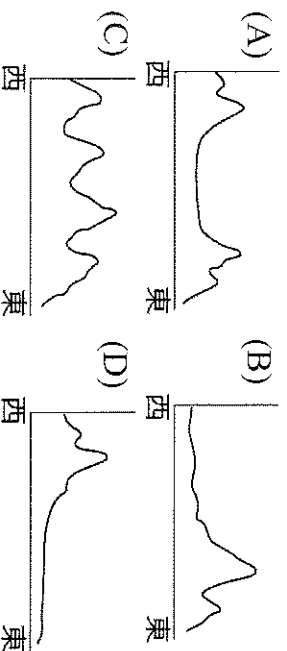
- () 13. 下列哪張圖最可能是臺灣西海岸到東海岸的地形剖面圖？(A)甲 (B)乙 (C)丙 (D)丁。



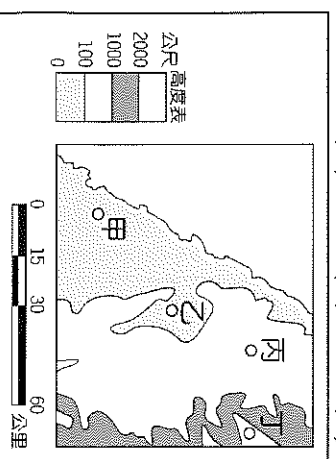
- () 14. 阿權整理了一份關於沙岸和岩岸的比較表如下。請問：表中何項說明有誤？

類型	(A)營力	(B)海岸線	(C)海水深度	(D)產業發展
沙岸	侵蝕作用	較平直	較淺	鹽業、養殖漁業
岩岸	堆積作用	較曲折	較深	航運、漁業

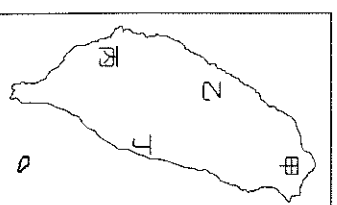
- () 15. 若以北回歸線作為臺灣地形的剖面線，則畫出來的地形剖面圖，最接近下列哪一幅圖？



- () 16. 請問：附圖中的「乙」最可能是下列哪一個地形？(A)平原 (B)盆地 (C)台地 (D)丘陵。

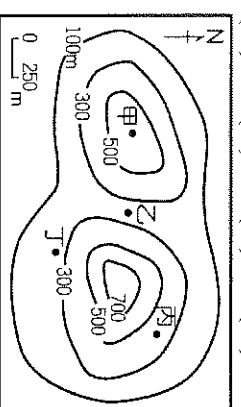


- () 17. 臺灣山多平原少，平原地形便成為重要的人口聚集地區。請問：臺灣最大的平原分布於附圖中何處？(A)甲 (B)乙 (C)丙 (D)丁。

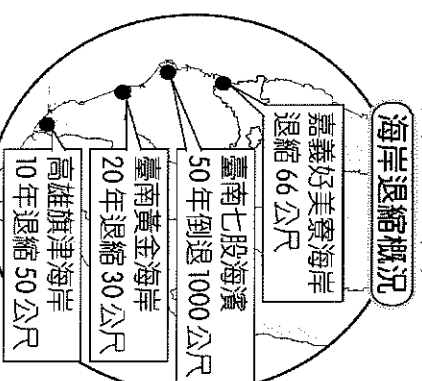


- () 18. 臺灣島的山脈多呈現南北走向，主要原因為何？(A)河川侵蝕的結果 (B)板塊擠壓的方向 (C)河川多為東西流向 (D)降水量豐沛，沿海侵蝕嚴重。

- () 19. 附圖為某地區的等高線圖。據報敵國大軍會由北向南通過圖中的谷地，若你是一位軍事將領，所擬定的戰略是把軍隊隱藏在敵軍看不到的谷地出口附近，圖中甲、乙、丙、丁四個地點，何者是你安排軍隊埋伏的最佳位置？



- () 20. 臺灣近年來受到經濟發展等因素影響，對於自然環境產生不同程度的破壞。附圖為中央地質調查所的觀測資料，其中海岸退縮的地點，其附近的海岸類型應為下列何者？(A)珊瑚礁海岸 (B)沙岸 (C)斷層海岸 (D)岬灣海岸。



- () 21. 臺灣位處板塊交界，形塑相當多的自然環境特色，但並未造成下列何種環境現象？(A)溫泉資源多 (B)山多平原少 (C)地震發生頻率較高 (D)每年颱風侵襲次數多。

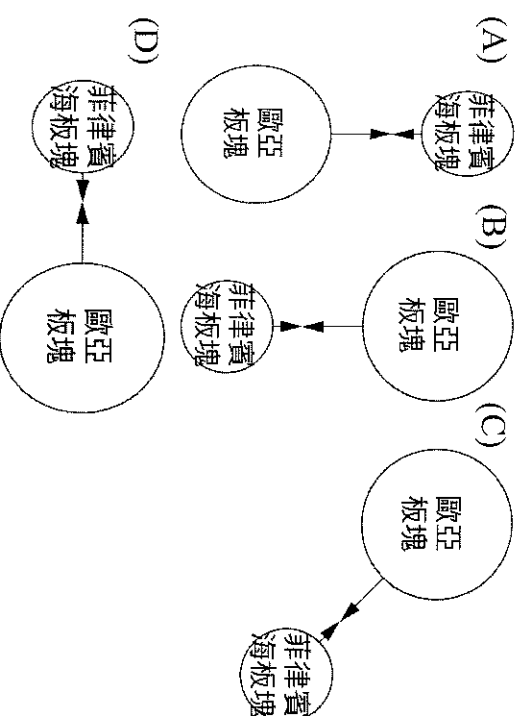
- () 22. 附表是小彬分析臺灣某港口的自然條件，依表中內容判斷，最可能是指下列哪一個港口？(A)高雄港 (B)基隆港 (C)臺中港 (D)花蓮港。

自然條件	
優點	1. 形勢良好的灣澳。 2. 少淤積的曲折岩岸。
缺點	1. 丘陵環抱、平地狹小。 2. 雨日較多，影響貨物裝卸。

- () 23. 下表為某地的簡介，依內容判斷，其應為臺灣哪一離島？(A)金門列嶼 (B)琉球嶼 (C)澎湖群島 (D)釣魚臺。

歷史概況	元代時設官治理，納入版圖。
景觀特色	1. 自然：火山噴發所形成的柱狀玄武岩 2. 人文：臺灣最古老的天后宮 (媽祖廟)

- () 24. 下列是關於臺灣島的形成與板塊擠壓作用力的方向圖示，何者為正確的示意圖？



- () 25. 松村從日本到臺灣自助旅行，來到某段海岸相當特別，往北是岬灣海岸，往南則是斷層海岸，但他所在的地方是平直的沙岸。依臺灣的海岸分布判斷，松村最可能在哪個地形區旅行？(A)宜蘭平原 (B)屏東平原 (C)桃園台地 (D)新竹丘陵。

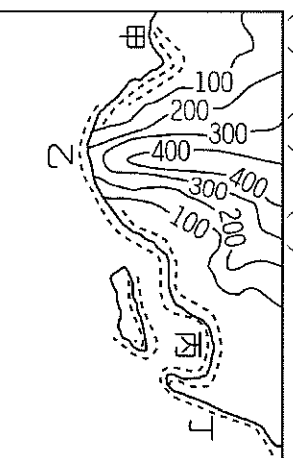
- () 26. 臺灣地名富貴「角」、「鼻頭」、「角」、「三貂」、「角」、「野柳」、「岬」，從「角」、「岬」能反映出當地的地形特色。這些地名應位於臺灣哪處沿海地區？
(A)東部 (B)南部 (C)西部 (D)北部。

- () 27. 阿翔參加學校畢業旅行，行程中經過下列地形區：(甲)臺中盆地(乙)屏東平原(丙)臺北盆地(丁)嘉南平原。請問：若由北而南排列，正確的順序是下列何者？(A)甲乙丙丁 (B)甲丁丙乙 (C)丙甲丁乙 (D)丙丁甲乙。

- () 28. 寒假即將來臨，阿弦打算以野柳地質公園為出發點，順時針前進，完成環臺濱海旅行。依阿弦規劃的路線判斷，他依序會經過附表哪些海岸？(A)甲→乙→丙→丁 (B)甲→丁→丙→乙 (C)丁→甲→丙→乙 (D)甲→丙→乙→丁

甲	海岸灣澳與岬角相間
乙	有鹽山、養殖漁業
丙	珊瑚礁海岸
丁	沿岸有高聳峭壁，海岸陡直

- () 29. 臺灣因山林面積廣大、巡查不易，出現許多違法開發山林資源的事件。政府機關若要快速比對不同時間的地表狀況，找出可能遭到大範圍違法伐林的地點，使用下列哪一種地圖最為適合？(A)分層設色圖 (B)地形剖面圖 (C)衛星影像圖 (D)等高線地形圖。



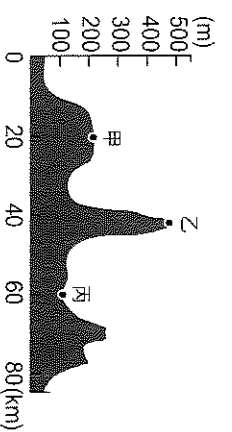
- () 30. 牡蠣主要生長在沿海潟湖地區，利用河川出海帶來豐富的有機鹽類進行養殖。請問：牡蠣生長的地區主要位於附圖中的何處？(A)甲 (B)乙 (C)丙 (D)丁。

- () 31. 曾有一詩人於海上航行時，即景作詩一首：

「平嘉嶺已逾，雞籠嶼安在？花瓶影沉浮，釣魚沉翠黛。」依內容判斷，當時該詩人應航行於何處海域？(A)臺灣海峽中央 (B)巴士海峽附近 (C)東沙群島南方 (D)臺灣東北方。


- () 32. 臺灣東部雖然直接面臨太平洋，但是港口不多，最主要的原因為何？(A)海岸陡直 (B)泥沙淤積 (C)海水較淺 (D)沿岸平原廣。

- () 33. 附圖為某個地區的地形剖面圖，根據圖中的地勢高低和起伏程度判斷，圖中的甲、乙、丙三個地點分別為何種地形？(A)高原、丘陵、平原 (B)高原、山地、平原 (C)台地、山地、盆地 (D)台地、丘陵、盆地。



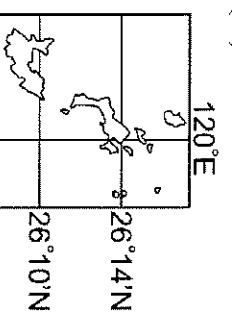
- () 34. 臺灣四面環海，其附近海域的離島約有 80 多個，成因各不相同。請問：下列哪一組島嶼的成因性質最為相近？(A)蘭嶼、太平島 (B)綠島、龜山島 (C)東沙島、澎湖群島 (D)琉球嶼、釣魚臺列嶼。

- () 35. 阿宏乘著熱氣球沿著附圖的路線，由西向東飛行。請問：他將會翻越的第一座山脈為何？(A)海岸山脈 (B)玉山山脈 (C)中央山脈 (D)阿里山山脈。

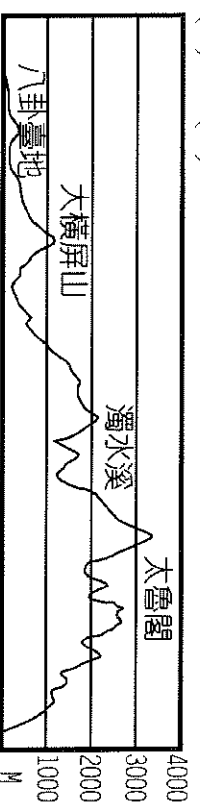


- () 36. 在彰化的東方有一個高起的平坦地形，上面的礫石層上種有蔬菜、水果等經濟作物，也有聚落和道路的分布，這種頂部平坦，但高度不高的地形，是哪一種地形？(A)高原 (B)丘陵 (C)台地 (D)高原。

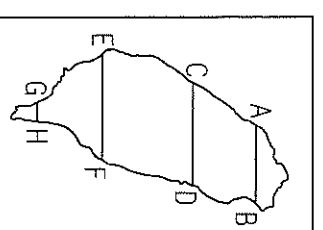
- () 37. 臺灣本島所在的位置約為 120°E~122°E 及 22°N~25°N。附圖為臺灣某離島的位置圖，該離島的成因為下列何者？(A)海底火山噴發 (B)河川搬運泥沙堆積 (C)海底珊瑚礁露出海面 (D)中國福建丘陵沒入海中。



- () 38. 附圖為臺灣某處地形剖面圖，此圖應是沿著圖(二)中哪一線段繪製而成的？(A)AB (B)CD (C)EF (D)GH。



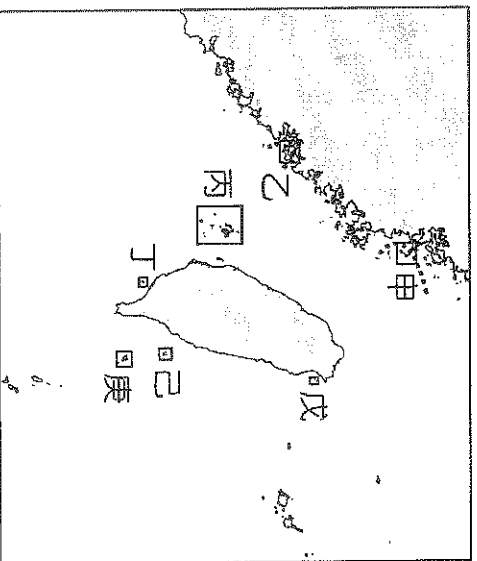
▲圖(一)



▲圖(二)

【背面尚有試題，請翻頁繼續作答！】

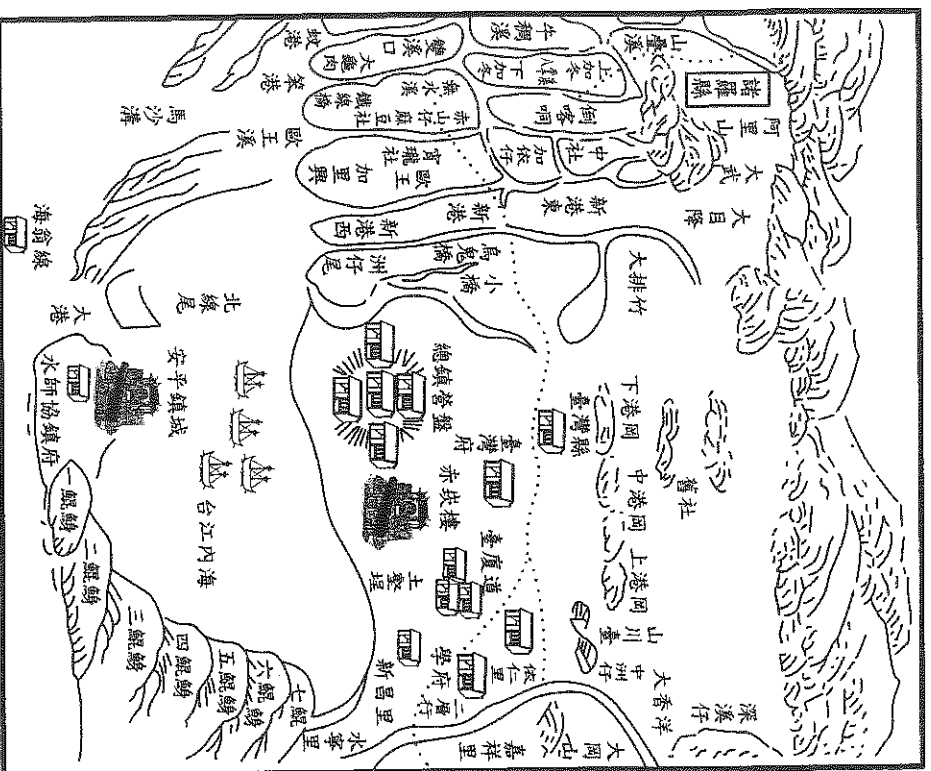
※我國周邊的離島共有 80 多個，為捍衛國土，在各離島大多有駐軍以保家衛國。請問：



() 39. 國防部長指出目前國軍派駐的離島當中，尚不包括蘭嶼，不排除未來派設駐軍，以增強對東部海岸的控制。請問：蘭嶼位於附圖中何處？
(A)甲 (B)丙 (C)丁 (D)庚。

() 40. 「該離島與臺灣距離相當遠，在此地駐軍非常辛苦，且除國防戰略外，還需維護環礁珊瑚的自然生態。」請問：上述應為哪一島嶼？
(A)東沙島 (B)小琉球 (C)綠島 (D)龜山島。

※附圖為清康熙時期的臺灣府古地圖，請根據該圖回答下列問題：

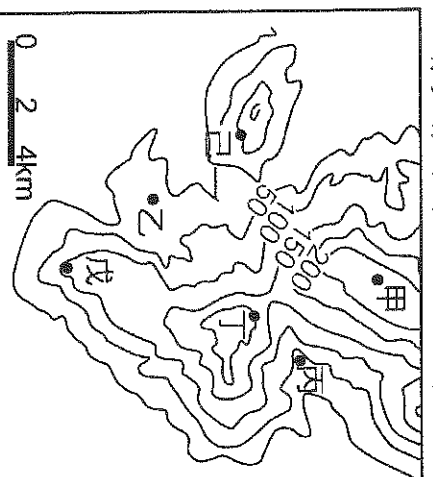


() 41. 圖中的「台江內海」是指下列哪一種海岸景觀？ (A)海蝕洞 (B)岬角 (C)潟湖 (D)沙洲。

() 42. 圖中沿海一帶的「鯤鯓」是指下列哪一種海岸景觀？ (A)沙洲 (B)海蝕洞 (C)岬角 (D)海灣。

() 43. 此圖所繪的是臺灣哪一處的海岸？ (A)北部海岸 (B)東部海岸 (C)南部海岸 (D)西部海岸。

※請參看附圖，回答下列問題：



() 44. 此圖應是屬於下列哪一種地圖？ (A)衛星影像 (B)航空照片 (C)地形剖面圖 (D)等高線地形圖。

() 45. 圖中的甲地，最有可能是多少公尺？ (A)225公尺 (B)245公尺 (C)270公尺 (D)310公尺。

() 46. 將等高線圖中不同高度範圍的區域，分別畫上不同的顏色，以表現地形高度的分布，稱為分層設色圖，通常綠色表示平原、棕色表示山地、藍色表示水體。圖中的乙地，應使用哪一種顏色？ (A)綠色 (B)棕色 (C)藍色 (D)黃色。

() 47. 令人聞之色變的「土石流」，通常是在豪雨期，溪谷中突然有大量的砂礫、土石混雜著泥水，快速往山下流動。請問，當颱風來襲時，居住於圖中哪一地點的居民，最有可能因為土石流的威脅而撤離家園？ (A)乙 (B)丙 (C)戊 (D)己

【還有非選擇題唷，請以藍黑筆作答！】

基隆市立武崙國民中學 111 學年度第一學期第二次段考七年級地理科答案卷

七年 _____ 班座號： _____

姓名： _____

單選題得分	非選擇題得分	總分

◆第二大題：非選擇題，每格 1 分，合計 6 分。（請以黑色或藍色原子筆書寫，違者不予計分）

※臺灣是由大大小小的島嶼所組成，本島以外的島嶼一般通稱為離島。

1. 離島依形成原因可以分為

- A 火山島
- B 大陸島
- C 珊瑚礁島

請將代號 A~C 分別填入「島嶼類型」對應的表格中。

2. 右圖為「臺灣離島位置圖」，請依據附圖位置判斷各代號所代表的離島，將代號甲~辛分別填入「代表島嶼」對應的表格中，**該格全對才給分**。

