

# 基隆市立武崙國民中學 111 學年度第一學期第一次段考九年級地理科試題卷

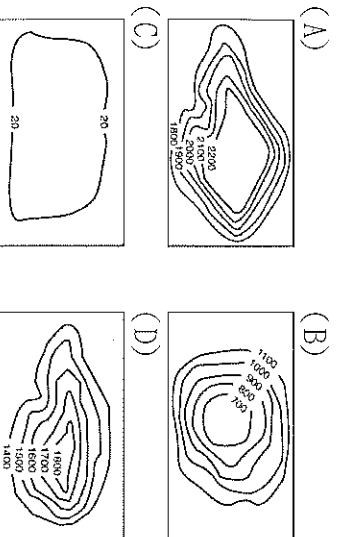
1. 單選題，每題 2 分，共 50 題，總分 100 分。
2. 答案卡請使用 2B 鉛筆畫記，若畫記錯誤，請擦拭乾淨。分數以電腦讀卡分數為準。
3. 答案卡上的資料欄請確實填寫，若資料欄畫記錯誤導致電腦無法正確判讀，扣總分 10 分。

班級： 9 年 班 座號： 姓名：

## 一、選擇題

- ( ) 1. 非洲氣候普遍炎熱且大致呈南北對稱分布，此與下列哪一個現象密切相關？(A)本初經線縱貫西部 (B)山脈南北縱走 (C)赤道橫貫中部 (D)地勢南高、中央低。

- ( ) 2. 非洲的地形主體，與下列哪一張等高線圖的地形相同？



- ( ) 3. 非洲的氣候類型：(甲)熱帶莽原 (乙)熱帶乾燥 (丙)熱帶雨林 (丁)溫帶地中海型。上述四種氣候如由低緯到高緯排列，正確的順序為何？

- (A)甲→乙→丙→丁 (B)甲→乙→丁→丙  
(C)丙→乙→丁→甲 (D)丙→甲→乙→丁。

- ( ) 4. 「馬賽人是非洲東部一支活躍的原住民族，傳統經濟基於擁有牛群。他們喜歡引用鮮牛血但不輕易宰殺，因為牛、羊等牲口是馬賽人的主要收入來源，可用來買賣其他牲口、換取現金或畜產品。」根據上述，馬賽人傳統的維生活動，最可能為下列何者？(A)採集 (B)畜牧 (C)游耕 (D)漁獵。

- ( ) 5. 早期歐洲列強在非洲進行奴隸販賣，有許多黑奴從非洲西部被販賣至美洲從事勞動，當時這些運送奴隸到美洲的船隻，主要行經哪一個海洋？

- (A)大西洋 (B)印度洋 (C)太平洋 (D)北極海。

- ( ) 6. 南非東南沿海地區因受信風自印度洋帶來水氣的影響，屬於『夏雨型暖溫帶氣候』。請問：上述的「信風」風向應該為何？(A)東北風 (B)東南風 (C)西北風 (D)西南風。

- ( ) 7. 自十五世紀起，歐洲列強相繼入侵漢南非洲，並長期殖民此地，更導致漢南非洲日後的政局不穩。其主要是指歐洲列強所做的哪一個舉動？(A)從事奴隸買賣 (B)開發礦產資源 (C)開闢雨林與草原區 (D)按照列強協議劃分勢力範圍。

- ( ) 8. 附圖是非洲未來地形演變的預測，其中東部地形變化最主要的原因為何？

- (A)裂谷持續擴大，東部變成島嶼 (B)板塊相互擠壓，東部隆起島嶼 (C)海平面持續上升，東部變成孤島 (D)海平面持續下降，東部出現海埔地。



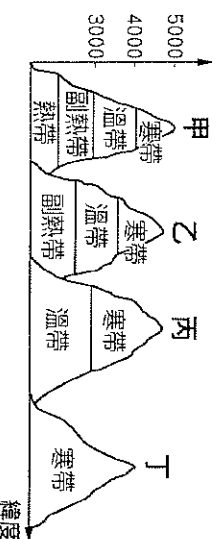
- ( ) 9. 非洲境內各部落和自然環境關係相當密切，其中北部非洲與南部非洲在族群及文化上差異頗大，造成上述兩地差異的自然環境阻隔主要為下列何者？(A)乾枯變化的河川 (B)板塊張裂的地塹 (C)一望無際的沙漠 (D)高大陡峻的山嶺。

- ( ) 10. 漢南非洲的糧食不足與貧窮問題一直是全球共同關注的焦點。請問：下列敘述何者『錯誤』？

- (A)人口增加速度超過糧食生產速度  
(B)貧窮問題主要顯示在糧食不足的現象上  
(C)食物缺乏引起的營養不良會造成兒童發育遲緩  
(D)開發雨林與草原，增加耕地可有效改善此問題。


- ( ) 11. 漢南非洲因殖民和氣候條件影響，多半以出口熱帶栽培業為主要經濟來源，但也因此產生經濟發展的問題。(甲)大量栽種單一作物，可避免受國際價格波動影響 (乙)大部分國家都包含生產、加工到製成商品的技术 (丙)熱帶栽培業需要投入大量勞力 (丁)經濟作物以出口為主，並非當地居民生活所必需。請問：上述何者正確？
- (A)甲乙 (B)甲丙 (C)乙丁 (D)丙丁。

- ( ) 12. 諾貝爾文學獎得主海明威，在其著作《吉力馬札羅的雪》中寫道：「非洲第一高峰吉力馬札羅山，海拔 19,710 英尺，頂部長年被冰雪覆蓋，被肯亞和坦尚尼亞的遊牧民族馬賽人稱為『上帝的居所』。」請問：位於 3°S 的吉力馬札羅山，其山區氣候垂直分布情形應為何？(A)甲 (B)乙 (C)丙 (D)丁。



- ( ) 13. 地理學的各种現象往往存在著因果關係。請問：附圖中的「因」應填入下列何者？(A)漢南非洲有世界最長的斷層線 (B)漢南非洲有廣大的熱帶雨林 (C)漢南非洲是地質古老的高原 (D)漢南非洲長年受到歐洲殖民。

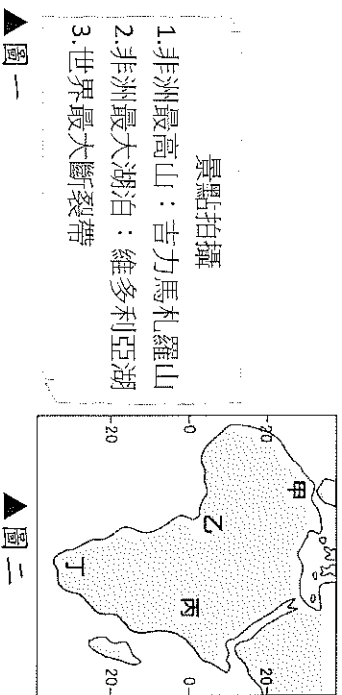
因



果  
此地蘊藏豐富的礦產資源，除了煤、鐵、石油以外，還有黃金、鑽石、鈾礦等。

- ( ) 14. 根據世界衛生組織的報告，漢南非洲多個國家仍有超過四分之一人口無法使用安全清潔的飲用水。下列何種方式可以最直接改善此困境？(A)向歐洲購買進口礦泉水 (B)推廣簡便濾水吸管 (C)進行人造雨增加降水 (D)每戶免費安裝濾水設備。

- ( ) 15. 炎鑫主持「我的非洲很有事」節目，他拿到的企畫內容如附圖一。請問：依照企畫內容，他將前往附圖二中哪一區進行節目錄製？  
(A)甲 (B)乙 (C)丙 (D)丁。

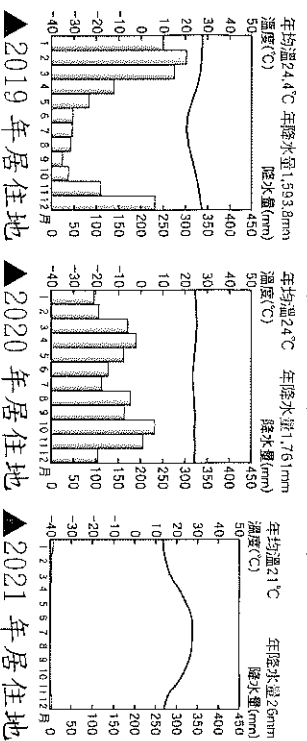


▲圖二

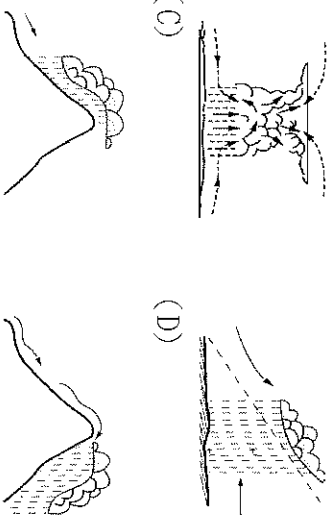
- ( ) 16. 非洲面積廣大，南北跨緯度約 60 度，因此氣候類型多元。其中，哪兩個地區因受到副熱帶高壓籠罩的影響，終年乾燥，為熱帶沙漠氣候？(甲)撒哈拉盆地 (乙)東非高原 (丙)喀拉哈里盆地 (丁)剛果盆地  
(A)甲乙 (B)甲丙 (C)乙丙 (D)乙丁。

- ( ) 17. 漢南非洲雖飽受貧窮、天災或戰亂的影響，但仍有許多非政府組織提供各種協助。其中，提供人道救助、醫療服務或防疫工作的非政府組織，最有可能是下列何者？(A)世界貿易組織 (B)無國界醫生 (C)Worldreader (D)國際公平貿易組織。

- ( ) 18. 胡黎與曉菟前往非洲進行田野調查，每一年居住在一個地區，沿途觀察記錄各地的氣候數據，如附圖所示。請問：由他們的田野調查記錄推判，其在非洲的前進路線，大致方向為何？(A)由北向南 (B)由南向北 (C)由東向西 (D)由西向東



- ( ) 19. 非洲剛果盆地位於赤道附近，全年高溫多雨，其降水成因和下列何者的關係較大？  
(A) (B) (C) (D)

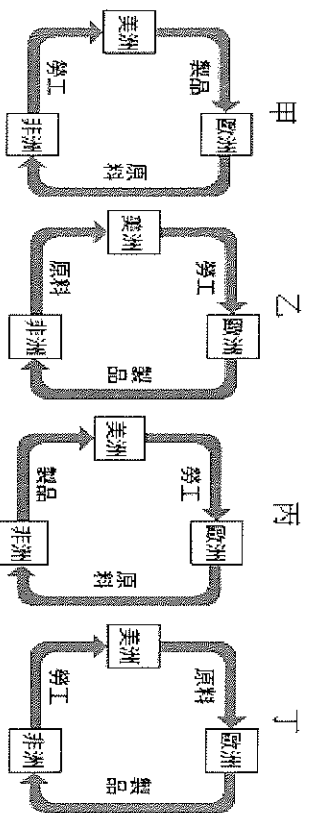


- ( ) 20. 非洲的象牙海岸以生產可可聞名於世。某日我國的綜藝節目邀請四位號稱來自象牙海岸的民眾，分別述說自己家鄉的故事。如果你是節目的特別來賓，請判斷下列哪一個人的說法，才是真正道地的象牙海岸農民？(A)我的國家大部分位於南緯 30 度附近，陽光普照，最適合可可成長！(B)我們農民不只很會種可可，還掌握專業生產技術，讓巧克力更好吃！(C)自從種了可可以後，我們種田的範圍縮小，部落的小孩都吃不飽！(D)可可種植破壞了我們的生態環境，但是白人也回饋給我們豐厚的酬勞！

- ( ) 21. 許多科技公司開始投入漢南非洲的產業，使得人民生活更加便利，如線上轉帳、即時通訊……等。請問：這些科技公司發展的商品，最有可能為下列何種產業？(A)科技製造 (B)傳統紡織 (C)金融服務 (D)行動通訊。

- ( ) 22. 漢南非洲人口成長快速的主要原因包括哪些？  
(甲)政府推動計畫生育政策 (乙)國際提供醫療資源，死亡率下降 (丙)產業活動對勞力需求量大 (丁)大量人口移入本區 (戊)人民缺乏避孕知識  
(A)甲乙丙 (B)甲乙丁 (C)乙丙戊 (D)丙丁戊。

- ( ) 23. 17 至 18 世紀，歐、美、非三洲間存在著興盛的貿易活動，當時三地間的貿易關係，最接近附圖中的哪個圖示？(A)甲 (B)乙 (C)丙 (D)丁。



- ( ) 24. 漢南非洲較寬廣的平原，包括尼日河三角洲和剛果河沿岸，且成為人口稠密區。請問：尼日河三角洲位於下列何地附近？(A)地中海沿岸 (B)幾內亞灣沿岸 (C)紅海沿岸 (D)印度洋沿岸。

- ( ) 25. 附圖為世界各國的某項資料統計圖，顏色愈深代表該項資料的數據愈多。請問：該圖最可能是下列哪一項統計資料？(A)森林覆蓋面積 (B)平均國民所得 (C)每位醫生要照顧的人民 (D)每年的原油出口桶數。



- ( ) 26. 根據《非洲生態學期刊》的研究發現，非洲境內的生態危機已日趨嚴重，必須及早因應相關問題。請問：造成當地湖泊乾枯，以及熱帶雨林面積萎縮等現象的成因『不包括』下列何者？(A)發展熱帶栽培業 (B)農礦產地增加 (C)人口快速成長 (D)板塊活動頻繁。


- ( ) 27. 關於漢南非洲的宗教特色，下列敘述何者正確？  
(甲)外來宗教皆是隨著西方殖民而進入 (乙)黑人部落以一神信仰為主 (丙)外來宗教包括伊斯蘭教與基督教 (丁)黑人部落信仰萬物有靈、敬畏祖先與神靈  
(A)甲乙 (B)乙丙 (C)丙丁 (D)甲丁。

- ( ) 28. 以下為非洲不公平貿易制度的形成原因，請判斷事件發生的先後順序應為何？(A) 1234 (B) 2413 (C) 2341 (D) 3124。

1	形成不公平的貿易制度
2	殖民母國帶來熱帶栽培業與礦業
3	原料價格控制在資本家手中
4	本地農民獲利空間持續受到壓縮

( ) 29. 近年來漢南非洲國家普遍思考著如何改善境內人地關係，希望能兼顧經濟發展與環境保護。下列何者對於達到此項目標最有幫助？(A)推廣生態旅遊來增加國家收入 (B)攔牧方式飼養牛羊來限制草地破壞 (C)使用化肥以減少耕地面積擴張 (D)發展石化工業以降低對農牧業的依賴。

( ) 30. 小亮在超市買咖啡豆看到包裝上的兩個標籤如附圖。雨林聯盟認證指本咖啡包裝裡部分或全部的咖啡是來自符合保護農民、森林、野生動物和當地社區的農場生態，並且環境可持續的永續發展。而下列關於公平貿易標準的敘述，何者正確？(A)確保企業主得到最大利益 (B)使漢南非洲農民獲利被壓縮 (C)消費者以公平低廉價格買到產品 (D)生產者在產品的貿易上得到較公平的待遇。

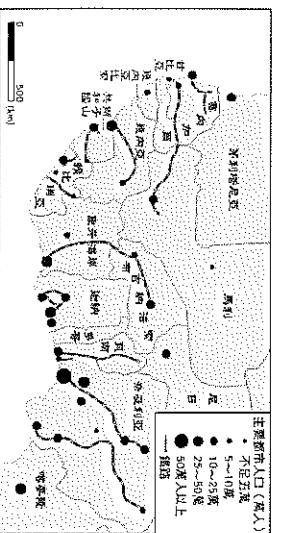


▲雨林聯盟認證

▲公平貿易標準

( ) 31. 西元 2011 年在中國舉行的經濟峰會上邀請非洲工業最強國家加入，並與巴西、印度和俄羅斯共同組成「金磚五國」(BRICS)。此五國占全球人口 43%，占全球貿易額 17%。用購買力平價衡量，占全球 GDP 25%。顯示金磚國家將成為影響世界經濟的重要新興力量。請問：非洲的金磚國應是指下列哪一個國家？(A)南非 (B)象牙海岸 (C)埃及 (D)衣索比亞。

( ) 32. 附圖為西部非洲地區的都市與鐵路分布圖。受到殖民影響，可發現其鐵路多呈現單線式，以沿海都市為起點直接連結到內陸。請問：此種鐵路修築目的為何？(A)解決都市通勤問題 (B)發展觀光旅遊 (C)掠奪農礦資源 (D)促進內陸發展。



( ) 33. 2014 年，下列哪一個地區因為人民普遍貧困、缺乏醫療設施，導致伊波拉等病毒擴散，造成疫情？(A)西亞 (B)南亞 (C)北非 (D)西非。

( ) 34. 漢南非洲的人口持續的增加，為了紓解人口壓力，漢南非洲各地的農耕業正在往何種方向進行轉型？(A)發展施肥灌溉技術 (B)由游牧轉往游牧 (C)發展熱帶性栽培業 (D)由游牧轉向狩獵。

( ) 35. 西元 2004 年上映的電影「盧安達飯店」是改編西元 1994 年盧安達大屠殺真人真事。此屠殺事件導火線起因於二十世紀初比利時殖民該地，以少數人圖西族統治多數人胡圖族的政治安排，而至盧安達在西元 1962 年獨立後，政府仍未正視兩大族群的對立，致使胡圖族對圖西族進行種族大屠殺，約佔有 50 萬至 100 萬人被殺。請問：造成非洲內戰頻繁的原因為何？(A)爭奪礦產資源 (B)人口增加，糧食不足 (C)歐美殖民勢力的介入 (D)族群部落多，意見分歧。

( ) 36. 近年非洲陸續發現石油蘊藏，逐漸受到國際重視。請問：下列哪些漢南非洲國家為重要產油國？(甲)南非 (乙)安哥拉 (丙)奈及利亞 (丁)肯亞 (A)甲乙 (B)甲丁 (C)乙丙 (D)丙丁。

( ) 37. 「15~18 世紀，歐洲列強不斷在非洲進行非人道的奴隸販賣，將身強體健的壯年黑人運送到西方國家從事勞力生產工作，非洲西部甚至有部分海岸而得名『奴隸海岸』。」請問：上述的奴隸買賣，對非洲當地造成什麼直接影響？(A)削弱非洲當地生產力 (B)日後饑荒頻繁發生 (C)傳統領域受到破壞 (D)政局不穩時有紛爭。

( ) 38. 阿喏那天拿到一張非洲某國的文宣，請根據文宣內容，判斷最有可能是非洲哪一個國家的文宣？(A)埃及 (B)納米比亞 (C)奈及利亞 (D)衣索比亞。

本國是非洲最大的咖啡生產國，為了改善本國咖啡農的生活，政府已在美國協助本國咖啡品牌進行商標註冊。

( ) 39. 西非與東非許多國家從事一種或兩種作物的專業化生產，發展熱帶栽培業。這種農業景觀的出現與下列何者最有關係？(甲)熱帶地區廣大 (乙)交通運輸便利 (丙)耕作技術精良 (丁)曾是歐洲人的殖民地 (A)甲乙 (B)甲丁 (C)乙丙 (D)丙丁。

( ) 40. 漢南非洲的族群相當複雜，其中哪一個國家中的組成多為南島語族，形成當地的文化特色？(A)埃及 (B)馬達加斯加 (C)南非 (D)剛果民主共和國。

( ) 41. 飄飄想到非洲利用當地豐富的農、礦資源設立工廠，下列哪一個開發企畫案最難實現？

(A) 企畫一  
地點：南非  
類型：鑽石工廠

(B) 企畫二  
地點：北非  
類型：葡萄酒工廠

(C) 企畫三  
地點：西非  
類型：咖啡工廠

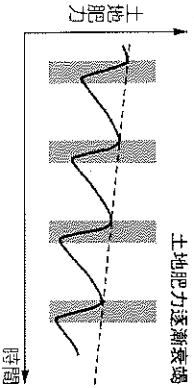
(D) 企畫四  
地點：北非  
類型：橡膠工廠

( ) 42. 非洲的經濟發展與其他各洲相較，顯得緩慢，且因外來文化不易傳入，居民長期維持傳統的生活型態。請問：下列何項敘述，與造成上述情況的原因較『無關』？(A)遠離其他各大洲，位置獨立 (B)海岸陡直，少良港 (C)撒哈拉沙漠橫亘，交通不便 (D)河川多急流瀑布，不利航行。

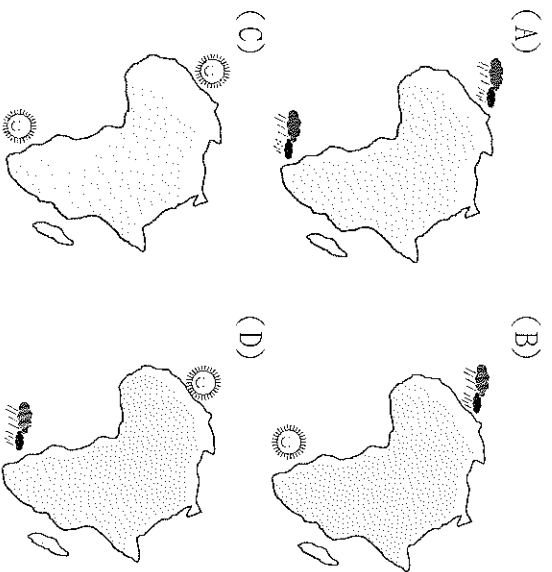
( ) 43. 世界衛生組織於西元 2016 年發布的人類平均壽命報告中指出：「預期平均壽命最長的前五個國家分別是日本、瑞士、新加坡、澳洲和西班牙，而預期平均壽命最短的國家分別是獅子山、安哥拉、中非共和國、查德和象牙海岸。」請問：預期平均壽命最短的五國皆位於非洲，下列何者『並非』造成此現象最可能的因素？(A)遭受國際制裁斷絕醫療援助 (B)非洲各國內戰頻繁 (C)部分國家連年飢荒 (D)非洲疾病問題嚴重。

( ) 44. 附圖為游耕地力耗損圖。從此圖曲線變化判斷，採取游耕方式會出現哪一種土地利用特性？

- (A)不斷更換耕地 (B)火燒整地 (C)對環境干擾小  
(D)粗放經營。



( ) 45. 非洲的氣候大致呈現南北對稱的特色，其中溫帶地中海型氣候區由於氣候宜人，成為主要的度假勝地。請問：非洲在『七月』時，其境內的溫帶地中海型氣候狀況，下列何者最為正確？



## 二、題組：


### (一)

迦納總統艾庫佛艾多(Nana Akufo-Addo)表示，當年歐洲與西非的殖民關係留存至今，導致可可豆農爬不出巧克力產業的金字塔底層。底層問題除了農民貧困潦倒之外，童工氾濫及森林砍伐也相當嚴重。

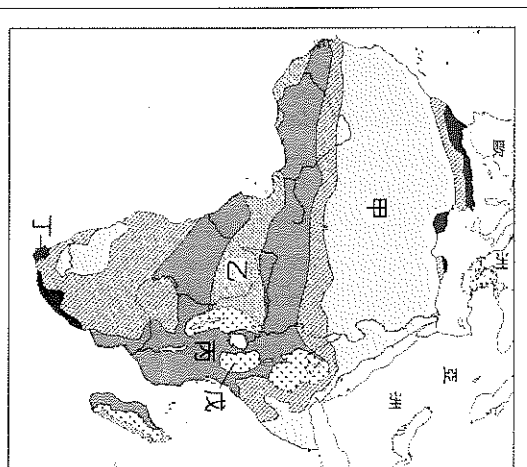
瑪氏(Mars)、雀巢(Nestle)以及好時(Hershey's)等巧克力品牌早在西元2001年就簽署禁用童工協議，但西元2015年美國勞工部公布的調查報告顯示，迦納及象牙海岸的可可豆童工人數增至210萬人，迫使巧克力大廠重新簽訂新協議，目標是將童工人數減少70%，但外界依舊質疑協議能否落實。

迦納及象牙海岸政府為了讓農民擺脫貧窮，宣布可可豆價格期貨要進行調漲。迦納副總統巴伍米亞(Mahamudu Bawumia)表示：「石油輸出國組織(OPEC)只控制全球30%到40%的石油供應量，卻能主導油價。假設產油國有OPEC，我們也該有COPEC(可可豆輸出國組織)。」

( ) 48. 西非各國為提高收入，只能砍伐森林，進行整地種植更多可可樹。請問：遭受破壞的植被景觀為何？

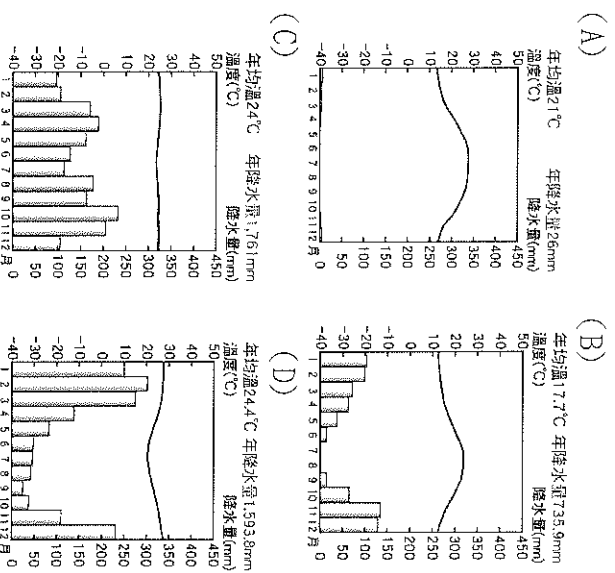


(三)  
西元2020年6月國際新聞報導：「因為新型冠狀病毒疫情的擴散，導致許多以觀光資源為主的國家公園，近幾個月來幾乎沒團可出，在沒有旅遊活動的狀態下，廣袤的大自然空間成了盜獵者最期待的獵場。」附圖為非洲氣候圖，請依圖回答下列問題。



( ) 49. 此盜獵事件最可能出現在圖中哪一個氣候區？  
(A)甲 (B)乙 (C)丙 (D)丁。

( ) 50. 在某國的國家公園內進行動物獵遊時，應注意每月的天氣變化，尤其一般旅館在12月~隔年4月的雨季常常停止營業。請問：該國的气候圖最可能為下列何者？



( ) 46. 根據上述報導，世界巧克力大廠紛紛簽署禁用童工協議，目標是將童工人數減少70%。顯示此種熱帶栽培業具有下列哪一特性？  
(A)歐人殖民歷史背景  
(B)作物單一產量大 (C)地處熱帶溼潤氣候 (D)需要大量廉價勞工。

( ) 47. 迦納副總統提出OPEC僅控制全球30%~40%石油就能主導世界油價，為何西非國家控制世界70%的可可豆生產，農民卻依舊貧困？  
(A)可可豆生產價值低廉  
(B)農產價格操控在西方大企業中  
(C)當地農業政策效率不佳  
(D)戰亂頻繁導致生產量少。

試題結束，請再次檢查！