

# 基隆市立武崙國中 111 學年度第一學期九年級公民科第一次段考試題卷

班級： 姓名： 座號：

## 共四頁試題卷

### 一、選擇：共 40 題，每題 2.5 分

- ( ) 同一件事可能因為不同誘因的加入，導致機會成本發生改變，進而影響我們的選擇。下列何項行為最適合以誘因解釋？ (A) 小樂想獲得獎金而參加比賽 (B) 小陳因吃得太飽而不停打嗝 (C) 小淑為贏得獎盃而辛苦練跑 (D) 小秋希望受關注而努力練舞。
  - ( ) 寒流來襲，阿明帶了 500 元到服飾店買保暖外套，試穿到一件羽絨外套覺得相當滿意，卻看到標價寫著 2,200 元，而且店家表示絕不二價，最後他只好選擇空手而歸。下列何者為阿明選擇空手而歸的最主要原因？ (A) 金錢有限，必須做出選擇 (B) 促銷打折，所以做出選擇 (C) 由於喜好，所以做出選擇 (D) 基於效用，必須做出選擇。
  - ( ) 阿聖累積 300 點的超商點數今天到期，他到超商想要兌換商品，右圖為阿聖針對可兌換商品做的分析，根據圖中資訊，請以機會成本的概念思考，下列何者最能解釋他選擇兌換蛋塔的原因？ (A) 以美味程度衡量，選擇機會成本較低者 (B) 以美味程度衡量，選擇機會成本較高者 (C) 以飽足程度衡量，選擇機會成本較低者 (D) 以飽足程度衡量，選擇機會成本較高者。
- 
- ( ) 國際綠色和平組織 (Greenpeace) 的創辦人之雷克斯·韋勒 (Rex Weyler) 表示：「曾經，我們以為人類無限的創造力與科技發展定能勝天；曾經，經濟成長看似能持續到永遠。然而，人類終究是動物，與其他生物一樣受限於棲地，而地球終究有極限……。」根據上文判斷，下列何者最可能是其想宣達的理念？ (A) 海平面上升，應築高聳堤防 (B) 機荒頻傳，應改良生產技術 (C) 面臨地震災害，應事先因應 (D) 地球資源有限，應節制使用。
  - ( ) 相同資源帶給每個人的滿足程度不盡相同，因此人們時常把主觀的滿足程度轉換成客觀可以衡量的單位，以方便選擇。下列何者即採用上述方法來進行資源分配？ (A) 輪流使用 (B) 先占先贏 (C) 抽籤決定 (D) 使用者付費。
  - ( ) 華真和妹妹在百貨公司看到球鞋大拍賣，妹妹覺得買 1,600 元的籃球鞋最好；華真覺得有一雙 990 元的板鞋也可以接受，但他最喜歡的還是廣告主打的潮牌球鞋，價格 2,800 元，第二喜歡的是知名品牌慢跑鞋，價格 2,200 元。華真依照喜好程度選購，最後卻買了 2,200 元的慢跑鞋，則其最可能是受下列何項因素所影響？ (A) 廣告行銷 (B) 預期心理 (C) 所得水準 (D) 消費者偏好。
  - ( ) 因為物價上漲，雞排店老闆的生產成本增加，因此將雞排的售價從 45 元調整為 65 元。從價格因素來看，若消費者的所得及其他條件不變，消費者願意購買雞排的數量最有可能產生何種變化？ (A) 不一定，消費者可能多買，也可能會少買 (B) 不管價格有無變動，想買的數量不會改變 (C) 本來 4 天吃一次，可能會改成每週吃一次 (D) 生產成本提高使價格變貴，應該多買一些。
  - ( ) 達康公司開發了甲乙兩款吸塵器，假設每個吸塵器的生產成本固定且公司隨時都有足夠庫存可以供應市場的需求，請根據員工們提供的資訊判斷，達康公司應採用誰提供的策略會最為有利？
    - 小米：最近甲吸塵器的價格下跌，應該多生產甲吸塵器，這樣可以增加甲吸塵器的銷貨收入。
    - 阿彥：最近甲吸塵器的價格上漲，應該多生產甲吸塵器，這樣可以增加甲吸塵器的銷貨收入。
    - 小琳：最近乙吸塵器的價格下跌，應該多生產乙吸塵器，這樣可以增加乙吸塵器的銷貨收入。
    - 阿毅：最近乙吸塵器的價格上漲，應該多生產甲吸塵器，這樣可以增加甲吸塵器的銷貨收入。
  - ( ) 小王打算趁暑假去打工，在面試過後得到三個薪資不同的工作機會，他將薪資情況整理成附表。根據表中資料判斷，若小吳僅依薪資多寡做選擇，最後決定去春來亭涼麵打工，則表中甲、乙、丙三處最可能為下列何者？
 

店家	時薪	機會成本
老王排骨飯	甲	
龍記烏骨雞		乙
春來亭涼麵	120	丙

單位：元/小時
  - ( ) 小安有甲、乙、丙三份工作機會，將其機會成本繪製如附表。若小安在繪製表格時僅以薪資為考量，根據表中內容判斷，甲、乙、丙三份工作的薪資，由高到低依序為下列何者？ (A) 丙、乙、甲 (B) 甲、丙、乙 (C) 丙、甲、乙 (D) 甲、乙、丙。

工作	機會成本
甲	丙的薪資
乙	甲的薪資
丙	甲的薪資

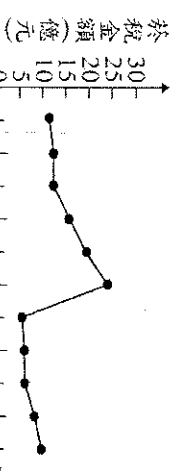
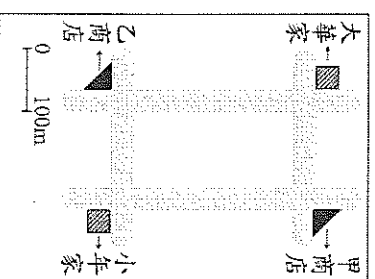
11. ( ) 圖為小江在面臨新工作機會時的選擇情況，若小江僅依薪資高低選擇薪資最高的工作，根據圖中內容判斷，甲、乙、丙工作的薪資高低關係為下列何者？ (A) 甲 > 乙 > 丙 (B) 甲 > 丙 > 乙 (C) 丙 > 乙 > 甲 (D) 丙 > 甲 > 乙。

<p>【圖中內容】</p> <p>我選擇甲工作， 甲工作機會 乙工作機會</p>	<p>【圖中內容】</p> <p>我還是選擇甲工作，但是選擇甲工作的機會成本提高了。 甲工作機會 乙工作機會 丙工作機會</p>
--	--

選擇比較的工作	最佳選擇的機會成本
乙、丙	35,000 元
乙、丁	32,000 元

12. ( ) 小張獲得甲、乙、丙、丁四個薪資不同的工作機會，若他僅以薪資作為選擇工作的依據，在甲、乙兩工作中，他會選擇甲工作，且機會成本為 35,000 元；他另將乙、丙工作與乙、丁工作分別比較，結果整理如右表。根據右表資訊判斷，乙、丙、丁三項工作的薪資高低關係應為下列何者？  
(A) 乙 > 丙 > 丁 (B) 丁 > 乙 > 丙 (C) 丙 > 乙 > 丁 (D) 丙 > 丁 > 乙

13. ( ) 右圖為大華與小年住家附近的地圖，甲、乙二商店均販賣大華與小年想購買的某項商品，且該商品在甲商店的售價比乙商店高。若大華僅想買價格便宜的商品，而小年想就近買到商品即可，則對此二人而言，到哪一間商店購物的機會成本較高？  
(A) 皆為甲商店 (B) 皆為乙商店 (C) 大華：甲商店，小年：乙商店  
(D) 大華：乙商店，小年：甲商店



14. ( ) 甲國為了降低國內吸菸人口，針對每包菸品課徵售價 30% 的菸稅，而自 2017 年起更提高至 50%。右圖是新制上路前後，國內菸稅金額的變化情況，根據圖中資訊判斷，下列何者最適合用來說明 2016 年底時所發生的變化？ (A) 預期心理 (B) 個人偏好 (C) 所得水準 (D) 使用者付費

停車時間	收費金額
20 分鐘內離場	0 元
第一個小時	40 元
第二個小時起	每小時 100 元

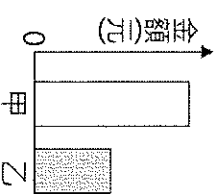
15. ( ) 某機關希望縮短使用者的停車時間，提高停車場車位的流動率，使車位能让更多洽公民眾使用，因此設計新的停車費率，如右表所示。該機關設定表中停車費率所運用的經濟學概念，與下列何者最相似？  
(A) 提高銷貨收入，增加公司利潤 (B) 柳丁價格下跌，種植農民變少 (C) 慶祝擴大營業，全店買一送一 (D) 物價持續上漲，貨幣價值降低

16. ( ) 歐盟基於公眾健康及動物福利等理由，於 2012 年起，禁止境內農民以傳統格子籠方式飼養蛋雞，並立法規定市售雞蛋必須明確標示其飼養方式，讓消費者可以在平飼(即室內放養蛋雞)、放牧(除室內空間外，還提供蛋雞戶外活動空間)等友善生產的蛋品之間做出選擇。上述友善飼養方式逐漸在臺灣推行，但所產出的蛋品在臺灣市占率仍不高，其原因最可能為下列何者？  
(A) 食安問題頻傳 (B) 飲食習慣改變 (C) 蛋品品質不佳 (D) 蛋品售價較高

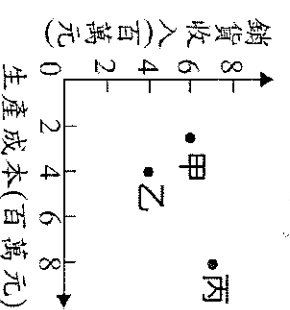
17. ( ) 附表為旅行社提供的甲、乙行程資訊，若大福、小獅、大樂、小星四人自行來回機場皆須花費 1,500 元，根據表中內容判斷，下列哪一項消費行為的主要考量最不可能為價格因素？  
(A) 大福：於 6 月 18 日報名乙行程，而非甲行程  
(B) 小獅：於 6 月 21 日報名乙行程，而非甲行程  
(C) 大樂：於 6 月 24 日報名甲行程，而非乙行程  
(D) 小星：於 6 月 27 日報名甲行程，而非乙行程

行程	甲	乙
出發日期	7月25日	7月20日
費用	34,000元	36,000元
優惠方案	6月25日前報名 折價1,000元	6月20日前報名 折價2,000元
交通	自行來回機場	免費機場接送

18. ( ) 圖為某班園遊會販賣冰沙的營收結果，其中甲代表銷貨收入，乙代表利潤。若後來發現生產成本中少列入一筆塑膠杯餐具的費用，在此筆費用列入計算後，圖中甲、乙最可能出現的情況為下列何者？ (A) 甲不變，乙不變 (B) 甲下降，乙下降 (C) 甲不變，乙下降 (D) 甲下降，乙不變。



19. ( ) 某工廠擁有三條生產線，分別生產甲、乙、丙三項產品，上半年的銷售成果如右圖所示。近日廠長決定停止生產其中一項產品，並把該生產線轉為生產其他二項產品中的其中一種，期望增加工廠的利潤。在考量各生產線上半年獲利的狀況下，根據圖中資訊判斷，下列四個方案中，何者最能達成廠長的目標？ (A) 停止生產甲，增加生產乙 (B) 停止生產甲，增加生產丙 (C) 停止生產乙，增加生產丙 (D) 停止生產乙，增加生產甲



20. ( ) 瑞金工廠評估三種營運策略的收支情況，如下表所示。若僅考量利潤，該工廠的最佳選擇是「維持現狀」，且此選擇的機會成本是「增產乙產品」。根據上述內容判斷，表中「☆」處的數值，最可能為下列何者？(A) 50 (B) 60 (C) 70 (D) 80

營運策略	銷貨收入	生產成本
增產甲產品	120	90
增產乙產品	105	☆
維持現狀	80	40

21. ( ) 快樂國的總統選舉，四位候選人提出政見，希望吸引選票，根據內容，何者是採取「非金錢誘因」影響人民的選擇？ (A) 甲：每個國民都發放生活津貼 1 萬元 (B) 乙：讓每個城鎮都興建捷運站 (C) 丙：提高育兒津貼補助至 5 萬元 (D) 丁：所有公務員都加薪 3%。
22. ( ) 阿成開了一間雞排店，因此他在生產行為中是扮演著生產者的角色。下列何者也是屬於生產者的角色？ (A) 來買雞排的民眾 (B) 來檢查消防設備的人員 (C) 在網路上給好評的學生 (D) 賣雞肉給阿成的攤商。
23. ( ) 所謂「魚與熊掌不可兼得」，下列哪個同學對於這句話的解釋比較正確？ (A) 壯壯：「應該注重自然生態保育。」 (B) 小陳：「個人在做選擇時都必須有所取捨。」 (C) 小柔：「我們想要的物品都必須花錢購買。」 (D) 阿漢：「應該對朋友盡心付出不要求回報。」
24. ( ) 一般民眾常將政府實施的「社會福利」視為免費的措施，而要求政府提供更多福利措施，以致造成其他施政經費短少，這種要求忽略了下列何種觀念？(A) 自由平等 (B) 機會成本 (C) 守法守信 (D) 倫理道德。
25. ( ) 班上幾個同學正在思考社會資源的分配問題，下列何人的說法最為正確？(A) 大成：任何資源的分配只能以效益為考量原則(B)阿強：社會資源分配的規則應由政府全權決定(C)阿宇：用投票方式決定社會資源的使用最公平(D)小熙：分配社會資源應顧及是否符合公平正義
26. ( ) 公司新的企畫案十分困難，沒有員工願意負責，老闆因此在開會時宣布，完成這項企畫案者可以到美國分公司派駐一年。一直想到美國磨練的阿丹立刻自告奮勇接下挑戰，但其他同事依舊興趣缺缺。根據上述，從經濟學角度思考，上述關於誘因所產生的影響，下列敘述何者正確？  
(A)相同誘因對每位員工具有相同的誘發效果 (B)阿丹後來改變選擇是受到負向誘因的影響  
(C)滿足特定需求的誘因對選擇有引導的作用 (D)為達公司目標，應給予每位員工相同誘因。
27. ( ) 老師請同學解釋「機會成本」的意義，下列哪個同學的說法最正確？ (A) 文君：「依據人民享受公共服務的程度，來決定繳稅多寡。」 (B) 俊榮：「個人行為對他人或社會所產生的影響，稱為機會成本。」 (C) 儀芬：「面對選擇時，在捨棄的眾多用途中，價值最高的那個用途，就是做此選擇的機會成本。」 (D) 志勝：「將資源用於某一用途時，所放棄的其他選擇機會中，滿足程度最小、價值最低者，就稱為機會成本。」
28. ( ) 小青最喜歡的食品依序為炸雞、啤酒、捲心餅、洋芋片。如果小青將身上的零用錢都拿去買了捲心餅，則她做此選擇的機會成本為何者？ (A) 炸雞 (B) 啤酒 (C) 捲心餅 (D) 洋芋片。
29. ( ) 報載：全球車廠因錯估車市銷售的增長，在未儲存足夠的車用晶片下，又遇到晶片廠的產能被 3C 電子產品市場訂單占滿，導致全球車用晶片出現不足的困境。針對此則報導，晶片此項資源的相關敘述，何者正確？ (A) 出現取之不盡、用之不竭的現況 (B) 稀少性是指該資源的總數量過低 (C) 相較市場需求，此資源面臨有限的問題 (D) 僅在電子產品市場上出現稀少性問題。
30. ( ) 我們常說：「錢非萬能，但沒有錢卻萬萬不能。」由此可見，消費行為受到什麼因素的影響？ (A) 所得水準 (B) 消費者偏好 (C) 商品價格 (D) 生活習慣。
31. ( ) 就讀國中的小凱頻頻惹事，媽媽為了能夠全心全意照顧他，乃辭去某出版社月薪收入 50,000 元的編輯工作，且為了讓小凱能考上公立高中，另外花費 15,000 元請家教老師。小凱媽媽做出這樣的決定，其「機會成本」會是多少？ (A) 15,000 元 (B) 35,000 元 (C) 50,000 元 (D) 65,000 元。
32. ( ) 某些公司對於派遣勞工與臨時工，不同於正式勞工，不僅不會特別訓練這些勞工，其待遇也不如正式勞工。而這些公司的做法用意為何？ (A) 降低生產成本 (B) 提高生產成本 (C) 增加銷貨收入 (D) 減少銷貨收入。

## 二、題組：

1. 新冠肺炎疫情期間，曾有媒體報導：「由於新冠疫苗分配數量有限，民眾即使登記施打疫苗，也不一定能夠打到自己想要廠牌的疫苗。此外，由於現有疫苗不足以施打全國民眾，政府優先開放第一到三類對象施打，各縣市也優先安排高齡長者施打疫苗。」根據報導內容，請回答下列問題：
- ( ) 33. 有關疫苗的施打情形，下列說明何者正確？ (A) 疫苗取之不盡用之不竭 (B) 每人可選擇兩種以上的疫苗 (C) 疫苗被少數人把持，缺乏公平正義 (D) 疫苗具有稀少性，面臨選擇問題。
- ( ) 34. 文中情形，與下列哪一句話的概念有關？ (A) 天生我材必有用 (B) 魚與熊掌不可兼得 (C) 三天捕魚兩天晒網 (D) 雞蛋不要放在同一個籃子。
2. COVID-19 疫情肆虐全球，造成經濟重創、確診及死亡陰影籠罩。為鼓勵大眾接種疫苗，美國馬里蘭州宣布推出一大誘因，每天都提供 4 萬美元獎金讓已接種疫苗的民眾試運氣，美國國慶日當天還將加碼抽出一個 40 萬美元大獎，參加者必須是年滿 18 歲以上的馬里蘭州居民，且須在馬里蘭州接種至少一劑疫苗。而俄亥俄州也推出「打疫苗抽抽樂」的活動，16 歲以上民眾的接種率因此已增加 28%。請根據資料，回答下列問題：
- ( ) 35. 文中畫線部分是運用何種誘因的策略？ (A) 負向誘因 (B) 金錢誘因 (C) 特殊誘因 (D) 非金錢誘因。
- ( ) 36. 俄亥俄州政府當局表示，16 歲以上民眾的疫苗接種率因此增加 28%，使接種率提高是因為當局運用何種誘因？ (A) 普通誘因 (B) 特殊誘因 (C) 正向誘因 (D) 負向誘因。
3. 各大網購平臺選在節慶前大撒優惠券，釋出多種折扣想讓消費者掏出錢包。但有網友觀察歷年相關活動，發現優惠一年不如一年，至今不僅名額有限還採登記制，回饋方式不如以往大方。許多賣家甚至打上「限量搶購」等字眼，許多民眾只好徹夜等待，只能即時購得限量的低價商品。請回答下列問題：
- ( ) 37. 文中廠商採取的各種作為，是為了使消費者出現何種現象？ (A) 減少消費 (B) 增加消費 (C) 不願消費 (D) 並無相關。
- ( ) 38. 出現文中畫線處的狀況，是由於業者使用何種資源分配方法？ (A) 抽籤決定 (B) 輪流使用 (C) 先占先贏 (D) 相互協調。
4. 由於澳洲與中國兩國交惡，中國政府抵制澳洲龍蝦進口，原本大量長期銷往中國的澳洲龍蝦，面臨市場需求的巨大改變，龍蝦價格因此暴跌三成，漁民也開始煩惱該如何應變。依靠捕龍蝦維生的漁民收入大為減少，面對漁民的困境，澳洲政府並未置身事外，除了減免漁業相關費用外，也協助開拓其他國家的銷售管道，希望漁民未來不需依賴中國的單一市場。漁民們努力的開始思考，現階段能採取的應對策略，以提高利潤、維持生存。請問：
- 請根據資料，回答下列問題：
- ( ) 39. 依照上文所述，中國政府的措施造成龍蝦價格變化，澳洲漁民最可能的因應做法為下列何者？ (A) 減少龍蝦捕獲量 (B) 增加出海次數 (C) 減少龍蝦出口到其他國家 (D) 提高龍蝦的國際銷售價格
- ( ) 40. 根據上文，漁民若為提高利潤以維持生存，下列哪一項建議較有助益？ (A) 減少燃料費支出，與其他漁民合作輪流開船出海 (B) 大量招募新進漁工，累積人力資源以備不時之需 (C) 向政府申請擴大航行範圍，至較遠海域進行捕撈 (D) 購買新漁船，投資大型捕撈設備，增進捕撈技術。