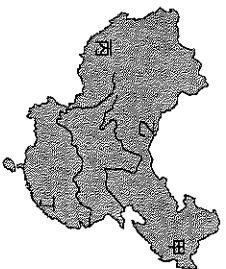


基隆市立武崙國民中學 111 學年度第一學期八年級地理科第一次定期評量試題卷

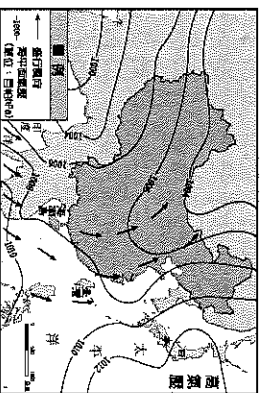
本試卷均為單一選擇題。共 50 題，每題 2 分，總計 100 分。請用 2B 鉛筆將正確答案畫在答案卡上，

考試結束後務必交回答案卡給監考老師。試題卷上也請寫上答案並妥善保管，日後上課需要檢討。

班級：_____ 姓名：_____ 座號：_____



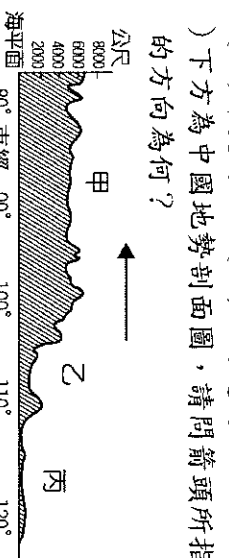
1. () 世界上最高的山脈為喜馬拉雅山，成為中國與鄰國的天然國界。請問：若臺灣某登山隊欲前往中國挑戰攀登喜馬拉雅山，應到附圖中何處？
 (A) 甲 (B) 乙 (C) 丙 (D) 丁
2. () 中國的人口分布狀況是由哪兩個邊境都市連成一線，分成稀疏和密集的兩個區域？(A) 拉薩、上海 (B) 黑河、香港 (C) 黑河、騰衝 (D) 哈爾濱、騰衝。



3. () 附圖為中國氣象局的地面氣象圖，若由圖中資料判斷，則有關該地區的氣候特性中，何者敘述正確？
 (A) 夏季-陸地：低壓區，海洋：高壓區
 (B) 夏季-陸地：高壓區，海洋：低壓區
 (C) 冬季-陸地：低壓區，海洋：高壓區
 (D) 冬季-陸地：高壓區，海洋：低壓區
4. () 水資源問題往往與中國的國勢興衰息息相關，為解決降水季節分布不均所導致的水旱災問題，昔日有大禹治水，今日則興建長江大壩等水利工程。請問：影響中國降水季節分布不均的主要因素為何？(A) 季風風向 (B) 緯度高低 (C) 地形起伏 (D) 距海遠近。
5. () 早期中國人口主要集中在北方，後來部分人民逐漸向南遷移。造成當時南方人口逐漸增多的因素，不包括下列何者？
 (A) 氣候條件適宜農耕 (B) 移民帶來農耕技術 (C) 農田開墾面積日增 (D) 文化政治重心所在
6. () 中國在 2015 年結束計劃生育政策，開始鼓勵生育，其目的最主要是為解決哪些問題？甲.提高教育水準 乙.高齡化 丙.城鄉人口流動 丁.勞力短缺
 (A) 甲乙 (B) 丙丁
 (C) 甲丙 (D) 乙丁

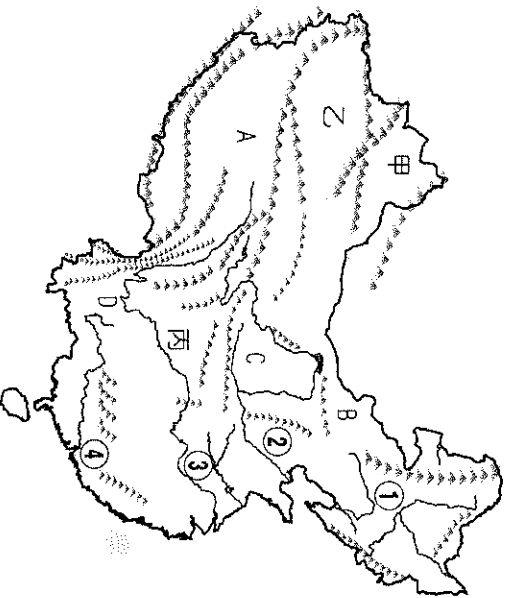
7. () 中國東半部地區人口聚集、產業活動較為發達，和西半部形成強烈的對比。這種現象是受到下列哪一項因素的影響？
 (A) 地形起伏 (B) 氣溫高低
 (C) 面積大小 (D) 礦產豐缺
8. () 中國的氣候類型呈現多樣化的特色，但較缺乏寒帶的氣候區，形成這種現象的主要因素為下列何者？
 (A) 海岸線長 (B) 位居中緯
 (C) 水氣豐富 (D) 地勢平坦

9. () 中國在 1980 年老年人口僅 2.5%，然而在 2016 年卻高達 10%，正式進入老年化的社會。請問：主要的影響因素為何？
 (A) 開放人口移入 (B) 大量勞工退休潮
 (C) 工業技術進步 (D) 出生率大幅下降
10. () 從哈爾濱到上海再到三亞，一月月均溫有愈來愈高的趨勢，這與下列哪項因素最相關？(A) 地勢高低 (B) 經度跨距 (C) 緯度高低 (D) 距海遠近。

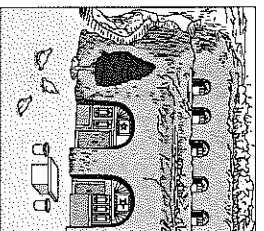


11. () 下方為中國地勢剖面圖，請問箭頭所指的方向為何？
 (A) 東 (B) 西 (C) 南 (D) 北
12. () 承上題，請問圖中箭頭走向與下列哪些項目趨勢一致？甲.河川水流方向 乙.海洋水氣深入方向 丙.人口密度遞減方向 丁.一月均溫遞增方向 戊.經濟發展程度遞減方向 (A) 甲乙丙 (B) 甲乙丁 (C) 乙丙戊 (D) 丙丁戊
13. () 中國幅員遼闊，想飽覽群山峻嶺、深入探訪風土民情和吃遍大江南北實屬不易。請問下列哪些國家的國土面積大於中國？
 (甲) 加拿大 (乙) 巴西 (丙) 澳洲
 (丁) 俄羅斯 (戊) 美國 (己) 南非
 (A) 甲乙丁 (B) 甲丙戊
 (C) 甲丁戊 (D) 丁戊己
14. () 請問下列哪一個地理區有別於其他三者，分布於地形階梯中的高階梯？
 (A) 四川盆地 (B) 柴達木盆地
 (C) 準噶爾盆地 (D) 塔里木盆地

附圖為中國地形示意圖，請參考此圖請回答第15~23題：



- 15.() 從附圖中可以發現中國的山脈走向在東部和西部呈現明顯差異，請問兩側山脈走向不同和下列何者關係最密切？
 (A)火山作用 (B)板塊運動
 (C)距海遠近 (D)岩層種類
- 16.() 請問附圖中哪一個平原具有下列特色：
 1.土壤肥沃，生產季最短
 2.夏季東南季風吹拂帶來降水
 3.人口相對較少，機械化生產程度最高
 (A)① (B)② (C)③ (D)④
- 17.() 『東北平原、長江中下游平原、珠江三角洲和華北平原』為中國四大主要平原，請問其在附圖上位置的正确排列順序為下列何者？
 (A)①、②、③、④
 (B)①、③、④、②
 (C)①、③、②、④
 (D)②、①、④、③
- 18.() 此高原氣候相對乾燥加上地質條件特殊易被侵蝕、遍地溝谷崎嶇不平，但又有土質不易崩塌的特性，因此挖鑿出如附圖所見的特色民居，請問此高原位於下列哪個位置？
 (A) A (B) B (C) C (D) D
- 19.() 『此地地形封閉，內部河川眾多，霧氣重，然而因物產豐饒而贏得天府之國的美名，麻辣火鍋、蟬蟬雞為當地特色美食』上述為中華旅行社主推的旅遊行程文宣介紹，請問其主要販賣的行程位於何處？(A)A (B)C (C)乙 (D)丙



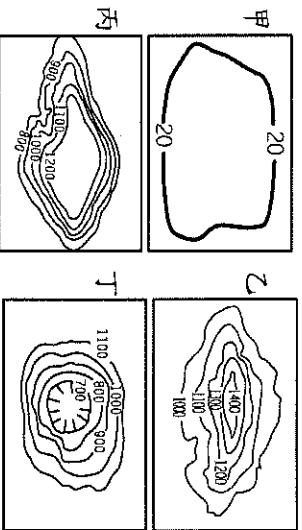
- 20.() 此地形區地勢高聳、崎嶇，致使交通不便、開發遲緩，然而也因此保有自然壯闊的絕美景觀與特色的傳統民俗，近年開通的鐵路更為全球海拔最高的路段，請問此區名稱及位於地圖何處？
 (A)黃土高原、B (B)青藏高原、A
 (C)內蒙古高原、D (D)雲貴高原、C
) 承上題，下列為到此地形區旅遊需要注意的事項，請問哪項是正確的？
 (A)夏季氣溫普遍低於20°C日溫差小
 (B)地勢高易誘發高山症需自備藥物
 (C)高地氣候年溫差大需帶保暖衣物
 (D)多數河川發源地年雨量全國之冠
) 均詳計畫到乙地形區自助遊，代辦的旅行社告訴他當地氣候與臺灣有極大的差異，容易水土不服需要多留心準備。請問關於當地氣候與居民生活的敘述何者『有誤』？(A)乾燥少雨呈現沙漠景觀
 (B)氣溫與植被隨高度呈垂直變化
 (C)缺乏灌溉之地居民以畜牧為生
 (D)年日溫差均大須特別留意穿著
- 23.() 下列哪些指標的變化趨勢自中國地形區4到地形區甲是呈現『逐漸遞減』的？
 甲.年溫差 乙.年降水量 丙.人口密度
 丁.地勢高低 (A)甲乙 (B)甲丁
 (C)乙丙 (D)丙丁
- 24.() 下列哪張地圖能正確呈現中國的位置資訊？
- (A)

(B)

(C)

(D)
- 25.() 請問中國因受何種地理條件的影響，有利於海洋暖溼氣流深入內陸，因而能孕育大量的人口？
 (A)地勢西高東低 (B)疆域面積廣大
 (C)領土多位溫帶 (D)國土形狀完整
) 中國鄰國眾多，邊境異國色彩濃厚，文化相互影響、擴散，使得邊境文化多元、富有地方特色，然而西藏卻因為哪個天然屏障導和鄰國印度文化差異頗大？
 (A)南海 (B)橫斷山脈
 (C)雅魯藏布江 (D)喜馬拉雅山

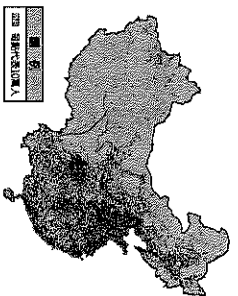
27. () 中國地形多元複雜，中國地形主要以哪兩類為主？



(A) 甲、乙 (B) 甲、丙
(C) 乙、丙 (D) 丙、丁

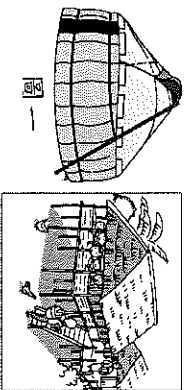
28. () 根據中國人口分布點圖可以發現

人口密度最高的地區與下列何者關係較小？



(A) 環境負載力較低 (B) 地形平坦遼闊 (C) 氣候相對暖溼 (D) 傳統產業以務農為主

29. () 附圖一、



二為中國不同地區的特色建築，請問形成這些建築的氣候環境最可能分別為下列何者？

地區	年降水量 (mm)	一月均溫 (°C)	七月均溫 (°C)
甲	19	-8.1	33.2
乙	683	-5.0	25.4
丙	1,223	3.5	28.8
丁	2,290	20.4	28.0

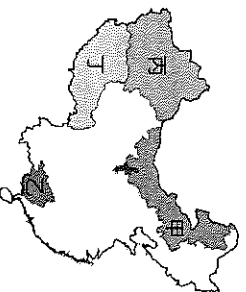
(A) 甲、丁 (B) 甲、乙
(C) 丁、乙 (D) 丙、甲

30. () 中國大量的人口除了對環境造成嚴重的負擔與破壞外，也帶來許多優勢，請問關於大量人口帶來的優勢下列哪些是正確的？甲.區域發展獲得均衡 乙.提供大量人力資源 丙.形成龐大消費市場 丁.提升優質人民素質 (A) 甲乙 (B) 乙丙 (C) 乙丁 (D) 丙丁

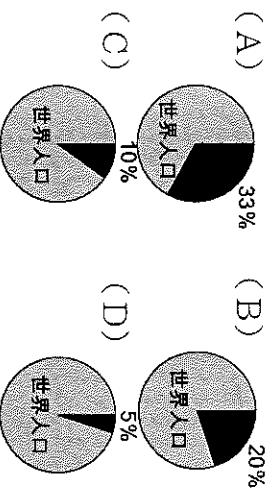
31. () 請問附圖中甲～

丁灰色的區塊是歸屬於下列哪一種行政區層級？

(A) 省 (B) 直轄市 (C) 自治區 (D) 特別行政區



32. () 下列哪一張圓餅圖的比例繪製最能用來正確呈現中國人口佔世界人口的比例



33. () 1979年起中國政府為有效達成人口目標，強力推行相關政策，時至今日當年的政策依舊對民生、經濟甚至是家庭價值觀有重大影響，請回答第33～35題：

33. () 請問1979年中國政府實施的人口政策為下列何者？(A)三孩政策 (B)一胎化政策 (C)掃蕩黑戶政策 (D)禁止城鄉人口流動政策

34. () 承上題，請問此政策的實施是為了達到哪一項人口目標？

(A) 降低性別比 (B) 平衡區域差異 (C) 抑制高齡化 (D) 控制人口成長

35. () 1979年的人口政策實施至今造成哪些破壞人口結構的『負面』影響？(甲)高齡化 (乙)少子化 (丙)總人口下降 (丁)死亡率下降 (戊)性別比失衡 (己)勞動力短缺 (A) 甲乙丙丁 (B) 甲乙戊己 (C) 乙丙丁戊 (D) 丙丁戊己

36. 附圖為中國年降雨量等值線分布圖，請回答第36～38題：



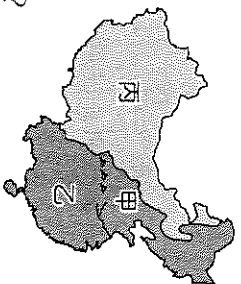
(A) 甲、丁 (B) 甲、乙 (C) 丁、乙 (D) 丙、甲

37. () 請問甲～丁四條等值線的數據呈現哪一種變化趨勢？(A)數值愈來愈大 (B)數值愈來愈小 (C)丙數值最大其他較小 (D)四者數值差異不大

38. () 請問中國年降水量空間分布的趨勢，主要是受到下列哪些因素的影響？

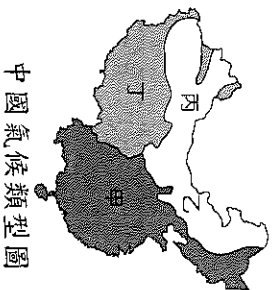
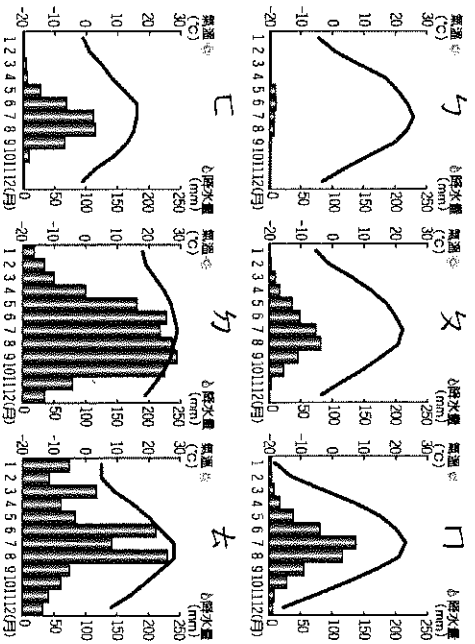
(A) 季風風向、距海遠近 (B) 地形起伏、緯度高低 (C) 距海遠近、產業類型 (D) 地勢高低、植被種類

86附圖為中國境內農牧業活動分布圖，請根據圖中資料回答第39~42題：



39. () 下列關於附圖中甲、乙兩區分界線的敘述何者『錯誤』？
 (A) 又稱秦嶺、淮河線 (B) 一月均溫0°C等溫線 (C) 七月均溫18°C等溫線 (D) 年降水量750 mm等雨量線
40. () 關於甲、乙兩區居民傳統生活的敘述何者正確？(A) 甲船乙馬 (B) 甲蔗乙甜 (C) 甲麥乙稻 (D) 甲水田乙旱田
41. () 甲乙兩區和丙區中間的分界線其地理意義為下列何者？(A) 又稱胡煥庸線 (B) 1000公尺等高線 (C) 一月均溫0°C等溫線 (D) 年降水量500 mm等雨量線
42. () 下列何者為前往丙區旅遊『無法』參訪及體驗到的內容？(A) 前往沙漠中的綠洲品嚐葡萄 (B) 騎著駱駝漫步在層層沙丘上 (C) 拜訪逐水草而居的牧民 (D) 夜宿通風涼爽的干欄式建築

86附圖為中國六個都市的氣候圖及中國氣候類型圖，請參考附圖回答第43~47題：

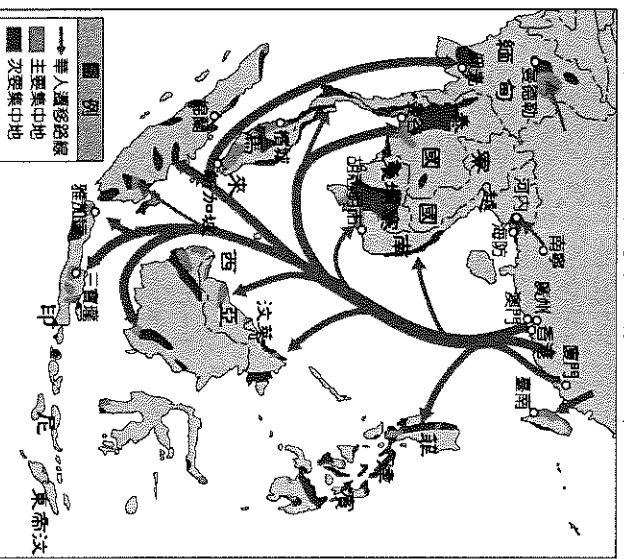


43. () 環境負載力影響一地人口數量分布的多寡，請問若單純只依氣候圖來判斷，哪一個都市氣候圖所代表地區的環境負載力最『低』？(A) ㄅ (B) ㄆ (C) ㄇ (D) ㄏ
44. () 承上題，此都市最可能出現在氣候類型圖的哪個位置？
 (A) 甲 (B) 乙 (C) 丙 (D) 丁

45. () 請問哪一張氣候圖最可能出現在中國氣候區圖中的丁區？
 (A) ㄅ (B) ㄆ (C) ㄇ (D) ㄏ

46. () 氣候圖ㄇ都市的冬、夏季風吹拂方向為下列何者？(A) 無季風影響 (B) 東北、東南 (C) 東北、西南 (D) 西北、東南
47. () 請問關於中國氣候類型圖中乙、丙兩區的敘述下列何者正確？①乙區為溫帶草原性氣候 ②丙區的傳統畜牧模式以放牧為主 ③丙區的農業為綠洲農業 ④受地形影響使兩地氣候不同 ⑤兩者的分界為250 mm等雨量線 (A) ①②⑤ (B) ①③⑤ (C) ①②④ (D) ③④⑤

86附圖為華人遷移圖。中國因人口多、資源分布不均、糧食不足，促使人們離開家鄉尋找耕地或工作機會，而向國外遷移，請回答第48~50題：



48. () 在帆船時代，住在中國的東南沿海的居民若想順風揚帆移民到東南亞，主要會利用哪個季節啟程？
 (A) 春 (B) 夏 (C) 秋 (D) 冬
49. () 由附圖資訊判斷，華人移民東南亞較少定居在哪個國家？(A) 寮國 (B) 越南 (C) 菲律賓 (D) 馬來西亞
50. () 現在到東南亞旅遊，可以發現華人聚集區有漢字招牌、華人特色飲食及華人傳統宗教建築，請問移民將原鄉文化帶到移居地的現象稱為什麼？
 (A) 文化擴散 (B) 文化融合 (C) 文化衝突 (D) 文化承傳