


【基隆市立武崙國中 111 學年度上學期八年級公民科第一次段考】

一、單題 (每題 2 分，共 70 分)

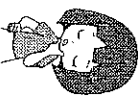


1. () 裕鈞參觀我國一政府部門時聽導覽人員說明如附圖所示，內容大意最接近下列何者？(A)政府機關在執法上無所依循，依賴民眾監督(B)在法治社會中，法律可對政府施政進行約束(C)人民權利受到法律保障，此為人治社會特點(D)法律限制政府權力行使，導致行政效率不彰
2. () 中國與南海周遭國家所產生的「南海爭議」，在於南海周遭國家均宣稱自己擁有該海域附近島嶼與相關天然資源的控制權及使用權，但卻不被其他國家所承認，因此彼此間衝突不斷。請問：上述應為國家哪一項組成要素的爭議？(A)主權(B)人民(C)國籍(D)政府
3. () 幾位同學在討論總統於國慶日發表的演說，下列何人的陳述內容可說明我國對外具備「主權」此一國家組成要素？
(A) (B) (C) (D)

訂定開發計畫，協助邦交國推動基礎建設。



通過公教年金改革，舒緩年金破產的危機。



落實長照政策，使民眾就近獲得照顧服務。



整合跨部會資源推動反毒，加重販毒刑責。



經貿引擎
各國均致力於達成《跨太平洋夥伴協定》(TPP)，我國將把握機會，積極加入，以爭取我國最大經濟利益。

我國已經訂定《資恐防制法》，只要是參與和資助恐怖活動的人將受到嚴罰。
又發生恐怖攻擊了，真可怕！
品希
品冠

這次對於菸害防制政策的調查結果，民眾不同意的比率高達78%。
政府感受到社會的反彈聲浪，決定進行檢討修正。
凱翔
以軒

第9任	中國國民黨	第12任	中國國民黨	第15任	民主進步黨
第10任	民主進步黨	第13任	中國國民黨		
第11任	民主進步黨	第14任	民主進步黨		

10.() 玉帆發現民主國家制定《憲法》以保障人民基本權利，因此上網搜尋關於我國《憲法》在法律位階上的相關說明，下列何者完全正確？(A)由立法院制定 (B)不得抵觸命令 (C)又稱狹義法律 (D)法律位階最高。

11.() 下列關於「政府」的敘述，何者正確？(A)為國家的統治機關(B)為了達成政策目標，可不受法律約束(C)掌握國家最高的統治權力，可以完全管束人民(D)政府的更替將影響國家在國際上享有的權利和地位

國防部最近
積極募兵。



軍力短缺是一個需
要正視的問題。

12.() 附圖中的對話內容顯示現代民主國家的哪一項功能受到影響？(A)保衛國民安全(B)促進產業發展(C)扶助弱勢群體(D)保障基本人權

13.() 下列是有關「法治」概念的相關解釋：「在民主國家，(甲)所有法律均由司法人員制定及執行，政府和人民都要遵守，但(乙)政府基於施政的需要不必受法律的約束，可以(丙)由總統依法規逕行公布法律，而且法律之前人人平等，(丁)凡是違法的人都應受到處罰。」上述的說法哪一項正確？(A)甲 (B)乙 (C)丙 (D)丁。

14.() 在民主國家中，人民透過何種方式決定執政者的去留，可避免獨裁國家產生以武力奪取政權的情況？(A)流血革命 (B)階級鬥爭 (C)定期選舉 (D)物競天擇。

15.() 一位網友在社群網站上貼文，寫出他旅居當地的感受，如附圖所示。根據內容判斷，下列敘述何者正確？(A)軍政府的行動受到民眾支持(B)緬甸政權在和平中順利轉移(C)軍政府的統治權具有正當性(D)定期選舉的體制已受到破壞

新聞更新 10分鐘

緬甸軍方發動武力政變推翻民選政府，接管政權，許多民眾上街示威，抗議軍方忽視民意，但卻遭到暴力鎮壓和無情射殺。我不禁想問：軍政府的統治權真的具有正當性嗎？

16.() 委內瑞拉國會選舉結束後，全國選舉委員會主席說：「國會選舉進行得相當順利平和。我們可以說委內瑞拉人民今天表達了《憲法》賦予他們的權利。」由此可見，民主國家具有下列哪一項優點？(A)勝者為王(B)識時務者為俊傑(C)政權和平轉移(D)可以紓解不滿情緒

17.() 兩名同學在討論一則時事，由附圖內容判斷，對話中所指的「現行法律」較可能是下列何者？(A)《商業團體分業標準》(B)《汽車運輸業管理規則》(C)《用水計畫審核管理辦法》(D)《電子支付機構管理條例》


小旗

該命令可能淪為無效。



主管機關若為這家企業修正相關的行政命令，將抵觸現行法律。

難怪大家都說，下次總統大選，要換黨做做看。



政府錯誤的政策，造成這幾年來經濟衰退，各行各業都慘兮兮的。



18.() 附圖中兩人的對話內容，可以用下列何者來說明？(A)實施民主政體，造成行政效率低落(B)獨裁政府施政，缺乏其他政黨監督(C)政黨施行的政策，必須對人民負責(D)政治人才斷層，導致政黨喪失功能

19.() 一國中，若是希望政權能合法轉移，維持政局的穩定與延續性，可以透過下列何種制度，使政黨取得執政的合法性與正當性？(A)議會質詢(B)權力分立(C)地方自治(D)定期選舉

20.() 根據《警察勤務條例》第11條規定：「臨檢：於公共場所或指定處所、路段，由服勤人員擔任臨場檢查或路檢，執行取締、盤查及有關法令賦予之勤務。」但警察執法時亦不能逾越必要程度，以免侵害《憲法》保障人民的人身自由權。由上述判斷，下列說明何者最為正確？(A)法規落實警察對人民的臨檢權利(B)法律保障人民身上的自由權力(C)執法單位與人民均受到法律約束(D)警察機關執行勤務不受法律規範

21.() 政府官員執行的政策失敗時，必須為政策負責，若是因此無法取信於民，更應該去職以示負責。上述政府官員的作為是負起什麼責任？(A)法律責任(B)道義責任(C)政治責任(D)行政責任

22.() 以下新聞報導顯示何項國家組成要素的重要性？(A)人民(B)政府(C)主權(D)領土

立法院通過臺菲司法互助協定：臺菲簽署的司法互助協定，日前於立法院通過，將有助於兩國處理相關司法問題。

23.() 「拉脫維亞舉行國家重大選舉，19個政黨爭奪國會100名席次，民調顯示『人民黨』獲得

13.7%的支持率，領先其他政黨，緊追在後的是聯合政黨。許多政黨都把競選重點擺在經濟議題上，希望透過公平競爭，以贏得最後的勝利。」以上所述是民主治理所具備的哪一項特色？

(A)民意政治 (B)責任政治 (C)政黨政治 (D)法治政治。

- 24.() 為分析國家與政府的區別，同學們在課堂上進行討論，下列何人的說明完全正確？(A)小宥：國家主權需要政府機關執行公權力加以貫徹 (B)小穎：國家只是構成政府部門成立的數個要素之一 (C)小凌：國家通常會因政權轉移或者制度變遷而改變 (D)小卉：國家應屬於負責制定政策與執行的行政單位。

- 25.() 為完成公民報告，組員必須蒐集相關資料，每個組員被分配到部分如下所示。請問：這組所負責的主題應該是民主治理所具備的哪一項特色？(A)民意政治(B)政黨政治(C)責任政治(D)法治政治

- 26.() 盈慧看到一則新聞播報如附圖，根據該位主播指出的危機，應可做出下列何項推論？(A)人民可以決定執政者的去留 (B)國家會隨制度變遷而改變 (C)政府須使用公權力執行政策 (D)國家的權力對內具有最高性

- 27.() 民主國家透過選舉方式轉移政權，附圖對話內容與下列何項敘述最為符合？(A)政府已建立與人民的溝通管道 (B)人民委託政府管理國家事務 (C)人民表達公眾意見受到法律保障 (D)人民選舉結果應經國際認可

- 28.() 國家存在的目的會隨時代而改變，根據附圖內容，顯示現代民主國家的哪一項功能發揮了效果？(A)改善文化環境 (B)促進產業發展 (C)維護社會秩序 (D)重視社會福利措施。

- 29.() 依照我國法律位階來判斷，附圖中發言人提及的法令應為下列何者？(A)《國民教育法》(B)《性別平等教育法》(C)《學生輔導法施行細則》(D)《教育人員任用條例》

- 30.() 選舉在即，幾位網友在社群發表意見，下列何人的論點較為正確？(A)郝昌：進行選舉活動恐將造成國家解體 (B)菽遠：國家主權喪失表示國家瀕臨滅亡 (C)嘉棻：不同政黨執政會影響國家主權大小 (D)彩櫻：國家主權會隨政權轉移產生變化。

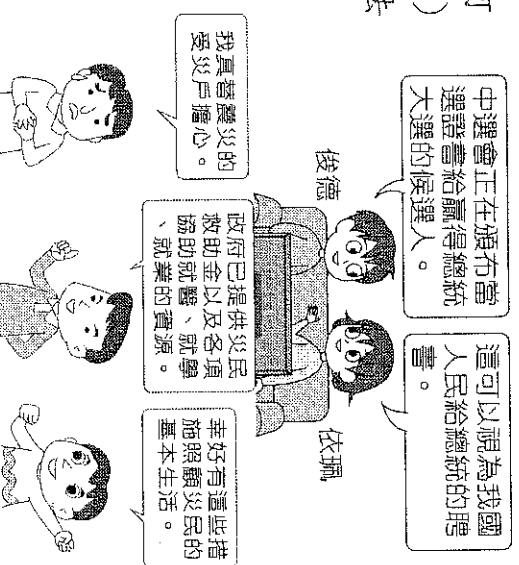
- 31.() 在現代民主政治的運作中，政黨具有許多功能，以英國議會政治發展為例，國會選舉的重要特性等同我國的總統大選，議員席次最多的政黨領袖成為國家領導人。而在選舉中獲得議員席次最少的政黨，最可能無法發揮下列哪一項功能？(A)教育社會大眾，培養執政人才(B)監督政府施政，確保分權制衡(C)主導組織政府，負起施政責任(D)匯集人民意見，擬定公共政策

- 32.()東埔寨曾在舉行地方選舉時，賄選、威脅與政治暴力事件不斷，有一百多人在該次選舉中喪生。反對黨與人權團體指責，這些人遇害都是有政治動機的謀殺。由上述新聞可知，當時的柬埔寨在民主治理上須加強哪一項特色？(A)責任政治(B)政黨政治(C)法治政治(D)民意政治
- 33.() 幾位同學正在區分國家與政府各面向的差異，下列何人的說明完全正確？(A)艾杭：國家的權力對外具有最高性，範圍較小(B)澄琪：國家容易隨著制度變遷而改變(C)珈彤：國家的權力對外具有最高性，對內具有獨立性(D)勳祐：政府為國家的決策單位，以公權力執行政策

- 34.() 小納說明某一政治概念時指出：「古代有篡位取得君權者，近代則有利用政變取得政權的統治者。若上述事件發生在今日，以現代民主政治運作的角度觀察，這些政治權力的來源其實都不具合法性。」小納的說法是因為上述二種政權的來源皆缺乏哪一條件？

分配表
彎彎：透過定期選舉公平競爭
阿德：政權和平轉移
巧柔：組織政府、執行政策
小光：監督政府施政

新冠病毒席捲全球，各國政府的應對政策均牽動選情，防疫不力的執政黨可能在下一次的選舉中面臨危機。



- (A)政黨政治的發展 (B)人民自由的保障(C)權責相符的責任政治(D)公平競爭的選舉過程
35. () 盈北上臺報告時使用以下案例說明，她所探討的主要內容，最可能為下列何者？

勞動部依《勞工職業災害保險及保護法》第43條及46條規定，訂定《勞工職業災害保險失能給付標準》，以補充災害保險實施的細節。

(A)法規修訂均須經過立法院修正審查(B)立法者制定法律合乎《憲法》精神(C)行政機關制定命令是基於法律授權(D)政府不能以法律侵害人民基本權利

二、題組 (每格3分，共30分)

(一)中國爆發新型冠狀病毒(COVID-19)疫情，因人員流動頻繁而快速傳播，數個大城市進行封城措施防止疫情擴大。香港在傳出多名確診病例後，當地民眾擔心醫護資源無法負荷，串連發聲，希望香港政府嚴格管制中國其他地區居民進入香港，並立即訂定積極有效的防疫政策，避免如2003年非典型肺炎(SARS)造成299人死亡的悲劇重演。香港當局在延宕多日後終於回應民眾：獲得中央政府同意後，將縮減部分交通口岸。請問：

36. ()香港無法稱為一個國家的原因，應是缺乏何項組成要素？(A)人民(B)領土(C)政府(D)主權
37. ()下列何者是民眾串連發聲的主要目的？(A)挑戰政府治理地方的公權力(B)要求政府須對國民安全健康負責(C)尋求外國勢力建立新的統治政權(D)反對政府徵調民間資源共同抗疫。
- (二)新一代戶役政資訊系統上路之初，因系統不穩而頻頻出錯，造成民眾洽公不便。請問：
38. ()民眾前往戶政機關申請身分證，由於新系統發生狀況無法印製，戶政機關只能發放臨時身分證應急。請問：擁有我國身分證所代表的意義為何？(A)出生在我國境內(B)長期居住於我國(C)擁有我國國籍(D)年滿20歲
39. ()我國的戶政業務包含戶籍行政、國籍行政、人口政策……等。上述的業務內容應與哪一項國家的組成要素最相關？(A)領土(B)政府(C)主權(D)人民
- (三)璇辛看到數月前，俄羅斯尚未攻擊烏克蘭時的一則報導：「俄羅斯在烏克蘭邊境集結軍隊、增派武力，兩國對峙，衝突危機升高，引發國際高度關注。歐美國家增援烏克蘭，同時呼籲俄羅斯政府勿入侵烏克蘭領土，以免引發戰爭衝突。俄羅斯此舉在國內遭到部分民眾反對，認為開戰將導致經濟受創、民生受到影響，但這些反對聲浪對政府一意孤行的決策卻也無能為力。烏克蘭總統則表示，烏克蘭不會因俄羅斯的挑釁行為而躁進，但政府會堅定保護人民家園，抵禦外來勢力的進逼。」請問：
40. ()以國家組成要素理解上文，下列敘述何者正確？(A)兩國間爆發戰爭，起因是烏克蘭進占俄羅斯領土(B)俄羅斯在對內統治上，缺乏執行政策的權力(C)烏克蘭在國際上行使主權不受任何國家干涉(D)選舉使烏克蘭政府產生權力轉移，恐喪失主權
41. ()根據烏克蘭總統的發言，可看出國家具備何項功能？(A)保衛國民不受外來侵略(B)制定法律保障弱勢群體(C)從事外交推廣本國文化(D)聯合盟友介入他國內政
- (四)桃園航空城為桃園國際機場周邊大型園區建設規畫案，興建完工後將以自由貿易港區的優勢條件，提升桃園的工業實力，並促進北臺灣的產業發展。但在土地徵收過程中，發生聽證會舉辦爭議，許多民眾紛紛陳情，要求政府要依據法律執行，以確保他們的權益。請問：
42. ()上述規畫案的興建主要在發揮現代民主國家的哪一項功能？(A)重視社會福利措施(B)保衛國民安全(C)維護社會秩序(D)促進產業發展
43. ()民眾向政府陳情，提出合乎自身權益的要求，是希望政府發揮現代民主國家的哪一項功能？(A)保障基本人權(B)改善教育環境(C)重視社會福利措施(D)保衛國民安全
- (四)在歷史上關於人權的第一部法典——英國《大憲章》簽署800年的紀念活動上，英國首相表示《大憲章》制定的意義不僅只專屬於英國，更改變了全世界。當時這份文件簽署的目的在限制王權，但同時也把所有的自由人納入法律保障範圍之內，影響後代許多國家《憲法》的制定。而後，政府依法擁有權力，人民權利受到保障。請問：
44. ()由上文判斷，關於《大憲章》簽署之前的英國社會描述，下列何者正確？(A)屬於法治社會(B)統治者的意思就是法律(C)法律凌駕於統治者之上(D)法律可以約束所有的人。
45. ()對於文中畫雙底線處的解讀，下列何者正確？(A)是一種上對下支配的力量(B)可任意侵害人民的權利(C)原則上不受《憲法》約束(D)為君主專制體制所持有