

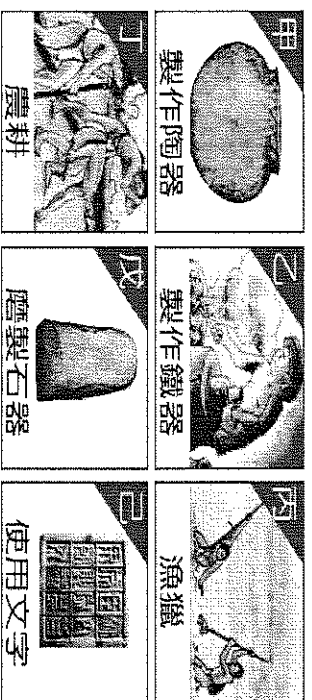
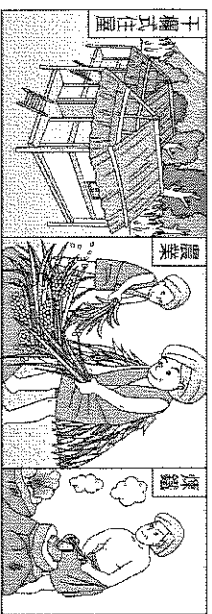
基隆市立武崙國民中學111學年度第一學期七年級歷史科第一次段考試卷

年 班 座號： 姓名：

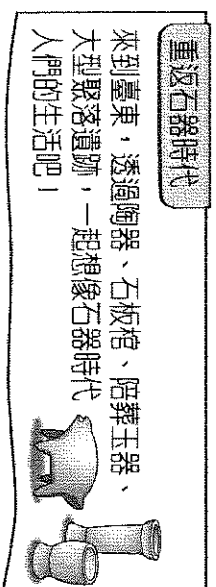
◎畫卡注意事項：填入正確的班級、姓名、座號。用2B鉛筆畫卡。

一、單題，每題2分(共80分)

- ()在人類漫長的演化過程中，用來區別「史前時代」和「歷史時代」的重要依據為下列何者？
(A)石器的製作方式 (B)陶器的有無 (C)文字的發明 (D)農業的出現。
- ()學者將臺灣史前文化分為舊石器、新石器和金屬器三個時代，是依據下列何者？
(A)出土的人類遺骸 (B)遺址四周的地理環境 (C)出土器物的規格大小 (D)器物製作方式與技術。
- ()附圖呈現古代人類的幾種生活樣貌，臺灣的大坌坑文化應涵蓋其中哪些活動？
(A)甲丙丁戊 (B)甲乙丁戊
(C)乙丁戊己 (D)丙丁戊己。
- ()根據地質學家的推測，下列何種遺跡可作為臺北盆地在史前時代曾為湖泊的證明？
(A)八里地區出現生鏽的鐵器碎片 (B)圓山地區出現的貝殼堆積 (C)卑南遺址發現的陶器碎片 (D)九份山區挖出的煤礦




- ()下圖是曉華在書上看到的漫畫，此圖最可能是描繪臺灣哪一史前文化？
(A)長濱文化 (B)圓山文化 (C)十三行文化 (D)大坌坑文化
- ()附圖是校外教學學習單的主題，依內容判斷，此學習單介紹的最可能是下列哪一史前文化遺址？
(A)長濱文化 (B)圓山文化
(C)卑南文化 (D)十三行文化。



- ()小佩打算規畫一趟尋訪臺灣史前文化遺址的環島之旅，從臺南市出發，探訪以下的史前文化：
(甲)長濱文化；(乙)南關里遺址；(丙)卑南文化；(丁)圓山文化。請問：若以順時針方向進行探訪，小佩走的路徑應為下列何者？(A)甲乙丙丁 (B)丁丙乙甲 (C)丙甲丁乙 (D)乙丁甲丙
- ()附表呈現史前人類生活情形的變化，若要以「舊石器時代→新石器時代」的方式，表示舊石器時代至新石器時代的文化變遷，表中甲、乙、丙、丁何者最為適切？
(A)甲 (B)乙 (C)丙 (D)丁。

甲	種植根莖類作物→種植稻米
乙	打製石器→磨製石器
丙	燒製陶器→冶煉鐵器
丁	不知用火→用火煮食

- ()附圖是臺灣史前文化中出土的物品，若依照文化的演變來看，圖中三項文物出現的時間順序為何？

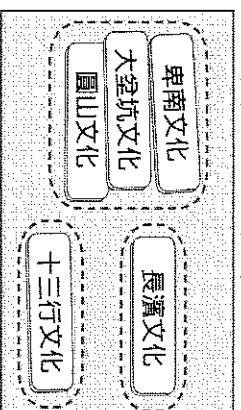
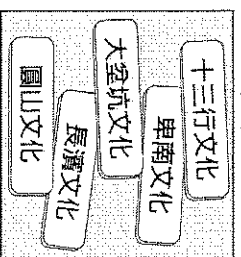


(A)乙甲丙 (B)乙丙甲 (C)甲乙丙 (D)甲丙乙。

- ()幼穎利用暑假走訪臺灣目前所發現最古老的史前文化，附表是她所蒐集的資料，其中哪一項錯誤？
(A)時間 (B)地點 (C)生產方式 (D)使用工具。

時間	距今五萬至五千年前
地點	位於東部花蓮縣
生產方式	採食
使用工具	打製的石器

11. ()鈞憶將圖一中的五張卡片分為圖二中的三類，其分類的依據最可能是下列何者？



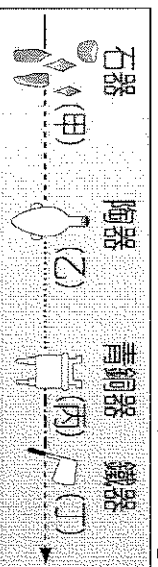
圖一

圖二

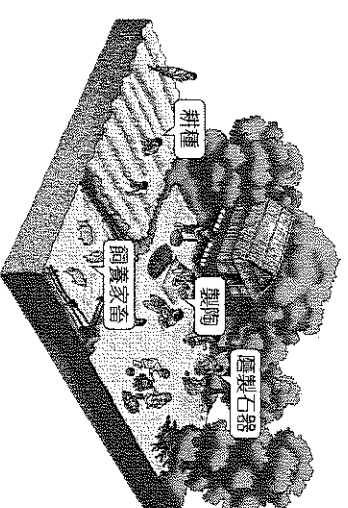
(A)製作器物的技術 (B)文字發展的程度 (C)居住區域的位置 (D)使用貨幣的類型。

12. ()在十三行文化遺址中，出土了瑪瑙珠、玻璃製品，以及其他質料的珠子，還發現金飾、鍍金青銅碗、銀管飾物、銅刀柄、銅碗、銅鈴、銅幣等來自於南洋或中國的外來物品。由上述內容我們可以做何種正確的推論？
(A)與其他地區貿易往來更加密切 (B)十三行遺址屬於新石器時代的文化該文化 (C)十三行文化具有國家的規模 (D)此時期已進入歷史時代。

13. ()附圖中哪一個文化階段與臺灣「卑南文化」屬於同一時期？



(A)甲 (B)乙 (C)丙 (D)丁。



14. ()歷史老師畫了一張「史前人類生活」示意圖(如附圖)，希望可以幫助學生記憶。根據圖中內容判斷，老師正在教授哪一個範圍的課程？

(A)舊石器時代 (B)新石器時代 (C)青銅器時代 (D)鐵器時代。

15. ()在清帝國時期的臺灣地方縣志中，常可看到以「生番」、「熟番」的名詞來稱呼原住民，當時清廷區分生、熟番的標準為何？

(A)居住地區 (B)打獵或農耕 (C)是否歸順政府 (D)語言系統

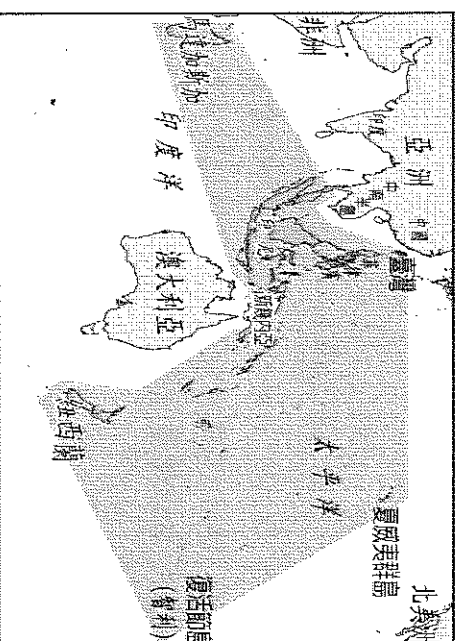
16. ()臺灣的原住民，依其主要生活區域的不同，可分為平埔族和高山各族。其中有關平埔族的敘述，下列哪一項正確？(A)其漢化的時間較高山各族稍晚 (B)早期生活在平原、丘陵地區 (C)大約可分為泰雅、布農等十六族 (D)移入臺灣的時間在漢人之後

17. ()位於淡水河的十三行文化距今約二千~四百年前，已有煉鐵技術。雖然會使用鐵器，但仍以農業、漁獵維生，由於他們的生活技術進步，因此也發展出較大的部落。請根據他們活動的範圍來判斷，十三行文化因與下列哪一族人範圍相近，而被視為其祖先？

(A)阿美族 (B)賽夏族 (C)西拉雅族 (D)凱達格蘭族。

18. ()南島語族的由來與分布，迄今仍是學界爭論不休的主題。請觀察右圖，可以讀出下列哪項正確訊息？甲、臺灣位在南島語族分布的最北端；乙、太平洋、印度洋都有南島語族的蹤跡；丙、紐西蘭和澳大利亞都有南島語族；丁、盛產狐猴的馬達加斯加島，也有南島語族

(A)甲乙丙 (B)甲乙丁 (C)甲丙丁 (D)乙丙丁。

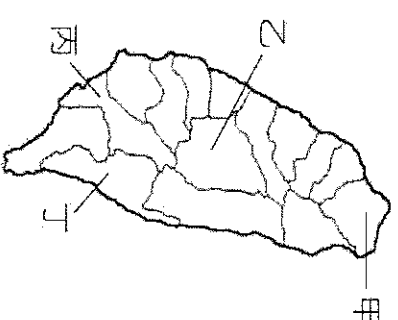


19. ()學者透過哪一樹種的基因分析成果，推論臺灣可能是南島語族的起源地或向外擴張的起點？(A)榕樹 (B)樟樹 (C)構樹 (D)檜木。

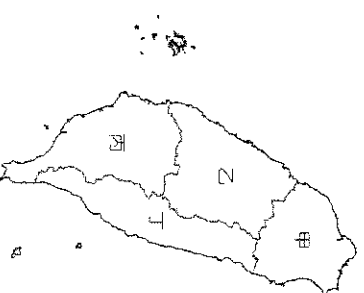
20. ()老師帶領同學們拜訪某一臺灣原住民部落後，同學們寫下以下心得：「傳說他們的祖先先與太陽神有關，並崇敬百步蛇。」請問：老師帶同學們去訪問的，是哪一原住民族群？(A)泰雅族 (B)排灣族 (C)布農族 (D)卑南族。

21. ()根據邵族的白鹿傳說，其祖先因追捕一隻肥碩的大白鹿，發現一片湖光水色，湖中有取之不盡的魚類，因此在湖邊定居下來。請問：上述的「湖」在右圖何處？

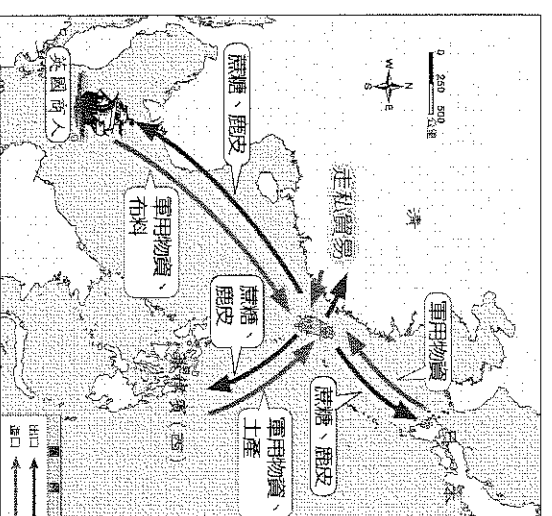
(A)甲 (B)乙 (C)丙 (D)丁。



22. ()明代的陳第曾至臺灣西南部安平外海，在停留約20日之間，他寫下第一篇記錄臺灣原住民的漢文文章《東番記》，裡面提到：「『大員』一地，乃赤崁外一小島，為入番社的門戶，島上多漢人，乃販海商賈。」陳第當時最有可能遇到下列哪一族的原住民？
(A)西拉雅族 (B)凱達格蘭族 (C)噶瑪蘭族 (D)排灣族。



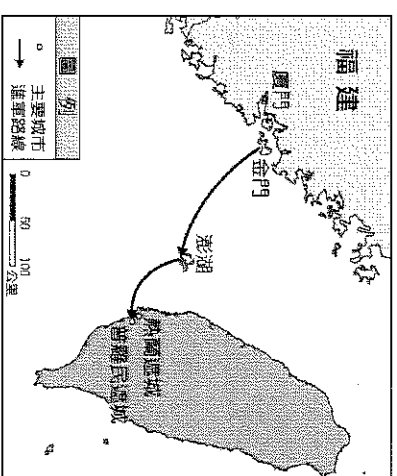
23. ()阿美族是臺灣原住民族群中人數最多的一族。請問：阿美族大多分布於右圖中的哪一區域？ (A)甲 (B)乙 (C)丙 (D)丁。
24. ()15世紀末，臺灣是漢人、歐洲人在東亞地區進行貿易的重要據點，這是因為當時臺灣具備下列哪一項優越的地理條件？
(A)氣候 (B)人口 (C)地形 (D)位置。
25. ()16世紀末，明朝為了防止日本人騷擾東南沿海，派兵進駐澎湖，此項政策所造成的影響為何？ (A)導致澎湖的貿易絡繹不絕 (B)日本趁機占領臺灣本島 (C)臺灣本島取代澎湖成為海商的活動場所 (D)臺灣因此變成倭寇的大本營。
26. ()中、日兩地的商人及海盜原先大多聚集在澎湖，為何至 15、16 世紀時會轉往臺灣發展？ (A)欲在臺灣反清復明 (B)明朝政府派兵進駐澎湖 (C)澎湖被荷蘭人所占領 (D)被西班牙人所驅離
27. ()1620 年代，臺灣今日雲林至嘉義一帶，為哪些海商的根據地？ (A)顏思齊、鄭芝龍 (B)顏思齊、鄭成功 (C)鄭芝龍、鄭成功 (D)鄭成功、沈有容。
28. ()1608 年荷蘭東印度公司董事會發出指示說：「……我們必須用一切可能來增進對華（中國）貿易，首要目的是取得生絲，因為生絲利潤優厚，大宗販運能夠為我們帶來更多的收入和繁榮。」由此可知荷蘭人占據澎湖、臺灣最主要的目標為何？
(A)防備西班牙人侵臺灣 (B)宣揚基督教 (C)與中國貿易、通商 (D)防止日本人侵佔臺灣。
29. ()荷蘭人占領臺灣後曾在台灣南部興建哪一個城，當作統治的行政中心？
(A)熱蘭遮城 (B)普羅民遮城 (C)聖薩爾瓦多城 (D)紅毛城。
30. ()荷蘭東印度公司總督曾說：「臺灣真是一頭好乳牛。」這句話表示臺灣為他們公司帶來相當大的利益。這是因為荷蘭人積極經營下列哪些臺灣的特產？甲、蔗糖；乙、稻米；丙、鹿皮；丁、絲綢。
(A)甲乙丙 (B)乙丙丁 (C)甲丙丁 (D)甲乙丁。
31. ()下列哪一個地名，古今的名稱搭配是錯誤的？
(A)熱蘭遮城—安平古堡 (B)普羅民遮城—赤崁 (C)蛤仔難—宜蘭 (D)大員—淡水
32. ()西元 1597 年，有一封呈報給國王的信中寫到：「我們希望占領福爾摩沙的這個港口，最迫切的理由是為了確保菲律賓的安全。因為……日本企圖奪取這個港口以進占馬尼拉，我們要確保菲律賓的安全就必須擁有這個港口。」由上述背景判斷，這封書信最可能是呈報給哪一國國王？ (A)荷蘭 (B)英國 (C)菲律賓 (D)西班牙。
33. ()西班牙人計畫以臺灣為跳板到日本貿易，但是並不順利，是因為日本當時進行何種措施所致？ (A)開港通商 (B)明治維新 (C)鎖國政策 (D)同化政策
34. ()土地拓墾與土地改革建設是各政權財經建設的重點。請問：鄭氏政權時期，土地拓墾的最主要目的為何？
(A)準備大量移民 (B)解決糧食匱乏問題 (C)以稻米做為輸出商品 (D)用香料交換軍火。
35. ()臺灣位於西太平洋南來北往的重要交通樞紐，自古以來國際貿易發達，由附圖中的路線與商品，可推測這應為臺灣在哪一個時期的對外貿易網絡？
(A)荷治時期(B)史前時代 (C)清帝國時期 (D)鄭氏時期。
36. ()鄭氏政權時期，日本是臺灣對外貿易的主要國家，當時由日本輸入臺灣的主要貨物為何？ (A)軍用物資 (B)鴉片 (C)蔗糖 (D)絲織品。
37. ()鄭氏政權之所以能在臺灣獨自抗清長達 21 年之久，主要是依靠下列哪一項資源？ (A)漢人政治制度的移入 (B)海上貿易的興盛 (C)豐富的礦產資源 (D)文化教育的發達
38. ()鄭成功領有臺灣之後，設立承天府。建民欲尋訪 鄭氏時期的承天府，應到現在的哪一縣市？ (A)臺北市 (B)臺南市 (C)高雄市 (D)臺中市
39. ()明清兩個時期，都曾實行海禁政策，其主要目的為何？ (A)都是為禁止西方人與中國的貿易往來 (B)明代為防止荷蘭人再度進攻臺灣 (C)清代為制止日本勢力侵犯東南沿海 (D)明代為防倭寇，清代防範中國沿海人民跟 鄭氏政權往來。
40. ()右圖是台灣對外貿易的整理，請問：鄭氏時期雖積極推動貿易，但極少出口稻米，主要原因為何？
(A)為生產高價值的經濟作物甘蔗，因而減少水稻的種植
(B)漢人忙著反清復明，影響水稻耕種
(C)臺灣氣候多變，不適合水稻生長
(D)稻米須先供應軍民的糧食所需。



	出口	轉運
荷蘭時期	稻米、蔗糖、鹿皮	絲綢、瓷器、香料
鄭氏時期	蔗糖、鹿皮	絲綢、瓷器、香料

二、題組，每題 2 分(共 20 分)

附圖為臺灣史上某一場戰役的路線圖，將領搭船從金門出兵，算準季風風向讓臺灣本島上的殖民政權無法向其他地方傳達訊息。大軍上岸後立即包圍殖民政權的統治中心，使其因孤軍無援，城內糧食飲水用盡而投降。這場戰役的勝利也開啟臺灣史上第一個漢人政權治臺的局面。請問：



41. () 上文中的「殖民政權」是指由下列何者所建立的政權？
 (A) 日本人 (B) 荷蘭人 (C) 西班牙人 (D) 葡萄牙人。
42. () 上文中帶領軍隊打贏這場勝利的將領為何人？
 (A) 施琅 (B) 沈有容 (C) 鄭經 (D) 鄭成功。

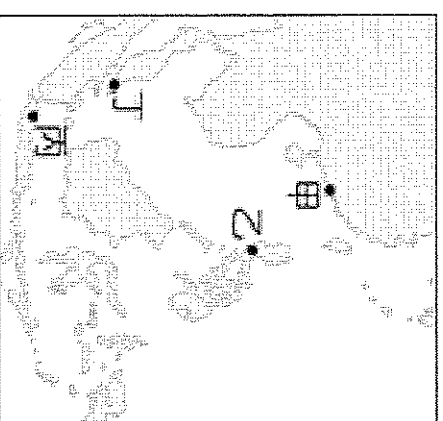
◎閱讀下列文章，並回答問題：

一六六二年（聖祖康熙元年，壬寅年）1月2日，星期一。
 熱蘭遮城裡有人來報告：

1. 國姓爺的軍隊目前停留在赤崁。
2. 國姓爺的船隻有一艘投靠到中國目前的政權去了。
3. 據說國姓爺無意攻打我們，只想用圍城的方式逼我們投降。
4. 中國目前的政權也無意攻打我們，但有可能拿下金門。

43. () 文中國姓爺應該是指何人？ (A) 顏思齊 (B) 施琅 (C) 鄭芝龍 (D) 鄭成功。
44. () 文中提到的中國政權應該是指下列何者？ (A) 明朝 (B) 清帝國 (C) 宋朝 (D) 元朝

◎歐洲人因為商業動機和傳教需求，陸續發現前往東方的新航路之後，紛紛在亞洲建立商業據點。關於歐洲各國與其建立的貿易據點，請依照下圖回答問題：



45. () 圖中甲地，是哪一個國家的貿易據點？
 (A) 葡萄牙 (B) 英國 (C) 西班牙 (D) 荷蘭。
46. () 圖中乙地，是哪一個國家的貿易據點？
 (A) 葡萄牙 (B) 英國 (C) 西班牙 (D) 荷蘭。
47. () 某一國家，建立聯合東印度公司作為亞洲的商業總部，請問：這據點在何處？
 (A) 甲 (B) 乙 (C) 丙 (D) 丁。

■ 為了掌握事情的變遷，歷史紀錄必須標註時間，以便明白事情發生的先後與因果關係
 ■ 世界各地的人們很早就以「日」、「月」、「季」、「年」作為計算時間的單位，通常以「年」來標記歷史時間，稱為「紀年」或「紀元」。

常見的方式有：(甲)西元紀年 (乙)帝王紀年 (丙)民國紀年 (丁)千支紀年

天干	甲	乙	丙	丁	戊	己	庚	辛	壬	癸		
地支	子	丑	寅	卯	辰	巳	午	未	申	酉	戌	亥

48. () 民國元年是西元哪一年？ (A) 1910 (B) 1911 (C) 1912 (D) 1913。
49. () 一甲子代表多少年？ (A) 50 年 (B) 60 年 (C) 100 年 (D) 1000 年。
50. () 今年是千支紀年的壬寅年，哪明年應該是什麼年？ (A) 癸寅年 (B) 癸卯年 (C) 辛丑 (D) 壬卯年。

試題結束，請再詳細檢查，畫卡是否正確。