

基隆市立武崙國中 110 學年度第二學期 第一次段考 八年級社會試卷—地理科

電腦讀卡，請使用 2B 鉛筆，並依據題號在答案卡上作答，答案卡無法判斷身分者，扣總分 10 分

範圍：第一、二章

配分：每題 2 分，總分 100 分。

班級：_____ 座號：_____ 姓名：_____

一、單選題

- () 1. 季風亞洲是指季風氣候所影響的亞洲地區，有關此地區的敘述何者正確？
 (A)季風亞洲泛指整個亞洲地區
 (B)季風亞洲各地的冬夏風向一致
 (C)季風亞洲位於太平洋和印度洋沿岸
 (D)季風亞洲全區與歐亞大陸相連。

- () 2. 附圖是日本經濟骨幹的產業中，部分廠家的標誌。依據圖中資訊判斷，此一骨幹產業所指的應為下列何種產業？(A)家電工業 (B)汽車工業 (C)紡織工業 (D)高科技工業。



- () 3. 柯南若想要規畫一趟「季風亞洲」旅遊，下列哪些國家或地區可以列入他的行程之中？
 (A)甲乙丙 (B)甲乙丁 (C)甲丙丁 (D)丙丁戊。

毛利旅行社旅遊資訊 (5月)
(甲)東北亞—日本北海道賞櫻花
(乙)東亞—大漠絲路穿梭古今
(丙)東南亞—菲律賓長灘島逍遙度假
(丁)南亞—恆河與印度文明探查
(戊)西亞—杜拜帆船飯店奢華之旅

- () 4. 廣志預計今年12月時到日本的四個都市出差，其出差地點如附圖所示。在他出差的過程中，在哪一個地點最可能遇到大雪的天氣型態？
 (A)仙台 (B)新潟 (C)東京 (D)名古屋。



- () 5. 下列日本重要都市與所在平原的配對，何者正確？(A)東京：近畿平原 (B)大阪：關東平原 (C)神戶：濃尾平原 (D)名古屋：濃尾平原。
 () 6. 西元2010年東南亞國家與鄰國簽署合作協議「東協10+3」，其中除了日、韓外，還包括下列哪一個國家？(A)中國 (B)北韓 (C)蒙古 (D)俄羅斯。
 () 7. 東北亞因夏季高溫多雨，傳統農業以種植下列哪一種作物為糧食作物？(A)水稻 (B)茶葉 (C)小麥(D)甘蔗。

- () 8. 南韓綜藝節目「一日三餐」中，可以看到藝人在鄉間以自己的力量種植作物、準備三餐。在他們烹調的過程中，可以發現每餐必備各種醃漬的食物，如泡菜就是餐桌上不可或缺的配菜，由此可見南韓飲食文化中，醃漬蔬果是十分常見的。請問：此種飲食型態與下列何者關係最大？(A)緯度高生長季短 (B)居內陸降水較少 (C)出海不易食物少 (D)日照強蒸發旺盛。

- () 9. 人參為南韓重要的經濟作物，若想到南韓的人參休閒農場觀光，應該前往下列哪一個地方？(A)蓋馬高原 (B)長白山地一帶 (C)太白山脈一帶 (D)西南部平原地區。

- () 10. 日本為世界工業大國。下列工業發展的條件中：(甲)便利的海運 (乙)充沛的水電 (丙)廉價的勞工 (丁)豐富的原料，日本具備了其中哪兩項條件？(A)甲乙 (B)乙丁 (C)乙丙 (D)甲丁。

- () 11. 日本大多數農產品都擁有高身價，如青森蘋果、山形櫻桃、北海道夕張哈密瓜等。請問：若不考量其他因素，以農業耕作來看，日本農產品價格較貴的主要原因為何？(A)氣候炎熱，運用溫室栽培 (B)可耕地少，勞動力成本高 (C)水源缺乏，抽取灌溉用水 (D)政策限制，總生產量較低。

- () 12. 日本房屋建築中普遍使用新型材料，如樹脂、加氣混凝土、碳纖維等，由於質量輕、强度高，即便倒塌墜落，也不會對人體造成嚴重傷害。請問：日本採取此一方式搭建屋舍，最主要是受到下列哪一個現象的影響？(A)冬季大雪 (B)鋒面滯留 (C)地震頻繁 (D)海嘯侵襲。

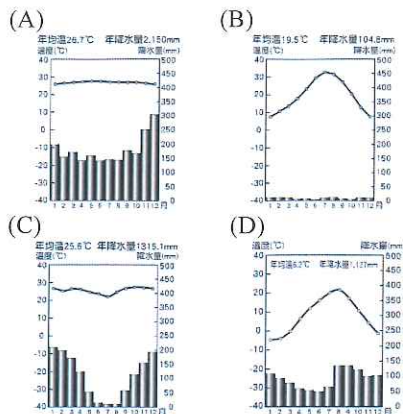
- () 13. 附圖為朝鮮半島主要地形、河川分布示意圖，下列敘述何者正確？(A)甲是鴨綠江 (B)乙是長白山脈 (C)丙是漢江 (D)丁是東海。



- () 14. 企業為降低成本，將生產單位轉移至生產成本相對較低的國家，導致許多人到日本購買電器設備時，明明是日本的牌子，卻可能是由哪些國家製造？(A)英國、法國 (B)中國、泰國 (C)新加坡、南韓 (D)美國、加拿大。

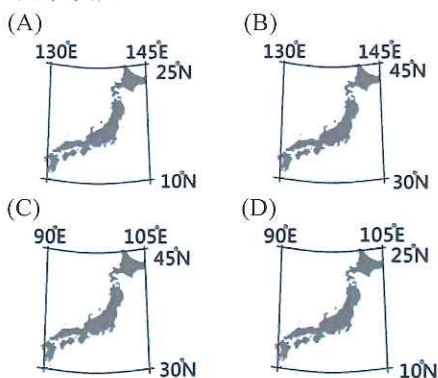
- () 15. 發源自亞洲的河流，最『不可能』注入哪一個海洋？(A)太平洋 (B)大西洋 (C)印度洋 (D)北極海。

() 16. 下列四張氣候圖中，哪一張與東北亞地區的氣候特徵最為類似？



() 17. 傳統的韓屋在地板下多設有取暖設施「溫突」，在中國北方也有類似的取暖設施「炕」。請問：同一緯度的南韓與中國北方，為何會有這些取暖設施？(A)位居高緯，冬季寒冷且長 (B)低壓籠罩，降水豐沛溼冷 (C)位居背風坡面，空氣乾燥 (D)寒流經過，沿岸氣溫低寒。

() 18. 飄飄在準備日本旅遊資訊時，發現日本整體的冬季平均溫度約在0度上下，時差部分則是比臺灣快了1小時。由此可知日本的正確經緯度應為下列何者？



() 19. 一九八〇年代中期開始，日本的製造業部門大量遷移海外，以節省生產成本；南韓因距離優勢成為接收日本海外設廠的首選，科技產業也因此蓬勃發展起來。然而在上述的情況下，可能會引發日本國內什麼樣的經濟危機？

(A)產業標準化 (B)產業機械化 (C)產業多角化 (D)產業空洞化。

() 20. 每年9月下旬至12月上旬是日本楓紅的時節，且愈冷的地區，愈早見到楓紅。若五條從10月份開始請了長假要安排賞楓之旅，則依日本四大島嶼的位置分布，他應該如何規劃這趟旅程？

(A)北海道—本州—四國—九州
(B)北海道—四國—本州—九州
(C)九州—四國—本州—北海道
(D)九州—本州—四國—北海道。

() 21. 亞洲面積廣大，四周主要的地形區中，下列哪些地區位於東北亞？(甲)印度半島 (乙)南洋群島 (丙)阿拉伯半島 (丁)日本群島 (戊)朝鮮半島 (A)甲乙 (B)乙丙 (C)丙丁 (D)丁戊。

() 22. (甲)中國北部區域 (乙)朝鮮半島 (丙)日本列島。上列三地，其緯度相近，年溫差卻有所差異。其年溫差『由大至小』依序排列為何？(A)甲乙丙 (B)乙甲丙 (C)乙丙甲 (D)丙乙甲。

() 23. 近年來，日本、南韓推動智慧型農業政策，如農業產銷輔助人工智慧、無人駕駛耕耘機等，這項政策的推動除了因應未來市場需求以外，還受到什麼因素的驅使？

(A)全球暖化耕地淹沒 (B)加入世界貿易組織 (C)農業資金取得困難 (D)農業人口老化短缺。

() 24. 日本與南韓不約而同提出「文化立國」的發展策略，有關兩國的文化產業發展的內容，何者正確？(A)南韓的京都祇園祭、高山高山祭等吸引國際觀光 (B)南韓遊戲產業發達，如任天堂、PS等 (C)日本動漫引領全球，如寶可夢、鋼彈等 (D)日本KPOP偶像團體與流行音樂打入歐、美等市場。

() 25. 流行於日本的現代圍棋，其實最早起源自鄰近國家，日本的文字、茶道也是融合此一國家的文化發展出來的。請問：影響日本文化的主要國家是下列何者？(A)南韓 (B)中國 (C)印度 (D)越南。

() 26. BTS的新歌要在南韓時間19：00上網公開全球首播，住在臺灣的小沛卻在17：55就在電腦前面連線等待，他說18：00一到，我們就可以聽到BTS的新歌了！請問：從上述現象推論，南韓的時區為下列何者？(A)GMT+7 (B)GMT+8 (C)GMT+9 (D)GMT+10

() 27. 日本時間西元2022年3月16日晚上11時36分日本東北地區外海發生規模7.4強震，震央在福島縣外海，地震深度60公里，觀測到最大震度6強。日本氣象廳對宮城縣、福島縣沿岸發布海嘯注意報（海嘯高度1公尺以下），氣象廳研判可能是11年前311大地震的餘震。請問日本多次發生地震的原因為何？(A)海陸交界位置 (B)寒暖流交會帶 (C)冷暖氣團交界 (D)板塊接觸地帶。

() 28. 日本、南韓的工業，皆發展出明顯的產業地帶，如日本東京灣一帶的京濱工業區，與南韓首爾一帶的大都會工業區。下列有關此兩工業區之敘述，何者正確？(A)皆位於日本海(東海)沿岸 (B)皆位於該國首都圈 (C)交通優勢皆為該地發展的主因 (D)皆以發展重化工業為主。

() 29. 南韓政府近年積極在首爾西南方40公里處，填海造陸擴建仁川港，希望藉由和中國及其他國家的經貿往來，增加港口的吞吐量。若由地緣關係判斷，南韓政府宜優先考量就近與中國哪一地區合作？(A)環渤海地區 (B)廈門經濟特區 (C)珠江三角洲地區 (D)長江三角洲地區。

() 30. 二次大戰後，朝鮮半島分裂成北韓與南韓兩個國家，其中有許多異同點，下列何者正確？(A)氣候類型 (B)政治體制 (C)天然資源 (D)產業發展。

項目	氣候類型	政治體制	天然資源	產業發展
北韓	溫帶沙漠	民主體制	礦產豐富	輕工業
南韓	溫帶季風	獨裁統治	礦產不豐	高科技產業

- () 31. 下列哪個群島『不包括』在東亞島弧之內？
 (A)阿留申群島 (B)千島群島 (C)西印度群島
 (D)菲律賓群島


- () 32. 日本政府指定每年的5月5日為該國兒童的國定節日：男孩節(又稱鯉魚節)，既祝賀子女，也祝福著父母和家庭。此時許多人會在家門前掛起鯉魚旗，如附圖所示，期望自己家的男孩可以鯉躍龍門，一躍成龍。依據日本夏季的盛行風向判斷，此時旗幟多朝哪一個方向飄去？
 (A)東北 (B)東南 (C)西南 (D)西北。



- () 33. 下列是大雄理解完南韓的工業發展歷程後，所整理出的重點摘錄，但時間順序亂掉了。如果要幫他整理時間由先而後排列，何者最為正確？(甲)發展汽車、造船等重工業 (乙)扶植大型財團 (丙)以加工出口業為主 (丁)發展高科技產業 (A)甲乙丙丁 (B)甲乙丁丙 (C)丙乙丁甲 (D)丙乙甲丁。

- () 34. 韓聯社報導：「南韓總統文在寅和北韓領導人金正恩於西元2018年4月在南北韓邊境○○會面，正式開啟南北韓領導人會談日程。雙方領導人在軍事分界線會面尚屬首次，兩人在越過軍事分界線後並合影留念。金正恩在會談開始前，於○○的和平之家留言簿中題詞，表示『新的歷史從現在開始，和平時代站在新的起點』。」上文中的○○，最可能指的是下列哪一個地點？(A)平壤 (B)板門店 (C)濟州島 (D)首爾。

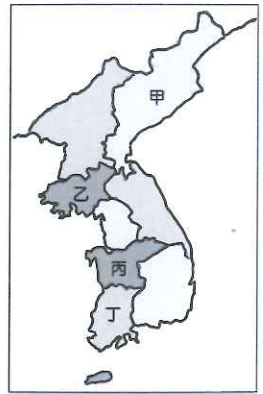
- () 35. 武崙國中八年級視覺藝術課結合綜合領域的家政課，要同學畫出最喜愛的食物，附圖是亮亮所畫的作品。亮亮最愛的料理「壽司」是一種日本料理，主要材料是用醋飯降溫後加上魚肉、海鮮。請問：日本民眾將魚、貝類作為重要蛋白質來源之一的原因，下列何者錯誤？
 (A)生長季較短 (B)山多平原少 (C)寒暖流交會
 (D)海岸線平坦。



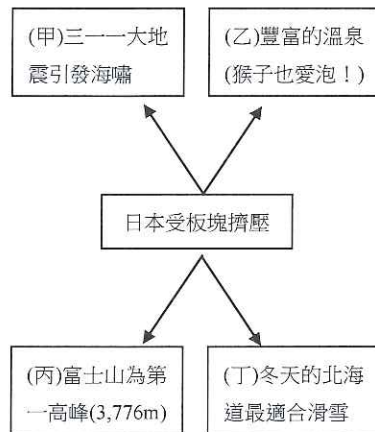
- () 36. 高木同學為準備國中教育會考，整理了一張日本列島與臺灣島的比較表，如附表所示。請問：表中資料哪一項正確？
 (A)地形 (B)河流 (C)季風 (D)氣溫。

異同	項目	日本列島	臺灣島
相同	地形	多火山、地震，島窄多山，平原狹小。	
	河流	河流短小，富航運之利，水力資源缺乏。	
相異	季風	冬季盛行東北風，夏季盛行西南風。	冬季盛行西北風，夏季盛行東南風。
	氣溫	屬副熱帶季風氣候，南、北變化較大。	屬熱帶季風氣候，南、北變化較小。

- () 37. 朝鮮半島自一九五〇年代韓戰後分裂為南韓和北韓兩個國家，但兩國的行政區劃仍以朝鮮王朝時期的「朝鮮八道」作為基礎。而朝鮮半島的人口分布受地形的影響甚大，地勢低平的地方人口較為稠密。附圖是朝鮮王朝時期的行政區圖，請問哪一個行政區的人口密度可能『最低』？
 (A)甲 (B)乙 (C)丙 (D)丁。



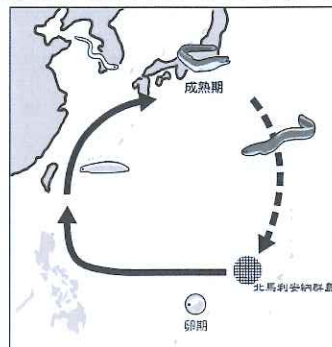
- () 38. 四宮輝夜學習東北亞地理時，自製了一張心智圖來解釋地理現象的因果關係，但下列何者與心智圖中間的概念明顯『不符』？
 (A)甲 (B)乙 (C)丙 (D)丁。



- () 39. 韓劇《愛的迫降》裡，講述了身為南韓大企業家的女主角與身為北韓軍官的男主角相戀，而後因各自國家的國情不同導致兩人經歷種種磨難。關於女主角背後南韓大企業的敘述，下列何者正確？

- (A)南韓大企業是因外資的投入而設立
 (B)南韓大企業以進口高科技產品為主
 (C)南韓大企業的興衰會影響國家經濟
 (D)南韓大企業較著重於發展軍事工業

- () 40. 西元2022年7月23日是日本的「土用丑日」，日本人在這一天通常會吃鰻魚補充體力。附圖是鰻魚的洄游路徑，當鰻魚卵孵化後是順著哪一股洋流到日本附近海域再進入河口？(A)黑潮 (B)親潮 (C)中國沿岸流 (D)東澳暖流。



- () 41. 日本與「某國」在產業發展上長期處於既競爭又合作的關係，其中資訊電子、半導體、液晶面板等產業更是激烈；近年來又因歷史上的舊恨，引發新一波的貿易戰爭。請問：下列何者是上述「某國」的跨國企業？

(A) (B)



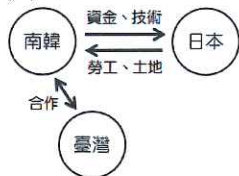
SAMSUNG



(C) (D)

- () 42. 「日本的工業實力為亞洲之首。而南韓與臺灣在工業發展上，起步較日本晚；兩國起步的時間不但相差無幾，且都有發展加工出口區，帶動經濟成長。」請問：下列哪一個示意圖最能代表上述中三國的關係？

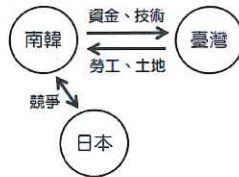
(A)



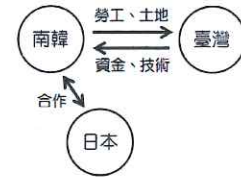
(B)



(C)



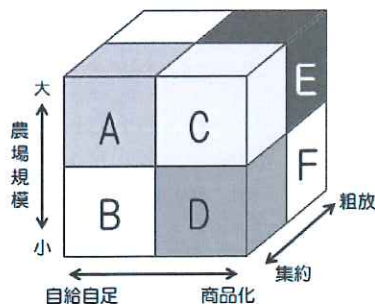
(D)



- () 43. 有關「國際貿易是日本的經濟命脈」這句話的含義，下列敘述何者正確？ (A)日本海岸線曲折多良港，世界各大海港均有日本輪船進出 (B)日本的陸運以鐵路為主，客貨運輸極為繁忙 (C)日本產品價格低廉且品質不差，在國際市場上極具競爭能力 (D)日本主要工、礦原料均依賴進口，工業產品運銷全球。

- () 44. 魯夫在閱讀東北亞農業發展時，發現「日本會在都市近郊發展園藝農業，種植蔬果、花卉，並且將農產品行銷至大都會區」。附圖是從農場規模、作物流向、耕種方式三種面向探討農業的型態，若依上文敘述判斷，日本發展的園藝農業屬於附圖中的哪一類？

(A)B (B)C (C)D (D)F。



- () 45. 媒體發達的時代，人們對於資訊的判讀必須更加謹慎！千尋今年收到四則長輩傳來的日本基金投資資訊，下列哪一則報導較符合實際情形？

(A)《產經新聞》：日本富士山爆發，大量石油及天然氣湧出，估計可使用20年！

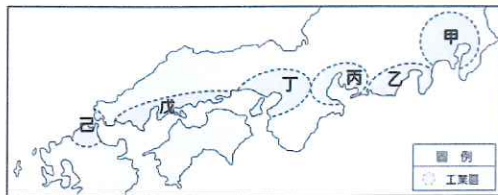
(B)《經濟日報》：擁有優質人力！日本成為美國蘋果公司海外最大零件代工廠！

(C)《天下雜誌》：霸氣扶植大型財團！日本前十大企業銷售額占全國45%！

(D)《時報周刊》：智慧立國！日本工業產品國際專利申請數量高居世界第三。

二、題組：

(一)附圖為日本主要工業區分布圖。請問：



- () 46. 工業產值長年居日本第一的京濱工業區位於圖中哪一個工業區內？

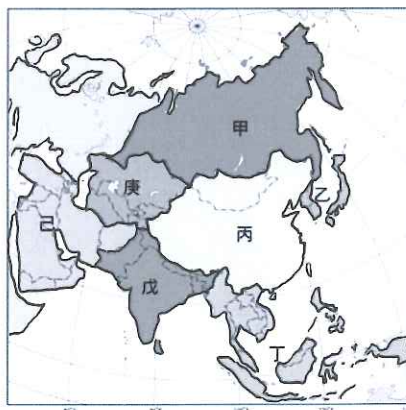
(A)甲 (B)乙 (C)丙 (D)丁。

- () 47. 圖中甲~己工業區具有下列哪一項共同特色？

(A)皆位於本州島上 (B)多位於日本海的沿岸地區 (C)多形成人口密集的都市 (D)都位於大河沖積成的三角洲上。

- () 48. 日本的沿海平原成為主要工業帶的分布區，主要原因為何？ (A)水力較充足 (B)氣候較優良 (C)技術較進步 (D)交通較便利。

(二)附圖為亞洲各地區與所在分區圖。



- () 49. 請問上圖中哪些地區『並未』出現季風氣候？ (A)甲、乙 (B)丙、丁 (C)丁、戊 (D)庚、己。

- () 50. 有關於亞洲國家及其分區的配對，下列哪個選項『錯誤』？

(A)南韓——東北亞 (B)尼泊爾——西亞

(C)印尼——東南亞 (D)哈薩克——中亞。

試題結束，請再次檢查！