

請用 2B 鉛筆依題號在電腦卡上作答，電腦讀卡時無法判斷身分者，扣總分 10 分。

範圍：L1+L2

班級：\_\_\_\_\_ 座號：\_\_\_\_\_ 姓名：\_\_\_\_\_


### 基隆市立武崙國中 110 學年度第二學期第一次段考七年級社會試卷歷史科

#### 一、單選題：(每題 2.5 分，共 100 分)

- ( )《馬關條約》簽訂後，許多臺灣官民不能接受清廷將臺灣、澎湖割讓給日本的決議，因此選擇如何抗拒日本的接收？ (A)向日本要求修改條約內容 (B)與清廷合作，發動抗日戰爭 (C)成立臺灣民主國 (D)發動政治社會運動。
- ( )1895 年臺灣進入日本殖民統治時期。請問：臺灣是在下列哪一事件後割讓給日本？ (A)施琅攻臺 (B)牡丹社事件 (C)甲午戰爭 (D)清法戰爭。
- ( )日本在 1896 年由日本國會通過「六三法」當作治臺的依據，促使何人可以專制集權的方式治理臺灣？ (A)日本天皇 (B)日本首相 (C)臺灣總督 (D)日本警察。
- ( )日本殖民統治時期，孩童若哭鬧時，長輩們只需恫嚇：「大人來了，再哭就會被抓去。」孩童立即安靜。請問：長輩們口中所稱的「大人」是指當時的何者？ (A)總督 (B)警察 (C)保正 (D)甲長。
- ( )外祖母曾說，在日治時期每隔一段時間就會看到鄰居陳先生來提醒家家戶戶大掃除，以維護環境清潔。請問：當時的陳先生應該具有什麼身分？ (A)警察 (B)老師 (C)醫生 (D)保正。
- ( )日治時期有一個盜賊，某日逃到彰化的鄉下地區。當地的警察會指揮何種組織來圍捕他？ (A)自衛隊 (B)勇士團 (C)壯丁團 (D)義勇軍。
- ( )以下是一位外國記者對臺灣的記錄：「在插滿了新國旗的建築物內，擠入了許多情緒高昂的人們。新國旗以藍色為背景，中間有隻黃色老虎，尾巴翹得半天高；官員與群眾燃放鞭炮互相打氣。……直到日本軍艦在沿岸偵察的消息傳來，群眾像被潑了盆冷水盤紛紛走避，官員則退入房內商量對策。這時大家才發現，想要爭取建立新的政權，除了升旗、放鞭炮以外，還有其他更重要的事情要做。」上述內容與下列何者最為相關？ (A)中華民國退出聯合國 (B)《馬關條約》的簽署 (C)臺灣地方自治聯盟的成立 (D)臺灣省政府發布「戒嚴令」。
- ( )吳濁流於 1936 年發表的《水月》是一篇短篇小說。主人翁仁吉在製糖會社工作，妻子蘭英則在農地打工，兩人育有五個小孩，縱使仁吉與妻子每天都努力工作，卻仍然感到入不敷出。仁吉在製糖會社中，學歷不算太差，對會社也有不少的貢獻，卻因為先天身分的關係而一直都是雇員，無法升等為主任或課長，也無法分配有眷宿舍，薪水沒有六成加俸特權。文章最後仁吉雄心壯志的想要去東京留學，但太太以沒錢為由阻攔，只得打消念頭。請問：吳濁流的《水月》是在探討何種問題？ (A)日治時期升學管道的不易 (B)日臺合一政策的成功 (C)臺日間的同工不同酬 (D)製糖公司升遷容易。
- ( )「廢除報紙漢文欄、推行日語普及運動、改用日本姓名、要求學生參拜神社、參加特別志願軍……等。」上文這些措施都發生在日治時期的哪一階段？ (A)臺灣民主國時期 (B)內地延長主義時期 (C)殖民地特殊統治時期 (D)皇民化運動時期。
- ( )日治時期第八任總督『田健治郎』來臺灣上任臺灣總督時，曾說：「我姓田，百家姓裡面也有，所以我和臺灣人都是一家人，對於臺灣人的處境我非常了解、非常同情。」這位首任文官總督的說法，是由於當時日本在臺灣推動哪一項政策？ (A)內地延長主義 (B)武裝殖民 (C)皇民化運動 (D)懷柔招降。
- ( )有一段文字提到：「日本在各地戰事告急之下，除了原本的軍伕、高砂義勇隊之外，也開始募集陸軍及海軍的特別自願兵制，前後共計 207,183 人。」文中提及日本政府大量募集臺人從軍的

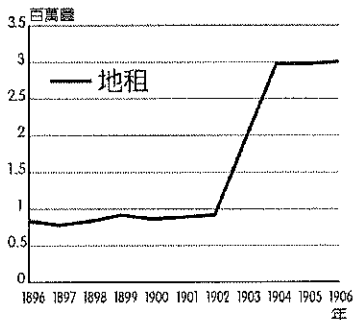
- 原因為何？ (A)臺灣民主國抗日 (B)1894年甲午戰爭 (C)第一次世界大戰爆發 (D)1937年中日戰爭。
- 12.( )「臺灣總督一方面以武力鎮壓各地的武裝抗日行動，一方面尊重臺灣人民的風俗習慣與社會組織，以拉攏臺灣人民，消除反抗。」以上敘述屬於哪一階段的日本治臺政策？ (A)明治維新時期 (B)殖民地特殊統治時期 (C)皇民化運動時期 (D)內地延長主義時期。
- 13.( )日本接收臺灣展開殖民統治初期，臺灣人民的抗日行動始終沒有間斷，其抗日型態的演變為何？ (A)始終以武裝抗爭方式進行 (B)從武裝抗日轉為政治、社會抗爭 (C)從政治、社會運動抗爭，轉為假借宗教信仰進行抗爭 (D)從政治、文化的抗爭轉為武裝抗日。
- 14.( )日本對臺灣的殖民統治達 50 年之久，其統治政策依序有三個階段的演變。由第一階段改變為第二階段的原因為何？ (A)臺人武裝抗日不斷 (B)臺灣總督頒布「六三法」 (C)民族自決思潮興起 (D)臺灣總督推行皇民化運動。
- 15.( )霧社事件是臺灣武裝抗日史上非常著名的事件，其影響深遠。有關霧社事件的敘述，下列何者正確？ (A)發起者為西拉雅族 (B)因日本掠奪森林、樟腦資源而引發 (C)在國際組織的介入下和平解決 (D)事件後引發更大規模的武裝抗日行動。
- 16.( )『魏德聖』導演所執導的電影《賽德克·巴萊》票房創紀錄，片中敘述霧社事件的始末。請問：若要忠於史實，這部電影應該到下列何處拍攝？ (A)臺北 (B)臺南 (C)屏東 (D)南投。
- 17.( )玉崙老師要同學們以余清芳、莫那魯道等人為對象寫一份報告。請問：老師要同學探討的是下列哪一個主題？ (A)非武裝抗日的英雄 (B)殖民統治下的悲歌 (C)臺灣民主國的抗日 (D)地方官紳的改革運動。
- 18.( )臺灣總督府在統治初期對高山原住民採防堵、安撫方針，後來政策轉趨強硬，積極推動「理蕃政策」，最主要的目的是下列何者？ (A)教化原住民 (B)獲得山林資源 (C)獲得國際認同 (D)增加皇民人數。
- 19.( )臺灣第五任總督『佐久間左馬太』認為原住民政策應該以獲取利益為最高原則，故制定為期兩次的五年理蕃政策。請問：下列何者不是理蕃計畫推行的手段？ (A)沒收槍械 (B)鎮壓、驅離傳統領域 (C)利用新式教育教化原住民 (D)教導原住民種植蓬萊米。
- 20.( )霧社事件中，『花岡一郎』、『花岡二郎』是臺灣總督府利用新式教育培養的模範蕃童，他們二人在臺灣總督府主導下分別和『川野花子』、『高山初子』組成模範家庭，成為全國原住民政策下的典範，但最後四人中有三人在事件中自殺而死。請問：『花岡一郎』、『花岡二郎』的遭遇，是何種政策下的產物？ (A)殖民地特殊統治政策 (B)日臺合一 (C)劃界封山 (D)理蕃政策。
- 21.( )日治時期，臺灣的許多基礎建設與總督府的調查活動息息相關，其中為了配合林野調查與開發山林資源而興築下列何者？ (A)縱貫鐵路 (B)嘉南大圳 (C)日月潭發電所 (D)阿里山森林鐵道。
- 22.( )1898 年兒玉源太郎與後藤新平分別就任臺灣總督與民政長官後，開始進行日本殖民統治的基礎工程，其主要的目的為何？ (A)推動臺灣的工業發展，以作為南進的基地 (B)建設日月潭發電所，作為工業發展的動力 (C)有利於日本帝國主義對臺灣資源的剝削 (D)欲透過基礎工程建設，以減緩失業人口。
- 23.( )瑪莉在《臺灣建築史》中看到某張照片的介紹：「日治初期，為了整頓金融、統一發行貨幣所成立的機構。」請問：此機構的名稱為何？ (A)總督府 (B)臺灣銀行 (C)臺灣博物館 (D)臺灣大學。
- 24.( )日治時期，總督府為了配合日本的經濟發展，完成眾多交通建設。下列何者是日本殖民統治時期總督府的交通建設？ (A)購買輪船往來於臺灣、東南亞、中國之間 (B)開鑿三條聯絡東部的道路 (C)基隆、高雄兩港的整建 (D)架設淡水到福州的電報線。

25.( )保羅找到一幅日治時期的諷刺漫畫(如附圖),圖中描述著為了改善日治初期臺灣財政不良,總督府藉由實施哪一商品的專賣,來獲取龐大的利潤?



(A)茶葉 (B)蔗糖 (C)酒品 (D)鴉片。

26.( )附圖為 1896~1906 年臺灣總督府田賦收入圖。請問:圖中收入突然大幅提升的原因為下列何者?



(A)實施土地調查 (B)實施理蕃政策 (C)實施林野調查 (D)實施專賣政策。

27.( )日本殖民統治時期,為了利用臺灣的資源,日人在臺的基礎建設有哪些?(甲)林野調查;(乙)整建港口;(丙)發行貨幣;(丁)完成環島鐵路;(戊)普遍設立郵政 (A)甲乙丙丁 (B)乙丙丁戊 (C)甲乙丙戊 (D)甲丙丁戊。

28.( )附表是二十世紀初臺灣稻米生產量的統計資料。下列何者是造成表中「甲」時段期間稻米產量變化的主要因素之一?

年度	稻米生產量(萬公石)
1910	755
1920	873
1930	1,329
1939	1,770

甲 {

(A)臺灣蓬萊米培植成功 (B)「皇民化運動」的影響 (C)臺灣開港,刺激稻米外銷 (D)耕者有其田政策徹底落實。

29.( )下列關於「嘉南大圳」的敘述,何者**錯誤**? (A)是日治時期為了達成「工業臺灣,農業日本」的政策而興建 (B)是八田與一所設計建造 (C)主要灌溉嘉南平原 (D)興建完成後,提高稻米、蔗糖等作物的產量。

30.( )請閱讀下方資料:

資料一:臺灣鄉間的諺語:第一憨,種甘蔗予會社磅(稱重量)。

資料二:1905年6月臺灣總督府規定:為制止各製糖工廠間的原料爭奪,避免擾亂蔗價,各蔗作區畫定一定範圍的區域。此區域內的甘蔗未經許可,不得運出區域之外,或供作砂糖以外成品的製作原料。

根據以上兩項資料資料,下列敘述何者適當? (A)保障臺灣蔗農,使蔗農有固定買主與穩定的銷路 (B)保障新式糖廠,使其降低收購甘蔗原料的價格 (C)政府照顧臺人生活,引進製糖業,糖從此成為重要輸出物資 (D)使臺灣舊糖廠在政府補助下轉型為新式糖廠,奠定工業的基礎。

- 31.( )日治時期總督府致力於蔗糖的生產，下列敘述何者**錯誤**？ (A)使臺灣成為世界的糖業王國之一 (B)臺灣蔗農遭到剝削，得不到應有的利潤 (C)由於風險大，日本資本家往往裹足不前 (D)嘉南大圳的完工，大幅提高甘蔗的產量。
- 32.( )「1912年，磯永吉博士奉命來臺，將臺灣米與日本米配種實驗，耗費多年而創造出新品種『臺灣蓬萊米』，氣味可口遠勝『在來米』，而且使臺灣稻米的輸日數量因而激增。」文中所述臺灣米的革新，應與當時政府的哪一政策有關？ (A)農業臺灣 (B)農業南洋 (C)工業臺灣 (D)南進政策。
- 33.( )日本為了供應本國的農業需求，因此在臺灣推動了多項改革，而這些改革對臺灣所造成的影響為何？ (A)因為臺灣農業的發展，而促進工業化的進展 (B)使蔗糖及稻米成為當時臺灣產業的主體 (C)甘蔗價格高漲，蔗農獲利良多 (D)使臺灣成為現代化的農業加工出產國。
- 34.( )日治時期，有哪些措施與臺灣的經濟發展有關？(甲)設立新式糖廠；(乙)完成高速公路；(丙)整建基隆港和高雄港；(丁)提倡「農業日本，工業臺灣」；(戊)興建嘉南大圳 (A)甲丙戊 (B)甲乙丁 (C)乙丙丁 (D)丙丁戊。
- 35.( )日本統治臺灣初期，採取「農業臺灣，工業日本」的政策，但是到1930年代起，轉變為「農業南洋，工業臺灣」的發展策略。造成這種轉變的主要原因是什麼？ (A)六三法的擴大實施 (B)臺灣農業升級的衝擊 (C)南洋的勞工工資低廉 (D)配合南進政策的需要。
- 36.( )臺灣在日治後期，機械、造船、石化等國防軍需工廠陸續設立，連輕工業也有顯著的成長，這是因為下列何者所促成？ (A)嘉南大圳完工，有充足的水源 (B)日月潭發電所完工，有了穩定的電力 (C)西部縱貫鐵路完成，可聯絡臺灣南北 (D)新式糖廠的建立，成就糖業王國。
- 37.( )約翰在歷史課堂上聽老師說：「這個時候的日本，以南洋為侵略目標，臺灣因而成為重要的補給基地。」下列何者可能會是約翰聽到的建設內容？ (A)實施人口普查 (B)修建縱貫鐵路 (C)完成日月潭發電所 (D)建造嘉南大圳。
- 38.( )日治後期，關於臺灣工業化的進展，下列敘述何者正確？ (A)這時期的工業動力仍依靠火力發電 (B)運用電力陸續設立國防軍需工廠 (C)臺灣徹底轉型為工業社會 (D)工業化是為了配合日本的北進政策。
- 39.( )咪咪參觀「臺灣日治時期的照片特展」。請問：下列哪一張照片**不應該**出現在這次特展中？ (A)從臺北郵便局發出的電報內容 (B)一批批的稻米和蔗糖在碼頭邊等著上船裝運 (C)日月潭發電工程完工，有助臺灣工業發展 (D)舉行基隆到臺北段的鐵路通車典禮。
- 40.( )日本以南洋為侵略目標，是因為要獲得下列哪些資源？ (A)軍火、鹿皮 (B)茶葉、樟腦 (C)石油、橡膠 (D)稻米、甘蔗。

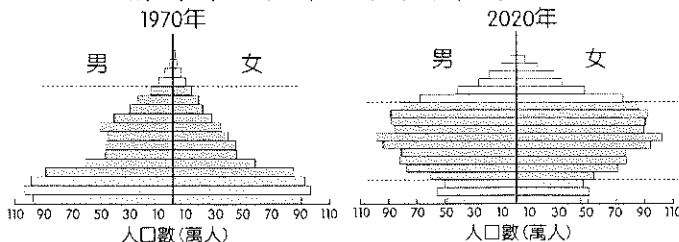
基隆市立武崙國民中學 110 學年度第二學期七年級地理科第一次定期評量試題卷

本試卷均為單一選擇題。共 50 題，每題 2 分，總計 100 分。請用 2B 鉛筆將正確答案畫在答案卡上，

考試結束後務必交回答案卡給監考老師。試題卷上也請寫上答案並妥善保管，日後上課需要檢討。

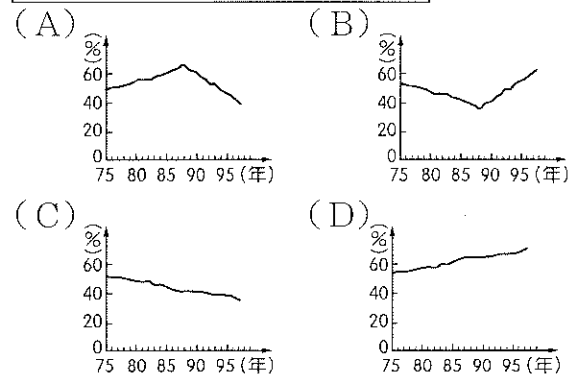
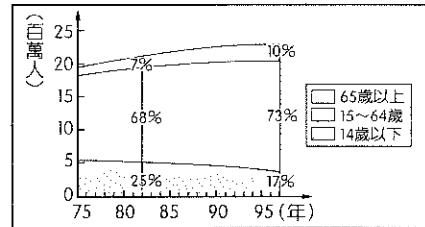
班級：\_\_\_\_\_ 姓名：\_\_\_\_\_ 座號：\_\_\_\_\_

1. ( ) 「阿米國總人口數由 50 萬增加至 100 萬，大約經過三十五年；由 100 萬增加至 200 萬，大約經過三十年。」由上述的內容可知阿米國有哪一種人口現象？  
 (A) 人口加倍時間縮短，成長增速  
 (B) 人口加倍時間縮短，成長趨緩  
 (C) 人口加倍時間增長，成長趨緩  
 (D) 人口加倍時間增長，成長增速
2. ( ) 目前臺灣所面臨的人口問題，主要為下列哪些？(甲)人口自然增加率降低 (乙)人口素質不高 (丙)人口遷移頻繁 (丁)人口分布不均 (A)甲、乙 (B)丙、丁 (C)甲、丁 (D)乙、丙
3. ( ) 某國家的出生率在近幾年大幅降低，造成幼年人口比例過少，形成人口結構的變化。請問：該國社會在 20 年後將會出現什麼問題？(A)升學就業競爭加劇 (B)就業機會逐漸不足 (C)醫療資源分布不均 (D)勞動人口負擔加重
4. ( ) 人口金字塔圖為討論人口結構時最常使用的方式，在繪製人口金字塔圖時，必須要蒐集哪些重要資料？  
 (甲)種族分布狀況 (乙)年齡分布狀況  
 (丙)最高教育程度 (丁)男女性別比例  
 (A)甲、乙 (B)甲、丙  
 (C)乙、丙 (D)乙、丁
5. ( ) 下列為我國在不同時期的人口金字塔結構，請試由附圖兩個不同時期的人口結構判斷，下列敘述何者最為正確？



- (A) 1970 年受到傳統觀念的影響，壯年人口性別比小於 100  
 (B) 1970 年因為出生率較高，因此勞工充足，扶養比較低  
 (C) 2020 年受到出生率降低的因素影響，老年人口比例攀升  
 (D) 2020 年嬰幼兒受到腸病毒等傳染性疾病影響，死亡率較高

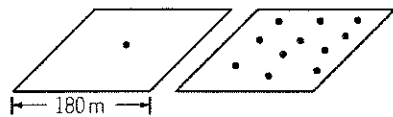
6. ( ) 附圖為民國 75 至 97 年間，臺灣各年齡層人口數和組成比例變遷圖，由圖中資訊推算，這段期間臺灣的扶養比變化情形應為下列何者？



7. ( ) 臺灣有很多新住民，目前人數已超過 54 萬人。請問：這些新住民主要來自下列哪一個國家？  
 (A)中國 (B)越南 (C)印尼 (D)泰國
8. ( ) 根據臺灣內政部的統計資料顯示，各縣市原住民族人口以○○縣 9 萬 2 千人占 16.7% 最多，因此該縣政府在原住民相關的政策執行、活動推廣及福利服務方面需要更加投入心力。請問：上文中○○縣最可能為下列何者？ (A)嘉義縣 (B)宜蘭縣 (C)花蓮縣 (D)屏東縣
9. ( ) 小陳到臺灣鄉下地理考察時，發現庄頭、庄尾都有土地公，數量龐大，是當地居民重要的信仰。請問：這是屬於何種人的宗教信仰？(A)穆斯林 (B)閩南人 (C)新住民 (D)原住民族
10. ( ) 臺灣政府與民間團體近幾年成立許多組織及協會，協助新住民能夠適應臺灣的生活，在重要政策及文宣上也設計多種語言加以宣導。請問這種現象與臺灣哪種人口結構改變有關？  
 (A)扶養比提高 (B)自然增加率下降  
 (C)性別比提高 (D)社會增加率提高

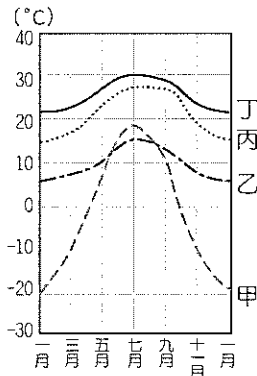
- 11.( ) 根據內政部在 2019 年 8 月公布的數據，上半年全臺有 8 萬 8,098 人死亡，而同期新生兒數卻只有 8 萬 5,961 人出生，如此「生不如死」的狀況，讓臺灣人口自然增加出現史上首次的負成長。請問此現象的發生與下列何者關係最密切？  
 (A) COVID-19 疫情嚴重，死亡率攀升  
 (B) 養兒育女負擔沉重，出生率降低  
 (C) 性別比失衡嚴重，結婚率持續下降  
 (D) 全民健保實施，人均壽命不斷提升

- 12.( ) 右圖為甲、乙兩國的人口密度示意圖。請問關於甲國的哪項訊息是右圖所能提供的？




- (A) 國土面積較大 (B) 人口密度較低  
 (C) 人口總數較少 (D) 生活較為貧困

- 13.( ) 人群多會選擇集中在自然環境相對優越的地區，請問附圖中哪種氣溫條件的人口密度最低？



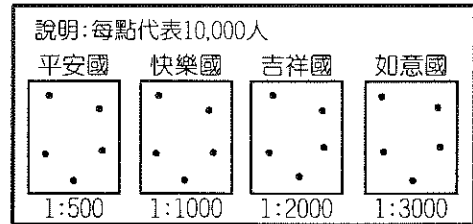
- (A) 甲 (B) 乙  
 (C) 丙 (D) 丁

- 14.( ) 下圖為臺灣人口結構未來的走勢預測，專家們無不疾呼要求政府嚴正以對，提出策略加以預防並延後如圖片中的現象在未來出現。請問下列哪一個政策與此議題關係最小？



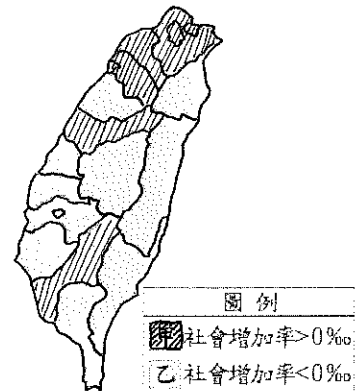
- (A) 普及公立幼兒與托嬰中心  
 (B) 提供高等教育與留學獎金  
 (C) 廣設老人安養與長照機構  
 (D) 擴大青年安心成家補助計畫
- 15.( ) 心心希望她的兒女在純淨、無毒的自然環境下安心成長，因此計劃搬遷到臺東，請問對她而言，臺東具備哪些人口移動中的『拉力』？(甲) 噪音污染 (乙) 水質潔淨 (丙) 交通不便 (丁) 空氣清新 (戊) 工作機會少 (己) 生活步調緩慢  
 (A) 甲、丙、戊 (B) 乙、丙、戊  
 (C) 乙、丁、己 (D) 丁、戊、己

- 16.( ) 下圖是四個國家的人口分布的假想圖。請問哪一個國家的人民，每個人平均擁有的土地面積最大，生活空間最寬廣？



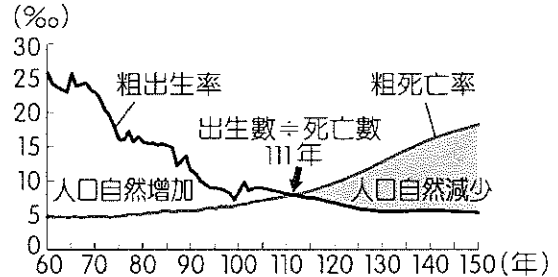
- (A) 平安國 (B) 快樂國  
 (C) 吉祥國 (D) 如意國

- 17.( ) 附圖為 2010 年臺灣本島各縣市人口社會增加率類型的分布圖，請問下列敘述何者正確？



- (A) 甲類型的推力大於拉力，因物價水準較低  
 (B) 甲類型的拉力大於推力，因就業機會較多  
 (C) 乙類型的推力大於拉力，因環境品質較佳  
 (D) 乙類型的拉力大於推力，因社會福利完善

- 附圖為行政院經濟建設委員會公布的臺灣人口自然增加率趨勢，請回答第 18~19 題：



- 18.( ) 從圖中資料判斷，有關臺灣在民國 111 年前的人口變化為何？

- (A) 人口持續減少、成長率逐漸上升  
 (B) 人口持續減少、成長率逐漸下降  
 (C) 人口持續增加、成長率逐漸上升  
 (D) 人口持續增加、成長率逐漸下降

- 19.( ) 人口成長變化對社會經濟發展影響巨大，根據圖中臺灣人口趨勢判斷，在民國 150 年社會上將會出現下列哪一現象？

- (A) 臺灣勞工薪資停滯不前  
 (B) 幼兒園入學中籤率下降  
 (C) 臺灣房地產空屋率下降  
 (D) 大學旁宿舍出租率下降

☐附表為某地區的人口資料，請根據此表回答第 20~22 題：

時間	1980	1990	2000	2010
性別比	102	100	99	97
幼年人口(萬人)	25	22	20	17
壯年人口(萬人)	75	73	70	68
老年人口(萬人)	7	10	12	15

- 20.( ) 請問隨著時間的推移此地的性別結構呈現什麼樣的變化？  
 (A) 男性人口比例愈來愈多  
 (B) 女性人口比例愈來愈多  
 (C) 男女性人口均持續增加  
 (D) 無法明確得知男女數量
- 21.( ) 從 1980 到 2010 年的這段時間，此地扶養比的變化為何？  
 (A) 愈來愈低，壯年人口負擔減輕  
 (B) 愈來愈低，壯年人口負擔加重  
 (C) 愈來愈高，壯年人口負擔減輕  
 (D) 愈來愈高，壯年人口負擔加重
- 22.( ) 請問此地哪一年進入『高齡化社會』？  
 (A) 1980 年 (B) 1990 年  
 (C) 2000 年 (D) 2010 年

☐小雅為國中七年級女學生，以下表格為她的家庭成員資料。請問 23~26 題：

稱謂	年齡	稱謂	年齡
爺爺	72	奶奶	66
爸爸	43	媽媽	40
伯父	46	伯母	41
叔叔	35	大姑姑	37
姊姊	17	小姑姑	33
堂姊	14	堂妹	6
弟弟	10		

- 23.( ) 關於小雅家中成員的人口年齡組成敘述，下列何者正確？  
 (A) 屬於幼年人口的有 3 個  
 (B) 屬於壯年人口的有 9 個  
 (C) 屬於老年人口的有 1 個  
 (D) 屬於被扶養人口的共有 6 個
- 24.( ) 請問小雅家的性別比大約為下列何者？  
 (A) 18 (B) 56 (C) 63 (D) 116
- 25.( ) 小雅的叔叔即將和一位韓國女性在臺灣結婚並迎接他們第一個小孩，請問她的新嬸嬸來臺灣定居後，對臺灣人口造成的影響為何？ (A) 嬸嬸和新生兒都屬於自然增加 (B) 嬸嬸為外國籍無影響，新生兒為社會增加 (C) 嬸嬸和新生兒均屬於臺灣的人口正成長 (D) 新生兒和嬸嬸均為外國籍，不會影響臺灣人口

- 26.( ) 小雅的伯父和伯母都在長照機構服務，近年來機構內總是一房難求，不只拓展了分院，連工作人員的人力需求也很吃緊。請問這種情形和臺灣哪一種現象有關？ (A) 健保給付不足 (B) 邁入高齡社會 (C) 貧富差距擴大 (D) 孝道觀念薄弱

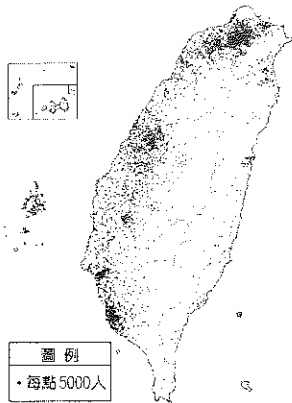
☐臺灣在 50 年代，老年人口比例低於 3%，然而到了 90 年代卻已正式進入「高齡化社會」，老年人口比例超過 7%。2018 年 3 月底，戶籍登記老年人口統計約 331 萬人，占總人口數 14.1%，正式邁入「高齡社會」。預估再 8 年後則將進入「超高齡社會」，速度之快令人心驚，相關社會問題亦隨之而來。首先是人口紅利的消失，其主要定義為「工作人口比例超過總人口數的三分之二以上，且扶養比低於 50%」。另一項指標為壯年人口參與勞動的比例，在 2019 年 7 月統計，臺灣的勞動參與率為 59.28%，均低於日、韓及美等國。也因此造成政府各項退休基金、健保未來恐將難逃破產命運。請問第 27~30 題：

- 27.( ) 自 50 年代起，臺灣人口結構中的老人人口比例不斷提升，請問主要是受到下列哪項因素的影響？  
 (A) 出生率下降 (B) 移入率增加  
 (C) 死亡率下降 (D) 移出率減少
- 28.( ) 文中的『工作人口』及『壯年人口』是指位於哪個年齡層的人口？  
 (A) 0~14 歲 (B) 15~64 歲  
 (C) 18~65 歲 (D) 25~60 歲
- 29.( ) 根據上文推斷，下列哪一項不是臺灣社會即將面臨的人口問題？  
 (A) 少子化與獨子化趨勢  
 (B) 壯年及勞動人口不足  
 (C) 高齡化社會安養問題  
 (D) 人口密度過高壓力大
- 30.( ) 臺灣政府若欲針對未來的人口問題提出策略，下列哪些可行性較高？  
 (甲) 大幅引進海外移工增加工作人口  
 (乙) 降低老年年金避免未來財政破產  
 (丙) 提供幼兒教育津貼及提供育嬰假  
 (丁) 延長就業退休年齡以增加勞動率  
 (戊) 推動健保改革大幅縮短保障年紀  
 (A) 甲、乙 (B) 乙、丁  
 (C) 丙、丁 (D) 丙、戊

附圖是臺灣人口分布圖，請依據此回答第31~34題：

31.( ) 請問此種人口分布圖屬於下列哪一種統計圖？

- (A) 點圖  
(B) 粒子圖  
(C) 雷達圖  
(D) 拓撲圖



32.( ) 觀察分布圖可得知影響臺灣人口分布最大的自然因素是下列何者？(A) 氣溫 (B) 颱風 (C) 地形 (D) 降水量

33.( ) 影響上述人口分布的主要人文因素最可能為下列何者？

- (A) 就業機會多寡 (B) 行政區畫等級  
(C) 人口出生數量 (D) 移民政策規劃

34.( ) 臺灣此種人口分布容易出現哪一種問題？(A) 東部治安欠佳 (B) 區域發展失衡 (C) 遷移缺乏自由 (D) 南北交通阻塞

不同族群聚在臺灣這片土地上，交織出臺灣多元的文化特質，請回答第35~40題：

35.( ) 二戰後的臺灣有許多來自中國北方的移民，這些移民的原鄉氣候較為乾燥，因此在飲食上與中國南方呈現明顯的差異，請問下列哪項屬於中國北方的傳統美食？

- (A) 米線 (B) 竹筒飯  
(C) 河粉 (D) 炸醬麵

36.( ) 近年來泰式、越式餐廳在臺灣大量展店，無論是在大規模連鎖餐飲業或是夜市小販均能品嚐到酸辣調味的東南亞美食，請問東南亞料理以酸辣入味的主要原因為下列何者？

- (A) 氣候溼熱 (B) 宗教信仰  
(C) 殖民文化 (D) 四周環海

37.( ) 以植物葉包裹小米和肉的料理『阿拜』是臺灣南部哪一個族群的美食？

- (A) 原住民族 (B) 中國北方移民  
(C) 中東新住民 (D) 中國閩南移民

38.( ) 高雄美濃地區為振興當地經濟、推廣旅遊產業，結合當地主要族群安排一系列體驗活動吸引觀光客，例如：藍染衣服和提袋、彩繪油紙傘以及板條、擂茶等美食試吃。請問透過活動可以得知當地主要居民為下列哪一族群？

- (A) 客家人 (B) 閩南人  
(C) 新住民 (D) 原住民族

39.( ) 近年來在臺灣某些餐廳能看到如右圖的標誌，並發現有許多身穿長袍、包著頭巾的人進入用餐。請問哪個宗教團體的成員特別會到擁有此標誌的餐廳用餐？



- (A) 佛教 (B) 天主教  
(C) 猶太教 (D) 伊斯蘭教

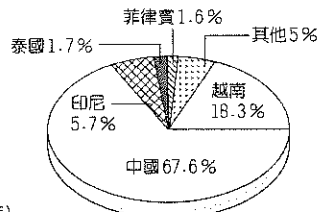
40.( ) 承上題，請問此類型餐廳提供的餐飲具有下列哪一項特色？

- (A) 以素食及當季蔬果為主要特色  
(B) 推廣有機、無農藥的養生餐點  
(C) 食物不含豬肉並遵守可蘭經戒律  
(D) 結合弱勢團體提供就業機會的餐廳

附圖一為臺灣外籍移工人數統計圖，附圖二為臺灣新住民人數來源地統計圖，請回答第41~43題：



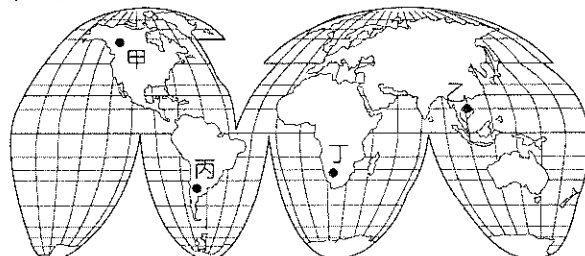
附圖一



附圖二

41.( ) 由附圖一可看出近年來臺灣的外籍移工逐年增加，請問這些移工屬於哪一性質的人口遷移？(A) 永久性的國內遷移 (B) 永久性的國際遷移 (C) 暫時性的國內遷移 (D) 暫時性的國際遷移。

42.( ) 臺灣近年來因新住民不斷增加，因此需要政府相關部會提供更多支援及服務。根據附圖二判斷，除了中國外，新住民多來自地圖中哪一個地區？



- (A) 甲 (B) 乙 (C) 丙 (D) 丁

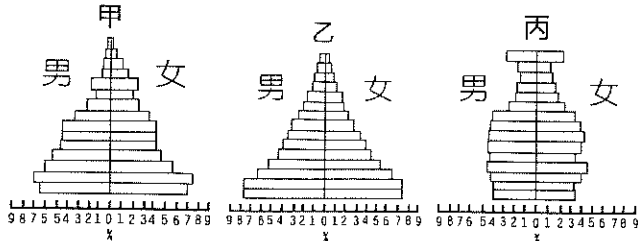
43.( ) 新住民的加入帶來許多其他國家的文化，讓臺灣的節慶內涵日趨多元，請問下列哪一項慶典與新住民的移入最相關？

- (A) 新北潑水節 (B) 花蓮豐年祭  
(C) 基隆中元祭 (D) 苗栗矮靈祭



附圖為三種不同類型的人口金字塔圖。

請問第 44~45 題：



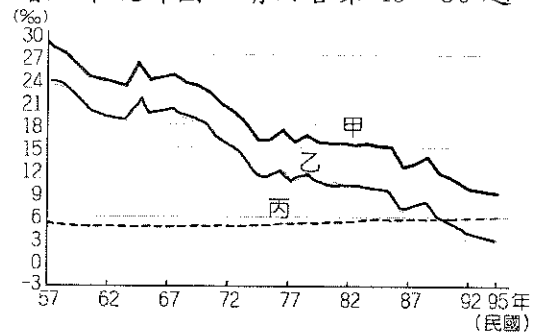
44. ( ) 若甲、乙、丙三種人口金字塔分別代表臺灣人口變化的三個階段，請將其依時序進行排列？  
 (A) 甲→乙→丙 (B) 乙→丙→甲  
 (C) 乙→甲→丙 (D) 丙→乙→甲
45. ( ) 請問乙時期的臺灣政府需要面對及解決的是哪些人口問題？  
 (甲) 加強家庭節育優生宣導  
 (乙) 缺乏老人長照安養機構  
 (丙) 學童教育機構質量均缺  
 (丁) 人力資源日漸老化短缺  
 (A) 甲、乙 (B) 甲、丙  
 (C) 乙、丙 (D) 丙、丁

附表為某地區的人口資料，請根據下表回答第 46~48 題：

數據%/時間	1980	2000	2010	2020
出生率	15	14	14	12
移入率	4	3	4	4
自然增加率	4	6	7	8
社會增加率	-5	-7	-4	-5

46. ( ) 請問此地在哪一年開始人口正成長？  
 (A) 1980 年 (B) 2000 年  
 (C) 2010 年 (D) 2020 年
47. ( ) 請問影響此地『人口正成長』的主要因素為下列何者？  
 (A) 死亡率下降 (B) 出生率下降  
 (C) 移入率提升 (D) 移出率下降
48. ( ) 若此地人口有 20 萬人，請問 2020 年時將戶籍遷離此地的人有多少？  
 (A) 180000 人 (B) 2000 人  
 (C) 1800 人 (D) 200 人

附圖為臺灣近 40 年來出生率、死亡率與自然增加率統計圖，請回答第 49~50 題：



49. ( ) 根據曲線變化判斷，甲、乙、丙依序代表哪項數據？  
 (A) 出生率、死亡率、自然增加率  
 (B) 死亡率、出生率、自然增加率  
 (C) 出生率、自然增加率、死亡率  
 (D) 自然增加率、出生率、死亡率
50. ( ) 根據統計圖的走勢可以發現影響臺灣人口成長變化的主要因素為下列何者？  
 (A) 出生率 (B) 死亡率  
 (C) 扶老比 (D) 性別比

【第 5 頁，共 5 頁，試卷結束】