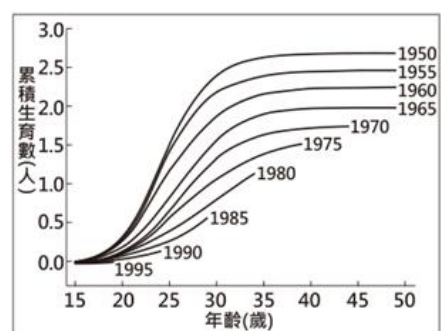
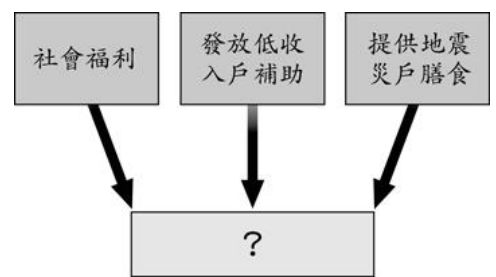


一、選擇題：(每題 2.5 分)

- ( ) 1. 社會政策追求實質的平等，針對弱勢者給予合理的差別待遇。請問：下列政策何者無助於實質平等的追求？(A)全民統一發放振興五倍券 (B)於公共場所設置無障礙空間 (C)針對視障學生提供題目報讀服務 (D)為偏鄉師資提供車馬費，提高任職意願。
- ( ) 2. 下列何種社會地位並非與生俱來，而是經由個人努力才能獲得，是一種成就的表現？(A)家世背景 (B)教育程度 (C)家庭排行 (D)種族性別。
- ( ) 3. 右圖是某加油站看板上的文字，根據其內容判斷，加油站業者該作為的目的，最可能是為了實踐下列哪一項公民素養？(A)尊重多元文化 (B)擴大公共參與 (C)培養倫理道德 (D)追求社會正義。
- ( ) 4. 全民健康保險及國民年金，是藉由民眾繳納保費，將個人生活風險轉由社會共同分攤，對於此類社會福利措施的施行，下列何者扮演重要角色？(A)個人按時繳納保費 (B)民間力量彌補不足 (C)政府負擔全額費用 (D)盡情使用相關資源。
- ( ) 5. 某團體針對遠洋漁業勞工權益問題，提出建議：目前遠洋漁船上的外籍漁工，毫無勞工權益和保障，政府應將所有外籍漁工視同本國籍漁工，享有同樣的照顧與保障，尤其是薪資給付與保險等。上述內容呈現出何種不公平處境？(A)政策忽略其他族群的生活需求 (B)社會缺乏對其他群體的文化尊重 (C)公共設施無法滿足實際使用上的需求 (D)貧富差距造成資源分配不均。
- ( ) 6. 全民健康保險開辦以後，許多民眾習慣到大醫院就診或找名醫看病，導致醫學中心的門診量愈來愈多，形成初期醫療照護及慢性病患占用重症醫療資源，也造成民眾就醫的不便。上述內容顯示出大眾應加強哪方面的素養？(A)提升職場競爭力 (B)推動社區永續發展 (C)推動無歧視與無障礙空間 (D)建立正確使用醫療資源的觀念。
- ( ) 7. 下列何者不是政府推動社會安全制度時，所應該關注的重點？(A)弱勢群體的生活需要 (B)失業勞工的就業輔導 (C)受災戶的急難救助 (D)大老闆的薪資所得。
- ( ) 8. 右圖為岱蓉的研究架構，中間主題名稱被弄髒了。根據內容判斷，他的研究主題最有可能為下列何者？(A)社會保險 (B)社會救助 (C)福利服務 (D)健康與醫療照護。
- ( ) 9. 高先生是個需要坐輪椅的行動不便者，讓他需要出門時很傷腦筋，幸好政府採購了低底盤公車，提供無障礙空間，讓高先生能夠方便搭乘公車。上述政府採購低底盤公車提供無障礙空間，屬於何種社會福利政策？(A)責任承擔 (B)需求滿足 (C)貢獻程度 (D)利益分配。
- ( ) 10. 關於貧富差距的敘述何者正確？(A)貧富差距過大時會影響社會的安定與和諧 (B)貧富差距是普遍現象，任其發展不必在意 (C)人皆生而平等，所以貧富之間不應有差距 (D)造成貧富差距的原因是經濟不景氣和失業率下降。
- ( ) 11. 國民年金納保對象是未參加勞、農、公教、軍保之 25 歲以上未滿 65 歲的國民，目的在於保障投保民眾的基本經濟安全及其遺屬生活的安定。依此判斷，國民年金與下列哪項措施具有相同的理念？(A)災害救助 (B)職業保險 (C)成立就業服務站 (D)規畫無障礙空間。
- ( ) 12. 政府若要推動各項社會福利措施，需要充足的經費。請問：社會福利的經費主要來源為下列何者？(A)銀行資助 (B)團體募款 (C)企業捐贈 (D)人民納稅及保險。
- ( ) 13. 右圖呈現某國不同年分出生的婦女，在育齡期間累積的生育數。為了改變圖中資料呈現的趨勢以維持人口結構穩定，下列何者最可能是未來該國政府採行的作法？(A)提高幼兒教育補助金額 (B)加強宣導節制生育觀念 (C)提供弱勢學童輔導課程 (D)增設高齡安養照護機構。
- ( ) 14. 電影《關鍵少數》改編自真人真事，描述 1960 年代黑人女性在 NASA (美國太空總署) 工作，並以傑出的工作能力促成人類首次繞行地球壯舉。影片中有一場景為主角之一凱薩琳，每次都得跑 800 公尺才能到達允許黑人使用的廁所。因為路程遙遠，以至於上司以為她經常打混。請問：根據上述劇情，凱薩琳是因哪一社會地位而遭遇到不公平待遇？(A)性別 (B)種族 (C)家世背景 (D)教育程度。
- ( ) 15. 國家與個人或民間團體的最大不同，在於國家可以透過何種機制來幫助弱勢者？(A)道德勸說 (B)新聞廣告 (C)立法規範 (D)挹注資金。
- ( ) 16. 百洋出生在「醫師世家」，爺爺、爸爸、叔叔等家庭成員皆是醫師，他在醫學院畢業後也順利考取執照，成為一位正式的醫師。請問有關百洋的敘述何者正確？(A)題幹可看出百洋家社會流動的歷程 (B)百洋的社會地位是與生俱來的 (C)百洋透過教育改善其社會地位 (D)百洋的家庭背景，比一般人更容易能從事醫師此職業。

歡迎您的光臨！  
本公司專為身心障礙人士提供工作機會，讓他們得以自力更生。您的鼓勵是我們信心的泉源，感謝您的支持。



基隆市立武崙國民中學一一〇學年度第二學期第三次段考公民科試題

班級：七年

班座號：

姓名：

( )17. 我國於民國 105 年通過《納稅者權利保護法》，首次立法規範國家不可對民眾的基本生活費進行課稅。這項立法的主要目的為何？(A)捍衛國防安全 (B)維持社會治安 (C)保障人性尊嚴 (D)實踐司法正義。

( )18. 我國社會福利制度涵蓋面很廣，舉凡兒童少年、年長者、身障弱勢者與受家暴婦女都是其照顧的對象。民主國家基於何種義務，而推動上述各項制度？(A)保障個人的基本生活 (B)讓每個人的所得增加 (C)讓弱勢者不會再出現 (D)取代傳統的社會互助。

( )19. 請根據右表中父女的對話內容，考量「公不公平」的原則為何？(A)貢獻程度 (B)利益分配 (C)責任負擔 (D)需求滿足。

( )20. 社會地位流動的速度愈快，顯示這是一個開放性社會，讓每個人有機會享受自身努力的成果。下列何者是判斷社會流動關鍵？(A)是否存在嚴重階級差距 (B)是否產生貧富差距的現象 (C)社會地位的取得是否與生俱來 (D)是否提供改善社會地位的機會與途徑。

( )21. 右圖中兩人所談論的政府作為，屬於哪一項社會福利措施？(A)社會救助 (B)福利服務 (C)健康與醫療照護 (D)居住正義與社區營造。

( )22. 正男在社群網站所看到的報導——『根據健保署估計，每年至少有 193 公噸的藥物被丟棄，形成醫療資源的浪費。醫療資源的不當使用，是造成健保虧損的一大原因，因此，民眾應建立「大病到大醫院，小病看診所」的觀念，不做不必要的檢查，不到處逛醫院、不囤積藥物，為節約健保資源盡一份心力。』根據上述報導，下列何者有助於解決報導中提到的問題？(甲)建立正確使用社會福利資源的觀念 (乙)民間力量協助社會福利政策的推行 (丙)個人必須要善盡對社會福利之責任 (丁)企業增加繳納的全民健康保險費用 (A)甲乙 (B)甲丙 (C)乙丙 (D)丙丁。

( )23. 英豪在買高鐵車票時，看見右圖的設施。依據內容判斷，下列各項解讀，何者最正確？(A)該窗口對於一般乘客完全沒具有約束力 (B)窗口的設立屬於社會規範中的宗教信仰 (C)窗口的設立較可以保障弱勢族群的人權 (D)使用該窗口的乘客比例以女性居大多數。

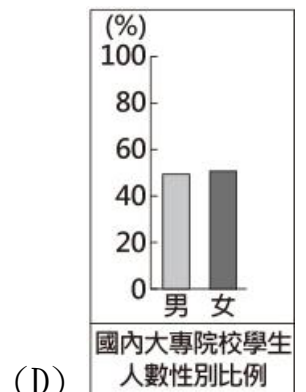
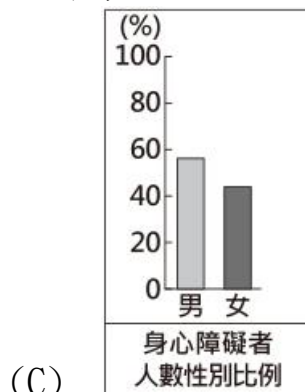
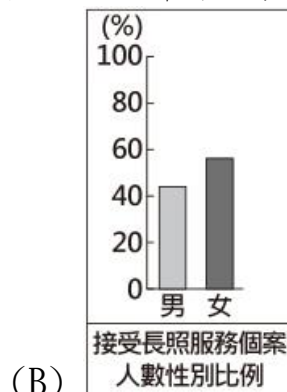
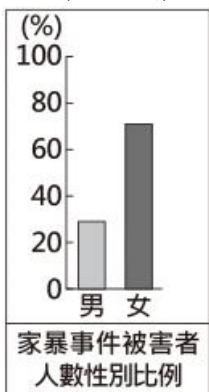
( )24. 我國《民法》明文規定：「夫妻於日常家務，互為代理人」，意思是家務應由家人共同承擔，並非單一方的工作。但衛服部統計發現，職業婦女平均每日家務勞動時間仍高達 4.2 小時，而男性平均只有 1 小時，由此可看出我國社會在哪一層面仍存有不公平的現象？(A)貢獻程度 (B)利益分配 (C)責任負擔 (D)需求滿足。

( )25. 下列哪項敘述，符合「協助弱勢群體」的概念？(A)朴子社區成立社區發展協進會，改善社區生活品質 (B)消費者購買國內生產的家電產品，支持本國企業 (C)家長聯合會發動大遊行，抗議教育改革政策 (D)設置水里夜間緊急醫療站，提供水里等偏遠地區民眾的醫療服務。

( )26. 右表是美林上台報告的內容，他所負責介紹的社會福利措施，應是下列哪一項目？(A)就業安全 (B)社會救助 (C)社會保險 (D)社區營造。

( )27. 各直轄市、縣(市)政府針對身心障礙者，辦理身體照顧服務、家務服務、友善訪視、送餐到家等居家服務。上述屬於何種社會福利？(A)就業安全 (B)福利服務 (C)社會救助 (D)社會保險。

( )28. 小強參加辯論比賽，辯論主題是「目前甲國社會尚未達到性別平等」，若他是站在正方的立場，須提出支持主題的論點，下列四張關於甲國不同面向的統計圖，何者最適合小強作為強化論點的證據？



( )29. 中世紀時期，宗教組織以施捨與救濟的方式，扶助生活發生困頓的民眾，這是下列何種觀念的展現？(A)社會變遷 (B)社會福利 (C)社會規範 (D)文化交流。

女兒：為什麼大哥、二哥都分到土地和現金，我卻甚麼都沒有？  
父親：俗話說，嫁出去的女兒潑出去的水，你本來就沒有份



孕婦/年長/行動不便者  
專用窗口

牡丹鄉公所  
牡丹鄉公所積極推動東源部落的觀光產業發展，結合排灣族文化的野薑花季活動至今已經邁入第 7 年

基隆市立武崙國民中學一一〇學年度第二學期第三次段考公民科試題

班級：七年

班座號：

姓名：

- ( )30. 桃園市政府頒發「桃園市 2020 年非營利組織公益傑出貢獻獎」，表揚桃園地區投身慈善、環保、藝文、新住民關懷等各領域的 29 個公益團體，藉以感謝這些團體卓越的行動力與社會關懷精神，協助市府照顧政策無法顧及的角落，讓桃園市的社會安全網更堅固。上述旨在說明民間團體的何種重要性？(A)針對人民需求制定社會福利法規 (B)珍惜社會資源分攤社會責任 (C)以具體行動彌補政府政策的不足 (D)發揮統籌功能分配社會資源。
- ( )31. 美華剛從大學資訊系畢業，在一家餐廳打工，她想利用週末參加縣政府舉辦的電腦訓練課程，增強自己的專長，以便找到更適合自己的工作。由上述可知，美華最有可能因哪一項社會福利措施而受益？(A)福利服務 (B)社會津貼 (C)就業安全 (D)社會保險。
- ( )32. 我國推動社會福利措施多年，對於人民所遭遇的各種問題，政府盡量給予相對應的協助。下列情況與對應項目，何者正確？(A)夫妻喜獲麟兒，但是兩人都必須工作——需要托育補助 (B)國一新鮮人——需要國民年金保險制度 (C)家中貧困的國小學生——需要職業訓練 (D)臥病在床的長者——需要房租補助。
- ( )33. 根據附圖中的對話判斷，政府的做法屬於哪一項社會福利措施？(A)福利服務 (B)社會津貼 (C)健康與醫療照護 (D)居住正義與社區營造。



二、題組：(每題 2.5 分)

1. 105 年 2 月 6 日大地震之後，臺南市政府震災復原重建小組推動許多計畫協助災民，除了發放急難金、提供生活及醫療補助外，房屋倒塌的受災戶也能申請房貸利息補貼、租屋補貼等，希望能藉由這些措施，盡量減輕災民的經濟壓力。請問：
- ( )34. 上文中提到的急難金、生活及醫療補助，應為社會福利措施中的哪一項目？(A)社會保險 (B)就業安全 (C)居住正義與社區營造 (D)社會救助。
- ( )35. 上文中受災戶申請的房貸利息補貼、租屋補貼屬於社會福利措施的哪一項目？(A)社會保險 (B)就業安全 (C)居住正義與社區營造 (D)福利服務。
2. 美國著名節目主持人歐普拉是位黑人女性，透過自身努力完成大學畢業，畢業後進入電視台工作，後來擔任脫口秀節目主持人，因為表現優異，深受觀眾歡迎，2018 年獲金球獎終身成就獎。她也因熱心公益，捐助興學，在非洲、阿富汗等地開辦學校，多次被《時代雜誌》票選全球最有影響力的人物之一。請問：
- ( )36. 依據歐普拉的故事，下列敘述何者正確？(A)大學畢業是與生俱來的地位 (B)「黑人女性」的身分是個人努力取得的地位 (C)獲金球獎終身成就獎是個人努力取得的地位 (D)被《時代雜誌》票選全球最有影響力人物是傳承而得的地位。
- ( )37. 歐普拉突破美國社會對非裔族群的歧視與框架，透過自身努力而獲得的傑出成就，使個人的社會地位發生移動，此現象稱之為何？(A)社會流動 (B)社會階級 (C)社會正義 (D)社會變遷。
3. 西元 2021 年是臺灣教育史上頭一遭，學校停課超過 6 週，而且直接停課到暑假。華視採訪團隊前進到桃園市復興區(山地原住民區)的巴陵國小，發現遠距教學背後，山上孩子上課的地點，有人竟然是在果園裡，也有人得追著微弱的訊號到處移動，學習環境非常克難。當遠距教學在未來可能頻繁的施行，都市與偏鄉的數位落差該如何弭平，成為一個有待解決的重要問題。請回答下列問題：
- ( )38. 上述文章在討論哪種不公平的現象？(A)身心障礙設施 (B)性別薪資差距 (C)新移民權益 (D)城鄉差距。
- ( )39. 下列何者最可能為本文標題？(A)停課後教學現場的問題 (B)新移民家庭的生活困境 (C)女性在職場的性別歧視 (D)身心障礙者的職業訓練。
- ( )40. 桃園市復興區的孩子為何會面臨上述狀況？(A)家庭模式多元 (B)性別偏見嚴重 (C)資源分配不均 (D)文化傳承困難。