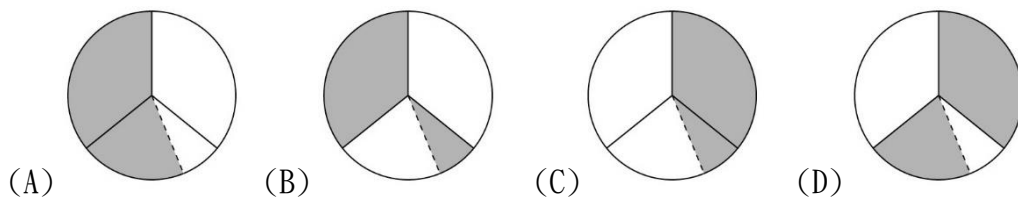
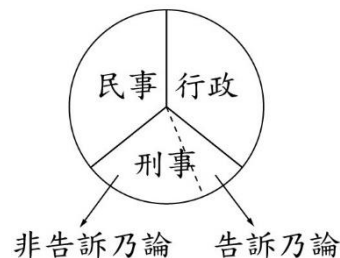
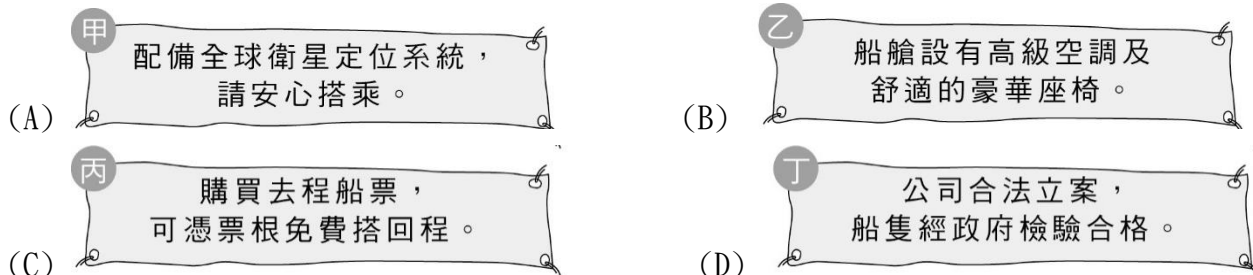


一、選擇題：(每題 2 分)

- () 1. 下列關於家庭暴力防治法的敘述，何者正確？ (A)被施暴者若違反保護令的規定，會被判處三年以下的有期徒刑 (B)施暴者可依法聲請保護令 (C)保護令是由法院所核發 (D)保護令是依據性別工作平等法，為了保護家庭暴力的受害者而制定。
- () 2. 某次颱風來襲，各家電視臺根據中央氣象局所提供的資料，對颱風動向與降雨量提出各種分析、研判，但卻與實際的情況差距甚大，造成人民在防颱準備工作上的誤判。請問：上述情形顯示傳播媒介未能正確發揮哪一項應有的功能？ (A)提供訊息 (B)監督政府 (C)休閒娛樂 (D)教育文化。
- () 3. 小光將可進行權利救濟的事件分為三類，並將其示意圖繪製成附圖，若他將「可經由鄉、鎮、市、區公所調解委員會調解的事件」，以塗色的方式標記在圖上，則此圖應呈現如下列何者？



- () 4. 民國 92 年底「全國教師工會」的成立，是屬於《憲法》保障人民的哪種自由權？ (A)表現自由 (B)集會自由 (C)人身自由 (D)結社自由。
- () 5. 下列是三位行政首長的發言內容：甲縣縣長：「感謝縣議會的支持，本縣領先全國引進熱氣球活動，創造商機。」乙市市長：「因應颱風來襲，為維護市民財產安全，本市今晚開放市區紅線停車。」丙縣縣長：「未來是否在本縣設置觀光賭場，我們將交由縣民以公投方式決定。」上述三位首長的發言內容，最足以彰顯下列何項概念？ (A)中央集權 (B)責任政治 (C)三權分立 (D)地方自治。
- () 6. 某景點的特色是搭船遊湖欣賞湖光山色，各船公司紛紛推出不同的廣告標語來吸引遊客搭乘。下圖是某四家船公司的廣告標語，其中何者採取了價格競爭的方式？



- () 7. 阿鑫在課堂報告時提到：「……該法律規定，在推展科學技術時，政府應考量科技政策或計畫對環境生態的影響，並提供經費研究社會倫理與法律因應等相關問題。」根據上述內容判斷，他最可能是以下列何者為主題？ (A)科技發展促進經濟成長 (B)資訊時代裡的國際關係 (C)科技發展對社會的衝擊 (D)資訊社會中的政治參與。
- () 8. 日本與歐盟進行自由貿易協定談判，雙方在2017年1月就「開放市場」相關議題展開協商。代表們對於農產品市場與汽車市場是否開放進行討論。請問：如果自由貿易協定簽署成功，參與的國家可以得到那些益處？ (甲)雙方可以提高關稅額度 (乙)雙邊貿易會更加熱絡 (丙)民眾可以享受更多便宜的進口商品 (丁)參與的國家會喪失大量的外匯存底 (A)甲乙 (B)乙丙 (C)丙丁 (D)甲丁。

.....當美國電影工業結合商品蔓延、滲透到世界各地，使全球娛樂產業內涵趨於同質的同時，蘇格蘭民族音樂、臺灣原住民音樂也登上國際舞臺，受到世人矚目。

- () 9. 右表是小邁閱讀某雜誌的部分內容。根據內容判斷，作者最可能在討論下列哪一主題？ (A)大眾文化的意識型態 (B)文化全球化與多元化 (C)非營利組織的網絡化 (D)消費風格的族群差異。
- () 10. 農曆 7 月 15 日為中元節，是國人祭祀祖先及孤魂野鬼的日子，各地都會舉辦中元普渡的活動。此行為是受到下列哪種社會規範的影響？

(甲)風俗習慣；(乙)倫理道德；(丙)宗教信仰；(丁)法律。

(A)甲丁 (B)乙丁 (C)甲丙 (D)乙丙。

- () 11. 右圖是《世界人權宣言》第 25 條的內容。下列何者最能說明保障該項人權的意義？ (A)維持個人生存基本生活 (B)確保人身不受非法侵犯 (C)保障人民有權參與政治 (D)落實人人法律地位平等。

人人有權享受為維持他本人和家屬的健康和福利所需的生活水準，包括食物、衣著、住房、醫療和必要的社會服務；在遭到失業、疾病、殘廢、守寡、衰老或在其他不能控制的情況下喪失謀生能力時，有權享受保障。

基隆市立武崙國民中學一一〇學年度第二學期九年級第二次段考公民科試題

班級：九年 班座號： 姓名：

- () 12. 假設身為監察委員的大佑，在某段期間看到媒體揭露的四則新聞報導，如右表所示。根據大佑的職權判斷，表中哪一則新聞的報導對象，最可能被他提出彈劾？(A) 現任總統疑似洩漏國家機密 (B) 中央政府部會首長涉嫌官商勾結，從中舞弊 (C) 幫派分子製毒，警方破獲史上最大毒品販賣集團 (D) 民調顯示，民眾對於內閣官員的滿意度大幅下滑。

- () 13. 下列是某則公益廣告的內容：



上圖之(丙)中，主要指的是違反下列哪一項法律？(A) 《刑法》 (B) 《少年事件處理法》 (C) 《家庭暴力防治法》 (D) 《兒童及少年福利與權益保障法》。

- () 14. 資源分配的方式有許多種，常見的包含：價格決定、先占先贏、指定使用或溝通協調。但是生活周遭多數的資源，如電影票、高鐵票、美食、服飾等，都是以價格來決定資源如何分配，為什麼？(A) 資源有限之下，能夠負擔起價格的人就能享有該資源 (B) 先占先贏是最公平的資源分配方式，也不容易產生爭議 (C) 指派公正的第三人來指定資源的分配，資源一定能發揮最大效益 (D) 透過溝通協調的方式來決定資源分配，每個人就絕對能擁有想要的資源。

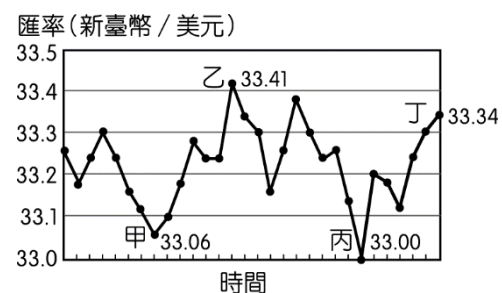
- () 15. 下表是有關管制經濟制度與市場經濟制度的比較，何者有誤？(A) 甲 (B) 乙 (C) 丙 (D) 丁。

經濟制度	(甲)	(乙)	(丙)	(丁)
管制經濟制度	政府透過價格、數量的控制，干預市場	所有權屬於國家	政府控制所有的經濟活動	市場競爭力高，消費者選擇多
市場經濟制度	人民自由從事經濟活動，不受不合理干預	所有權屬於人民	政府尊重市場的運作	市場缺乏競爭力，消費者選擇少

- () 16. 在我國，立法機關對於政府施政不滿意時，可以提出不信任案，迫使其倒閣重組，以負起政治責任。依我國《憲法增修條文》規定，立法院提出不信任案時，其行使對象是下列何者？(A) 正、副總統 (B) 司法院院長 (C) 立法院院長 (D) 行政院院長。

- () 17. 近年來醫療機構中醫護人員遭攻擊的暴力事件頻傳，不但嚴重干擾醫療行為的進行，還危及醫護人員的人身安全，因此醫護團體推動相關修法，將這種暴力行為的追究改為非告訴乃論，以遏止此類事件發生。根據上述內容判斷，下列何者正確？(A) 文中團體的類型屬《人民團體法》中的政治團體 (B) 文中團體若想要達成目的，應向立法院進行訴願 (C) 修法通過後，相關法律條文將交由行政院院長公布施行 (D) 修法通過後，醫護人員同意和解也不會停止檢察官偵查。

- () 18. 吉祥公司定期以新臺幣兌換美元後，向美國進口價值一千美元的原料，右圖是該公司的兌換紀錄，圖中顯示在不同時間點以 1 美元兌換新臺幣的比率。僅根據圖中內容判斷，若以新臺幣為衡量單位，該公司在甲、乙、丙、丁四個時間點，何時購買原料最便宜？(A) 甲 (B) 乙 (C) 丙 (D) 丁。



- () 19. 阿國騎機車返家途中，行經道路施工路段，因當地未設置警告標誌，導致他連人帶車跌入坑洞傷勢嚴重。請問：如果阿國與政府機關協議不成，現應依下列何種途徑尋求權利救濟？(A) 示威遊行 (B) 集會請願 (C) 提起行政訴訟 (D) 提起刑事訴訟。

- () 20. 國際間的專業化分工是以比較國家生產某產品的機會成本來決定。右表是臺灣、日本、德國三個國家生產高檔自行車與高級汽車的機會成本的資訊。若臺灣不論與哪一國比較皆是出口高檔自行車，進口高級汽車比較有利；而德國不論與哪一國比較皆是出口高級汽車，進口高檔自行車比較有利。因此根據表中資訊判斷，右表中甲、乙、丙分別代表哪一國家？(A) 甲：臺灣，乙：德國，丙：日本 (B) 甲：臺灣，乙：日本，丙：德國 (C) 甲：德國，乙：臺灣，丙：日本 (D) 甲：日本，乙：德國，丙：臺灣。

國家	高檔自行車	高級汽車
甲	2/3 台	3/2 台
乙	1 台	1 台
丙	3/4 台	4/3 台

基隆市立武崙國民中學一一〇學年度第二學期九年級第二次段考公民科試題

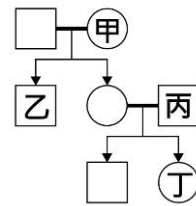
班級：九年

班 座 號：

姓 名：

- () 21. 2019 年 6 月，某政黨因為擔心媒體受到某些知名集團掌控，而宣揚偏頗政治立場，因此發起凱道遊行，許多民眾走上街頭，呼籲身為「第四權」的媒體應回歸正道，不為特定企業或政黨服務。請問：民眾呼籲媒體回歸正道，是指其應扮演何種角色？(A)推廣強勢文化 (B)監督政府施政 (C)制定法律規章 (D)進行政令宣導。

- () 22. 右圖為曉明的家庭示意圖，曉明與朋友聊天中提到，自己與家中成員的關係皆為血親關係。若以□代表男性，○代表女性，線段—代表婚姻關係，箭頭→代表親子關係，則曉明最可能是圖中哪一個位置？(A)甲 (B)乙 (C)丙 (D)丁



- () 23. 「地球村」的概念在二十世紀的國際社會已經萌芽，也將是這個世紀人類生活的趨勢。面對未來的快速變遷，我們應採取何種態度，才能合宜地扮演「地球村公民」的角色？(A)可以固守傳統的文化，以免造成價值體系的混亂 (B)積極尋找一個世外桃源，準備過單純樸實的生活 (C)開放胸襟包容不同見解，勇於嘗試學習新的事物 (D)把握在校期間吸取新知，因為畢業便無機會學習。
- () 24. 當多數人民認為縣議會所制定的法規不利於人民時，公民有權依一定的程序決定保留或是廢除這項法規。請問：這種權利是屬於公民的哪一項參政權？(A)選舉權 (B)罷免權 (C)創制權 (D)複決權。

- () 25. 右表是某國中在本月規畫的工作內容。根據表中內容判斷，下列何者最可能為該校本月學生學習活動的重點？(A)建立良好人際關係 (B)提高社區參與程度 (C)彰顯倫理道德觀念 (D)培養民主法治素養。

工作報告	實施內容
海報競賽	主題：人權保障與人道關懷
參訪內容	參觀社區附近的縣議會
學生自治活動	1. 制定班級公約 2. 舉辦學生代表選舉活動

- () 26. 工業革命後，英國工人為了生活保障，開辦各種濟貧自助機構，成員按規定交納互助金，建立互助基金，以在機構成員遇到生活中各種意外或困難時，提供經濟幫助。請問：上述互助模式與下列何項社會福利措施最為類似？(A)社會津貼 (B)社會保險 (C)社會救助 (D)福利服務。
- () 27. 某國中三位同學在自我介紹中，提及自己父母的工作時，有以下的說明。甲生說：「我父親專門負責偵查犯罪案件，並對證據確鑿者提出公訴。」乙生說：「我父親專門負責制定各種法規，讓執法者有所依循。」丙生說：「我母親專門負責獨立審判，讓違法者受到應得的懲罰。」根據上面三人的敘述，其父母的工作依甲乙丙順序應該為何？(A)立法委員、檢察官、法官 (B)檢察官、立法委員、法官 (C)檢察官、司法委員、法官 (D)警察、立法委員、大法官。
- () 28. 相較於政黨，利益團體所表達的意見是為了保障或增進特定群體的利益。請問：下列哪一項主張最有可能是利益團體提出的訴求？(A)加強邦交國家的維繫 (B)刪減政府人事的經費 (C)提高工資與降低工時 (D)提升國民年平均所得。
- () 29. 大偉想參加運動會的兩人三腳比賽，於是拜託阿熊一起報名，如果得到名次會和他平分獎金。阿熊願意參加並說道：「兄弟談錢傷感情，比賽獎金全歸你，但願友情比金堅，只為榮耀留心間。」大偉心想：「但我只想要獎金。」關於兩人參加比賽的行為，下列何項解釋最適當？(A)大偉參加比賽的誘因比阿熊要高 (B)獎金有助於提高兩人參賽的誘因 (C)影響兩人是否參加比賽的誘因不同 (D)兩人對參加比賽所預期的報酬相同。
- () 30. 觸犯刑法規定，應透過司法審判程序，接受刑罰的制裁，下列相關敘述何者正確？(A)有期徒刑及拘留，皆為剝奪自由的刑罰 (B)仍需其他措施配合，才能達到教化功能 (C)刑罰分主刑和從刑，主刑不得單獨科處 (D)罰鍰屬於剝奪財產的刑罰，可單獨科處。
- () 31. 由於現代的網路與即時通訊軟體發達，花蓮地區幾乎很少人寄信，有時一整天下來郵差巡視郵筒收件時，常常連一封信也沒有，因此花蓮郵局決定將花蓮市、吉安鄉等地的路邊郵筒全部裁撤，僅保留郵局前的郵筒。未來不僅當地民眾寄信時必須跑一趟郵局，郵筒矗立路邊的景象也將變得越來越難見到。根據上述內容判斷，下列何項敘述最適當？(A)信件量顯示出人際疏離感增加 (B)科技發展導致社會變遷的現象 (C)郵局收送信件的勞動需求漸增 (D)民眾的秘密通訊自由受到限制。
- () 32. 德昌在說明貨幣時指出：「如果甲店的牛仔褲售價是 3 隻雞，同樣的牛仔褲在乙店的售價是 10 條魚，在這種情況下，我們很難確認哪一家店的褲子比較貴。若有共同的貨幣，就可以解決這種問題了。」上述說法最能凸顯貨幣的何種功能？(A)交易媒介 (B)清償債務 (C)價值儲存 (D)價值衡量。

- () 33. 曾被飼養的流浪動物對人類較無戒心，但此特點卻被某些人利用，他們不但虐待流浪貓、狗，還將過程拍成影片上傳到網路平臺供人觀賞。雖然違法者多已受到法律制裁，但憾事卻難以挽回。上述案例凸顯下列何者的重要性？ (A)辨識媒體傳播資訊的真偽 (B)生命無貴賤之分皆應被尊重 (C)資訊流通應避免侵害他人隱私 (D)重視環境保護以維護生物多樣性。

- () 34. 小明與大華一起搭公車時，大華看到有一個空位就坐了下來，座位旁貼著如右圖的標示。下列是二人的對話：小明：「你不可以坐有這個標示的座位！」大華：「法律又沒有規定我不能坐，如果有人需要我就會讓座了。」上述小明和大華對於右圖持有不同的看法，其原因與下列何者最相關？ (A)風俗習慣在不同地區而有不同的規範 (B)倫理道德的判斷標準不具強制約束力 (C)宗教信仰透過戒律約束信眾日常行為 (D)法律因公權力作為後盾而具有強制力。



- () 35. 新冠肺炎(COVID-19)防疫期間，政府規定民眾搭乘大眾運輸如：公車、台鐵、捷運……，應全程佩戴口罩，未佩帶口罩者不得搭乘，此作法符合下列何項敘述？ (A)行政罰 (B)行政管制 (C)行政救濟 (D)行政責任。

- () 36. 右列是一份人權報告中的相關內容。根據內容判斷，下列哪一項敘述最可能是該報告的觀點？ (A)人權組織侵害國家主權 (B)人權保障超越國界限制 (C)人權由政黨的體制決定 (D)人權因文化差異而不同。

某些威權國家，常以自身的價值觀，批判人身的價值觀，批判西方國家所宣揚的人權理念，認為落實人權的方法會依不同文化、歷史背景而產生差異。但我們認為，不能以文化背景為由，而與基本人權的核心價值背道而馳。

- () 37. 某國的資訊相關設施普及，並計畫未來每一項重要的公共政策在實施之前，都要先放到政府網站上交由公眾討論，以作為政府制定最後決策的參考依據。上述作法符合民主政治的哪一種特色？ (A)民意政治 (B)法治政治 (C)政黨政治 (D)責任政治。

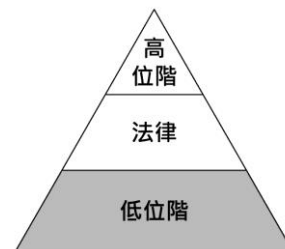
- () 38. 極限運動是以高速或高危險性為特色的非傳統運動。雖然極限運動是目前台灣時下青少年最熱門的休閒活動，但不管是直排輪、滑板或特技單車，因為缺乏專用的場地，有些極限運動迷就在馬路邊、地下道或公園裡，挑戰各種地形地物，做出一些高難度的動作，成為路人眼中「奇特又危險」的一群，所以經常被人召來警察取締或驅離。請問：這群極限運動愛好者所發展出來的獨特文化，稱之為何？ (A)次文化 (B)劣文化 (C)主流文化 (D)優質文化。

- () 39. 右圖中甲、乙、丙、丁哪兩位同學的發言符合《會議規範》的規定？ (A)甲、丙 (B)甲、丁 (C)乙、丙 (D)乙、丁。



- () 40. 導盲犬是協助視障者安全行進的工作犬，而非一般寵物，因此身心障礙者權益保障法規定，公共場所、公共建築物、營業場所(包括餐廳)、大眾運輸工具及公共設施之負責人、業者、使用人等，皆不得拒絕導盲犬及導盲幼犬自由出入。此規定主要是為了落實以下何種精神？ (A)實質平等 (B)人身自由 (C)民主法治 (D)法律位階。

- () 41. 右圖為我國廣義的法律位階示意圖，圖中灰色區塊所代表的法律類型，具有下列何項特色？ (A)可由行政機關訂定 (B)必須經總統公布施行 (C)內容多為原則性的規範 (D)修改必須經公民投票複決。



- () 42. 「該企業已在世界各地擁有數千家連鎖店，成功吸引許多不同文化的消費者，無論走進位在巴黎或上海的連鎖店，看到的都是近似的畫面：桌邊坐滿悠閒飲著咖啡的人們，或是排隊外帶咖啡者。而一向被認為屬於飲茶國度的亞洲市場，在該企業創新的行銷手法與品牌優勢下，許多茶信徒也成了咖啡迷。」上述現象與下列何者的敘述最相符？ (A)行銷重點主打物美價廉 (B)全球消費行為漸趨一致 (C)商品生產過程更加多元 (D)飲食習慣符合地方特色。

- () 43. 近來許多地方政府重新整頓閒置空間，每逢周末舉辦藝文活動，並對外進行攤位招商，有時還搭配煙火秀吸引遊客。由於此舉易造成周邊交通壅塞，加上地方財政困窘，因而輿論對此做法有諸多批評，但不少地方政府仍持續舉辦相關活動。下列何者最可能是上述地方政府作為的目的？ (A)籌措地方自治財源 (B)提供人民社會福利 (C)維護自然環境資源 (D)保障民眾言論自由。

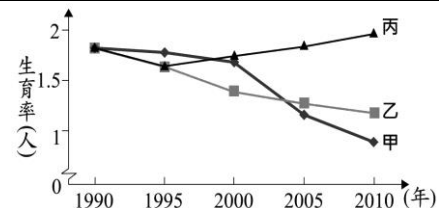
基隆市立武崙國民中學一一〇學年度第二學期九年級第二次段考公民科試題

班級：九年

班 座 號：

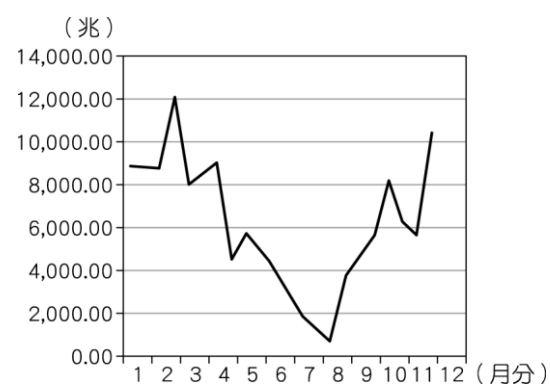
姓 名：

- () 44. 右圖是甲、乙、丙三個國家關於人口的部分資料。圖中內容顯示，丙國數值與甲、乙二國的差距隨時間逐漸擴大，關於丙國的此種現象，下列何項政策的影響程度最高？(A)推動長期老人安養服務 (B)修改法規延後退休年齡 (C)夫妻協商決定子女姓氏 (D)提供幼兒生活補助津貼。



- () 45. 近 20 年來，由於離婚率提高、家庭人數減少等因素，促使家庭型態出現轉變。上述家庭型態的轉變，最可能是指下列何種現象？(A)性別比例失衡 (B)家庭功能增強 (C)單親家戶漸多 (D)適婚人口減少。

- () 46. 右圖為大大國今年各個月分法定貨幣發行數量的統計圖。請問：大大國可能發生下列何種狀況？(A)物價不穩 (B)貨幣升值 (C)經濟穩定 (D)所得增加。



二、題組題：(每題 2 分)

1. 因應疫情，2021 年年中的兩大節慶，中元節及中秋節，民眾都一改過去的過節習慣，改在家中進行。對此，有大賣場與信用卡公司合作，推出刷卡滿額贈送咖啡等商品活動。至於防疫過中秋，不少人已準備好居家烤肉，帶動電烤盤成為熱銷商品。根據電商網觀察，電烤盤每日平均銷售約近千台，買氣成長約 4 倍，加上電商平台推出「中秋廉價家電日促銷」快閃活動，各種日系熱銷電烤盤限時最低新台幣 699 元起，引發民眾搶購潮，一度熱銷到斷貨。

- () 47. 由文中大賣場的合作方案判斷，下列何者最有可能是消費者會遇到的情形？(A)可以「先享受、後付費」(B)受到負向誘因做選擇行為 (C)必須先儲值現金於卡片內 (D)須先向中央銀行申請卡片。

- () 48. 根據新聞內容判斷，下列何者最有可能是影響民眾消費型態之主要因素？(A)價格影響資源分配 (B)優質服務吸引搶購 (C)薪資所得影響消費 (D)品牌價值影響選擇。

2. 一名網路名人因截取電影或影集片段，剪輯成 3 到 5 分鐘的影片並加以評論，隨後放在臉書、YouTube 等社群平臺，遭 5 家片商指控侵權。檢方認為，其利用他人影片剪輯，再配上自己的旁白，已是「改作」，而非單純只是「引用」；而上傳 YouTube 後，點閱率又可創造分紅利潤，有營利嫌疑，所以將他依相關法律起訴。本案最終達成和解並撤告。請問：

- () 49. 文中檢方應是依下列何種法律提起訴訟？(A)專利法 (B)商標法 (C)著作權法 (D)個人資料保護法。

- () 50. 文中被檢方認定不屬於合理使用範圍的原因，最有可能是下列何者？(A)謊稱自己為電影或影集的原創者 (B)未註明電影或影集的來源與出處 (C)使用電影或影集內容的質量過高 (D)使用電影或影集片段有商業目的。