

基隆市立武崙國中 110 學年度第二學期 第二次段考 八年級社會試卷—地理科

電腦讀卡，請使用 2B 鉛筆，並依據題號在答案卡上作答，答案卡無法判斷身分者，扣總分 10 分

範圍：第三、四章

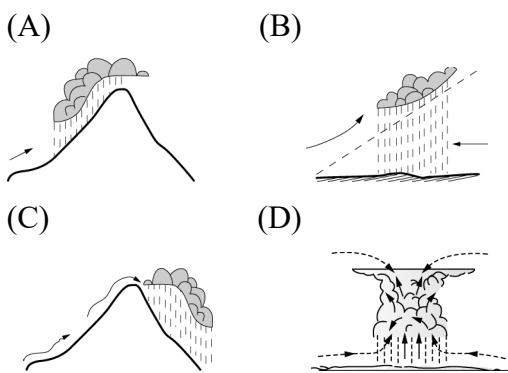
配分：每題 2 分，總分 100 分。

班級：_____ 座號：_____ 姓名：_____

一、單選題

- () 1. 南洋群島主要聯絡下列哪兩個海洋之間的交通？(A)太平洋、印度洋 (B)地中海、印度洋 (C)東海、太平洋 (D)印度洋、阿拉伯海。
- () 2. 東南亞的地形構造，自北而南依序為何？(A)半島→群島→大陸 (B)大陸→半島→群島 (C)群島→半島→大陸 (D)群島→大陸→半島。
- () 3. 若搭乘飛機由低緯向高緯穿越印度半島，請問依續可以看到的地形區為下列何者？(甲)喜馬拉雅山 (乙)印度大平原 (丙)德干高原 (A)甲→乙→丙 (B)乙→丙→甲 (C)丙→乙→甲 (D)丙→甲→乙。

- () 4. 東南亞有些國家擁有熱帶雨林氣候，終年濕熱多雨，請問該種氣候的主要降雨類型為下列何者？



- () 5. 附圖為武崙旅行團的團員在某一國家內的對話內容。團員正在旅遊的國家，主要信奉哪個宗教？(A)印度教 (B)天主教 (C)藏傳佛教 (D)伊斯蘭教。



- () 6. 東南亞地區除了受到中國與印度兩大古文明薰陶，還受到阿拉伯及歐洲文化影響，文化及宗教都很多元。關於各個地區主要的宗教信仰配對，下列何者正確？(A)中南半島—伊斯蘭教 (B)菲律賓—佛教 (C)南洋群島—天主教 (D)峇里島—印度教。

- () 7. 在美國的「印太戰略」與中國的「一帶一路」影響範圍區域中，下列哪一個地區『不是』兩國的競爭市場？(A)歐洲 (B)非洲 (C)印度 (D)東南亞。

- () 8. 根據統計，印尼的海岸線長度排名世界第二位，比俄羅斯還長，其原因最可能為下列何者？(A)峽灣海岸曲折 (B)國土面積較大 (C)島嶼數量眾多 (D)所處緯度較低。

- () 9. 「新加坡的土地面積雖然不大，但因具有某項優越的條件，加上政府政策的指導，成功地讓新加坡的煉油產業快速發展，現已成為世界第三大煉油中心。」文中所述的優越條件應是指下列何者？(A)地理位置佳且海運便利 (B)人口多且勞力充足 (C)為主要石油生產國 (D)國內重工業市場需求大。

- () 10. 東南亞大規模熱帶栽培業的經營，除了改變當地傳統的農家生活，在為經營者帶來財富之虞，也為當地農業提升了風險，請問下列何者『不是』熱帶栽培業面臨的風險？(A)易受市場價格影響 (B)機械化導致大量失業 (C)破壞熱帶環境生態 (D)作物種類過於單一。

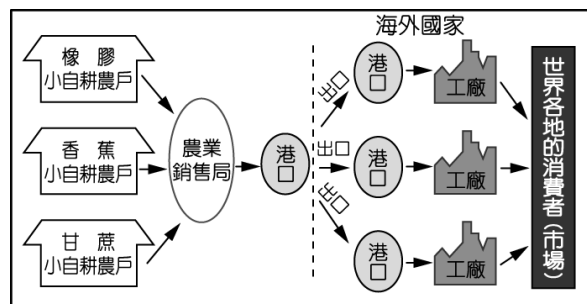
- () 11. 飄飄到曼谷旅行時，發現這裡四處可感受當地虔誠的宗教氛圍，除了金碧輝煌的寺廟之外，連到連鎖速食店都可看到附圖中麥當勞叔叔擺出不同於其他國家的姿勢。請問：曼谷當地主要的宗教為何？(A)基督教 (B)伊斯蘭教 (C)佛教 (D)印度教。



- () 12. AFTA成立目的是以會員國彼此調降關稅，達到區域內自由貿易的目標。下列哪一個國家的商品，因輸入此區會被課徵較高關稅而競爭力較低？(A)臺灣 (B)印尼 (C)越南 (D)馬來西亞。

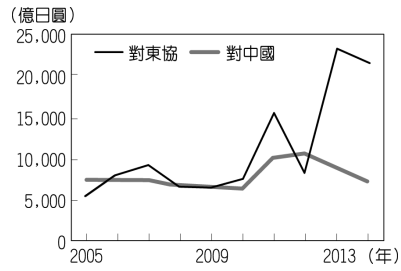
- () 13. 胡黎任職的旅行社主要經營東南亞旅遊，她發現公司的行程中都會帶遊客前往咖啡和巧克力工廠參觀，除了參觀也滿足遊客買伴手禮的慾望，請問東南亞地區種植和發展相關此類農作物的背景為何？(A)為當地原生種作物 (B)農民賺進巨大財富 (C)西方殖民者所引入 (D)與當地生態系共榮。

- () 14. 熱帶栽培業為東南亞地區重要的經濟活動，請問附圖呈現出該產業的哪一項重要特色？



- (A)商品出口外銷為主 (B)單一農場作物多元 (C)不需大量資金人力 (D)大規模機械化生產。

- () 15. 附圖為日本近年來對於東協國家和中國的投資金額統計圖，由圖中可知，日本對兩者投資金額差距擴大與下列何者關係最為密切？

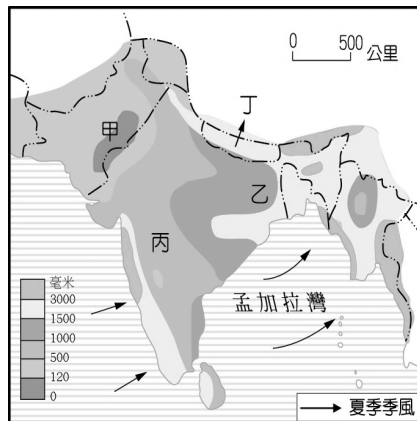


(A) 東南亞天災日益頻繁 (B) 中國實施全面開放二胎 (C) 東協的生產成本較低 (D) 東協反日意識漸趨高漲。

- () 16. 南亞與東南亞許多國家經歷過西方殖民，這些國家在獨立後，社會經濟發展大部分會出現下列哪些現象？(甲)民生富足 (乙)經濟仍以農、礦業為主 (丙)缺乏資金與技術 (丁)國內基礎建設完備。(A)甲乙 (B)甲丁 (C)乙丙 (D)乙丁。

- () 17. 印度的產業轉型特徵有跳過第二級產業，而直接從第一級產業轉變成以第三級產業為主的特徵。請問：是因為近年來網際網路發達，歐美國家將什麼類型的非核心業務，轉移到印度的關係？(A)會計、客服 (B)運輸、金融 (C)零售、批發 (D)保險、郵務。

- () 18. 右圖中的甲地附近氣候乾燥，呈現沙漠景觀，其主因是下列哪一項？



(A) 副熱帶高壓壟罩，氣流穩定不易下雨
(B) 距海遙遠，水氣無法深入內陸
(C) 四周高山環繞，阻擋水氣進入
(D) 寒流流經海岸，氣流穩定。

- () 19. 亮亮想在疫情結束的時候，進行一趟印度半島周遭的旅行，重點放在兩個國家，以下是這兩地的介紹，請推測分別是哪兩個國家？

甲：位於印度半島西南側外海，大多是屬於地勢低平的珊瑚礁島群，大多數被劃為觀光區，每年造訪的遊客眾多。但未來有可能因全球暖化造成海平面上升而消失。

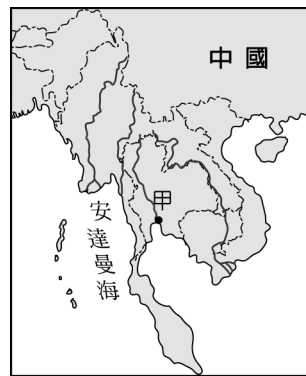
乙：位於印度半島東南方，形狀與眼淚相似，被稱為「印度洋上的一滴眼淚」。這裡是南亞少數信奉佛教為主的國家，經濟以寶石出口和農業為主，著名的錫蘭紅茶是重要出口產品，也造就此地成為世界三大產茶國之一。

(A) 甲－印度尼西亞；乙－孟加拉
(B) 甲－汶萊；乙－尼泊爾
(C) 甲：馬爾地夫，乙：斯里蘭卡
(D) 甲－巴基斯坦；乙－馬來西亞。

- () 20. 「隨著印度資訊和軟體業發展，創造了一批約占總人口 1/10 的新富階級；但還有 1/4 印度人過著沒有電力的生活，因此有人推出不用插電，價格便宜的土冰箱。」請問，上述呈現出印度何種社會現象？(A)人口過剩 (B)糧食不足 (C)貧富差異大 (D)男女平權。

- () 21. 「寶萊塢」電影產量驚人，每年產出的電影數量和售出的電影票居全球之冠，請問：該國電影產業蓬勃發展，最主要因素為何？(A)電影後製技術先進 (B)人口眾多市場廣大 (C)教育普及人民素質高 (D)地形多樣，有「活的地形教室」之稱。

- () 22. 中南半島為亞洲南部的三大半島之一，是世界上國家最多的半島。其位置如附圖所示。請問：下列有關中南半島的敘述中，何者『錯誤』？(A)地勢北高南低 (B)縱谷地形分布 (C)甲處為沖積扇 (D)河川源自中國西南部。



- () 23. 位於南亞的印度半島，冬季不明顯，相對於其他同緯度地區較為溫暖。請問：這和下列哪一個因素的關係最大？(A)高大山脈阻擋北方寒冷氣團 (B)位於來自歐亞大陸的東北季風迎風坡 (C)沿海地區暖流經過，冬不寒冷 (D)受到海上季風吹拂氣候暖溼。

- () 24. 胡迪和巴斯都是探險者，他們下一個要一起征服的目標，是南亞的德干高原。在前往該區之前，他們做了一些有關當地的功課，請問哪個『不是』他們所查到的資料？(A)兩側有東高止山、西高止山 (B)仍受板塊擠壓碰撞而成長，因此地勢較高 (C)氣候乾燥，為棉花產地 (D)地質古老，有豐富礦產。

- () 25. 「邦加羅爾」有印度矽谷之稱，請問印度發展軟體工業的有利條件主要有哪些？(甲)工資低廉 (乙)教育普及 (丙)使用英語 (丁)社會平等 (戊)與歐美時差互補 (己)對外開放政策 (A)甲乙丙己 (B)甲丙戊己 (C)乙丙丁戊 (D)丙丁戊己。

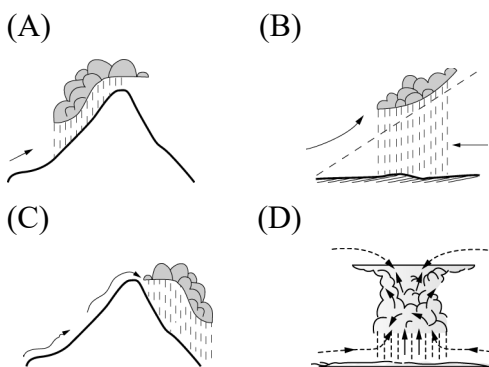
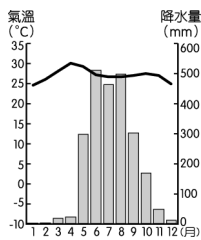
- () 26. 承上題，邦加羅爾其所在的位置 (12°N, 77°E)，可與美國舊金山(37°N, 122°W)的公司連結成一個24小時不間斷工作的地理環境優勢。請問：邦加羅爾與舊金山之間的時差有幾個小時？(A)4 (B)7 (C)10 (D)13小時。

()27. 某國早在1947年憲法頒布時，就明文規定不能以種姓歧視他人，某種程度就是廢除種姓制度，但社會上卻「名亡實存」，賤民宛如病菌，在社會中被層層隔離，他們不准踏進廟宇，只能從事基層工作，像是屠夫、喪葬、水肥等。請問上述有種姓制度的社會文化是下列哪一個國家？(A)印度 (B)尼泊爾 (C)泰國 (D)不丹。

()28. 某作物的世界前四大出口國為泰國、印尼、越南和馬來西亞。根據這些國家的自然環境特徵判斷，該作物最可能為下列何者？(A)小麥 (B)棉花 (C)蘋果 (D)橡膠。

()29. 東南亞國家在區域整合上依序出現ASEAN、AFTA、RCEP等架構，尤其近期才簽屬完畢的RCEP，連台灣都出現鼓吹政府加入的聲音，請問各國積極想加入RCEP的原因『不包含』下列何者？(A)區域貨物貿易整合，降低關稅 (B)區域服務業貿易整合，增加人才流通 (C)區域技術整合，達到技術互補及進步 (D)區域政治整合，選出唯一領導人對外發言。

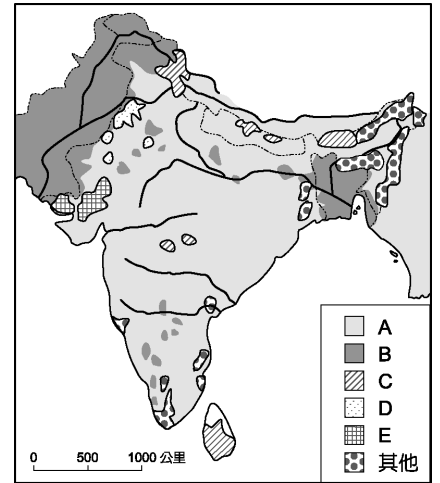
()30. 東南亞地區的氣溫陽光普照，不僅成為熱帶經濟作物的生產重鎮，也成為世界各國遊客喜愛的觀光景點。附圖為緬甸仰光的氣溫與降水量圖，請問該種氣候的主要降雨類型為下列何者？



()31. 印度的氣候分布依其特色而分為三季，其分布時間以下列何者最為正確？(A)甲 (B)乙 (C)丙 (D)丁。

	甲	乙	丙	丁
一月	涼季	涼季	涼季	涼季
二月			涼季	
三月			涼季	
四月	熱季	熱季	熱季	熱季
五月			熱季	
六月			熱季	
七月	雨季	雨季	雨季	雨季
八月			雨季	
九月			雨季	
十月	涼季	涼季	涼季	涼季
十一月			涼季	
十二月			涼季	

()32. 附圖為南亞地區的信仰分布圖。請問圖中的『B區』主要是信奉哪一種宗教？



- (A)印度教
(B)天主教
(C)伊斯蘭教
(D)大乘佛教。

()33. 東南亞位在十字路口的位址，自古以來就是不同文化接觸的地區，包含貿易、移民、殖民等等原因，使得東南亞文化相當豐富多元。請問：下列各國的特色，何者『不是』因為殖民所形成的特色？(A)印尼種植油棕樹 (B)馬來西亞信奉伊斯蘭教 (C)菲律賓料理有西班牙燉飯 (D)雅加達為港埠型都市。

()34. 印度大平原是南亞地區人口聚集的地方，印度的糧食能自給自足，對人口眾多的地區來說已經是相當了不起的成就了。請問：關於印度大平原的自然與人文特色的敘述，下列何者正確？(A)降水量由西向東遞減 (B)茶葉為重要的農產 (C)印度河是印度人的聖河 (D)巴基斯坦較適合種植小麥。

()35. 右圖是地理老師介紹某一區域型經濟組織的投影片片頭。請問：下列何者『不是』該組織的會員國？(A)東帝汶 (B)新加坡 (C)柬埔寨 (D)菲律賓。



二、題組題：

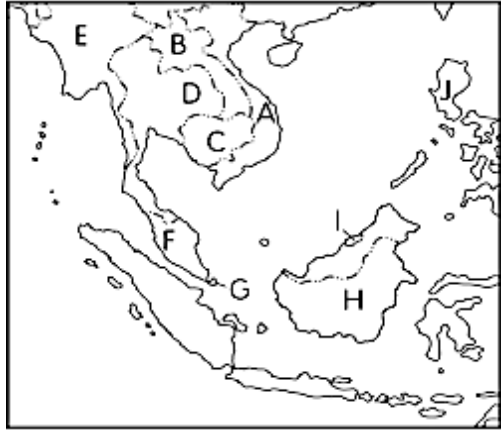
(一) 台灣政府為了與周邊國家有更廣泛的連結和合作，共創區域繁榮，提出了「新南向政策」。全方位發展與東協、南亞及紐澳等國家的關係，促進區域交流發展與合作，同時也打造臺灣經濟發展的新模式，並重新定位臺灣在亞洲發展的重要角色，創造未來價值。

()36. 下列哪一組國家的組合皆屬「新南向政策」涵蓋的國家？(A)日本、菲律賓、馬來西亞 (B)印度、中國、澳洲 (C)印尼、越南、印度 (D)越南、南韓、紐西蘭。


()37. 承上題，上述國家在台灣的新南向政策中，特別列為重要的新興潛力國。是因為這些國家具有什麼優勢？(A)網路高度普及 (B)勞力足、工資低 (C)高效率物流交通 (D)面積廣大遼闊。

()38. 請問受到歷史背景的影響，這些到東南亞投資的臺商會發現當地經濟最繁榮的都市主要位在下列何處？(A)沿海低地 (B)沖積平原 (C)鐵路樞紐 (D)海運港口。

(二) 附圖為東南亞各國的位置圖，根據下圖回答下列問題：



- () 39. 「這個東南亞國家自古以來受到中國文化的熏陶及影響，連農曆新年都一同慶祝。除此之外，該國廟宇之中也常可見到用漢字書寫的文字。」文中提到的國家位在附圖中何處？
 (A)A (B)B (C)C (D)D。
- () 40. 流傳千年的文化古蹟為人類重要的文化寶庫。圖(一)為東南亞某國家的國旗，圖中的建築(如圖(二))是該國境內著名的世界遺產。圖(一)應是附圖中哪一個國家的國旗？
 (A)B (B)C (C)E (D)F。



▲圖(一)

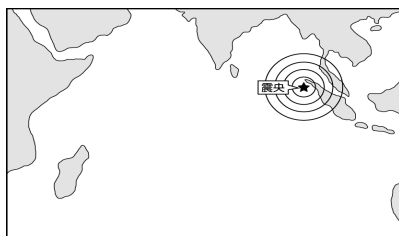


▲圖(二)

- () 41. 臺灣每年大約3~4個颱風侵襲，然而東南亞某一地區每年約有20個颱風侵襲，因其所在位置四面環海，颱風的侵襲往往對當地帶來莫大的災害。請問：該地區最有可能是附圖中何地？
 (A)A (B)J (C)F (D)I。
- () 42. 宗教對文化景觀的影響相當大，甚至形成特殊的建築風格及服飾穿著。附圖為某宗教信仰的傳統服飾與建築風格，請問：這個景象在附圖中哪一國家最為常見？
 (A)C (B)D (C)E (D)F。
- () 43. 東南亞某國家的火山景觀，是少數可供發展觀光活動的活火山，煙霧裊裊的火山口讓人們對於大自然的力量更加敬畏。依上述內容判斷，該活火山應位於附圖中哪一個國家？
 (A)E (B)G (C)H (D)I。

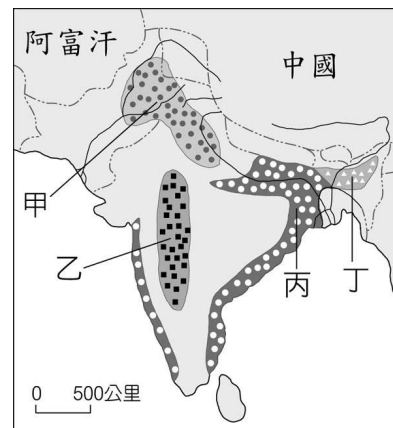


(三) 2004年年底的南亞大海嘯造成周邊國家約22萬人喪生，財物損失更高達25億美元。附圖為該次災害震央的主要位置，請問：



- () 44. 該國若欲和周邊國家進行海嘯預警系統的合作，則其觀測海域最可能為下列何者？
 (A)太平洋 (B)北極海 (C)大西洋 (D)印度洋。
- () 45. 該計畫啟動後，所建立的預警系統可在20分鐘內偵測出該海域上芮氏規模6.0以上的地震，對於周邊國家的幫助甚大。若根據其觀測海域位置判斷，其尋求合作的對象中『不包括』下列何者？ (A)斯里蘭卡 (B)印尼 (C)泰國 (D)菲律賓。
- () 46. 2004年該災害發生時，因該國當時主要盛行何種風向，使氣候舒適宜人，因此有許多觀光客前來度假，卻不幸遇到了這場災難？
 (A)東南季風 (B)東北季風 (C)西北季風 (D)西南季風。

(四) 下圖為南亞農作物分布圖，請依據作物適合生長的环境回答下列各題：



- () 47. 印度早期受到殖民母國的影響，大量種植棉花以供應殖民母國發展工業，而棉花也成為印度非常重要的經濟作物，請問附圖中何處是主要的棉花產區？ (A)甲 (B)乙 (C)丙 (D)丁。
- () 48. 附圖中甲、丙兩地的農業景觀不同，主要的影響因素為何？ (A)降水量不同 (B)緯度不同 (C)政策因素 (D)生產技術。
- () 49. 從圖中可知南亞作物分布圖中的丙區與右圖中南亞的人口分布有很大比例的類似，請問丙區最主要的農作物為下列何者？
 (A)黃麻 (B)甘蔗 (C)小麥 (D)稻米。
- () 50. 英國人愛喝紅茶，但英國本土並不產茶葉，茶的產地主要是在南亞地區，在英國殖民時期在此處種植茶葉，形成三大紅茶產地，如下圖所示，各地均有屬於自己的商標。請問：上面所附的南亞農作物分布圖中何處為南亞重要的茶葉產地？ (A)甲 (B)乙 (C)丙 (D)丁。

