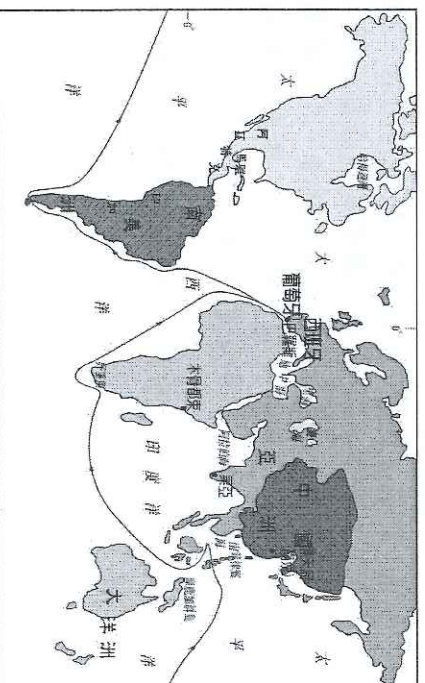
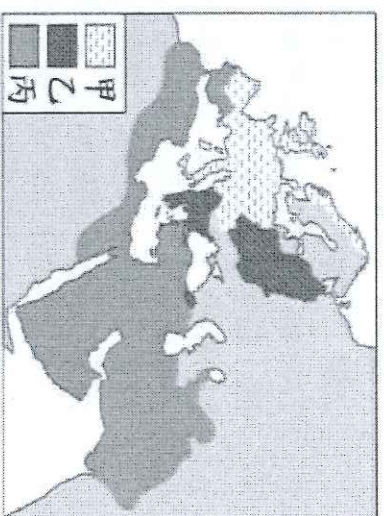


基隆市立武崙國民中學 110 學年度第一學期 第三次段考 歷史科 考試卷

9 年 班 座號： 姓名：

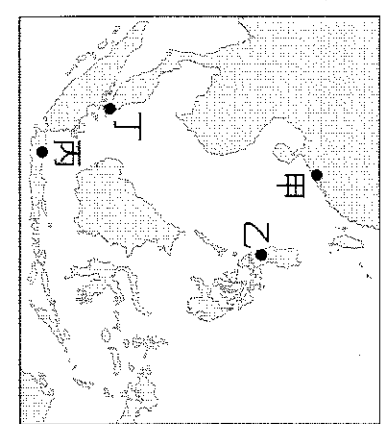
一、選擇題(1-35 題，每題 2 分，共 70 分)

- ( ) 馬丁路德所提出的《九十五條論綱》中指控教會財政處理不當，並且強調《聖經》才是基督教教義的根據或權威所在，還主張所有的信徒都是解經者和傳道者，一個人是否獲救全憑神的恩典。這份《九十五條論綱》在當時很短的時間內被傳達到德國各城鎮和其他個歐洲國家。試問，下列哪一項新技術對馬丁路德當時的歷史發展有很大的影響？  
(A)造紙術 (B)指南針 (C)火藥 (D)印刷術。
- ( ) 小柯今年的大學選修了宗教學，研究世界各國主要信仰。右圖是他上完課後所繪製的某時期三大宗教分布圖。請問：十六世紀不斷遭人批評斂財腐敗，而產生宗教改革是位在圖中哪一區？  
(A)甲區 (B)乙區 (C)丙區 (D)甲、乙、丙三區皆有。
- ( ) 小安安到高雄英國領事館參觀，看到一位外國醫生的塑像，領事館的導覽員向小安安介紹這位是馬雅各醫生，是蘇格蘭長老教會第一位駐臺宣教的傳教士，長老教會認為努力工作是榮耀上帝的一種方式。請由此判斷馬雅各是屬於哪一個教派？  
(A)耶穌會 (B)英格蘭國教派 (C)路德教派 (D)喀爾文教派。
- ( ) 「人得以在上帝面前稱義不在乎個人的功績、善功或所作的贖罪安排；反之，人唯獨藉著信心才能稱義。」以上發言屬於哪個教派？ (A)耶穌會 (B)英格蘭國教派 (C)路德教派 (D)喀爾文教派。
- ( ) 「國王為了婚姻問題與教宗多次爭執，國王希望能與元配離婚，迎娶第二任妻子……雙方的談判沒有結果，國王憤而帶領國家退出教會，另立新的教派……。」以上發言屬於哪個教派？ (A)耶穌會 (B)英格蘭國教派 (C)路德教派 (D)喀爾文教派。
- ( ) 宗教改革使得羅馬公教發起改革聲浪，西班牙教士羅耀拉因而創立耶穌會，下列何者不可能是他的主張？  
(A)重申羅馬教會的地位 (B)要求神職人員的紀律，重視神職人員的訓練與培養 (C)否定教宗的權威 (D)積極派遣教士到各地傳教
- ( ) 十六世紀時，哪一位科學家完成著作天體運行論，挑戰中古時期的「地球中心說」，強調地球如同其他星球般環繞太陽運轉。此舉等於動搖基督教會所信仰的宇宙觀，也開啟了自然科學從神學中解放的先聲？  
(A)牛頓 (B)哥白尼 (C)伽利略 (D)克卜勒。
- ( ) 十六世紀某天文學家製作望遠鏡，觀察到月球表面、太陽黑子等，並證明地球繞太陽而轉的理論，被尊為「現代科學之父」。此位天文學家是誰？ (A)哥白尼 (B)牛頓 (C)克卜勒 (D)伽利略。
- ( ) 英國倫敦皇家學會的歷史可追溯自西元 1660 年，為世界上最古老的科學研究機構之一。學會對推動科技的發展不遺餘力，牛頓、達爾文、愛因斯坦等人都曾是皇家學會的會員，獲選為該會會員，被視為崇高的榮譽。請問：英國倫敦皇家學會應成立於哪一個時期？ (A)文藝復興 (B)宗教改革 (C)啟蒙運動 (D)科學革命。
- ( ) 美國憲法之父麥迪遜曾說：「美國能將三權分立的理想落實於政治實踐中，我們都要感謝一位法國哲學家。」這位法國哲學家是何人？ (A)盧梭 (B)伏爾泰 (C)狄德羅 (D)孟德斯鳩
- ( ) 十七世紀末，某位英國思想家強調「天賦人權」的理論，認為人類生來便擁有生命、財產和自由的權力，有權反抗侵犯人民權力的君主。這個論點對之後美國獨立與法國大革命的政治發展有相當重大的影響。請問：這位思想家是下列何者？ (A)盧梭 (B)伏爾泰 (C)洛克 (D)孟德斯鳩。
- ( ) 《社會契約論》強調主權在民的觀念，政府的權力來自人民與政府間的契約。請問：《社會契約論》是由何人提出？  
(A)孟德斯鳩 (B)盧梭 (C)洛克 (D)伏爾泰。
- ( ) 十六世紀，歐洲人來到美洲，為了擴張勢力範圍，將美洲當作殖民地，展開了各種侵略，請問這段時期導致美洲原住民人口銳減的最主要原因為何？ (A)原住民和殖民者合作，攻擊敵對部落 (B)殖民者強迫原住民在農場、礦場做苦工 (C)殖民者帶來傳染病 (D)歐洲人引進非洲黑奴攻打當地原住民。
- ( ) 曉纏著暑假時到秘魯參觀古印加文化遺址。導遊說，原住民曾在此地建立輝煌的文化與帝國，但如今已不復存在。造成當地古文化消失的直接原因應是下列哪件史事？ (A)宗教戰爭的波及 (B)地理大發現的影響 (C)兩次世界大戰的迫害 (D)非洲黑人入侵的威脅。
- ( ) 番薯、玉米、辣椒、馬鈴薯等作物，現今在全世界廣泛種植，並培育出多樣化的品種，成為世界各地重要的食物，請問番薯、玉米、辣椒、馬鈴薯最早是產於什麼地方的作物？ (A)美洲 (B)歐洲 (C)非洲 (D)亞洲。
- ( ) 地理大發現後，歐洲國家從事海外拓殖活動，後來在西元 17 世紀時，哪兩個歐洲國家曾經占領過臺灣？ (A)英國、法國 (B)荷蘭、西班牙 (C)荷蘭、葡萄牙 (D)西班牙、葡萄牙。
- ( ) 自古以來，印度洋與東南亞海域上，貿易往來就十分頻繁，有許多轉口港市，形成發達的貿易網絡。請問：在十六世紀歐洲人東來前，獨霸此地區的海上貿易是哪一民族？  
(A)中國人 (B)印度人 (C)阿拉伯人 (D)馬來人。
- ( ) 右圖所顯示的航線說明下列哪一史事？  
(A)達伽馬抵達印度西岸  
(B)麥哲倫繞行世界一周  
(C)鄭和下西洋  
(D)哥倫布發現新大陸。

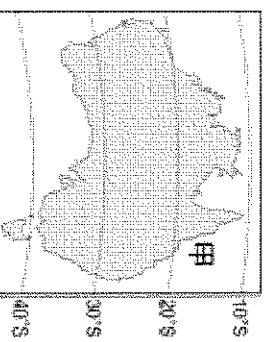




19. ( ) 關於荷蘭聯合東印度公司在亞洲的殖民統治歷史，下列何者錯誤？ (A)西元 1622 年荷蘭聯合東印度公司率軍攻打澎湖，失敗後輾轉來到台灣 (B)荷蘭聯合東印度公司將臺灣定位為轉口貿易的轉運站，開始統治臺灣 (C)荷蘭聯合東印度公司的成功，使荷蘭的阿姆斯特丹成為歐洲的貿易中心，也是世界貨物集散地 (D)荷蘭聯合東印度公司在台灣教化原住民，傳播天主教。



20. ( ) 某紀錄：「2 月 15 日發生強烈地震，漢人店舖倒塌二十多間，還有婦人及小孩被壓死，熱蘭遮城也多處龜裂。長官立刻向總部呈報，要求盡快運木材來進行修復。」文中的「總部」最可能位於右圖中何處？  
(A)甲 (B)乙 (C)丙 (D)丁



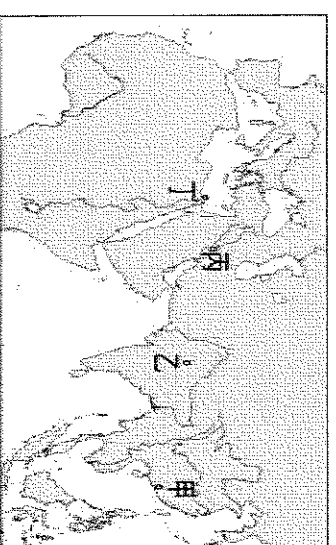
21. ( ) 1770 年，探險家庫克船長曾抵達右圖甲處，使此地原住民爾後的生活產生巨變。請問：這是哪一國家？  
(A)英國 (B)荷蘭 (C)西班牙 (D)葡萄牙



22. ( ) 小明正在做一份歷史課的報告，報告裡面的參考文獻是「巴達維亞城日記」、「熱蘭遮城日記」等檔案，請問這份歷史報告的主題最有可能是下列何者？ (A)西班牙經營亞洲貿易網絡始末 (B)荷蘭聯合東印度公司從事東方貿易之研討 (C)英屬東印度公司取得印度經營權之探討 (D)葡萄牙勇闢新航路之研究。


23. ( ) 中南美洲有許多國家與我國有邦交，外交官必須精通西班牙文或葡萄牙文等拉丁語系，才有辦法與當地官員溝通。請問：西、葡二國為南歐國家，哪個歷史事件影響中南美洲主要使用此兩國的語言？ (A)海外探險 (B)佛教傳播 (C)宗教改革 (D)文藝復興。

24. ( ) 明末清初到中國的傳教士利用科學的知識作為傳教手段，對東西文化交流貢獻很大。請問：這些傳教士多採用哪種方式傳教？  
(A)以武力脅迫居民信教 (B)與政府利益交換以換取傳教機會  
(C)結合中國文化引起中國人的注意 (D)中國人對其有好奇心，主動接觸



25. ( ) 巴拉爾某日午後，聽著祖父回憶以前國家輝煌的歷史。祖父說道：「過去我們帝國，曾出現一位偉大的君主，他的名字叫阿克巴。阿克巴在位時，逐步擴張帝國疆域，經濟一度十分繁榮。雖然我們信奉伊斯蘭教，但阿克巴平等對待帝國內不同信仰。可惜到第六任君主奧朗則布去世後，帝國勢力漸衰，最後淪為他國殖民統治。」請問：巴拉爾最有可能來自於下圖中的何處？  
(A)甲 (B)乙 (C)丙 (D)丁。

26. ( ) 歷史老師上課時提到，明萬曆 28 年中國人口約一億五千萬人，至清乾隆 55 年增至 3 億人口。針對此現象，她向同學解釋了數點原因。其一是因清朝初年的太平盛世，使得人口增長。此外，下列何項原因也是有可能提及的部分？  
(A)白銀大量的流入 (B)外來作物的傳入 (C)外國人口的移入 (D)傳教士的東來。

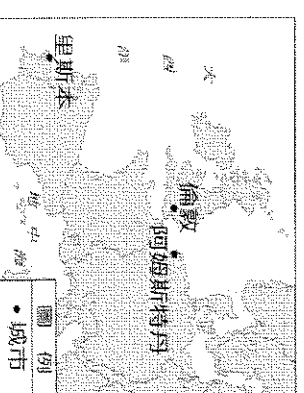


27. ( ) 歷史老師上課拿出了一張地圖(如右圖)，試問當天老師的課程內容可能是什麼？  
(A)十九世紀的日不落帝國  
(B)世界上以葡萄牙文為官方語言的地區  
(C)宗教改革後新教在美洲的勢力範圍  
(D)十六世紀西班牙的殖民地。

28. ( ) 著名的思想家馬克思曾經如此形容印度：「他們被一個又一個個人侵略者侵略，他們就在這樣一無抵抗、二無變化下的消極基礎上生活著」。請問，下列關於十五世紀後印度的發展，何者敘述錯誤？ (A)蒙古人的後裔建立蒙兀兒帝國，長期統治印度 (B)在大航海時期，西班牙首先發現到印度的航線，導致歐洲各國陸續到印度發展 (C)十七、十八世紀時，英國在印度漸漸擴張其權利，當時印度的業務由英屬東印度公司負責 (D)十九世紀時，英人驅逐蒙兀兒帝國的皇帝，結束此帝國在印度的政權。

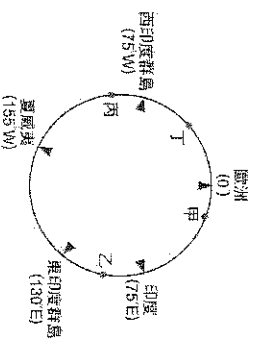
29. ( ) 澳洲原住民是眾多生活在澳洲的民族統稱，各部落有自己獨特的文化、習俗和語言，社會差異頗大，彼此間也不一定有密切的關聯或相同的起源。起初，原住民擁有兩百多種語言，現在卻只有大約一百多種原住民語言存在，且大多數屬於瀕危語種，顯示原住民文化面臨消失或被遺忘的困境。造成上述澳洲原住民困境的主要原因為何？  
(A)大量原住民被強制送往美洲充當勞動力，澳洲族群因此減少  
(B)殖民者以武力、疾病使許多原住民喪生，導致文化延續困難  
(C)英國文化水準較高，吸引原住民主動學習，並放棄傳統文化  
(D)受海外探險熱潮的影響，澳洲原住民多移往亞洲貿易、居住

30. ( ) 不管是體育界或音樂界，黑人總是占有一席之地，他們與生俱來的運動與音樂天賦，令人嘆為觀止。然而，在世界歷史中，他們的祖先曾有悲慘的遭遇。請問：這一段不幸的歷史是指下列何事？  
(A)海外拓殖中引入傳染病造成當地黑人大量死亡 (B)阿茲提克與印加帝國古文明的隕歿 (C)進入大航海時期後，西、葡徵用且奴役黑人當船員 (D)十五世紀，歐洲人為開發美洲殖民地，將非洲人販賣至美洲為黑奴。



31. ( ) 右圖為十八世紀歐洲興起的城市，這些城市的興起與下列何事的關係最為密切？  
(A)宗教改革 (B)海外探險與拓殖 (C)啟蒙運動 (D)文藝復興。

32. ( ) 15 世紀開始，許多歐洲探險家出海探尋通往亞洲的新航路。右圖是 15 世紀至 18 世紀部分歐洲探險家到達地區的示意圖，其標示方式僅依照這些地區的經度位置排列，而未考慮其緯度位置。達伽馬在 1498 年曾繞行非洲的最南端，若要在圖中呈現，應標示於何處？



- (A) 甲 (B) 乙 (C) 丙 (D) 丁

33. ( ) 右表是依某一概念所整理出的表格，若依相同概念填寫，問號處最適合代換為下列何者？

- (A) 英國——印度  
(B) 法國——果亞  
(C) 美國——孟買  
(D) 荷蘭——加爾各答

34. ( ) 下表為 16~18 世紀年黑人被販運到主要三大洲的人數統計數據。

關係	甲	乙	丙
1. ?	652	58,754	168
2. 荷蘭——印尼	4,160	645,460	847
3. 葡萄牙——澳門	4,515	4,569,975	2,658
4. 西班牙——菲律賓			

- 乙區最可能是下列哪一洲？

- (A) 美洲  
(B) 亞洲  
(C) 澳洲  
(D) 歐洲

◎請根據文章回答 35 題

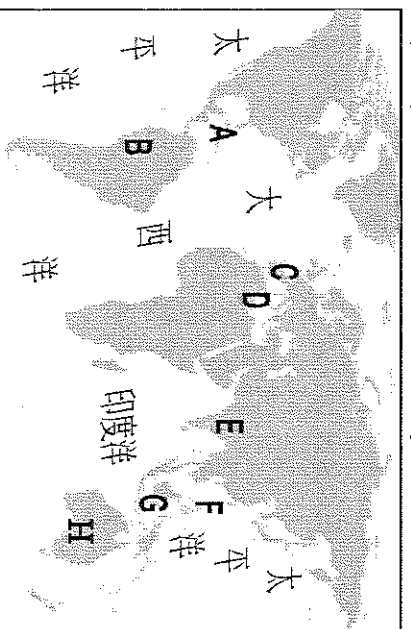
十三世紀時，《馬可波羅遊記》用神話筆法描畫出一個東方世界，聲稱中國「黃金遍地，香料盈野」，激起部分歐洲人對中國的嚮往。十五世紀後，達伽馬與哥倫布等航海家與探險家，更是把嚮往轉化為探索新航路的行動，最終開啟大航海時代。香料一直是東西貿易的重要物品之一，歐洲人將香料用於巫術儀式、淨化、醫藥等面向。這些香料從東南亞與南亞出發，經過萬水千山，無數次轉手，到歐洲已經變成媲美金銀的奢侈品。

中古後期，義大利商人壟斷歐洲的香料貿易。隨著歐洲經濟發展，歐洲人對東方奢侈品，如茶葉、瓷器和香料的需求增加，加上航海技術進步，葡萄牙人首先開闢通往東方貿易的新航路，帶來巨額利潤，因而招致歐洲其他國家的覬覦。香料所散發的不僅是誘人的香氣，還有財富的味道

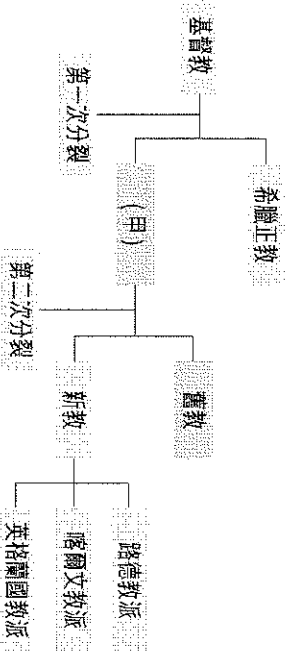
35. ( ) 請根據上文資料，分析十五世紀後，歐洲人探索新航路的原因，何者錯誤？(A) 義大利商人壟斷對歐洲的貿易 (B) 歐洲人對東方商品需求增加 (C) 航海知識與技術進步 (D) 到海外異教區宣揚上帝神意。

二、題組(36-50 題，每題 2 分，共 30 分)

◎請由下圖，來回答 36、37、38 題



36. ( ) 最早經由海上探險，來到 A 區的國家是為在圖中的哪一區域？(A) C 區 (B) D 區 (C) E 區 (D) G 區  
 37. ( ) 最早發現到 B 區的航海路線的是哪一國家？(A) 西班牙 (B) 葡萄牙 (C) 荷蘭 (D) 英國  
 38. ( ) 最早發現到 H 區的航海路線的是哪一國家？(A) 西班牙 (B) 葡萄牙 (C) 荷蘭 (D) 英國  
 ◎宗教改革使基督教誕生出眾多教派，下圖是基督教教派演變示意圖，請配合課本所學回答問題。



39. ( ) 請問：下列有關於基督教第二次分裂的改革原因，何者正確？(A) 教會內部腐敗 (B) 教士販售贖罪券 (C) 君王政治需求 (D) 以上皆是。  
 40. ( ) 圖中的「甲」教派的領袖應為下列何人？(A) 皇帝 (B) 大祭司 (C) 大主教 (D) 羅馬教宗  
 41. ( ) 關於宗教改革的描述，下列何者錯誤？(A) 傳統教會教士的權威在宗教改革後大為降低 (B) 新教俗稱天主教，舊教俗稱基督教 (C) 引發各國宗教戰爭，但最後都確立宗教信仰自由 (D) 閱讀聖經，使得識字率因而提高。

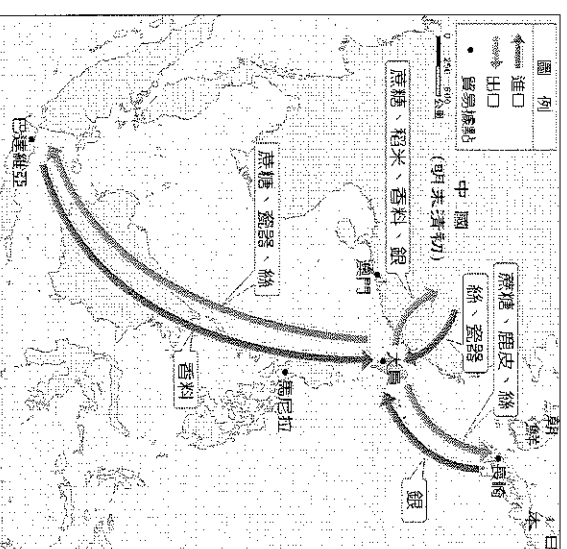
◎某天老師在上課時，拿出以下兩份資料給學生閱讀：

資料一：春秋拍賣會，是十七世紀時期，令全歐洲貿易商為之瘋狂的展會。由荷蘭東印度公司主辦，通常在阿姆斯特丹等六大商會所在地舉行。拍賣會上，除了會看到該季荷蘭商船從殖民地運回的商品，更會看到來自歐洲全境的貨物。

資料二：到了十九世紀，英屬東印度公司從中國輸出的商品，茶葉已經占百分之九十以上。大量白銀外流進入中國，占了英國國庫收入的百分之十。英國人為了平衡貿易逆差，終於想出了解決的方法：拿某一商品打入中國市場

- 42.( )在資料一中提到的春秋拍賣會，以下哪種東西可能不會出現在拍賣會場？  
 (A)印度的棉花 (B)臺灣的鹿皮 (C)摩鹿加群島的丁香 (D)婆羅洲的胡椒。
- 43.( )在資料二的内容中，英國人想出的某商品可能是何者？ (A)香料 (B)鴉片 (C)紡織品 (D)瓷器。
- 44.( )根據以上兩份資料的内容，該節課程的主題可能是何者？ (A)歐洲帝國對於殖民地的經營與管理 (B)歐洲特許公司的經營與貿易手段 (C)工業革命後世界貿易的轉型 (D)白銀如何影響世界的貿易趨勢。

◎右圖呈現出十七世紀某個歐洲國家的貿易路線。請同學根據歷史知識，依序回答以下問題。



- 45.( )請問，這個國家應該為何？ (A)英國 (B)葡萄牙 (C)法國 (D)荷蘭。
- 46.( )根據該國家在南洋地區的經營，最主要針對哪項資源？  
 (A)橡膠 (B)咖啡 (C)香料 (D)黃金。
- 47.( )這個國家在亞洲的貿易據點，分布廣泛，但以下哪一處不是他的經商區域？  
 (A)大員 (B)長崎 (C)澳門 (D)巴達維亞。

◎請閱讀下文，並回答下列題目：

啟蒙運動，又稱啟蒙時代與理性時代，指一場在17世紀及18世紀於歐洲發生的哲學及文化運動<sup>[2][3]</sup>，該運動相信理性發展知識可以解決人類存在的基本問題。啟蒙時代不同於過往以天主教神學權威為主作為知識權威與傳統教條，而是相信理性並敢於求知，認為科學和藝術的知識的理性發展可以改進人類生活。承接17世紀的科學宇宙觀及以理性尋找知識的方法，啟蒙運動相信普世原則及普世價值可以在理性的基礎上建立，對傳統存有的社會習俗和政治體制以理性方法檢驗並改進，產生出啟蒙時代包含自由與平等概念的世界觀。

人們試圖運用科學及理性的角度，去建立政治或社會制度的通則。理性的使用及力量在西方可追溯至古希臘哲學，然而在羅馬帝國混亂年代時基督教的興起，發展出的經院哲學則將理性臣服於啟發宗教精神和揭示基督教真理的工具，使中世紀的歐洲的知識及政治方面，基督教思想看似堅不可摧；然而人文主義、文藝復興、新教改革等等的對基督教思想的挑戰，產生各方面的在理性與知識的重要轉變：

雖然啟蒙哲學家各別觀點不同，但一致相信人類理性的有效性，並支持社會、經濟及政治的改革。要求宗教寬容、言論自由和思想自由的啟蒙運動及知識和實際社會的現狀形成尖銳對照，改革想法最終引發革命性的運動而這些啟蒙思想皆體現在後來的英國政治改革以及法國和美國的革命運動。

- 48.( )請問：這個運動最主要的內涵是什麼？ (A)海權時代來臨，歐洲人開始探索東方未知世界 (B)闡明基督教教義，促使歐洲人重新領會神的啟示 (C)新技術的發明與大量生產，改善人類物質生活 (D)提倡自由與理性，應用科學方法解決社會問題
- 49.( )從上文中，發現一連串的變革，進而導致啟蒙運動的產生。但哪一項和啟蒙運動的出現是無關的？  
 (A)文藝復興 (B)宗教改革 (C)科學革命 (D)美國獨立
- 50.( )文中要求宗教寬容、言論自由的思想家是何人？(A)盧梭 (B)伏爾泰 (C)狄德羅 (D)孟德斯鳩

《試題結束，請同學再詳細檢查》