

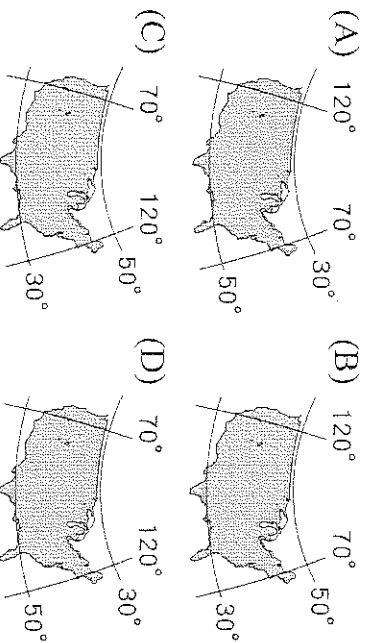
# 基隆市立武崙國民中學一一〇學年度第一學期第三次段考九年級地理科試題卷

注意事項：

1. 本份試卷為單選題，每題 2 分，共 50 題，總分 100 分。
2. 答案卡限用 2B 鉛筆畫記，若畫記錯誤，請擦拭乾淨。分數以電腦讀卡分數為準。
3. 答案卡上的資料欄請確實填寫，若資料欄畫記錯誤導致電腦無法正確判讀，扣總分 10 分。

班級：九年\_\_\_\_\_ 班座號：\_\_\_\_\_ 姓名：\_\_\_\_\_

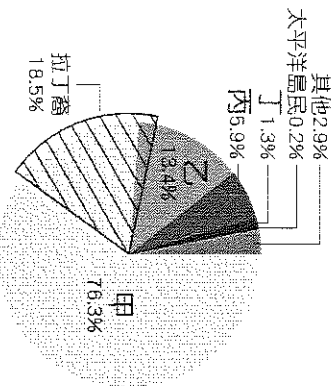
- ( ) 1. 美國面積遼闊，關於其經緯度位置標示，下列何者正確？



- ( ) 2. 若想要了解北美大平原的開發，應配合下列哪一條河川的水運發展來了解？ (A) 多瑙河 (B) 萊茵河 (C) 密西西比河 (D) 聖羅倫斯河。

- ( ) 3. 「這個國家是全世界人口最多的西班牙語國家，有許多以玉米做成的食物，在北方邊界設置的許多加工出口區，吸引以美國為首的外資投入電子、紡織和汽車等工業，所生產的汽車更是供應美國市場的第一大國。」請問：上文所述的國家應是下列哪個國家？ (A) 加拿大 (B) 墨西哥 (C) 阿根廷 (D) 巴西。

- ( ) 4. 附圖為 2019 年美國居民的種族比例構成圖。自 16 世紀開始，來自歐洲、非洲及亞洲的新移民陸續遷入，使北美洲成為多民族匯集的「新大陸」。請問：圖中占比最高的「甲」應是哪一個族群？ (A) 亞裔 (B) 非裔黑人 (C) 歐裔白人 (D) 美洲原住民。



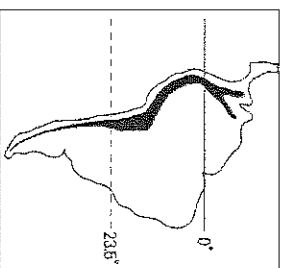
- ( ) 5. 附表為 2014 年中國、美國、印度和巴基斯坦的棉花生產與消費資料。已知棉花的消費主要用在製造紡織產品，而棉紡織工廠多設在勞力較為低廉的地方。根據表中資料判斷，何者應為美國？

國家	國內棉花生產量	國內棉花消費量
(A) 甲	713.1	751.2
(B) 乙	675.0	508.4
(C) 丙	281.1	77.3
(D) 丁	206.8	226.4

單位：萬噸

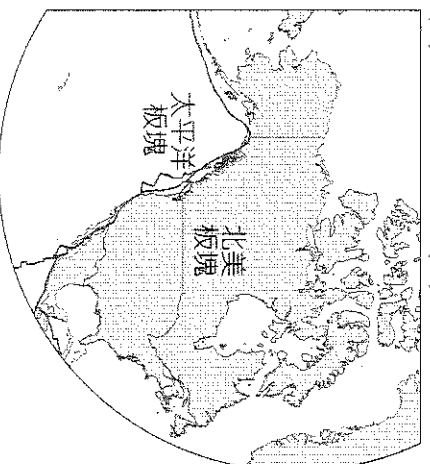
- ( ) 6. 「這個國家有著多處世界文化遺產，包括馬雅文明的都市遺址、阿茲提克帝國神廟遺跡、西班牙殖民時期重要銀礦區，和多座壯麗的天主教教堂及修道院。」此一國家最可能是下列何者？ (A) 巴西 (B) 古巴 (C) 秘魯 (D) 墨西哥。

- ( ) 7. 新一認為氣候條件惡劣的地區往往人口稀少，如過於寒冷的西伯利亞，以及太過溼熱的  。請問：  最可能是下列哪一個地區？ (A) 亞馬孫盆地 (B) 安地斯山脈 (C) 彭巴草原 (D) 巴塔哥尼亞高原。

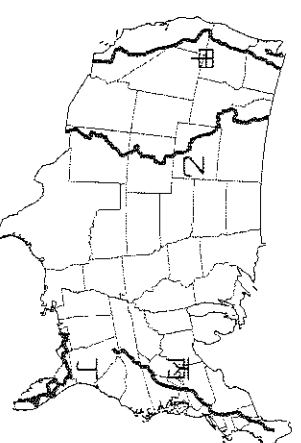


- ( ) 8. 附圖為南美洲簡圖。根據資料判斷，圖中南北延伸的色塊是指下列哪一座山脈？ (A) 洛磯山脈 (B) 安地斯山脈 (C) 阿帕拉契山脈 (D) 阿爾卑斯山脈。

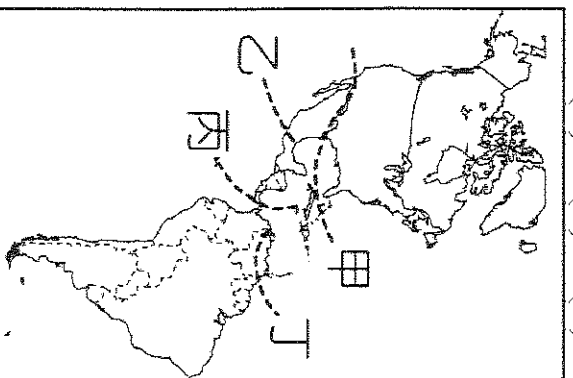
- ( ) 9. 附圖是某區板塊分布圖，圖中的板塊撞擊形成哪一座高山？ (A) 洛磯山脈 (B) 烏拉爾山 (C) 阿帕拉契山 (D) 阿爾卑斯山。



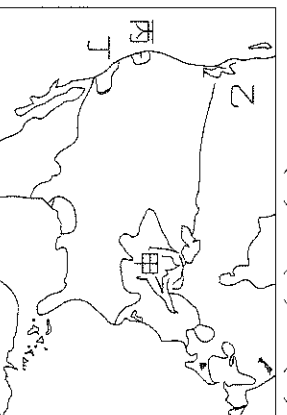
- ( ) 10. 美國極限越野跑者卡爾·梅爾策，以 45 天 22 小時 38 分的佳績打破紀錄，完成了長達 3,524 公里的阿帕拉契山脈小徑的挑戰任務。請問：上述越野路線最有可能是附圖中的哪一條？ (A) 甲 (B) 乙 (C) 丙 (D) 丁。



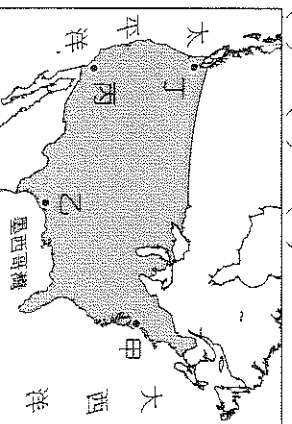
- ( ) 11. 美洲的疆域主要分界線如附圖所示，畫分盎格魯美洲和拉丁美洲的分界線主要為下列何者？(A)甲 (B)乙 (C)丙 (D)丁。



- ( ) 12. 附圖中美國哪一區因靠近原料產地，煤鐵礦產豐富、交通便利，工業發展早，是重要的工業地帶？(A)甲 (B)乙 (C)丙 (D)丁。



- ( ) 13. 華裔籃球好手林書豪於 2012 年在 NBA 紐約尼克隊因表現優異，捲起了一陣「林來瘋」後，於 2013 球季轉至休士頓火箭隊，後又被交易至洛杉磯湖人隊等。請問：上述林書豪所效力球隊的所在地，未包括附圖中何者？(A)甲 (B)乙 (C)丙 (D)丁。

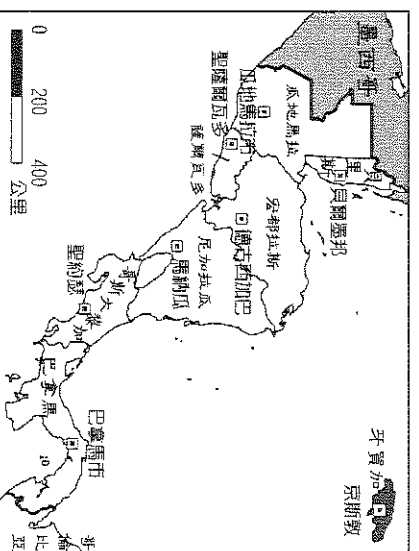


- ( ) 14. 「拉斯維加斯是著名的賭城，位居美國西南部內華達州南端的小綠洲上，西接加州的死亡谷，南接亞利桑那州的大沙漠，東接大峽谷，處於各大沙漠的中央，氣候炎熱乾燥，居民賴服務業維生。」請問：上文中的沙漠，其形成的主因為何？(A)加利福尼亞亞涼流經 (B)位居西風背風側 (C)地勢高聳 (D)拉布拉多寒流流經。

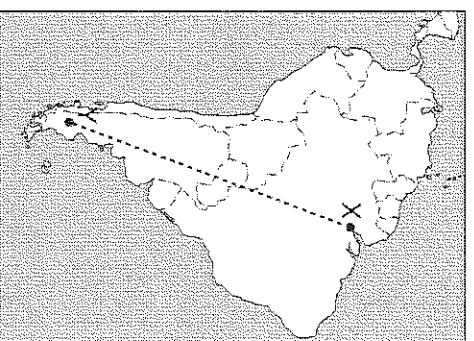
- ( ) 15. 「巴西嘉年華會在里約熱內盧登場。這場盛會是信徒在大齋節前最後幾天的縱情歡樂，成千上萬的當地民眾與觀光客蜂擁而至參與開幕活動，展開為期 5 天的盛會。」請問：該地主要的宗教信仰為何？(A)天主教 (B)伊斯蘭教 (C)東正教 (D)印度教。

- ( ) 16. 宏都拉斯昔日有「香蕉共和國」之稱，許多殖民時期建立的香蕉農場占地廣大，農場內還設有宿舍，以及專用的鐵路等設施。請問：當時宏都拉斯的香蕉產業可能有下列何種經營特徵？(A)粗放經營 (B)市場導向 (C)薪資較高 (D)技術密集。

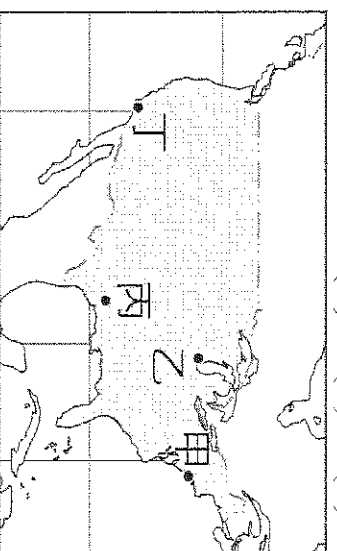
- ( ) 17. 附圖為中美洲國家分布圖，請問：東北方的牙買加位於哪一個海域上？(A)地中海 (B)波羅的海 (C)加勒比海 (D)太平洋。



- ( ) 18. 附圖為南美洲地區簡圖。由圖中 X 至 Y，最主要的變化為下列何者？(A)年均溫漸增 (B)年降水量漸多 (C)地勢漸低 (D)植被減少。

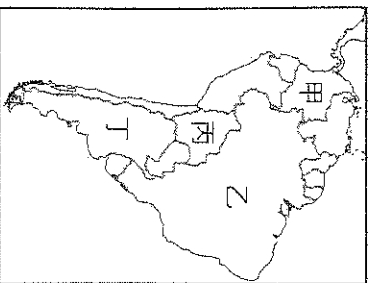


- ( ) 19. 新一利用暑假到美國遊學，出發時因颶風侵襲臺灣，使得班機延誤甚久，沒想到抵達美國時又遇到颶風影響，飛機在狂風暴雨中降落，十分驚險。請問：新一的遊學地點最可能位於附圖中的何地？(A)甲 (B)乙 (C)丙 (D)丁。

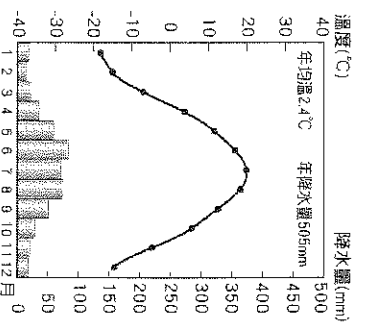


- ( ) 20. 巴西擁有豐富的自然資源與眾多的人口，對跨國企業極具吸引力，積極促進產業結構轉型，發展第二級產業。請問：下列何者是巴西產業活動的特徵？(A)已成為高科技工業的創新中心 (B)發展鋼鐵、汽車、航空等產業 (C)吸引外資在邊境設加工出口區 (D)以獨特印第安古文明發展觀光。

- ( ) 21. 這個拉丁美洲最大的國家，因農產品與鐵礦資源豐富，又擁有充裕的勞動力，近代因經濟成長快速，與俄羅斯、南非、中國和印度被經濟學者稱為「金磚五國」，可見其未來發展潛力十足。請問：上文所述的國家位於附圖的何處？(A)甲 (B)乙 (C)丙 (D)丁。



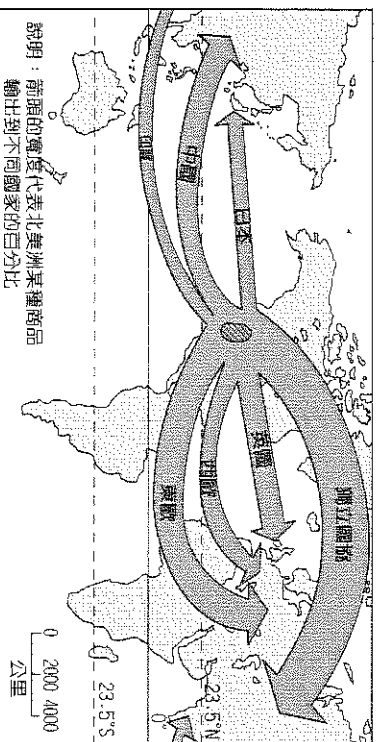
- ( ) 22. 北美大平原「北部」可見到大小不等的湖泊分布，這些湖泊的主要成因為何？(A)斷層陷落 (B)風力侵蝕 (C)冰河侵蝕 (D)河川沖積。
- ( ) 23. 附圖為北美洲某地的氣候圖。關於此氣候類型的描述，下列何者錯誤？(A)位在美國西北部沿海 (B)夏季為主要雨季 (C)冬季常有暴風雪 (D)年溫差較大。



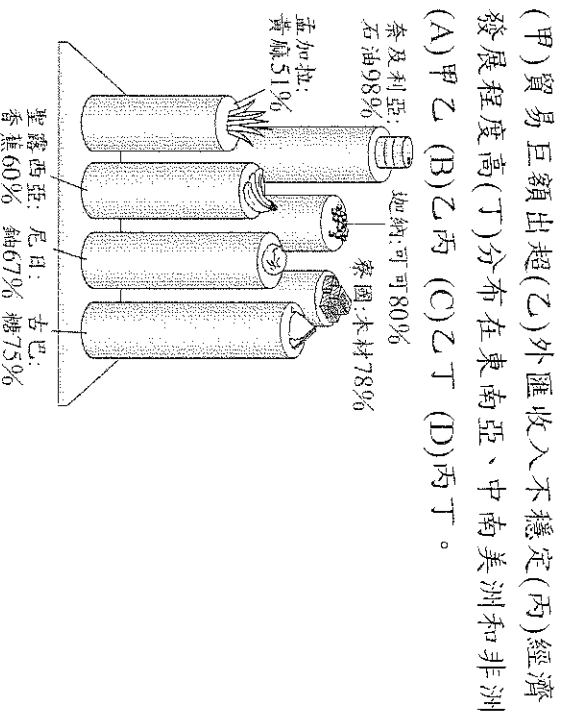
- ( ) 24. 美國農夫有「手提箱農夫」之稱，雇用工人耕作、以私人直升機代步巡視農田。上述凸顯出美國的自然環境與農業具有下列哪些特色？(A)甲乙丙 (B)甲乙戊 (C)乙丙丁 (D)乙丙戊。

- (甲)集約耕作  
(乙)商品化導向  
(丙)每人平均耕地大  
(丁)機械化的程度高  
(戊)單位面積產量大

- ( ) 25. 附圖是北美洲某種商品輸往世界各地的比例示意圖，請由圖中資料判斷，該種商品最可能是什麼？(A)煤礦 (B)汽車 (C)石油 (D)小麥。

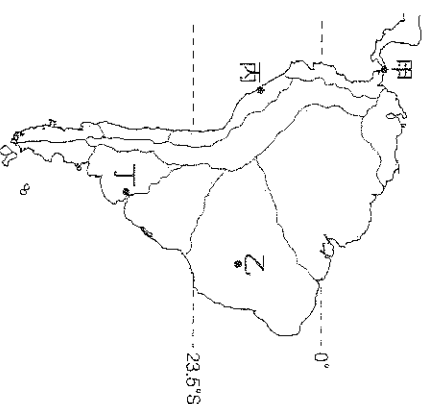
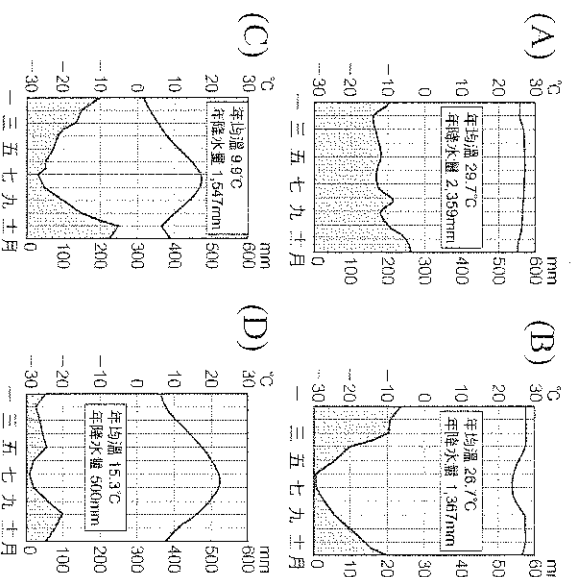


- ( ) 26. 附圖顯示某類型國家的單一產品，在某年占該國出口總額的百分比，如糖占古巴出口總額的75%。此類型的國家，最可能具有下列哪些共同的特色？



- ( ) 27. 「森巴原是一種帶有宗教儀式性的土著舞蹈。在十六~十八世紀間，葡萄牙人由安哥拉、剛果等地引進了大量土著至殖民地巴西，以取代巴西人與原住民不願做的工作，而土著們也將他們的舞蹈帶入巴西。」請問：文中的土著應是指下列哪一個族群？(A)印地安人 (B)拉丁裔白人 (C)亞裔黃種人 (D)非洲黑人。

- ( ) 28. 附圖為南美洲氣候類型分布圖，乙區的氣候圖應為下列何者？

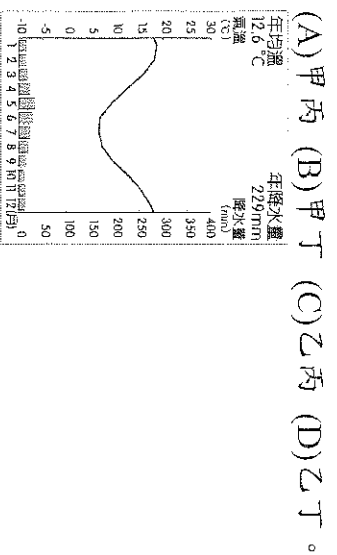


- ( ) 29. 美國在出兵至伊拉克前，為了增加軍隊的戰鬥力，欲在國內尋找相似的氣候環境加以模擬。請問：最適合作為美軍訓練的地區應為下列何處？(A)中部大平原 (B)五大湖周邊 (C)西南部的內陸 (D)密西西比河沿岸。

- ( ) 30. 下列與中南美洲的社會、經濟和都市有關的地理事實中，何者與西方殖民的關係最密切？  
 (A)發展出獨特燦爛的古文明 (B)部分國家將首都遷往內陸 (C)都市位於高地或山間盆地  
 (D)農、礦產品為主要出口商品。

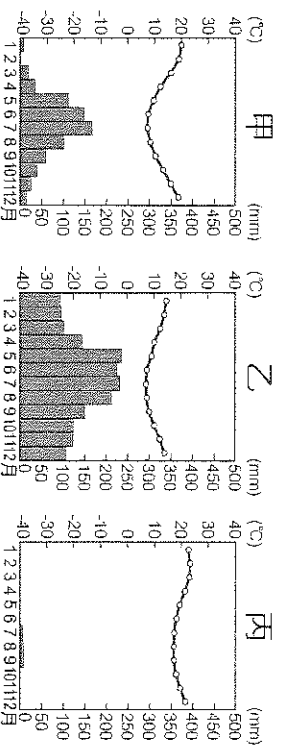
- ( ) 31. 亞太經濟合作會議(APEC)是環太平洋沿岸的21個國家，為了促進經濟合作而成立的跨國組織，臺灣、中國、日本等國都有加入。請問：就地緣位置看來，下列哪一個國家最不可能加入亞太經濟合作會議？(A)巴西 (B)秘魯 (C)智利 (D)墨西哥。

- ( ) 32. 附圖為阿根廷里瓦達維亞鎮的氣候圖，其位於巴塔哥尼亞高原，該地氣候乾燥的成因可能有：(甲)深處內陸(乙)位於背風側(丙)沿海有寒流經過(丁)受副熱帶高氣壓籠罩。正確的是哪兩項？



- (A)甲丙 (B)甲丁 (C)乙丙 (D)乙丁。

- ( ) 33. 南美洲智利國土狹長，範圍跨越南回歸線，向南延伸至南緯 50 餘度。請問其氣候類型由北向南排列依序為何？(A)甲→乙→丙 (B)乙→甲→丙 (C)甲→丙→乙 (D)丙→甲→乙。



- ( ) 34. 中南美洲沿海地區早在殖民時期，便已發展成為「港埠型都市」，如巴西里約熱內盧。請問：下列哪一個區域同樣受殖民背景影響，主要都市發展亦以「港埠型都市」為主？(A)東南亞 (B)西亞 (C)西歐 (D)東歐。

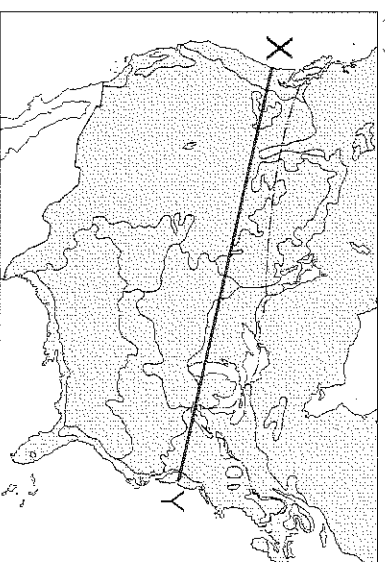
- ( ) 35. 非洲與南美洲在自然環境與歷史發展上有許多共通處，關於此兩洲的敘述，下列敘述何者錯誤？(A)皆瀕臨太平洋 (B)皆有溫帶地中海型氣候 (C)出口以農、礦原物料為主 (D)兩地皆曾淪為殖民地，發展熱帶栽培業。

- ( ) 36. USMCA 的會員國中，墨西哥因工資低廉、關稅減免等優惠條件，吸引其他會員國大量資金投入生產。請問：下列哪一個國家在其所屬的經濟組織內，扮演和墨西哥類似的角色？  
 (A)日本—APEC (B)新加坡—ASEAN  
 (C)捷克—EU (D)科威特—OPEC。

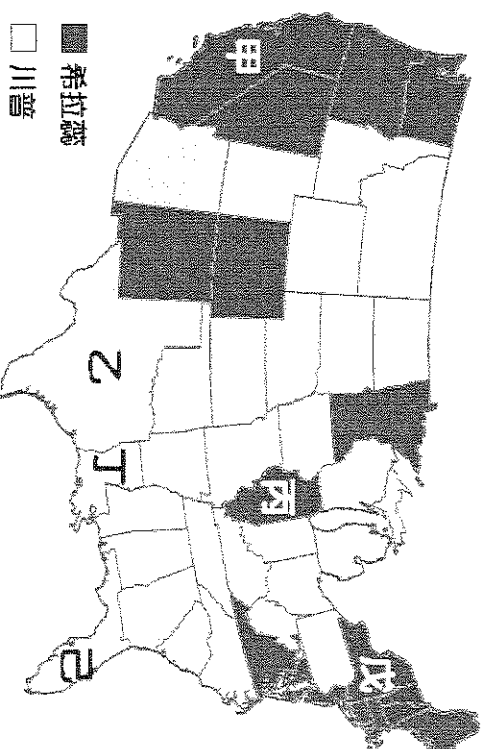
- ( ) 37. 根據聯合國的資料顯示，拉丁美洲境內某四個國家的產業結構特色如附表所示。請問：表中哪一個國家最可能是墨西哥？

國家	(A)	(B)	(C)	(D)
主要產業	航運	香蕉、蔗糖	咖啡、鋼鐵	汽車、電子產品

- ( ) 38. 美國境內疆域廣闊，地形多變，造成氣候差異相當大。附圖中 X 至 Y 一線所經地區，沿途不會經過下列何種氣候類型？(A)溫帶大陸性氣候 (B)溫帶地中海型氣候 (C)高地氣候 (D)溫帶海洋性氣候。



- ※附圖為第 58 屆美國本土的總統大選結果地圖，深、淺兩色分別代表兩位候選人希拉蕊與川普票數領先的州。甲~己為美國各州代號。這些州在自然與人文環境上各具特色。請問：



- ( ) 39. 甲州的自然環境具有下列何項特色？(A)屬低山區，地質古老，蘊藏豐富礦產 (B)為平原區，常有暴風雪侵襲 (C)為山地區，火山、地震頻繁 (D)屬高原區，有加那利涼流流經。

- ( ) 40. 乙、丁、己皆是川普票數較多的州，此三州常見下列哪一項天氣災害？(A)乾旱 (B)颶風 (C)焚風 (D)暴風雪。

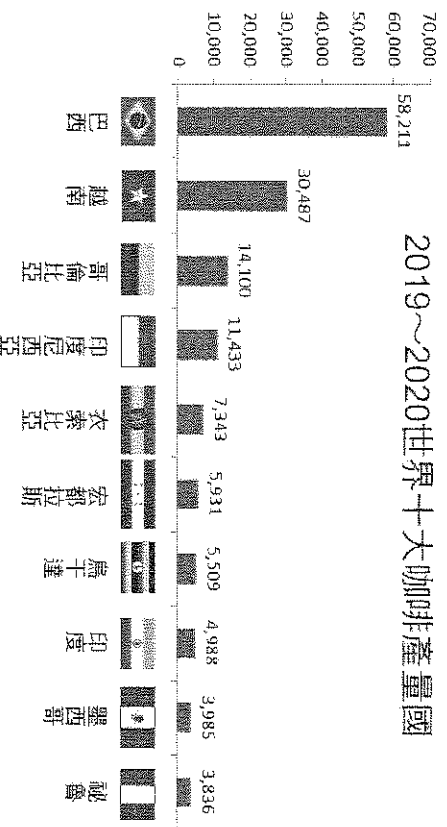
- ( ) 41. 丙、戊雖皆是希拉蕊票數領先的州，卻分屬不同的農作帶。下列關於丙、戊與其農作帶的配對，何者正確？(A)丙：小麥帶、戊：畜牧帶 (B)丙：棉花帶、戊：酪農帶 (C)丙：棉花帶、戊：畜牧帶 (D)丙：玉米帶、戊：酪農帶。

※附表為西元 2018 年各國都市化程度比較表。請回答下列問題：

國家	都市人口比例(%)
烏拉圭	95
阿根廷	92
委內瑞拉	88
智利	88
巴西	87
英國	83
美國	82


- ( ) 42. 表中位於南美洲的國家有幾個？(A)3 個 (B)4 個 (C)5 個 (D)6 個。
- ( ) 43. 中南美洲都市人口比例偏高的主要因素為下列何者？(A)國家經濟發達 (B)政府鼓勵移民 (C)鄉村十分貧困 (D)都市國宅數量多。
- ( ) 44. 中南美洲貧富差距懸殊，區域發展失衡嚴重。表中哪一個國家，曾利用遷都的方式，將首都自東南沿海遷移至內陸高原上，以促進內陸開發，期望縮小區域差距？(A)巴西 (B)智利 (C)阿根廷 (D)委內瑞拉。

2019~2020世界十大咖啡產量國



- ( ) 45. 這些咖啡產地的國家主要分布在什麼氣候帶？(A)熱帶 (B)副熱帶 (C)溫帶 (B)寒帶。
- ( ) 46. 若想去附圖中世界咖啡產量第一名的國家旅遊，會講哪種語言較能暢行無阻？(A)法語 (B)葡萄牙語 (C)德語 (D)西班牙語。
- ( ) 47. 「桑坦德產區」是哥倫比亞北部著名的咖啡產區，種植海拔約在 1,400~1,600 公尺，該產區的咖啡豆以強烈的味道，悠久的回味和獨特的草木清新風味著稱。根據上述，此產區最有可能位在中南美洲的哪個地形區？(A)亞馬孫盆地 (B)墨西哥高原 (C)彭巴草原 (D)安地斯山脈。

※附圖是某地作物分布示意圖，由圖可見作物依高度不同呈現垂直分布。請問：



- ( ) 48. 這是哪一座山脈的作物分布圖？(A)洛磯山脈 (B)安地斯山脈 (C)阿帕契山脈 (D)阿爾卑斯山。
- ( ) 49. 下列何者是此區重要的糧食作物？(A)稻米 (B)咖啡 (C)玉米 (D)甘蔗。
- ( ) 50. 下列哪一種動物較高大，為此區重要的獸獸？(A)駱駝 (B)犛牛 (C)馬騾 (D)駱馬。

【試題到此結束，請再檢查一次！】