

基隆市立武崙國民中學一一〇學年度第一學期第三次段考公民科試題

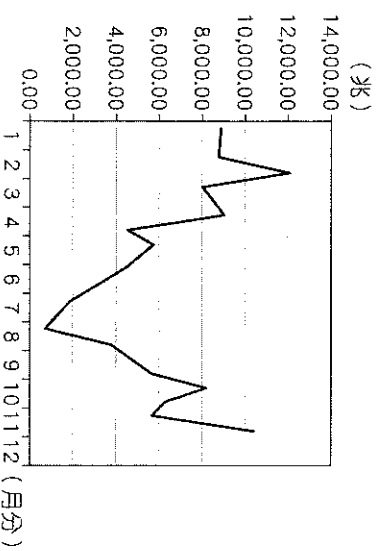
班級：九年

班座號：

姓名：

一、選擇題：(每題2.5分)

- () 1. 小茹看了一部連續劇，文中主角穿越在古代與現代的時空中，劇中下列情境，何者是採用「商品貨幣」進行交易？ (A)用羊換馬 (B)用白銀換豬 (C)用硬幣買水 (D)用紙鈔買衣服。
- () 2. 現代社會中的「資訊」不只是一種訊息，更可能具有經濟價值或涉及他人名譽、隱私，因此人民開始要求政府應以制度對於這類資訊的流通與使用加以規範。上述訴求旨在達成下列哪項目的？ (A)推廣全民終身學習 (B)提高國民平均所得 (C)強化社會團體功能 (D)保障個人基本權利。
- () 3. 行政院公布振興五倍券的發放方案，111年04月30日前，全國不分男女老少、不分貧富，每人都可以獲得5000元的振興五倍券，用於購買各種零售商品，或是用於餐飲旅遊消費。下列有關五倍券的敘述，何者有誤？ (A)發放五倍券可以刺激景氣回升 (B)發放五倍券可以提高人民的購買力 (C)發放五倍券會使政府的負債增加 (D)發放五倍券會使政府的稅收減少。
- () 4. 媒體報導英格蘭的學校教師開始測試配戴隨身攝影機上課，並在必要時儲存學生偏差行為的攝影當作證據，一方面向家長舉證，一方面捍衛教師權益，超過三分之一受訪教師認為，隨身配戴攝影機上課很好，但反對的老師則感覺被監視侵犯師生權利。上述爭議與下列何項議題有關？ (A)社會福利的不足 (B)科技與隱私的衝突 (C)權利救濟的重要性 (D)全球化下的資訊傳播。
- () 5. 世界各國普遍使用「紙鈔」作為通行的貨幣，主要原因有 (甲)紙鈔本身具有高價值 (乙)紙鈔可以簽帳使用 (丙)政府透過法令強制其具有價值 (丁)紙鈔方便攜帶 (A)甲乙 (B)乙丙 (C)丙丁 (D)甲丁。
- () 6. 歐洲國家通常規定基因改造食品必須明確標示，否則將受到懲罰。這是因為下列何項原因？ (A)基因改造食品明確危害人類健康 (B)基因改造食品有安全疑慮，要讓消費者有知的權利 (C)基因改造食品價值較低，應公平交易 (D)基因改造食品口味較差，應事先告知。
- () 7. 聯合國之前表決通過一項決議，要求各國政府禁止各種形式的複製人研究，包括人類幹細胞的技術。聯合國要求各國立法禁止複製人研究，主要是基於何種原因？ (A)複製實驗失敗率高 (B)複製人將難以控制 (C)複製人將破壞生命倫理 (D)可能造成人口過度膨脹。
- () 8. 閱聽人是指讀者、聽眾與觀眾的總稱，下列何者可以稱得上是「閱聽人」？ (A)在大賣場買菜的陳媽媽 (B)正在上網學英文的甄聰明 (C)正在餐廳工作的林英華 (D)正在計算今天營收的李老闆。
- () 9. 我國通行的貨幣是「新台幣」，下列與「新台幣」相關的敘述哪一項正確？ (A)由台灣銀行印製發行 (B)屬於「商品貨幣」的一種 (C)發行量受到聯合國的管控 (D)其價值的高低在於它所能購買商品的數量而定。
- () 10. 某科技用品廣告詞說：「科技始終來自於人性」，獲得許多人的認同。科學的應用的確帶給人們許多便利，但下列何者明顯違反倫理道德？ (A)複製人體器官並將之商品化 (B)利用人工生殖技術孕育試管嬰兒 (C)研究複製技術發展基因醫學 (D)利用骨髓移植技術治療白血病患者。
- () 11. 華裔美籍籃球好手林書豪在美國NBA的比賽，國內傳播媒體經常給予詳盡報導。請問：下列何者並非傳播媒體？ (A)蘋果日報 (B)三立電視台 (C)中央廣播電台 (D)基隆市政府新聞處。
- () 12. 幾個朋友正在討論一起刑事案件的犯罪嫌疑人，下列何人的發言較具有資訊倫理的觀念？ (A)小芳：我覺得他也是共謀，我查出他以前就讀的學校，已經發表在網路社團了 (B)小星：我建議公布他的聯絡方式，因為做壞事的人都應該受到處罰，接受公共輿論的撻伐 (C)小吉：他尚未被判定有罪，而且我認為公開他的基本資料，會侵犯個人的隱私權 (D)小韻：網友已查出她爸爸上班的地點，我們一起去替受害者討回公道吧。
- () 13. 右圖為大大國今年各個月分法定貨幣發行數量的統計圖。請問：大大國可能發生下列何種狀況？ (A)貨幣升值 (B)物價不穩 (C)經濟穩定 (D)所得增加。
- () 14. 新冠肺炎席捲全球，各國紛紛祭出嚴格的手段，封城、禁足、邊境管制，也同時衝擊各國經濟。幸虧有多國已研發出疫苗予以預防，希望能降低感染率與重症的病例。請問：這是屬於下列何種科技？ (A)資訊科技 (B)數位科技 (C)生物科技 (D)環保科技。
- () 15. 歐盟是歐洲的跨國官方聯盟，許多歐洲國家都是其成員國，但有少數國家並未使用歐盟的貨幣——歐元，試問「歐元」屬於何種貨幣？ (A)法定貨幣 (B)商品貨幣 (C)塑膠貨幣 (D)電子貨幣。



() 16. 因應日圓匯率的變動，一些日式品牌業者將在 2022 年初的商品價格上作了調整，例如：日本進口台灣的餅乾調降 8%、抹茶飲品也調降 5%。由上述業者的作法可知日圓出現下列何種變化？(A)貶值 (B)升值 (C)無法判斷 (D)沒有變動。

() 17. 隨著網路設備與智慧型手機的普及，各種訊息的流通速度與數量已超乎我們想像，但在訊息傳遞過程中，閱聽人卻常未對其真偽加以過濾，反而間接成為散播謠言的幫兇。上述內容提醒我們應重視下列何項議題？
(A)傳播媒體的自由 (B)資訊科技的革新 (C)個人隱私的保障 (D)資訊倫理的建立。

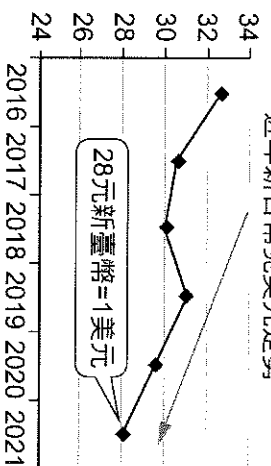
() 18. 表(十五)是甲、乙兩國匯率變動的情形，以吸引乙國遊客為主的甲國觀光業者，看到此變化後感到很憂心。根據表中內容判斷，若甲國的物價水準維持不變，下列何者最可能是上述業者的憂慮？ (A)甲國觀光業者經營成本提高 (B)乙國人的平均薪資所得減少 (C)甲國觀光業者數量大幅增加 (D)乙國人到甲國旅遊意願下降。

表(十五)

時間	1 甲幣可兌換的乙幣
去年	10
今年	20


() 19. 面對當今科技的快速發展，人類社會應如何因應科技發展所帶來的問題與衝擊，以引導科技發生正面的良善效果？ (A)禁止科技使用，落實法令規範 (B)結合各項領域，共同解決問題 (C)進行科技管理，限制科技發展 (D)透過立法規範，解決所有問題。

() 20. 根據右圖新臺幣對美元的走勢判斷，下列有關其影響的敘述，何者正確？
(A)新臺幣貶值表現弱勢 (B)出國留學者可省學費 (C)進口品的價格會調漲 (D)對我國外銷業者有利。



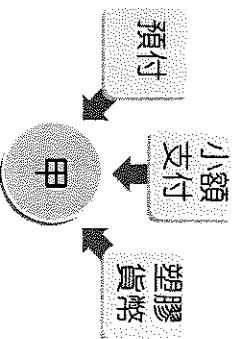
() 21. 「元代即將滅亡的時候，政府為籌措龐大的軍費，大量印發紙幣因應，導致紙幣濫發無度，……。」上述政府作為所導致的經濟問題，若在今日持續發生，社會上最可能出現下列何種現象？ (A)人民所擁有的貨幣不斷地增加，生活水準日益提升 (B)受預期心理影響，民眾會減少當時的消費支出 (C)同一面額紙幣所能購買的商品數量將會愈來愈多 (D)市場上大部分商品的出售價格將會愈來愈高。

() 22. 右圖的對話內容，凸顯出資訊科技發揮的何種效果？ (A)政府資訊公開，可落實人民參政權 (B)網路犯罪盛行，政府規範個人資料的管理 (C)打破國與國之間的界線，促進人際互動 (D)政府網站公開資訊，讓民眾得以保障自身權益。



() 23. 美美每個月在銀行戶頭中存入 10000 元作為留學基金。預計存滿一百萬後將啟程赴英國留學進修，請問：這是屬於貨幣的哪一功能？ (A)價值儲存 (B)交易媒介 (C)價值衡量 (D)清償債務。

() 24. 國強課後複習公民課文內容，自行繪製如右圖的關鍵字重點整理。請問：圖中「甲」處應填入下列何者？ (A)貨幣的演變 (B)儲值卡的特性 (C)法定貨幣的功能 (D)貨幣和儲值卡的差異。




() 25. 阿穆：「2010 年前後，中東及北非出現數起反對政府的抗議活動，該地區有些國家的人民如曉後也紛紛響應，一夕間使得幾個掌權長達數十年的政權，突然都面臨了民主的考驗。」小格：「這波革命風潮的種子之所以如此迅速地散播，應該是受到新的大眾傳播工具影響吧！」上述二人的對話內容，最可能是強調下列何者的重要性？ (A)科技發展加快訊息傳遞的速度 (B)政黨輪替落實民主政治的精神 (C)工業革命帶動生產技術的轉變 (D)運輸工具縮短旅行各國的路程

() 26. 由於科技的進步與發展，政府運用科技讓人民參與公共事務，行政院國家發展委員會設置何種平臺，讓國中生也可以表達自己的意見？ (A)紓困振興專線 (B)消費者保護專線 (C)公共政策網路參與平臺 (D)1999 市民專線。

() 27. 近年來由於網路通訊軟體發達，大量訊息在手機的聯繫群組間快速流傳。圖(八)是小芳家庭群組裡的對話，根據右圖中內容判斷，在網路科技發達的時代，下列何者更應受到重視？ (A)媒體識讀的素養 (B)醫療技術的提升 (C)資訊科技的設備 (D)生命倫理的推廣。

() 28. 秀娟收到大賣場寄來的特賣會的商品目錄，上面都標示了商品的原價與特價的價格，這是顯示出貨幣的何種功能？ (A)交易媒介 (B)價值衡量 (C)價值儲存 (D)債務清償。



- () 29. 隨著交易方式多元，民眾使用「信用卡」來進行交易已經是普遍現象。下列有關信用卡的敘述，何者正確？
 (A)使用信用卡償還債務時，對方不得拒絕 (B)信用卡必須先存入消費金額才可以擁有交易額度 (C)信用卡是屬於「先消費，後付款」，延期支付的特性 (D)信用卡使用日趨頻繁可以成為貨幣的一種。
- () 30. 建男：「昨天偶像劇中男主角用的手機好炫喔！我也想要有一支相同的手機。」老師：「很多節目中出現的產品都是由廠商贊助，希望透過戲劇達到行銷的目的，因此，作為閱聽人應注意戲劇節目的引導效果。」根據上述對話內容判斷，下列何者最可能是老師所強調的觀念？ (A)認識自我實現的意義 (B)分辨不實廣告的資訊 (C)解讀媒體隱含的價值 (D)了解大眾文化的發展。
- () 31. 住在美國的艾丸經常出國旅遊，他蒐集了4個國家貨幣兌換美金的匯率變化，如附表所示。請問：若現在以同樣數量的美金去兌換這4個國家的貨幣，哪一個國家所換到的貨幣將比去年多？ (A)甲國 (B)乙國 (C)丙國 (D)丁國。
- | 年度 | 去年 | 今年 |
|---------|-------|-------|
| 甲國貨幣：美金 | 242：1 | 262：1 |
| 乙國貨幣：美金 | 30：1 | 29：1 |
| 丙國貨幣：美金 | 9：1 | 7：1 |
| 丁國貨幣：美金 | 130：1 | 99：1 |
- () 32. 重大天災人禍發生時，傳播媒體通常會立即報導，例如：2016年10月，日本九州的阿蘇山火山爆發，電視及網路隨時插播即時新聞。上述情形主要在發揮傳播媒體的哪項功能？
 (A)提供訊息 (B)休閒娛樂 (C)教育文化 (D)監督政府。
- () 33. 新聞報導：「每年四月到六月是報稅的季節，報稅的義務人應該要小心詐騙集團的陷阱，不應該隨便將個人資料公開……。」上述的新聞內容說明資訊科技的何項缺點？ (A)資訊公開將造成個人隱私的隱憂 (B)資訊氾濫造成內容真偽難辨 (C)青少年成為新興社會問題 (D)志願結社影響國家安全。

- () 34. 有研究指出長期食用基因改造食品，可能導致不孕。因此，廠商在包裝印上如附圖的QRcode，只要用手機掃描，就能看見完整的生產履歷，讓消費者安心採購。這說明民眾的生活與下列何者密切相關？ (A)全球化 (B)科技發展 (C)國際貿易 (D)智慧財產權。



- () 35. 小浩在政府網頁上看到我國政府發行的鈔票上特別設計了「水印」及「窗式安全線」等特徵，可用來分辨真假鈔。請問：我國的貨幣必須由政府負責發行的原因為下列何者？ (A)民間缺乏發行設備

.....該公司為提高銷售量，將網路
 上未經查證的消息直接刊登於雜誌
 上，並大肆渲染，使雜誌銷售量
 大增。事後證實根本沒有這回事，
 然而此舉不但混淆社會視聽，也造
 成當事人極大的困擾。

- (B)政府籌措建設經費 (C)因應國際貿易需要 (D)可穩定貨幣價值。
- () 36. 右列報導是某報紙刊載的部分內容，據此判斷，其最可能在探討下列何者之間的關係？ (A)行銷策略與降低成本 (B)科技運用與創造利潤 (C)經營自由與市場價格 (D)商業利益與社會責任。
- () 37. 有關生物科技的發展與其造成的影響，下列敘述何者正確？ (A)就醫學而言，目前的生物技術並無太大的進步 (B)就環境而言，科學家藉由生物技術大量培養微生物，對大自然帶來許多傷害 (C)以農業而言，透過基因改造技術，可以生產抗蟲害、耐乾旱、高營養價值的農作物 (D)目前基因改造食品對人體食用或環境生態已證實是無害的。
- () 38. 右表是老師在課堂上講述的重點，依此判斷，老師所講述的主題為下列何種概念？
 (A)信用卡 (B)儲值卡 (C)行動支付 (D)法定貨幣。

1. 是電子商務
2. 因科技發達而出現
3. 需使用智慧手機載具
4. 非法定貨幣

二、題組：(每題 2.5 分)

1. 強森經營一家國際貿易公司，附表是公司進出口商品的品項。現在美金：新臺幣的匯率為 1：33。請問：

- () 39. 假使美金：新臺幣的匯率變為 1：32，則強森應該如何調整業務？ (A)增加手機零件業務 (B)減少汽車用品業務 (C)增加嬰兒玩具業務 (D)增加電腦螢幕業務。

進口	出口
汽車用品	自行車用品
維他命	電腦螢幕
嬰兒玩具	手機零件

- () 40. 上個月美金：新臺幣的匯率為 1：34，強森出口手機零件每件定價美金 10 元，共出口 100 件。若現在出口同樣商品和件數，下列敘述何者正確？ (A)君仁比上個月多賺新臺幣 1,000 元 (B)君仁比上個月少賺新臺幣 1,000 元 (C)君仁比上個月多賺美金 1,000 元 (D)君仁比上個月多賺新臺幣 10,000 元。