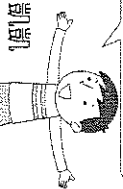



基隆市立武崙國中 110 學年度第一學期第二次段考七年級社會試卷歷史科

一、單選題：(每題 2.5 分，共 85 分)

- 1.() 「有一個歷史人物是臺南赤崁一帶移墾漢人的領袖，由於漢人難以承擔荷蘭聯合東印度公司的苛徵重稅，於是在 1652 年發動對荷蘭人的反抗。」請問：這段文字應該是在敘述何人？ (A)鄭成功 (B)郭懷一 (C)顏思齊 (D)鄭芝龍。
- 2.() 荷蘭人占領臺灣後，為提高農業生產力，招募來臺耕種的對象多為下列何者？ (A)菲律賓人 (B)荷蘭人 (C)漢人 (D)日本人。
- 3.() 大雄研究 1640~1653 年「荷人在臺財務收支表」後發現，荷蘭聯合東印度公司在臺灣賺取了極大的利潤。請問：他們主要是將臺灣哪些商品外銷以賺取利潤？ (A)茶葉、樟腦、蔗糖 (B)黃金、香蕉、蔗糖 (C)鹿皮、稻米、蔗糖 (D)豌豆、番茄、釋迦。
- 4.() 有關荷蘭人與西班牙人殖民統治臺灣的情形，下列何者敘述正確？(甲)前者占領臺灣南部，後者占領臺灣北部；(乙)兩者均致力於傳教工作；(丙)兩者均致力於土地的拓墾，使農產量大增；(丁)前者終被後者逐出臺灣 (A)甲乙 (B)乙丙 (C)甲丁 (D)丙丁。
- 5.() 西班牙人占據臺灣北部雞籠、淡水等地，主要的目的是傳教與貿易。請問：西班牙人傳播的是哪一種宗教？ (A)基督教 (B)天主教 (C)佛教 (D)伊斯蘭教。
- 6.() 16 世紀中葉的臺灣，有一群人被認為是凱達格蘭族支系的原住民，他們除了語言能力好，並擅長漁獵、操舟和外人接觸頻繁。請問：上文中提到的原住民，應該是下列何者？ (A)泰雅族 (B)馬賽人 (C)噶瑪蘭族 (D)賽夏族。
- 7.() 臺灣最早建立的基督教教堂，應是由下列哪一國人所建造？ (A)英國人 (B)葡萄牙人 (C)西班牙人 (D)荷蘭人。
- 8.() 靜香在古物市場中買到一份古文書，她請教歷史老師，發現這是一份荷治時期漢人與原住民買賣土地時簽訂的雙語契約。請問：此契約中的雙語，應該是指哪兩種語言？ (A)漢文、新港文 (B)漢文、荷蘭文 (C)荷蘭文、新港文 (D)新港文、羅馬文。
- 9.() 外來政權入侵時，一定會對原有族群造成衝擊。班上同學對 17 世紀的臺灣原住民做了一番整理。請問：附圖中何者的資料需要修改？

當時有些原住民部落選擇和外人政權合作，藉以提升自己的地位。



郭懷一事件時，原住民袖手旁觀，並未介入。

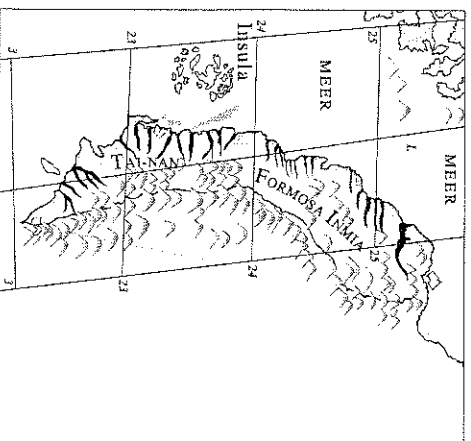
有些原住民部落一直抗拒外來政權統治，像是麻豆社。

當政權轉換時，原本歸順的原住民部落也會趁機反叛。

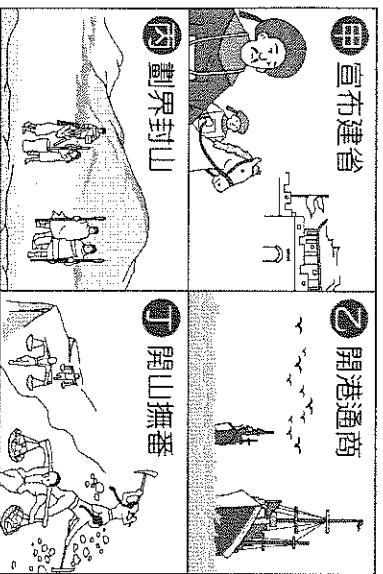
- 10.() 下文描寫某一時期臺灣統治當局治理原住民的情景：「地方會議在赤崁舉辦，……長官開始對大會致詞，翻譯人員則將長官的話口譯成新港社的原住民語……。接著，長官任命各社長老、授予權杖，並關切官方修建的教堂和學校的事務、村落繳付的年貢等。」文中的「長官」最可能是由下列何者所指派？ (A)英國領事館 (B)西班牙王國 (C)臺灣省行政長官公署 (D)荷蘭聯合東印度公司。
- 11.() 新聞報導：2016 年 7 月 28 日「還原正義連線」成員破壞鄭成功銅像基座，訴求政府須將《原住民族轉型正義條例草案》列入優先審查，並向原住民道歉。帶領此次行動的成員認為，鄭成功雖然被譽為民族英雄，但實際上並未善待原住民。請問：新聞中的成員主張鄭成功須向原住民道歉，是基於下列何種理由？ (A)實施軍屯制度，增加糧食產量 (B)來臺漢人增加並積極拓墾土地 (C)給予和政權合作的原住民族武器與藥材援助 (D)對原住民族進行強烈的軍事鎮壓。

- 12.() 「大肚王國奇遇記」歌舞劇 2017 年在大肚國小首演。劇中主角穿越時空回到 400 年前，被巴布拉族人發現，繼而和他們一起冒險，抵禦荷蘭人的不合理要求，最後為了解救部

- 墾時所設立，依據當時的時代背景推斷，此碑所表示的意義何在？ (A)高山族與平埔族的界線，以避免兩者發生衝突 (B)作為漢人、原住民界線，以保障漢人開墾權利 (C)作為漢人、原住民界線，以避免漢、原衝突 (D)規範原住民的行政區畫分，方便管理。
- 22.() 附圖是清康熙年間由西洋傳教士繪製的臺灣地圖。此圖只繪製臺灣西半部，反映出當時清廷治臺的何種政策？



- (A)禁絕漢人渡臺，防止臺灣成為反清基地 (B)施行劃界封山，禁止漢人入侵原住民區 (C)開港通商，設定西半部為對外貿易據點 (D)加強建設西半部，使該地成為海防重鎮。
- 23.() 臺灣為移民社會，早期由於政治、軍紀不良及社會不安，時常會出現武力的衝突，若以清帝國時期「朱一貴事件」和「林爽文事件」為例，他們的衝突是屬於下列何種性質？ (A)官逼民反 (B)軍人叛變 (C)宗教衝突 (D)地方械鬥。
- 24.() 清廷經營臺灣，由南而北、由西而東，陸續設置地方行政單位。根據這個發展的次序，下列哪一個行政區是最晚設立的？ (A)淡水廳 (B)彰化縣 (C)諸羅縣 (D)噶瑪蘭廳。
- 25.() 清帝國末年中國的藩屬紛紛喪失，其中琉球是被哪一個國家所併吞？ (A)法國 (B)美國 (C)英國 (D)日本。
- 26.() 小夫利用假期到屏東遊玩，他在車城鄉的石門古戰場看到「澄清海宇還我河山」的石碑，導源解釋說石碑是為了紀念在清帝國晚期對抗日軍攻擊而死傷的原住民。請問：石碑與下列哪一件歷史事件有關？ (A)牡丹社事件 (B)朱一貴事件 (C)戴潮春事件 (D)英法聯軍之役。
- 27.() 日軍犯臺促使清廷重視臺灣，當時是誰強調：「臺地向稱饒沃，久為他族所垂涎，……臺灣海外孤懸，七省以為門戶。」，故在牡丹社事件時，被派為欽差大臣，來臺積極建設？ (A)劉銘傳 (B)鄭經 (C)沈葆楨 (D)施琅。
- 28.() 多拉 A 夢參加八通關古道的健行活動，聽到嚮導解說八通關古道為沈葆楨時所開鑿的通往後山的道路。請問：其開鑿此道路的目的為何？ (A)促進經濟繁榮 (B)實施開山撫番政策 (C)防止反清事件 (D)防範盜匪。
- 29.() 沈葆楨推動「開山撫番」的政策，主要是為了建設臺灣後山。請問：「後山」指的是臺灣何處？ (A)北部 (B)南部 (C)東部 (D)中部。
- 30.() 小惠到圖書館看到四本與臺灣歷史有關的書籍。請問：若她要找清帝國時期牡丹社事件的相關史料，她應該閱讀下列哪一本書？ (A)《熱蘭遮城史蹟故事》 (B)《臺灣鐵路開發史》 (C)《夕陽下的億載金城》 (D)《德記洋行在臺灣》。
- 31.() 附圖的四張卡片分別代表清朝曾對臺灣採取的統治措施，若依這些措施最早在臺施行的時間先後順序排列，下列何者正確？



- (A)甲→丁→乙→丙 (B)乙→甲→丙→丁 (C)丙→乙→丁→甲 (D)丁→丙→甲→乙。
32. () 小光在書上看見一段描述：「1884年4月，外國軍艦駛向基隆，清廷相當重視此事，派劉銘傳來臺督辦軍務。8月外軍開始攻擊，雙方開戰……10月又分兵攻打淡水，彼此交戰不休……此後清廷更加注意臺灣的地位。」這應是描寫下列哪一場戰爭？ (A)英法聯軍之役 (B)清法戰爭 (C)甲午戰爭 (D)八國聯軍。
33. () 由沈葆楨、劉銘傳等人來臺建設的重點項目，反映出當時清廷治臺最主要的目的為何？ (A)墾殖移民增多，加強行政管理 (B)提倡新式工業，增加賦稅收入 (C)增強海防建設，鞏固東南海疆 (D)推動儒學教育，落實文化建設。
34. () 清帝國末年，朝廷為了越南問題與某國家爆發激烈戰鬥，戰火延燒至基隆、淡水、澎湖等地，此場戰爭對臺灣的主要影響為何？ (A)簽約割讓，臺灣成為殖民地 (B)興建億載金城，強化臺灣防衛 (C)增設噶瑪蘭廳，拓墾臺灣東部 (D)改建為省，提升臺灣行政層級。

二、題組：(每個答案 2.5 分，共 15 分)

1. 臺灣在 17 世紀時有一個原住民部落聯盟，其勢力範圍主要在今日的臺中市、彰化縣和南投縣的一部分。當荷蘭人統治臺灣時，雙方爆發衝突，最後該組織妥協接受荷蘭人統治，因而失去獨立地位。到鄭氏時期，遭到鄭軍強力鎮壓，該組織逐漸式微，至 18 世紀已消失瓦解。請問：

- () (35) 上文中提到的聯盟，其共主應該是下列何者？ (A)大肚王 (B)大甲王 (C)大里王 (D)大溪王。

() (36) 該聯盟共主若接受荷蘭人統治，會在何種場合公開獲得權杖以象徵權威與榮耀？ (A)教會禮拜 (B)荷蘭商館 (C)地方會議 (D)部落祭典。

2. 請閱讀下列二段史料，並回答問題：

史料一：四月六日，……附近的頭日們都來歡迎我們的到來，如新善、開港等里，王爺下令準備豐富的宴會款待他們，並賜頭日們官服官帽。之後其他較遠的村落頭日也都來歸順我們，原住民部落皆臣服於王爺的統治之下，表明不再信仰紅毛番的宗教。

史料二：南部原住民面對新政權時，皆毫不反抗服從國姓爺。把基督教義視為無物。當我國長官欲懲罰原住民時，他們竟表達當前全無保護我國人民之意，均表示願意臣服國姓爺，不再歸順我國政權。我推測此轉變肇因於我國統治後期對原住民部落管制及稅料日益嚴苛。

- () (37) 史料一與史料二，撰寫人的立場相同嗎？ (A)不相同，彼此是競爭關係 (B)不相同，彼此毫無關聯 (C)相同，彼此是合作關係 (D)相同，彼此是同一個政權。
- () (38) 史料一與史料二中所提到的「國姓爺」、「王爺」指的是哪一位人物？ (A)沈有容 (B)顏思齊 (C)鄭成功 (D)鄭芝龍。
- () (39) 史料一中的「紅毛番」指的是誰？ (A)鄭氏 (B)荷蘭 (C)清帝國 (D)西班牙。
- () (40) 史料二中的「原住民」，依據地緣關係判斷應為哪一族群？ (A)賽德克族 (B)噶瑪蘭族 (C)凱達格蘭族 (D)西拉雅族。