

基隆市立武崙國中 110 學年度第一學期 第二次段考 八年級社會科試卷——歷史科


電腦讀卡，請使用 2B 鉛筆，並依據題號在答案卡上作答，答案卡無法判斷身分者，扣總分 10 分

範圍：第三冊 L.3-4-1 本試卷共 45 題 共 4 面

班級：_____ 座號：_____ 姓名：_____

***單選題 (第 1~35 題，每題 2 分；第 36~45 題，每題 3 分)**

1. 宋元時期，曾經有一群商人控制印度洋至中國東南沿海的海上貿易網，他們大部分都信奉同一個宗教，請問：這些商人的身分大多應是下列何者？ (A)佛教徒 (B)蒙古人 (C)基督徒 (D)穆斯林
2. 彰化縣福興鄉福寶地區的「粘厝庄」95%都姓粘，粘姓在台灣並不多見，百家姓也找不到，追溯原來他們是女真族完顏阿骨打的後代子孫，據傳這支粘姓女真族原先住在中國東北吉林附近，逐步向河南、山東、福建遷徙，最後抵達臺灣。女真族在過去曾有輝煌的歷史，請問：他們曾建立了以下哪一個國家？ (A)蒙古國 (B)遼國 (C)金國 (D)新羅
3. 「當時私營工廠首推印書廠，由於士人準備應考科舉，考試用書汗牛充棟，也因應題型的變化，印刷廠效率很高，有的竟以月刊的形式出現。印刷及造紙業在此時皆很發達，有些書店還自營造紙工廠。」這種因科舉需要，印刷工廠蓬勃發展的盛況最呈出現於何時？ (A)南北朝時期 (B)隋唐時期 (C)宋元時期 (D)明清時期
4. 13 世紀時，有位歐洲人馬可波羅口述自己在東方的經歷與見聞，完成《馬可波羅遊記》一書。根據遊記所述，馬可波羅到中國經商，受到某個皇帝的重用，留居中國 17 年。而當時首都築有通往各地的道路，每隔一段距離，就設置招待所……。請問：上文中的「某個皇帝」應是以下何者？ (A)唐太宗 (B)元世祖 (C)明太祖 (D)宋真宗
5. **承上題**，上文中的首都是指現今哪個城市？ (A)北京 (B)杭州 (C)泉州 (D)廣州
6. 15 世紀初，中國曾經有一位官員，率領龐大中國艦隊出使「西洋」，最遠曾抵達非洲東岸，使中國的聲名遠播。請問，以上敘述的官員是為何人？ (A)朱元璋 (B)鐵木真 (C)岳飛 (D)鄭和
7. **承上題**，上文中提到的「西洋」應包含今日哪些地區？ (A)美洲、非洲一帶 (B)歐洲、大西洋一帶 (C)澳洲、大洋洲一帶 (D)東南亞、印度洋一帶
8. 吟臻在《中國工業發展史》中，看到**右圖**的介紹，此項武器普遍用於軍事上最早是在哪一朝代？ (A)漢 (B)唐 (C)宋 (D)元
9. 喬茵在歸納歷史段考重點，她將北宋與南宋的史事作一比較，下列她寫的內容，何者**正確**？ (A)均受到來自北方外族的威脅 (B)均亡於蒙古 (C)均重武輕文 (D)均有遭到契丹族的侵略
10. 禹睿在歸納歷史段考重點，他發現宋朝和元朝在中國歷史發展上有許多共同的特徵，請問：下列何者**正確**？ (A)均任用穆斯林管理國家經濟 (B)均以歲幣來換取與北方民族和平共處 (C)均因為受到人民反抗而滅亡 (D)均設有市舶司管理海上貿易
11. 歷史老師正在解釋中國古代的某一項制度：「這個制度的特色，在於外國須臣服中國，受中國的冊封，並由中國賜予印璽，確認中國為宗主國的地位。外國使者之後方可向中國進貢，並進行官方監督下的貿易。」請問，老師所提到的，是中國古代哪一項制度？ (A)封建制度 (B)郡縣制度 (C)朝貢制度 (D)市舶司制度
12. **承上題**，這項制度，主要是在哪一朝代確立？ (A)宋代 (B)元代 (C)明代 (D)清代
13. 「這座天文臺是 13 世紀是東亞重要的天文學研究中心之一，天文臺中的學者，使用的語言不是漢語，而是波斯語或者阿拉伯語。天文臺內不僅有完備的天文觀測儀器裝備，還藏有一百多部波斯文的數學、天文學、地理學、機械學、鍊金術等方面的著作。」請判斷引文中的王朝，最有可能是以下何者？ (A)唐 (B)宋 (C)遼 (D)元
14. 有一本書其內容分為《大學》、《中庸》、《論語》以及《孟子》，是南宋學者所做，並且在後來成為科舉考試定本，影響深遠。請問：該書成為考試定本最呈應發生在何時？ (A)唐代 (B)宋代 (C)元代 (D)明代



震天雷
身粗口小，內盛火藥，外殼以生鐵包裹，使用時根據目標遠近決定引線長短。引線後能將生鐵外殼炸成碎片，是手榴彈的前身。

背面尚有試題

15. 如果我們想了解理學家朱熹的事蹟，以下哪一本書應該有較為完整的介紹呢？ (A)兩宋的學術思想 (B)明清的文史發展 (C)宋元的科技成就 (D)中國工業史

16. 中國火藥的傳入歐洲主要與下列哪件史事有關？ (A)澶淵之盟 (B)流寇之亂 (C)蒙古西征 (D)朝貢貿易

17. 13世紀時，有著阿拉伯血統的巴夏爾，來到元代的中國生活了一段時間，留下一些生活紀錄。下列何者應是他的紀錄中會有的記述？ (A)陸路貿易多險阻，我只能由海路來中國進行貿易 (B)到了中國，我可以使用當地的寶鈔進行買賣 (C)在中國沒有清真寺可以讓我去做禮拜 (D)做生意需要各地奔波，還好有市舶司，讓我有可以落腳休息的地方

18. **承上題**，巴夏爾在元帝國時期應該會被歸類在哪一階級呢？ (A)蒙古人 (B)色目人 (C)漢人 (D)南人

19. 忽必烈曾把闊闢真公主和親遠嫁，這位公主歷經兩年多才抵達遠嫁之地—西亞，然而，抵達目的地後，卻發現本來要與她結婚的君主竟已去世，讓她感到相當無助。請問：闊闢真公主應是遠嫁到哪個蒙古汗國呢？

(A)欽察汗國 (B)伊兒汗國 (C)察合臺汗國 (D)窩闊臺汗國

20. 歷代因北方外族入侵而導致國家滅亡的朝代有哪些？

(A)西周、秦、元 (B)秦、南宋、元 (C)北宋、南宋、明 (D)東漢、唐、南宋

21. (甲)匈奴(乙)契丹(丙)蒙古(丁)女真(戊)突厥，以上均是曾威脅中國歷朝國安的草原民族。請問：上述曾統一中國的朝代有哪些？ (A)甲戊 (B)乙丁 (C)丁戊 (D)丙丁

22. 心甯在歸納歷史段考重點並整理中國歷史各朝代開國君主，下列組合何者有誤？

(A)秦—嬴政 (B)宋—趙匡胤 (C)元—鐵木真 (D)明—朱元璋

23. 某個朝代籠絡蒙古、控制西藏、征服新疆，初步奠定今日中國的版圖，請問：此應是哪一個朝代？

(A)宋朝 (B)元朝 (C)明朝 (D)清朝

24. 南京別稱金陵、建業、建康，是長江下游和長三角城市群重要城市，也是中國東部的政治、經濟、文化中心，歷史上也有不少朝代定都於此。請問：下列哪一個朝代曾定都於南京？ (A)宋朝 (B)元朝 (C)明朝 (D)清朝

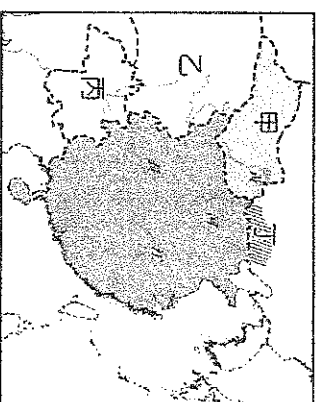
25. 耶律德光在位期間，統一部族，並獲得燕雲十六州，對長城以內的農業部族造成極大的威脅。請問：耶律德光應該是下列哪一個部族的領袖？ (A)契丹族 (B)女真族 (C)蒙古族 (D)高麗族

26. **承上題**，燕雲十六州位於圖中的何處？ (A)甲 (B)乙 (C)丙 (D)丁

27. 宋代國勢積弱不振，對邊疆民族的侵擾通常以歲幣來換取屈辱的和平，首開此種先例的是以下哪一位帝王？ (A)宋太祖 (B)宋真宗 (C)宋高宗 (D)宋神宗

28. 明末發生大規模的災民與饑兵到處劫掠的事件，是明帝國因而滅亡的原因之一。

請問，此亂事為何？ (A)流寇之亂 (B)蒙古南下 (C)清兵攻佔國都 (D)靖康之禍



29. 蒙古滅金花了 24 年，消滅南宋卻用了 50 年，請問：蒙古在哪位大汗在位時征服南宋？

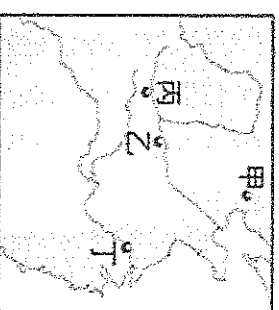
(A)鐵木真 (B)察合臺 (C)窩闢臺 (D)忽必烈

30. 宋代採取聯金滅遼政策，而金卻在滅遼後繼續南下攻陷宋朝首都，之後宋宗室迫不得已南遷重建政權，請問：南遷後建立的新首都位於今日何處？ (A)珠江流域 (B)黃河流域 (C)長江流域 (D)四川盆地

31. 蒙古建大元後，考量某地有「幽州之地，左環滄海，右擁太行，北枕屈庸，南襟河濟」的地理位置優勢，於是定都於此處，請問：大元定都於圖中何地？

(A)甲 (B)乙 (C)丙 (D)丁

32. 元朝統治中國近 90 年，直到 14 世紀中葉才被漢人勢力北伐攻陷，結束在中國的統治。請問：蒙古勢力退出中國後，與明朝的關係為何？ (A)互不往來 (B)和親通婚 (C)互相征伐 (D)歲幣求和



33. **右圖**為「中國朝代演進圖」的一部分。請問：甲、乙各為哪個朝代？

(A)元代、明代 (B)明代、清代 (C)南北朝、唐代 (D)五代十國、元代



34. 鐵木真與他的繼任者們發動三次西征，橫掃世界各地。請問：不包括下列何地？
 (A)中亞 (B)西亞 (C)日本 (D)東歐
35. 承上題，鐵木真被各部族首領尊稱為何？ (A)天可汗 (B)成吉思汗 (C)主上 (D)皇帝

題組

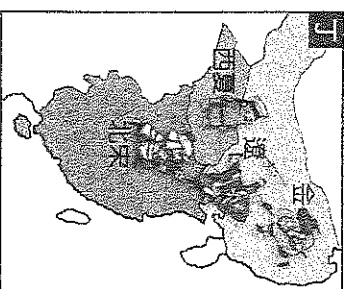
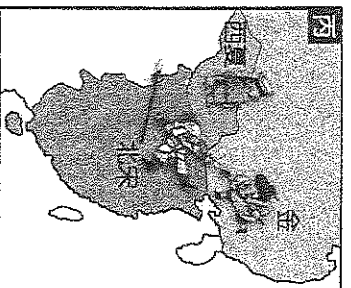
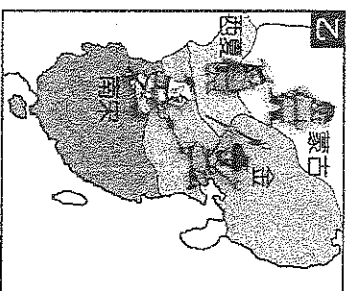
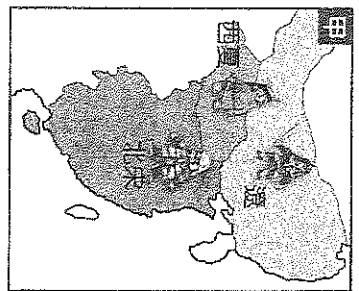
(一)請閱讀以下文章，回答第 36~37 題

「怒髮衝冠，憑欄處、瀟瀟雨歇。抬望眼，仰天長嘯，壯懷激烈。三十功名塵與土，八千里路雲和月。莫等閒、白了少年頭，空悲切。靖康恥，猶未雪。臣子恨，何時滅！駕長車，踏破賀蘭山缺。壯志飢餐胡虜肉，笑談渴飲匈奴血。待從頭、收拾舊山河，朝天闕。」上述是岳飛留下的詞——《滿江紅》。請問：

36. 這首詞中所提到的胡虜、匈奴，應該是指下列哪一個國家？
 (A)金國 (B)遼國 (C)西夏 (D)大理國
37. 這首詞中所提到的「靖康恥，猶未雪。臣子恨，何時滅！」所指的史事使得哪一朝代滅亡呢？
 (A)明 (B)北宋 (C)南宋 (D)元

(二)請閱讀以下文章，回答第 38~40 題

歷史老師在講解宋、遼、西夏、金對立形勢演變歷史時，貼了四幅地圖（如附圖）在黑板上



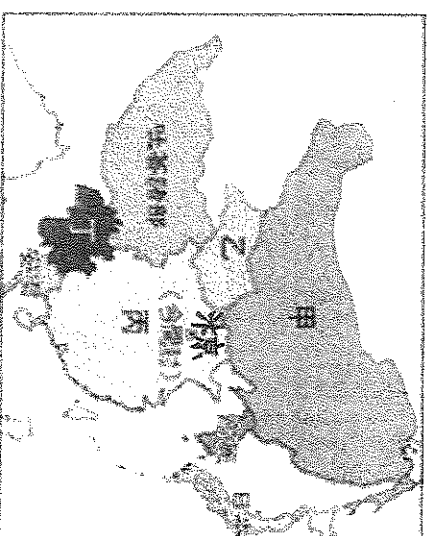
38. 歷史老師請同學上臺將地圖依時間順序排列。正確的順序應為何？
 (A)甲乙丙丁 (B)甲丁丙乙 (C)乙丁甲丙 (D)丙甲丁乙
39. 鐵木真所處的時代應是在哪一地圖時期呢？
 (A)甲 (B)乙 (C)丙 (D)丁
40. 宋真宗時，遼國舉兵南下，真宗率軍親征，此一歷史事件應是在地圖哪一時期呢？
 (A)甲 (B)乙 (C)丙 (D)丁

背面尚有試題

(三)請閱讀以下文章，回答第41~42題

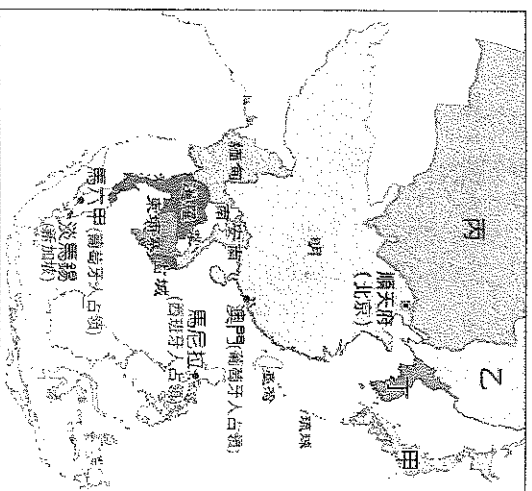
右圖是11世紀東亞地區的形勢圖，請問：

41. 下列哪一場關鍵史事奠定了當時國家疆界的基礎？
(A)蒙古西征 (B)澶淵之盟 (C)聯金滅遼 (D)聯蒙滅金
42. 甲、乙、丙、丁四國中，亡於金國的國家是下列何者？
(A)甲、乙 (B)甲、丙 (C)乙、丙 (D)乙、丁



(四)請閱讀以下文章，回答第43~45題

附圖是16世紀東亞形勢圖，請問：



43. 朱元璋推翻某個政權、擊敗群雄建立明朝。請問：這個政權離開中國後，退到圖中哪個區域？
(A)甲 (B)乙 (C)丙 (D)丁
44. 這個政權意圖建立以自身為中心的東亞新秩序，十六世紀末力圖向海外擴張，兩度入侵朝鮮，結果都因明朝出兵援助，使得其勢力無法進入朝鮮半島。請問：此政權位於圖中的何處？
(A)甲 (B)乙 (C)丙 (D)丁
45. 受中國文化影響的東亞文化圈，除了日本、安南兩國之外，尚有一個國家，請問：這個國家位於圖中哪一個區域？
(A)甲 (B)乙 (C)丙 (D)丁。

作答完畢，請再三檢查