

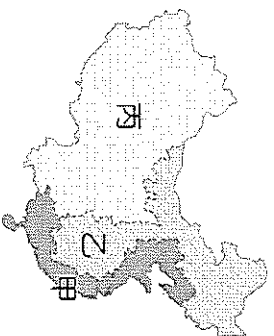
基隆市立武崙國民中學 110 學年度第一學期第二次段考八年級地理科試題卷

1. 單選題，每題 2 分，共 50 題，總分 100 分。
2. 答案卡請使用 2B 鉛筆畫記，若畫記錯誤，請擦拭乾淨。分數以電腦讀卡分數為準。
3. 答案卡上的資料欄請確實填寫，若資料欄畫記錯誤導致電腦無法正確判讀，扣總分 10 分。

班級：8 年 班 座號： 姓名：

一、選擇題

- ( ) 1. 下圖為中國三大經濟帶分布圖。圖中哪一個經濟帶因位居內陸，但因工資相對低廉，且為中國主要糧食與能源礦產區，因而深具潛力？  
(A) 甲 (B) 乙 (C) 丙。



- ( ) 2. 中國城又稱為唐人街，因早期華人移居海外是當地的少數族群，在面對新環境時需同舟共濟、彼此互助，群居而形成；其中，北美洲歷史最悠久的中國城位於美國西岸的舊金山。請問：當時中國的移民要前往舊金山，需橫越下列哪一個水域？  
(A) 印度洋 (B) 北極海 (C) 大西洋 (D) 太平洋。

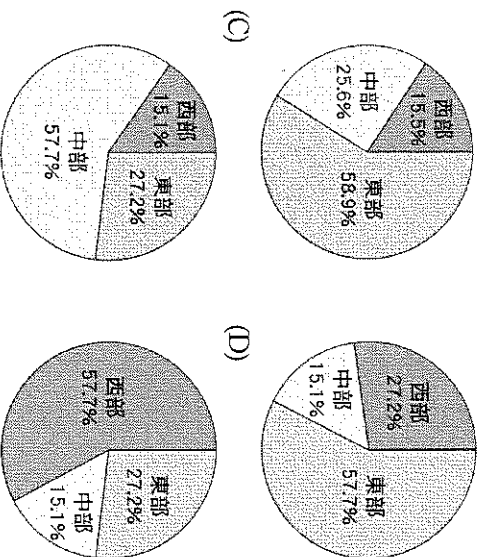
- ( ) 3. 中國在改革開放後率先於東南沿海成立以出口導向為主的經濟特區，其能成功發展的優勢條件為何？  
(甲) 豐富的原料 (乙) 優惠的政策 (丙) 廉價的勞力 (丁) 高階的技術 (戊) 便利的交通  
(A) 甲乙丙 (B) 甲丙丁 (C) 乙丙戊 (D) 丙丁戊。

- ( ) 4. 由於區域發展不均，故中國提出「西部大開發」政策，請問下列有關該政策的敘述何者正確？  
(A) 將淮河水調往華北地區 (B) 青藏鐵路開通帶動觀光業發展 (C) 將西部的天然氣輸至珠江三角洲 (D) 長江三峽大壩的發電量送往北部區域。

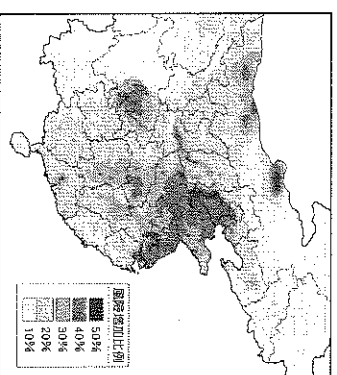
- ( ) 5. 珠三角經濟圈是中國最早施行改革開放的地區，因長期的資金、技術累積，使其成為中國最先進的新創產業中心。請問：下列哪些都市位於珠三角經濟圈的範圍內？(甲) 天津 (乙) 廣州 (丙) 香港 (丁) 武漢 (戊) 深圳  
(A) 甲乙丙 (B) 甲丙丁 (C) 乙丙戊 (D) 丙丁戊。

- ( ) 6. 「西元 2018 年，中國的進口貿易額為 21,360 億美元，出口貿易額為 24,870 億美元，進出口貿易額名列世界前茅。」由上文資訊可以看出下列哪一項事實？  
(A) 中國的內需市場龐大 (B) 該年中國的貿易總額為 3,510 億美元 (C) 該年中國為全球最大的對外投資國 (D) 該年中國的貿易狀態為出超。

- ( ) 7. 若要利用圖示來呈現中國近期三大經濟帶的產值比例，則下列哪一張圓餅圖的數值最為接近？

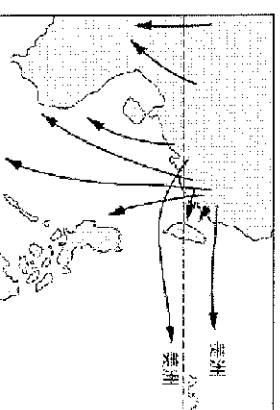


- ( ) 8. 中國在經濟迅速發展過程中，產生了嚴重的環境問題。右圖為綠色和平組織發布 PM2.5 與患肺癌風險之間的關係，由圖中可看出中國何處罹患肺癌的風險較高？  
(甲) 珠三角地區 (乙) 東北地區 (丙) 環渤海地區 (丁) 西南(雲貴)地區 (戊) 長三角地區  
(A) 甲乙 (B) 乙丁 (C) 甲戊 (D) 丙戊。

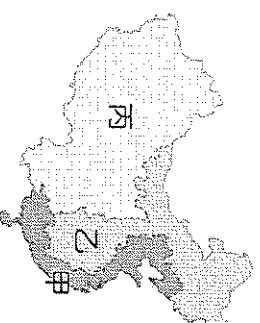


- ( ) 9. 京都議定書、巴黎協定這兩項國際公約，最終目標都是為了改善地球的何種環境問題？(A) 人口過剩 (B) 糧食不足 (C) 全球暖化 (D) 男女平權。

- ( ) 10. 附圖為中國南方簡圖，箭頭表示中國二十世紀以前某種地理因子的移動現象。請問：根據圖中顯示的特徵，附圖所表現的最可能是下列哪一種因子的移動現象？  
(A) 人口 (B) 糧食 (C) 礦物原料 (D) 工業產品。

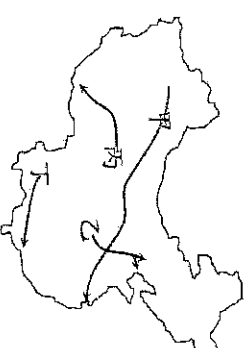


- ( ) 11. 「許多人對中國的電腦、手機、電子零件等產業印象停留在『代工』，認為中國利用廉價勞力優勢，替世界知名廠牌加工製造。而中國政府大力扶植國內廠商，將原本需由國外進口的零件轉為國內生產，建立上、中、下游廠商串起的供應鏈。西元 2019 年全球十大手機品牌，除了三星、蘋果、諾基亞外，其餘皆為中國品牌。」上文所述之產業轉型，最可能出現在附圖中何處？  
(A) 甲 (B) 乙 (C) 丙。



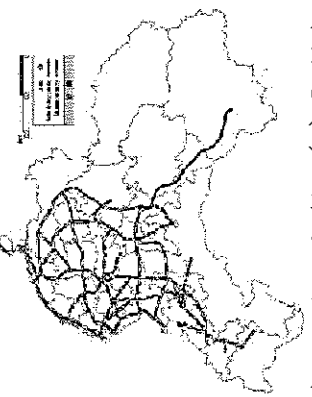
- ( ) 12. 中國人口增加，對糧食需求亦與時俱增。傳統農民常透過下列哪些方式，來增加糧食的生產？  
(甲) 製造堆肥以提高土地生產力 (乙) 引進外來作物以投入糧食生產 (丙) 改良耕具以提高耕作效率 (丁) 開發邊際土地擴大耕種面積  
(A) 甲乙丙 (B) 乙丙丁 (C) 甲丙丁 (D) 甲乙丁。

- ( ) 13. 中國為平衡東西發展，通過「西部大開發」政策。其中新疆因富含石油、天然氣，是「西氣東輸」的重要基地。請問該路線，應為附圖中哪一條？  
(A) 甲 (B) 乙 (C) 丙 (D) 丁。



- ( ) 14. 中部經濟帶的武漢位於長江沿岸，是中國內陸最大的水陸空交通樞紐，具有通訊、電子、生物醫藥和汽車等產業聚集優勢，每年也有百萬大學生的「人才資源」，但是在工業活動發展過程中始終『缺乏』下列哪一項條件？(A)出海港口 (B)水力電能 (C)礦產資源 (D)政策優惠。

- ( ) 15. 附圖是中國高速鐵路線圖，其路線長度均在1,000公里以上，載運旅客的長途列車行駛速度可達到300公里以上。請問：下列中國的地理現象中，何者與此空間分布的關係最密切？(A)中華文化發源自黃河流域 (B)西部地區石油資源豐富 (C)東半部工商業較西部發達 (D)經濟特區皆設於東南沿海。



- ( ) 16. 人力銀行何經理針對中國各項產業發展條件進行評估，下列哪一個地區的發展產業較為合理正確？  
 (A)經濟特區礦產較豐富，有利於興建大鋼鐵廠  
 (B)長三角經濟圈都市化程度高，開設商業銀行  
 (C)西部經濟帶工資較低廉，有利加工生產出口  
 (D)中部經濟帶交通不便，生產林業、畜牧產品。

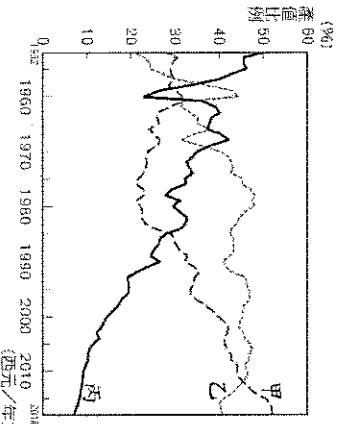
- ( ) 17. 中國以農立國，明代時，由於引進了對土地要求不高、適應能力強的外來作物，讓許多較為貧瘠的丘陵坡地也能投入糧食生產，使得中國人口穩定增長。請問：上述外來作物『不包括』下列何者？  
 (A)玉米 (B)稻米 (C)番薯 (D)馬鈴薯。

- ( ) 18. 中國經濟改革開放初期，設在東南沿海的「經濟特區」與臺灣哪一種工業區的性質最相近？(A)加工出口區 (B)軟體園區 (C)科學園區 (D)物流園區。

- ( ) 19. 河套平原距海較遠屬於乾燥氣候，移民進入開墾時以哪條河川作為灌溉水源？  
 (A)長江 (B)黃河 (C)珠江 (D)淮河。

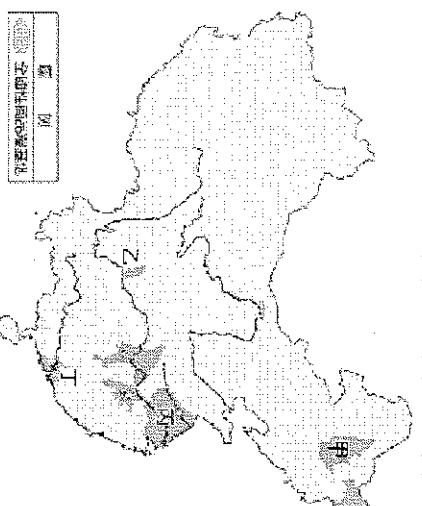
- ( ) 20. 能源將是下個世紀最重要的戰略資源之一，中國如果要提升能源產量，應選擇下列哪一個地區進行技術開發提升能源產量？(A)東部經濟帶 (B)中部經濟帶 (C)西部經濟帶 (D)海南經濟特區。

- ( ) 21. 經過數十年的經濟發展，中國各級產業占比高低依序為：  
 甲>乙>丙(如右圖)。  
 請問：甲、乙、丙分別代表第幾級產業？  
 (A)一、二、三  
 (B)一、三、二  
 (C)二、一、三  
 (D)三、二、一。

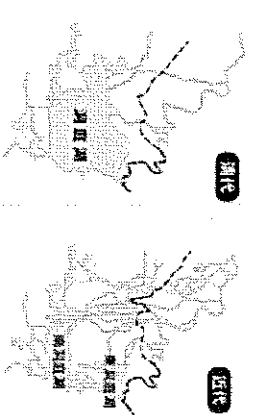


- ( ) 22. 近年來在中國的外國企業持續出走，從整體趨勢來看，出走的外商主要以下游傳統產業為主，如紡織業、製鞋等，主因是中國何項的『優勢不再』？  
 (A)豐富的原料 (B)便宜的勞力 (C)廣大的市場 (D)充沛的動力。

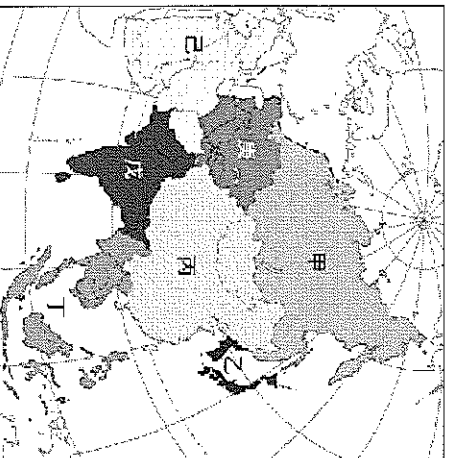
- ( ) 23. 「七十年前這片肥沃的黑土地原本是雜草叢生、狼群出沒的荒野，冬季漫長嚴寒，廣大的土地卻僅有少數住民。近年來，經過不斷從事農業現代化的建設，雖然全年僅有一次收成，但本地糧食的生產量已占全國糧食總產的五分之一。」上文所述是附圖中的哪一個商品糧基地？(A)甲 (B)乙 (C)丙 (D)丁。



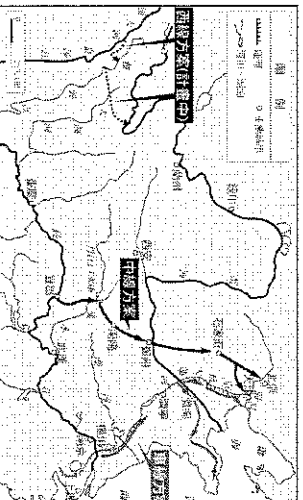
- ( ) 24. 附圖為中國洞庭湖長時間的面積變化，湖南地區的農民以「圍湖造田」的方式擴展耕地，使得糧米產量增加，卻也造成環境問題，其中以下列何者最為嚴重？  
 (A)土壤乾涸 (B)灌溉減少 (C)水患頻繁 (D)航運降低。



- ( ) 25. 近年來，自中國撤離的外資有持續增加趨勢，其原因與稅費在世界各國中名列前茅，以及勞力成本愈來愈高，和較高的油價與電費有關。而這些自中國遷出的企業大多選擇亞洲國家為新的落腳地，其主要集中在附圖中哪些地區？  
 (A)甲乙 (B)甲己 (C)乙戊 (D)丁戊。

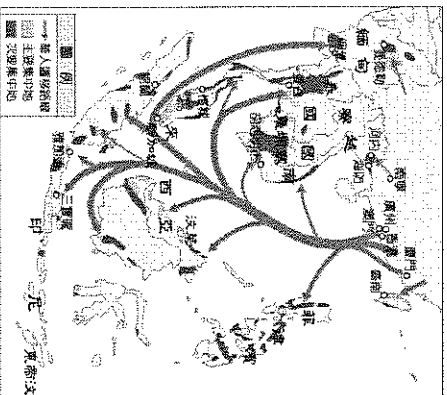


- ( ) 26. 「南水北調」工程是中國的重大建設之一，其分成西、中、東三線進行，下圖為南水北調的路線圖。請問：施行此項工程的主要目的為下列何者？  
 (A)擴大長江航運的連結 (B)促進中國水運的發展  
 (C)解決華北水資源不足的問題 (D)利於華中農產的行銷。



二、題組題

(一) 下圖為華人移民遷移圖，中國人口眾多且資源分布不均，快速增加的人口可能造成糧食不足，促使人們離開家鄉尋找耕地或工作機會，而向國外遷移。請回答下列各題：

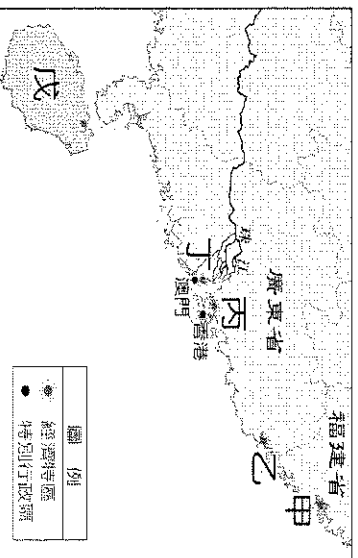


( ) 27. 下列關於中國人口遷移的敘述，何者正確？(A)因為西南沿海山丘廣布糧產不足，外移推力大 (B)移民到世界各地後，其原鄉文化逐漸消失 (C)明末清初，移民到台灣及南亞的人數最多 (D)渡台移民多來自閩粵地區。

( ) 28. 在明清時期的華人主要是順應哪一個季節的季風，移民到東南亞？(A)夏季 (B)冬季 (C)春季 (D)秋季。

( ) 29. 韋倪寒假至馬來西亞一遊，發現這裡文化多元，身受早期華人移民文化影響，語言混用情形非常明顯，反映祖先原鄉母語傳承。請問：根據移民文化原則，下列哪一種語言在馬來西亞聽到比例較低？(A)福建話 (B)廣東話 (C)客家話 (D)上海話。

(二) 右圖為中國沿海經濟特區位置圖，請問：



( ) 30. 深圳為中國經濟特區中崛起最為快速者，請問深圳位於上圖何處？(A)甲 (B)乙 (C)丙 (D)丁。

( ) 31. 承上題，深圳所具備的優勢為何？(甲)位居中國海岸線中心 (乙)鄰近特別行政區可經驗交流 (丙)原有都市規模巨大且人口多 (丁)政府提供優惠政策配合。(A)甲乙 (B)甲丙 (C)乙丙 (D)乙丁。

( ) 32. 對於中國沿海經濟特區的敘述何者正確？(A)甲是唯一的一省級經濟特區 (B)乙是唯一一位於福建省的經濟特區 (C)丙目前轉型成高科技產業的集中地 (D)丁是第一個成立的經濟特區。

( ) 33. 深圳、珠海經濟特區有許多電子公司原先是幫外國廠商代工組裝 3C 周邊產品，如耳機、電子錶等，這幾年都加碼投資研發，推出自有品牌的產品。此發展顯示中國的製造業正如何轉型？(A)原料密集→資本密集 (B)勞力密集→技術密集 (C)動力密集→技術密集 (D)資本密集→勞力密集。

(三) 下列文字是黃明志的歌曲『漂向北方』的歌詞，請問

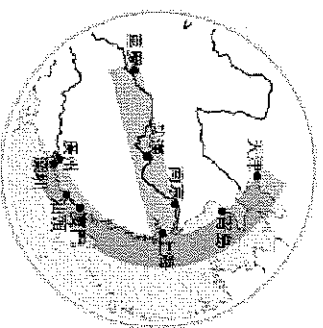
我漂向北方 別問我家鄉  
高聳古老的城牆 擋不住憂傷  
我漂向北方 家人是否無恙  
肩下沉重的行囊 盛滿了惆悵  
也是最後寄望 回不去的遠方 Oh

空氣太髒 太混濁 他說不喜歡  
車太混亂 太匆忙 他還不習慣  
人行道一雙又一雙 斜視冷漠的眼光  
他經常將自己灌醉 強迫融入 這大染缸

( ) 34. 歌詞中當中「北漂」代表一種中國的人口移動，意思為青年離鄉背井到北京工作奮鬥，請問：這在人口推拉理論中，是因為第一線城市的何種作用力而產生北漂人口？(A)推力 (B)拉力 (C)重力 (D)中間障礙。

( ) 35. 歌詞中寫到空氣太髒、太混濁，是因為冬季季風經過哪一個以鋼鐵、石化為主的核心区，夾帶許多化學物質汙染物？(A)環渤海經濟圈 (B)長三角經濟圈 (C)珠三角經濟圈。

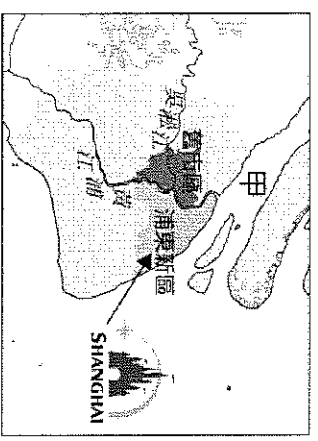
( ) 36. (甲)越南 (乙)印度 (丙)緬甸 (丁)日本 (戊)南韓。中國排放的汙染物質，容易隨著空氣飄散，而汙染上述哪些地區？(A)甲乙丙 (B)乙丙丁 (C)丙丁戊 (D)甲丁戊。



(四) 中國經濟高度發展的東部地帶，由北而南宛如一張弓，而河流就有如搭在這張弓且拉滿弦的箭(如右圖)，象徵了中國的經濟力將射向太平洋邁入全世界，而弓弦的四端點，北京、上海、廣州、重慶，更是經濟發展的重要核心。請回答下列問題：

( ) 37. 位於弓弦四端的城市中，有一個行政位階明顯低於其他，請問是哪個城市？(A)北京市 (B)上海市 (C)廣州市 (D)重慶市。

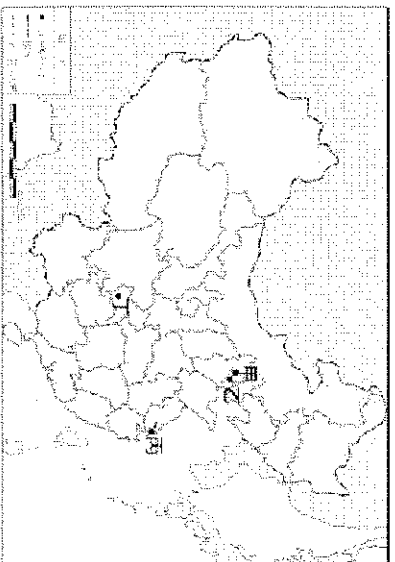
( ) 38. 受到新型冠狀病毒疫情的影響，全球六座迪士尼樂園先後都宣布封園暫停營業。附圖中的迪士尼在西元 2020 年 5 月 11 日重新對外開放，成為全世界第一間在疫情大流行後重新開幕的樂園，應位於下列哪一城市內？(A)北京市 (B)上海市 (C)廣州市 (D)重慶市。



( ) 39. 依上述判斷，若將圖中的甲標示上河川的名稱，則下列何者正確？(A)長江 (B)黃河 (C)淮河 (D)珠江。

( ) 40. 承上題，下列有關該城市發展的敘述何者『錯誤』？(A)浦東新區有許多大型建設，如浦東機場 (B)浦東是該城近年急速發展的地帶，商業興盛 (C)浦西地區是早期主要開發地帶，有十里洋場之稱 (D)帶動了周圍的地區發展，形成珠三角經濟圈。

(五) 下圖為中國四大直轄市簡圖，請問：



- ( ) 41. 薇覓在暑假參加了北京的學生交流團，北京為中國當代首都，被稱為「地球北緯 40 度地帶，經歷 3000 年而不衰的都城」。從金代起，連續 800 多年的建都史，使當地形成了宏偉而壯麗的皇宮建築，瑰麗而秀美的園林設施，歷經滄桑的寺廟宮觀，豐富而珍貴的文物典籍，精湛的工藝美術品以及風味獨特的傳統食品 and 烹調技術。請問北京位於附圖中何處？  
(A) 甲 (B) 乙 (C) 丙 (D) 丁。

- ( ) 42. 承上題，在中國雖然大家都是講中文，可是生活習慣上卻有一些差異，薇覓發現許多中國人出門都不帶現金，需要結帳時拿出手機刷一下就可以完成付款。中國逐步邁向「無現金」社會之際，需要許多因素配合才得以發展。請問：下列因素何者為『非』？  
(A) 便利鐵路交通建設 (B) 發達的電子金融系統 (C) 普及的無線網路環境 (D) 政府政策的大力支持。
- ( ) 43. 承上題，雖然生活上付錢的方式有點不一樣，但是薇覓發現中國人跟臺灣人一樣熱愛網路購物，只要透過網路下單，貨品就可以快速的送到家。請問：可以迅速收到網購商品，與下列何種產業的發達有高度相關？ (A) 製造業 (B) 批發業 (C) 物流業 (D) 零售業。
- ( ) 44. 承上題，在這趟旅程裡，薇覓也發現了中國人口數量龐大，而且已經擁有一定的消費能力，代表中國已不僅是「世界工廠」，在消費能力上已經具有什麼特徵？  
(A) 世界市場 (B) 購買力薄弱 (C) 所得降低 (D) 人民幣國際地位大幅下降。

- ( ) 45. 都市發展與交通息息相關，大都市常位在各種交通方式交會的樞紐上。薇覓整理中國四個都市的交通方式，將其歸納成如下表的四種類型。下列對於上圖中國四個都市與下表類型的對應，何者正確？  
(A) 甲為 B 類 (B) 乙為 A 類 (C) 丙為 D 類 (D) 丁為 B 類。
- | 類型 | 交通方式          |
|----|---------------|
| A  | 鐵路—公路樞紐       |
| B  | 海運—鐵路—公路樞紐    |
| C  | 河運—鐵路—公路樞紐    |
| D  | 河運—海運—鐵路—公路樞紐 |

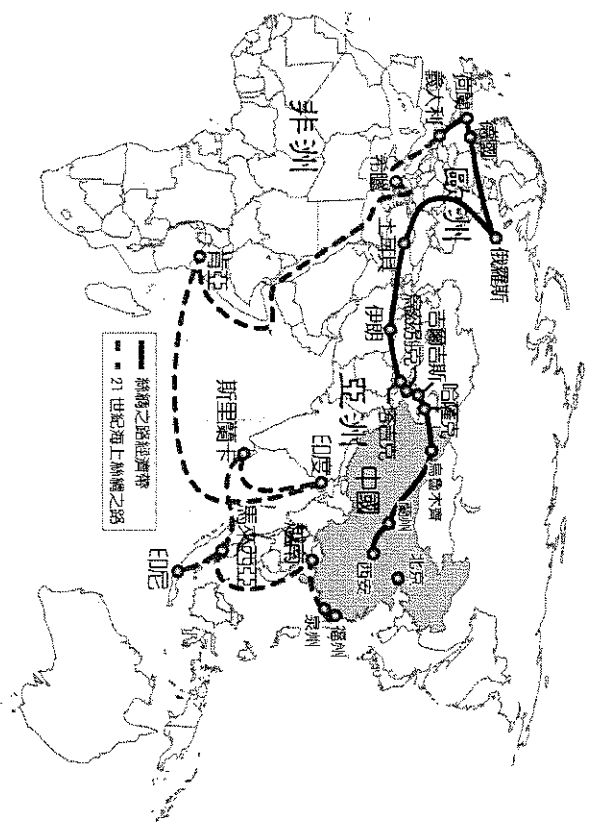
(六) 中國在 2015 年推動「一帶一路」的政策，希望透過國企對外投資來拉抬國內需求，又能擴大與沿線國家貿易。因此，「一帶一路」也是中國的自救計畫。

然而近年在中國宣稱的亮眼成績下，一些陰暗面慢慢浮現。例如：斯里蘭卡的深水港，中國在未來 99 年持股 70%。

條件是中國一筆勾銷斯里蘭卡 11 億美元債務。吉爾吉斯則被要求交出鐵路經營權，以換取中方提供興建鐵路的資金。另一種無法還債的國家，則是「以礦產換基建」，2018 年 4 月，位於中亞的塔吉克將一座金礦的權利交給中國。漢班托塔特區(Hambantota)位於斯里蘭卡南部，人口 60 萬(約是嘉義市兩倍)。這裡有一條四線道高速公路、一個逾 3 萬座位的板球場、耗資 15 億美元建造的深水港，以及一個花逾 2 億美元打造的馬特拉國際機場。

這些高大上的基礎建設，皆由中國提供資金與建造。然而它們都是蚊子館：漢班托塔的高速公路上，大象比汽車還多；全球每年航經印度洋貨船 6 萬艘，在漢班托塔深水港停泊者趨近於零；至於國際機場，《紐約時報》稱每天乘客只有十幾個。「最熱鬧的場景是：350 名保全攜帶鞭炮嚇走野生動物——最常造訪機場的就是牠們了。」

下圖為「一帶一路」路線圖，請問：



- ( ) 46. 海上絲路最長的路線，是經過哪一個大洋？  
(A) 印度洋 (B) 北極海 (C) 大西洋 (D) 太平洋。
- ( ) 47. 其中「二十一世紀海上絲綢之路」的規畫，串連好幾個洲，但不包括下列哪一洲？  
(A) 亞洲 (B) 美洲 (C) 非洲 (D) 歐洲。
- ( ) 48. 以下何者並非「一帶一路」合作的國家？  
(A) 伊朗 (B) 哈薩克 (C) 日本 (D) 俄羅斯。
- ( ) 49. 近年在中國宣稱的亮眼成績下，「一帶一路」一些陰暗面已慢慢浮現，下列敘述何者為『錯誤』？  
(A) 斯里蘭卡因無法還債時，只好將基礎建設產權轉移給中國，這是「以產權換基建」 (B) 塔吉克因無法還債，則是「以礦產換基建」 (C) 中國提供資金與技術竟然無法幫助當地創造更多商機，且製造了「窮國債務陷阱」 (D) 文中「最熱鬧的場景是：350 名保全攜帶鞭炮嚇走野生動物……」，是指斯里蘭卡生態保護區的景色。

- ( ) 50. 一帶一路計畫的參與國家普遍經濟發展程度不高，這些國家希望藉由引入中國資金促進國內經濟發展，但卻也面臨到許多變數與問題，其中『不包括』以下哪一項？ (A) 參與國面臨龐大債務負擔 (B) 中國左右參與國政治與經濟發展 (C) 參與國與中國發生利益糾紛 (D) 參與國引進大量國際移民。